

تم تحميل هذا الملف من موقع ملفات الكويت التعليمية



[com.kwedufiles.www//:https](https://www.kwedufiles.com)

\*للحصول على أوراق عمل لجميع الصفوف وجميع المواد اضغط هنا

\* للحصول على أوراق عمل لجميع مواد الصف السادس اضغط هنا

<https://kwedufiles.com/6>

\* للحصول على جميع أوراق الصف السادس في مادة علوم ولجميع الفصول, اضغط هنا

<https://kwedufiles.com/6science>

\* للحصول على أوراق عمل لجميع مواد الصف السادس في مادة علوم الخاصة بـ الفصل الأول اضغط هنا

<https://www.kwedufiles.com/6science1>

\* لتحميل كتب جميع المواد في جميع الفصول للـ الصف السادس اضغط هنا

<https://www.kwedufiles.com/grade6>

\* لتحميل جميع ملفات المدرس جيهان محب اضغط هنا

[bot\\_kwlinks/me.t//:https](https://me.t/bot_kwlinks)

\* للحصول على جميع روابط الصفوف على تلغرام وفيسبوك من قنوات وصفحات: اضغط هنا

الروابط التالية هي روابط الصف السادس على مواقع التواصل الاجتماعي

مجموعة الفيسبوك

صفحة الفيسبوك

مجموعة التلغرام

بوت التلغرام

قناة التلغرام

رياضيات على التلغرام

اللهم اغفر لي ولوالدي وللمسلمين والمسلمات الأحياء منهم والأموات.

بنك أسئلة

للفيف السادس المتوسط

الفصل الدراسي الأول

2016-2017م

فصل السلوك

اعداد المعلمة:-  
جيهان محب

السؤال الأول: اكتب بين القوسين كلمة (صحيحة) أمام العبارات الصحيحة وكلمة (خطأ) أمام العبارات غير الصحيحة علمياً في كل مما يأتي:

الرقم	العبارة	الإشارة
١.	التكيف هو الطريقة التي يتصرف بها كائن حي ما، لما يحدث له داخلياً، و لما يحصل في بيئته الخارجية.	( )
٢.	للنمل سلوك في فصل الشتاء يسمى السبات الشتوي.	( )
٣.	لا يوجد نوع محدد من السلوك والتكيف لكل نوع من الطيور.	( )
٤.	توجد هجرة للطيور الجارحة في الكويت.	( )
٥.	مراقبة الحيوانات في بيئتها الطبيعية من الطرائق التي تمكن العلماء من دراسة سلوك الحيوان.	( )
٦.	التلون الوقائي هو التكيف الذي يشبه فيه كائن حي ما كائناً آخر.	( )
٧.	التكيف البنيوي تكيفات تحدث في سلوك الكائن الحي .	( )
٨.	الافعى الملك افعى سامة .	( )
٩.	المماثلة نوع من انواع التكيف السلوكي.	( )
١٠.	فقمة البحر لديها تكيف سلوكي أثناء التغذية.	( )
١١.	عند تكرار النقر على حوض السمك تفرز السمكة.	( )
١٢.	تعليم النطق سلوك مكتسب.	( )
١٣.	بناء الماوي سلوك فطري.	( )
١٤.	كلما زاد مساحة سطح خف الجمل يقل الضغط فلا يغوص في الرمال.	( )

في الجدول التالي اختر العبارة أو الشكل من المجموعة (ب) واكتب رقمها أمام ما يناسبها من عبارات المجموعة (أ):

الرقم	المجموعة ( أ )	المجموعة ( ب )
( )	حركات السيرك سلوك.....	١ - فطري
( )	الصيد سلوك .....	2- مكتسب.
( )	معيشة النحل.....	1- انفرادية
( )	معيشة الأسد.....	2- جماعية
		3- اجتماعية .

**علل لما يلي تعليلاً علمياً دقيقاً :**

١. تسير الفيلة جماعة وليس فرادي.

.....

٢. خف الجمل عريض.

.....

**ماذا يحدث في الحالات التالية :-**

1- عندما تنطلق البطة بصغارها تجاة بركة الماء.

.....

2\* عندما تلد الغزال صغيرها .

.....

**درس الرسومات التالية ثم أجب عن الأسئلة التي تليها:**

١ - نوع التكيف في الشكل :-.....



\*\*\*\*\*

٢ - يسمى سلوك ..... في البطاريق.



كيف يمكن متابعة سلوك بعض الحيوانات؟

- \*1.....  
\*2.....  
\*3.....

عدد بعض السلوكيات التي تقوم بها البطاريق في بيئتها.

- \*1.....  
\*2.....  
\*3.....

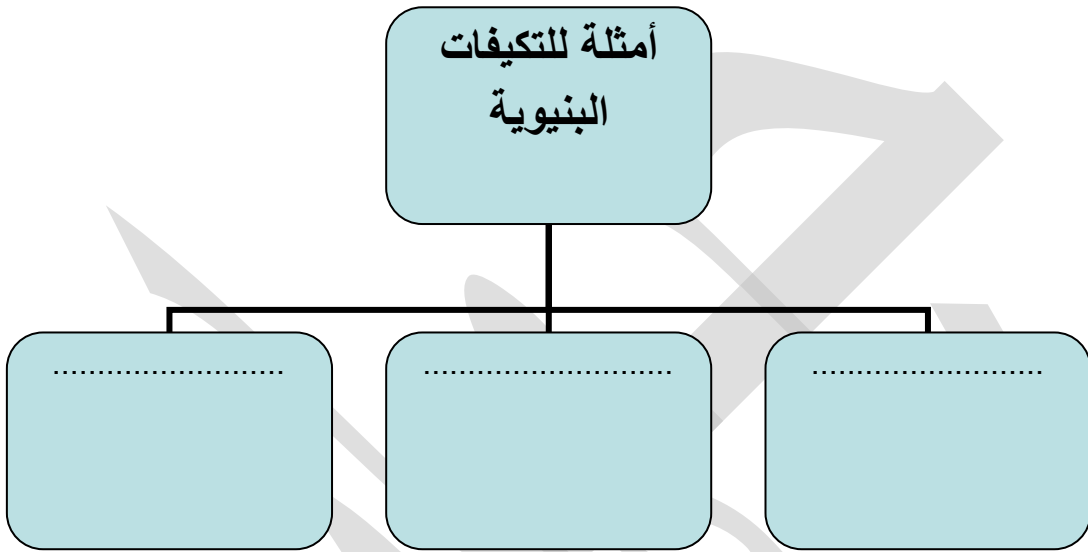
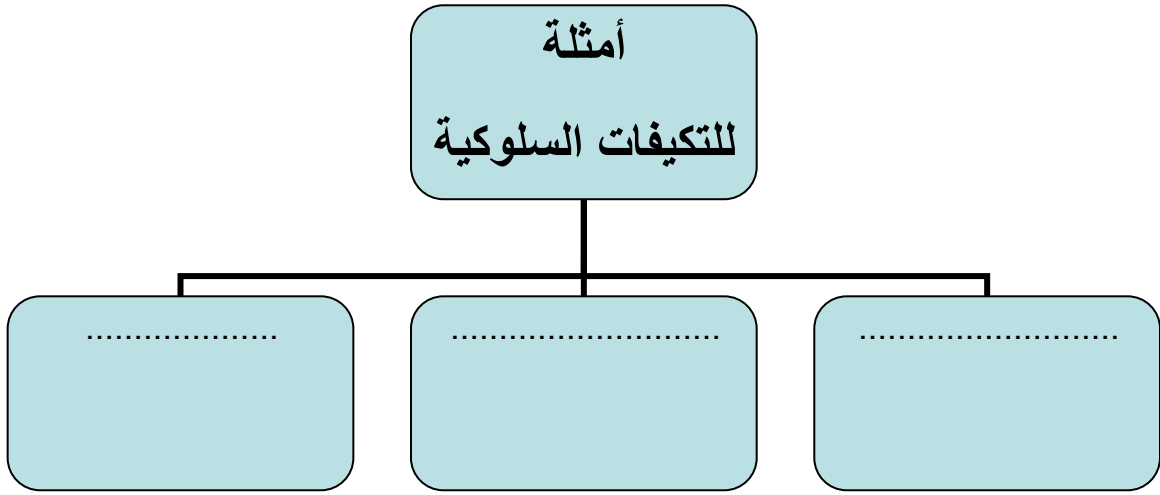
ضع خطأ أسفل الكلمة التي لا تنتمي إلى المجموعة مع ذكر السبب :-

١. النمل - النحل - العنكبوت. الإجابة : ..... السبب : .....
٢. حركات السير - تعلم النطق - الصيد الإجابة : ..... السبب : .....
٣. الأفعى الملك - جراب الكنغر - وضعية الأنداز. الإجابة : ..... السبب : .....

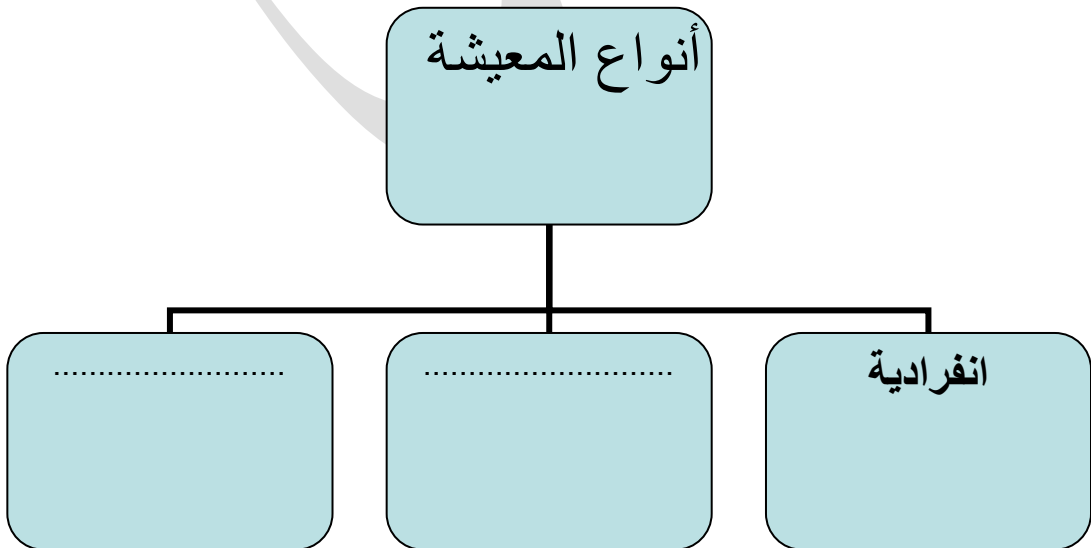
صنف التكيفات التالية حسب الجدول :-

تلون الحرباء- جراب الكنغر - حمل العقرب صغارها على ظهرها - وضعية الأنداز القط

تكيف بنيوي	تكيف سلوكي
.....	.....
.....	.....



.....



## وضح نوع التكيف :-

اختباء فار  
الصحراء  
نهارا  
وخروجه ليلا  
بحثا عن  
الطعام

وجود طبقة رقيقة  
من الجلد بين  
أصابع  
أقدام الضفدع

يغطي جسم  
معظم  
الأسماك  
القشور

تغير  
لون  
الحرباء




ادرس التجربة التالية ثم اجيب عما يلي :  
عند تكرار النقر على جدار حوض السمك



المشاهدة.....




الاستنتاج ... ..

## وضح نوع السلوك:-

نوع السلوك	الكائن الحي
سلوك.....	
سلوك.....	
سلوك.....	



قارن بين كلا مما يأتي كما هو موضح في الجدول التالي:

تقسيم العمل	المعيشة	الكائن
		
		
		

		وجه المقارنة
		نوع التكيف

انتهت الأسئلة