

تم تحميل هذا الملف من موقع ملفات الكويت التعليمية



[com.kwedufiles.www//:https](https://www.kwedufiles.com)

*للحصول على أوراق عمل لجميع الصفوف وجميع المواد اضغط هنا

* للحصول على أوراق عمل لجميع مواد الصف السادس اضغط هنا

<https://kwedufiles.com/6>

* للحصول على جميع أوراق الصف السادس في مادة اجتماعيات وجميع الفصول, اضغط هنا

<https://kwedufiles.com/6social>

* للحصول على أوراق عمل لجميع مواد الصف السادس في مادة اجتماعيات الخاصة بـ الفصل الأول اضغط هنا

<https://www.kwedufiles.com/6social1>

* لتحميل كتب جميع المواد في جميع الفصول للـ الصف السادس اضغط هنا

<https://www.kwedufiles.com/grade6>

[bot_kwlinks/me.t//:https](https://t.me/bot_kwlinks)

للحصول على جميع روابط الصفوف على تلغرام وفيسبوك من قنوات وصفحات: اضغط هنا

الروابط التالية هي روابط الصف السادس على مواقع التواصل الاجتماعي

مجموعة الفيسبوك

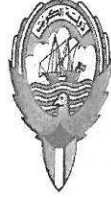
صفحة الفيسبوك

مجموعة التلغرام

بوت التلغرام

قناة التلغرام

رياضيات على التلغرام



وزارة التربية

الإدارة العامة لمنطقة العاصمة التعليمية

مؤلفون

الإعداد



إجابة امتحان نهاية الفترة الدراسية الأولى

العام الدراسي ٢٠١٩ / ٢٠٢٠ م
الزمن : ساعة وخمس وأربعون دقيقة
عدد الصفحات : (٥)

لمقر الكويت ودول الخليج العربية للف السادس المتوسط

وزارة التربية
إدارة العامة لمنطقة العاصمة التعليمية
توجيه الفني للاجتماعيات

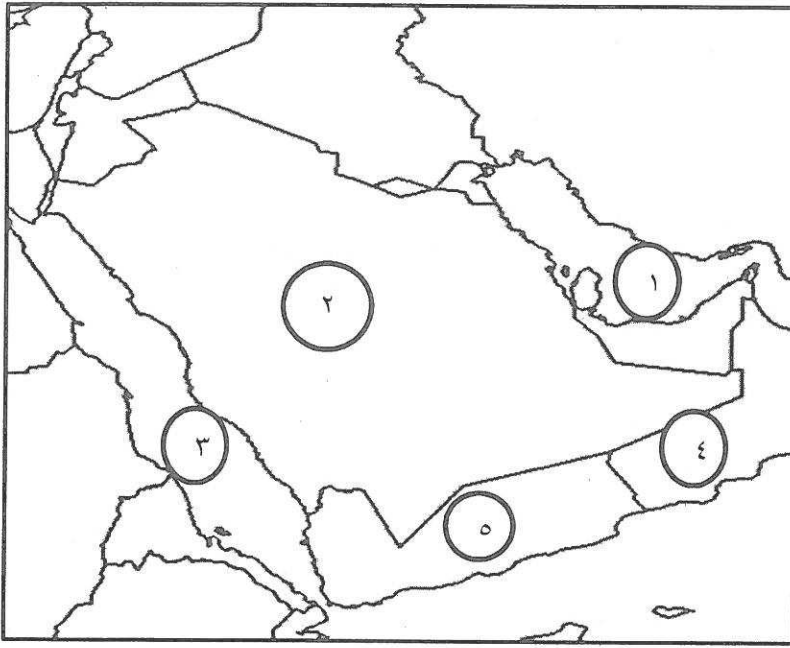
السؤال الأول : (موضوعي) ويتكون من (أ - ب - ج - د - هـ - و) :- (درجة لكل إجابة = ٣٦ درجة)
(أ) ظلل الإجابة (أ) إذا كانت العبارة صحيحة وظلل الإجابة (ب) إذا كانت العبارة خاطئة لكل مما يلي :

الرقم	العبارة	الإجابات
١-	يطلق على بداية موسم الغوص على اللؤلؤ اسم القفال . ص ٣٢	أ ب
٢-	تزرخ منطقة الخليج العربية بالعديد من المعالم الأثرية التي تروى قصة حضاراتها . ص ٤٥	أ ب
٣-	الدولة التي يوجد بها هضبة نجد هي البحرين . ص ٢٣	أ ب
٤-	اشتهرت حضارة مجان بصهر المعادن . ص ٤٨	أ ب
٥-	ظهر الإسلام في القرن السابع الميلادي . ص ٥٣	أ ب
٦-	يطلق على المنطقة التي تقع في الصحراء وتحتوي مياه عذبة صالحة للزراعة اسم الوادي . ص ٢٩	أ ب
٧-	الغيت معاهدة الحماية التي وقعتها الكويت مع بريطانيا في عهد الشيخ عبد الله السالم الصباح. ص ٦٣	أ ب

(ب) أكمل العبارات التالية بما يناسبها مما درست :

- ١- انطلق السوق الخليجي المشترك عام ... ٢٠٠٨ م . ص ٧٧
- ٢-- الدولة التي هاجر إليها المعاضيد تسمى قطر . ص ٥٧
- ٣- يطلق على الأجزاء الفسيحة من سطح الأرض والتي تتميز باستوائها وقلّة ارتفاعها اسم .. السهول . ص ٢٣
- ٤- المجلس الذي يتكون من وزراء خارجية دول مجلس التعاون الخليجي يسمى.. الوزاري . ص ٧٠
- ٥- تتميز الأمطار في دول الخليج العربية بأنها قليلة وغير منتظمة وتسقط في فصل الشتاء . ص ٢٥
- ٦- عُقدت القمة السابعة والعشرون لدول مجلس التعاون لدول الخليج العربية في مدينة تسمى ... الرياض . ص ٧٤
- ٧- عرف الخليج العربي قديماً باسم .. البحر الأدنى أو بحر شروق الشمس . ص ٤٧

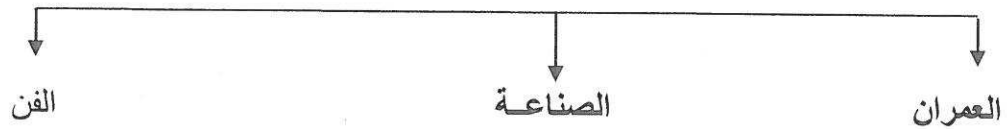
(ج) لاحظ خريطة دول الخليج العربية ، ثم استعن بالمدلولات التي عليها لإكمال العبارات التالية :



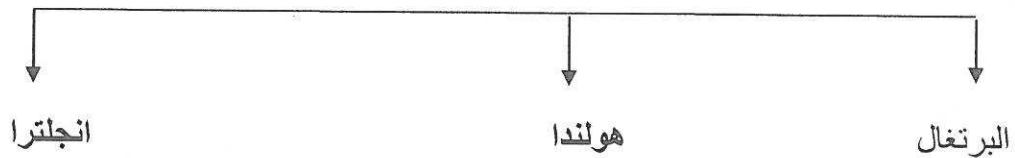
- الدولة العربية الخليجية التي لم تخضع للإستعمار تحمل على الخريطة الرقم (٢) ص ٦٥
- هاجر اليعاربة إلى دولة عربية خليجية تحمل على الخريطة الرقم (٤) ص ٥٧
- الخليج العربي يحمل على الخريطة الرقم (١) . ص ٢٣
- البحر الأحمر يحمل على الخريطة الرقم (٣) ص ٢٣

(د) اكمل المخططات السهمية التالية :

١ - مظاهر الحضارة الإسلامية : ص ٥٥



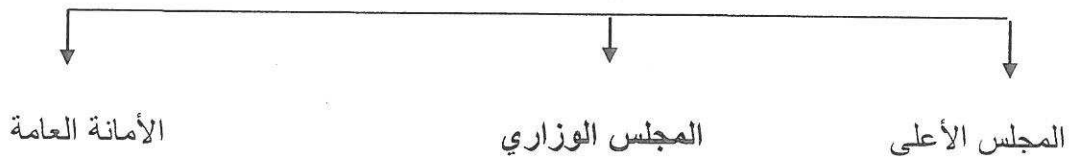
٢ - الدول الاستعمارية الأوروبية التي توالى على الخليج العربي : ص ٦٠



٣ - الأنشطة البرية التي مارسها سكان دول الخليج العربية قديما : ص ٢٨



٤ - الهيكل التنظيمي لمجلس التعاون لدول الخليج العربية : ص ٧٠



تابع إجابة السؤال الأول :

(ه) اكتب المفاهيم أو المصطلحات الدالة على كل من العبارات التالية :

- ١ - (المسطحات المائية) جميع اشكال المياه على سطح الأرض مثل البحار والخلجان والمحيطات . ص ٣٤
- ٢ - (الاستعمار) سيطرة دولة قوية على دولة ضعيفة بهدف استغلال مواردها (خيراتها) . ص ٦١
- ٣ - (القليب أو الجليب) يطلق على البئر عند سكان منطقة الخليج العربية . ص ٥١
- ٤ - (المناخ) حالة الجو في مكان ما خلال فترات زمنية طويلة . ص ٢٥
- ٥ - (المياه الجوفية) المياه التي توجد في باطن الأرض . ص ٢٨
- ٦ - (الاستقلال) تحرر الدولة من المستعمر الأجنبي وقيامها بمسؤولية إدارة شؤونها الداخلية والخارجية . ص ٦٣

(و) اختر البديل الصحيح من بين البدائل التي تلي كل عبارة مما يلي وضع خطا تحتها :

- ١ - تقع منطقة الخليج العربي بالنسبة لمسطح الخليج العربي بالجهة : ص ٢٢
(الجنوبية - الشرقية - الغربية - الشمالية)
- ٢ - العام الذي حصلت فيه دولة الكويت على استقلالها من الاستعمار البريطاني : ص ٦٣
(١٩٦٠ - ١٩٦١ - ١٩٦٢ - ١٩٦٣) م
- ٣ - تنتمي حضارة دلمون إلى دولة عربية خليجية تسمى : ص ٤٩
(البحرين - سلطنة عمان - قطر - الكويت)
- ٤ - يطلق على مطرب السفينة اسم : ص ٣٢
(النوخذة - المجدمي - النهام - السيب) .
- ٥ - عقدت دولة الكويت اتفاقية حماية مع بريطانيا عام : ص ٦٢
(١٨٩٦ - ١٨٩٧ - ١٨٩٨ - ١٨٩٩) م
- ٦ - الحرفة التي تعتبر مكملة وأساسية للأنشطة البحرية هي : ص ٣٣
(صناعة السفن - الغوص على اللؤلؤ - صيد السمك - التجارة البحرية)

السؤال الثاني : (مقال) ويتكون من (أ - ب - ج) :

(أ) عدد اثنين لكل مما يلي : (درجة لكل نقطة = ٦ درجات)

١ - أنواع النباتات الحولية في دول الخليج العربية . ص ٢٦

• الخبيزة - الحويذان

• العنصيل

٢ - أهداف مجلس التعاون لدول الخليج العربية . ص ٧٦

• تحقيق التعاون بين الدول الأعضاء في جميع المجالات .

• تحقيق الترابط والصلات بين دول مجلس التعاون .

• العمل على تقدم دول مجلس التعاون في المجال العلمي .

٣ - وسائل صيد الأسماك قديماً في منطقة الخليج العربية . ص ٣١

• الميدار - الحظرة .

• القرقور .

(ب) علل لما يلي (اذكر السبب) : (درجة لكل نقطة = ٤ درجات)

١ - تعتبر سفينة البغلة من أفضل أنواع السفن المستعملة في رحلة السفر . ص ٣٤

- متانتها وقدرتها على نقل الحمولة الكبيرة .

- قلة تعرضها للأخطار البحرية .

٢ - نشأة الحضارات بمنطقة الخليج العربية . ص ٥١ + ٥٢

- ساعد موقع الخليج العربي المتميز على إنشاء علاقات تجارية واسعة مع المناطق المجاورة مما عاد عليه بمزايا اقتصادية عديدة ، كما أن سهولة اتصال سكانه مع المناطق أدى إلى انطلاق الهجرات وتأسيس اقدم الحضارات .

- توفر ابار مياه الشرب الناتجة عن سقوط الأمطار وحفر آبار قليلة العمق - تمتاز بعض مناطق الخليج بملائمة بيئتها الطبيعية للاستقرار وقيام الحضارات .

(ج) فرق بين كل من : (درجة لكل نقطة = ٢ درجتان)

الموقع النسبي ص ٢٠	الموقع الفلكي ص ٢٠
الموقع بالنسبة للماء واليابس	الموقع بالنسبة لخطوط الطول ودوائر العرض

السؤال الثالث : (مقال) يتكون من (أ - ب - ج) :

(أ) أقرأ الفقرة التالية ثم أجب عما يليها من أسئلة : (درجة لكل نقطة = ٥ درجات)

أعلن قيام مجلس التعاون لدول الخليج العربية في ٢٥ / مايو / ١٩٨١م في مدينة أبو ظبي وضم المجلس ست دول عربية خليجية ، وجاء إنشاؤه لما بين الدول الأعضاء من علاقات خاصة وصفات مشتركة وأنظمة متشابهة أساسها وحدة التراث والانتماء والدين والمصالح المشتركة . ص ٧٠

١ - عرف ما تحته خط .

مجلس التعاون : منظمة سياسية اقتصادية إقليمية تضم ست دول عربية خليجية .

٢ - استخرج من الفقرة سببين من اسباب إنشاء مجلس التعاون لدول الخليج العربية .

العلاقات الخاصة بين الدول الأعضاء - الصفات المشتركة والأنظمة المتشابهة التي اساسها وحدة التراث والانتماء والدين

٣ - اذكر دولتين من دول مجلس التعاون الخليجي .

السعودية - الإمارات - سلطنة عمان - البحرين - قطر - الكويت .

(ب) اكتب فيما يلي : (يكفي بذكر اثنين لكل) (درجة لكل نقطة = ٤ درجات)

- ١ - الحيوانات المستأنسة التي تعيش في منطقة الخليج العربية . ص ٢٦
- الإبل - الأغنام .
- الماعز .
- ٢ - أسباب جذب الهجرات من شبه الجزيرة العربية إلى منطقة الخليج العربية . ص ٥٧
- موقع الخليج العربي المتميز في قلب العالم القديم كطريق تجاري وممر مائي عالمي .
- قيام سكان الخليج العربي بممارسة أنشطة بحرية متنوعة .

(ج) عرف لما يلي : (درجة لكل نقطة = ٣ درجات)

- ١ - الخليج العربي : ذراع مائي لبحر العرب يمتد من خليج عمان جنوباً حتى شط العرب شمالاً . ص ١٩
- ٢ - الديمقراطية : تعني حكم الشعب لنفسه . ص ٦٤
- ٣ - النباتات الحولية : نباتات يرتبط وجودها بموسم سقوط المطر . ص ٢٦