



وزارة التربية

الإدارة العامة لمنطقة العاصمة التعليمية



معلومات

الاجابة



السؤال الأول : (موضوعي) ويتكون من (أ - ب - ج - د - هـ - و) :- (درجة لكل إجابة = ٣٦ درجة)

(أ) اختر البديل الصحيح من بين البدائل التي تلي كل عبارة مما يلي وضع خطا تحتها :

١- أول دولة أوروبية استعمارية وصلت للخليج العربي واحتلت أجزاء مهمة منها هي : ص ٦٠
أ - البرتغال ب- أسبانيا ج- بريطانيا د- هولندا

٢- الموقع بالنسبة لخطوط الطول و دوائر العرض يعرف باسم : ص ٢٠
أ - النسبي ب- الفلكي ج- المكاني د- التجاري

٣ - تأسس السوق الخليجي المشترك عام : ص ٧٧

أ - ٢٠٠٦ م ب- ٢٠٠٧ م ج- ٢٠٠٨ م د- ٢٠٠٩ م

٤ - المدينة الخليجية التي انطلق منها الإسلام إسمها : ص ٥٣

أ - مكة ب- المدينة المنورة ج- دبي د- أبوظبي

٥ - أول دولة عربية خليجية نالت استقلالها من الإستعمار البريطاني هي : ص ٦٥

أ - قطر ب - البحرين ج - عمان د - الكويت

(ب) اكتب المفاهيم أو المصطلحات الدالة على كل من العبارات التالية :

١- (مجلس التعاون الخليجي) منظمة سياسية اقتصادية اقليمية تضم ست دول عربية خليجية . ص ٧٠

٢- (الاستقلال) تحرر الدولة من المستعمر الاجنبي و قيامها بمسؤولية ادارة شؤونها الداخلية و الخارجية. ص ٦٣

٣- (القليب أو الجليب) البئر عند سكان منطقة الخليج العربي. ص ٥١

٤- (الديمقراطية) حكم الشعب لنفسه . ص ٦٤

٥- (المسطحات المائية) جميع أشكال المياه على سطح الأرض مثل المحيطات و الأنهار و غيرها. ص ٣٤

٦- (المناخ) حالة الجو في مكان ما خلال فترات زمنية طويلة. ص ٢٥

٧- (خطوط الطول) خطوط وهمية غير موجودة على سطح الأرض وتقسّم الكرة الارضية إلى قسمين شرقي

و غربي و عددها ٣٦٠ خطاً. ص ٢١

(ج) أكمل العبارات التالية بما يناسبها :

- ١- قامت حضارة فيلكا في دولة خليجية إسمها الكويت . ص ٤٩
- ٢- أجزاء فسيحة من سطح الأرض تتميز باستوائها وقلة ارتفاعها تعرف باسم السهول . ص ٢٣
- ٣- المدينة الخليجية العربية التي أعلن فيها قيام مجلس التعاون الخليجي إسمها أبوظبي . ص ٧٠
- ٤- عرف الخليج العربي قديما باسم البحر الأدنى أو بحر شروق الشمس . ص ٤٧
- ٥- ألفت اتفاقية الحماية البريطانية على دولة الكويت في عهد الشيخ عبدالله السالم الصباح . ص ٦٣
- ٦- الجبل الاخضر يقع في دولة خليجية إسمها عمان . ص ٢٣

(د) ظلل الإجابة (أ) إذا كانت العبارة صحيحة والإجابة (ب) إذا كانت العبارة خاطئة لكل مما يلي :

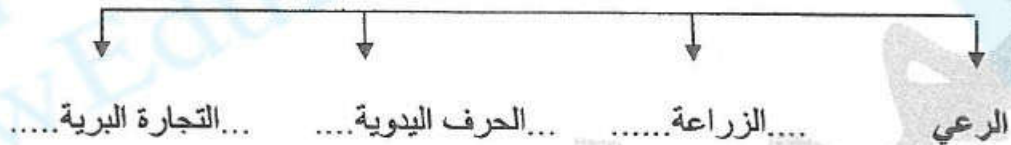
الرقم	العبارة	الإجابات
١-	تقع منطقة الخليج العربي في الجهة الجنوبية الغربية من قارة أفريقيا . ص ١٩	أ ب
٢-	أصدرت الكويت وثيقة الدستور الكويتية عام ١٩٦٢ م . ص ٦٤	أ ب
٣-	الدولة الخليجية التي يوجد فيها حضارة دلمون هي البحرين . ص ٤٨	أ ب
٤-	وقعت الكويت اتفاقية الحماية مع بريطانيا عام ١٩٤٠ م . ص ٦٢	أ ب
٥-	ظهر الاسلام في شبه الجزيرة العربية في القرن السابع الميلادي . ص ٥٣	أ ب
٦-	اتجهت هجرة المعاصيد الى دولة خليجية اسمها قطر . ص ٥٧	أ ب
٧-	تم إعلان قيام مجلس التعاون الخليجي عام ١٩٧١ م . ص ٧٠	أ ب

(هـ) اكمل المخططات السهمية التالية :

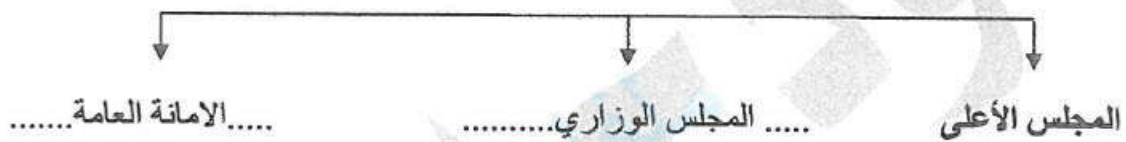
١- أشكال سطح الأرض . ص ٢٣



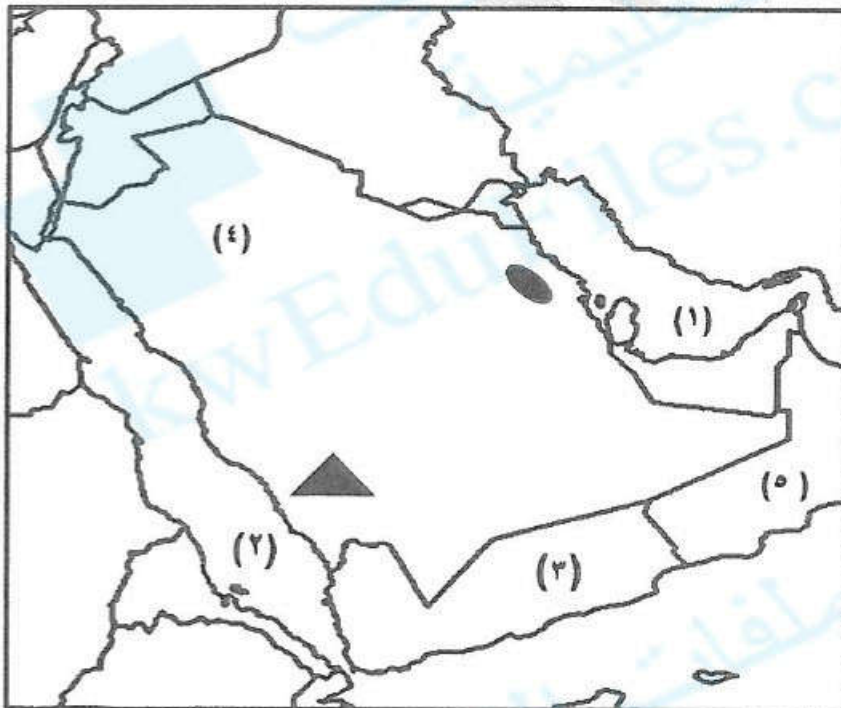
٢- الأنشطة البرية التي مارسها سكان دول الخليج العربي قديما . ص ٢٨



٣- الهيكل التنظيمي لمجلس التعاون لدول الخليج العربية . ص ٧٠



(و) لاحظ خريطة دول الخليج العربية ، ثم استعن بالمدلولات التي عليها لإكمال العبارات التالية :



• سهول الإحساء يمثلها على الخريطة

الشكل  ص ٢٣

• هاجر البعارة إلى دولة خليجية تحمل

على الخريطة الرقم (٥) ص ٥٧

• الخليج العربي يمثلها على الخريطة

الرقم (١) ص ٢٣

• جبال عسير يمثلها على الخريطة

الشكل  ص ٢٣

مجموع درجات السؤال الأول

٣٦ درجة

السؤال الثاني : (مقال) يتكون من (أ - ب - ج) :

(أ) اكتب فيما يلي : (درجة لكل نقطة = ٦ درجات) (يكتفى بنقطتين فقط)

١- أهم انواع الحيوانات المستأنسة التي تعيش في منطقة الخليج العربية وتكيف مع بيئتها الصحراوية . ص ٢٦

- الابل

- الاغنام - الماعز.

٢- أهداف مجلس التعاون لدول الخليج العربي . ص ٧٦

- تحقيق التعاون بين الدول الأعضاء في جميع المجالات .

- تحقيق الترابط و الصلات بين دول مجلس التعاون . - العمل على تقدم مجلس التعاون في المجال العلمي.

٣- وسائل صيد الأسماك التي استخدمها سكان منطقة الخليج العربي قديما . ص ٣١

- الميدار

- الحظرة . - القرقور .

(ب) علل ما يلي (اذكر السبب) : (درجة لكل نقطة = ٤ درجات) (يكتفى بنقطة واحدة)

١- حياة السكان في البيئة الصحراوية لدول الخليج العربية كانت قاسية وخشنة.

- لفقير البيئة - قلة الموارد خاصة المياه . ص ٢٧

٢- انصراف سكان منطقة الخليج العربي عن حرفة الغوص على اللؤلؤ .

- ظهور اللؤلؤ الصناعي - اكتشاف النفط . ص ٣١

٣- سفينة البغلة أفضل أنواع السفن المستعملة في السفر .

- لمتانتها و قدرتها على نقل الحمولة الكبيرة - قلة تعرضها للأخطار البحرية . ص ٣٤

٤- تتشابه الأعمال التي يقوم بها أبناء منطقة الخليج العربية قديما .

- لتشابه الظروف الجغرافية البيئية و المناخية . ص ٢٧

(ج) فرق بين كل مما يلي من حيث (المفهوم) : (درجة لكل مفهوم = درجتان)

القفال ص ٣٢	الدشة ص ٣٢
نهاية موسم الغوص.	بداية موسم الغوص.

السؤال الثالث: (مقال) يتكون من (أ - ب - ج):

(أ) عدد (اثنين) لكل مما يلي : (درجة لكل نقطة = ٦ درجات) (يكتفى بنقطتين فقط)

- ١- أعضاء طاقم سفينة الغوص على اللؤلؤ . ص ٣٢
- أ - النوخذة / المجدمي / الغواص / السيب . ب - النهام / الرضيعف / التباية (تباب) / الطوايش (طواش) .
- ٢- أنواع الرياح التي تهب على منطقة الخليج العربي . ص ٢٥
- أ - الرياح الشمالية ب - الرياح الجنوبية الشرقية (الكوس) / الزوابع (العواصف) الترابية .
- ٣- أشهر السفن في منطقة الخليج العربي قديما . ص ٣٣
- أ - اليوم ب - البغلة / السنوك - الجالبوت - الشوعي .

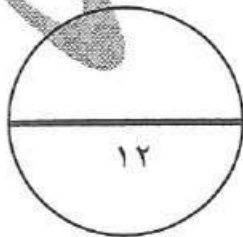
(ب) قارن بين كل مما يلي حسب المطلوب في الجدول التالي : (٣ درجات)

المقارنة	نبات معمر ص ٢٦	نبات حولي ص ٢٦
المفهوم	نباتات متوفرة طوال العام لأنها تتحمل الجفاف و ارتفاع درجة الحرارة بسبب جذورها الطويلة وقلة أوراقها وكثرة الأشواك فيها و قدرتها على تخزين المياه. درجة واحدة	نباتات يرتبط وجودها بموسم سقوط المطر . درجة واحدة
الأمثلة	- الصبار - العرفج - الرمث - التندا . (يكتفى بنقطة - نصف درجة)	- الخبيزة - الحويدان - العنصيل . (يكتفى بنقطة - نصف درجة)

(ج) عرف ما يلي : (درجة لكل مفهوم = ٣ درجات)

- ١- المياه الجوفية : هي المياه التي توجد في باطن الارض . ص ٢٨
- ٢- الهضبة : ارض مرتفعة سطحها مستوي و تمتد مساحة كبيرة . ص ٢٣
- ٣- الواحة : هي منطقة تقع في الصحراء فيها مياه عذبة صالحة للزراعة . ص ٢٩

مجموع درجات السؤال الثالث -----



انتهت الأسئلة ،،،،