

كل ما يحتاجه الطالب في جميع الصفوف من أوراق عمل واختبارات ومذكرات، يجده هنا في الروابط التالية لأفضل مواقع تعليمي إماراتي 100 %

<u>تطبيق المناهج الإماراتية</u>	<u>الاجتماعيات</u>	<u>الرياضيات</u>
<u>الصفحة الرسمية على التلغرام</u>	<u>الاسلامية</u>	<u>العلوم</u>
<u>الصفحة الرسمية على الفيسبوك</u>	<u>الانجليزية</u>	
<u>التربية الاخلاقية لجميع الصفوف</u>	<u>اللغة العربية</u>	
<u>التربية الرياضية</u>		
مجموعات التلغرام.	مجموعات الفيسبوك	قنوات تلغرام
<u>الصف الأول</u>	<u>الصف الأول</u>	<u>الصف الأول</u>
<u>الصف الثاني</u>	<u>الصف الثاني</u>	<u>الصف الثاني</u>
<u>الصف الثالث</u>	<u>الصف الثالث</u>	<u>الصف الثالث</u>
<u>الصف الرابع</u>	<u>الصف الرابع</u>	<u>الصف الرابع</u>
<u>الصف الخامس</u>	<u>الصف الخامس</u>	<u>الصف الخامس</u>
<u>الصف السادس</u>	<u>الصف السادس</u>	<u>الصف السادس</u>
<u>الصف السابع</u>	<u>الصف السابع</u>	<u>الصف السابع</u>
<u>الصف الثامن</u>	<u>الصف الثامن</u>	<u>الصف الثامن</u>
<u>الصف التاسع عام</u>	<u>الصف التاسع عام</u>	<u>الصف التاسع عام</u>
<u>الصف التاسع متقدم</u>	<u>الصف التاسع متقدم</u>	<u>الصف التاسع متقدم</u>
<u>الصف العاشر عام</u>	<u>الصف العاشر عام</u>	<u>الصف العاشر عام</u>
<u>الصف العاشر متقدم</u>	<u>الصف العاشر متقدم</u>	<u>الصف العاشر متقدم</u>
<u>الحادي عشر عام</u>	<u>الحادي عشر عام</u>	<u>الحادي عشر عام</u>
<u>الحادي عشر متقدم</u>	<u>الحادي عشر متقدم</u>	<u>الحادي عشر متقدم</u>
<u>ثاني عشر عام</u>	<u>الثاني عشر عام</u>	<u>الثاني عشر عام</u>
<u>ثاني عشر متقدم</u>	<u>ثاني عشر متقدم</u>	<u>ثاني عشر متقدم</u>



اسم الطالب الصف (9 - ...)

السؤال الأول حدد خطوط التقارب لكل دالة. ثم مثل الدالة بيانياً.

3A. $y = -\frac{6}{x}$

حدد خطوط التقارب

الخطوة 1

أنشئ جدولاً للقيم

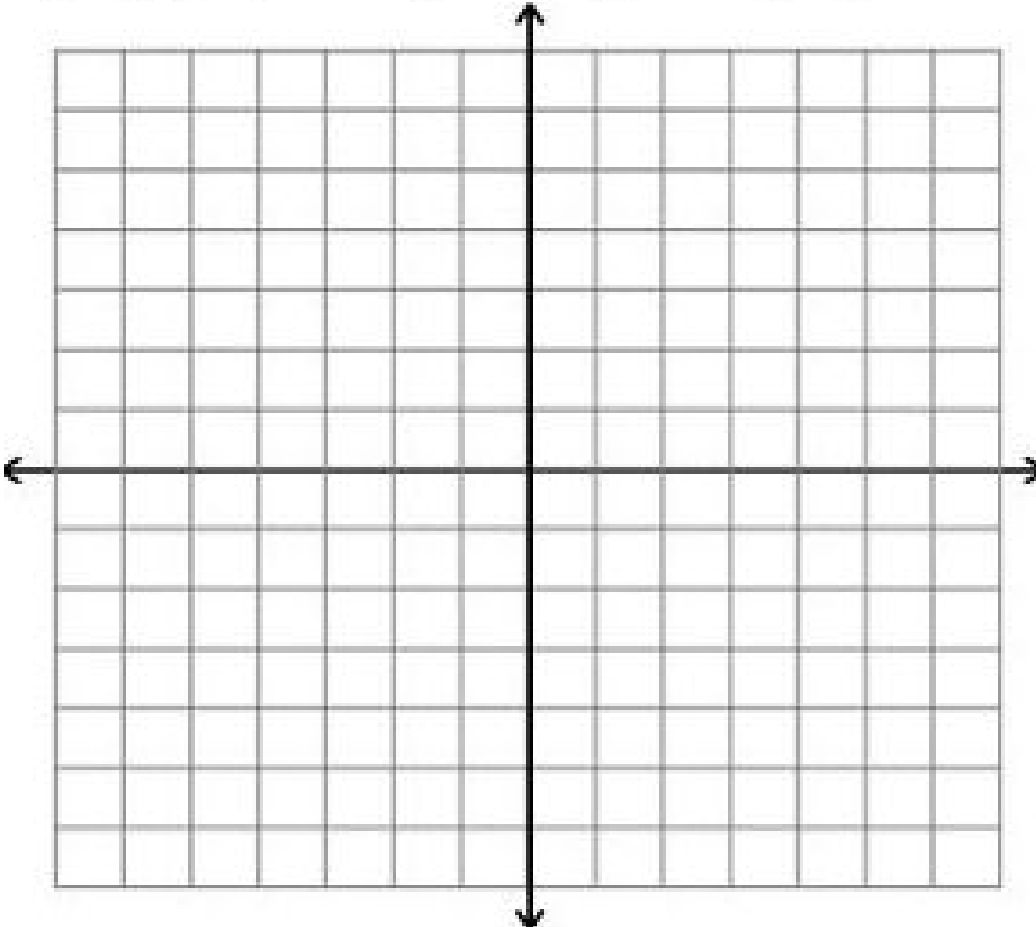
الخطوة 2

x									
y									

الخطوة 3

حدد خطوط التقارب

عيّن كل نقطة وارسم منحنى منتظماً يصلها ببعض.





اسم الطالب الصف (9 - ...)

السؤال الأول حدد خطوط التقارب لكل دالة. ثم مثل الدالة بيانياً.

3B. $y = \frac{1}{x-3}$

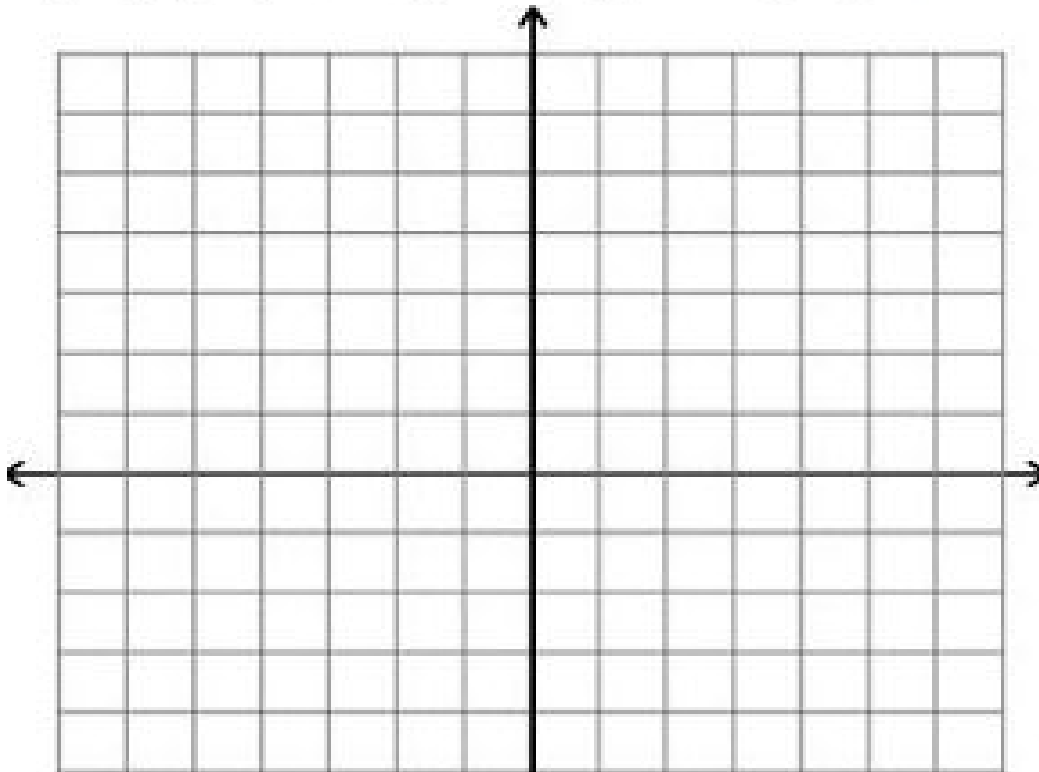
الخطوة 1 حدد خطوط التقارب

الخطوة 2 أنشئ جدولاً للقيم

x									
y									

الخطوة 3

حدد خطوط التقارب عيّن كل نقطة وارسم منحنى منتظماً يصلها ببعض.





اسم الطالب الصف (9 - ...)

السؤال الأول حدد خطوط التقارب لكل دالة. ثم مثل الدالة بيانياً.

3C. $y = \frac{2}{x+2} + 1$

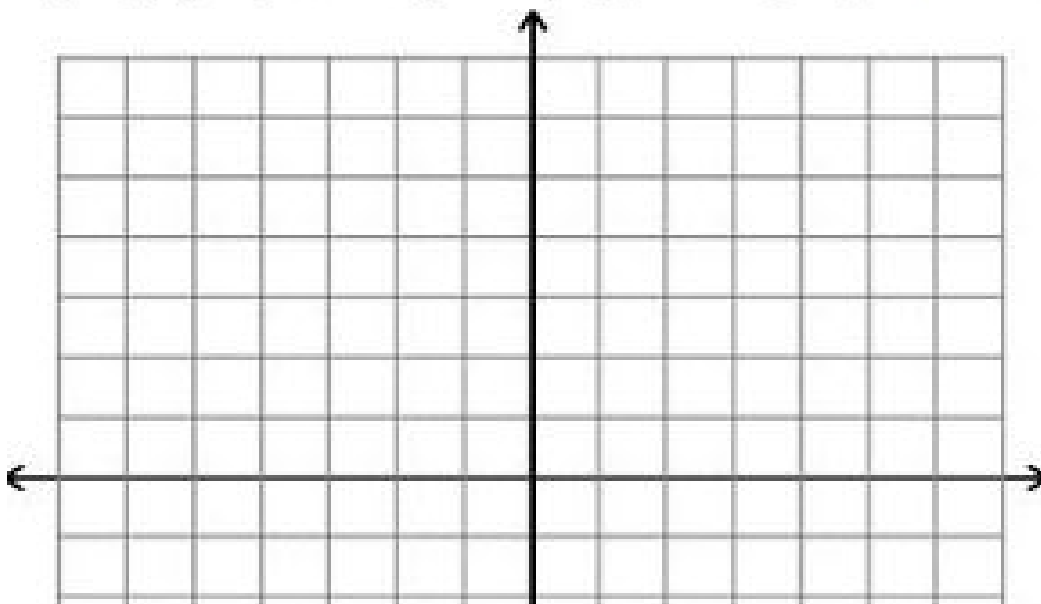
الخطوة 1 حدد خطوط التقارب

الخطوة 2 أنشئ جدولاً للقيم

x									
y									

الخطوة 3

حدد خطوط التقارب عيّن كل نقطة وارسم منحنى منتظماً يصلها ببعض.





اسم الطالب الصف (9 - ...)

السؤال الأول حدد خطوط التقارب لكل دالة. ثم ممثّل الدالة بيانيًا.

$$y = \frac{1}{x+2} + 5$$

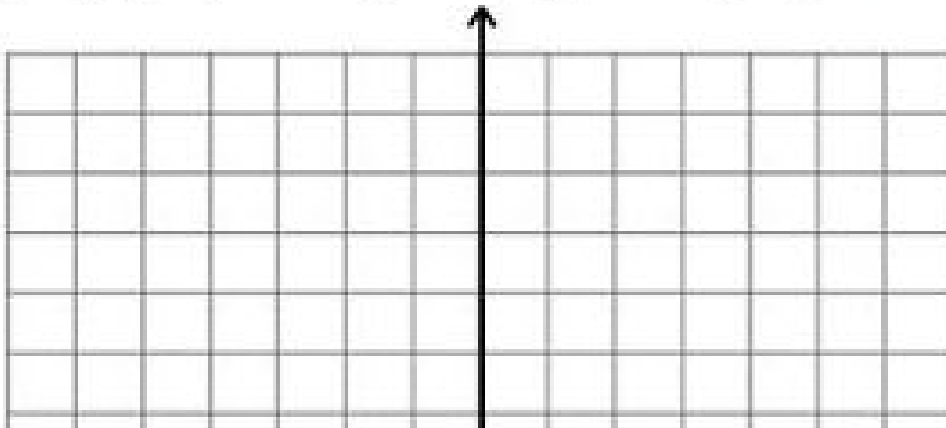
الخطوة 1 حدد خطوط التقارب

الخطوة 2 أنشئ جدولاً للقيم

x								
y								

الخطوة 3

حدد خطوط التقارب عيّن كل نقطة وارسم منحنى منتظمًا يصلها ببعض.





اسم الطالب الصف (9 - ...)
