

تم تحميل هذا الملف من موقع المناهج السعودية



موقع المناهج السعودي

* للحصول على أوراق عمل لجميع الصفوف وجميع المواد اضغط هنا

<https://www.almanahj.com/sa>

* للحصول على أوراق عمل لجميع مواد الصف الخامس اضغط هنا

<https://almanahj.com/sa/5>

* للحصول على أوراق الصف الخامس في مادة رياضيات ولجميع الفصول, اضغط هنا

<https://almanahj.com/sa/5math>

* للحصول على أوراق عمل لجميع مواد الصف الخامس في مادة رياضيات الخاصة بالفصل الثاني اضغط هنا

<https://www.almanahj.com/sa/5math2>

* لتحميل كتب جميع المواد في جميع الفصول للصف الخامس اضغط هنا

<https://www.almanahj.com/sa/grade5>

للحصول على جميع روابط الصفوف على تلغرام وفيسبوك من قنوات وصفحات: اضغط هنا

<https://t.me/sacourse>

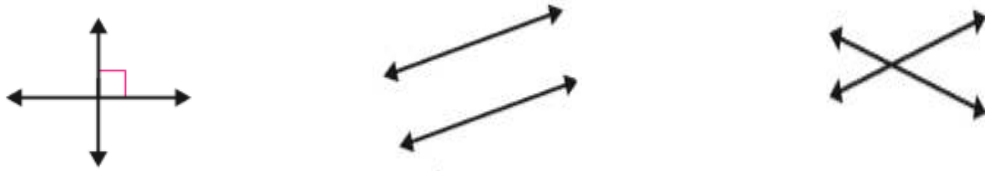
اختبار الفصل الحادي عشر (الأشكال الهندسيه) للصف الخامس

اسم الطالبه:

السؤال الأول: ١) سمى كل شكل فيما يأتي ، ثم عبري عنه بالرموز



٢) بيني ما اذا كان المستقيمان متقاطعين او متعامدين او متوازيين ؟؟



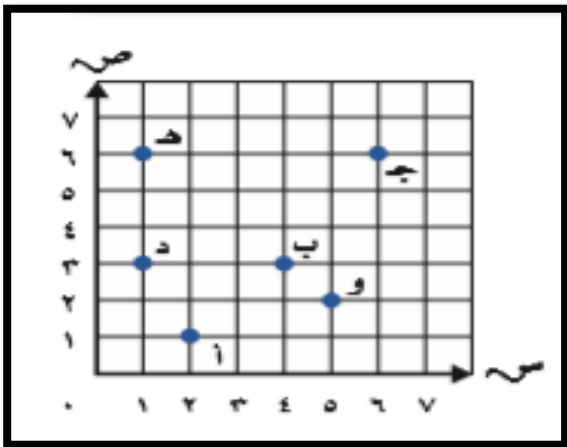
السؤال الثاني: ١) أوجدي عدد الزوايا الحاده في كل شكل رباعي ..



.....

.....

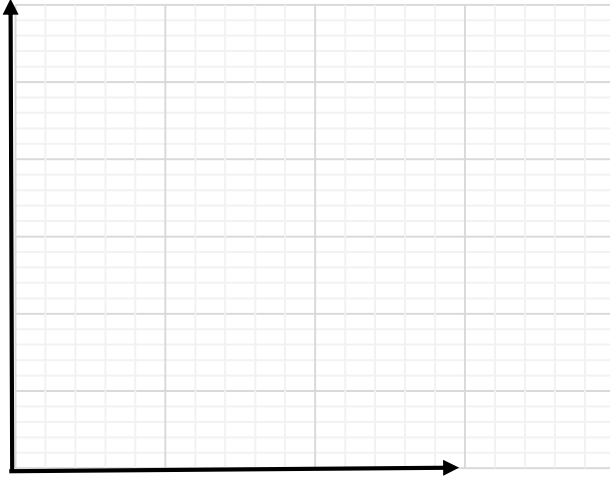
٢) سمى الزوج المرتب لكل نقطه مماياتي ..



- أ =
- ب =
- ج =
- د =
- ه =
- و =

س ٣ مثلي كل نقطه مما يأتي في المستوى الإحداثي ثم سمها
 في متني كل نقطه مما يأتي في المستوى الإحداثي ثم سمها

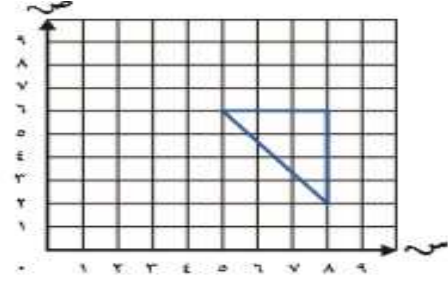
٢٢



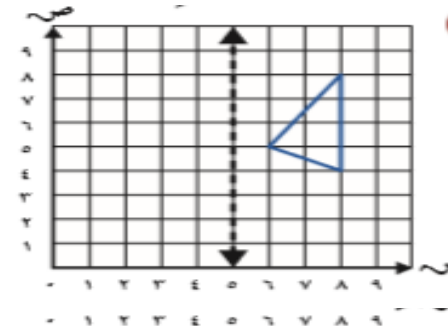
أ* (٠،٧) ب* (٥،٢) ج* (١،٤) د* (٢،٨)

السؤال الثالث: ارسمي صورة المثلث على حسب المطلوب:
 السؤال الثالث: ارسمي صورة المثلث على حسب المطلوب:

انسحاب ٣ وحدات الى اليسار



انعكاس حول المحور



دوران ٩٠ باتجاه عقارب الساعة

