

تم تحميل هذا الملف من موقع المناهج السعودية



موقع المناهج السعودي

* للحصول على أوراق عمل لجميع الصفوف وجميع المواد اضغط هنا

<https://www.almanahj.com/sa>

* للحصول على أوراق عمل لجميع مواد الصف الخامس اضغط هنا

<https://almanahj.com/sa/5>

* للحصول على جميع أوراق الصف الخامس في مادة اجتماعيات ولجميع الفصول, اضغط هنا

<https://almanahj.com/sa/5social>

* للحصول على أوراق عمل لجميع مواد الصف الخامس في مادة اجتماعيات الخاصة بالفصل الثاني اضغط هنا

<https://www.almanahj.com/sa/5social2>

* لتحميل كتب جميع المواد في جميع الفصول للصف الخامس اضغط هنا

<https://www.almanahj.com/sa/grade5>

للحصول على جميع روابط الصفوف على تلغرام وفيسبوك من قنوات وصفحات: اضغط هنا

<https://t.me/sacourse>

السلام عليكم ورحمة الله وبركاته
اخواني المعلمين ... اخواتي المعلمات
هذا العمل وقف لجميع المعلمين والمعلمات
ولا نبتغي من ذلك إلا الاجر من الله
ولا نحلل المتاجرة به أو نسبته إلى أي شخص
نسأل الله التوفيق للجميع



بسم الله الرحمن الرحيم

ورقة عمل درس (تاريخ الخرائط وتطورها)

اسم الطالب : الصف : خامس /

س / ما المقصود بالخريطة ؟

ج /

س / ضع علامة (√) أمام العبارة الصحيحة وعلامة (×) أمام العبارة الخاطئة فيما يلي :

- ١ - يذكر المؤرخون أن الإنسان عرف الخرائط قبل معرفة الكتابة
- ٢ - كان البابليون في العراق والفرعون في مصر من أوائل من رسم الخرائط
- ٣ - أنشأ العالم المسلم محمد الإدريسي أول خريطة عالمية صحيحة مبنية وفق الأصول العلمية

س / اذكر اثنين من الفروق بين الخريطة الورقية والخريطة الرقمية :

- ١-
- ٢-



بسم الله الرحمن الرحيم

ورقة عمل درس (تاريخ الخرائط وتطورها)

اسم الطالب : الصف : خامس /

س / ما المقصود بالخريطة ؟

ج /

س / ضع علامة (√) أمام العبارة الصحيحة وعلامة (×) أمام العبارة الخاطئة فيما يلي :

- ١ - يذكر المؤرخون أن الإنسان عرف الخرائط قبل معرفة الكتابة
- ٢ - كان البابليون في العراق والفرعون في مصر من أوائل من رسم الخرائط
- ٣ - أنشأ العالم المسلم محمد الإدريسي أول خريطة عالمية صحيحة مبنية وفق الأصول العلمية

س / اذكر اثنين من الفروق بين الخريطة الورقية والخريطة الرقمية :

- ١-
- ٢-



بسم الله الرحمن الرحيم

ورقة عمل درس (السكان)

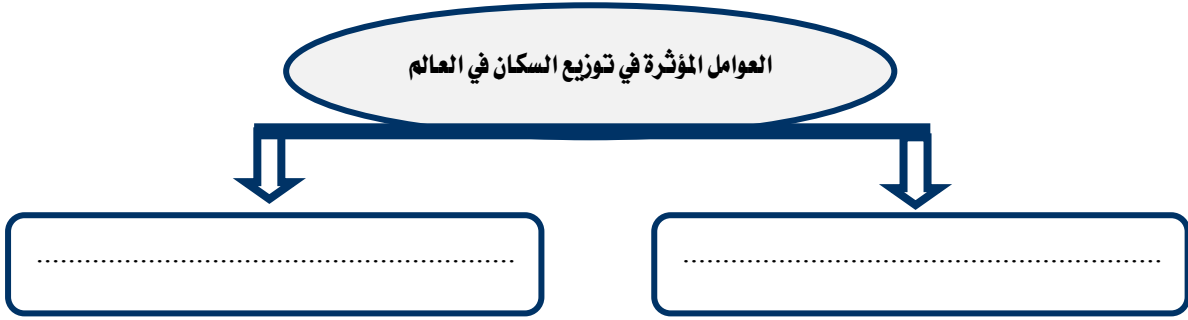
اسم الطالب : / الصف : خامس /

س / اختر الاجابة الصحيحة من بين الأقواس فيما يلي :

- (منتظماً - متفاوت - متساوي)
(أفريقيا - آسيا - أوروبا)
(آسيا - استراليا - افريقيا)
(أفريقيا - آسيا - أوروبا)

- ١ - يتوزع السكان توزيعاً
٢ - أكثر سكان العالم يسكن في قارة
٣ - يقل عدد السكان في قارة
٢ - أكثر سكان العالم يسكن في قارة

س / اذكر العوامل المؤثرة في توزيع السكان في العالم ؟



بسم الله الرحمن الرحيم

ورقة عمل درس (السكان)

اسم الطالب : / الصف : خامس /

س / اختر الاجابة الصحيحة من بين الأقواس فيما يلي :

- (منتظماً - متفاوت - متساوي)
(أفريقيا - آسيا - أوروبا)
(آسيا - استراليا - افريقيا)
(أفريقيا - آسيا - أوروبا)

- ١ - يتوزع السكان توزيعاً
٢ - أكثر سكان العالم يسكن في قارة
٣ - يقل عدد السكان في قارة
٢ - أكثر سكان العالم يسكن في قارة

س / اذكر العوامل المؤثرة في توزيع السكان في العالم ؟



سم الله الرحمن الرحيم

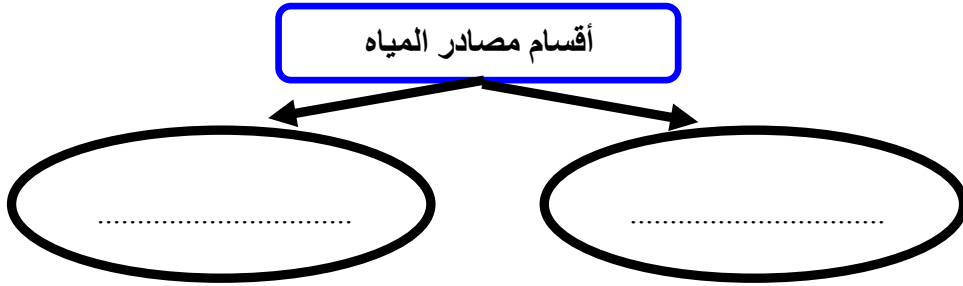
ورقة عمل درس (توزيع السكان – العوامل الطبيعية : التضاريس والمياه)

اسم الطالب : الصف : خامس /

س / اكمل الفراغات التالية بما يناسب ؟

- يكثّر السكان في و غير الوعرة ، في حين وجود السكان كلما زاد التضاريس وزادت وعورتها .

س / تنقسم مصادر المياه إلى قسمين اذكرها؟



س / ما مناطق المائيّة في وطني المملكة العربية السعودية الجاذبة للسكان ؟

ج /

سم الله الرحمن الرحيم

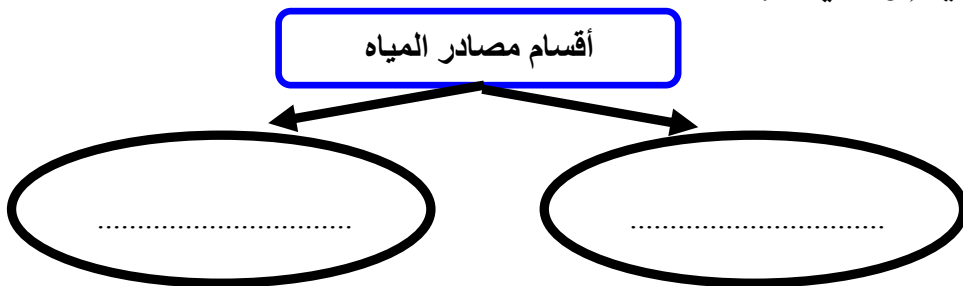
ورقة عمل درس (توزيع السكان – العوامل الطبيعية : التضاريس والمياه)

اسم الطالب : الصف : خامس /

س / اكمل الفراغات التالية بما يناسب ؟

- يكثّر السكان في و غير الوعرة ، في حين وجود السكان كلما زاد التضاريس وزادت وعورتها .

س / تنقسم مصادر المياه إلى قسمين اذكرها؟



س / ما مناطق المائيّة في وطني المملكة العربية السعودية الجاذبة للسكان ؟

ج /



بسم الله الرحمن الرحيم

ورقة عمل درس (توزيع السكان – العوامل الطبيعية : المناخ والموارد)

اسم الطالب : الصف : خامس /

س / ضع علامة (√) أمام العبارة الصحيحة وعلامة (×) أمام العبارة الخاطئة فيما يلي :

- ١ – تزداد الكثافة السكانية في المناطق القطبية
- ٢ – تنقل الكثافة السكانية في الصحارى الحارة
- ٣ – يبتعد الإنسان عن المناطق الاستوائية بسبب ارتفاع رطوبة الجو

س / تنقسم الموارد الطبيعية إلى قسمين أذكرها؟

..... / ١

..... / ٢



بسم الله الرحمن الرحيم

ورقة عمل درس (توزيع السكان – العوامل الطبيعية : المناخ والموارد)

اسم الطالب : الصف : خامس /

س / ضع علامة (√) أمام العبارة الصحيحة وعلامة (×) أمام العبارة الخاطئة فيما يلي :

- ١ – تزداد الكثافة السكانية في المناطق القطبية
- ٢ – تنقل الكثافة السكانية في الصحارى الحارة
- ٣ – يبتعد الإنسان عن المناطق الاستوائية بسبب ارتفاع رطوبة الجو

س / تنقسم الموارد الطبيعية إلى قسمين أذكرها؟

..... / ١

..... / ٢

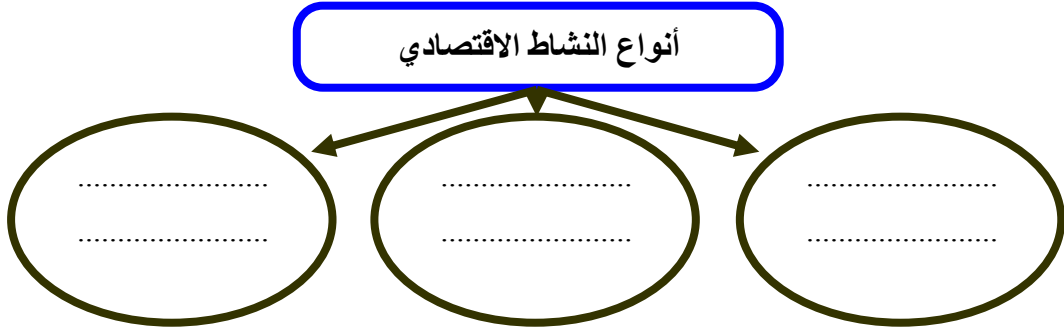


بسم الله الرحمن الرحيم

ورقة عمل درس (توزيع السكان – العوامل البشرية)

اسم الطالب : الصف : خامس /

س / ينقسم النشاط الاقتصادي الى ثلاثة أنواع اذكرها ؟



س / ضع علامة (√) أمام العبارة الصحيحة وعلامة (×) أمام العبارة الخاطئة فيما يلي :

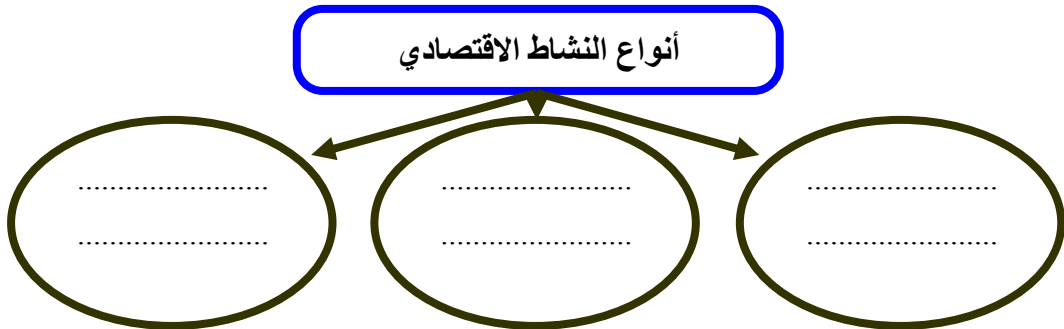
- ١ – النشاط الاقتصادي هو الاعمال والجهود التي يؤديها الإنسان ؛ لتلبية احتياجاته الأساسية
- ٢ – تعد النزاعات والحروب أحد أهم العوامل المؤثرة في توزيع السكان
- ٣ – الأمن سبب رئيسي في استقرار السكان وجذبهم

بسم الله الرحمن الرحيم

ورقة عمل درس (توزيع السكان – العوامل البشرية)

اسم الطالب : الصف : خامس /

س / ينقسم النشاط الاقتصادي الى ثلاثة أنواع اذكرها ؟



س / ضع علامة (√) أمام العبارة الصحيحة وعلامة (×) أمام العبارة الخاطئة فيما يلي :

- ١ – النشاط الاقتصادي هو الاعمال والجهود التي يؤديها الإنسان ؛ لتلبية احتياجاته الأساسية
- ٢ – تعد النزاعات والحروب أحد أهم العوامل المؤثرة في توزيع السكان
- ٣ – الأمن سبب رئيسي في استقرار السكان وجذبهم

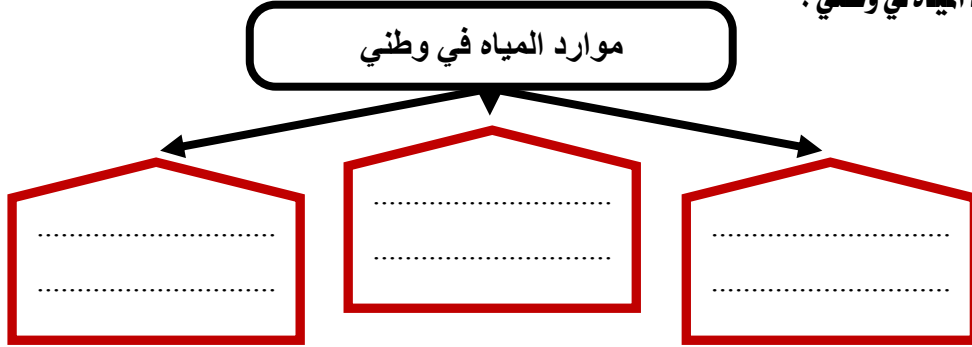


بسم الله الرحمن الرحيم

ورقة عمل درس (المياه)

اسم الطالب : الصف : خامس /

س / اذكر موارد المياه في وطني ؟



س / ما واجبنا تجاه نعمة المياه ؟

ج /

س / اذكر اثنين من الأودية في وطني المملكة العربية السعودية :

١-

٢-

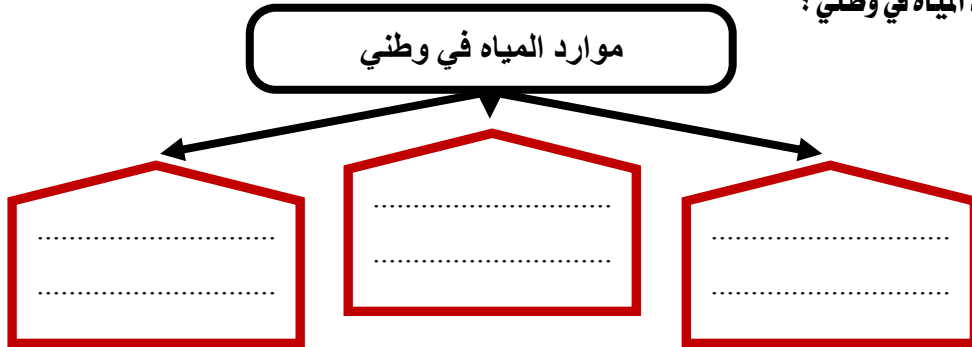


بسم الله الرحمن الرحيم

ورقة عمل درس (المياه)

اسم الطالب : الصف : خامس /

س / اذكر موارد المياه في وطني ؟



س / ما واجبنا تجاه نعمة المياه ؟

ج /

س / اذكر اثنين من الأودية في وطني المملكة العربية السعودية :

١-

٢-

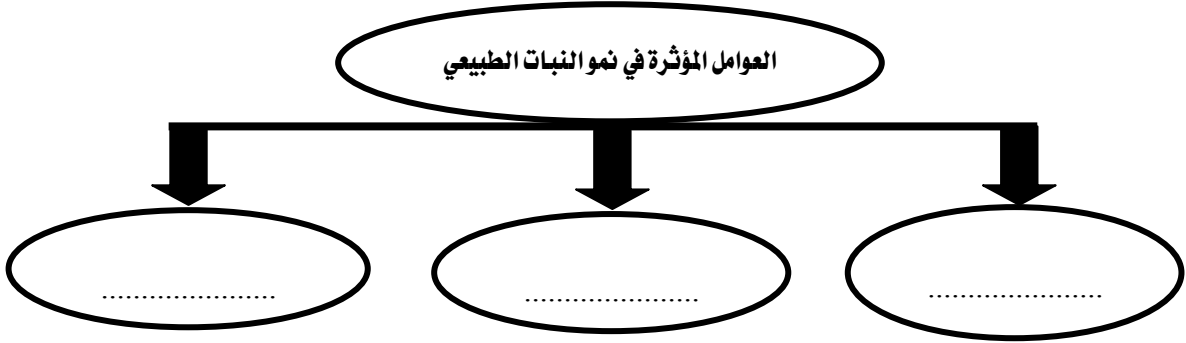


بسم الله الرحمن الرحيم
ورقة عمل درس (النباتات الطبيعي)

اسم الطالب : الصف : خامس /

س / تتأثر النباتات الطبيعية في وطني المملكة العربية السعودية بأحواله المناخية ؛ لذا تتنوع إلى نوعين اذكرهما :

س / اذكر العوامل المؤثرة في نموالنبات الطبيعي :



س / اذكر أسماء نباتات تنمو في منطقتك ؟

ج /

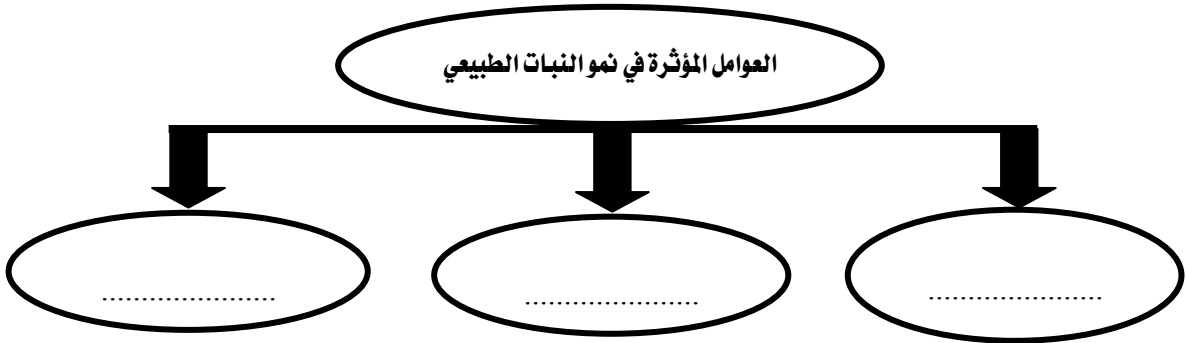


بسم الله الرحمن الرحيم
ورقة عمل درس (النباتات الطبيعي)

اسم الطالب : الصف : خامس /

س / تتأثر النباتات الطبيعية في وطني المملكة العربية السعودية بأحواله المناخية ؛ لذا تتنوع إلى نوعين اذكرهما :

س / اذكر العوامل المؤثرة في نموالنبات الطبيعي :



س / اذكر أسماء نباتات تنمو في منطقتك ؟

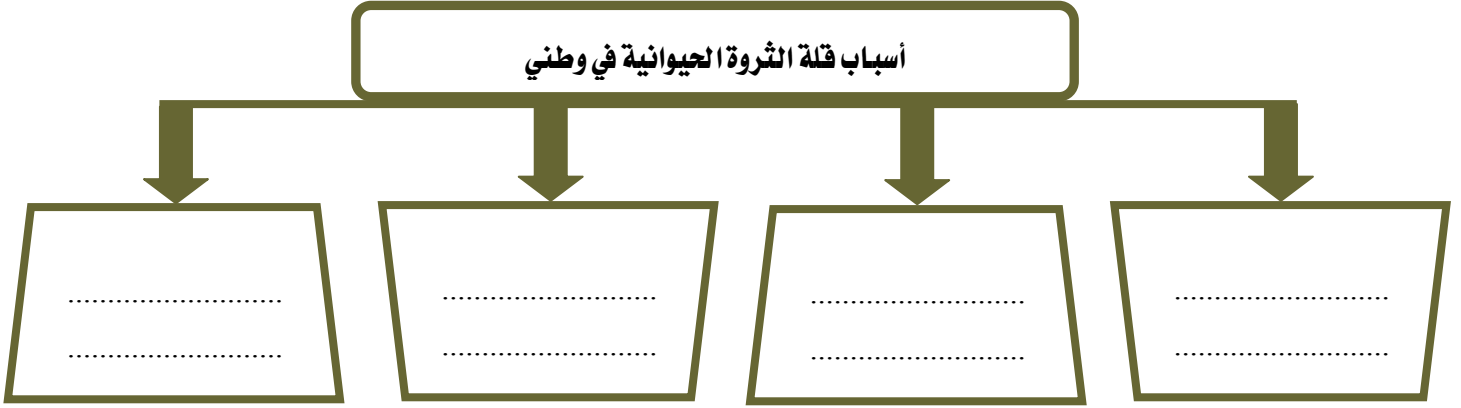
ج /



بسم الله الرحمن الرحيم
ورقة عمل درس (الثروة الحيوانية)

اسم الطالب : / الصف : خامس /

س / اذكر أسباب قلة الثروة الحيوانية في وطني المملكة العربية السعودية ؟



س / اذكر أسباب تنمية الثروة الحيوانية ؟

٤

.....

.....

.....

.....

٣

.....

.....

.....

.....

٢

.....

.....

.....

.....

١

.....

.....

.....

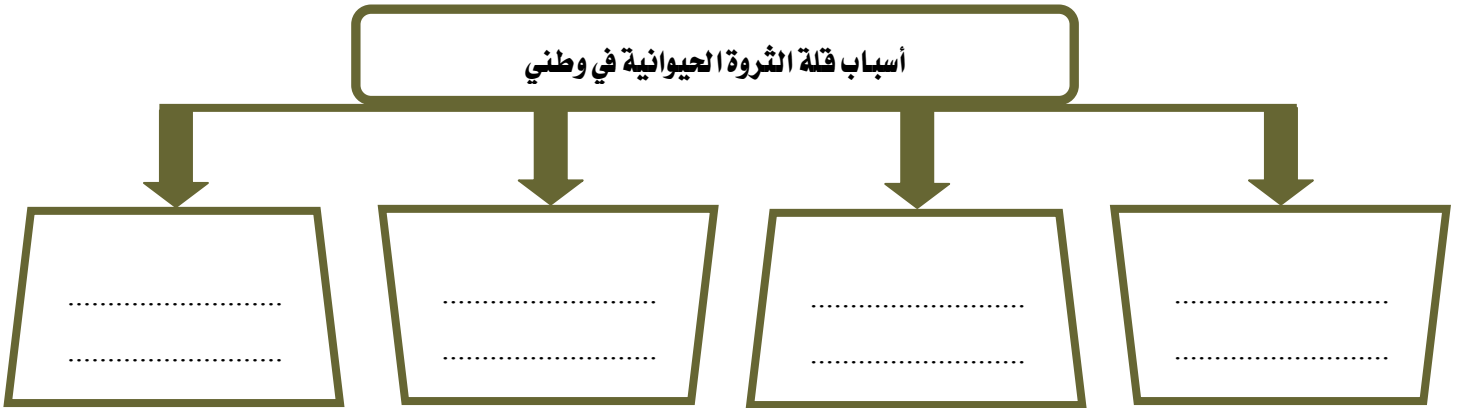
.....



بسم الله الرحمن الرحيم
ورقة عمل درس (الثروة الحيوانية)

اسم الطالب : / الصف : خامس /

س / اذكر أسباب قلة الثروة الحيوانية في وطني المملكة العربية السعودية ؟



س / اذكر أسباب تنمية الثروة الحيوانية ؟

٤

.....

.....

.....

.....

٣

.....

.....

.....

.....

٢

.....

.....

.....

.....

١

.....

.....

.....

.....



بسم الله الرحمن الرحيم
ورقة عمل درس (النفط والمعادن)

اسم الطالب : الصف : خامس /

س / أكمل الفراغات التالية بما يناسب :

- أ - يعد النفط من أهم الموارد في وطني المملكة العربية السعودية حيث يأتي في المركز عالمياً في الاحتياط منه .
ب - يعد حقل الغوار أكبر حقل نفطي في العالم ، كما يعد حقل السفانية أكبر حقل نفطي في العالم .
ج - معظم حقول النفط في وطني المملكة العربية السعودية هي في المنطقة

س / اذكر ثلاثة من أهم المعادن في وطني المملكة العربية السعودية :

أهم المعادن في وطني

.....
-------	-------	-------



بسم الله الرحمن الرحيم
ورقة عمل درس (النفط والمعادن)

اسم الطالب : الصف : خامس /

س / أكمل الفراغات التالية بما يناسب :

- أ - يعد النفط من أهم الموارد في وطني المملكة العربية السعودية حيث يأتي في المركز عالمياً في الاحتياط منه .
ب - يعد حقل الغوار أكبر حقل نفطي في العالم ، كما يعد حقل السفانية أكبر حقل نفطي في العالم .
ج - معظم حقول النفط في وطني المملكة العربية السعودية هي في المنطقة

س / اذكر ثلاثة من أهم المعادن في وطني المملكة العربية السعودية :

أهم المعادن في وطني

.....
-------	-------	-------



بسم الله الرحمن الرحيم
ورقة عمل درس (الزراعة والرعي)

اسم الطالب : / الصف : خامس /

س / اختر الاجابة الصحيحة من بين الأقواس فيما يلي :

- ١ - تأتي الزراعة في الصدارة بين (الأنشطة الاجتماعية - الأنشطة السكانية - الأنشطة الرياضية)
٢ - من عوامل نجاح الزراعة (الرمال - البحار - الأراضي الصالحة)

س / ما أهم مشكلة تواجه الزراعة في وطني المملكة العربية السعودية ؟

ج /

س / اذكر اسباب تراجع حرفة الرعي في وطني المملكة العربية السعودية :

١-

٢ -

٣ -



بسم الله الرحمن الرحيم
ورقة عمل درس (الزراعة والرعي)

اسم الطالب : / الصف : خامس /

س / اختر الاجابة الصحيحة من بين الأقواس فيما يلي :

- ١ - تأتي الزراعة في الصدارة بين (الأنشطة الاجتماعية - الأنشطة السكانية - الأنشطة الرياضية)
٢ - من عوامل نجاح الزراعة (الرمال - البحار - الأراضي الصالحة)

س / ما أهم مشكلة تواجه الزراعة في وطني المملكة العربية السعودية ؟

ج /

س / اذكر اسباب تراجع حرفة الرعي في وطني المملكة العربية السعودية :

١-

٢ -

٣ -



بسم الله الرحمن الرحيم

ورقة عمل درس (الصناعة والتجارة والخدمات)

اسم الطالب : الصف : خامس /

س / ما المقصود بالصناعة؟

ج /

س / عدد أهم مقومات الصناعة ؟

أهم مقومات الصناعة

.....
----------------	----------------	----------------	----------------	----------------	----------------

س / عدد أربعة من أهم الصناعات في وطني المملكة العربية السعودية :

ج /

س / تنقسم التجارة إلى نوعين اذكرهما ؟

أنواع التجارة

.....	أنواع التجارة
-------	---------------	-------



بسم الله الرحمن الرحيم

ورقة عمل درس (الصناعة والتجارة والخدمات)

اسم الطالب : الصف : خامس /

س / ما المقصود بالصناعة؟

ج /

س / عدد أهم مقومات الصناعة ؟

أهم مقومات الصناعة

.....
----------------	----------------	----------------	----------------	----------------	----------------

س / عدد أربعة من أهم الصناعات في وطني المملكة العربية السعودية :

ج /

س / تنقسم التجارة إلى نوعين اذكرهما ؟

أنواع التجارة

.....	أنواع التجارة
-------	---------------	-------



بسم الله الرحمن الرحيم
ورقة عمل درس (مؤسسات الدولة)

اسم الطالب : الصف : خامس /

=====

س / أكمل الفراغات التالية بما يناسب :

- أ- المؤسسات العامة هي المؤسسات
- ب- المؤسسات الخاصة هي المؤسسات
- ج- مؤسسات الدولة هي الأجهزة الحكومية المكلفة بمهام لخدمة و

س / صنف المؤسسات التالية في الجدول الآتي :

مؤسسة خاصة	مؤسسة عامة
فندق	وزارة الداخلية
الهيئة العامة للغذاء والدواء	شركة سابك
.....
.....



بسم الله الرحمن الرحيم
ورقة عمل درس (مؤسسات الدولة)

اسم الطالب : الصف : خامس /

=====

س / أكمل الفراغات التالية بما يناسب :

- أ- المؤسسات العامة هي المؤسسات
- ب- المؤسسات الخاصة هي المؤسسات
- ج- مؤسسات الدولة هي الأجهزة الحكومية المكلفة بمهام لخدمة و

س / صنف المؤسسات التالية في الجدول الآتي :

مؤسسة خاصة	مؤسسة عامة
فندق	وزارة الداخلية
الهيئة العامة للغذاء والدواء	شركة سابك
.....
.....



بسم الله الرحمن الرحيم

ورقة عمل درس (الخدمات الحكومية)

اسم الطالب : / الصف : خامس /

س / ضع علامة (√) أمام العبارة الصحيحة وعلامة (×) أمام العبارة الخاطئة فيما يلي :

- ١- الخدمة الحكومية هي الأعمال التي تقوم بها الدولة من خلال مؤسساتها لمصلحة المجتمع وأفراده داخل الوطن
- ٢- تقوم وزارة الداخلية بمهام سلامة الحجاج
- ٣- من مهام الشرطة المحافظة على الأمن وتطبيق الأنظمة

س / عدد أربعاً من مؤسسات الدولة :

- ١-
- ٢-
- ٣-
- ٤-



بسم الله الرحمن الرحيم

ورقة عمل درس (الخدمات الحكومية)

اسم الطالب : / الصف : خامس /

س / ضع علامة (√) أمام العبارة الصحيحة وعلامة (×) أمام العبارة الخاطئة فيما يلي :

- ١- الخدمة الحكومية هي الأعمال التي تقوم بها الدولة من خلال مؤسساتها لمصلحة المجتمع وأفراده داخل الوطن
- ٢- تقوم وزارة الداخلية بمهام سلامة الحجاج
- ٣- من مهام الشرطة المحافظة على الأمن وتطبيق الأنظمة

س / عدد أربعاً من مؤسسات الدولة :

- ١-
- ٢-
- ٣-
- ٤-

بسم الله الرحمن الرحيم

ورقة عمل درس (الحماية الاجتماعية والصحية)

اسم الطالب : / الصف : خامس /

س / ضع علامة (√) أمام العبارة الصحيحة وعلامة (×) أمام العبارة الخاطئة فيما يلي :

- ١- تقدم الدولة الحماية الاجتماعية للمواطنين
- ٢- المدن الطبية هي مستشفيات صغيرة
- ٣- تقدم هيئة الهلال الأحمر خدمات الإسعاف

س / اذكر اثنين من أعمال وزارة العمل والتنمية الاجتماعية لخدمة الحماية الاجتماعية :

١-

٢-

س / اذكر اثنين من أبرز المدن الطبية السعودية :

١-

٢-

بسم الله الرحمن الرحيم

ورقة عمل درس (الحماية الاجتماعية والصحية)

اسم الطالب : / الصف : خامس /

س / ضع علامة (√) أمام العبارة الصحيحة وعلامة (×) أمام العبارة الخاطئة فيما يلي :

- ١- تقدم الدولة الحماية الاجتماعية للمواطنين
- ٢- المدن الطبية هي مستشفيات صغيرة
- ٣- تقدم هيئة الهلال الأحمر خدمات الإسعاف

س / اذكر اثنين من أعمال وزارة العمل والتنمية الاجتماعية لخدمة الحماية الاجتماعية :

١-

٢-

س / اذكر اثنين من أبرز المدن الطبية السعودية :

١-

٢-





بسم الله الرحمن الرحيم

ورقة عمل درس (الأمن)

اسم الطالب : الصف : خامس /

س / ما المقصود بالأمن؟

ج /

س / اذكر نتائج الأمن؟

..... ٢

..... ١

س / اذكر اربع نماذج من أعمال رجال الأمن؟

.....
.....

.....
.....

س / كيف نحافظ على نعمة الأمن؟

ج /



بسم الله الرحمن الرحيم

ورقة عمل درس (الأمن)

اسم الطالب : الصف : خامس /

س / ما المقصود بالأمن؟

ج /

س / اذكر نتائج الأمن؟

..... ٢

..... ١

س / اذكر اربع نماذج من أعمال رجال الأمن؟

.....
.....

.....
.....

س / كيف نحافظ على نعمة الأمن؟

ج /



بسم الله الرحمن الرحيم
ورقة عمل درس (أجهزة الأمن)

اسم الطالب : الصف : خامس /

=====

س / ضع علامة (√) أمام العبارة الصحيحة وعلامة (×) أمام العبارة الخاطئة فيما يلي :

- ١- التمسك بالدين وشكر الله على نعمه من أسباب الأمن والأمان في الوطن
- ٢- مكافحة الحرائق من مهمات أمن الطرق
- ٣- التعاون مع رجال الأمن واجب ديني ووطني
- ٤- حب الوطن لا يؤثر في الأمن

س / من هم شهداء الواجب ؟

ج /

س / ما واجبنا تجاه شهداء الواجب والوطن ؟

.....
----------------	----------------	----------------	----------------



بسم الله الرحمن الرحيم
ورقة عمل درس (أجهزة الأمن)

اسم الطالب : الصف : خامس /

=====

س / ضع علامة (√) أمام العبارة الصحيحة وعلامة (×) أمام العبارة الخاطئة فيما يلي :

- ١- التمسك بالدين وشكر الله على نعمه من أسباب الأمن والأمان في الوطن
- ٢- مكافحة الحرائق من مهمات أمن الطرق
- ٣- التعاون مع رجال الأمن واجب ديني ووطني
- ٤- حب الوطن لا يؤثر في الأمن

س / من هم شهداء الواجب ؟

ج /

س / ما واجبنا تجاه شهداء الواجب والوطن ؟

.....
----------------	----------------	----------------	----------------