



وزارة التربية  
الإدارة العامة لمنطقة الأحمدي التعليمية  
التوجيه الفني للاجتماعيات

نموذج اجابة

امتحان نهاية الفترة الدراسية الثانية  
للسادس المتوسط  
لمادة الكويت ودول الخليج العربية

العام الدراسي : ٢٠١٨  
الزمن : ساعة وخمس وأربعون دقيقة  
عدد الأوراق : ( ٥ )

الإجابة  
النموذجية  
أبوعون  
الحصني

جميع الأسئلة اجبارية

السؤال الأول : موضوعي يتكون من ( أ - ب - ج ) ( ١٨ × ١ = ١٨ درجة )  
( أ ) - أكمل العبارات التالية بما يناسبها مما درست :

- ١- ميناء الشعبية يوجد في دولة تسمى الكويت . ص ٨٨
- ٢- تحويل المواد الخام إلى مواد يمكن الاستفادة منها تسمى الصناعة . ص ٩٥
- ٣- الدرغ الواقع للأحياء ضد خطر الأشعة فوق البنفسجية تسمى الأوزون . ص ١٣٥
- ٤- البعثة التي كشفت عن آثار الحضارة في منطقة الخليج العربي تسمى الدانمركية . ص ١٠٥
- ٥- عدد الآبار النفطية التي اشعلها النظام العراقي البائد في دولة الكويت ٧٣٧ بنز . ص ١٣٩ ص ١٢٩
- ٦- أنشأ مجلس التعاون الخليجي قوات لحماية أي دولة خليجية تتعرض للعدوان تسمى درع الجزيرة .

( ب ) - ضع خطأ تحت الخيار الصحيح من بين الخيارات التي تلي كل عبارة :

- ١- أول شحنة نفط كويتي تم تصديرها إلى الخارج في عهد الشيخ : ص ٩٠  
- صباح السالم - أحمد الجابر - صباح الأحمد - جابر الأحمد .
- ٢- أكبر حقل نفطي في قطر : ص ٩١  
- خريص - دخان - بو حصا - ناطح .
- ٣- العام الذي قام فيه النظام العراقي البائد بغزو دولة الكويت : ص ١٣٩  
- ١٩٩٠م - ١٩٩١م - ١٩٩٢م - ١٩٩٣م .
- ٤- إعادة تصدير البضائع المستورة يطلق عليها اسم : ص ٩٩  
- الواردات - الاستهلاك - الترانزيت - الصادرات .
- ٥- أقل دولة خليجية في نسبة المواطنين : ص ١١٢  
- عمان - البحرين - السعودية - الإمارات .
- ٦- منطقة زراعية في سلطنة عمان : ص ٩٣  
- العبدلي - سهل تهامة - الباطنة - الإحساء .

( ج ) - صحح ما تحته خط في العبارات التالية وأكتب الإجابة الصحيحة بين الاقواس فيما يلي :

- ١- العنف مرض جسماني . ( اجتماعي ) ص ١٣٦
- ٢- يقع مقر مكتب التربية العربي في مدينة جدة . ( الرياض ) ص ١٣
- ٣- الفرق بين عدد المواليد والوفيات يسمى الهجرة . ( الزيادة الطبيعية ) ص ١٠
- ٤- التنقيب عن النفط في الكويت بدأ في حقل برقان . ( بحرة ) ص ٨٧
- ٥- تم تصدير أول شحنة نفط كويتي عام ١٩٤٨م . ( ١٩٣٦ م ) ص ٩٠
- ٦- مجموعة من الناس تشترك فيما بينها في الصفات الجسمانية الرئيسية تسمى الكثافة السكانية . ( سلالة ) ص ١٠٦

السؤال الثاني : موضوعي يتكون من ( أ - ب - ج ) ( ١٨ × ١ = ١٨ درجة )

( أ ) - ظلل العنصر الذي لا ينتمي للمجموعة فيما يلي :

١- مجموعة أفراد العمالة المنزلية : ص ١٤٢

الطباخ	السائق	المربية	النجار
--------	--------	---------	--------

٢- الصناعات القائمة في دولة الكويت : ص ٩٦

بتروكيماويات	الغاز	النحاس	تكرير النفط
--------------	-------	--------	-------------

٣- وسائل التواصل الاجتماعي : ص ١٢١

			
---	--	---	---

٤- المناطق الحضارية في منطقة الخليج العربي: ص ١٠٥

دلمون	هيلي	دبا	بابل
-------	------	-----	------

٥- الصناعات القائمة في منطقة الخليج العربية : ص ٩٧

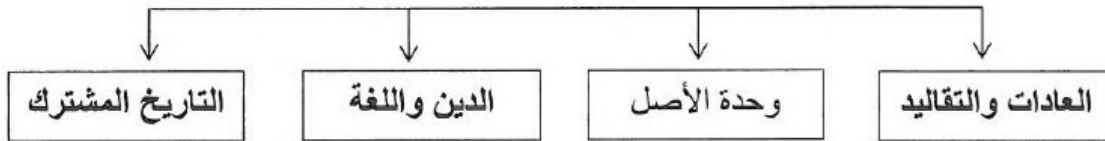
الالمونيوم	الذهب	الحديد	النحاس
------------	-------	--------	--------

٦- المناطق الصناعية في المملكة العربية السعودية: ص ٩٦

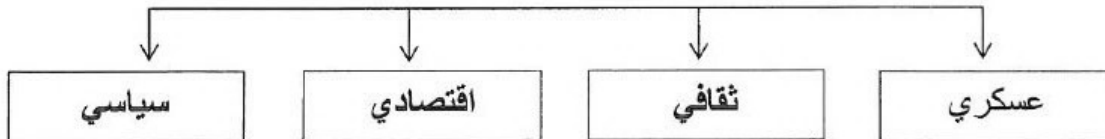
سترة	الرياض	الجبيل	ينبع
------	--------	--------	------

(ب) - أكمل المخططات السهمية التالية :

١- الروابط التي تربط بين سكان دول الخليج العربية ص ١١٩-١٢٠

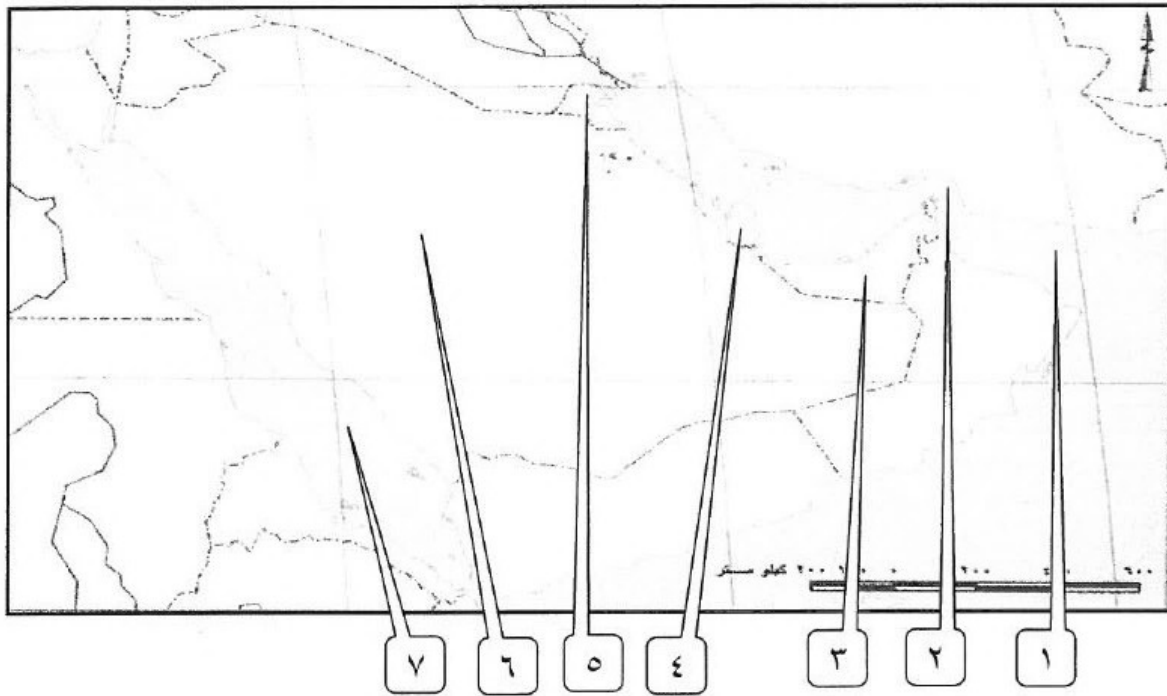


٢- مجالات التعاون بين دول مجلس التعاون الخليجي ص ١٣٣



تابع السؤال الثاني :

(ج) - لاحظ خريطة شبه الجزيرة العربية الصماء ثم نفذ المطلوب منك فيما يلي :



- خليج عمان يمثله على الخريطة الرقم ( ١ ) . ص ٩١
- الدولة التي هاجر إليها القواسم يمثلها على الخريطة الرقم ( ٣ ) . ص ١٠٨
- مضيق هرمز يمثله على الخريطة الرقم ( ٢ ) . ص ٩١
- الدولة الرائدة في إنتاج محصول القمح يمثلها على الخريطة الرقم ( ٦ ) . ص ٩٢
- منطقة العبدلي الزراعية يمثلها على الخريطة الرقم ( ٥ ) . ص ٩٣
- منطقة أم النار الحضارية يمثلها على الخريطة الرقم ( ٤ ) . ص ١٠٥

السؤال الثالث : مقالتي يتكون من ( أ - ب - ج ) ( ١٢ × ١ = ١٢ درجة )

( أ ) - عرف المفاهيم التالية :

١. الثقافة : مجموعة من العادات والتقاليد والقيم في مجتمع من المجتمعات . ص ١٠٦
٢. السلالة: مجموعة من الناس تشترك فيما بينها في الصفات الجسمانية الرئيسية كلون الجلد والشعر والشكل وطول القامة وما إليها وتختلف عن غيرها من السلالات . ص ١٠٦
٣. الضوضاء : أصوات غير متجانسة تجتاز شدتها المعدل الطبيعي المسموح به للأذان . ص ١٣٤
٤. الدخل القومي : هو مجموع الدخول التي تحصل عليها الدولة خلال عام . ص ٩٥

( ب ) - قارن بين كل من :

أوجه المقارنة	التلوث البحري ص ١٣٦	التلوث الهوائي ص ١٣٤
التعريف	- إحداث إفساد لنوعية المياه من خلال إدخال مواد ضارة بها من قبل الإنسان، مما يؤدي إلى حدوث خلل في النظام المائي.	- تعرض الغلاف الجوي بمواد تسبب الضرر للإنسان والكائنات الحية الأخرى وتؤدي إضراراً بالبيئة الطبيعية .
الأسباب	- مخلفات المصانع / النفط ومشتقاته مياه الصرف الصحي غير المعالجة . / مياه الصرف الزراعي / النفايات الخطرة / الأمطار الحمضية .	- سيارات / طائرات وسائل النقل / البراكين / الصناعة / عواصف ترابية حرق النفايات / مبيدات حشرية .

( ج ) - علل لما يلي :

- ١- أهمية البيوت البلاستيكية . ص ٩٤
- يزرع فيها الخضروات في غير مواسمها ( أوقاتها ) .
- تقوم بحماية المحاصيل من تقلبات الطقس .
- ٢- استقرار السكان في أطراف شبة الجزيرة العربية وحوض الخليج العربي . ص ١٠٧
- بسبب الظروف الطبيعية القاسية في وسط شبه الجزيرة العربية .
- ٣- تزايد حالات العنف لدى المتعلمين في السنوات الأخيرة .
- بسبب تربية الطفل الخاطئة والاحباط .

السؤال الرابع : مقالتي يتكون من ( أ - ب - ج ) ( ١٢ × ١ = ١٢ درجة )

( أ ) اقرأ الفقرة التالية ثم أجب عما يليها من أسئلة :

" لم يقتصر العدوان العراقي على البلاد عسكرياً بل امتد تأثيره التدميري على البيئة الكويتية البرية والبحرية والهوائية , فقد لجأ إلى تفجير و إحراق معظم الآبار النفطية الكويتية , كما لجأ إلى ضخ النفط متعمداً في البحر , وقد أحدثت هذه البحيرات **تلوث** للتربة وتدميراً للحياة الفطرية وتلوثاً هوائياً هائل لم تشهده أي دولة في العالم والآثار الخطرة على صحة الإنسان والكاننات الحية . "

١- عرف ما تحته خط . ص ١٣٣

- هو الضرر الذي يصيب عناصر البيئة الأساسية ( هواء - ماء - تربة ) فتتحول من عناصر مفيدة إلى عناصر ضارة .

٢- ما الآثار السلبية المترتبة على إحراق آبار البترول ؟ ص ١٣٩

- تساقط الرذاذ النفطي على التربة محدثاً تلوثاً أرضياً حيث تحول لون الرمال إلى اللون الأصفر إلى الأسود .

- الآثار الخطرة على الإنسان والكاننات الحية .

- ضخ النفط متعمداً في مياه البحر أدى إلى حدوث بحيرات تلوث للتربة وتدمير الحياة الفطرية / إشعال الآبار بسبب كميات كبيرة في الدخان محدثاً تلوث هوائياً هائلاً دمار شامل وتلوث / تربة والهواء والماء .

( ب ) - أكتب فيما يلي :

١- أهم الدول المستوردة لنفط الكويت . ص ٩٠

- الولايات المتحدة الأمريكية .

- هولندا / اليابان .

٢- أنواع الهجرات الموجودة في دول الخليج العربية . ص ١٠٧

- داخلية في شبة الجزيرة العربية .

- خارجية في آسيا وأفريقيا .

( ج ) - فرق بين كلا مما يلي من حيث المفهوم :

إنتاج النفط	احتياطي النفط
- كميات النفط التي يتم استخراجها للاستفادة منها. ص ٨٨	- كميات النفط المخزونة في باطن الأرض . ص ٨٨
الصادرات	الواردات
- السلع والمنتجات التي تبيعها دولنا في الخارج . ص ٩٩	- البضائع والسلع التي تشتريها دولنا من الخارج . ص ٩٩



وزارة التربية

الإدارة العامة لمنطقة الأحمدية التعليمية  
للمادة الكويت ودول الخليج العربية  
التوجيه الفني للاجتماعيات

نموذج الاجابة لامتحان المنهج الكامل

للفص السادس المتوسط

الإجابة

العام الدراسي ١٩٦٢م

عدد الأوراق: (٥)

الزمن : ساعة وأربعون

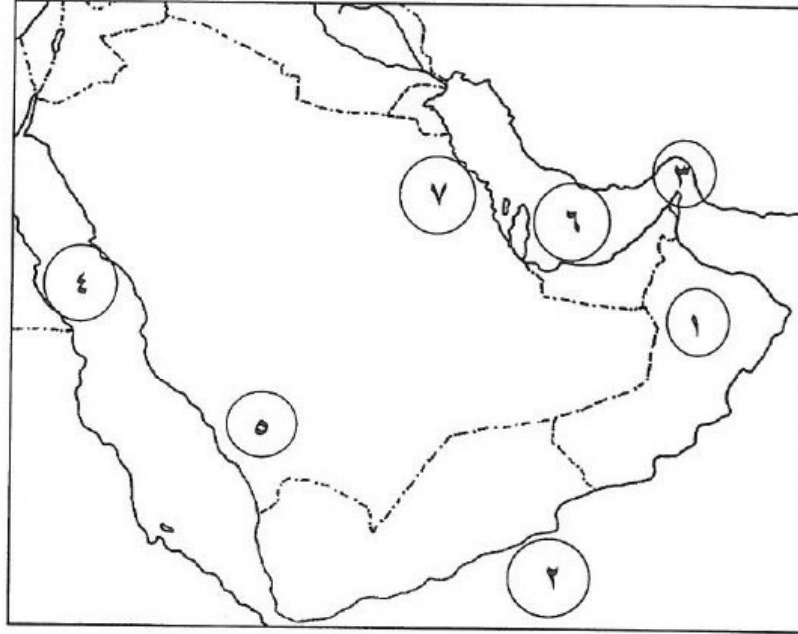
السؤال الأول ( موضوعي ) يتكون من ( أ، ب، ج ) ( كل نقطة درجة واحدة )

( أ ) ضع خطأ تحت الخيار الصحيح من بين الخيارات التي تلي كل عبارة: ( ٦ × ١ )

- ١- نجحت المملكة العربية السعودية في إنتاج محصول يسمى: ص ٩٢  
( القمح - الذرة - الشعير - الأرز )
- ٢- أقل دولة خليجية من حيث عدد السكان تسمى: ص ١١٤  
( الكويت - البحرين - قطر - السعودية )
- ٣- أعلن قيام السوق الخليجية المشتركة في عام: ص ٧٧  
( ٢٠٠٥ م - ٢٠٠٦ م - ٢٠٠٧ م - ٢٠٠٨ م )
- ٤- حصلت الكويت على استقلالها عام ١٩٦١م في عهد الشيخ: ص ٦٣  
( سالم المبارك - جابر المبارك - عبد الله السالم - صباح السالم )
- ٥- تسقط الأمطار الصيفية على المملكة العربية السعودية في منطقة تسمى: ص ٢٥  
( جبال عسير - جبال الحجاز - جبال الزور - الجبل الأخضر )
- ٦- الجبل هو كل مرتفع له قمة لا يقل ارتفاعه عن: ص ٢٣  
( ١٠٠٠ متر - ٢٠٠٠ متر - ٣٠٠٠ متر - ٤٠٠٠ متر )  
( ب ) - أكمل العبارات التالية بما يناسبها فيما درست :- ( ٦ × ١ )
  - ١- تقع شبه الجزيرة العربية في قارة تسمى آسيا. ص ١٩
  - ٢- الدولة العربية الخليجية التي ظهرت فيها حضارة دلمون تسمى البحرين. ص ١٠٥
  - ٣- بدأ التنقيب عن النفط في دولة الكويت في عام ١٩٣٤م. ص ٨٧
  - ٤- الدولة العربية الخليجية التي توجد فيها منطقة العبدلي الزراعية تسمى الكويت. ص ٩٣
  - ٥- حدث الغزو العراقي الغاشم على دولة الكويت في عام ١٩٩٠م. ص ١٣٩
  - ٦- أول دولة استعمارية أوروبية دخلت الخليج العربي تسمى البرتغال. ص ٦٠

تابع السؤال الأول :

( ج ) ( ج ) أمامك خريطة شبه الجزيرة العربية الصماء نفذ المطلوب فيما يلي :- ( ٦ × ١ )



- البحر الاحمر يمثل على الخريطة الرقم ٤ ص ٩٢
- الخليج العربي يمثل على الخريطة الرقم ٦ ص ٥٨
- جبال عسير يمثلها على الخريطة الرقم ٥ ص ٢٣
- مضيق هرمز يمثل على الخريطة الرقم ٣ ص ٩١
- سلطنة عُمان يمثلها على الخريطة الرقم ١ ص ٩٢
- الأحساء يمثلها على الخريطة الرقم ٧ ص ٢٣

السؤال الثاني ( موضوعي ) يتكون من ( أ، ب، ج ) :

( أ ) - صنف مجالات التعاون بين دول الخليج العربية كما هو مطلوب منك في الجدول التالي: ( ٦ x ١ )  
( المناورات العسكرية المختلفة - مناصرة القضايا العادلة - توحيد المناهج التعليمية وتطويرها - زيادة التبادل التجاري - تحرير دولة الكويت -ادانة احتلال الجزر الإماراتية الثلاث )  
( ص ١٢٩ - ص ١٣٠ )

التعاون السياسي	التعاون العسكري	التعاون الاقتصادي	التعاون الثقافي
- مناصرة القضايا العادلة - ادانة احتلال الجزر الإماراتية الثلاث.	- المناورات العسكرية المختلفة - تحرير دولة الكويت.	- زيادة التبادل التجاري.	- توحيد المناهج التعليمية وتطويرها .

( ب ) -اختر الرقم المناسب من المجموعة (١) وضعه امام ما يناسبه في المجموعة (ب) في الجدول التالي:- ص ٥٧  
( ١ x ٥ )

الرقم	المجموعة (١)	الرقم	المجموعة (ب)
١	العتوب (آل الصباح وآل خليفة)	٢	قطر -
٢	المعاضيد	٤	رأس الخيمة -
٣	آل بوسعيد واليعاربة	١	الكويت والبحرين -
٤	القواسم	٥	أبوظبي -
٥	بني ياس	-	اليمن -
		٣	عُمان -

( ج ) - اكمل العبارات التالية بما يناسبها : ( ٧ x ١ )

- ١- السلوك العدوانى الموجه ضد الغير والذي يتسم بالتخريب والتدمير سواء اقوالاً أو أفعالاً يسمى ( العنف ) ص ١٤٤
- ٢- يطلق على صانع السفينة قديماً في دول الخليج العربي اسم ( القلاف ) ص ٣٣
- ٣- عثر على أفران صهر النحاس التي تعود لحضارة مجان في دولة خليجية تسمى ( عُمان ) ص ٤٨
- ٤- عقدت الكويت اتفاقية الحماية مع بريطانيا في عام ( ١٨٩٩ م ) ص ٦٢
- ٥- يوجد المقر الرئيسى لمجلس التعاون الخليجي في مدينة تسمى ( الرياض ) ص ٧٠
- ٦- منظمة إقليمية سياسية اقتصادية تضم ست دول خليجية تسمى(مجلس التعاون لدول الخليج العربية) ص ٧٠
- ٧- الدولة الخليجية التي ظهرت فيها حضارة أم النار تسمى (قطر) ص ١٠٥



السؤال الثالث ( مقالى ) يتكون من ( أ - ب ) :

أ - عرف المفاهيم التالية: ( ٦ x ١ )

١. الواحة : منطقة تقع في الصحراء فيها مياه عذبة صالحة للزراعة . ص٢٩
٢. طبقة الأوزون : درع واقى للأحياء ضد خطر الأشعة فوق البنفسجية الضارة . ص١٣٥
٣. القرن : يساوي ١٠٠ سنة . ص٤٥
٤. الاستعمار: سيطرة دولة قوية على دولة ضعيفة بهدف استغلال مواردها ( خيراتها ) . ص٦١
٥. الصناعة : تحويل المواد الخام إلي مواد مصنعة يمكن الاستفادة منها . ص٩٥
٦. تلوث التربة : دخول مواد غريبة في التربة مما يلحق الضرر في خواصها ومكوناتها . ص١٣٤

( ب ) علل لما يلي : ( ٦ x ١ )

- ١- انصراف دول الخليج العربية عن حرفة الغوص على اللؤلؤ. ص٣١  
- ظهور اللؤلؤ الصناعي .  
- اكتشاف النفط.
- ٢- ظهور حضارات في منطقة الخليج العربي . ( يكتفى بنقطتين ) ص ٥١ - ٥٢  
- الموقع الجغرافي المتميز .  
- توافر مياه الشرب .  
- البيئة الملائمة.
- ٣- الصناعات القائمة على النفط في دول الخليج العربية . ( يكتفى بنقطتين ) ص٩٦  
- البتروكيماويات.  
- الغاز.  
- تكرير النفط.

السؤال الرابع ( مقالى ) يتكون من ( أ - ب )

أ - عرف المفاهيم التالية: ( ٦ x ١ )

- ١ - الموقع النسبي: موقع الدولة بالنسبة للماء واليابس . ص ١٨
- ٢ - الاستقلال: تحرر الدولة من المستعمر الأجنبي وقيامها بمسؤوليتها عن إدارة شؤونها الداخلية والخارجية . ص ٥٩
- ٣ - الدخل القومي : مجموع الدخول التي تحصل عليها الدولة خلال عام . ص ٩٥
- ٤ - الثقافة : مجموعة من العادات والتقاليد والأخلاقيات في مجتمع من المجتمعات . ص ١١٨
- ٥- إنتاج النفط :كميات النفط التي يتم استخراجها للاستفادة منها. ص ٨٨
- ٦- بيوت بلاستيكية : تزرع فيها الخضروات في غير مواسمها عن طريق حمايتها من تقلبات الطقس . ص ٩٤

( ب ) أجب عن الأسئلة التالية : ( ٦ x ١ )

- ١ - تعرض مياه الخليج العربي للتلوث. ص ١٣٦ ( يكتفى بنقطتين )
  - مخلفات المصانع.
  - النفط ومشتقاته.
  - مياه الصرف الصحي غير المعالجة .
  - مياه الصرف الزراعي .
  - النفايات الخطرة .
  - الأمطار الحمضية .
- ٢- توفر النباتات المعمرة طول العام في دول الخليج العربية . ص ٢٦ ( يكتفى بنقطتين )

لأنها تتحمل الجفاف وارتفاع الحرارة بسبب جذورها الطويلة / قلة أوراقها / كثرة الأشواك فيها / قدرتها العالية على تخزين المياه .
- ٣- آثار الغزو العراقي على البيئة . ص ١٣٩ ( يكتفى بنقطتين )
  - إحراق ما يقرب من ٧٣٧ بئر بترول .
  - ضخ النفط إلى البحر وحدثت هذه البحيرات تلوث التربة .
  - إشعال الآبار سبب كميات كبيرة من الدخان (تلوث هوائي) .
  - تحول لون التربة من الأصفر إلى الأسود ( تلوث أرضي ) .

انتهى نموذج الاجابة