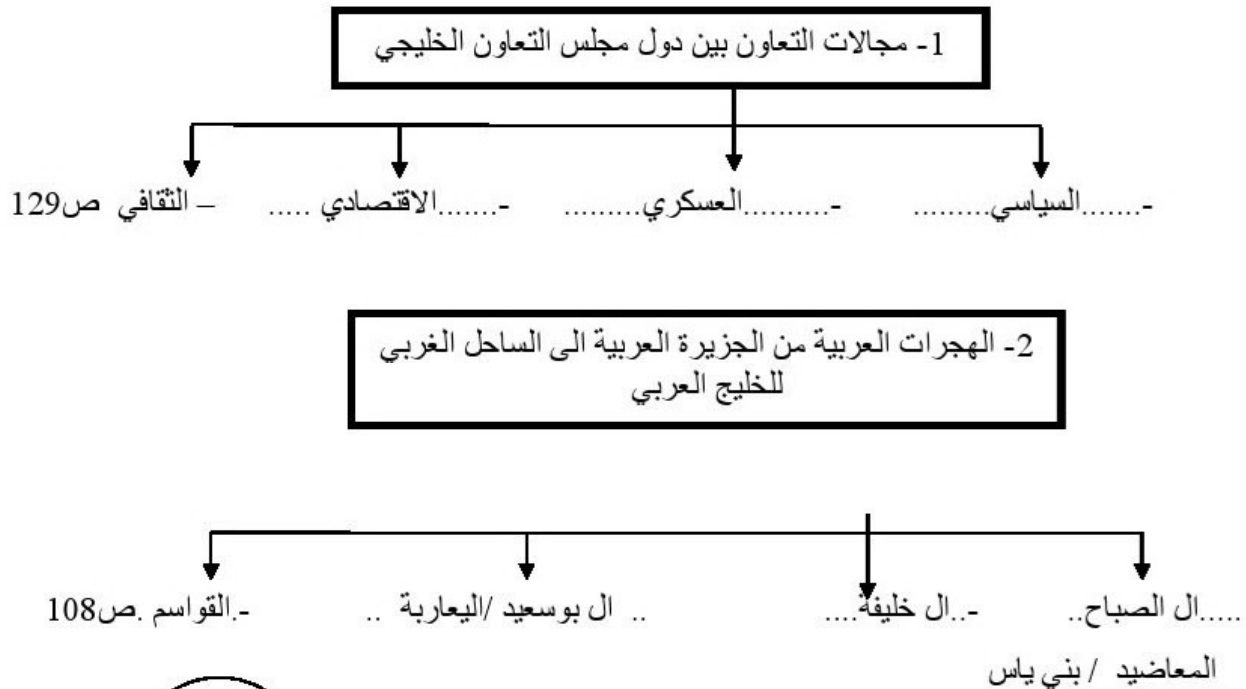


السؤال الأول : يتكون من ( أ - ب )

نموذج الاجابة

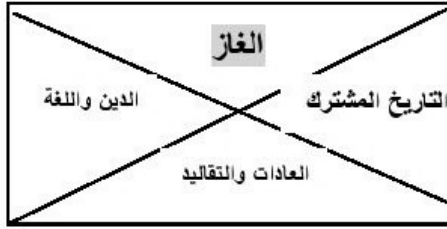
( أ ) : أكمل العبارات التالية بما يناسبها :- ( 6=1× 6 )

- 1- الضرر الذي يصيب عناصر البيئة الأساسية فتتحول من عناصر مفيدة إلى عناصر ضارة يسمى ---التلوث---ص133
- 2- إعادة تصدير البضائع المستوردة يسمى ---الترانزيت---ص99
- 3- مجموع الدخول التي تحصل عليها الدولة خلال عام تسمى ---الدخل القومي---ص95
- 4- عدد السكان في الكيلومتر المربع وتقاس بقسمة عدد السكان على مساحة الدولة تسمى ---الكثافة السكانية---ص114
- 5- تنتمي أصول السلالات في منطقة الخليج العربية إلى جنس البحر المتوسط و ---شرق أفريقيا---ص105
- 6- صدر إعلان الدوحة بشأن إقامة السوق الخليجية المشتركة في عام ---2008م---ص130

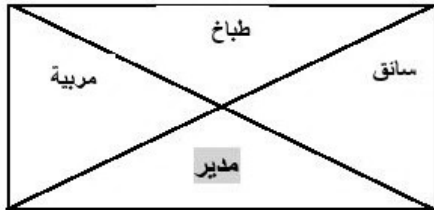
( ب ) : أكمل المخططات السهمية التالية : ( 6=1× 6 )

**السؤال الثاني : يتكون من ( أ - ب )**

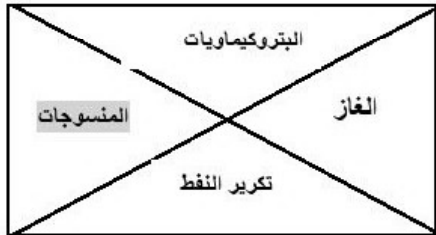
**( أ ) ظلل الكلمة التي لا تنتمي لكل مجموعة من المجموعات التالية : ( 6=1×6 )**



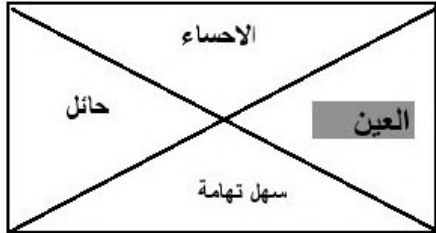
1- الروابط التي تربط بين أبناء دول الخليج العربية ص 118



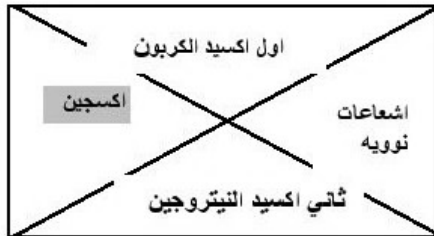
2- من وظائف العمالة المنزلية ص 142



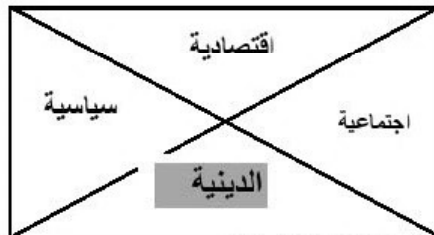
3- أهم الصناعات في منطقة الشعيبة بالكويت ص 96



4- أهم المناطق الزراعية في المملكة العربية السعودية ص 93



5- اسباب التلوث الهوائي ص 138



6- جوانب التغيرات في منطقة الخليج العربية بعد ظهور النفط ص 141

**( ب ) : صنف مصادر التلوث التالية حسب ما يناسبها في الجدول التالي : ص 134 ( 6=1×6 )**

( سيارات - النفط ومشتقاته - براكين - عواصف ترابية - مياة الصرف الصحي - الأمطار الحمضية )

مصادر التلوث الهوائي	مصادر التلوث البحري
سيارات - الأمطار الحمض - عواصف ترابية	النفط ومشتقاته - مياة الصرف الصحي - براكين

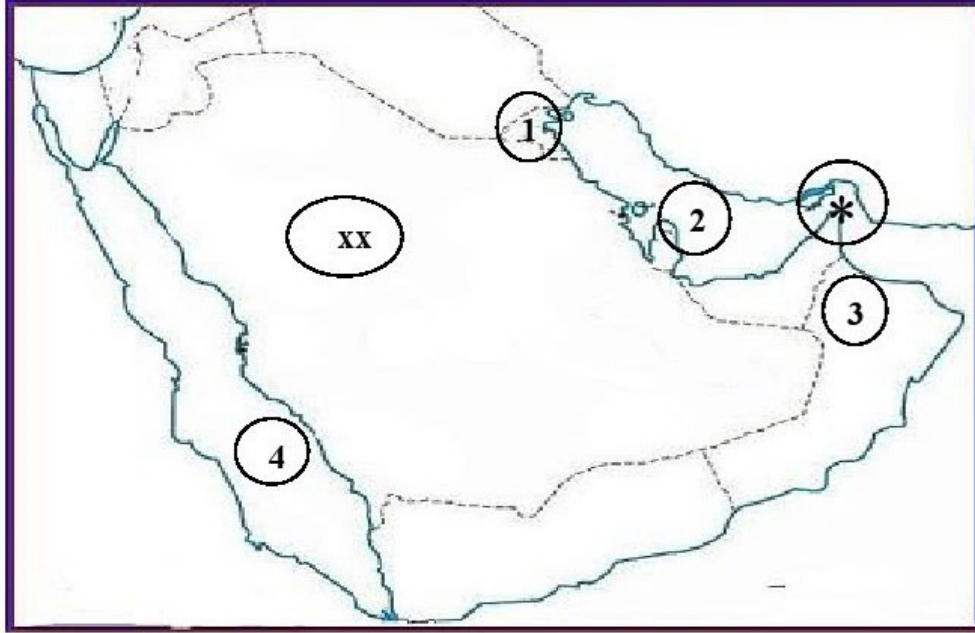
**السؤال الثالث : يتكون من ( أ - ب ) : (6=1×6)**

**(أ) : صحح ما تحته خط و اكتب الإجابة الصحيحة فيما بين القوسين: (6=1×6)**

- 1- ظهرت حضارة هيلي في دولة عربية خليجية تسمى قطر (....الإمارات...)ص105
- 2- تشتهر منطقة صحار بسلطنة عمان بصناعة البتروكيماويات (....النحاس.....)ص96
- 3- كميات النفط المخزونة في باطن الأرض تسمى إنتاج النفط . احتياطي النفط ..)ص88
- 4- مجموعة من العادات والتقاليد والقيم في مجتمع من المجتمعات تسمى الحضارة (....الثقافة.....)ص118
- 5- تم تصدير أول شاحنه من النفط في عهد الشيخ جابر الأحمد الصباح . (أحمد الجابر الصباح)ص90
- 6- أول حقل نفطي كويتي تم التنقيب عنه في الحقول الجنوبية يسمى الوفرة (...برقان.....)ص87

**(ب) : لاحظ خريطة شبه الجزيرة العربية الصماء ثم اكتب الرموز والارقام الدالة على العبارات التالية:**

(6=1×6)



**أولاً: اكتب مدلولات الرموز والأرقام التالية :**

- الخليج العربي يحمل الرقم ( 2 ) ص92
- دولة الكويت تحمل الرقم ( 1 ) ص91
- سهل الباطنة يحمل الرقم ( 3 ) ص92
- البحر الاحمر يحمل الرقم ( 4 ) ص92
- يمثل الرمز ( XX ) دولة عربية تسمى ..السعودية..ص91
- يمثل الرمز ( \* ) مضيق يسمى ...هرمز...ص91

**السؤال الرابع : يتكون من ( أ - ب - ج ) .**

**( أ ) : أجب عن الأسئلة التالية :-**

1- اذكر دولتين من الدول المستوردة للنفط الكويتي . ص90 ( 2 درجة ) يكتفى بنقطتين  
- الولايات المتحدة الأمريكية - هولندا // اليابان

2- عدد اثنين من أسباب النمو السكاني في منطقة الخليج العربية . ص111 ( 2 درجة ) يكتفى بنقطتين  
- ارتفاع دخل الفرد // توفر الرعاية الصحية // توفر فرص العمل // ارتفاع الأجور  
- الأمن والأمان //زيادة عدد المواليد // السماح للوافدين باصطحاب عائلاتهم

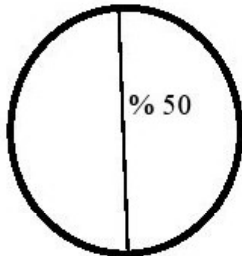
**( ب ) : لاحظ الجدول التالي لنسب المواطنين في دول الخليج العربية لعام 2006 م ثم أجب عن المطلوب**

**ص:112**

اسم الدولة	نسبة المواطنين
الكويت	46.6 %
المملكة العربية السعودية	79.36 %
البحرين	50 %

- 1 - أعلى دولة في نسب المواطنين هي -----المملكة العربية السعودية----- (1 درجة )
- 2 - أقل دولة في نسب المواطنين هي -----الكويت----- (1 درجة )
- 3 - رتب الدول السابقة ترتيباً تنازلياً . ( 3 درجة )

المملكة العربية السعودية	البحرين	الكويت
--------------------------	---------	--------



4 - حول النسبة المئوية لدولة البحرين لدائرة بيانية . ( 1 درجة )

**( ج ) : علل لما يلي :-**

1- قيام دول الخليج العربية بإقامة العديد من الموانئ النفطية . ص90 ( 1 درجة ) ( نسبة المواطنين في البحرين )  
- بسبب تزايد الإنتاج النفطي لدول مجلس التعاون من الحقول البرية والبحرية وتزايد الطلب العالمي عليه كمصدر أساسي للطاقة .

2- خروج الهجرات العربية في أزمنة مختلفة من قلب الجزيرة العربية إلى الساحل الغربي للخليج العربي . ص 108  
- بسبب سيادة الظروف الطبيعية القاسية والجفاف الصحراوي ( 1 درجة )

**السؤال الخامس : يتكون من ( أ - ب - ج )**

**( أ ) : عرف المفاهيم التالية :- ( 3=1×3 )**

- 1- الصناعة : تحويل المواد الخام إلى مواد مصنعة يمكن الاستفادة منها.ص95
- 2- العمالة المنزلية : إنهم مجموعة من الأفراد الذين يشاركون الأسرة في دور أو أكثر داخل المنزل أو خارجه من المربيات والطباخين والسائقين والخدم.....إلخ.ص142
- 3- السلالة : مجموعة من الناس تشترك فيما بينها في الصفات الجسمانية الرئيسية كلون الجلد وشكل الأنف وشكل الشعر وطول القامة وتختلف عن غيرها من السلالات في هذه الصفات.ص106

**( ب ) : اقرأ الفقرة التالية ثم أجب عما يليها من أسئلة :- ص132**

- (تلعب دولة الكويت دوراً مهماً مع دول مجلس التعاون الخليجي من أجل ترسيخ الأمن والإستقرار في منطقة الخليج العربية , وتعزيز التكامل الاقتصادي وصولاً إلى الوحدة الخليجية المنشودة ومواجهة التحديات).
- 1- ضع عنوان مناسب للفقرة السابقة . ( 1 درجة )
  - التحديات ( المشكلات ) التي تواجه دول الخليج العربية . (أو أي عنوان مناسب للفقرة يراه المصحح)
  - 2- عدد التحديات التي تواجه دول الخليج العربية .ص132 ( 2 درجة ) يكتفى بنقطتين
  - الأخطار الخارجية والداخلية - الحاجة إلى إقامة نظام دفاعي متماسك ودائم للمنطقة - الأمن الغذائي - التلوث البيئي - ندرة المياه الجوفية - الاعتماد على الموارد النفطية فقط - الغزو الثقافي.
  - 3- ما النتائج المترتبة على : تلوث التربة ص134 ( 2 درجة )
  - ضعف قدرتها على الانتاج الزراعي . // تلوث الانتاج الزراعي مما يؤثر على صحة الانسان .

**( ج ) - اقترح حلولاً لعلاج المشكلات الاجتماعية التالية : ص150**

حلول لعلاج مشكلة العنف (2=1×2) يكتفى بنقطتين	حلول لعلاج مشكلة العمالة المنزلية (2=1×2) يكتفى بنقطتين
<ul style="list-style-type: none"> <li>- الاهتمام الجاد بالقران الكريم والسنة النبوية الشريفة .</li> <li>- الاهتمام بالقراءة والمطالعة بدلاً من أصدقاء السوء .</li> <li>- القدوة الحسنة من كل المحيطين بالشباب (المتعلمين)</li> <li>واتباع أساليب الحوار والتفاهم في علاج المشكلات والخلافات</li> </ul>	<ul style="list-style-type: none"> <li>- الاهتمام الجاد بالقران الكريم والسنة النبوية الشريفة .</li> <li>- يتحمل كل فرد في الأسرة مسؤوليه والقيام بدوره خير قيام.</li> <li>- جعل مهمة الخادم مقتصرة على ممارسة دوره الأساسي في المساهمة في تحمل أعباء المنزل لاغير</li> </ul>

انتهت الاسئلة ،،