



وزارة التربية

الإدارة العامة لمنطقة الجهاد التعليمية

اختبار نهاية الفصل الدراسي الثاني

٢٠١٨ / ٢٠١٧

السادس

الصف

الاجتماعيات

المادة

المنهج الكامل

نموذج  
إجابته



وزارة التربية

مكتب مدير المنطقة الجهاد التعليمية



وزارة التربية

الإدارة العامة لمنطقة الجهاد التعليمية  
مكتب المدير العام



**أجب عن جميع الأسئلة التالية :-**

**السؤال الأول ويتكون من ( أ - ب - ج - د - هـ - و - ز ) :** لكل نقطة درجة

**(أ) أكمل العبارات التالية بما يناسبها مما درست :-**

- ١- العام الذي صدرت فيه وثيقة الدستور الكويتي ١٩٦٢ م . ص ٦٤
- ٢- الرياح الجنوبية الشرقية في منطقة الخليج العربي يطلق عليها اسم الكوس . ص ٢٥
- ٣- الدولة الأوروبية الأولى التي وصلت إلى الخليج العربي تسمى البرتغال . ص ٦٠
- ٤- ذلك السلوك العدوانى الموجه ضد الغير والذي يتسم بالتخريب والتدمير يسمى العنف . ص ١٤٤
- ٥- حاكم الكويت الذي تم في عهده تصدير أول شحنة من النفط الكويتي اسمه أحمد الجابر . ص ٩٠
- ٦- الدولة الخليجية التي لم تتعرض للاستعمار الأجنبي تسمى السعودية . ص ١٢٠

**(ب) ضع خطا تحت الخيار الصحيح من بين الخيارات التي تلي كل عبارة :-**

- ١- عدد درجات العرض التي تمتد عبرها منطقة الخليج العربية : ص ١٩  
أ- ١٥ درجة      ب- ١٦ درجة      ج- ١٧ درجة      د- ١٨ درجة
- ٢- الدولة الأوروبية التي وقعت معها الكويت اتفاقية الحماية عام ١٨٩٩ م : ص ٦٢  
أ- بريطانيا      ب- فرنسا      ج- ألمانيا      د- أسبانيا
- ٣- المدينة الخليجية التي أعلن فيها قيام مجلس التعاون الخليجي عام ١٩٨١ م : ص ٧٠  
أ- الدوحة      ب- الرياض      ج- أبو ظبي      د- المنامة
- ٤- الحضارة التي وجدت آثارها في جزيرة فيلكا : ص ٤٧  
أ- الأرامية      ب- الهلينستية      ج- البابلية      د- السومرية
- ٥- العام الذي صدر فيه إعلان الدوحة لقيام السوق الخليجية المشترك : ص ١٣٠  
أ- ٢٠٠٢ م      ب- ٢٠٠٤ م      ج- ٢٠٠٦ م      د- ٢٠٠٨ م
- ٦- الدولة الخليجية التي تقع فيها حضارة أم النار : ص ١٠٥  
أ- الكويت      ب- عمان      ج- البحرين      د- قطر

لكل نقطة درجة

تابع / السؤال الأول :-

ص ٢٦

(ج) صنف أنواع النباتات حسب الجدول التالي لها :

( الحويذان - العرفج - الثندا - العنصيل - الخبيزة - الرمث )

نباتات معمرة	نباتات حولية
العرفج الثندا الرمث	الحويذان العنصيل الخبيزة

(د) صحح ما تحته خط في العبارات التالية :-

- ١- يطلق على صانع السفينة اسم الرضيف. ( الفلاف ) ص ٣٣
- ٢- بداية موسم الغوص تسمى القفال. ( الدشة ) ص ٣٢
- ٣- عدد الآبار النفطية التي أشعلها النظام العراقي البائد في الكويت ٧٦٧ بنراً. ( ٧٣٧ ) ص ١٣٩
- ٤- أعلى دولة خليجية في الكثافة السكانية السعودية. ( البحرين ) ص ١١٤

(هـ) أكتب المفاهيم أو المصطلحات الدالة عليها العبارات التالية :-

- ١- ( الاستعمار ) سيطرة دولة قوية على دولة ضعيفة بهدف استغلال مواردها. ص ٦١
- ٢- ( الدخل القومي ) مجموع الدخول التي تحصل عليها الدولة خلال عام. ص ٩٥
- ٣- ( انتاج النفط ) كميات النفط التي يتم استخراجها للاستفادة منها. ص ٨٨
- ٤- ( الثقافة ) مجموعة من العادات والتقاليد والقيم في مجتمع من المجتمعات. ص ١١٨

(و) اختر للمجموعة ( أ ) ما يرتبط بها من المجموعة ( ب ) بوضع الرقم في المكان المناسب :-

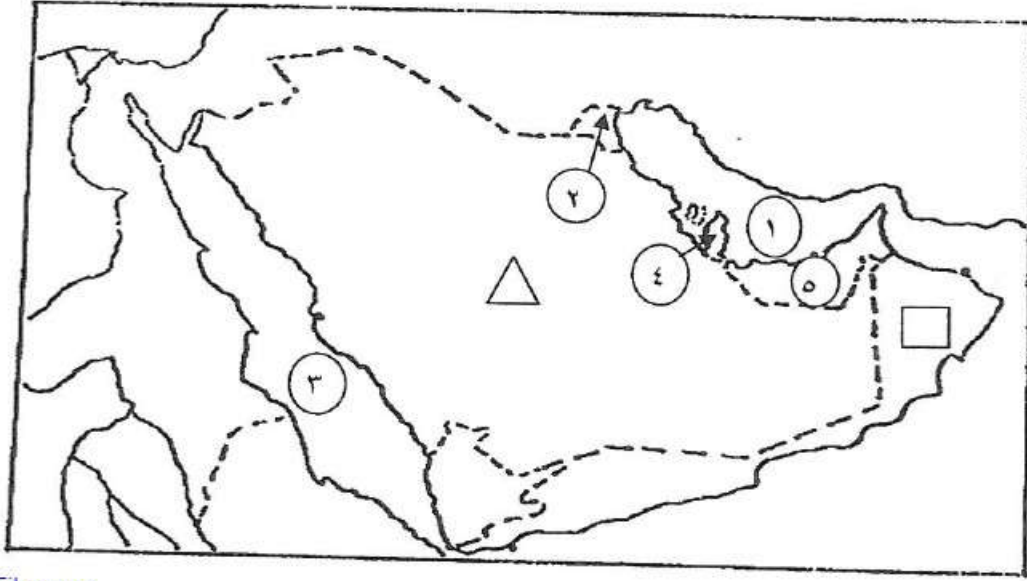
الرقم	المجموعة ( أ )	الرقم المناسب	المجموعة ( ب )
١	المعاضيد	٣	عمان
٢	القواسم	٤	أبو ظبي
٣	آل بو سعيد	-	البحرين
٤	بني ياس	١	قطر
		٢	رأس الخيمة

ص ١٠٨

لكل نقطة درجة

تابع / السؤال الأول :-

ز) لاحظ خريطة دول الخليج العربي الصماء التي أمامك ثم أجب عن الأسئلة التي تليها :




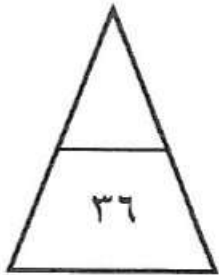
www.KwEduFiles.com

أولاً : اكتب الرقم الدال عليه العبارات التالية :-

- الدولة الخليجية الأعلى في نسبة الوافدين عام ٢٠٠٦م يمثلها على الخريطة الرقم .....٥..... ص ١١٢
- الخليج العربي يمثل على الخريطة الرقم .....١..... ص ٢٣
- منطقة العبدلي الزراعية يمثلها على الخريطة الرقم .....٢..... ص ٩٢
- حقل دخان يمثل على الخريطة الرقم .....٤..... ص ٩١

ثانياً : حدد كل مما يلي على الخريطة باستخدام الرموز التالية :-

- هضبة نجد باستخدام الرمز  ص ٢٣
- حضارة مجان باستخدام الرمز  ص ٤٨



السؤال الثاني : ويتكون من ( أ ، ب ، ج ) :-

لكل نقطة درجة

أ ) فرق بين كل مما يلي :-

الموقع النسبي ص ٢٠	الموقع الفلكي
الموقع بالنسبة للماء واليابس	الموقع بالنسبة لخطوط الطول ودوائر العرض
الواردات ص ٩٩	الصادرات
البضائع والسلع التي تشتريها دولنا من الخارج	السلع والمنتجات التي تبيعها دولنا في الخارج

لكل نقطة درجة

ب ) علل لما يأتي :-

- ١- انصرف سكان منطقة الخليج العربي عن مهنة الفوص .  
- بسبب ظهور اللؤلؤ الصناعي .  
- اكتشاف النفط .  
يكتفى بنقطتين ص ٣١
- ٢- ارتفاع الدخل القومي لدول مجلس التعاون الخليجي .  
- اكتشاف النفط وتصديره .  
- التوسع في صناعة التكرير .  
يكتفى بنقطتين ص ٩٥

لكل نقطة درجة

ج ) عدد كل مما يلي :-

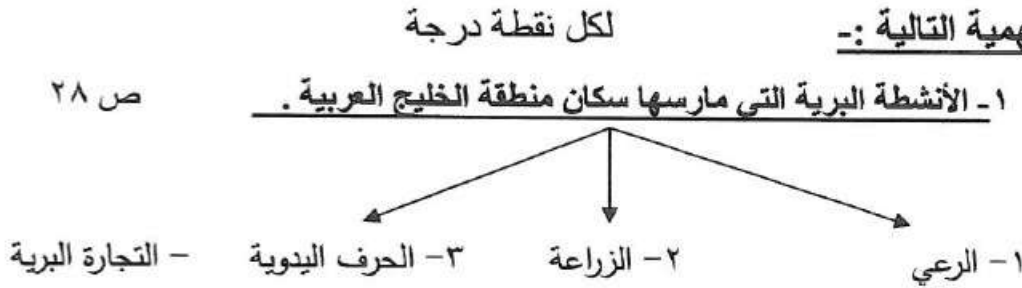
- ١- أهداف مجلس التعاون لدول الخليج العربية .  
- تحقيق التعاون بين الدول الأعضاء في جميع المجالات .  
- تحقيق الترابط والصلات بين دول المجلس .  
- العمل على تقدم دول المجلس في المجال العلمي .  
يكتفى بنقطتين ص ٧٦
- ٢- نتائج التلوث الأرضي ( التربة ) .  
- ضعف قدرتها على الإنتاج الزراعي .  
- تلوث الإنتاج الزراعي مما يؤثر على صحة الإنسان .  
يكتفى بنقطتين ص ١٣٤

السؤال الثالث : ويتكون من ( أ ، ب ، ج ) :-

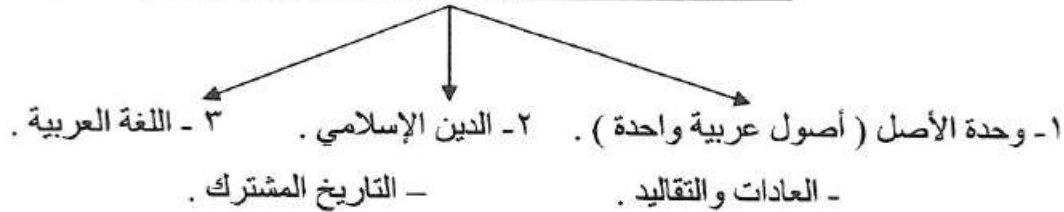
أ ) اقرأ الفقرة التالية ثم أجب عما يليها من الأسئلة :-  
" شهدت منطقة الخليج العربية بعد اكتشاف النفط حالة من النمو السكاني المتسارع ، نتيجة لعدة عوامل أهمها توفر فرص العمل ، وارتفاع دخل الفرد مما شجع على استقطاب الهجرات الداخلية والخارجية " .

- ١- عرف ما تحته خط . ص ١١١  
- النمو السكاني : التغيير الذي يحدث لعدد السكان نتيجة للزيادة الطبيعية وغير الطبيعية .  
٢- استخرج من الفقرة أسباب استقطاب منطقة الخليج العربية للهجرات . يكتفى بنقطتين ص ١١٠  
- توفر فرص العمل .  
- ارتفاع دخل الفرد .

ب ) أكمل المخططات السهمية التالية :-



٢- الروابط المشتركة بين سكان دول الخليج العربية . ص ١١٧ - ١٢٠



ج ) دال على صحة هذه العبارة :

- لكل نقطة درجة
- " تهتم دول مجلس التعاون الخليجي بالتعاون العسكري فيما بينها " . يكتفى بثلاث نقاط ص ١٢٩
- المناورات ( التدريبات ) العسكرية المختلفة .  
- إنشاء قوة مشتركة تضم جميع دول مجلس التعاون ( درع الجزيرة )  
- قبول أبناء دول مجلس التعاون في الكليات العسكرية .

انتهت الأسئلة

مع تمنياتنا للجميع بالنجاح والتوفيق ،،،