



العام الدراسي : ٢٠١٦/٢٠١٧ م
الزمن : ساعة ونصف
عدد الصفحات : (٥)

وزارة التربية
الإدارة العامة لمنطقة حولي التعليمية
التوجيه الفني للاجتماعيات
امتحان نهاية الفصل الدراسي الأول
لمقرر (الكويت والعالم)
للسف التاسع

نموذج الإجابة

أجب عن جميع الأسئلة التالية :

السؤال الأول (موضوعي) : ويتكون من (أ - ب - ج - د - هـ - و) :

(أ) أكمل العبارات التالية بما يناسبها فيما درست : (٥ = ١ × ٥)

١ - تشكل مساحة اليابسة من مساحة الكرة الأرضي حوالي .. ٢٩ .. % ص ٣٣

٢ - الإطار الذي يعيش فيه الإنسان ويحصل فيه على مقومات حياته ويتفاعل مع عناصر البيئة

الأخرى يسمى البيئة .. ص ٥١

٣ - مرحلة العلاقة بين الإنسان والبيئة التي اكتشف فيها النار تسمى الصيد والقنص .. ص ٥٥

٤ - الزيادة السريعة والمستمرة في أعداد السكان التي تؤدي إلى استهلاك الإمكانيات المتوفرة من

العناصر الطبيعية في البيئة تسمى الانفجار السكاني .. ص ٦٠

٥ - الفترة الزمنية التي استمر فيها اشتعال النيران في المنات من الآبار الكويتية بلغت

تسعة .. أشهر ص ٦٥

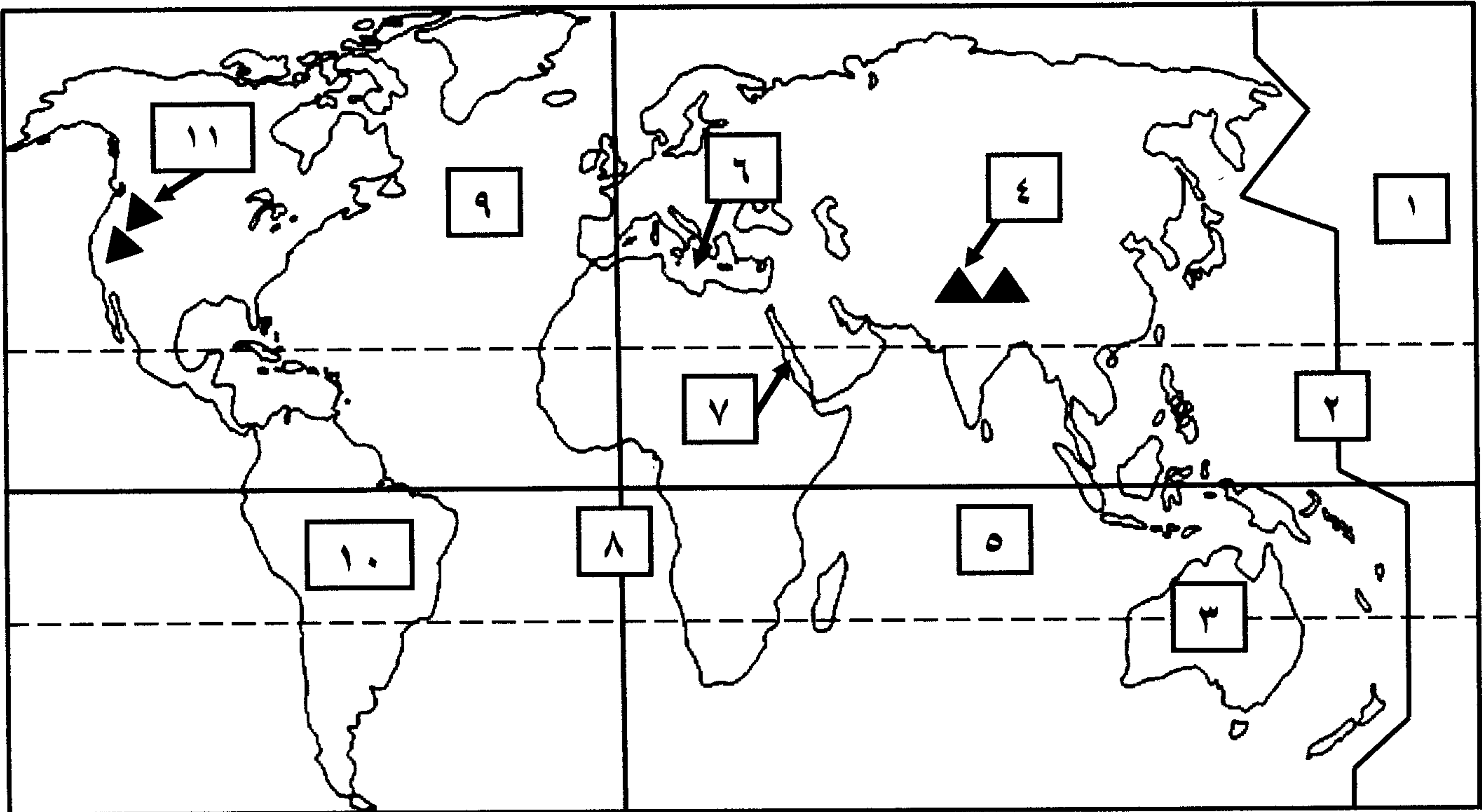
(ب) صنف كواكب المجموعة الشمسية حسب ما يناسبها في الجدول : (٥ = ١ × ٥)

(عطارد - المشتري - الأرض - المريخ - زحل)

الكواكب الخارجية الغازية ص ٢٠	الكواكب الداخلية الصخرية ص ١٩
المشتري	عطارد
زحل	الأرض
	المريخ

تابع السؤال الأول :

(ج) أمامك خريطة العالم أكتب الرقم الدال على العبارات التالية : (٥ = ١ × ٥)



WWW.KweduFiles.Com

* المحيط الأطلسي على الخريطة يمثل الرقم ٩ ص ٣٢

* خط التاريخ الدولي على الخريطة يمثل الرقم ٢ ص ٢٤

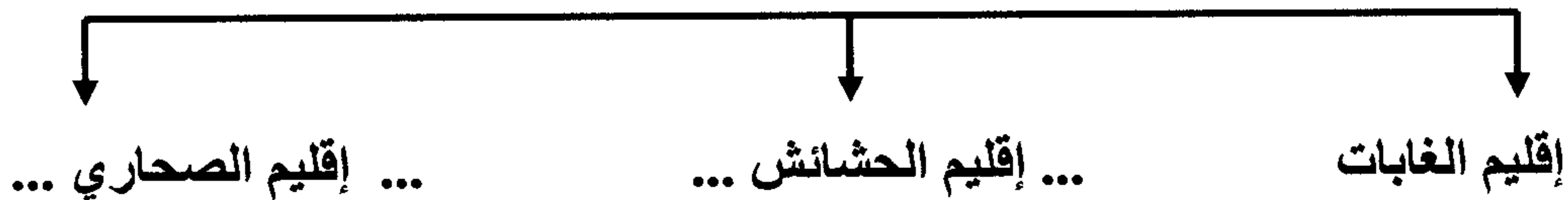
* قارة أستراليا على الخريطة يمثلها الرقم ٣ ص ٣٢

* جبال الروكي على الخريطة يمثل الرقم ١١ ص ٢٥

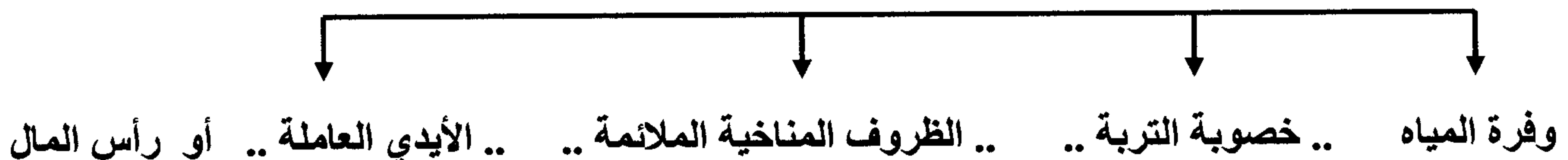
* البحر المتوسط على الخريطة يمثل الرقم ٦ ص ٢٥

(د) أكمل المخططات السهمية التالية بما يناسبها : (٥ = ١ × ٥)

١- يقسم العالم إلى ثلاث أقاليم حيوية ص ٣٩



٢- المقومات الأساسية لقيام الزراعة ص ٧٠



تابع السؤال الأول :

(هـ) أرسـم دائرة حول العنصر الذي لا ينتمي للمجموعات التالية : (٥ = ١ × ٥)

١- العناصر غير الحية المكونة للنظام البيئي : ص ٥١

(الهواء - ضوء الشمس - الحشرات - الصخور)

٢- أقسام البيئة الطبيعية حسب المناخ : ص ٥٣

(بيئة متجمد - بيئة صحراوية - بيئة معتدلة - بيئة حارة)

٣- أسباب تلوث الماء : ص ٦٣

(المبيدات الحشرية - مخلفات ناقلات النفط - مخلفات المصانع - المجاري الصحية غير المعالجة)

٤- الموارد الطبيعية المتجددة : ص ٦٧

(الماء - النباتات - الحيوانات - المعادن)

٥- محاصيل تنمو في المناطق الحارة : ص ٧٠

(التفاح - الموز - المانجو - الأرز)

WWW.KwadaFiles.Com

(و) أكتب المفاهيم أو المصطلحات الدالة على العبارات التالية : (٥ = ١ × ٥)

١- (الكواكب) أجسام كونية معتمة باردة تستمد نورها من أقرب نجم لها . ص ١٧

٢- (الدورة المحورية) دورة الأرض حول نفسها . ص ٢٥

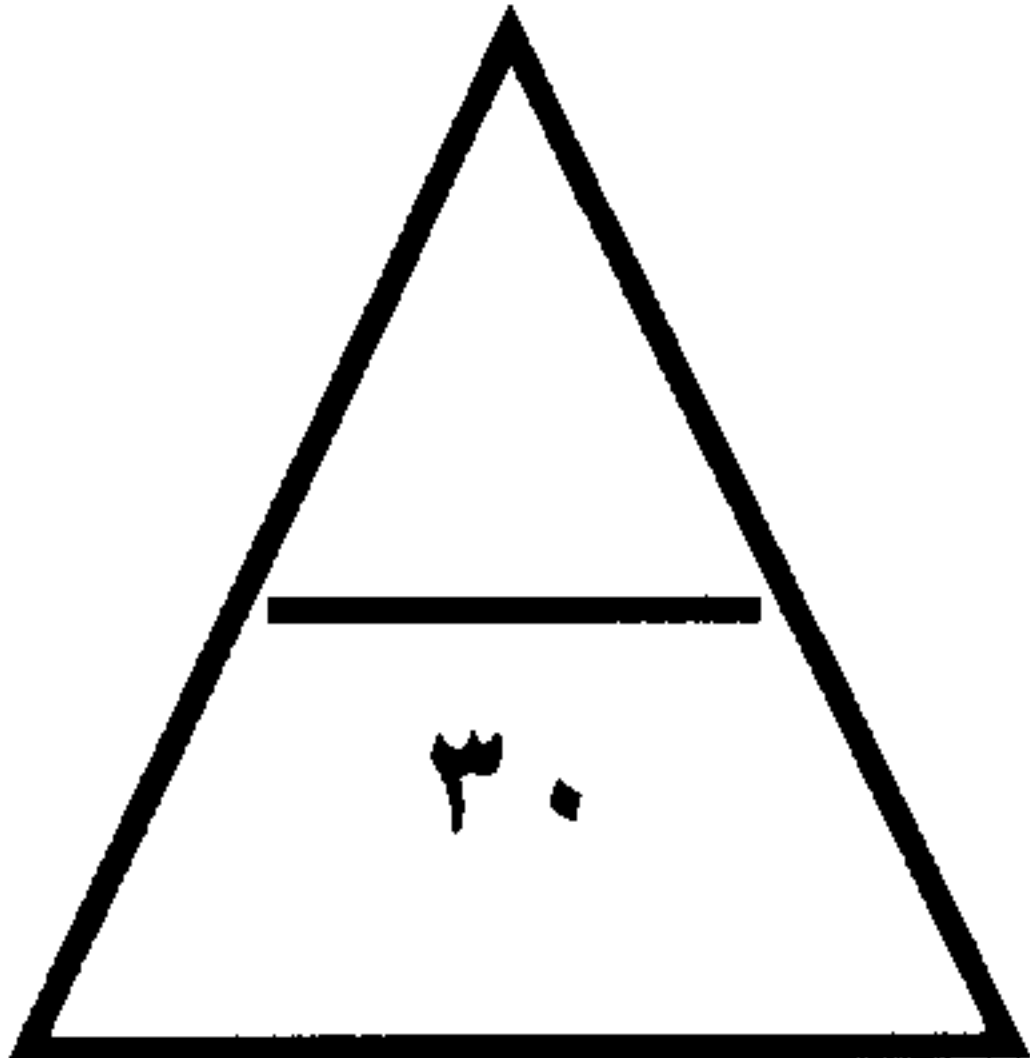
٣- (المد) تقدم مياه المحيطات والبحار فوق الشواطئ . ص ٣٠

٤- (مجموعة المحلات) مجموعة العناصر الحية المجهرية وتتضمن الطريات والبكتيريا التي

تحلل المواد العضوية إلى أصولها الأولى . ص ٥٧

٥- (التوازن البيئي) التفاعل المستمر بين مكونات البيئة الذي يحفظ للبيئة حالة من الاستقرار

النسبي في زمن محدد دون أن يطغى مكون من مكوناتها على المكونات الأخرى . ص ٥٨



السؤال الثاني (مقال) : ويتكون من (أ - ب - ج) :
(أ) عدد ما يلي : (٦ درجات)

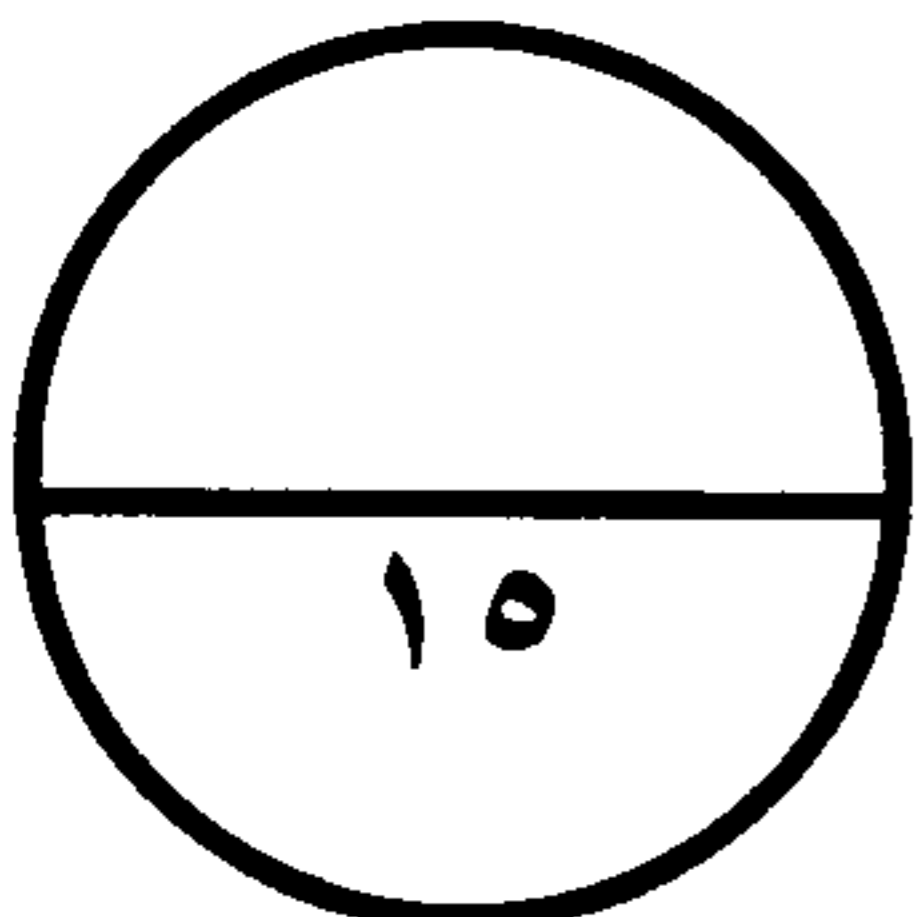
- ١- نتائج الدورة المحورية للأرض . ص ٢٦
* تعاقب حدوث الليل والنهار.
* تعاقب الحرارة والبرودة .
* اختلاف التوقيت بين مناطق الأرض .
- ٢- الآثار السلبية المترتبة على إحراق آبار البترول . ص ٦٦
* تأثير التلوث على الحياة النباتية والمحاصيل الزراعية لتكون الأمطار الحمضية .
* تأثير التلوث على الصحة العامة للسكان وخاصة الأطفال وكبار السن .
* تأثير التلوث على التركيب الطبيعي للتربة نتيجة لترسب ذرات النفط المتطايرة وتكوين البحيرات النفطية .

(ب) فرق بين كل مما يلي : (٤ درجات)

الأوج ص ٢٧	الحضيض ص ٢٧
أبعد نقطة عن الشمس تصل إليها الأرض في مدارها .	أقرب نقطة إلى الشمس تصل إليها الأرض في مدارها .
الكسوف ص ٣١	الخسوف ص ٣١
يحدث للشمس عندما يقع القمر بين الأرض والشمس ويكون الثلاثة على خط مستقيم واحد ، فيحجب القمر نور الشمس عن الأرض ويقع ظلها على الأرض فيحدث الكسوف .	وقوع القمر في مخروط ظل الأرض أو شبه ظلها .

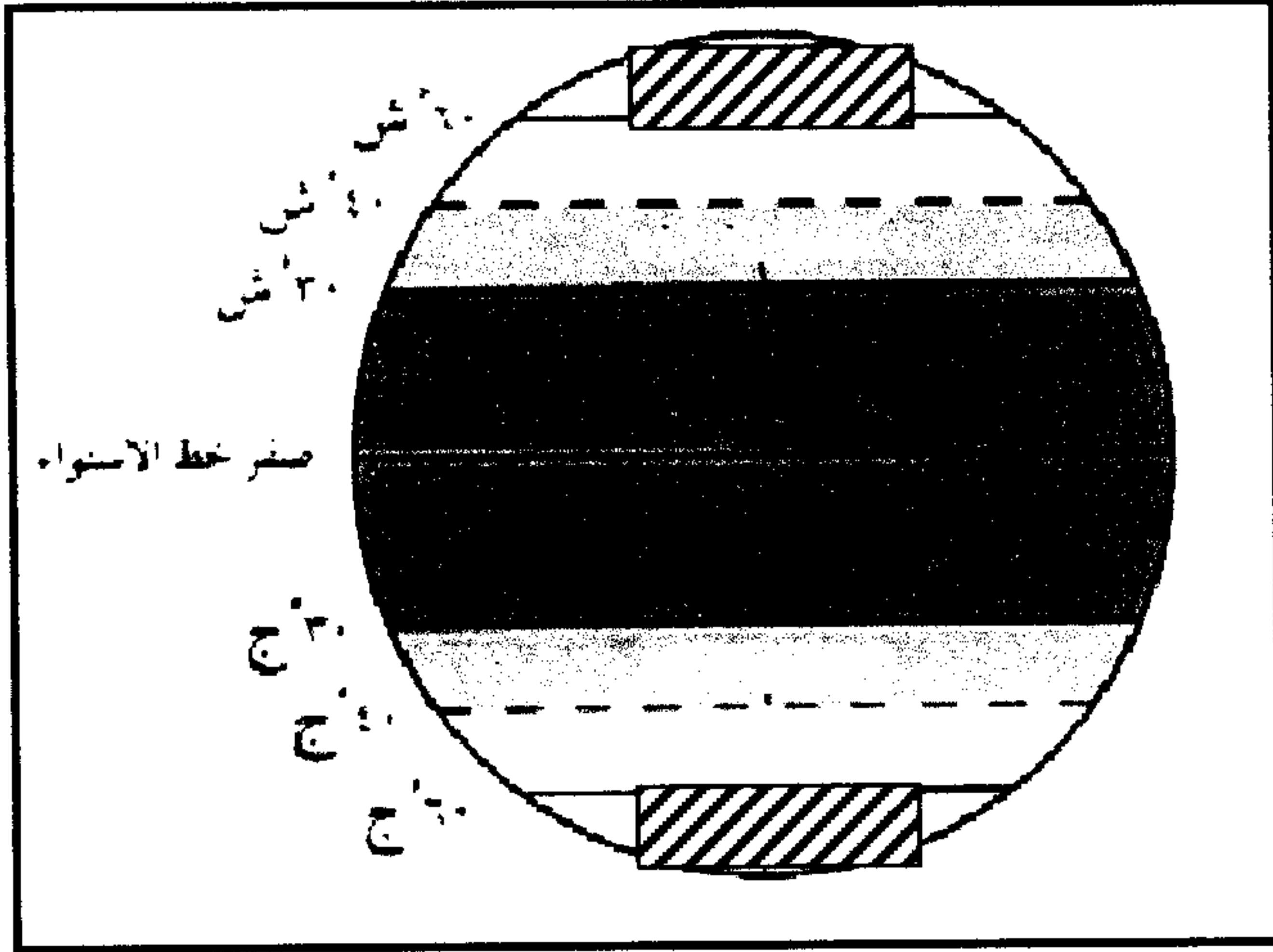
(ج) علل لما يلي : (٥ درجات)

- ١- وجود الحياة على كوكب الأرض . ص ٢١ (يكتفى بثلاث نقاط)
* وجود الجاذبية الأرضية .
* وجود الغلاف الجوي لحمايتها من أشعة الشمس الضارة .
* يمنع النيازك والشهب من الوصول إلى سطحها .
* يقوم باحتباس كمية من الحرارة حتى لا تتعرض الأرض للبرودة الشديدة .
- ٢- اختلاف الحرف والأنشطة الاقتصادية بين دول العالم . ص ٦٩
* لتنوع الموارد الطبيعية .
* اختلاف الظروف الحضارية والعلمية والتكنولوجية .



السؤال الثالث (مقال) : ويتكون من (أ - ب - ج) :

(أ) لاحظ الشكل المقابل ثم أجب عن الأسئلة التي تليه : (٥ درجات) ص ٤١



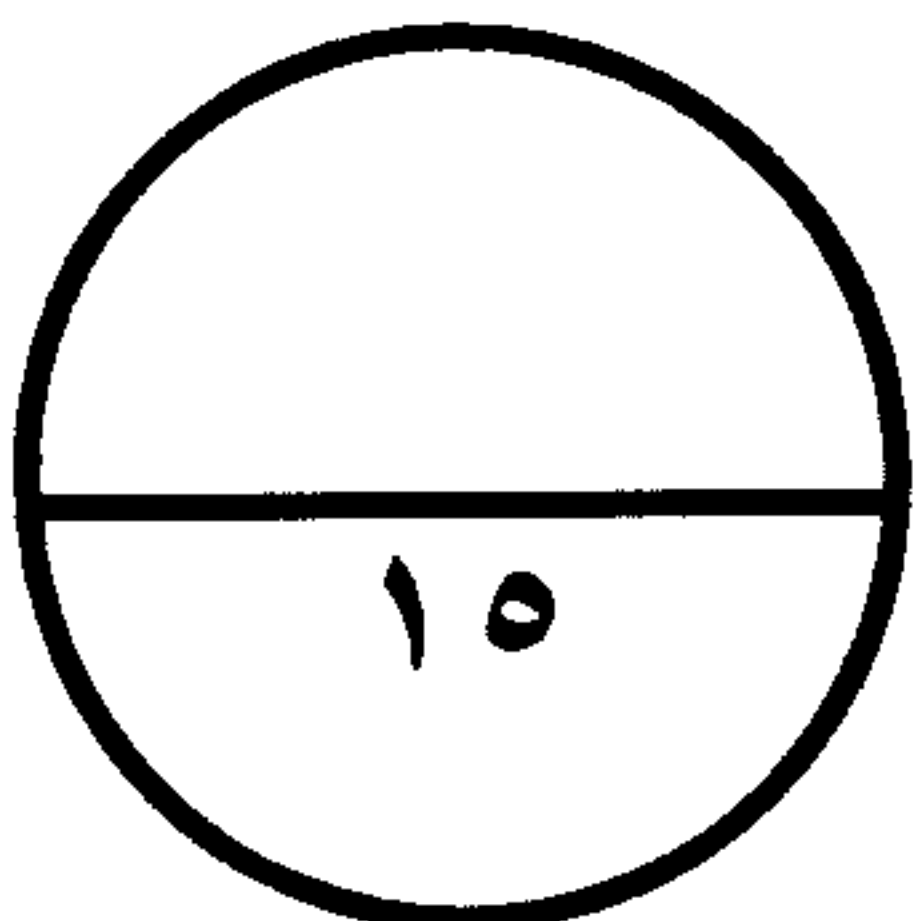
- ١- ظل الأقاليم الباردة الشمالية والجنوبية باستخدام الرمز (درجات)
 - ٢- ما العناصر المناخية التي تحدد الاختلاف الحراري بين الأقاليم المناخية ؟
- * درجة الحرارة . (٣ درجات)
 - * الضغط الجوي . (يكتفى بثلاث نقاط)
 - * الرياح .
 - * الأمطار .

(ب) قارن بين كل من حسب الجدول : (٤ درجات)

دوائر العرض ص ٢٣	خطوط الطول ص ٢٢	أوجه المقارنة
تمتد ١٨٠° خط شرقا و ١٨٠° خط غربا عددها (٣٦٠)	تمتد ٩٠° شمالا و ٩٠° جنوبا عددها (١٨٠)	عددتها
* تقسم العالم إلى نصفين شرقي وغربي . * تساعد على تعيين الزمن بين الأماكن . (يكتفى بنقطة)	* تساعد دوائر العرض على تقسيم العالم إلى نصفين شمالي وجنوبي . * تساعد على تقسيم الكرة الأرضية إلى مناطق حرارية رئيسية . (يكتفى بنقطة)	أهميتها

(ج) أذكر ما يلي : (٦ درجات)

- ١- أهمية الغلاف الجوي للكرة الأرضية . ص ٣٧
- * يحمي سطح الكرة الأرضية من تساقط الشهب والنيازك من الفضاء الخارجي .
- * تنعدم الحياة على سطح الأرض بدون الغلاف الجوي حيث أن الهواء مصدر تكوين السحب والغيوم وهبوب الرياح والأمطار .
- ٢- مقومات قيام الصناعة . ص ٧١ (يكتفى بأربع)
- * توافر المواد الخام الأولية للصناعة .
- * توافر الطاقة اللازمة لتحريك الآلات والمعدات .
- * وفرة الأيدي العاملة الفنية المدربة .
- * توفر رأس المال .
- * وجود سوق لتسويق المنتجات الصناعية . * وسائل النقل .



انتهت الأسئلة

مع تمنياتنا لكم بالتوفيق