



اعداد المعلمة
شيماء العبدالرحمن

رئيسة القسم
أ / عايشة الغريب

أ / هدى الختلان

مديرة المدرسة
أ / وفاء العريعر

كشكول لولوة الصف التاسع الاجتماعيات الفصل الدراسي الاول

الاسم: _____

الصف: - تاسع / _____

ما المقصود بالبيئة؟

مفهوم
مفهوم
البيئة
الطبيعية



ما المقصود بالتوازن
البيئي؟

من أنا؟

العالم الذي استخدم علم الطبيعة كمفهوم
جديد يدرس في الجامعات



اذكري أقسام البيئة



مميزات البيئة
الطبيعية

عدد خصائص
الكائنات الحية

إعداد المعلمة
شيماء العبدالرحمن

قارن بين خطوط الطول ودوائر العرض من حيث العدد وخط الأساس والأهمية

Google

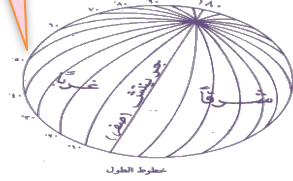
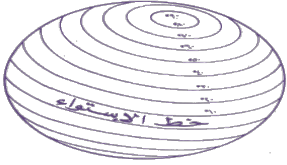


عناصر البيئة الطبيعية / أولا :- الموقع

مركز بحث Google متوفر باللغة: English

Google

ينقسم الموقع إلى :-



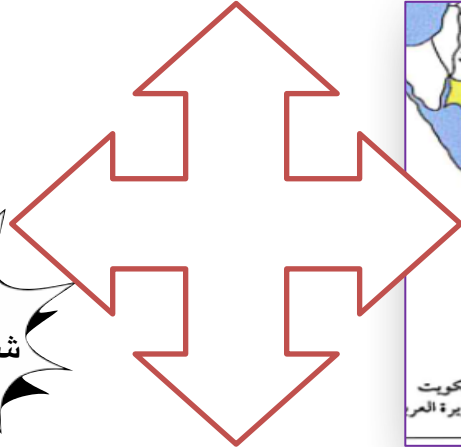
خطوط العرض

دوائر العرض	خطوط الطول	أوجه المقارنة
		العدد
		خط الأساس
		الأهمية

Red box

Green box

Purple box



لاحظ الخريطة ثم حدد موقع دولة الكويت المكاني والنسبي على الجهات

إعداد المعلمة

شيماء العبدالرحمن

عناصر البيئة الطبيعية

ثانياً : التضاريس

أنواع السهول



الملامح الرئيسية لشكل الأرض من مرتفعات ومنخفضات وأودية وسهول

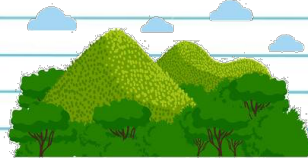
أرض مستوية وسطحها مستو وتمثل 33 % من مساحة القارات

من أنا؟



علل لما يلي (اذكر السبب)

تعد السهول من أفضل مناطق الاستقرار البشري



إعداد المعلمة

شيماء العبدالرحمن



عناصر
المناخ


ط
السهم
ي

عناصر البيئة الطبيعية
ثالثاً : المناخ

التالي

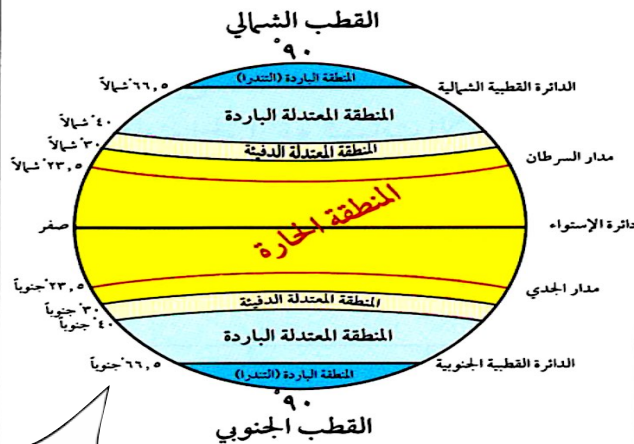


ما الإقليم
المناخي
الذي تقع
فيه دولة
الكويت



قارن بين الأقاليم المناخية
حسب ما هو مطلوب منك

الأقاليم المناخية في العالم



أوجه المقارنة	دوائر العرض	مثال	المميزات
الأقاليم الحارة			
الأقاليم المعتدلة الدافئة			
الأقاليم المعتدلة الباردة			
الأقاليم الباردة			

إعداد المعلمة

شيماء العبدالرحمن

20%

تغطي البحار والمحيطات من مساحة الكرة الأرضية


71%

ثالثاً : أنواع البيئة الطبيعية



اختر الإجابة الصحيحة من بين البدائل
ثم حول النسبة الى دائرة بيانية

فرق بين
سميزات كل
من البيئة
البحرية -
البيئة الجبلية
والبيئة
المعتدلة في
الشكل
التالي :

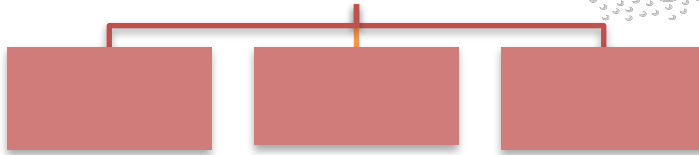


تنقسم البيئة المناخية
إلى

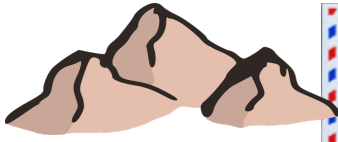


أكمل
المخططات
السهمية
التالية

لاحظ الشكل التالي ثم اجب
أي البيئات المناخية تقع دولة
الكويت

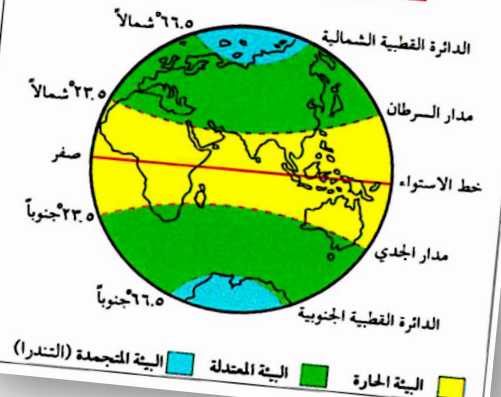


تنقسم البيئة التضاريسية
إلى



إعداد المعلمة
شيمااء العبدالرحمن

المناطق والبيئات المناخية على سطح الأرض





رتب الأحرف التالية لتصل الى
المصطلح العلمي الدال عليه
العبارات التالية

ثانياً : أثر الإنسان على البيئة

النباتات التي تخزن المياه والمواد الغذائية في
سيقانها وجذورها مثل البطاطا الحلوة

الاعتناء بالحيوانات الداجنة وتوليدها بما في ذلك الأبقار
والدجاج والماعز أو أي حيوان يستخدم كمصدر للطعام أو
الموارد

ا س ت ل ء ن س
ا ا ن د ل ر ت

مراحل تطور
علاقة الإنسان
بالبيئة

إعداد المعلمة
شيماء العبدالرحمن

أكمل العبارات التالية بما يناسبها من كلمات :

1 - المنظمة المشار اليها تسمى

2- المرحلة التي لم يكن الإنسان مؤثراً في البيئة


بشكل سلبي تسمى





عناصر النظام البيئي

ب - مكونات النظام البيئي



صح ما تحته خط في العبارات التالية بوضع الإجابة الصحيحة بين القوسين

- (1 - مجموعة النظام البيولوجي التي تستمد مقومات الإنتاج منها تسمى العناصر غير الحية)
- (2 - مجموعة النظام البيئي التي تشمل الماء والهواء والشمس والتربة تسمى العناصر الحية المحللة)
- (3 - مجموعة النظام البيئي المسؤولة عن تدهور النظام البيئي تسمى العناصر الحية المنتجة)



عرف النظام البيئي

.....
.....

علل لمجموعة العناصر الحية المحللة دور حيوي في النظام البيولوجي

.....
.....

إعداد المعلمة
شيماء عبدالرحمن



من قائل هذه
العبارة؟
.....

ان الأشجار
والغابات رئة
كوكب الأرض
ورمز للكرامة
البشرية وأنها
تقوم بدور
أساسي في
استمرارية الحياة



ج - أهمية التشجير
لكوكب الأرض



سجل على أوراق الشجر أهمية زراعة
الأشجار على كوكب الأرض

إعداد المعلمة
شيماء العبدالرحمن



اضرار
تلوث
الهواء

أولاً - التلوث
البيئي

مصادر
تلوث
الهواء

درجات التلوث

رتب الأرقام التي أمامك لتكمل الاتي

عدد الابار النفطية التي احراقها النظام
العراقي اثناء تحرير الكويت

تم إطفاء آخر بئر في

3

7

7

6

1991

11

إعداد المعلمة
شيماء العبدالرحمن

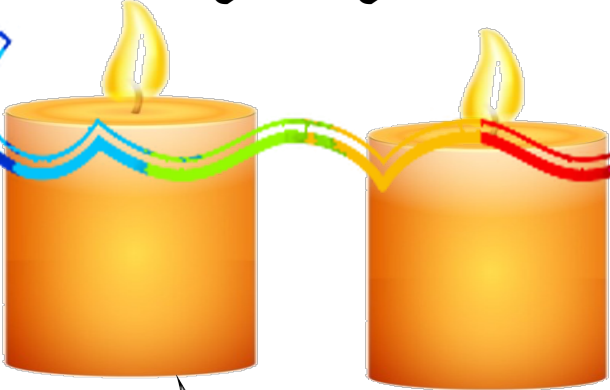


تبلغ نسبة المياه العذبة على سطح الأرض 3 % بينما
تبلغ نسبة المياه المالحة 97 %
حول النسب التالية الى دائرة بيانية


أكتب المصطلح أو المفهوم الدال عليه
العبارات التالية

1 - (.....) درجة التلوث التي لا يتأثر
بها التوازن البيئي في النظام الايكولوجي ولا يكون مصحوبا
بأي أخطار بيئية

2 - (.....) كل تغير في طبيعة الماء
وخواصه الطبيعية بحيث يصبح غير صالح للكائنات الحية



إعداد المعلمة
شيماء العبدالرحمن



ب - التلوث
المائي



عدد مصادر التلوث المائي

1

2

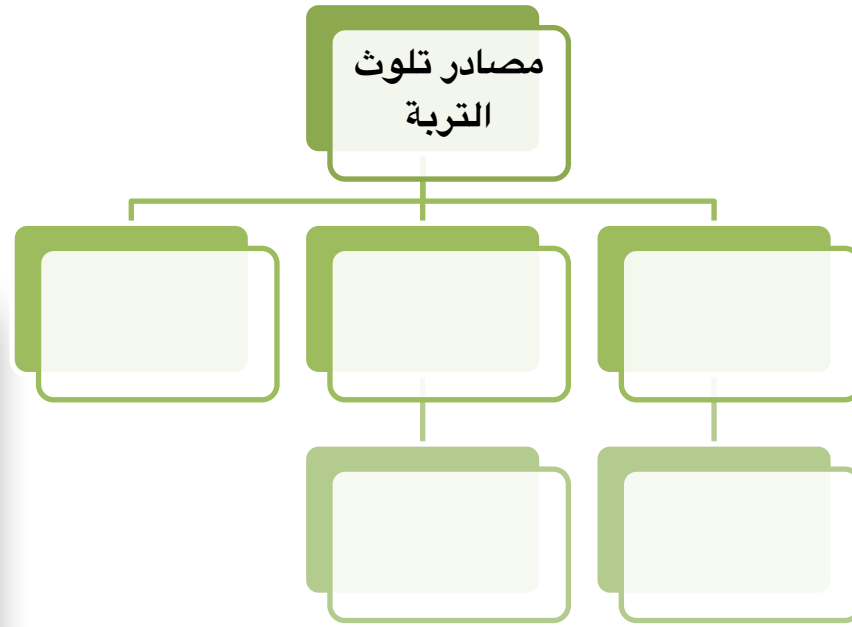
3

4

اقترح حلاً لمشكلة التلوث
المائي



اجمع الكلمات المبعثرة
على البالون لتصل الى
مفهوم تلوث التربة





سجل مصادر التلوث الضوضائي واقتراح حلول لعلاج هذه المصادر

اقتراح حلول
التلوث
الضوضائي

مصادر
التلوث
الضوضائي



التلوث
الضوضائي



--	--	--	--

أضرار التلوث الضوضائي




وحدة قياس ضغط
الصوت
تسمى



إعداد المعلمة
شيماء العبدالرحمن



عرفي التصحر



للأرض قيمة حقيقية. استثمرها.


أسباب مشكلة

بشرية

طبيعية



إعداد المعلمة
شيماء العبدالرحمن



أسباب التصحر
في دولة الكويت




صنف
درجات
التصحر
حسب
مؤتمر
نيروبي
على
حبات
الفشار



ما النتائج المترتبة على
تعاني الكويت من التصحر
في فصل الصيف


إعداد المعلمة
شيماء العبدالرحمن

مصادر المياه
ألى قسمين



22 March
WORLD
Water
DAY

ثالثاً: ندرة المياه



أسباب ندرة

المياه

مظاهر ندرة المياه

في العالم



إعداد المعلمة
شيماء العبدالرحمن

عرف الأمن المائي

.....
.....
.....



تنقسم ندرة المياه الى قسمين

أسباب ندرة المياه بدول مجلس التعاون
الخليجي

.....
.....
.....
.....
.....
.....

عرف ندرة المياه

.....
.....
.....

إعداد المعلمة

شيمااء العبدالرحمن

كيفية المحافظة على المياه

.....
.....
.....
.....
.....



الغاز الرئيسي
المتسبب في ظاهرة
الاحتباس
الحراري

رابعاً : الاحتباس
الحراري



MENU

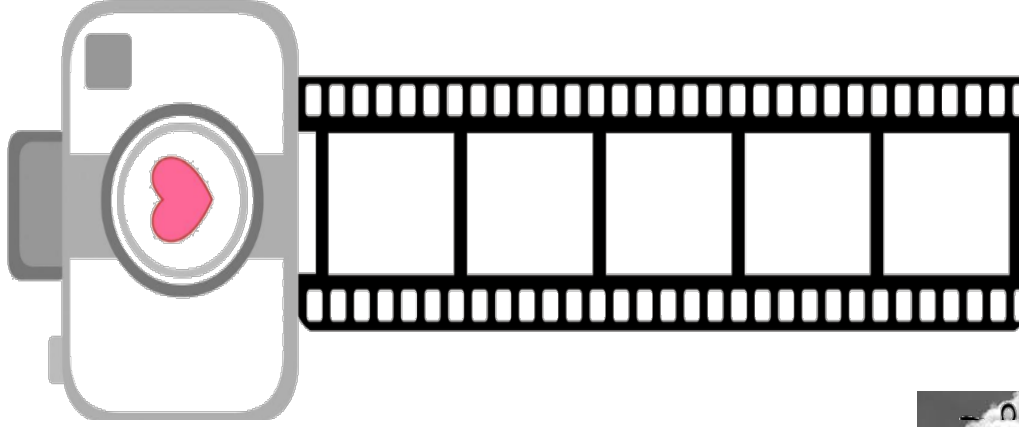
سجل اسباب
الاحتباس
الحراري على
البطاقات الملونة

عرف
الاحتباس
الحراري


إعداد المعلمة
شيماء العبدالرحمن



اجمع داخل الجرة مظاهر
الاحتباس الحراري
بكوكب الأرض




اقترحي اثنان من الحلول
لعلاج ظاهرة الاحتباس
الحراري



الحلول الفردية

الحلول الدولية



إعداد المعلمة
شيماء العبدالرحمن

عرف
العلاقات
الدولية



عدد اشكال
العلاقات بين الدول

العلاقات
الدولية



فرق بين التواصل
المباشر وغير
مباشر الدول

التواصل غير
المباشر

التواصل
المباشر

إعداد المعلمة
شيما العبدالرحمن



أشكال العلاقات الدولية
أولاً : العلاقات
السياسية


العوامل المؤثرة
على العلاقات
السياسية بين
الدول

ما المقصود
بالسياسة الدولية ؟

أدوات تنفيذ السياسة
الخارجية



إعداد المعلمة
شيما العبد الرحمن



*علل (اذكر السبب)
نشأة الحركة
التجارية بين الدول

العلاقات
الاقتصادية

ثانيا

إننا نتطلع إلى مزيد من العمل المشترك في
المنظمات الإقليمية والدولية لتحقيق
الاهداف التي نؤمن بها معا لتحقيق عالم
يسوده الأمن و الاستقرار وتحقيق فيه
تنمية مستدامة

سجل العوامل
المؤثرة في
العلاقات
الاقتصادية الدولية


اذكر مميزات وعيوب
التجارة الدولية

من صاحب
المقولة التالية

إعداد المعلمة
شيماء العبدالرحمن

عيوب التجارة الدولية

مميزات التجارة الدولية



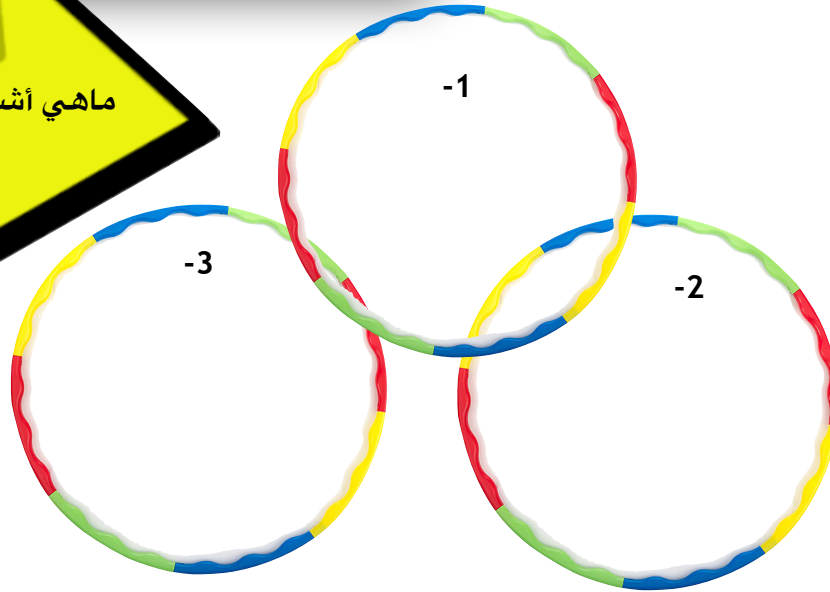
ما القصود بالعلاقات
الاجتماعية الدولية

.....

.....

.....

ثالثا
العلاقات
الاجتماعية



ماهو اسم
الوكالة التي
تحمل هذا
الشعار؟

ماهو عملها؟

.....

.....

.....

إعداد المعلمة
شيماء العبدالرحمن

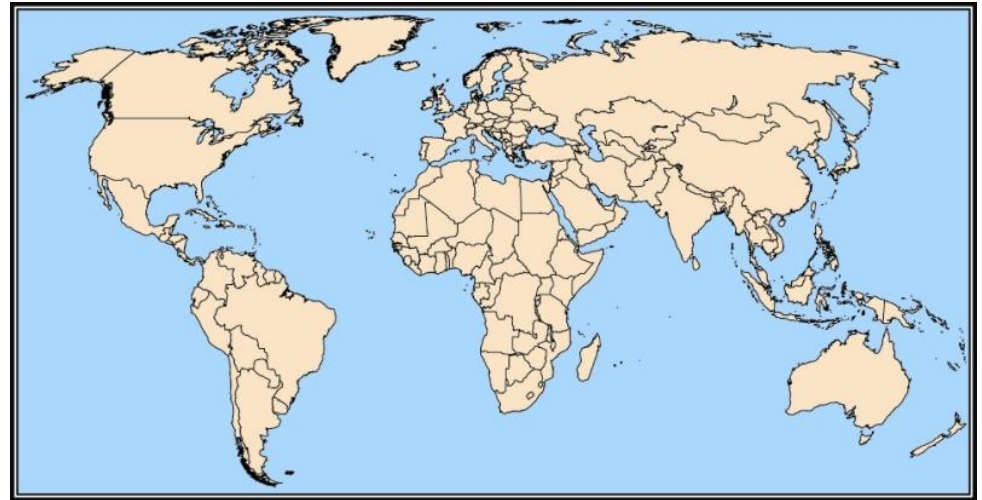


رابعاً

العلاقات الثقافية



هي احدى اهم المنظمات الدولية
التي تهدف إلى المساهمة في رفع
مستوى التعاون بين دول العالم في
مجال التربية والتعليم و الثقافة من
هي؟ 🤔



دور دولة الكويت في الميدان الثقافي

3

2

1

إعداد المعلمة
شيماء العبدالرحمن