

(مراجعة)  
(الصف التاسع) (2016م - 2017م)

**(أ) أكمل العبارات التالية:**

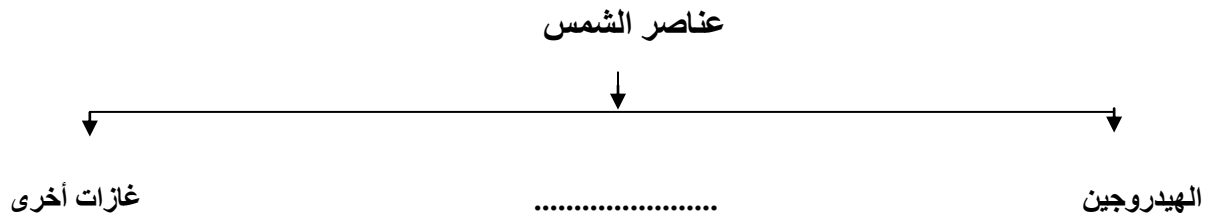
1. المجرة التابعة لكوكب الأرض تسمى .....
2. خط وهمي على سطح الأرض منه يبدأ اليوم وفيه ينتهي يسمى .....
3. تدور الأرض حول الشمس من الغرب الى الشرق في مدار .....
4. للأرض تابع طبيعي واحد يسمى .....
5. الكوكب الوحيد الذي تعيش فيه الكائنات الحية يسمى .....
6. للقمر ثلاث دورات محورية حول نفسه وحول الأرض وحول .....
7. ارض مرتفعة قبابية تمثل 14% من مساحة القارات تسمى .....
8. يصل المد الى أعلى درجته في .....
9. أفضل مناطق استقرار للبشر وتمثل 41% من مساحة القارات تسمى .....
10. تتكون الشمس من عنصرين أساسيين هما الهيدروجين و.....

**(ب) عرف المفاهيم التالية :**

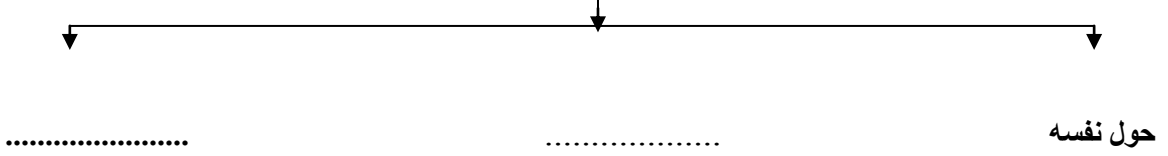
1. المجرة : .....
2. النجم : .....
3. السدم : .....
4. الكون : .....

5. اهليلجى : .....
6. الشمس : .....
7. الخسوف : .....
8. الحضيض : .....
9. الاوج : .....
10. الكسوف : .....
11. السيلال : .....
12. السيمال : .....
13. التضاريس : .....
14. الغلاف الصخرى : .....
15. الغلاف المائى : .....
16. الغلاف الحيوى : .....
17. القمر : .....
18. الهضبة : .....
19. الغلاف الجوى : .....

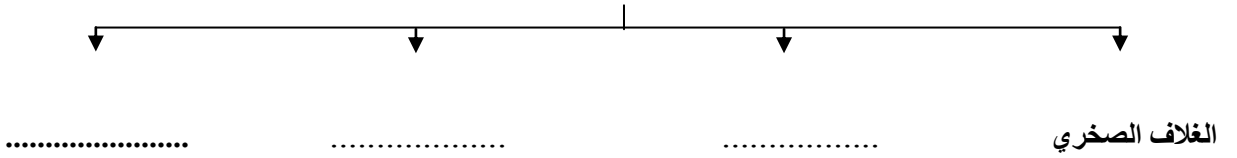
**(ج) اجب عن المخططات السهمية التالية :**



### دورات القمر



### أغلفة سطح الأرض



### (د) علل لما يلي (اذكر السبب) :

(1) وجود الحياة على كوكب الأرض .

..... \*

(3) تعرض خط التاريخ الدولي .

..... \*

(4) حدوث ظاهرتي المد والجزر .

..... \*

(5) في اقليم الصحارى يكون الغطاء النباتي مبعثراً وقليلاً .

..... \*

(6) اختلاف سرعة الدوران فوق سطح الارض .

..... \*

(7) القمر يضيئ ليلاً مع انه جسم معتم .

..... \*

(8) عدم وجود حياة على سطح القمر .

..... \*

(9) تنوع الاقاليم الحيوية فى العالم .

..... \*

(10) تعيش الحيوانات المتسلقة فى اقليم الغابات .

..... \*

(11) حدوث ظاهرة الخسوف .

..... \*

(12) للقمر اوجه مختلفة ومنازل متعددة .

..... \*

(13) حدوث ظاهرة الكسوف .

..... \*

(14) الحيوانات الضخمة لا تعيش فى اقليم الغابات .

..... \*

WWW.KweduFiles.Com

(15) يرى الانسان وجه واحد للقمر ويظل الوجه الاخر مختفياً .

..... \*

(16) حيوانات اقليم الحشائش تتميز بقدرتها على الجرى السريع .

..... \*

**( ه ) اجب عن الاسئلة التالية :**

1- أهمية الغلاف الجوى .

..... \*

..... \*

2- أهم نتائج الدورة المحورية للأرض .

..... \*

..... \*

3- أهم مميزات القمر .

..... \*

..... \*

4- أسباب انعدام الحياة على سطح القمر .

..... \*

..... \*

5- أهم نتائج دوران الأرض حول الشمس .

..... \*

..... \*

6- أهم الكواكب الداخلية في المجموعة الشمسية .

..... \*

..... \*

7- أذكر أهم منازل القمر من بداية الشهر العربي حتى نهايته .

..... \*

..... \*

8- اذكر أهم نتائج الدورة الاهليلجية للأرض حول الشمس .

..... \*

..... \*

9- أهم الأقاليم الحيوية في العالم .

..... \*

..... \*

(و) قارن بين خطوط الطول ودوائر العرض

دوائر العرض	خطوط الطول	وجه المقارنة
.....	.....	العدد
.....	.....	تقسيمها للأرض
.....	.....	خط الأساس

WWW.KweduFiles.Com