

تم تحميل هذا الملف من موقع ملفات الكويت التعليمية



[com.kwedufiles.www//:https](https://www.kwedufiles.com)

*للحصول على أوراق عمل لجميع الصفوف وجميع المواد اضغط هنا

* للحصول على أوراق عمل لجميع مواد الصف التاسع اضغط هنا

<https://kwedufiles.com/9>

* للحصول على جميع أوراق الصف التاسع في مادة اجتماعيات وجميع الفصول, اضغط هنا

<https://kwedufiles.com/9social>

* للحصول على أوراق عمل لجميع مواد الصف التاسع في مادة اجتماعيات الخاصة بـ الفصل الأول اضغط هنا

<https://www.kwedufiles.com/9social1>

* لتحميل كتب جميع المواد في جميع الفصول للصف التاسع اضغط هنا

<https://www.kwedufiles.com/grade9>

[bot_kwlinks/me.t//:https](https://t.me/bot_kwlinks)

للحصول على جميع روابط الصفوف على تلغرام وفيسبوك من قنوات وصفحات: اضغط هنا

الروابط التالية هي روابط الصف التاسع على مواقع التواصل الاجتماعي

مجموعة الفيسبوك

صفحة الفيسبوك

مجموعة التلغرام

بوت التلغرام

قناة التلغرام

رياضيات على التلغرام

تقويم الوحدة الأولى

هنري

أولاً: أكمل العبارات التالية بما يناسبها: -

- ١ - العالم الذي استخدم علم البيئة الطبيعية كمفهوم جديد يدرس في الجامعات يسمى **ديسيفليند**.
- ٢ - خط الأساس لخطوط الطول يسمى **جرينتش**...
- ٣ - خط طول ١٨٠° والذي يبدأ منه اليوم يسمى **التاريخ الدولي**.
- ٤ - تقع دولة الكويت بين دائرتي عرض **28-30** شمال خط الاستواء.
- ٥ - تقع دولة الكويت بالنسبة لقارة آسيا جهة **الجنوب** الغربي.
- ٦ - تقع دولة الكويت بالنسبة لشبه الجزيرة العربية جهة **الشمال** الشرقي.
- ٧ - تقع دولة الكويت بالنسبة للخليج العربي جهة **الشمال** الغربي.
- ٨ - أول رياضي عربي تسلق قمة إفرست اسمه **زيد السيد الرفاعي**.
- ٩ - تعرضت دولة الكويت لأمطار غزيرة وعرفت بسنة الهدامة الأولى عام **1934** م.
- ١٠ - تعرضت دولة الكويت لأمطار غزيرة استمرت لمدة أسبوع أدت إلى تعطيل جميع الجهات الحكومية عام **2008** م.


ثانياً: أكمل المخططات السهمية التالية بما يناسبها: -

١ - أقسام البيئة

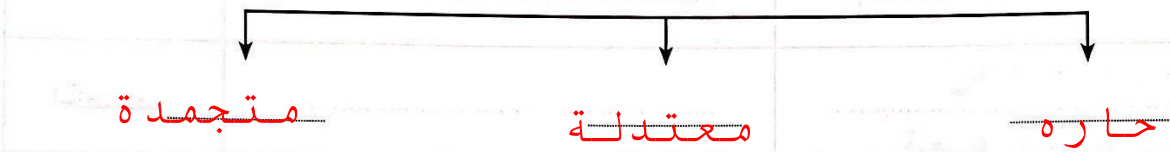
الغير حية

حية

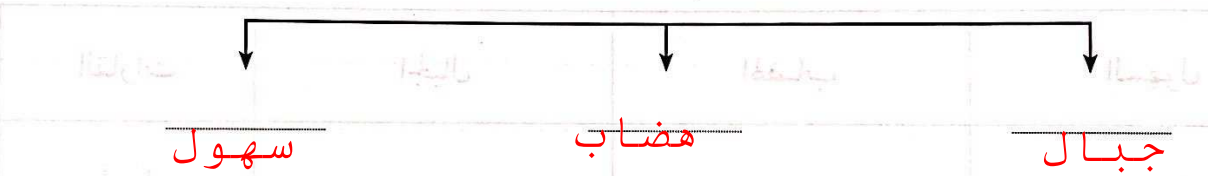
٢ - أقسام البيئة التضاريسية




٣ - أقسام البيئة المناخية



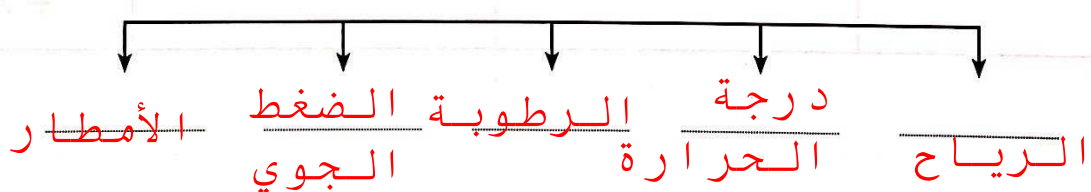
٤ - أقسام التضاريس (٥١) لأقسام التضاريس



٥ - أنواع السهول



٦ - عناصر المناخ



ثالثاً: أكمل الجداول التالية حسب ما هو مطلوب في كل جدول: -

١ - قارن بين كل من:

دوائر العرض	خطوط الطول	أوجه المقارنة
خط الاستواء	جرينتش	خط الأساس
180	360	العدد
ص 19	ص 18	الخصائص
تحديد الاقاليم المناخية	تحديد الزمن	الأهمية

لاحظ خريطة العالم شكل (١٥)، وأكمل الجدول التالي:

السهول	الهضاب	الجبال	القارات
سيبيريا	هضبة نجد	الهيماالايا	آسيا
سهل نهر النيل	اثيوبيا	جبال اطليس	أفريقيا
الاوروبي العظيم	بافاريا	الالب	أوروبا
السهول الوسطى	الدرع الكندي	روكي	أمريكا الشمالية
السلفاس	البرازيل	الانديز	أمريكا الجنوبية
دارلنج	كمبرلي	الاسترالية الشرقية	أستراليا

قارن بين الأقاليم المناخية حسب ما هو مطلوب: **تباينات لدرجات الحرارة بين الأقاليم:**

المميزات	مثال	دوائر العرض	الأقاليم المناخية
ص 27	الاستوائي البحر المتوسط	30-0	الأقاليم الحارة
ص 28	غرب أوروبا	40-30	الأقاليم المعتدلة الدفيئة
	التندرا	60-40	الأقاليم المعتدلة الباردة
		90-60	الأقاليم الباردة

رابعاً: اكتب ما تعرفه عن:

١ - مميزات البيئة الطبيعية.

٣- توفير موارد طبيعية

التوازن البيئي

العلاقة التبادلية بين عناصر البيئة

٤- وحدات بيئية كاملة

٢ - مميزات البيئة البحرية.

الحفاظ على التوازن البيئي للأرض

توفير الثروات المعدنية والنباتية والسمكية

٣- توفير طرق المواصلات

٣ - مميزات البيئة الجبلية.

تخزين المياه الطبيعية

٣- بيئية للسياحة

تعتبر بيئة طبيعية للحياة البرية

٤ - مميزات البيئة المعتدلة.

تنوع الحياة النباتية والحيوانية وأكثر

ازدياد السبساء والاستقرار

إمكانية إقامة النشاط الزراعي والصناعي فيها

٤- ممارسة العديد من الأنشطة

٥ - العوامل المؤثرة في التضاريس.

الرياح

٤- النباتات

الأمطار

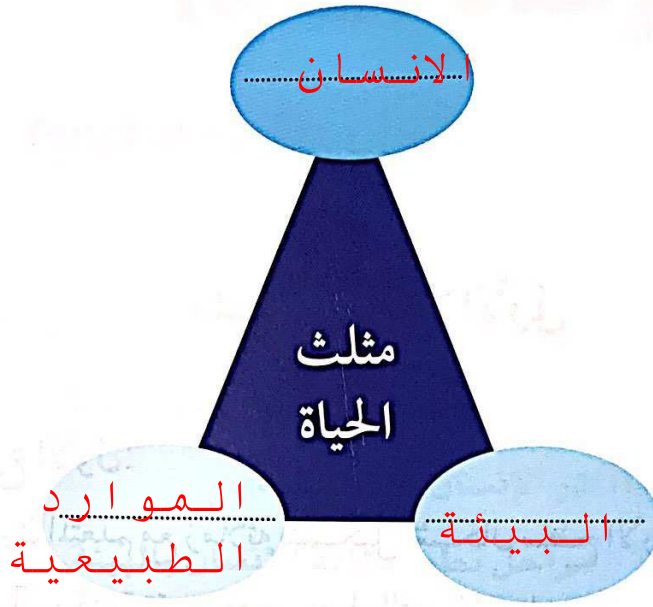
٥- الإنسان

الحرارة

خامساً: عرف المفاهيم والمصطلحات التالية:

الإطار الذي يعيش فيه الإنسان ويحصل فيه على مقومات حياته	١ - بيئة:
كل ما يحيط بالإنسان من ظاهرات حية وغير حية ليس للإنسان أي دخل في وجودها	٢ - بيئة طبيعية:
هو التفاعل المستمر بين مكونات البيئة الذي يحفظ استقرارها النسبي في زمن محدد	٣ - توازن بيئي:
هو موقع الدولة بالنسبة لخطوط الطول ودوائر العرض	٤ - موقع فلكي:
هو موقع الدولة في مكان معين	٥ - موقع مكاني:
هو موقع الدولة بالنسبة لليابس والماء	٦ - موقع نسبي:
العلامح الرئيسية لشكل سطح الأرض	٧ - تضاريس:
هي كل مرتفع من الأرض وله قمة لا يقل ارتفاعها عن 1000 متر	٨ - جبال:
أرض مرتفعة وسطها مستو	٩ - هضاب:
مساحة كبيرة من سطح الأرض تتميز باستوائها	١٠ - سهول:
مساحة من الأرض ذات خصائص مناخية متشابهة وتمييزة عن غيرها	١١ - أقاليم مناخية:

سادساً: عدد أضلاع مثلث الحياة في الشكل المقابل.



سابعاً: علل لما يلي:

- ١ - تعد البيئة المعتدلة من أفضل البيئات للعيش على وجه الكرة الأرضية.
- ممارسة العديد من الأنشطة
- تنوع الحياة النباتية والحيوانية أكثر من غيرها
- ٢ - تعد السهول من أفضل مناطق الاستقرار البشري.
- تعتبر موانئ طبيعية
- سهولة بناء المساكن عليها
- تركز السكان فيها لسهولة التنقل

ثامناً: حول النسب التالية إلى دوائر بيانية بألوان مختلفة وضع عنواناً مناسباً لها.

١ - الجبال ١٢٪

٢ - الهضاب ٣٣٪

٣ - السهول ٤١٪

العنوان: