

تم تحميل هذا الملف من موقع المناهج الإماراتية



* للحصول على أوراق عمل لجميع الصفوف وجميع المواد اضغط هنا

<https://almanahj.com/ae>

* للحصول على أوراق عمل لجميع مواد الصف الثاني عشر المتقدم اضغط هنا

<https://almanahj.com/ae/15>

* للحصول على جميع أوراق الصف الثاني عشر المتقدم في مادة فيزياء ولجميع الفصول, اضغط هنا

<https://almanahj.com/ae/15physics>

* للحصول على أوراق عمل لجميع مواد الصف الثاني عشر المتقدم في مادة فيزياء الخاصة بـ الفصل الأول اضغط هنا

<https://almanahj.com/ae/15physics1>

* لتحميل كتب جميع المواد في جميع الفصول للـ الصف الثاني عشر المتقدم اضغط هنا

<https://almanahj.com/ae/grade15>

* لتحميل جميع ملفات المدرس محمود عوض اللّاه اضغط هنا

للحصول على جميع روابط الصفوف على تلغرام وفيسبوك من قنوات وصفحات: اضغط هنا

https://t.me/UAElinks_bot



47 روح الاتحاد
SPIRIT OF THE UNION
اليوم الوطني
NATIONAL DAY
الإمارات العربية المتحدة
UNITED ARAB EMIRATES



وزارة التربية والتعليم
MINISTRY OF EDUCATION



أسئلة تدريبية

امتحان الفصل الدراسي الأول
الاجابة النموذجية
2019/2018

الفيزياء

- Unit-1 - القوى الكهروستاتيكية
- Unit-2 - المجالات الكهربائية وقانون جاوس
- Unit-3 - الجهد الكهربائي
- Unit-4 - المكثفات

اعداد: محمود عوض الله

الأسئلة لا تغني عن الكتاب وأسئلته

السؤال الأول:

اختر أنسب تكلمة لكل مما يلي ثم ضع في المربع أمامها إشارة (✓)

1. أي القيم التالية يُمكن أن تكون كمية لشحنة جسم ما بوحدة الكولوم؟

- 3.2×10^{-20} -1.6×10^{-20}
- 0.8×10^{-20} 64×10^{-20}

2. في ذرة الهيليوم كغاز تحوي الكترونين وبروتونين ونيوترونين فإن عدد الكواركات السفلية والعلوية فيها

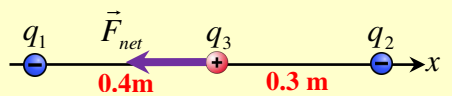
- 4 كوارك علوي و 2 كوارك سفلي
- 3 كوارك علوي و 3 كوارك سفلي
- 6 كوارك علوي و 6 كوارك سفلي
- 2 كوارك علوي و 4 كوارك سفلي

3. ذلك ساق من البلاستيك بقطعة صوف فأكتسب الساق الكترونات عددها 8×10^{20} الكترون وأصبح مشحوناً ، فإن شحنة قطعة الصوف تساوي يمكن

- $+5 \times 10^{39} C$ $-128 C$
- $-2 \times 10^{-40} C$ $+128 C$

4. شحنتان نقطيتان البعد بينهما 2 والقوة الكهربائية المتبادلة بينهما 3 نيوتن فإذا أصبحت القوة بين الشحنتين 15 نيوتن دون تغير في كمية الشحنتين فإن معامل التغير في المسافة بين الشحنتين هو

- 1.66 0.447
- 1.29 0.60

5. ثلاثة شحنات مرتبة على خط مستقيم ، ما الذي تشير اليه محصلة القوة المؤثرة على q_3 بخصوصمقدار الشحنات q_1 و q_2 

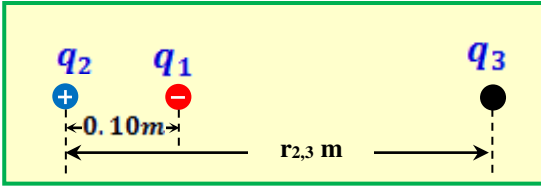
$|q_1| = |q_2|$

$|q_1| > |q_2|$

$|q_1| < |q_2|$

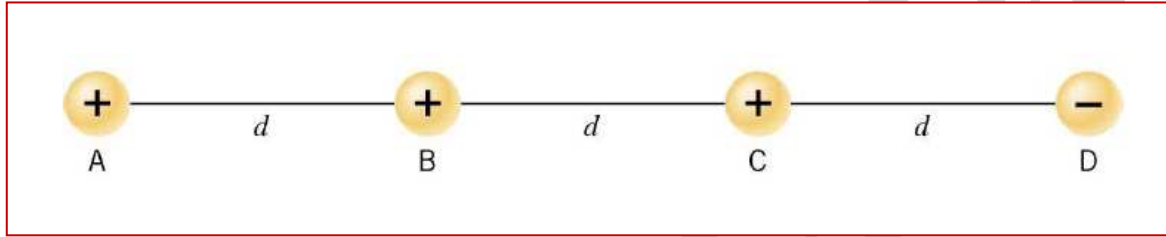
$|q_1| = \frac{1}{2}|q_2|$

6. في الشكل المجاور الشحنات النقطية الثلاث موضوعة في الفراغ، إذا كانت $q_3 = 4q_2$ ، وكانت محصلة القوى الكهربائية المؤثرة في الشحنة q_1 تساوي صفراً، فما البعد بين الشحنتين q_2 و q_3



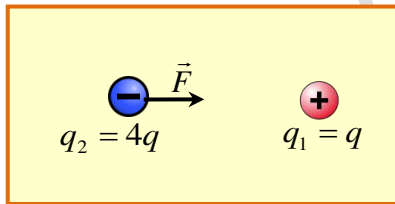
- 0.3m 0.2m
0.5m 0.4m

7. أربع شحنات نقطية متساوية بالمقدار ثلاثة موجبات وواحدة سالبة موضوعة على خط واحد كما بالشكل، البعد بين كل شحنتين d ، أي من هذه الشحنات تكون محصلة القوة الكهروستاتيكية عليها هي الأكبر مقداراً وأي منها تكون محصلة القوة الكهروستاتيكية الأقل مقداراً.



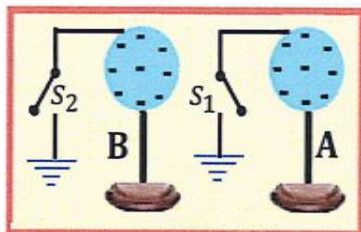
- الأكبر محصلة قوة على الشحنة D والأقل محصلة قوة على الشحنة C
 الأكبر محصلة قوة على الشحنة C والأقل محصلة قوة على الشحنة A
 الأكبر محصلة قوة على الشحنة C والأقل محصلة قوة على الشحنة B
 الأكبر محصلة قوة على الشحنة A والأقل محصلة قوة على الشحنة B

8. تؤثر الشحنة q_1 في الشحنة q_2 بقوة كهربائية F بالاتجاه المبين في الشكل المجاور. أي صفوف الجدول الآتي يبين مقدار واتجاه القوة الكهربائية المؤثرة في الشحنة q_1 ؟



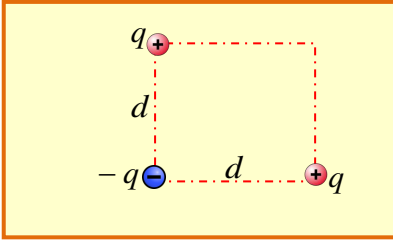
اتجاه القوة	مقدار القوة	
نحو اليمين	F	<input type="checkbox"/>
نحو اليسار	F	<input checked="" type="checkbox"/>
نحو اليمين	$4F$	<input type="checkbox"/>
نحو اليسار	$4F$	<input type="checkbox"/>

9. الشكل المجاور يبين جسمين مشحونين أحدهما الموصل A والآخر عازل B فإن الحالة الكهربائية لهما بعد غلق المفتاحين S_1 و S_2 (يعني ما شحنة كل منهما بعد غلق المفتاحين، تصبح موجبة او سالبة او متعادلة)



العازل B	الموصل A	
موجبة	متعادلة	<input type="checkbox"/>
سالبة	سالبة	<input type="checkbox"/>
سالبة	متعادلة	<input checked="" type="checkbox"/>
متعادلة	موجبة	<input type="checkbox"/>

10. يوضح الشكل المجاور ثلاثة شحنات متماثلة موضوعة عند زوايا مربع طول ضلعه (d) ، مقدار القوة الكهربائية المؤثرة على الشحنة السالبة السفلية نحو اليسار؟



$$\frac{2kq^2}{d^2} \quad \square$$

$$\frac{kq^2}{\sqrt{2}d^2} \quad \square$$

$$\frac{kq^2}{d^2} \quad \square$$

$$\frac{kq^2}{d^2} \sqrt{2} \quad \checkmark$$

11. في المسألة السابقة ان اتجاه محصلة القوة الكهربائية المؤثرة في الشحنة الموجبة السفلية نحو اليمين تكون.



12. وحدة قياس ثابت السماحية الكهربائية تكافئ

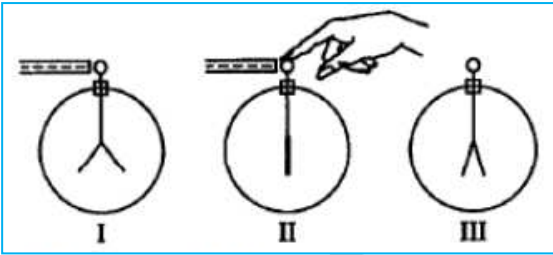
$$N.m^3.C^{-2} \quad \square$$

$$kg.m^3.s^{-4}.A^{-2} \quad \square$$

$$N.m^{-3}.C^{-2} \quad \square$$

$$s^4.A^2m^{-3}.kg^{-1} \quad \checkmark$$

13. كشف كهربائي غير مشحون ومعزول في الحالة I قرب منه جسم مشحون بشحنة سالبة دون تلامس وبالحالة الثانية II تم لمس قرص الكشاف والمؤثر موجود ثم ابعد كل من اليد والمؤثر بناء عليه فإن ورقتي الكشاف تكون شحنتها



موجبة في الحالتين II و III

سالبة في الحالتين I و III

موجبة في الحالة II وسالبة في الحالة III

سالبة في الحالة I وموجبة في الحالة III

14. وضع الكترول حرك الحركة داخل مجال كهربائي منتظم . ودون ان يكون هناك اجسام اخرى تؤثر عليه فإن الالكترول

يتحرك بسرعة ثابتة وباتجاه معاكس للمجال الكهربائي

يتحرك بعجلة ثابتة وباتجاه معاكس لاتجاه المجال الكهربائي

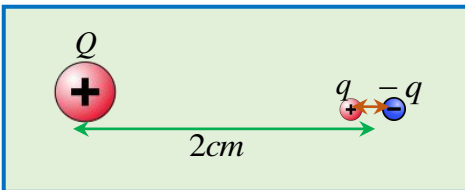
يتحرك بسرعة ثابتة وباتجاه المجال الكهربائي

يتحرك بعجلة ثابتة وباتجاه المجال الكهربائي

15. ثنائي القطب مقدار شحنة كل من شحنتيه $q = |0.21\mu C|$ والبعد بين شحنتيه $d = 1mm$ وضعت

شحنة موجبة قدرها $Q = +9.7\mu C$ على بعد $2cm$ عن مركز محور ثنائي القطب. ما مقدار محصلة

القوة المؤثرة على ثنائي القطب.



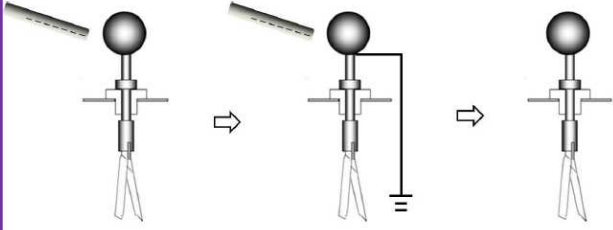
$$87N \quad \square$$

$$0.0N \quad \square$$

$$4.3N \quad \checkmark$$

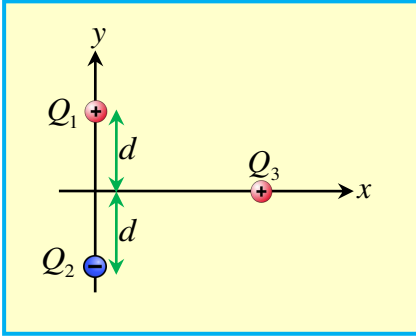
$$1.8N \quad \square$$

16. الشكل المجاور يمثل كشاف كهربائي غير مشحون، قرب منه ساق مشحون بشحنة سالبة دون ان يلامس قرص الكشاف، ثم وصل الكشاف بالارض مع بقاء الساق. فصل الكشاف عن الارض ثم ابعد الساق عن الكشاف. أي العبارات التالية **خاطئة**



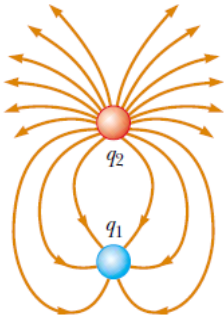
- تتحرك الشحنات السالبة من الكشاف الى الارض.
 ورقتي الكشاف تشحن بشحنة سالبة.
 يشحن الكشاف بشحنة موجبة.
 تنفرج ورقتي الكشاف بشحنتين من نفس النوع

17. الشكل المجاور، وضعت ثلاثة شحنات لها نفس المقدار الشحنتان Q_1 و Q_3 موجبتان والشحنة Q_2 سالبة. ما اتجاه محصلة القوة المؤثرة على الشحنة الثالثة Q_3 ؟



- باتجاه محور y السالب.
 باتجاه محور y الموجب.
 باتجاه محور x السالب.
 باتجاه محور x الموجب

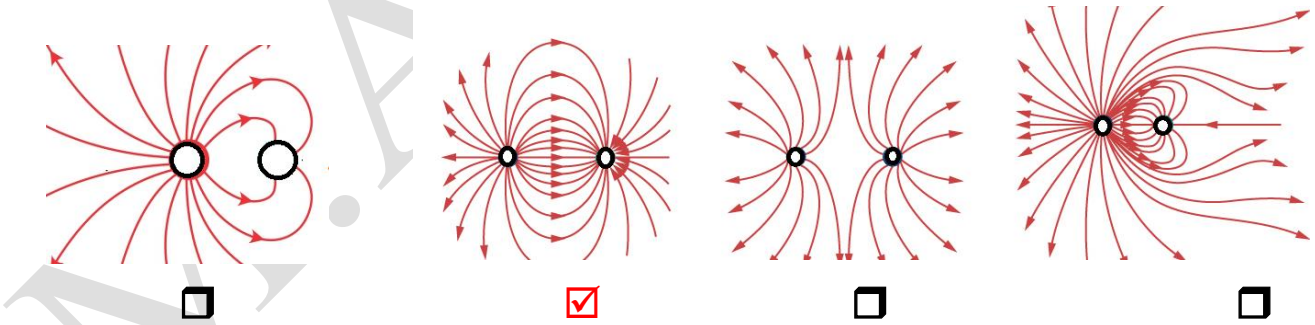
18. من خلال الشكل المجاور لشحنتين نقطيتين، اذا علمت أن القيمة المطلقة



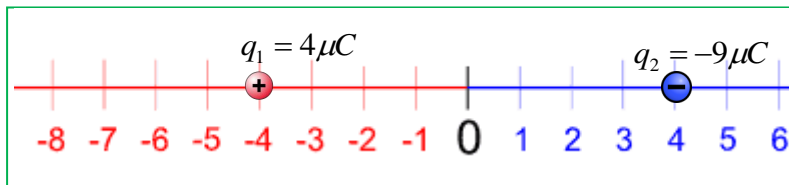
للشحنة $q_2 = |6\mu C|$ فإن الشحنة q_1 تساوي

- $-3\mu C$
 $-2\mu C$
 $+18\mu C$
 $+9\mu C$

19. من الاشكال المجاور تمثل خطوط مجال كهربائي. اي من هذه الاشكال تمثل المجال الكهربائي الناشئ عن ثنائي القطب؟

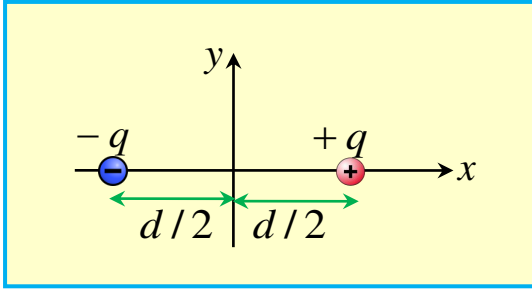


20. الشكل المجاور يمثل خط الاعداد على المحور $x(m)$ ، إن **موقع** نقطة انعدام المجال الكهربائي على خط الاعداد عند الموقع



- $x = -8.0m$
 $x = +16m$
 $x = -12m$
 $x = -20m$

21. ثنائي القطب يقع على المحور x ، البعد بين شحنتيه d ، ان شدة المجال الكهربائي عند نقطة تقع على مركز محور ثنائي القطب تساوي



$E = 4 \frac{kq}{d^2}$ باتجاه محور x السالب

$E = 2 \frac{kq}{d^2}$ باتجاه محور x الموجب

$E = 8 \frac{kq}{d^2}$ باتجاه محور x السالب

$E = 8 \frac{kq}{d^2}$ باتجاه محور x الموجب

22. وضع ثنائي القطب داخل سطح جاوسي فإن التدفق الكهربائي الذي يجتاز السطح بوحدة

$N.m^2.C^{-1}$ يساوي

$\frac{+2q}{\epsilon_0}$

$\frac{-2q}{\epsilon_0}$

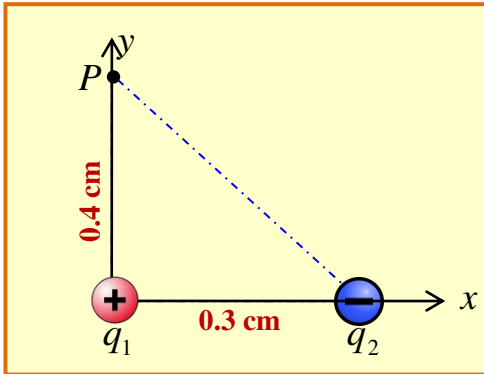
0.0

$\frac{\pm q}{\epsilon_0}$

23. شحنتان $q_1 = 7\mu C$ والأخرى $q_2 = -5\mu C$ وضعتا على المحور x كما هو مبين بالشكل. احسب

شدة المجال الكهربائي عند النقطة P الواقعة على المحور y

بدلالة متجهات الوحدة



$E = 2.5 \times 10^5 \hat{i} + 2.2 \times 10^5 \hat{j}$

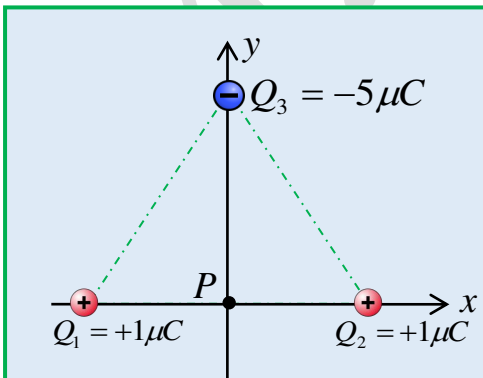
$E = 1.1 \times 10^5 \hat{i} + 2.5 \times 10^5 \hat{j}$

$E = 2.2 \times 10^5 \hat{i} - 2.5 \times 10^5 \hat{j}$

$E = 1.2 \times 10^5 \hat{i} - 2.5 \times 10^5 \hat{j}$

24. بالاعتماد على البيانات على الشكل المجاور مثلث متساوي الأضلاع طول ضلعه $2cm$ فإن شدة

المجال الكهربائي عند النقطة P يساوي



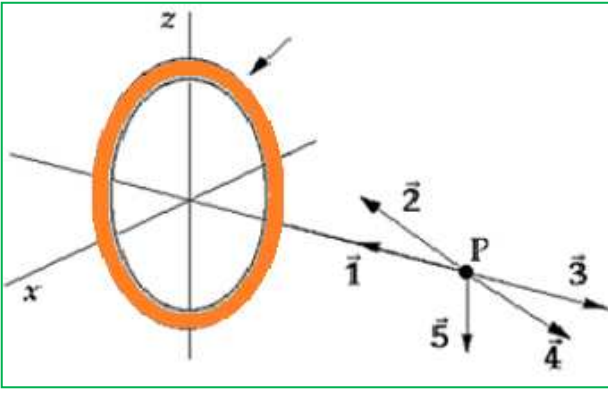
$1.35 \times 10^7 N/C$ باتجاه محور x الموجب

$5.39 \times 10^8 N/C$ باتجاه محور y الموجب

$1.50 \times 10^8 N/C$ باتجاه محور y الموجب

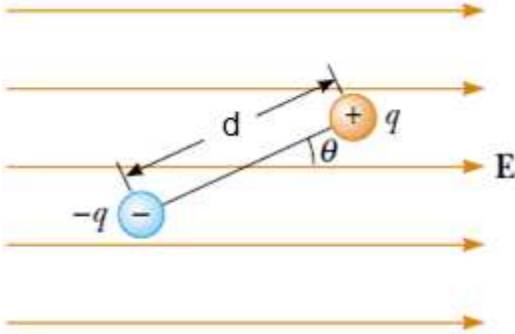
$1.50 \times 10^8 N/C$ باتجاه محور y السالب

25. الشكل المجاور حلقة مشحونة بشحنة سالبة، إن اتجاه المجال الكهربائي الصحيح عند النقطة P



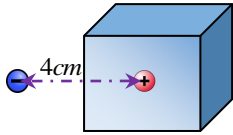
- $\vec{1}$
- $\vec{2}$
- $\vec{3}$
- $\vec{4}$
- $\vec{5}$

26. الشكل المجاور يحوي مجال كهربائي منتظم شدته $100N/C$ وباتجاه محور x الموجب. وشحنتان متساويتان بالمقدار ومختلفتان بالنوع تمثلان ثنائي القطب، إذا كان عزم الدوران لثنائي القطب لهما يساوي $3.0 \times 10^{-6} N.m$ والزاوية $\theta = 68^\circ$ فاحسب مقدار عزم ثنائي القطب p وحدد اتجاه دورانه.



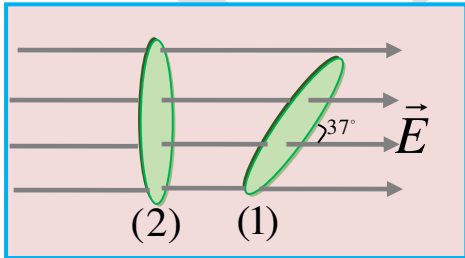
اتجاه الدوران	مقدار عزم ثنائي القطب	
مع اتجاه عقارب الساعة	$3.23 \times 10^{-8} C.m$	<input checked="" type="checkbox"/>
مع اتجاه عقارب الساعة	$7.4 \times 10^{-8} C.m$	<input type="checkbox"/>
مع اتجاه عقارب الساعة	$8.0 \times 10^{-8} C.m$	<input type="checkbox"/>
عكس اتجاه عقارب الساعة	$3.23 \times 10^{-8} C.m$	<input type="checkbox"/>

27. مكعب طول ضلعه $2cm$ اجوف وموصل وغير مشحون، وضع عند مركزه شحنة موجبة قدرها $4nC$ ووضعت شحنة سالبة $-8nC$ قدرها خارج المكعب على بعد $4cm$ من مركز المكعب فإن القوة الكهربائية المؤثرة على الشحنة الموضوعة عند مركز المكعب تساوي



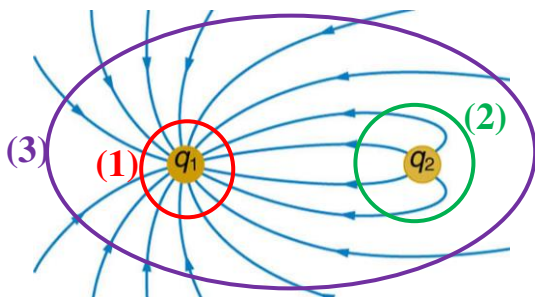
- $3.2 \times 10^{-4} N$
- $1.8 \times 10^{-4} N$
- $0.0N$
- $7.2 \times 10^{-4} N$

28. وضع سطح يميل بزاوية 37° عن مجال كهربائي منتظم (الوضع 1)، فكان التدفق الذي يجتاز السطح يساوي $3 \times 10^{-6} N.m^2 / C$ ، فإذا أصبح السطح عمودياً على المجال الكهربائي (الوضع 2) فإن التدفق الكهربائي الذي يجتاز نفس السطح بالوضع 2 يساوي




- $3.75 \times 10^{-6} N.m^2 / C$
- $5.0 \times 10^{-6} N.m^2 / C$
- $2.4 \times 10^{-6} N.m^2 / C$
- $1.8 \times 10^{-6} N.m^2 / C$

29. الشكل يبين خطوط المجال الناشئة عن شحنتين والدوائر الثلاث تعبر عن أسطح جاوسية اي العبارات التالية هو الصحيح



- $\Phi_1 > \Phi_2 > \Phi_3$
- $\Phi_3 > \Phi_2 > \Phi_1$
- $\Phi_1 > \Phi_3 > \Phi_2$
- $\Phi_2 > \Phi_1 > \Phi_3$



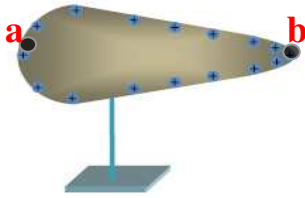
30. الشكل المجاور يظهر مخروط من مادة عازلة نصف قطر قاعدته 0.50m وارتفاعه 1.50m ويجتازه عمودياً على قاعدته مجال كهربائي منتظم شدته $4 \times 10^3 \text{ N/C}$ واتجاهه رأسياً نحو الأسفل. اوجد التدفق الكهربائي الذي يجتاز السطح المخروطي للمخروط

- $-6.28 \times 10^3 \text{ N.m}^2 / \text{C}$ $-3.14 \times 10^3 \text{ N.m}^2 / \text{C}$
 $+6.28 \times 10^3 \text{ N.m}^2 / \text{C}$ $+3.14 \times 10^3 \text{ N.m}^2 / \text{C}$

31. موصل كروي مشحون ونصف قطره 0.5m والجهد الكهربائي عند مركزه يساوي 300V فإن مقدار المجال الكهربائي عند نقطة تبعد عن مركزه 0.8m يساوي:

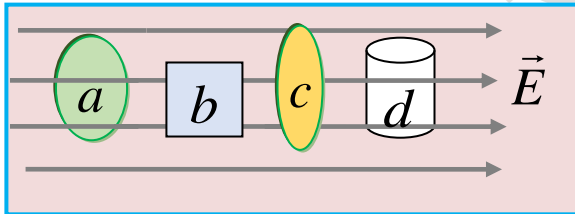
- 187.5V/m 234.4 V/m
 4800 V/m 0.0 V/m

32. موصل مخروطي مشحون ومغزول كما بالشكل المجاور رصدت نقطتان على سطحه فإن



- $V_a = V_b, E_a < E_b, \sigma_a < \sigma_b$
 $V_a < V_b, E_a > E_b, \sigma_b < \sigma_a$
 $V_a = V_b, E_a > E_b, \sigma_b > \sigma_a$
 $V_a = V_b, E_a > E_b, \sigma_b = \sigma_a$

33. وضعت اجسام مجوفة ذات اسطح مغلقة داخل مجال كهربائي كما بالشكل المجاور، اي من هذه الاجسام يعتبر التجويف الداخلي لها **محمية** من المجالات الكهربائية.



- c و b d و a
 c و a d و b

34. سلكان مستقيمان متوازيان غير محدودين الطول البعد بينهما 0.4m . كثافة الشحنة الطولية للسلك

الأول $\lambda_1 = -3\text{nC/m}$ وكثافة الشحنة الطولية للثاني $\lambda_2 = +3\text{nC/m}$ ما مقدار القوة الكهربائية المؤثرة على الكترون وضع عند نقطة في منتصف المسافة بين السلكين؟

- 0.0N
 باتجاه السلك الثاني $8.64 \times 10^{-17} \text{ N}$
 باتجاه السلك الأول $8.64 \times 10^{-17} \text{ N}$
 باتجاه السلك الثاني $4.32 \times 10^{-16} \text{ N}$

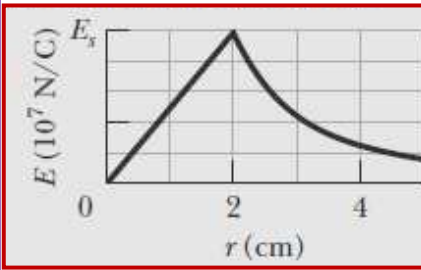
35. هيكل كروي **غير موصل** نصف قطره $0.8m$ وكثافة الشحنة الحجمية له $\rho = +5.0\mu C / m^3$ إن مقدار شدة المجال الكهربائي عند نقطة تقع على بعد $0.4m$ عن مركز الهيكل الكروي تساوي:

- $7.5 \times 10^4 N/C$ $0.0N/C$
 $3.5 \times 10^3 N/C$ $1.5 \times 10^5 N/C$

36. **موصل** كروي اجوف نصف قطره الداخلي $0.2m$ والخارجي $0.3m$ وضعت شحنة قدرها $(-10e)$ عند مركز الموصل وشحنة على سطحه $(+15e)$ فإن مقدار المجال الكهربائي عند نقطة تقع على سطح الموصل تساوي

- $9.0 \times 10^{-7} N/C$ $5.4 \times 10^{-7} N/C$
 $1.44 \times 10^{-6} N/C$ $1.8 \times 10^{-7} N/C$

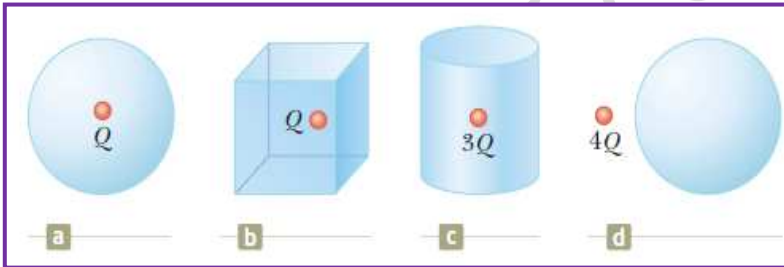
37. الرسم البياني المجاور يعطي العلاقة بين شدة المجال الكهربائي عند نقطة وبعد النقطة عن مركز هيكل كروي **غير موصل** مشحون كثافة الشحنة الحجمية له (ρ) وشدة المجال الكهربائي



، فإن كثافة الشحنة الحجمية له تساوي؟ $E_s = 5.0 \times 10^7 N/C$

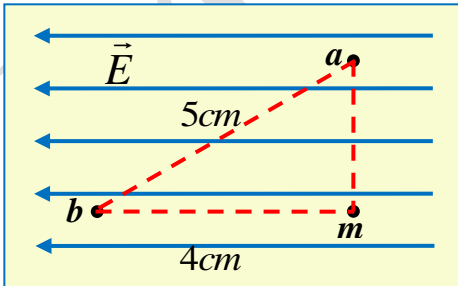
- $0.208 \mu C / m^3$ $0.0048 \mu C / m^3$
 $0.066 \mu C / m^3$ $0.208 \mu C / m^3$

38. الأسطح المبينة بالشكل تمثل أسطح جاوس ، بالاعتماد على الشكل أي من هذه الاسطح له **أكبر** قيمة للتدفق الكهربائي الذي يجتازه.



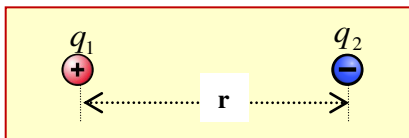
- a
b
c
d

39. تنقل شحنة **موجبة** مقدارها $(2.0 \times 10^{-9} C)$ من النقطة **b** الى **a** في مجال منتظم شدته $100N/C$ ما التغير في طاقة الوضع الكهربائية للشحنة؟



- $+1.0 \times 10^{-8} J$
 $-8 \times 10^{-9} J$
 $+8 \times 10^{-9} J$
 $-1.0 \times 10^{-8} J$


40. في الشكل المجاور إذا كانت طاقة وضع الشحنة q_1 تساوي $(-8.4 \times 10^{-6} J)$ فإن الشغل الذي **يبذله المجال الكهربائي** لتحريك إحدى الشحنتين إلى منتصف المسافة بينهما يساوي



- $8.4 \times 10^{-6} J$ $-8.4 \times 10^{-6} J$
 $4.2 \times 10^{-6} J$ $-4.2 \times 10^{-6} J$

41. أي من الآتي صحيح بخصوص البطارية.

- البطاريات هي عبارة عن جهاز يحول الطاقة الكهربائية الى طاقة كيميائية
- البطاريات عبارة عن جهاز يولد شحنات كهربائية
- البطاريات عبارة عن جهاز يولد فرق جهد متغير
- البطاريات عبارة عن جهاز يحول الطاقة الكيميائية الى طاقة كهربائية مباشرة



42. مولد فان دي جراف يستطيع مولد فان دي جراف إنتاج جهود كهربائية

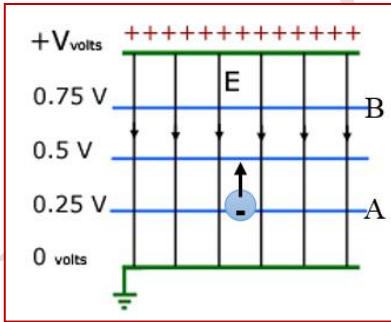
- مرتفعة للغاية عن طريق نقل الشحنة من تفرغ هالي على السير المطاطي الى كرة معدنية مجوفة، حيث يتم استخراج الشحنة من السير عن طريق جزء حاد من المعدن متصل بالسطح الداخلي للكرة
- يمكن استخدام مولد فاندي جراف لإيجاد كمية كبيرة من
- شحنة ساكنة
- شحنة موجبة وسالبة مختلطة على سطحه
- تيار كهربائي
- مقاومة الكهربائية

43. معجل فان دي جراف الترادفي

ما مقدار أعلى طاقة حركية يكتسبها ايون الكلور Cl^{-1} في المعجل الترادفي في المرحلة الاولى علما انه يتم تسريعه بفرق جهد مقداره $10MV$ ؟

- $10eV$
- $10^{-6} eV$
- $10^5 eV$
- $10^3 eV$

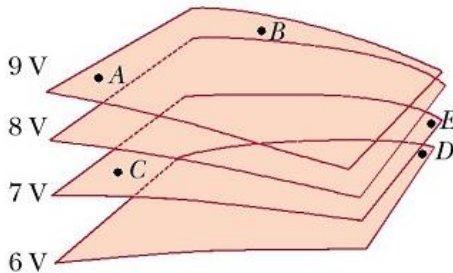
44. الكترون ساكن اذا تُرك حراً ليتحرك من النقطة A الى النقطة B في الشكل جانبا تساوي فان طاقة حركته عند لحظة وصوله النقطة A تساوي



- $2 \times 10^{-20} J$
- $4 \times 10^{-20} J$
- $6 \times 10^{-20} J$
- $8 \times 10^{-20} J$

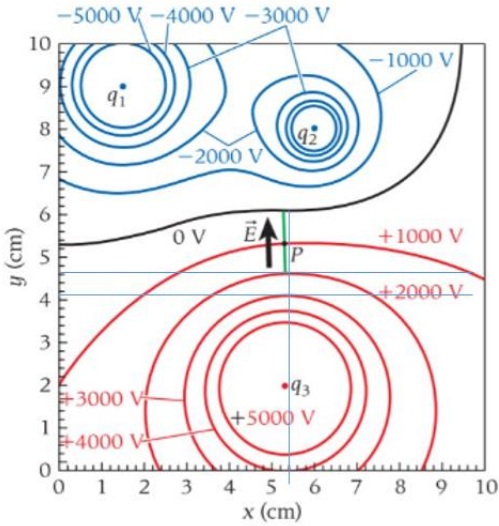
45. يبين الشكل اربعة سطوح تساوي جهد كما هو مبين اعتمادا على الشكل

التغير في طاقة وضع الكترون عند نقله من النقطة A الى النقطة C يساوي



- $2eV$
- $-2eV$
- $-1eV$
- $1eV$

46. الشكل البياني التالي يمثل خطوط تساوي الجهد الناشئ عن ثلاث شحنات نقطية اعتماداً على المعلومات التي بالشكل مقدار شدة المجال الكهربائي بين النقطتين (5.4, 4.15) و (5.4, 4.62)



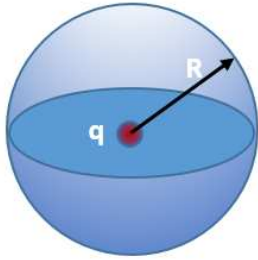
$2.9 \times 10^5 N/C$

$1.3 \times 10^5 N/C$

$2.1 \times 10^5 N/C$

$3.8 \times 10^5 N/C$

47. إذا كان جهد سطح كروي 3000V والنتاج عن شحنة نقطية مقدارها $8\mu C$ كما في الشكل فإن نصف قطر السطح يساوي



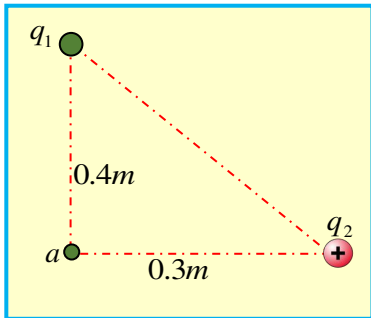
$24m$

$1.40m$

$240m$

$440m$

48. الشكل المجاور مكون من شحنتين. إذا كان الجهد الكهربائي **ينعدم** عند النقطة (a) ما مقدار



ونوع الشحنة q_1 إذا علمت ان مقدار الشحنة الثانية $q_2 = +1.2nC$

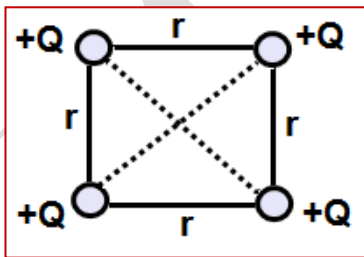
$-9.6 \times 10^{-10} C$

$-9.0 \times 10^{-10} C$

$-1.6 \times 10^{-9} C$

$-3.2 \times 10^{-9} C$

49. يتم ترتيب أربع شحنات كهربائية موجبة Q في زوايا مربع كما هو موضح في الرسم



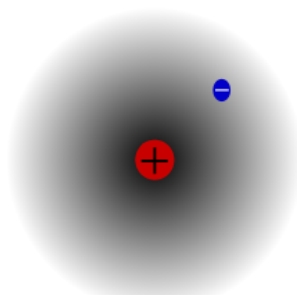
$\frac{4kQ}{\sqrt{2}r}$

$\frac{16kQ}{\sqrt{2}r}$

0.0

$\frac{8kQ}{\sqrt{2}r}$

50. تُرك **الالكترون** حرّاً من مكان على بعد $1mm$ من **بروتون** ثابت ليتحرك من السكون. إن المسافة التي يقطعها **الالكترون** قبل ان تصبح طاقته الحركية $8eV$ تساوي :



$9.0 \times 10^{-10} m$

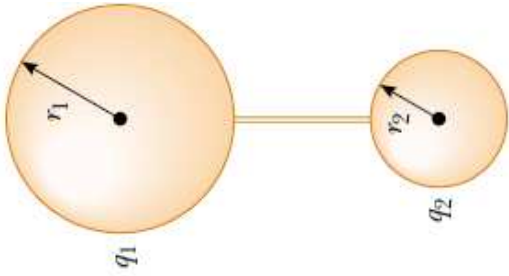
$1.8 \times 10^{-10} m$

$4.5 \times 10^{-10} m$

$2.25 \times 10^{-10} m$

51. موصلان كرويان نصف قطر الأول r_1 و r_2 و مشحونان ، تم توصيلها بسلك طويل كما بالشكل،

إن نسبة $\frac{q_1}{q_2}$ بعد توصيلهما تساوي



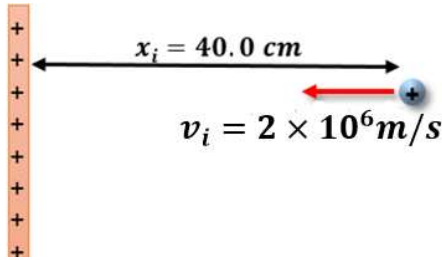
- $\frac{r_2}{r_1}$
 0.0

- $\frac{r_1}{r_2}$
 $r_1 r_2$

52. أطلق بروتون بسرعة $v_i = 2 \times 10^6 m/s$ من نقطة تبعد 40cm وباتجاه صفيحة موصلة

ومشحونة بشحنة موجبة الكثافة السطحية للشحنة عليها $\sigma = 0.50 \mu C/m^2$

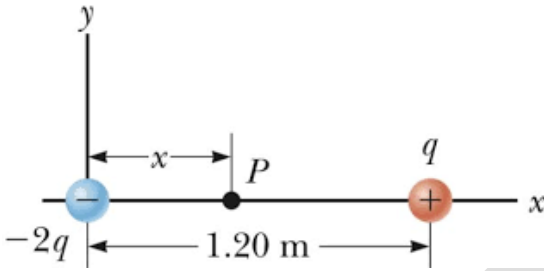
ومشحونة بشحنة موجبة الكثافة السطحية للشحنة عليها $\sigma = 0.50 \mu C/m^2$ يمكن ان يقترب بها البروتون من الصفيحة الى ان يصبح ساكن ويعود بنفس الاتجاه الذي قذف منه.



- $3.0 \times 10^{-2} m$
 $4.0 \times 10^{-2} m$
 $5.0 \times 10^{-2} m$
 $0.369 m$

53. اذا كان مقدار الجهد الكهربائي عند النقطة P والتي تبعد مسافة x عن نقطة الاصل يساوي صفر

. ان مقدار x تساوي

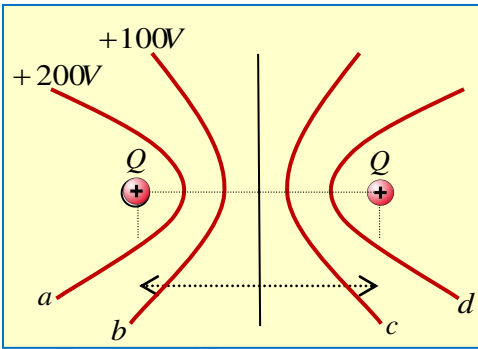


- $0.2m$
 $0.4m$
 $0.6m$
 $0.8m$

الشكل المجاور يمثل خطوط تساوي الجهد لشحنتين موجبتين

متماثلتين موضوعة على المحور x. أجب عن السؤالين التاليين؟

54. ما مقدار جهد الخط c



- $+100V$
 $-100V$
 $+200V$
 $0.0V$

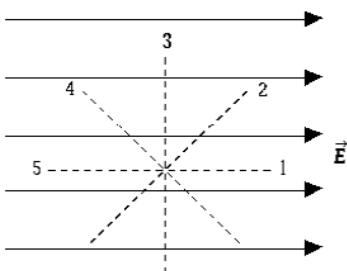
55. ما مقدار الشغل المبذول بواسطة المجال لنقل الكترون من خط تساوي الجهد a الى خط تساوي

الجهد c؟

- $-100eV$
 $0.0eV$
 $+100eV$
 $+e200V$

56. الشكل المجاور يمثل مجال كهربائي منتظم ، بأي اتجاه يكون أكبر

قيمة للجهد الكهربائي؟



- 1
 2
 3
 5

57. إذا كان الجهد الكهربائي يتغير حسب العلاقة على محور x ($V(x) = 2x^2 - 2x - 8$) اوجد اقل قيمة للجهد على محور x

- $-8.5 V$ $2.6 V$
 $0.0V$ $-2.6V$

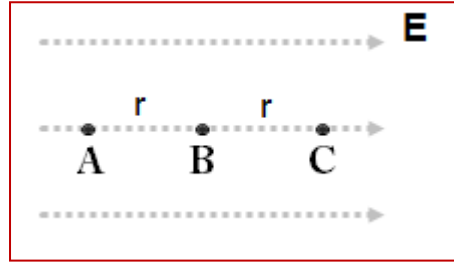
58. يتحدد الجهد الكهربائي لحيز في الفضاء من العلاقة $V(x) = 50 + 15x$ حدد المجال الكهربائي في هذه المنطقة عند نقطة الأصل.

- $-15\hat{i} (V/m)$ $15\hat{i} (V/m)$
 $-65\hat{i} (V/m)$ $50\hat{i} (V/m)$

59. تحدد الجهد الكهربائي لحيز في الفضاء من العلاقة $V(x, y, z) = 2x^2y - xz^3 + 8$ حدد المجال الكهربائي في هذه المنطقة عند الاحداثي $(1, 1, 0)$

- $4\hat{i} + 2\hat{j} (V/m)$ $-4\hat{i} + 2\hat{j} (V/m)$
 $4\hat{i} - 2\hat{j} (V/m)$ $-(4\hat{i} + 2\hat{j}) (V/m)$

60. يتم تحرير شحنة نقطية q من السكون عند النقطة A وتتسارع في مجال كهربائي منتظم E ما هي النسبة بين



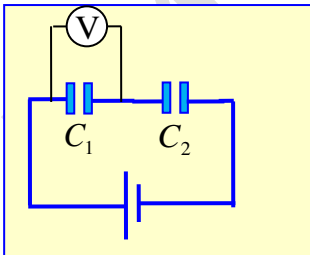
سرعات الشحنة $\frac{v_B}{v_C}$ ؟

- $\frac{1}{\sqrt{2}}$ $\frac{\sqrt{2}}{1}$
 $\frac{1}{\sqrt{3}}$ $\frac{\sqrt{3}}{1}$

61. قمت بشحن مكثف متوازي اللوحين باستخدام بطارية. وبقيت البطارية متصلة بالمكثف. فإذا قلت المسافة بين اللوحين فماذا سيحدث لكل من المجال الكهربائي بين اللوحين والطاقة المخزنة فيه

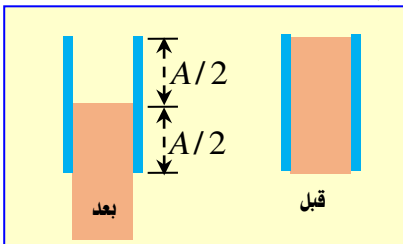
- شدة المجال الكهربائي تبقى ثابتة والطاقة المخزنة تزداد
 شدة المجال الكهربائي تزداد والطاقة المخزنة تزداد
 شدة المجال الكهربائي تقل والطاقة المخزنة تقل
 شدة المجال الكهربائي تبقى ثابتة والطاقة المخزنة تقل

62. الشكل المجاور دائرة كهربائية تحوي مكثفين $C_1 = 12.0\mu F, C_2 = 3.0\mu F$ ، إذا كانت قراءة الفولتميتر ($4V$) ما مقدار جهد البطارية



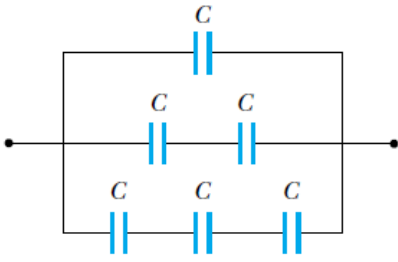
- $3V$ $12V$
 $10V$ $4.8V$

63. مكثف متوازي الألواح سعته الكهربائية $C = 12\mu F$ مملوء بمادة عازلة ثابت عزلتها $\kappa = 6$ إذا سحب نصف المادة العازلة من المكثف ، كم يصبح سعة المكثف الجديد بعد سحب نصف المادة العازلة؟



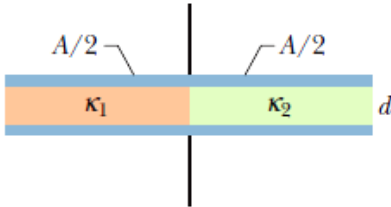
- $9\mu F$ $13\mu F$
 $7\mu F$ $5\mu F$

64. من خلال الدائرة الكهربائية المجاورة تحوي عدة مكثفات سعاتها متساوية وتساوي C أوجد السعة المكافئة لمجموعة المكثفات بدلالة C



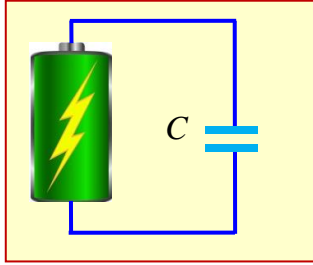
- $9C$
 $6C$
 $11/6C$
 $6/11C$

65. مكثف متوازي الألواح هوائي سعته الكهربائية ($C_0 = 60nC$) ، وضع داخله مادتين عازلتين ثابتتي العازلية لكل منها $\kappa_1 = 4.0$ و $\kappa_2 = 12.0$ ما مقدار سعة المكثف بعد وضع المواد العازلة



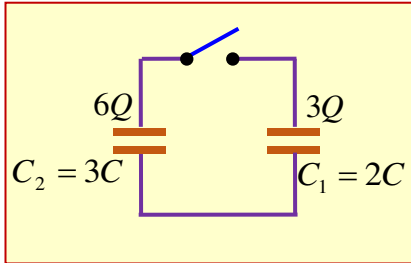
- $0.24 \mu F$
 $0.96 \mu F$
 $0.48 \mu F$
 $0.48 \mu F$

66. مكثف متصل ببطارية، كما هو مبين بالشكل. عندما وضعت مادة عازلة بين لوحيه فإن



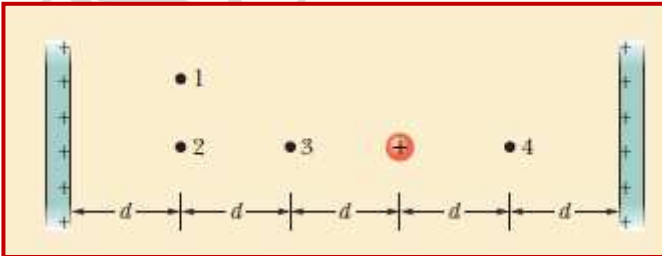
- سعة المكثف تزداد فقط
 فرق الجهد بين طرفي لוחي المكثف يقل.
 سعة المكثف تزداد وشدة المجال بين لوحيه تزداد.
 سعة المكثف وشحنته كلاهما تزداد

67. مكثفان مشحونان، كما هو مبين بالشكل. عند غلق المفتاح وأصبح المكثفان بحالة اتزان ما شحنة



- المكثف C_1
 $1.8Q$
 $2.25Q$
 $1.2Q$
 $3.6Q$

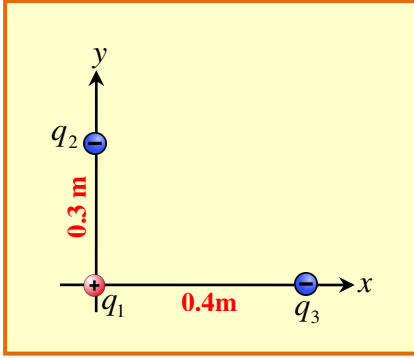
68. سطحان مستويان لانتهائيان غير موصلان متوازيان لهما نفس كثافة الشحنة السطحية ، وضعت شحنة موجبة بين السطحين كما هو مبين بالشكل. بين المعادلات أي النقاط يكون عندها شدة المجال الكهربائي أكبر ما يمكن.



- 1,2
 فقط 4
 3,4
 فقط 3

السؤال الثاني: أجب عن الأسئلة التالية:

69. الشكل المجاور يبين موضع لثلاث جسيمات مشحونة ، اذا علمت أن $q_1 = +3nC$ و $q_2 = -8nC$ و $q_3 = -4nC$ وباعتماد على البيانات على الشكل أوجد:
 -a القوة الكهروستاتيكية المؤثرة بالشحنة q_1



$$F_{21} = k \frac{|q_1 q_2|}{r_{12}^2} = \frac{9 \times 10^9 \times 3 \times 10^{-9} \times 8 \times 10^{-9}}{(0.3)^2} = 2.4 \times 10^{-6} N$$

$$F_{31} = k \frac{|q_1 q_3|}{r_{13}^2} = \frac{9 \times 10^9 \times 3 \times 10^{-9} \times 4 \times 10^{-9}}{(0.4)^2} = 6.75 \times 10^{-7} N$$

$$F_{net} = \sqrt{F_{12}^2 + F_{13}^2} = 2.5 \times 10^{-6} N$$

$$\theta = \tan^{-1} \frac{F_{21}}{F_{31}} = \tan^{-1} \left(\frac{2.4 \times 10^{-6}}{6.75 \times 10^{-7}} \right) = 19.57^\circ$$

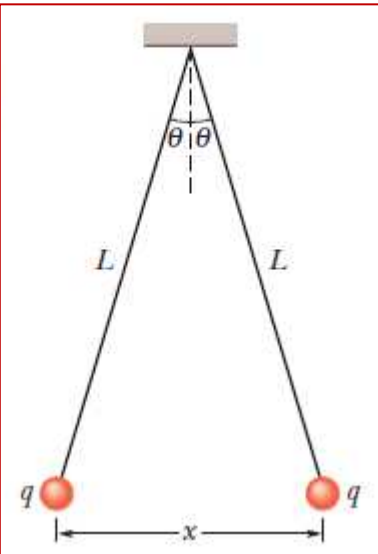
-b ما مقدار واتجاه شدة المجال الكهربائي المؤثرة بالشحنة q_1

$$E_{net} = t \frac{F_{net}}{|q_1|} = \frac{2.5 \times 10^{-6}}{3 \times 10^{-9}} = 831 N/C$$

بنفس اتجاه محصلة القوة

70. من الشكل المجاور كرتان متماثلتان كل منها كتلتها $m = 10g$ وكل منها تحمل شحنة موجبة q متصلتان بخيط حرير طوله $L = 120cm$ تنافرتا الى ان اصبحت الكرتان متزنتان وتبعدان عن بعضهما مسافة $x = 5.0cm$ وكانت الزاوية بين الخيط والرأسي $(\theta = 14^\circ)$

-a ما مقدار شحنة كل كرة؟



$$F_e = T \sin \theta = k \frac{q^2}{x^2}$$

$$F_g = T \cos \theta = mg$$

$$\tan \theta = \frac{kq^2}{mgx^2}$$

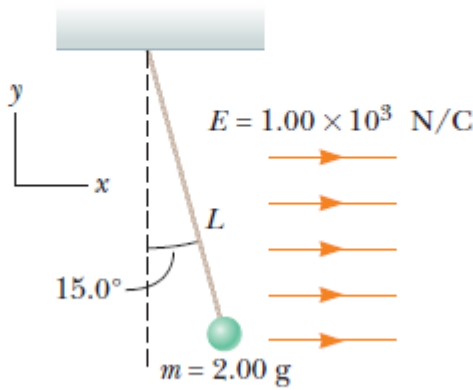
$$q = \sqrt{\frac{mgx^2}{k}} = \sqrt{\frac{\tan(14)10 \times 10^{-3} \times 9.81 \times (0.05)^2}{9 \times 10^9}} = 8.2 \times 10^{-8} C$$

-b ما مقدار قوة الشدة في الحبل والشحنتان في حالة الاتزان؟

$$T = \frac{mg}{\cos 14} = \frac{10 \times 10^{-3} \times 9.81}{\cos 14} = 0.1N$$

71. الشكل المجاور كرة بلاستيكية كتلتها $2.0g$ ومشحونة مربوطة بخيط حرير . وضعت في مجال كهربائي منتظم شدته $E = 1.0 \times 10^3 N/C$ فعمل الخيط زاوية قدرها $\theta = 15^\circ$ مع الرأسى. الى أن **اتزنت**

a- ما محصلة الشحنة التي تحملها الكرة؟ وما نوعها؟ برر اجابتك؟



$$F_e = |q|E = T \sin \theta$$

$$F_g = mg = T \cos \theta$$

$$\tan \theta = \frac{qE}{mg}$$

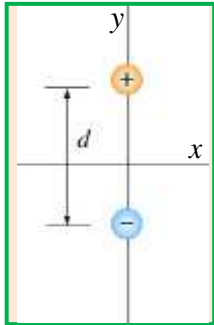
$$q = \frac{mg \tan \theta}{E} = \frac{2 \times 10^{-3} \times 9.81 \times \tan 15}{1 \times 10^3}$$

$$q = 5.257 \times 10^{-6} C$$

b- ما مقدار عدد الالكترونات التي فقدتها الكرة لتجعلها متزنة؟

$$N = \frac{|q|}{e} = \frac{5.257 \times 10^{-6}}{1.6 \times 10^{-19}} = 3.28 \times 10^{13}$$

72. من خلال الشكل المجاور، شحنتان نقطيتان موضوعتان بالهواء $q_1 = +8e$ و $q_2 = -2e$ والبعد بينهما $d = 10^{-9} m$ ، **اين الموقع** الذي نضع عنده شحنة ثالثة بحيث تكون محصلة القوى الكهربائية المؤثرة فيها تساوي صفر.



$$F_{13} = F_{23}$$

$$k \frac{|q_1 q_3|}{x^2} = k \frac{|q_2 q_3|}{(d+x)^2}$$

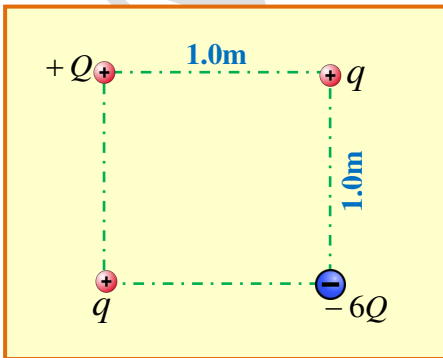
$$\frac{2e}{x^2} = \frac{8e}{(d+x)^2}$$

$$\frac{1}{x} = \frac{2}{(d+x)}$$

$$2x = d + x$$

$$x = d = 10^{-9} m$$

73. الشكل المجاور اربع شحنت موضوعة على رؤوس مربع طول ضلعه $1.0m$ ، الشحنة $Q = 2.0nC$ والشحنتان q متماثلتان موجبتان ، اذا كان **محصلة القوة** الكهروستاتيكية المؤثرة على الشحنة $+Q$ العلوية تساوي صفر. أوجد قيمة كل من الشحنتين q ؟



$$k \frac{|Q \times 6Q|}{(\sqrt{2})^2} \cos 45 = k \frac{|qQ|}{1^2}$$

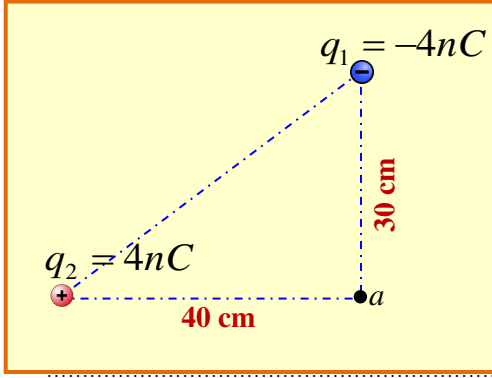
$$\frac{6Q \cos 45}{2} = q$$

$$q = \frac{6 \times 2 \times 10^{-9} \cos 45}{2}$$

$$q = 4.24 \times 10^{-9} C$$

74. من الشكل المجاور وبلاستعانة بالبيانات على الشكل أجب عما يلي:

a- شدة المجال الكهربائي عند النقطة a



$$E_1 = k \frac{|q_1|}{r_1^2} = \frac{9 \times 10^9 \times 4 \times 10^{-9}}{(0.3)^2} = 400N$$

$$\theta = \tan^{-1} \frac{E_1}{E_2}$$

$$E_2 = k \frac{|q_2|}{r_2^2} = \frac{9 \times 10^9 \times 4 \times 10^{-9}}{(0.4)^2} = 225N$$

$$\theta = \tan^{-1} \left(\frac{400}{225} \right) = 60.6^\circ$$

$$E_R = \sqrt{E_1^2 + E_2^2} = \sqrt{400^2 + 225^2} = 259N$$

b- اذا وضع الكترون عند النقطة a ما مقدار واتجاه القوة الكهربائية المؤثرة عليه عند هذه اللحظة

$$F_{net} = |qE| = 1.6 \times 10^{-19} \times 259 = 4.144 \times 10^{-17} N$$

عكس اتجاه محصلة المجال الكهربائي

75. عزم ثنائي القطب لجزيء ما يساوي $5 \times 10^{-25} C.m$ والمسافة بين مركزي الذرتين يساوي

$$2.5 \times 10^{-10} m$$

أوجد ما يلي:

a- الشحنة الصافية على كل ذرة؟

$$p = qd$$

$$q = \frac{p}{d} = \frac{5 \times 10^{-25}}{2.5 \times 10^{-10}} = 2 \times 10^{-15} C$$

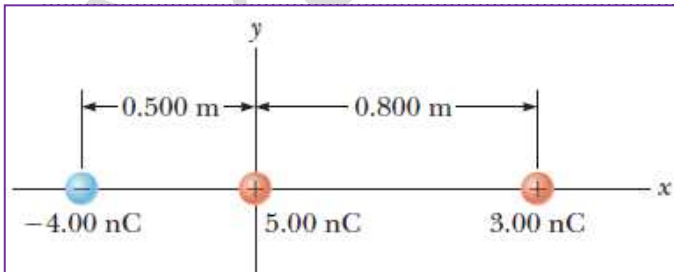
b- أقصى عزم دوران يمكن ان يبذل على الجزيء اذا وضع في مجال كهربائي شدته $10^4 N/C$

$$\tau_{max} = pE \sin 90$$

$$\tau_{max} = 10^4 \times 5 \times 10^{-25} \times 1 = 5 \times 10^{-21} N.m$$

76. الشكل المجاور يمثل ثلاث شحنات موضوعة على المحور x . أحسب ما يلي:

a- القوة الكهروستاتيكية المؤثرة على الشحنة السالبة؟



$$F_{13} = k \frac{|q_1 q_3|}{r_{13}^2} = \frac{9 \times 10^9 \times 3 \times 10^{-9} \times 4 \times 10^{-9}}{(1.3)^2}$$

$$F_{13} = 6.4 \times 10^{-8} N$$

$$F_{23} = k \frac{|q_2 q_3|}{r_{23}^2} = \frac{9 \times 10^9 \times 5 \times 10^{-9} \times 4 \times 10^{-9}}{(0.5)^2}$$

$$F_{23} = 7.2 \times 10^{-7} N$$

$$F_{net} = F_{13} + F_{23} = (6.4 \times 10^{-8}) + (7.2 \times 10^{-7})$$

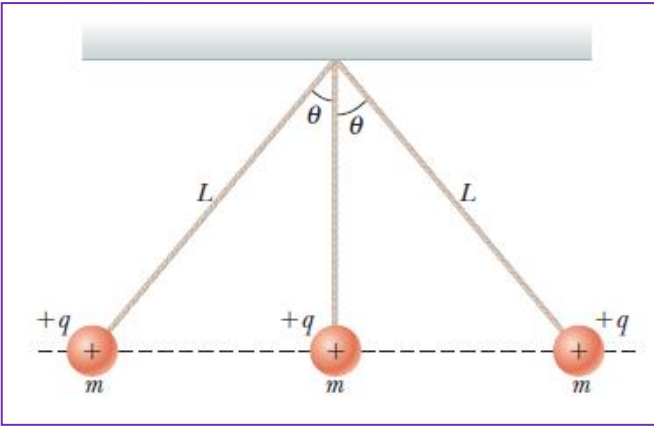
$$F_{net} = 7.84 \times 10^{-7} N$$

$$E_R = \frac{F_{net}}{|q|} = \frac{7.84 \times 10^{-7}}{4 \times 10^{-9}} = 196 N/C$$

باتجاه محور x السالب

b- المجال الكهربائي عند الشحنة السالبة؟

77. الشكل المجاور ثلاث كرات متماثلة كتلة كل منها 0.1kg وتحمل كل منها شحنات موجبة متماثلة ، مرتبطة كل منها بخيط طوله $L = 30\text{cm}$ ويعمل كل منها مع الرأسى زاوية $\theta = 45^\circ$ فإذا اصبحت الكرات في حالة اتزان. ما مقدار الشحنة التي تحملها كل كرة؟



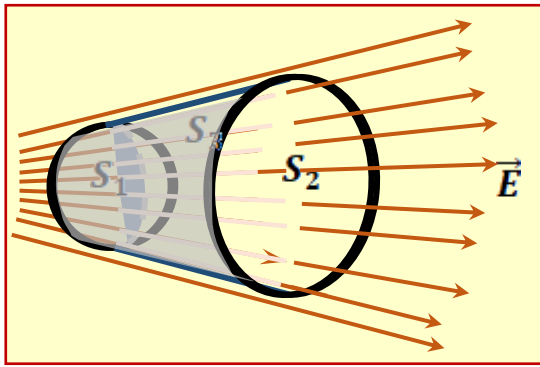
$$r = L \sin 45 = 0.3 \sin 45 = 0.2121$$

$$T \cos 45 = mg \quad T = \frac{mg}{\cos 45} = \frac{0.1 \times 9.81}{\cos 45} = 1.387 \text{ N}$$

$$T \sin 45 = \frac{kq^2}{r^2} + \frac{kq^2}{(2r)^2}$$

$$1.387 \sin 45 = q^2 \left(\frac{k}{0.2121^2} + \frac{k}{(2 \times 0.2121)^2} \right)$$

$$q = 2 \times 10^{-6} \text{ C}$$



78. يُبين الشكل المجاور جسماً مُغلقَ السطح ولا يحتوي على شحنات بداخله موضوعاً في مجال كهربائي غير منتظم. فإذا كانت مساحة السطح S_2 مثلي مساحة السطح S_1 ، أي $\{A_2 = 2A_1\}$. أجب عن الآتي:

- هل مقدار شدة المجال الكهربائي الذي يجتاز السطح S_1 مساو لمقدار شدة المجال التي تجتاز السطح S_2 ؟ برر اجابتك.

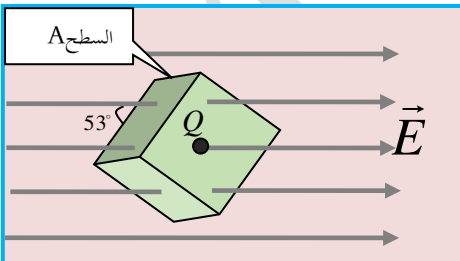
لا: شدة المجال التي يجتاز السطح 1 أكبر لأن نفس عدد خطوط المجال تجتاز مساحة أقل للسطح 1

- جد معادلة رياضية تربط بين التدفق الكهربائي (Φ_{E1}) الذي يجتاز السطح (S_1) والتدفق الكهربائي (Φ_{E2}) الذي يجتاز السطح (S_2) . [أظهر خطوات إيجاد العلاقة]

$$\Phi_1 + \Phi_2 = 0$$

$$\Phi_1 = -\Phi_2$$

79. الشكل المجاور يمثل مجار كهربائي منتظم شدته $4 \times 10^4 \text{ N/C}$ باتجاه المحور x الموجب ، وضع فيه جسم على شكل مكعب مساحة سطحه العلوي المظلل 0.2 m^2 ويوجد عند مركزه شحنة نقطية ، إذا كان التدفق الذي يجتاز السطح المغلق للمكعب يساوي $+678 \text{ N.m}^2 / \text{C}$



أجب عما يلي:

a- احسب مقدار الشحنة الكهربائية الموضوعه عند مركز المكعب.

$$\Phi = \frac{q_{en}}{\epsilon_0}$$

$$q = 678 \times 8.85 \times 10^{-12} = +6 \times 10^{-9} \text{ C}$$

b- التدفق الكهربائي الذي يجتاز السطح العلوي المظلل (A).

$$\Phi = \Phi_{1(q)} + \Phi_{2(E)}$$

$$\Phi = \left(\frac{678}{6} \right) + (4 \times 10^4 \times 0.2 \times \cos 143)$$

$$\Phi = \frac{\Phi_t}{6} + EA \cos 143$$

$$\Phi = -6276 \text{ N.m}^2 / \text{C}$$

80. الشكل المجاور يمثل سطح غير موصل مغلق على شكل متوازي مستطيلات $a = b = 0.4m$ و $c = 0.6m$ ويبعد حافة السطح عن محور y بمسافة $x = a = 0.4m$ فإذا علمت ان هناك مجال كهربائية يتجه نحو محور x الموجب وفق المعادلة $\vec{E} = (3.0 + 2.0x^2)N/C$ أوجد ما يلي:

a- التدفق الكهربائي الذي يجتاز السطح المغلق؟

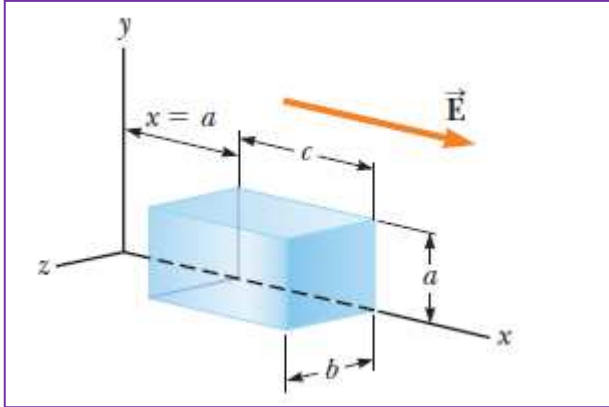
$$E_{0.4} = 3 + 2x^2 = 3 + (2 \times 0.4^2) = 3.32 N/C$$

$$\Phi_{0.4} = EA \cos 180 = 3.32 \times (0.4^2) \times -1 = -0.5312 N.m^2 / C$$

$$E_1 = 3 + 2x^2 = 3 + (2 \times 1^2) = 5 N/C$$

$$\Phi_{0.4} = EA \cos 0 = 5 \times (0.4^2) \times 1 = 0.8 N.m^2 / C$$

$$\Phi_t = 0.8 + (-0.5312) = 0.2688 N.m^2 / C$$

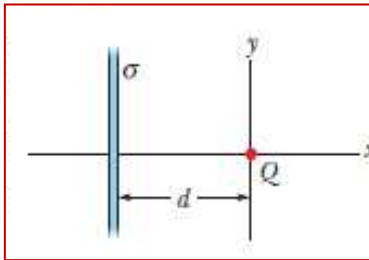


b- الشحنة الكلية داخل السطح المغلق؟

$$\Phi_t = \frac{q_{en}}{\epsilon_0}$$

$$q = \epsilon_0 \times \Phi = 8.85 \times 10^{-12} \times 0.2688 = +2.378 \times 10^{-12} C$$

81. من الشكل المجاور سطح مستوي لانتهائي غير موصل كثافة الشحنة السطحية له $\sigma = -2.0 \mu C / m^2$ ، وضعت شحنة نقطية قدرها $Q = +6.0 \mu C$ عند نقطة الأصل وعلى بعد $d = 0.2m$ عن السطح. عند اي نقطة على محور x الموجب او السالب يكون محصلة المجال الكهربائي عندها تساوي صفر.



$$E_\sigma = E_q$$

$$\frac{\sigma}{2\epsilon_0} = k \frac{q}{r^2}$$

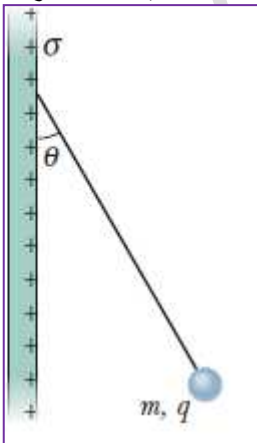
$$\frac{2 \times 10^{-6}}{2 \times 8.85 \times 10^{-12}} = 9 \times 10^9 \frac{6 \times 10^{-6}}{r^2}$$

$$r = 0.691m$$

$$x = -0.691m$$

82. الشكل المجاور يبين سطح لانتهائي موصل ، خيط حرير متصل بطرفه كرة كتلتها $m = 1.0mg$ وتحمل شحنة قدرها $q = 2.0 \times 10^{-8} C$ ويعمل الخيط مع السطح زاوية $\theta = 30^\circ$ فأصبحت الكرة في حالة اتزان.

أوجد كثافة الشحنة السطحية للسطح؟



$$F_e = T \sin \theta = qE$$

$$F_g = T \cos \theta = mg$$

$$\tan \theta = \frac{qE}{mg}$$

$$E = \frac{mg \tan 30}{q}$$

$$E = \frac{\sigma}{\epsilon_0}$$

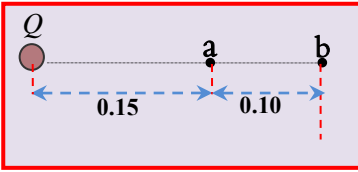
$$\sigma = \epsilon_0 E$$

$$\sigma = 8.85 \times 10^{-12} \times 283.2$$

$$\sigma = 2.5 \times 10^{-9} C / m^2$$

$$E = \frac{1 \times 10^{-6} \times 9.81 \tan 30}{2 \times 10^{-8}} = 283.2 N/C$$

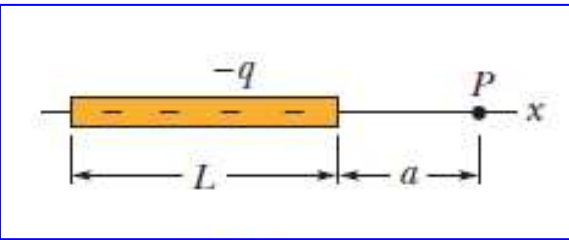
83. النقطتان a, b تقعان في المجال الكهربائي للشحنة النقطية Q والتي يحيط بها الهواء كما بالشكل



المجاور أوجد نسبة المجال عند النقطة a الى النقطة b $\left(\frac{E_a}{E_b}\right)$

$$\frac{E_a}{E_b} = \frac{k \frac{q}{r_a^2}}{k \frac{q}{r_b^2}} = \frac{r_b^2}{r_a^2} = \frac{0.25^2}{0.15^2} = \frac{25}{9}$$

84. الشكل المجاور يبين ساق من مادة غير موصلة طولها $L = 8.15 \text{ cm}$ وتم توزيع عليه شحنة بانتظام قدرها $q = -4.23 \text{ pC}$ ، رصدت نقطة P على امتداد محور الساق وعلى بعد $a = 12 \text{ cm}$ أجب عما يلي:



a- ما مقدار كثافة الشحنة الخطية للساق؟

$$\lambda = \frac{q}{L} = \frac{-4.23 \times 10^{-12}}{8.15 \times 10^{-2}} = 5.2 \times 10^{-11} \text{ C/m}$$

b- ما مقدار شدة المجال الكهربائي عند النقطة P (استنتج المعادلات اللازمة لحل المسألة)

$$dE = k \frac{dq}{r^2} = k \frac{\lambda dr}{r^2}$$

$$E = k\lambda \int_a^{a+L} \frac{dr}{r^2} = k\lambda \left[-\frac{1}{r} \right]_a^{a+L}$$

$$E = k\lambda \left[\frac{1}{a} - \frac{1}{a+L} \right] = k\lambda \frac{L}{a(a+L)}$$

$$E = k\lambda \frac{L}{a(a+L)}$$

$$E = 9 \times 10^9 \times 5.2 \times 10^{-11} \times \frac{8.15 \times 10^{-2}}{0.12(0.12 + 0.0815)}$$

$$E = 1.577 \text{ N/C}$$

85. هيكل كروي مصمت غير موصل نصف قطره $R = 0.5 \text{ m}$ وكثافة الشحنة الحجمية له $\rho = +8 \text{ nC/m}^3$ أوجد المجال الكهربائي عند النقاط التالية.

a- نقطة تقع على بعد $r_1 = 0.2 \text{ m}$ من مركز الهيكل الكروي.

$$E = \frac{\rho r}{3\epsilon_0} = \frac{8 \times 10^{-9} \times 0.2}{3 \times 8.85 \times 10^{-12}} = 60.26 \text{ N/C}$$

b- نقطة تقع على بعد $r_1 = 0.6 \text{ m}$ من مركز الهيكل الكروي.

$$\rho = \frac{q}{V}$$

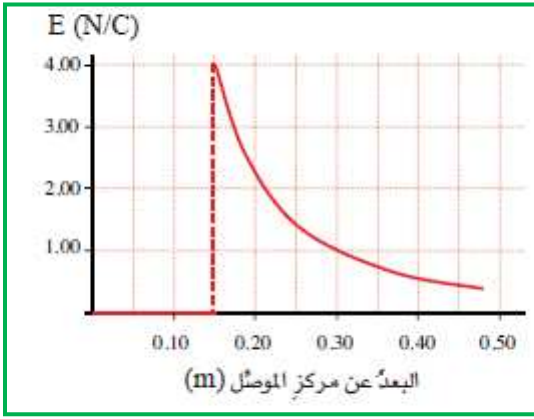
$$q = \rho V = \rho \times \frac{4}{3} \pi R^3$$

$$q = 8 \times 10^{-9} \times \frac{4}{3} \times \pi \times 0.5^3 = 4.186 \times 10^{-9} \text{ C}$$

$$E = k \frac{q}{r^2} = 9 \times 10^9 \times \frac{4.186 \times 10^{-9}}{0.6^2}$$

$$E = 1.04.65 \text{ N/C}$$

86. يظهر الشكل تغيرات مقدار شدة المجال الكهربائي في مجال موصل كروي مشحون. أجب عن الأسئلة التالية:



a- ما مقدار نصف قطر الموصل

$$R = 0.15m$$

b- ما كمية الشحنة التي يحملها الموصل.

$$E = k \frac{Q}{R^2} \quad Q = \frac{4 \times 0.15^2}{9 \times 10^9} = 1 \times 10^{-11} C$$

$$Q = \frac{ER^2}{k}$$

c- ما مقدار شدة المجال الكهربائي عند نقطة تبعد عن مركز الموصل 0.1m

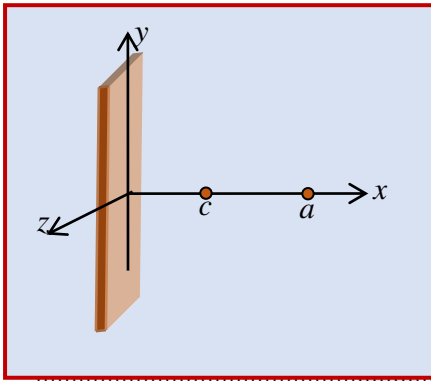
$$E = 0.0 N/C$$

87. سطح مستوي لا نهائي غير موصل كثافة الشحنة السطحية له $\sigma_1 = +6 pC/m^2$ موضوع

رأسياً على المستوى (x, y) ، انطلق بروتون حركته من السكون من نقطة موقعها

$x_c = 0.2m$ الى نقطة موقعها $x_a = 0.5m$ أحسب ما يلي.

a- العجلة التي يتحرك بها البروتون؟



$$a = \frac{F}{m_p} = \frac{q_p E}{m_p} = \frac{q_p \sigma}{2m_p \epsilon_0}$$

$$a = \frac{1.6 \times 10^{-19} \times 6 \times 10^{-12}}{2 \times 1.67 \times 10^{-27} \times 8.85 \times 10^{-12}} = 3.247 \times 10^7 m/s^2$$

b- التغير في فرق الجهد الكهربائي من من النقطة a الى c

$$\Delta V_{a \rightarrow c} = -Ed$$

$$\Delta V_{a \rightarrow c} = -\frac{6 \times 10^{-12}}{2 \times 8.85 \times 10^{-12}} (-0.3)$$

$$\Delta V_{a \rightarrow c} = -\frac{\sigma}{2\epsilon_0} d$$

$$\Delta V_{a \rightarrow c} = 0.1V$$

b- طاقة الحركية للبروتون بعد (0.5s) نصف ثانية من بدء حركته؟

$$v_f = v_i + at$$

$$K = \frac{1}{2} m_p v^2$$

$$v_f = 0 + (3.247 \times 10^7 \times 0.5) = 1.624 \times 10^7 m/s$$

$$K = \frac{1}{2} \times 1.67 \times 10^{-27} \times (1.624 \times 10^7)^2 = 2.2 \times 10^{-13} J$$

88. حلقة مشحونة بشحنة قدرها $Q = 5nC$ ونصف قطرها $R = 20cm$

a- ما مقدار المجال الكهربائي عند نقطة تقع على محور الحلقة وتبعد عن مركزها $b = 40cm$ ؟

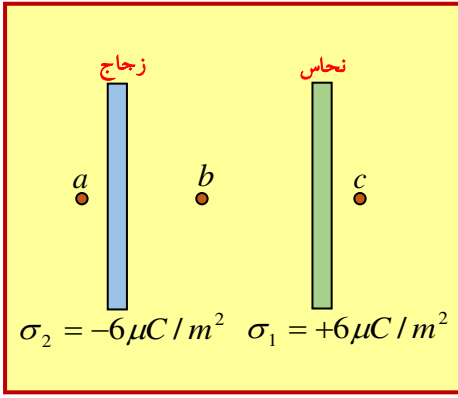
$$E = \frac{kQb}{(R^2 + b^2)^{3/2}}$$

$$E = \frac{9 \times 10^9 \times 5 \times 10^{-9} \times 0.4}{(0.2^2 + 0.4^2)^{3/2}}$$

$$E = 201.2 N/C$$

b- كم مقدار المجال الكهربائي عند مركز الحلقة؟

89. سطحان مستويان متوازيان لانتهائين كما بالشكل المجاور ، بالاعتماد على البيانات على الرسم اوجد المجال الكهربائي عند النقاط الثلاثة (a, b, c)

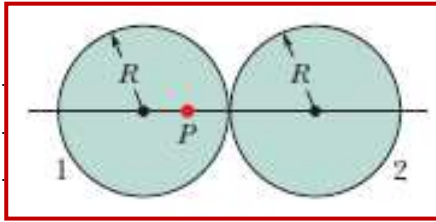


$$E_a = \frac{\sigma_2}{2\epsilon_0} + \frac{\sigma_1}{\epsilon_0} = \frac{6 \times 10^{-6}}{8.85 \times 10^{-12}} - \frac{6 \times 10^{-6}}{2 \times 8.85 \times 10^{-12}} = 3.39 \times 10^5 \text{ N/C}$$

$$E_b = \frac{\sigma_2}{2\epsilon_0} + \frac{\sigma_1}{\epsilon_0} = \frac{6 \times 10^{-6}}{8.85 \times 10^{-12}} + \frac{6 \times 10^{-6}}{2 \times 8.85 \times 10^{-12}} = 1.01 \times 10^6 \text{ N/C}$$

$$E_c = \frac{\sigma_1}{\epsilon_0} = \frac{6 \times 10^{-6}}{8.85 \times 10^{-12}} = 6.78 \times 10^5 \text{ N/C}$$

90. الشكل المجاور يوضح هيكلان لكرتين **غير موصلتين مصمتتين** ، لهما نفس نصف القطر ، اذا كانت النقطة P تبعد عن مركز الكرة الأولى R/2 وكان شدة المجال الكهربائي الناتج عن الكرتين عند النقطة P يساوي صفر.



أوجد نسبة شحنة الكرة الثانية الى الأولى q2 / q1

$$E_1 = E_2$$

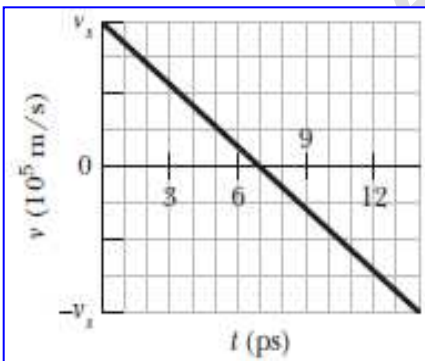
$$k \frac{q_1 r_1^2}{R^3} = k \frac{q_2}{r_2^2}$$

$$\frac{q_1 R}{2R^3} = \frac{q_2}{(1.5R)^2}$$

$$\frac{q_1}{2R^2} = \frac{q_2}{2.25R^2}$$

$$\frac{q_2}{q_1} = \frac{2.25}{2} = \frac{9}{8}$$

91. الشكل المجاور يبين سطح افقي مستوي لانتهائي من **البلاستيك** . قذف الكترون بسرعة ابتدائية قدرها $v_s = 2 \times 10^5 \text{ m/s}$ الرسم البياني يمثل العلاقة بين سرعة الالكترون والزمن المستغرق لعودته لنفس النقطة التي قذف منها. احسب كثافة الشحنة السطحية للبلاستيك؟



$$v_f = v_i + at$$

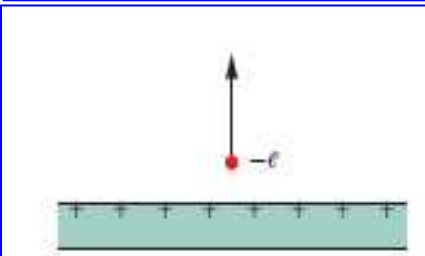
$$0 = 2 \times 10^5 - a \times 7 \times 10^{-9}$$

$$a = 2.857 \times 10^{13} \text{ m/s}^2$$

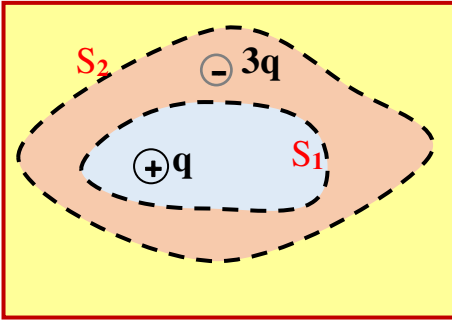
$$a = \frac{F}{m_e} = \frac{q_e E}{m_e} = \frac{q_e \sigma}{2m_e \epsilon_0}$$

$$\sigma = \frac{2.857 \times 10^{13} \times 2 \times 9.11 \times 10^{-31} \times 8.85 \times 10^{-12}}{1.6 \times 10^{-19}}$$

$$\sigma = 2.88 \times 10^{-9} \text{ C/m}^2$$



92. وضعت الشحنتان النقطيتان (q) و (-3q) في الهواء كما في الشكل المجاور، فإذا كان التدفق الكهربائي الذي يجتاز السطح المغلق S₁ يساوي [7.0×10³N.m²/C] . احسب التدفق الكهربائي الذي يجتاز السطح المغلق S₂.



$$\Phi_1 = \frac{q}{\epsilon_0}$$

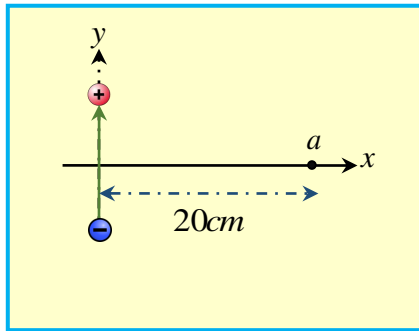
$$q = 7 \times 10^3 \times \epsilon_0$$

$$\Phi_2 = \frac{q_{en}}{\epsilon_0}$$

$$\Phi_2 = \frac{q - 3q}{\epsilon_0} = \frac{-2q}{\epsilon_0} = -2\Phi_1 = \frac{-2 \times 7 \times 10^3 \epsilon_0}{\epsilon_0}$$

$$\Phi_2 = -1.4 \times 10^4 \text{ N.m}^2 / \text{C}$$

93. ثنائي القطب مقدار شحنتيه (q = ±4nC) البعد بينهما (d = 0.5mm) كما بالشكل المجاور. رصدت نقطة a تقع على الخط المنصف لمحور ثنائي القطب وعلى بعد (x = 20cm) -a احسب المجال الكهربائي عند النقطة a مستنتجاً المعادلات اللازمة.



$$E = 2 \frac{kq}{r^2} \sin \theta = 2 \frac{kq}{r^2} \times \frac{d/2}{r} = \frac{kqd}{r^3} \quad r = \sqrt{(x)^2 + (d/2)^2}$$

$$E = \frac{kqd}{(x^2 + (d/2)^2)^{3/2}}$$

$$E \approx \frac{kqd}{x^3}$$

$$E \approx \frac{9 \times 10^9 \times 4 \times 10^{-9} \times 0.5 \times 10^{-3}}{0.2^3} = 2.25 \text{ N/C}$$

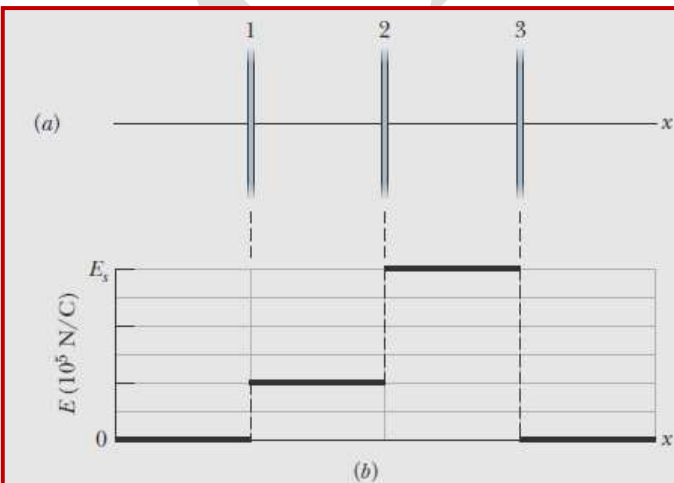
b- ما مقدار الجهد الكهربائي عند النقطة a مبرراً أجابتك؟

$$V_t = k \frac{q}{r} + k \frac{-q}{r} = 0.0$$

94. الشكل (a) يبين ثلاث اسطح رقيقة من البلاستيك متوازية ومشحونة بانتظام والشكل البياني (b) يبين محصلة المجال الكهربائي الناشئ عن الاسطح الثلاثة وشدة المجال الكهربائي

$$E_s = 6 \times 10^5 \text{ N/C}$$

ما مقدار كثافة الشحنة السطحية لكل سطح ؟



$$E_1 + E_2 + E_3 = 6 \times 10^5$$

بين اللوحين 2 و 3

$$E_3 - E_1 - E_2 = 0$$

يمين اللوح 3

$$E_3 = 3 \times 10^5 \text{ N/C}$$

$$E_1 - E_2 + E_3 = 2 \times 10^5$$

$$E_1 = 1 \times 10^5 \text{ N/C}$$

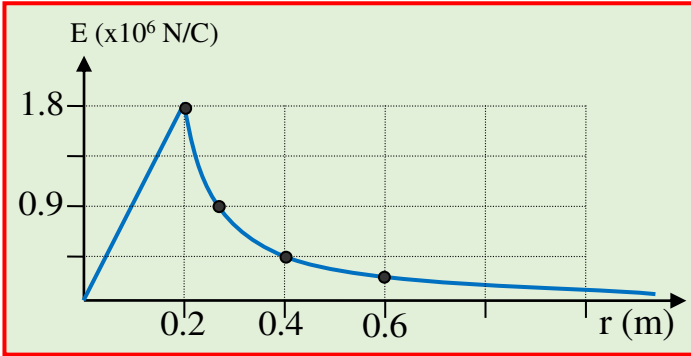
من المعادلات السابقة

$$E_2 = 2 \times 10^5 \text{ N/C}$$

$$\sigma = E \times 2\epsilon_0$$

من العلاقة التالية يمكن حساب كثافة الشحنة السطحية لكل لوح

95. هيكل كروي مصمت غير موصل مشحون بانتظام ، الرسم البياني يمثل العلاقة البياني بين شدة المجال الكهربائي عند نقطة وبعد النقطة عن الهيكل الكروي المصمت والغير موصل
a- ما مقدار كثافة الشحنة الحجمية للهيكل الكروي.



$$E = k \frac{Q}{R^2}$$

$$Q = ER^2 / k$$

$$Q = \frac{1.8 \times 10^6 \times 0.2^2}{9 \times 10^9}$$

$$Q = 8 \times 10^{-6} C$$

$$\rho = \frac{Q}{V} = \frac{Q}{\frac{4}{3}\pi R^3}$$

$$\rho = \frac{8 \times 10^{-6}}{\frac{4}{3} \times \pi \times 0.2^3}$$

$$\rho = 2.388 \times 10^{-4} C/m^3$$

b- ما مقدار شدة المجال الكهربائي عند نقطة تبعد 0.1m عن مركز الهيكل الكروي.

$$E = k \frac{Qr_1}{R^3}$$

$$E = 9 \times 10^9 \frac{8 \times 10^{-6} \times 0.1}{0.2^3}$$

$$E = 9 \times 10^5 N/C$$

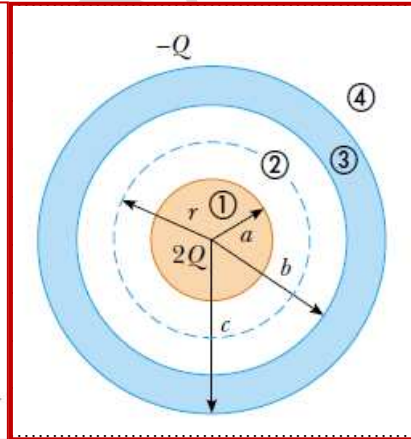
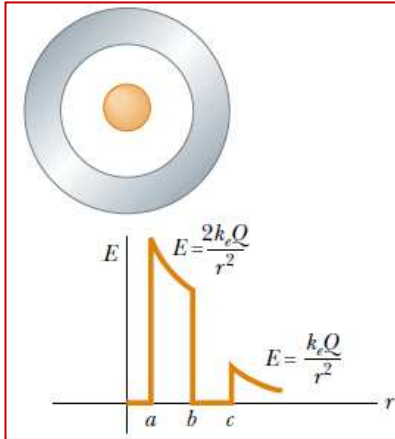
c- ما مقدار الجهد الكهربائي عند نقطة تبعد 0.4m عن مركز الهيكل الكروي.

$$E = k \frac{Q}{r_2^2}$$

$$E = 9 \times 10^9 \frac{8 \times 10^{-6}}{0.4^2}$$

$$E = 4.5 \times 10^5 N/C$$

96. كرة موصلة مصمته نصف قطرها (a) وتحمل شحنة موجبة قدرها (2Q) محاطة بموصل كروي اجوف نصف قطره الداخلي (b) والخارجي (c) ويحمل شحنة سالبة قدرها (-Q) ، استخدم قانون جاوس لحساب شدة المجال الكهربائي عند النقاط ① و ② و ③ و ④ (الرسم البياني الحل النهائي للمجال عند كل نقطة)



$$\Phi_1 = \frac{q_{en}}{\epsilon_0} = \frac{0.0}{\epsilon_0} = 0.0$$

(1) النقطة

$$\Phi_2 = EA \cos 0 = \frac{2Q}{\epsilon_0}$$

(2) النقطة

$$E = \frac{2Q}{4\pi\epsilon_0 r_2^2}$$

$$\Phi_3 = \frac{q_{en}}{\epsilon_0} = \frac{0.0}{\epsilon_0} = 0.0$$

(3) النقطة

97. موصلان كرويان نصف قطر الأول 0.2m الجهد الكهربائي عن مركزه (45V) والآخر نصف قطره (0.3m) الجهد الكهربائي عند مركزه (-54V) . تم توصيل سلك طويل بينهما .

ما مقدار عدد الكترولونات التي انتقلت بين الموصلين إلا أن وصلا لحالة اتزان. ثم حدد جهة انتقال الالكترولونات بين الموصلين.

$$Q_1 = \frac{V_1 R_1}{k} = \frac{45 \times 0.2}{9 \times 10^9} = 1.0 \times 10^{-9} C$$

$$V_1 = V_2$$

$$k \frac{q_1}{R_1} = k \frac{q_2}{R_2}$$

$$q_1 + q_2 = -5 \times 10^{-10}$$

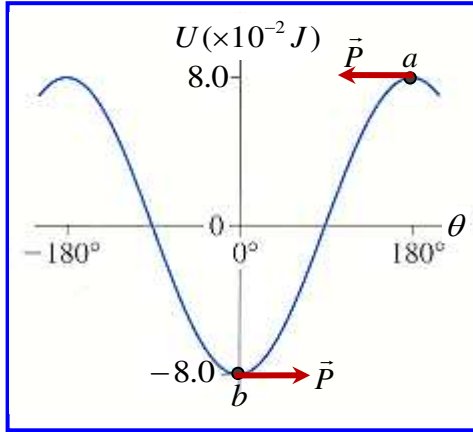
$$Q_2 = \frac{V_2 R_2}{k} = \frac{-45 \times 0.3}{9 \times 10^9} = -1.5 \times 10^{-9} C$$

$$\frac{q_1}{0.2} = \frac{-5 \times 10^{-10} - q_1}{0.3}$$

$$q_1 = -2 \times 10^{-10} C$$

$$q_2 = -3.0 \times 10^{-10} C$$

98. الرسم البياني المجاور يبين العلاقة بين طاقة الوضع كدالة للزاوية بين ثنائي القطب الكهربائي والمجال الكهربائي الخارجي المنتظم الذي مقداره $4 \times 10^3 \text{ N/C}$ واتجاهه نحو محور x الموجب بالاعتماد على البيانات على الشكل أجب عن الأسئلة التالية.



a- ما مقدار عزم ثنائي القطب

$$U_{\max} = PE$$

$$P = \frac{8 \times 10^{-2}}{4 \times 10^3}$$

$$P = 2 \times 10^{-5} \text{ C.m}$$

b- حدد اتجاه عزم ثنائي القطب عند النقطة a و b

c- ما مقدار طاقة الوضع الكهربائية لثنائي القطب

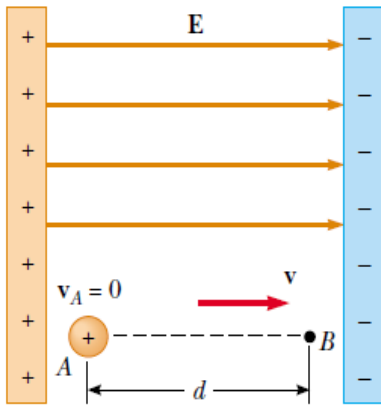
عند الزاوية 130°

$$U = PE \cos \theta$$

$$U = 8 \times 10^{-2} \cos 130$$

$$U = -5.1 \times 10^{-2} \text{ J}$$

99. **بروتون** بدأ حركته من السكون من نقطة بالقرب من اللوح الموجب داخل مجال كهربائي منتظم شدته $8.0 \times 10^4 \text{ V/m}$ كما بالشكل المجاور، فإذا تحرك **البروتون** مسافة قدرها $d = 0.50 \text{ m}$ باتجاه المجال.



a- أوجد فرق الجهد بين النقطتين A و B $\Delta V_{A \rightarrow B}$

$$\Delta V_{A \rightarrow B} = -Ed$$

$$= -8 \times 10^4 \times 0.5$$

$$= -4 \times 10^4 \text{ V}$$

b- ما التغير في طاقة الوضع الكهربائية للبروتون من A إلى B

$$\Delta U_{A \rightarrow B} = q\Delta V$$

$$= 1.6 \times 10^{-19} \times -4 \times 10^4$$

$$\Delta U_{A \rightarrow B} = -6.4 \times 10^{-15} \text{ J}$$

c- ما مقدار سرعة البروتون لحظة وصوله النقطة B

$$\Delta E = -\Delta U$$

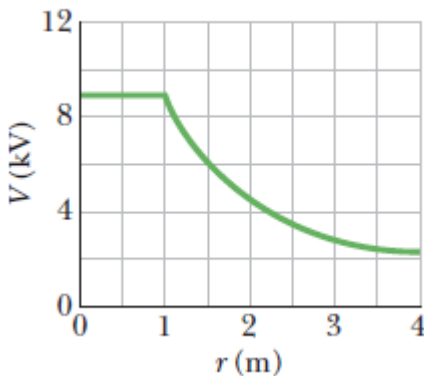
$$E - 0 = -(-6.4 \times 10^{-15})$$

$$\frac{1}{2} m_p v^2 = 6.4 \times 10^{-15}$$

$$v = \sqrt{\frac{2 \times 6.4 \times 10^{-15}}{1.67 \times 10^{-27}}} = 2.768 \times 10^6 \text{ m/s}$$

100. الرسم البياني يمثل العلاقة بين الجهد الكهربائي عند نقطة وبعد النقطة عن مركز موصل كروي مشحون بشحنة موجبة؟

a- ما مقدار شحنة الموصل الكروي؟



$$Q = \frac{VR}{k} = \frac{9000 \times 1}{9 \times 10^9} = 1.0 \times 10^{-6} \text{ C}$$

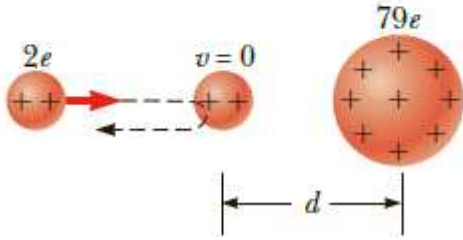
b- ما مقدار الشغل المبذول (خارجي) لنقل بروتون من نقطة

تبعد 1.5m مركز الموصل الى نقطة تقع على سطح؟

$$W = q\Delta V$$

$$= 1.6 \times 10^{-19} \times (9000 - 6000) = 4.8 \times 10^{-16} \text{ J}$$

101. قذف جزيء الفا الذي يحمل شحنة $+2e$ وكتلته $6.64 \times 10^{-27} \text{ kg}$ بسرعة ابتدائية $v_i = 2.0 \times 10^7 \text{ m/s}$ من مكان بعيد جداً نحو ذرة ذهب ساكنة تحمل شحنة قدرها $+79e$ كما بالشكل المجاور، ما مقدار اقل مسافة يصل اليه جزيء الفا ليصبح في وضع السكون وتبدأ في الابتعاد عن ذرة الذهب؟



$$\Delta K = -\Delta U$$

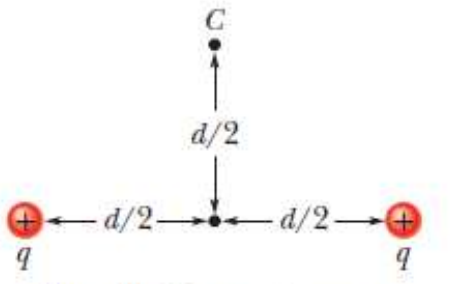
$$K_f - K_i = -(U_f - 0)$$

$$0 - \frac{1}{2} \times 6.64 \times 10^{-27} \times (2 \times 10^7)^2 = -9 \times 10^9 \frac{(2e)(79e)}{d}$$

$$d = 2.74 \times 10^{-14} \text{ m}$$

102. شحنتان موجبتان متماثلتان مقدار كل منهما $q = +2.0 \mu\text{C}$ ويبعدان عن بعضهما مسافة $d = 2.0 \text{ cm}$ أوجد؟

- الجهد الكهربائي عند النقطة C؟



$$V_c = k \frac{q}{r} + k \frac{q}{r} = 2k \frac{q}{r}$$

$$= 2 \times 9 \times 10^9 \times \frac{2 \times 10^{-6}}{0.01414} = 2.546 \times 10^6 \text{ V}$$

b- مقدار الشغل المبذول (خارجي) لنقل شحنة ثلاثة قدرها $q = +2.0 \mu\text{C}$ من مكان بعيد جداً (مالانهاية) الى النقطة (C)

$$W = q(V_c - V_\infty)$$

$$= 2.0 \times 10^{-6} \times (2.546 \times 10^6 - 0) = 5.1 \text{ J}$$

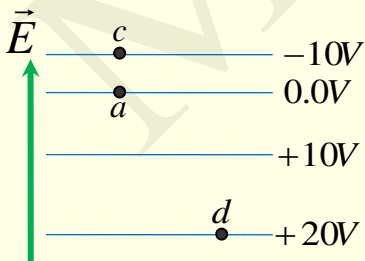
c- بعد نقل الشحنة الثالثة ما مقدار طاقة الوضع الكهربائية للنظام؟

$$U_{\text{system}} = k \frac{q^2}{d/2} + k \frac{qq_3}{d/2} = 9 \times 10^9 \frac{(2 \times 10^{-6})^2}{1 \times 10^{-2}} + 9 \times 10^9 \frac{2 \times 10^{-6} \times 2 \times 10^{-6}}{1 \times 10^{-2}} = 7.19 \text{ J}$$

103. الشكل المجاور بين خطوط تساوي الجهد عما يلي

a- حدد على الرسم اتجاه المجال الكهربائي؟

b- ما التغير في طاقة الوضع لبروتون نقل من النقطة c الى d



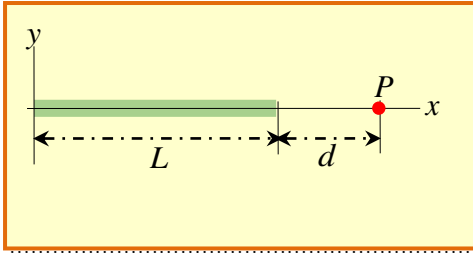
$$\Delta U_{c \rightarrow d} = q_p (V_d - V_c)$$

$$= 1.6 \times 10^{-19} \times ((20 - (-10))) = +4.8 \times 10^{-18} \text{ J}$$

c- اذا كانت الازاحة بين النقطتين a و c تساوي 1.5 cm ما مقدار شدة المجال الكهربائي بينهما؟

$$E = \left| -\frac{\Delta V}{d} \right| = \frac{10}{1.5 \times 10^{-2}} = 666.66 \text{ V/m}$$

104. سلك رفيع طوله (20cm) كثافة الشحنة الطولية له ($\lambda = 2nC$) كما بالشكل المجاور



استنتج العلاقة الرياضية لحساب الجهد الكهربائي عند النقطة (P) الواقعة على امتداد محور السلك . واحسب مقدار الجهد الكهربائي عند تلك النقطة اذا كانت تبعد عن طرف السلك مسافة $d=0.5cm$

$$dV = k \frac{dq}{r}$$

$$V = \int_d^{d+L} k \frac{\lambda dr}{r} = k\lambda \int_d^{d+L} \frac{1}{r} dr = k\lambda (\ln r)|_d^{d+L}$$

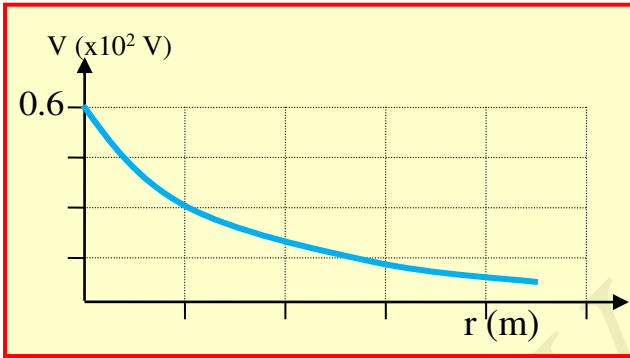
$$V = k\lambda \ln \frac{d+L}{d}$$

$$V = k\lambda \ln \frac{d+L}{d}$$

$$= 9 \times 10^9 \times 2 \times 10^{-9} \ln \frac{0.205}{0.5 \times 10^{-2}}$$

$$= 66.84V$$

105. الرسم البياني التالي يبين العلاقة بين الجهد الكهربائي عند نقطة تقع على محور قرص نصف قطره 0.3m ومشحون وبعد النقطة عن سطح القرص.



a- ما مقدار كثافة الشحنة السطحية للقرص؟

$$V = 2k \frac{Q}{R}$$

$$Q = \frac{0.6 \times 10^2 \times 0.3}{2 \times 9 \times 10^9} = 1.0 \times 10^{-9} C$$

$$\sigma = \frac{Q}{A} = \frac{1.0 \times 10^{-9}}{\pi \times 0.3^2} = 3.54 \times 10^{-9} C/m^2$$

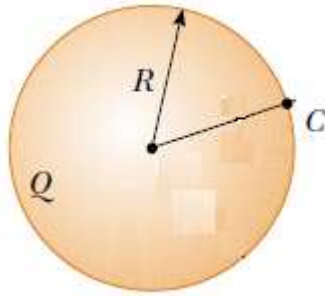
b- ما مقدار الجهد الكهربائي عند نقطة تقع على محور القرص وتبعد 0.8m عن سطح القرص؟

$$V = 2k \frac{Q}{R^2} (\sqrt{x^2 + R^2} - x)$$

$$V = \frac{2 \times 9 \times 10^9 \times 1 \times 10^{-9}}{0.3^2} (\sqrt{0.8^2 + 0.3^2} - 0.8) = 10.88V$$

106. الشكل المجاور ، كرة مصمتة من مادة غير موصلة نصف قطرها $R= 0.12m$ تحوي شحنة موزعة بانتظام مقدارها $+30nC$

a- استنتج العلاقة الرياضية لحساب الجهد الكهربائي عند مركز الكرة وما مقدار الجهد الكهربائي عند مركزها.



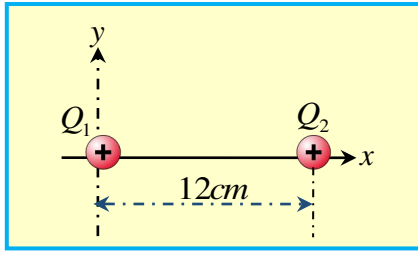
$$V = V_{\infty \rightarrow R} + V_{R \rightarrow 0} = -\int_{\infty}^R \frac{kq}{r^2} dr - \int_R^0 \frac{kqrdr}{R^3} = (k \frac{q}{R}) + (k \frac{q}{2R}) = \frac{3kq}{2R}$$

$$V_C = \frac{3 \times 9 \times 10^9 \times 30 \times 10^{-9}}{2 \times 0.12} = 3375V$$

b- ما مقدار الجهد الكهربائي عند النقطة (c) الواقعة على سطح الكرة.

$$V_C = k \frac{q}{R} = \frac{9 \times 10^9 \times 30 \times 10^{-9}}{0.12} = 2250V$$

107. الشكل المجاور يبين شحنتان موجبتان موضوعتان على المحور x وضعت الشحنة الأولى التي



مقدارها $Q_1 = +4.0 \mu C$ عند نقطة الاصل ووضعت الثانية التي

مقدارها $Q_2 = +25.0 \mu C$ عند موقع $x = 12 \text{ cm}$

عند أي نقطة على طول المحور x بين الشحنتين يكون الجهد

الكهربائي الناتج منهما أدنى ما يمكن؟

$$V_t = k \frac{Q_1}{x} + k \frac{Q_2}{0.12 - x}$$

$$V_t = k \frac{Q_1}{x} dx + k \frac{Q_2}{0.12 - x} dx = 0$$

$$kQ_1 \left(-\frac{1}{x^2} \right) + kQ_2 \left(\frac{1}{(0.12 - x)^2} \right) = 0.0$$

$$kQ_1 \left(\frac{1}{x^2} \right) = kQ_2 \left(\frac{1}{(0.12 - x)^2} \right)$$

$$\frac{Q_1}{x^2} = \frac{Q_2}{(0.12 - x)^2}$$

$$\frac{\sqrt{4 \times 10^{-6}}}{x} = \frac{\sqrt{25 \times 10^{-6}}}{0.12 - x}$$

$$x = 0.034 \text{ m}$$

$$E_1 = E_2$$

$$k \frac{Q_1}{x^2} = k \frac{Q_2}{(0.12 - x)^2}$$

حل آخر

108. من خلال الشكل المجاور وبالاعتماد على البيانات التي عليه .

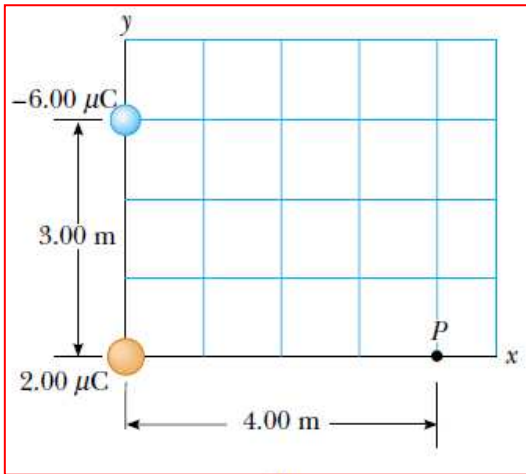
a- أحسب الجهد الكهربائي عند النقطة (P)

$$V_t = 9 \times 10^9 \left(\frac{-6 \times 10^{-6}}{5} + \frac{2 \times 10^{-6}}{4} \right)$$

$$V_t = -6300 \text{ V}$$

b- أحسب التغير في طاقة الوضع الكهربائية للشحنة

($+3.0 \mu C$) إذا نقلت من مالانهاية الى النقطة (P)



$$\Delta U_{\infty \rightarrow P} = q(V_P - V_{\infty})$$

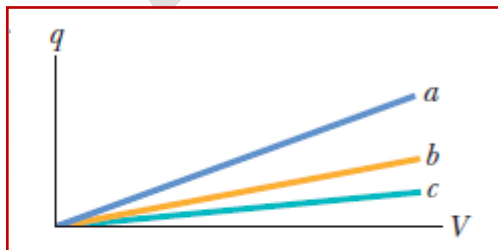
$$\Delta U = 3 \times 10^{-6} \times -6300$$

$$\Delta U = -1.89 \times 10^{-2} \text{ J}$$

109. الرسم البياني المجاور يبين ثلاث منحنيات تمثل العلاقة بين شحنة المكثف المستوي والجهد

الناشئ عنها وذلك لثلاث مكثفات

أختر من الجدول المجاور المكثف المناسب للمنحنى المناسب له بالرسم البياني



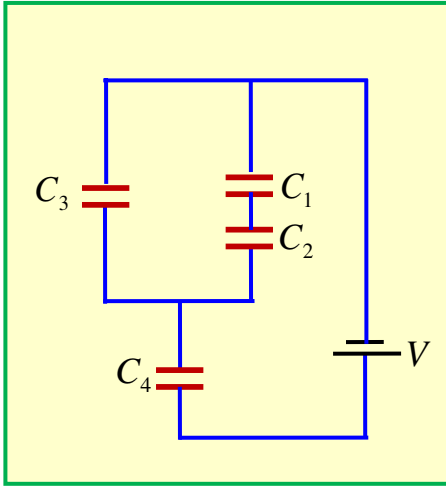
المكثف	الميل	مساحة لوح المكثف A	البعد بين اللوحين d
1	b	A	d
2	a	2A	d
3	c	A	2d

110. الشكل المجاور لدائرة تحوي أربع مكثفات سعاتها

($C_1 = 120\mu F, C_2 = 40\mu F, C_3 = 60\mu F, C_4 = 80\mu F$) متصلة مع بطارية، اذا كانت الشحنة

التي يحملها المكثف C_4 تساوي $q_4 = 100\mu C$ أجب عما يلي.

a- السعة المكافئة لمجموعة المكثفات؟



$$C_{1,2} = \left(\frac{1}{C_1} + \frac{1}{C_2}\right)^{-1} = \left(\frac{1}{120 \times 10^{-6}} + \frac{1}{40 \times 10^{-6}}\right)^{-1} = 30 \times 10^{-6} F$$

$$C_{12,3} = C_{1,2} + C_3 = 30 \times 10^{-6} + 60 \times 10^{-6} = 90 \times 10^{-6} F$$

$$C_{eq} = \left(\frac{1}{C_{12,3}} + \frac{1}{C_4}\right)^{-1} = \left(\frac{1}{90 \times 10^{-6}} + \frac{1}{80 \times 10^{-6}}\right)^{-1} = 42.35 \times 10^{-6} F$$

b- فرق الجهد بين قطبي البطارية؟

$$\Delta V_t = \frac{q_t}{C_{eq}} = \frac{100 \times 10^{-6}}{42.35 \times 10^{-6}} = 2.36 V$$

c- فرق الجهد للمكثف C_3

$$\Delta V_3 = \Delta V_{1,2,3} = \frac{q_{1,2,3}}{C_{1,2,3}} = \frac{100 \times 10^{-6}}{90 \times 10^{-6}} = 1.111 V$$

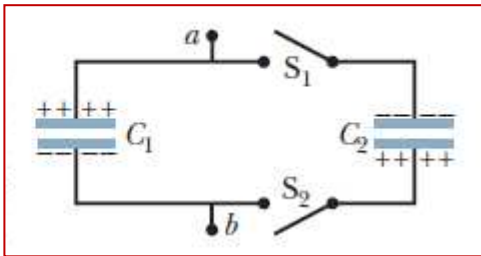
$$\Delta V_3 = \Delta V_t - \Delta V_4 = 2.36 - \frac{100 \times 10^{-6}}{80 \times 10^{-6}} = 1.111 V$$

حل آخر

111. مكثفان سعاتهما ($C_1 = 1.0\mu F, C_2 = 3.0\mu F$) كما بالشكل ، المفتاحان S_1 و S_2 مفتوحان

ويحمل المكثف الأول شحنة قدرها $Q_1 = 20nC$ والمكثف الثاني شحنة قدرها $Q_2 = 60nC$ وذلك قبل غلق المفتاحين.

كم تصبح شحنة كل مكثف بعد غلق المفتاحين؟



$$q_t = |60 \times 10^{-9} - 20 \times 10^{-9}| = 40 \times 10^{-9} C$$

$$\Delta V_1 = \Delta V_2$$

$$\frac{q_1}{C_1} = \frac{q_2}{C_2}$$

$$\frac{q_1}{1 \times 10^{-6}} = \frac{40 \times 10^{-9} - q_1}{3 \times 10^{-6}}$$

$$3q_1 = 40 \times 10^{-9} - q_1$$

$$4q_1 = 40 \times 10^{-9}$$

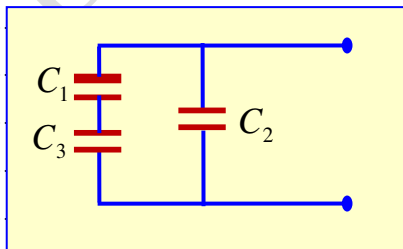
$$q_1 = 10 \times 10^{-9} C$$

$$q_1 + q_2 = 40 \times 10^{-9}$$

$$q_2 = 40 \times 10^{-9} - q_1$$

112. اذا كان متوفر لديك ثلاثة مكثفات سعاتها $C_1 = 6.0\mu F, C_2 = 2.0\mu F, C_3 = 12\mu F$ كيف يمكن

توصيلهما معاً للحصول على سعة مكافئة قدرها $C_{eq} = 5.0\mu F$



يوصل المكثفان C_1 و C_3 على التوالي
وكلا المكثفات يوصلان مع المكثف C_2
على التوازي

113. مكثف هوائي متوازي الألواح. إذا كانت أبعاد المكثف ($d = 1\text{mm}$ و $A = 0.5\text{cm}^2$) شحنت لوحيه بوصله مع بطارية فرق الجهد بين قطبيها 10V **ثم فصلت البطارية** عن المكثف الهوائي.
a- ما مقدار شدة المجال الكهربائي بين اللوحين.

$$E = \frac{|\Delta V|}{d} = \frac{10}{1 \times 10^{-3}} = 10^4 \text{V/m}$$

b- ما مقدار كثافة الطاقة المخزنة بين لوحيه.

$$u = \frac{1}{2} \epsilon_0 E^2 = \frac{1}{2} \times 8.85 \times 10^{-12} (10^4)^2 = 4.425 \times 10^{-4} \text{J/m}^3$$

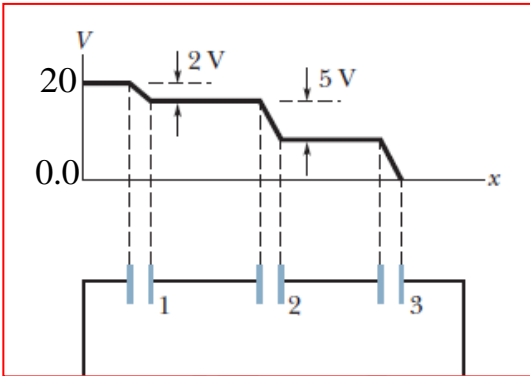
c- إذا وضعت مادة عازلة بين لوحيه ثابت عازليتها 4 والبطارية مازالت مفصولة. احسب شدة المجال الكهربائي الناشئ بالمادة العازلة.

$$E_r = \frac{E_o}{\kappa} = \frac{10^4}{4} = 2500 \text{V/m}$$

$$E_d = E_o - E_r$$

$$E_d = 10^4 - 2500 = 7500 \text{V/m}$$

114. الشكل المجاور يمثل ثلاثة مكثفات متصلة معاً على التوالي مع مصدر جهد كهربائي جهده 20V وسعة المكثف رقم 3 يساوي $C_3 = 1.2\mu\text{F}$ ، والشكل البياني يبين الهبوط بالجهد للمكثفات الثلاث. أوجد السعة الكهربائية لكل مكثف؟



$$\Delta V_T = \Delta V_1 + \Delta V_2 + \Delta V_3$$

$$20 = 2 + 5 + \Delta V_3$$

$$\Delta V_3 = 13\text{V}$$

$$q_3 = C_3 \Delta V_3 = q_1 = q_2$$

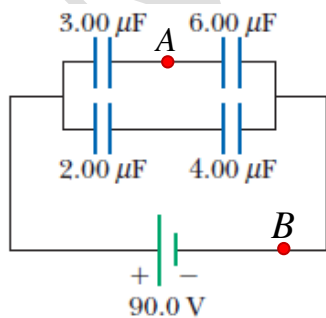
$$q_3 = 1.2 \times 10^{-6} \times 13$$

$$= 1.56 \times 10^{-5} \text{C}$$

$$C_1 = \frac{q_1}{\Delta V_1} = \frac{1.56 \times 10^{-5}}{2} = 7.8 \times 10^{-6} \text{F}$$

$$C_2 = \frac{q_2}{\Delta V_2} = \frac{1.56 \times 10^{-5}}{5} = 3.12 \times 10^{-6} \text{F}$$

115. بالاعتماد على البيانات على الشكل المجاور وكانت الدائرة في حالة اتزان ، وجهد النقطة



$V_B = 0.0$ ما مقدار جهد النقطة V_A ؟

$$C_{3,6} = \left(\frac{1}{C_3} + \frac{1}{C_6} \right)^{-1} = \left(\frac{1}{3 \times 10^{-6}} + \frac{1}{6 \times 10^{-6}} \right)^{-1} = 2 \times 10^{-6} \text{F}$$

$$q_{3,6} = C_{3,6} \Delta V_{3,6} = q_6$$

$$q_{3,6} = 2 \times 10^{-6} \times 90$$

$$= 1.8 \times 10^{-4} \text{C}$$

$$\Delta V_6 = \Delta V_{A,B} = V_A - V_B$$

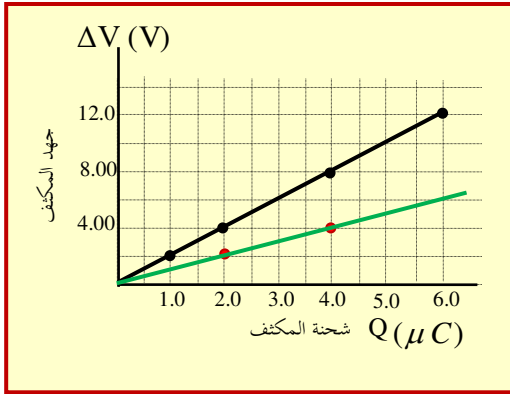
$$\frac{q_6}{C_6} = V_A - 0$$

$$\frac{1.8 \times 10^{-4}}{6 \times 10^{-6}} = V_A$$

$$V_A = 30\text{V}$$

116. مكثف مستوي هوائي المساحة المشتركة بين لوحيه (2.0cm^2) تم توصيله ببطارية، الشكل المجاور يبين تغيرات فرق الجهد بين صفيحتي المكثف بتغير شحنته أثناء عملية شحن المكثف .
أجب عما يلي:

a- احسب السعة الكهربائية للمكثف.



$$\text{slope} = \frac{\Delta V}{\Delta Q} = \frac{12-8}{(6-4) \times 10^{-6}} = 2 \times 10^6$$

$$C = \frac{1}{\text{slope}} = \frac{1}{2 \times 10^6} = 5 \times 10^{-7} \text{ F}$$

b- ما مقدار المسافة (d) بين لوحي المكثف.

$$C = \frac{\epsilon_0 A}{d}$$

$$d = \frac{\epsilon_0 A}{C} = \frac{8.85 \times 10^{-12} \times 2 \times 10^{-4}}{5 \times 10^{-7}} = 3.54 \times 10^{-9} \text{ m}$$

c- ما مقدار التغير في طاقة الوضع المخزنة بالمكثف عند تغير جهده من (4V-8V)

$$\Delta U = \frac{1}{2} C \Delta V^2$$

$$\Delta U = \frac{1}{2} \times 5 \times 10^{-7} \times (8-4)^2 = 4 \times 10^{-6} \text{ J}$$

d- اذا اعيدت التجربة ولكن **قلت** المسافة بين لوحيه **لنصف** فأرسم على نفس الرسم البياني العلاقة بين شحنة المكثف وجهده.

117. أثبت من خلال المعادلات

a- أن وحدة $N/C \equiv V/m$

$$E = \frac{F}{q} = N/C$$

$$E = \frac{\Delta V}{d} = V/m$$

b- أن وحدة ثابت السماحية الكهربائية ϵ_0 هي F/m

$$C = \frac{\epsilon_0 A}{d}$$

$$\epsilon_0 = \frac{Cd}{A} = 8.85 \times 10^{-12} \frac{F \cdot m}{m^2} \Rightarrow F/m$$

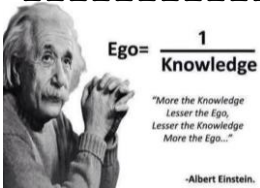
118. مكثف اسطواني نصف قطريه ($r_1 = 8\text{cm}$ و $r_2 = 10\text{cm}$) يملاً عازل بين لوحيه $\kappa = 6$ وفرق

الجهد بين لوحيه (40V) وشحنته (2nC) أوجد طول المكثف الاسطواني؟

$$C = \frac{q}{\Delta V} = \frac{2 \times 10^{-9}}{40} = 5 \times 10^{-11} \text{ F}$$

$$L = \frac{5 \times 10^{-11} \ln(0.1/0.08)}{2\pi \times 6 \times 8.85 \times 10^{-12}} = 0.033\text{m}$$

$$C = \frac{2\pi\kappa\epsilon_0 L}{\ln(r_2/r_1)}$$



اتمنى لكم التوفيق والنجاح

محمود عوض الله