

منطقة حولي التعليمية
مدرسة أم القرى الابتدائية بنات

الوحدة الثالثة

WWW.KweduFiles.Com

الصف الرابع



إعداد المعلمات:

ولاء المصري

فاديه أبو الفتوح

إشراف رئيسة القسم :

منى العطار

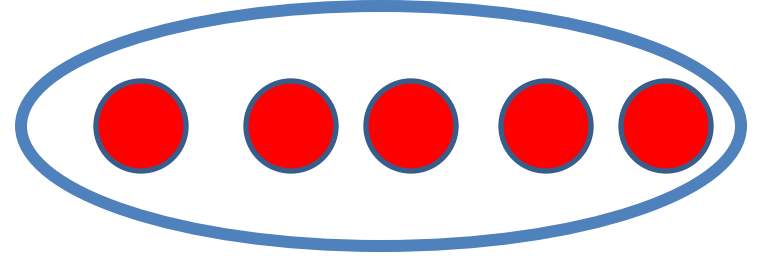
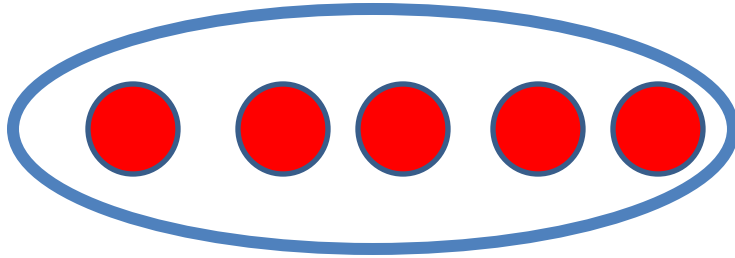
مراجعة مفهوم الضرب

WWW.KweduFiles.Com

الدرس (١-٣)




أكتب عبارة جمع مناسبة وعبارة ضرب (إن أمكن)



WWW.KweduFiles.Com

أكتب عبارة جمع مناسبة وعبارة ضرب (إن أمكن)



WWW.KweduFiles.Com




أكتب عبارة ضرب مناسبة



WWW.KweduFiles.Com

أكتب عبارة ضرب مناسبة



أوجد الناتج

$$\underline{\hspace{10em}} = ٧ \times ٤$$

$$\underline{\hspace{10em}} = ٦ \times ٣$$

$$\underline{\hspace{10em}} = ٩ \times ٥$$

www.KweduFiles.Com

أوجد الناتج

٧

٩

٧ ×

٤ ×

www.KweduFiles.Com



أوجد الضعف لكل عدد




٤

WWW.KweduFiles.Com



٩

أكمل



مَخْرَجَات

مُدْخَلَات

٥

٤


٧

أكمل

مَخْرَجَات

مُدْخَلَات

١
٧
٩



www.KweduFiles.Com

أكمل

ع

ف

ق

×

WWW.KweduFiles.Com

ك

لديك ٣ واردات حمراء .
و واردات صفراء أكثر
منها بعريتين . فكم عدد
الواردات الصفراء ؟

www.KweduFiles.Com

توفر مريم ٣ دناتير أسبوعيا

وتوفر دانه ٥ دناتير أسبوعيا .

هل ما توفره مريم في ٤

WWW.KweduFiles.Com

أسابيع يساوي ما توفره دانه

في ٧ أسابيع ؟ فسر إجابتك .


اختر الاجابة الصحيحة بوضع

العددان الذي ناتج ضربهما


٦٣ هما

WWW.KweduFiles.Com


٩٠٦




٧٠٩



٨٠٥



٧٠٨



اختر الاجابة الصحيحة بوضع

٧ مجموعات في كل مجموعة

٦ لاعبين . أياً من التعبيرات

www.kwedufiles.com

التالية يعبر عن عدد كل

اللاعبين

$$6 + 7$$

$$6 \times 7$$

$$6 \div 7$$

$$6 - 7$$

الضرب في الأعداد ١٠، ١٠٠، ١٠٠٠ ومضاعفاتها

WWW.KweduFiles.Com

الدرس (٣-٢)



أوجد الناتج

$$\underline{\hspace{10em}} = 3. \times 4$$

WWW.KweduFiles.Com

$$\underline{\hspace{10em}} = 6 \times 2.$$

أوجد الناتج

$$\underline{\hspace{10em}} = 900 \times 1$$

WWW.KweduFiles.Com

$$\underline{\hspace{10em}} = 7 \times 400$$

أوجد الناتج

٨

٠

٣

٠

٠

٧ ×

٤ ×

www.KweduFiles.Com



أوجد الناتج

٩

٣

٩

×

٥

١

١

×

www.KweduFiles.Com



أكمل

٩

٦

٢

×

WWW.KweduFiles.Com

٣

١

أكمل

ا

و

ع

خ

WWW.KweduFiles.Com

ب . .

إذا علمت أن حاصل ضرب ٣ في ٨ يساوي

٢٤ . WWW.KweduFiles.Com

فما ناتج ضرب ٣ في ٨٠٠ ؟

كم دقيقة في ٥ ساعات؟

WWW.KweduFiles.Com



خواص الضرب

WWW.KweduFiles.Com

الدرس (٣-٣)



أكمل

$$\underline{\hspace{10em}} = 60 \times 1$$

$$\underline{\hspace{10em}} = \times 9$$

$$\underline{\hspace{10em}} \times 6 = 6 \times 7$$

أوجد الناتج

$$\underline{\hspace{10em}} = 3 \times 3 \times 3$$

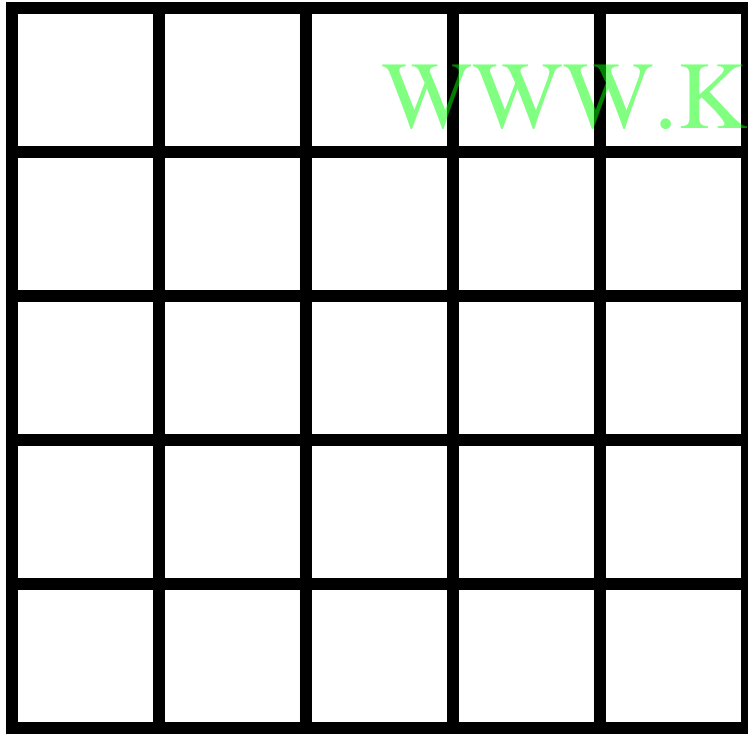
WWW.KweduFiles.Com

$$\underline{\hspace{10em}} = 2 \times 9 \times 5$$


$$\underline{\hspace{10em}} = 2 \times 4 \times 1$$

استعن بالشبكة والأقلام الملونة

إيجاد ناتج ضرب 2×3



WWW.KweduFiles.Com



أكمل

$$(\square + 2) \times 3 = 7 \times 3$$

$$\square \times 3 + 2 \times 3 =$$

WWW.KweduFiles.Com

$$\square + \square =$$

$$\square =$$

أكمل

$$(\square + ٤) \times ٨ = ٩ \times ٨$$

$$\square \times ٨ + ٤ \times ٨ =$$

WWW.KweduFiles.Com

$$\square + \square =$$

$$\square =$$

يقول فهد أن حاصل ضرب ٦ في ٨ يساوي ناتج $(٦ \times ٣) + (٦ \times ٥)$.

هل توافقه الرأي؟ وضح ذلك.

الضرب في عدد رمزه مكون من رقمين

WWW.KweduFiles.Com

الدرس (٣-٤)



اوجد الناتج مستخدما الشبكة الموضحة

$$= ١٣ \times ٧$$

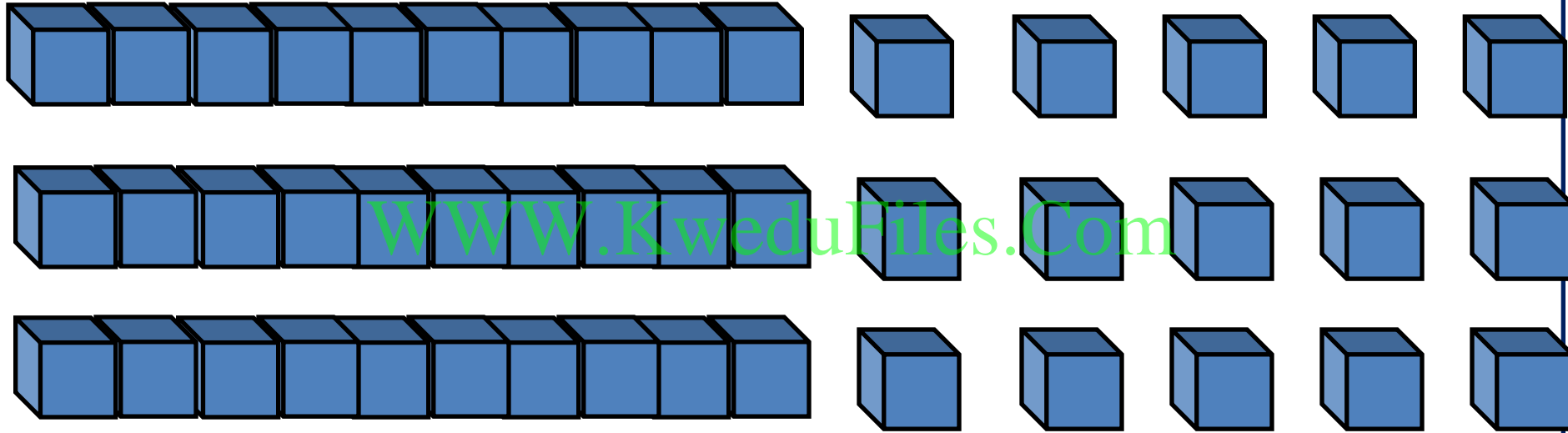
WWW.KweduFiles.Com

اوجد الناتج مستخدما الجمع المتكرر

$$= 36 \times 4$$

WWW.KweduFiles.Com

أكتب عبارة ضرب مناسبة



A large, empty, light blue rounded rectangular box intended for writing the multiplication expression.

أوجد الناتج

٨ ٣

٦ ٢

٣ × www.KweduFiles.Com

٤ ×



أوجد الناتج

$$\boxed{} = 7 \times 2 \times 7$$

WWW.KweduFiles.Com

$$\boxed{} = 2 \times 1 \times 8$$

كم عدد الأيام في ٢٣ أسبوع؟

WWW.KweduFiles.Com



الضرب في عدد رمزه مكون من ثلاث أرقام

WWW.KweduFiles.Com

الدرس (٣-٥)



أوجد الناتج

٣ . ٩

١ ٣ ٦

٣ ×

٥ ×

www.KweduFiles.Com

أوجد الناتج

$$\boxed{} = ١٥٢ \times ٧$$

WWW.KweduFiles.Com

$$\boxed{} = ٤ \times ٢١٦$$

أكمل

١ ٣ ٢

٦ .

١ ٥

×

WWW.KweduFiles.Com

٤

أكمل

١ ٣ ٢

٤ ١

١ ٠

×

WWW.KweduFiles.Com

١ ٢ ٣

٣ ٠

يَتكوّن مَبْنَى لِمَوَاقِفٍ مُتَعَدِدٍ
مِن ٥ طَوَائِقٍ. فِي كُلِّ طَائِقٍ

١١٥ مَوَاقِفٍ.
WWW.KweduFiles.Com

كَمْ عَدَدُ الْمَوَاقِفِ بِهَذَا الْمَبْنَى؟

استكشاف ضرب عددين رمز كل منهما مكون من رقمين

WWW.KweduFiles.Com

الدرس (٣-٦)



أوجد الناتج

٢٩

٣٦

٨٥ ×

٤٣ ×

www.KweduFiles.Com



أوجد الناتج

٧٥

٩٥

١٨ ×

٢١ ×

www.KweduFiles.Com




يوفر حامد ٢٤ دينار شهرياً

كم دينار يوفر بالسنة؟

WWW.KweduFiles.Com

اوجد الناتج مستخدما الشبكة الموضحة

$$= ١٣ \times ١٢$$



ضرب عددين رمز كل منهما مكون من رقمين

WWW.KweduFiles.Com

الدرس (٣-٧)



أكمل

٢

٤

٣

٢

×

WWW.KweduFiles.Com

٨

+

٨

أكمل

٤

٥

٦

٤

×

www.KweduFiles.Com

١

,

+

,

أوجد الناتج

٧٠

٣٥

١٦ ×

٣٥ ×

www.KweduFiles.Com



أوجد الناتج


٤ ٢

٨ ٥

٣ ٣ ×

١ ٧ ×

www.KweduFiles.Com



أوجد الناتج

$$= 7 \times 2 \times 2 \times 3$$

WWW.KweduFiles.Com

$$= 3 \times 1 \times 8$$

أوجد الناتج

$$= ٣٢ \times ٥٤$$

WWW.KweduFiles.Com

$$= ٩٢ \times ٢٢$$

ضرب ثلاث أعداد

WWW.KweduFiles.Com

الدرس (٣-٨)



بين ٣ طرق مختلفة

لتجميع العوامل

WWW.KweduFiles.Com



ما هي أسهل طريقة لإيجاد ناتج

~~www.kwedufiles.com~~



أوجد الناتج

$$\underline{\hspace{10em}} = ٢ \times ٧ \times ٣$$

WWW.KweduFiles.Com

$$\underline{\hspace{10em}} = ١ \times ٢ \times ١ \times ٢ \times ٥$$

$$= ١ \times ١ \times ٦ \times ١ \cdot$$

أوجد الناتج

$$\underline{\hspace{10em}} = 4 \times 9 \times 3$$

WWW.KweduFiles.Com

$$\underline{\hspace{10em}} = 7 \times 7 \times 7$$

$$\underline{\hspace{10em}} = 2 \times 13 \times 5$$

ما نتائج

$$6 \times (0 \times 8) \times 9 \times (4 \times 3)$$

ذهنياً؟ فسر اجابتي .

www.KweduFiles.Com

الحساب الذهني

WWW.KweduFiles.Com

الدرس (٣-٩)



استخدم الحساب الذهني لإيجاد ناتج :

$$= 3 \times 3 \times 8$$

WWW.KweduFiles.Com

استخدم الحساب الذهني لإيجاد ناتج :

$$= 4 \times 99$$

WWW.KweduFiles.Com

استخدم الحساب الذهني لإيجاد ناتج :

$$= 5 \quad 2 \quad \times \quad 7$$

WWW.KweduFiles.Com

أوجد ناتج

$$٢٩ \times ٦ \text{ ذهنياً}$$

بـطـريـقـتـيـن مـخـتـلـفـتـيـن

WWW.KweduFiles.Com

كيف تستخدم ٤٠٥٠

لإيجاد ناتج ٤ × ٥٦ ؟

WWW.KweduFiles.Com