




وزارة التربية
الإدارة العامة لمنطقة الأحمدية التعليمية
مدرسة هدية الابتدائية بنين



www.KweduFiles.Com
الوحدة الأولى



للمصف الرابع



• أ. مشاعل القحطاني

• أ. شيمة المطيري

إعداد المعلمة

إشراف رئيسة القسم

• بناء الأعداد واستكشاف القيمة المكانية

www.kwedufiles.com

بند (أ-أ)



أكمل

) ◆ ◆ ◆ ◆ ◆ ◆

WWW.KweduFiles.Com



Empty box for writing the first part of the answer.

) ◆ ◆ ◆

أَكْمَل

)

□ □ □ □ □ □

WWW.KweduFiles.Com



٩٩ □ □ □ □

أكمل

ك



WWW.KweduFiles.Com



ق



أكمل الجدول

عدد	عدد	عدد	عدد	عدد	عدد	عدد	العدد
الملايين	مئات الألوف	عشرات الألوف	الألوف	المئات	العشرات	الآحاد	
					٣٠		٣٠٠
						١٢٠٠	١٢٠٠
		٢١					٢١٠٦٤١
	١٠						١٠٠٠٠٠٠

أجب عن الأسئلة التالية

كم وجبة في العيد . ٢٠



أجب عن الأسئلة التالية

كم عَشْرَةٌ في العدد ١٦٠؟

www.kwedufiles.com



أجب عن الأسئلة التالية

كم مئة في العدد ١٦٢ ٥٣؟

www.KweduFiles.Com



اكتب رمز العدد

٦ مئآت = _____

WWW.KweduFiles.Com

١٧ عشرة = _____

٣٨٥ وحدة = _____

ارسم صوراً لتبين عدد المئات

في العدد) . . .

WWW.KweduFiles.Com






اختر الإجابة الصحيحة بوضع


العدد المختلف هو :

WWW.KweduFiles.Com


١٠ مئآت



١٠ عشرات



١٠٠٠



لنفترض أن معك ٤٠٠ بطاقة ما عدد

المجموعات التي تحصل عليها إذا قمت

WWW.KweduFiles.Com

بتجميعها في مجموعات من ١٠ ؟ أو من

١٠٠ أو من ١٠٠٠ ؟

كم وحدة في العدد ٤٥٢ ١٣؟

وكم عشرة؟ وكم مئة؟ وكم ألفاً؟


وكم عشرة آلاف؟



• اَلطَّيِّبَاتُ إِلَى الطَّيِّبِ

WWW.KweduFiles.Com

بند (۱-۲)



أَكْمَل

٩٩٩ ٢٠٠

٩٩٩ ١٠٠

WWW.KweduFiles.Com
٩٩٩ ٧٠٠

٩٩٩ ٩٠٠



اكتب رمز العدد

ستمئة وثلاثة وعشرون ألفاً
www.KweduFiles.Com
وخمسة عشر

اكتب رمز العدد

أربعون ألفاً وسبعة

www.KweduFiles.Com



اكتب رمز العدد

تسعمئة ألف و خمسة

www.KweduFiles.Com



اكتب رمز العدد

+) + ٤

٦ + ٢ . + ٥ . + ٧ . . .

WWW.KweduFiles.Com



اكتب رمز العدد

$$٢٠٠٠٠ + ٩٠٠٠ + ٣$$

WWW.KweduFiles.Com



اكتب الاسم اللفظي

٥٢٣٧

WWW.KweduFiles.Com



اكتب الاسم اللفظي

٨ + ٣ + ٩

WWW.KweduFiles.Com



اكتب القيمة المكانية للرقم الذي تحته خط

٣٢٥٠٩٤

WWW.KweduFiles.Com



A large, empty, rounded rectangular box with a light orange gradient, intended for writing the numerical value of the underlined number 325094.

اكتب القيمة المكانية للرقم الذي تحته خط

٣٧ ٨٥٨

WWW.KweduFiles.Com



اكتب القيمة المكانية للرقم الذي تحته خط

٤٠١ ٥٣٢




WWW.KweduFiles.Com

A large, empty, rounded rectangular box with a light orange gradient, intended for writing the answer to the question above.

مقارنة الكسوف

بند (١-٣)



قارن . ضع رمز العلاقة المناسبة < أو > أو =

٩ ٩ . . (٧ . .)

WWW.KweduFiles.Com

٣ . ٢٩ . . ٢ . ٣٩ . .

قارن . ضع رمز العلاقة المناسبة < أو > أو =

٤٢١ . ١٦  ٤٢٠ . ٢٣٧

www.KweduFiles.Com

٢٨٥٥٠٠  ٢٨٥٧٠١

يبيّن الجدول إنتاج مزرعة من الفواكة

الفواكة	الإنتاج بالكيلوجرامات
موز	١٤٠ ٢٠٠
عنب	١١٧ ٣٥٧
توت	١٩٩ ١٩٩

ما الفاكهة الأكثر إنتاجاً ؟

اكتب الكلمة المناسبة مستحيل أو مؤكد أو ممكن

كيس فيه ٣ بطاقات مكتوب على كل منها أحد هذه الأعداد

٤ ٣ ٥ ٧

٦ ٩ ٠ ٠

٩ ٣ ٢ ٤

سحب بطاقة تحمل عدداً أصغر من العدد ا

سحب بطاقة تحمل عدداً أصغر من العدد ٧

سحب بطاقة تحمل عدداً أكبر من العدد ا

www.KivvuFiles.Com

بند (۱-۴)



رتب الأعداد التالية تصاعدياً

٣١٢٥ ، ٤٠٧ ، ٧٠٠٢

WWW.KweduFiles.Com

_____ ، _____ ، _____

رتب الأعداد التالية تنازلياً

١٩٤ ، ٣٠٠ ، ١٠٠٤

WWW.KweduFiles.Com

_____ ، _____ ، _____

اكتب رمزا لعدد مناسباً لكي تكون


الأعداد التالية مرتبة تصاعدياً

www.KweduFiles.Com

١٣١٢ ، ١٠٦١ ، ٢٧٧ ، —

www.kivvedufiles.com

بند (۱-۵)



قرب الأعداد التالية إلى أقرب عشرة

_____ ≈ ٥٢

WWW.KweduFiles.Com

_____ ≈ ٣١

قرب الأعداد التالية إلى أقرب مئة

_____ \approx ٢٦١٩٨

WWW.KweduFiles.Com

_____ \approx ٤١٤٩

قرب الأعداد التالفة إلى أقرب ألف

_____ \approx ٥٢٢

WWW.KweduFiles.Com

_____ \approx ٩٩٠

تقول مريم :

العدد ٩٩٧٥ ≈ ١٠٠٠٠

WWW.KweduFiles.Com

عند تقريية إلى أقرب مئة أو إلى أقرب

ألف . فهل هي على صواب ؟ فسر إجابتك