

تم تحميل هذا الملف من موقع ملفات الكويت التعليمية



[com.kwedufiles.www//:https](https://www.kwedufiles.com)

\*للحصول على أوراق عمل لجميع الصفوف وجميع المواد اضغط هنا

\* للحصول على أوراق عمل لجميع مواد الصف الرابع اضغط هنا

<https://kwedufiles.com/4>

\* للحصول على جميع أوراق الصف الرابع في مادة علوم ولجميع الفصول, اضغط هنا

<https://kwedufiles.com/4science>

\* للحصول على أوراق عمل لجميع مواد الصف الرابع في مادة علوم الخاصة بـ الفصل الأول اضغط هنا

<https://www.kwedufiles.com/4science1>

\* لتحميل كتب جميع المواد في جميع الفصول للـ الصف الرابع اضغط هنا

<https://www.kwedufiles.com/grade4>

\* لتحميل جميع ملفات المدرس مدرسة قطوف النموذجية اضغط هنا

[bot\\_kwlinks/me.t//:https](https://t.me/bot_kwlinks)

للحصول على جميع روابط الصفوف على تلغرام وفيسبوك من قنوات وصفحات: اضغط هنا

الروابط التالية هي روابط الصف الرابع على مواقع التواصل الاجتماعي

مجموعة الفيسبوك

صفحة الفيسبوك

مجموعة التلغرام

بوت التلغرام

قناة التلغرام

رياضيات على التلغرام

الصف : ٤ / .....

الاسم: .....

اختاري الاجابة الصحيحة بتظليل المربع المقابل لها :

١- جزء في النبات يصنع الغذاء هو :

الجذور  الساق  الورقة  الزهرة

٢- مرحلة ظهور الأوراق والساق في دورة حياة النبات :

البذرة  بذرة تنبت  البادرة  نبات مكتمل النمو

٣- حيوان فقاري يتكاثر بالولادة :

السمكة  السلحفاة  الدجاجة  القطة

٤- من الحيوانات اللافقارية :

الأسماك  اللبونات  الحشرات  الطيور

٤- حشرة دورة حياتها من ٣ مراحل :

الجراد  النحلة  الفراشة  الخنفساء

اكتبي المصطلح العلمي الدال للعبارات التالية :

١- حيوانات تمتلك عموداً فقارياً ولها هيكل خارجي. (.....)

٢- الطريقة التي ينتقل بها الطعام ( الطاقة ) من كائن حي إلى آخر . (.....)

٣- كائن حي يأكل مما ينتج . (.....)

٤- كائن حي يعتمد على غيره في الغذاء يأكل ولا ينتج . (.....)

٥- الحيوانات التي تأكل نباتات أو أعشاب . (.....)

٦- الحيوانات التي تأكل حيوانات أخرى . (.....)

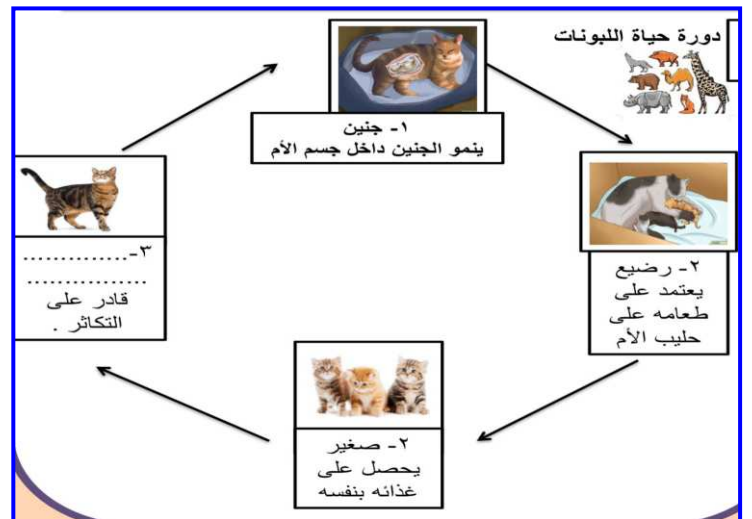
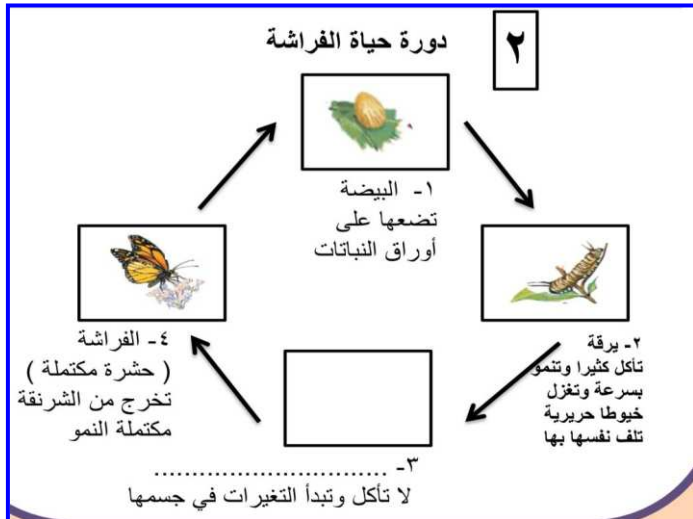
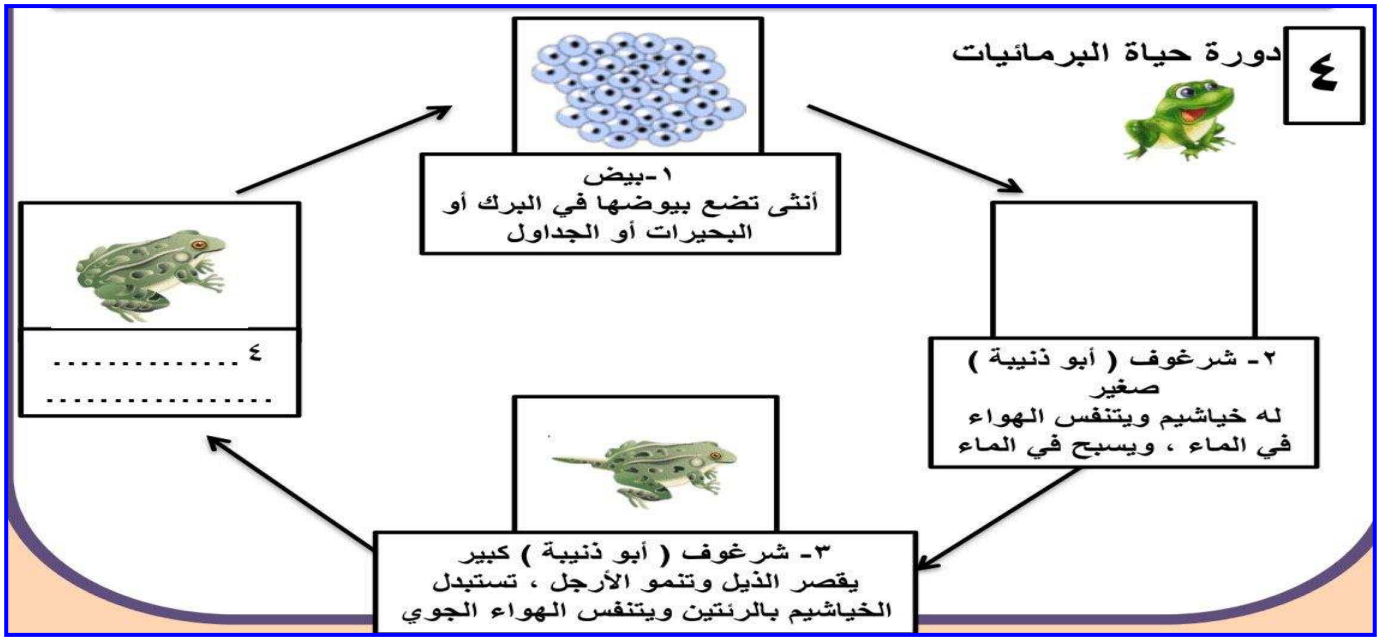
## على لما يأتي تعليلا علميا سليما :

١- تعتبر الأسماك من الحيوانات الفقارية .

٢- لا ينتمي الضفدع الى مجموعة الأسماك .

٣- تعتبر النباتات كائنات منتجة

## اكمل دورة حياة كلا من الكائنات التالية :



\*ملحوظة : هذه بعض الأمثلة على انماط الأسئلة ولا تغني عن الدروس

اخترى الإجابة الصحيحة بتظليل المربع المقابل لها :

1- جزء في النبات يصنع الغذاء هو :

الزهرة       الساق       الورقة       الجذور

2- مرحلة ظهور الأوراق والساق في دورة حياة النبات :

البذرة       بذرة تنبت       البادرة       نبات مكتمل النمو

3- حيوان فقاري يتكاثر بالولادة :

السمكة       السلحفاة       الدجاجة       القطة

4- من الحيوانات اللافقارية :

الأسماك       اللبونات       الحشرات       الطيور

4- حشرة دورة حياتها من 3 مراحل :

الجرادة       النحلة       الفراشة       الخنفساء

اكتب المصطلح العلمي الدال للعبارات التالية :

- 1- حيوانات تمتلك عموداً فقارياً ولها هيكل خارجي. (الحيوانات الفقارية)
- 2- الطريقة التي تنتقل بها الطعام (الطاقة) من كائن إلى آخر. (السلسلة الغذائية)
- 3- كائن حي يأكل مما ينتج . (كائن منتج)
- 4- كائن حي يعتمد على غيره في الغذاء يأكل ولا ينتج . (كائن مستهلك)
- 5- الحيوانات التي تأكل نباتات أو أعشاب . (آكلة أعشاب)
- 6- الحيوانات التي تأكل حيوانات أخرى . (آكلة لحوم)

على لما يأتي تعليلاً علمياً سليماً :

1- تعتبر الأسماك من الحيوانات الفقارية .

لأنها تمتلك عصبوناً (ج.ب)

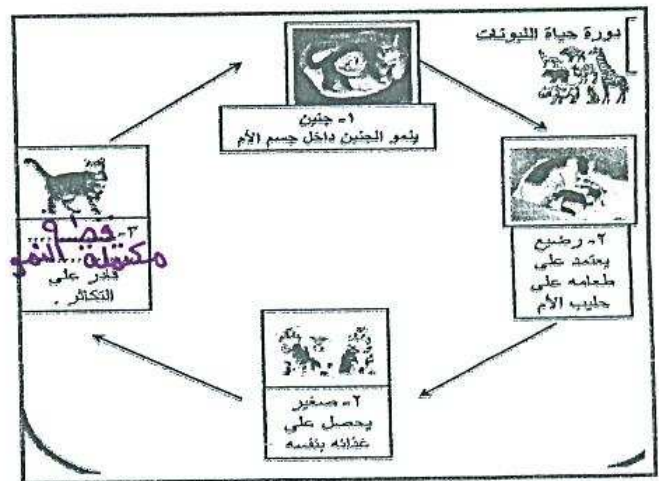
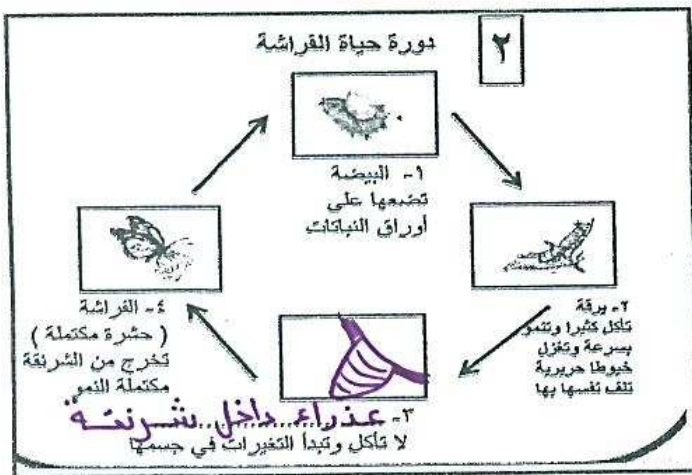
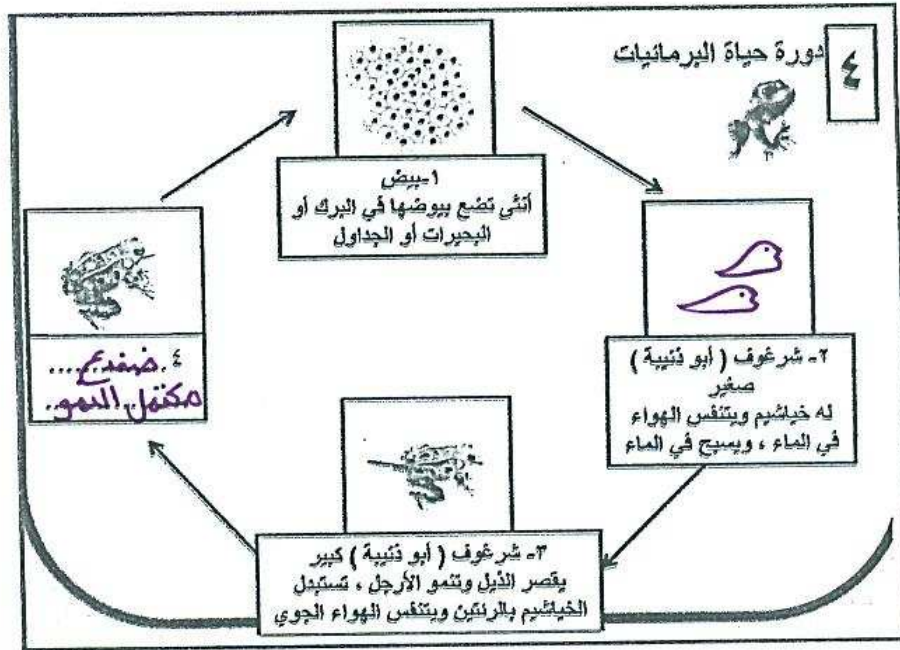
2- لا ينتمي الضفدع إلى مجموعة الأسماك .

لأنه يطبخ جزء من حياته في الماء ثم يخرج إلى اليابسة

3- تعتبر النباتات كائنات منتجة

لأنها تأكل ما تنتج أو تصنع غذاءها بنفسها

اكمل دورة حياة كلا من الكائنات التالية :



\*ملحوظة : هذه بعض الأمثلة على أنماط الأسئلة ولا تغني عن الدروس