


6 C Carbon 12.011	2 He Helium 4.00260	53 I Iodine 126.90447	16 S Sulfur 32.066	39 Y Yttrium 88.90585
-----------------------------------	-------------------------------------	---------------------------------------	------------------------------------	---------------------------------------

مادة الكيمياء



الصف الثاني عشر

الفصل الدراسي الثاني

الطاقة و التغيرات الكيميائية

أ / محمد محسن محمد

<http://alainphysics.blogspot.ae/>

<http://www.facebook.com/mr.m7md.mo7sn>

هذه المذكرات عملاً خالصاً لوجه الله ، لا يهدف إلى تحقيق أي منفعة مادية أو شخصية

محمد محسن محمد

محمد محسن محمد

محمد محسن محمد

محمد محسن محمد

القسم (1 - 6)

الطاقة

تعريف الطاقة : هي القدرة على بذل شغل أو إنتاج حرارة .

- استعمالات الطاقة :**
- ⊙ في طهو الطعام
 - ⊙ تدفئة المنازل والمدارس في الأيام الباردة وتبريدها في الأيام الحارة
 - ⊙ تحريك المركبات
 - ⊙ تزودنا الطاقة الكهربائية بالضوء ، وتشغيل الكثير من الأجهزة التي نحتاج إليها .
 - ⊙ تدخل الطاقة في صناعة جميع المواد والأجهزة الموجودة في المنزل .

الطاقة و الكائنات الحية :

- ⊙ تتطلب كافة الأنشطة البدنية و الذهنية التي يقوم بها الكائن الحي طاقة .
- ⊙ إن كل خلية في جسمك هي مصنع صغير جداً يعمل بالطاقة المستمدة من الطعام الذي تأكله .

- صور الطاقة :**
- طاقة وضع : هي الطاقة التي تعتمد على تركيب أو موضع جسم ما .
 - طاقة حركة : هي الطاقة الناتجة عن حركة الأجسام .

الأنظمة الكيميائية : تحتوي على طاقة وضع & طاقة حركية

طاقة الحركة للمادة	طاقة الوضع للمادة
⊙ الطاقة الحركية للمادة ترتبط مباشرة مع الحركة الدائمة لجسيماتها .	⊙ تعتمد طاقة الوضع للمادة على تركيبها الكيميائي ، من حيث : □ أنواع الذرات في المادة .
⊙ الطاقة الحركية للمادة تتناسب طردياً مع درجة الحرارة فعندما ترتفع درجة الحرارة تزداد حركة المادة .	□ عدد و نوع الروابط الكيميائية التي تربط الذرات
	□ طريقة ترتيب الذرات .

قانون حفظ الطاقة : ينص هذا القانون على أنه في أي تفاعل كيميائي أو عملية فيزيائية يمكن أن تتحول الطاقة من شكل إلى آخر ، ولكنها لا تستحدث و لا تفنى .

ملاحظة : ⊙ يعرف هذا القانون أيضاً بـ [القانون الأول في الديناميكا الحرارية] .

أمثلة على قانون حفظ الطاقة :

① تدفق الماء عبر التوربينات في محطة التوليد الكهرومائية ← حيث يتحول جزء من الطاقة الحركية إلى طاقة كهربائية .

② اتحاد غاز البوربان C_3H_8 مع الأكسجين ← حيث يتكون ثاني أكسيد الكربون و الماء و تتحرر طاقة الوضع المخزنة في روابط البروبان في صورة حرارة .

طاقة الوضع الكيميائية

تعريفها	هي الطاقة المخزنة في الروابط الكيميائية للمادة .
أهميتها	تلعب دوراً مهماً في التفاعلات الكيميائية .
التفاعل الطارد للحرارة	(تقل) طاقة الوضع الكيميائية ، لأن طاقة الوضع الكيميائية تتحول إلى ← حرارة .
التفاعل الماص للحرارة	(تزداد) طاقة الوضع الكيميائية ، لأن الحرارة تتحول إلى ← طاقة وضع كيميائية .
مثال	طاقة الوضع الكيميائية للبروبان C_3H_8 تنتج عن ترتيب ذرات C و H و قوة الروابط بينها .

تدريبات 1

1 - ميز بين الطاقة الحركية و طاقة الوضع في الأمثلة التالية :

المثال	نوع الطاقة	المثال	نوع الطاقة
1- مغناطيسين منفصلين	4 - نهر
2 - انهيار ثلجي	5 - سباق سيارات
3 - كتب موضوعة على رفوف	6 - فصل الشحنات في بطارية

تدريبات 2

وضح كيف تتغير الطاقة من شكل إلى آخر في التفاعل الطارد للحرارة و التفاعل الماص لها ؟

وضح علاقة الضوء والحرارة في شمعة محترقة بطاقة الوضع الكيميائية ؟

وضح كيف تتغير طاقة الوضع الكيميائية لنظام خلال تفاعل ماص للحرارة ؟

الحرارة

رمزها	يرمز لها بالرمز [q] .
تعريفها	⊙ هي طاقة تنتقل من الجسم الساخن إلى الجسم الأبرد .
انتقال الحرارة	تنتقل الحرارة تلقائياً من الجسم الأعلى في درجة الحرارة إلى الجسم الأقل في درجة الحرارة .
حالة الاتزان	⊙ عندما يفقد الجسم الساخن طاقة (حرارة) تنخفض درجة حرارته . ⊙ عندما يمتص الجسم الأبرد طاقة (حرارة) ترتفع درجة حرارته . ⊙ يتوقف انتقال الحرارة عندما يصبح للجسمين نفس درجة الحرارة و هو ما يطلق عليه (حالة الإتزان)
مثال	يُعد الأوكتان C_8H_{18} المكون الرئيسي في الجازولين ، عندما يحترق الجازولين في محرك السيارة يتحول جزء من طاقة الوضع الكيميائية للأوكتان إلى شغل يُحرك المكابس التي بدورها تحرك الاطارات فتتحرك السيارة ، لكن الجزء الأكبر من طاقة الوضع الكيميائية المحتزنة في الأوكتان تنطلق في صورة حرارة .

مقارنة بين الحرارة و درجة الحرارة

المقارنة	الحرارة	درجة الحرارة
المفهوم	• صورة للطاقة تنتقل تلقائياً من الجسم الأعلى في درجة الحرارة إلى الجسم الأقل في درجة الحرارة .	• قياس معدل الطاقة الحركية لجسيمات عينة من المادة. • هي عدد يدل على حالة الجسم من حيث سخونة أو البرودة وفق تدرج متفق عليه .
وحدات القياس	• تُقاس الحرارة بـ [السُعر (cal)] • تُقاس الحرارة بـ [السُعرات الغذائية (Cal)] • تُقاس الحرارة بـ [الجول (J)]	• تُقاس درجة الحرارة بـ [الكلفن (K)] • تُقاس أيضاً بـ [المقياس السيليزي (°C)] • العلاقة بين المقياسين : $K = 273 + °C$ $°C = K - 273$
طرق القياس	• تُقاس الحرارة بطريقة [غير مباشرة] . • بواسطة : المسعر الحراري (الكالوريمتر)	• تُقاس درجة الحرارة بطريقة [مباشرة] . • بواسطة : الترمومتر

وحدات قياس الطاقة الحرارية

السُعر [cal]	⊙ هو كمية الحرارة اللازمة لرفع درجة حرارة 1 g من الماء النقي $1 °C$.
السُعرات الغذائية [Cal]	⊙ تستخدم السُعرات الغذائية Calories لقياس الطاقة الحرارية الناتجة عن الغذاء . ⊙ $1 Cal = 1000 cal (1 kcal)$ ⊙ <u>مثال</u> : إذا كانت ملعقة من الزبد تحتوي على 100 Cal ، فإن هذا يعني انه لو أحرقت ملعقة زبد حرقاً كاملاً لانتاج ثنائي أكسيد الكربون و الماء فسينطلق 100000 cal (100 kcal)
الجول [J]	⊙ هو وحدة قياس الحرارة في النظام الدولي للوحدات . ⊙ الجول الواحد (1J) = 0.2390 cal ⊙ السعر الواحد (1 cal) = 4.184 J

لا تنسونا من صالح الدعاء

العلاقات بين وحدات الطاقة (الحرارية)

معامل التحويل	العلاقة	معامل التحويل	العلاقة	معامل التحويل	العلاقة
$\frac{1 \text{ Cal}}{1000 \text{ cal}}$	1Cal=1Kcal	$\frac{1 \text{ cal}}{4.184 \text{ J}}$	1 cal = 4.184 J	$\frac{1 \text{ J}}{0.2390 \text{ cal}}$	1 J = 0.2390 cal
$\frac{1000 \text{ cal}}{1 \text{ Cal}}$		$\frac{4.184 \text{ J}}{1 \text{ cal}}$		$\frac{0.2390 \text{ cal}}{1 \text{ J}}$	

تدريبات 3

يحتوى أحد أصناف الطعام على 124 Cal ، كم cal يوجد فى هذا الصنف من الطعام ؟

[الجواب : 124000 cal]

تحتوى حبة حلوى الشوفان على 142 Cal من الطاقة ، ما مقدار هذه الطاقة بوحدة cal ؟

[الجواب : 142000 cal]

إذا كانت وجبة إفطار مكونة من الحبوب و العصير و الحليب تحتوى على 230 Cal من الطاقة فعبّر عن هذه الطاقة بوحدة الجول (J) ؟

[الجواب : $9.6 \times 10^5 \text{ J}$]

يطلق تفاعل طارد للطاقة 86.5 kJ من الحرارة ، ما مقدار الحرارة التى أطلقت بوحدة Kcal ؟

[الجواب : 20.7 kcal]

احتراق 1 mol من الإيثانول يطلق 326.7 Cal من الطاقة ، ما مقدار هذه الكمية بـ kJ ؟

[الجواب : 1367 kJ]

كم جولاً J من الطاقة يتم امتصاصه فى عملية يمتص خلالها 0.5720 Kcal من الطاقة ؟

[الجواب : 2393 J]

لتبخير 2.00 g من الأمونيا يلزم 656 Cal من الطاقة ، كم kJ تلزم لتبخير الكتلة نفسها من الأمونيا ؟

[الجواب : 2.74 kJ]

يستعمل الإيثانول كمادة مضافة إلى البنزين ينتج عن احتراق 1mol من الإيثانول 1367 kJ من الطاقة ، ما مقدار هذه الطاقة بـ Cal ؟

[الجواب : 327 Cal]

يوجد سكر الجلوكوز البسيط فى الفواكه و عند حرق 1.00 g منه ينتج 15.6 kJ من الطاقة ، فكم يساوى ذلك بـ Kcal ؟

[الجواب : 3.73 kcal]

تدريبات 4

وضح : كيف تتحول الطاقة فى الجازولين ، و ما الطاقة الناتجة عن احتراقه فى محرك السيارة ، و كم نسبتها ؟

ماذا تتوقع أن يحدث : عندما يكون الهواء فوق سطح بحيرة ما أبرد من الماء ؟

الحرارة النوعية

رمزها	⊙ يرمز لها بالرمز [c] .
تعريفها	⊙ هي كمية الحرارة اللازمة لرفع درجة حرارة جرام واحد من المادة درجة واحدة سيليزية .
وحدة قياسها	⊙ J / g .°C
ملاحظات	<p>⊙ لكل مادة حرارة نوعية مميزة لها ← لأن لكل مادة تركيباً مختلفاً عن المواد الأخرى .</p> <p>⊙ الحرارة النوعية للماء السائل = 4.184 J / g .°C هي الأعلى بين معظم المواد الشائعة .</p> <p>⊙ تستخدم الحرارة النوعية لمقارنة الاختلاف بين المواد من حيث قدرتها على امتصاص الطاقة الحرارية</p> <ul style="list-style-type: none"> • كلما زادت الحرارة النوعية للمادة ← زادت قدرتها على امتصاص الحرارة ← قل الارتفاع في درجة حرارتها • كلما قلت الحرارة النوعية للمادة ← قلت قدرتها على امتصاص الحرارة ← زاد الارتفاع في درجة حرارتها

تدريبات 5

ما المقصود بأنه يلزم 1 cal أو 4.184 J لرفع درجة حرارة 1g من الماء النقي 1°C ؟

ما المقصود بأن الحرارة النوعية للإيثانول هي 2.44 J / g .°C ؟

إذا اكتسبت كتلتان متساويتان من معدنين مختلفين نفس كمية الطاقة الحرارية فارتفعت درجة حرارة القطعة الأولى بمقدار 4°C و ارتفعت درجة حرارة القطعة الثانية بمقدار 10°C فأيهما له حرارة نوعية أكبر و لماذا ؟

إذا امتصت كتلتان متساويتان من [الماء 4.184 J/g .°C] و [الأسمنت 0.84 J/g .°C] كمية الحرارة نفسها ، فأيهما تكون درجة حرارته أعلى ، و بكم ضعفاً ؟

علل : الأرصفة الأسمنتية تسخن في الصيف أسرع من الماء ؟

علل : رمال الشاطئ تسخن في الصيف أسرع من مياه البحر ؟

علل : يستعمل الماء بشكل فعال في نظام تبريد السيارة ؟

علل : كلما زادت الحرارة النوعية للمواد ، فإنها تسخن ببطء ، و تبرد ببطء ؟

علل : كلما قلت الحرارة النوعية للمواد ، فإنها تسخن بسرعة ، و تبرد بسرعة ؟

علل : حرارة اللازمة لرفع درجة حرارة كمية من الماء تكون أكثر من الحرارة اللازمة لرفع درجة حرارة الكمية نفسها من الإيثانول ؟

ترتيب : وضعت كتل متساوية من الألومنيوم و الذهب و الفضة و الحديد و الفضة تحت أشعة الشمس في الوقت نفسه و لفترة محددة استعمل قيم الحرارة النوعية في الجدول المقابل لترتيب هذه الفلزات تصاعدياً وفق ارتفاع درجة حرارتها من إلى ؟

الفلز	الحرارة النوعية
الألومنيوم	0.897
الذهب	0.129
الحديد	0.449
الفضة	0.235

الأقل : ← ← ← الأعلى

معادلة حساب الحرارة

$$q = c \times m \times \Delta T \quad \rightarrow \quad q = c \times m \times (T_f - T_i)$$

$$c = \frac{q}{m \times \Delta T} \quad \rightarrow \quad c = \frac{q}{m \times (T_f - T_i)}$$

وحدة القياس	الكمية الفيزيائية	الرمز	وحدة القياس	الكمية الفيزيائية	الرمز
°C	التغير في درجة الحرارة	ΔT	J	الطاقة الحرارية الممتصة أو المنطلقة	q
°C	درجة الحرارة الابتدائية	T_i	J / g .°C	الحرارة النوعية	c
°C	درجة الحرارة النهائية	T_f	G	الكتلة	m

حساب الحرارة الممتصة و حساب الحرارة المنطلقة

تستخدم نفس المعادلة $[q = c \times m \times \Delta T]$ لحساب كلاً من الحرارة المنطلقة و الحرارة الممتصة .

تكون إشارة الطاقة المنطلقة ← سالبة (-) بينما تكون إشارة الطاقة الممتصة ← موجبة (+) .

ملاحظات

① طبيعة المادة (حرارتها النوعية c)

② كتلة المادة (m)

③ مقدار التغير في درجة الحرارة (ΔT)

تتبعد كمية الطاقة المنتقلة (q) كحرارة على

الحرارة النوعية تكون على علاقة عكسية مع ← مقدار التغير في درجة الحرارة (ΔT)

وحدات تستخدم لقياس الحرارة النوعية : يمكن استخدام وحدات قياس أخرى للتعبير عن الحرارة النوعية ← و ذلك حسب وحدات

الكميات الأخرى التي تشتق منها الحرارة لنوعية تبعاً للعلاقة $[c = \frac{q}{m \times \Delta T}]$ ، مثل :

J / g .K	جول / (جرام × كلفن)	J / g .°C	جول / (جرام × درجة مئوية)
cal / g .K	كالوري / (جرام × كلفن)	cal / g .°C	كالوري / (جرام × درجة مئوية)
cal / mol .K	كالوري / (مول × كلفن)	cal / mol .°C	كالوري / (مول × درجة مئوية)

الطاقة الشمسية

أهميتها	العوامل التي أدت إلى تأخير تطوير التقنيات الشمسية
<ul style="list-style-type: none"> يمكن أن توفر أشعة الشمس التدفئة في البيوت و الأماكن الأخرى : حيث يستغل الماء لأخذ الطاقة من الشمس ، و ذلك بسبب حرارته النوعية المرتفعة ، و بعد أن تسخن أشعة الشمس الماء يمكن تدويره في البيوت لتدفئتها . يمكن أن توفر أشعة الشمس احتياجات العالم من الطاقة مما يقلل من استعمال أنواع الوقود الذي ينتج غاز ثاني أكسيد الكربون و بالتالي فهي تقلل من التلوث و تساهم في حماية البيئة . 	<ul style="list-style-type: none"> سطوع الشمس فترة محددة يومياً . تراكم الغيوم فوق بعض الأماكن مما يخفف من كمية أشعة الشمس الساقطة عليها . ارتفاع تكلفة إنتاج الكهرباء من الطاقة الشمسية مقارنة بتكلفة حرق الوقود الأحفوري .

الخلايا الكهروضوئية

تعريفها	هي وسيلة لتوليد الطاقة الكهربائية عن طريق تحويل الإشعاع الشمسي مباشرة إلى كهرباء بمساعدة الألواح الشمسية .
مميزاتها	هي السبيل الواعد لاستعمال الطاقة الشمسية .
عيوبها	عدم القدرة على استخدامها لتوفير الطاقة اللازمة للاستخدامات العادية ← بسبب ارتفاع تكلفة استخدامها لإنتاج الكهرباء مقارنة بتكلفة حرق الفحم أو البترول .
استخداماتها	تستخدم لتزويد رواد الفضاء بالطاقة اللازمة لعمل المركبات الفضائية .

تدريبات 6

تمتص قطعة من سبيكة فلزية كتلتها 38.8 g كمية من الحرارة تساوي 181 J عندما ترتفع درجة حرارتها من 25.0 °C إلى 36.0 °C
فما الحرارة النوعية للسبيكة ؟

[الجواب : 0.424 J/g. °C]

احسب كمية الحرارة الممتصة عند تسخين 50.0 g من الألومنيوم من درجة حرارة 25.0 °C إلى 95.0 °C و ، علما بأن الحرارة النوعية للألومنيوم (0.897 J/g.°C)

[الجواب : 3139.5 J]

برغى كتلته 25 g مصنوع من سبيكة امتصت 250 J من الحرارة فتغيرت درجة حرارتها من 25.0 °C إلى 78.0 °C ما الحرارة النوعية للسبيكة ؟

[الجواب : 0.189 J/g. °C]

إذا ارتفعت درجة حرارة 34.4 g من الإيثانول (2.44 J/g.°C) من 25 °C إلى 78.8 °C ، فما كمية الحرارة التي أمتصها الإيثانول ؟

[الجواب : 4.52 × 10³ J]

سُخنت عينة من مادة مجهولة كتلتها 155 g فارتفعت درجة حرارتها بمقدار 15 °C عندما امتصت 5696 J من الطاقة ، فما هي الحرارة النوعية لتلك المادة ؟

[الجواب : 2.45 J/g. °C]

قطعة من الذهب النقي كتلتها 4.50 g امتصت 276 J من الحرارة و كانت درجة حرارتها الأولية 25 °C ، فما درجة حرارتها النهائية إذا كانت الحرارة النوعية للذهب (0.129 = J/g.°C) ؟

[الجواب : 500 °C]

عند بناء الجسور و ناطحات السحاب تُترك فراغات بين الدعامات الفولاذية لكي تتمدد و تتكسح عندما ترتفع أو تنخفض درجة الحرارة إذا تغيرت درجة حرارة عينة من الحديد كتلتها 10.0 g من 50.4 °C إلى 25 °C و انطلقت كمية من الحرارة مقدارها 114 J ، فما الحرارة النوعية للحديد ؟

[الجواب : 0.449 J/g. °C]

تدريبات إضافية 7

◆ احسب الحرارة النوعية لمادة تمتص عينة منها كتلتها 35 g كمية 48 J من الطاقة عند تسخينها من 293 K إلى 313 K .

[الجواب : 0.069 J / g .K]

◆ إذا أضيف 980 KJ من الطاقة إلى 6.2 L من الماء عند درجة حرارة 291 K فما درجة الحرارة النهائية للماء علماً أن كثافة الماء 1g/mL وحرارته النوعية = 4.18 J/g.K ؟

[الجواب : 329 K]

◆ احسب C_p لمعدن الانديوم In علماً أن 1.0mol منه يمتص 53J عندما ترتفع درجة حرارته من 297.5 K إلى 299.5 K (In = 114.8 g/mol)

[الجواب : 26.5 J/mol .K أو 0.23 J/g.K]

◆ يلزمك 70.2 J لرفع درجة حرارة 34.0 g من الأمونيا NH₃ من 23.0 C إلى 24.0 C ، احسب الحرارة النوعية للأمونيا ؟

[الجواب : 2.06 J / g .K]

◆ احسب الحرارة اللازمة لرفع درجة حرارة عينة من الألومنيوم كتلتها 55 g من 22.4 C إلى 94.6 C و الحرارة النوعية للألومنيوم 0.897 J/(g.K) ؟

[الجواب : 3.6x10³ J]

◆ إذا أضيف 3.5 kJ من الطاقة إلى عينة حديد كتلتها 28.2 g عند درجة حرارة 20.0 C فما الحرارة النهائية للحديد مقاسة بالكلفن (الحرارة النوعية للحديد 0.449 J/g.K) ؟

[الجواب : 570 K]

لا تنسوننا من صالح الدعاء

من أسئلة الامتحانات السابقة

الامتحان النهائي للفصل الدراسي الثاني لعام 2013 - 2014

◆ عينة من الجليد كتلتها (2.5 g) سخنت بحيث ارتفعت درجة حرارتها بمقدار (10 K) فإذا كانت كمية الحرارة المكتسبة (50 J) فما الحرارة النوعية للجليد (J/g.K)

1.0 □ 1.6 □ 1.75 □ 2.0 □

[الجواب : 2.0 J/g.K]

الامتحان التدريبي للفصل الدراسي الثاني لعام 2013 - 2014

◆ ما الطاقة (J) التي يمتصها 20 g من الذهب على صورة حرارة إذا سُخنت من درجة حرارة 25 °C إلى درجة حرارة 35 °C (الحرارة النوعية للذهب 0.43 J/g.°C)

86 □ 215 □ 301 □ -215 □

[الجواب : 86 J]

الامتحان النهائي للفصل الدراسي الثاني لعام 2011 - 2012

◆ ما الطاقة اللازمة (kJ) رفع درجة حرارة 50.0 g من الألومنيوم من 27.7 °C إلى 72.7 °C ؟

4.05 □ 40.5 □ 2.03 □ 20.3 □

[الجواب : 2.03 kJ]

الامتحان التدريبي للفصل الدراسي الثاني لعام 2011 - 2012

◆ إذا أُضيف 3.75 kJ من الطاقة إلى عينة حديد كتلتها 30.0 g عند درجة حرارة 20.0 °C فما الحرارة النهائية للحديد (°C) (الحرارة النوعية للحديد 0.500 J/g.°C) ؟

0.25 □ 20.25 □ 250 □ 270 □

[الجواب : 270 °C]

الامتحان التدريبي للفصل الدراسي الثاني لعام 2010 - 2011

◆ ما كتلة عينة من النحاس تمتص طاقة 53.9 J عندما تسخن من 274 K إلى 314 K ولها حرارة نوعية

تساوي 0.385 J/g.K ؟ 4.0 g □ 3.5 g □ 8.0 g □ 0.04 g □

[الجواب : 3.5 g]

أسألکم الدعاء بالرحمة و المغفرة لوالدي

القسم (2 - 6)

الحرارة

سؤال : ما وجه التشابه بين أجسامنا مع التفاعلات الكيميائية من حيث تعاملها مع الحرارة ؟

التفاعلات الكيميائية	الأجسام الحية
<p><u>التفاعلات الكيميائية تمتص وتفقد الحرارة</u></p> <p>مثل : \odot التفاعلات الماصة للحرارة : تكتسب حرارة . \odot التفاعلات الطاردة للحرارة : تفقد حرارة .</p>	<p><u>أجسامنا تمتص وتفقد الحرارة</u></p> <p>مثل : \odot تشعر بالاسترخاء عند وقوفك تحت الدش الدافئ ، لأن الجسم يمتص حرارة من الماء . \odot تشعر بالارتعاش عندما تقفز في مسبح بارد ، لأن الجسم يفقد الحرارة .</p>

سؤال : كيف يعرف كيميائيو الغذاء القيمة الحرارية للأطعمة ؟

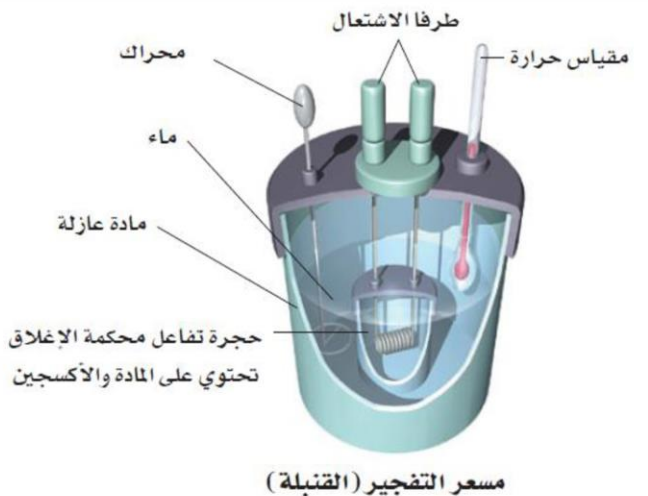
← يتم الحصول على المعلومات المدونه على عبوات المنتجات الغذائية من تفاعلات احتراق تجرى فى [مسعر] [كالوريمتر] .

المسعر	جهاز مغزول حرارياً يستخدم لقياس كمية الحرارة الممتصة أو المنطلقة فى أثناء عملية كيميائية أو فيزيائية .
فكرة عمله	توضع كمية معلومة من الماء فى حجرة معزولة لكى تمتص الطاقة المنطلقة من التفاعل ، أو تمنح (تزود) الطاقة التى يمتصها النفاعل ، ثم يتم قياس التغير فى درجة حرارة كتلة الماء ، ومنها نستطيع حساب كمية الحرارة (q) التى انطلقت أو امتصت أثناء التفاعل .
من أنواع المسعرات	<p>\odot مسعر التفجير (القنبلة) ← يستخدم كيميائيو الغذاء لقياس محتوى الأطعمة من الطاقة (السعرات Cal)</p> <p>\odot مسعر كأس البوليسترين ← يُستخدم لتحديد الحرارة النوعية لغاز ما .</p>

طريقة عمل مسعر التفجير (القنبلة)

- ♥ توضع عينة فى حجرة فولاذية داخلية تسمى (القنبلة) مملوءة بالأكسجين المضغوط ضغطاً عالياً .
- ♥ حول القنبلة يكون هناك كمية معلومة من الماء ، يتم قياس درجة حرارة الماء الابتدائية قبل بدء التفاعل T_i .
- ♥ يتم بدء التفاعل بشرارة تطلق من طرفا الاشتعال .
- ♥ يُحرك الماء بمحرك قليل الاحتكاك للمحافظة على درجة حرارة منتظمة و يتم قياس درجة حرارة الماء النهائية بعد التفاعل T_f .
- ♥ و بحساب التغير فى درجة الحرارة يمكننا حساب كمية الطاقة الممتصة (أو المنطلقة) من الكمية المعلومة من الماء ، باستخدام العلاقة التالية : $q = c \times m \times \Delta T$
- ♥ و بذلك يمكن قياس كمية الطاقة الحرارية الممتصة أو المنطلقة خلال التفاعل بطريقة غير مباشرة ، حيث أنها تكون مساوية تماماً للطاقة الممتصة (أو المنطلقة) من الكمية المعلومة من الماء التى تم حسابها .

عرف : القنبلة ؟	هي حجرة تفاعل محكمة الإغلاق تحتوى على المادة المتفاعلة و الأكسجين المضغوط .
علل : أهمية وجود مقياس للحرارة فى مسعر التفجير ؟	لقياس درجتى حرارة الماء الابتدائية قبل التفاعل و النهائية بعد التفاعل و من ثم حساب التغير فى درجة الحرارة ΔT .
علل : أهمية وجود طرفا الاشتعال فى مسعر التفجير ؟	لإطلاق الشرارة التى تبدأ تفاعل الاحتراق داخل حجرة التفاعل (القنبلة) .
علل : أهمية وجود المحرك فى مسعر التفجير ؟	لتوزيع الحرارة و بالتالى المحافظة على درجة حرارة منتظمة .
علل : من المهم ألا ينتج المحرك احتكاكاً ؟	حتى لا ينتج حرارة تزيد من حرارة التفاعل ينتج عنه خطأ فى قياس التغير فى درجة الحرارة ΔT .
علل : يجب أن يكون المسعر معزول تماماً ؟	لمنع تسرب الحرارة من الداخل للخارج و العكس لضمان دقة الحسابات .



0544555703

تحديد الحرارة النوعية لفلز



- ⊙ يتم تحديد الحرارة النوعية لفلز ما باستخدام مسعر أبسط من مسعر التفجير و هو الكأس المصنوعة من البوليسترين .
- ⊙ هذا المسعر يكون مفتوح مفتوحة على الجو ، لذلك فالتفاعلات التي تحدث فيها تكون تحت ضغط ثابت .

الخطوات :

- ♥ يوضع في الكأس كمية معلومة من الماء داخل الكأس ، ويتم قياس درجة حرارة الماء الابتدائية T_i .
- ♥ تُسخن عينه معلومة الكتلة من الفلز إلى درجة حرارة معينة ثم توضع في الماء داخل الكأس .
- ♥ تنتقل الحرارة من الفلز الساخن إلى الماء الأقل في درجة الحرارة ، و يتوقف انتقال الحرارة عندما تتساوى درجة حرارة الماء مع درجة حرارة الفلز (حالة الاتزان) .
- ♥ يتم قياس درجة الحرارة النهائية بعد الوصول لحالة الاتزان و ثبوت درجة الحرارة .

الحسابات :

$$-q_{\text{metal}} = q_{\text{water}} \leftarrow \text{كمية الحرارة التي اكتسبها الماء} = \text{كمية الحرارة التي فقدها الفلز}$$

$$- [c \times m \times (T_f - T_i)]_{\text{metal}} = [c \times m \times (T_f - T_i)]_{\text{water}}$$

- و حيث أن : ⊙ كتلتى (m) الماء و الفلز معلومتين .
- ⊙ درجة الحرارة الابتدائية (T_i) للماء و الفلز معلومتين .
- ⊙ درجة الحرارة النهائية (T_f) تكون (نفسها) للماء و الفلز و هي معلومة .
- ⊙ الحرارة النوعية للماء معلومة (C_{water}) .
- و بالتالى فإنه يمكن حساب الحرارة النوعية للفلز (C_{metal}) .
- ملاحظة : يمكن استخدام العلاقة فى حل المسائل على الصورة التالية : $q_{\text{metal}} + q_{\text{water}} = 0$ و بذلك يمكن الحل مباشرة دون الحاجة لوضع الإشارة السالبة للطاقة المنطلقة .

تدريبات 8

- ⊙ علل : فى تجربة تحديد الحرارة النوعية لفلز لا يمكن استخدام كأس من الزجاج بدلاً من الكأس البولستريين ؟

- ⊙ علل : لماذا يستعمل الماء فى المسعر و لا يستعمل أحد السوائل الأخرى ؟

- ⊙ علل : لماذا يكون الحجم المعلوم من الماء جزءاً مهماً من المسعر ؟

- ⊙ علل : لماذا نحتاج معرفة الحرارة النوعية للمادة لحساب الحرارة المفقودة أو المكتسبة نتيجة تغير درجة الحرارة ؟

لا تنسونا من صالح الدعاء

تدريبات 9

سُخنت قطعة فلز كتلتها 50 g إلى درجة حرارة 115°C ثم وضعت في كأس به 125 g من الماء درجة حرارته 25.60°C فوصلت درجة الحرارة إلى 29.30°C فما هي الحرارة النوعية للفلز؟

[الجواب : $0.453 \text{ J/g}^{\circ}\text{C}$]

تمنص قطعة من الفلز كتلتها 4.86 g ما مقداره 259 J من الحرارة عندما ترتفع درجة حرارتها بمقدار 182°C ، ما الحرارة النوعية للفلز؟

[الجواب : $0.301 \text{ J/g}^{\circ}\text{C}$]

عينة من فلز كتلتها 90.0 g امتصت 25.6 J من الحرارة ، عندما ازدادت درجة حرارتها 1.18°C ما الحرارة النوعية للفلز؟

[الجواب : $0.241 \text{ J/g}^{\circ}\text{C}$]

ارتفعت درجة حرارة عينة من الماء من 20.0°C إلى 46.6°C عند امتصاصها 5650 J من الحرارة ، ما كتلة العينة؟

[الجواب : 50.8 g]

وضعت كمية من الماء درجة حرارته 25.60°C في مسعر ، ثم سُخنت قطعة من الحديد كتلتها 50.0 g حتى أصبحت درجة حرارتها 115.0°C ، و وضعت في الماء الموجود في المسعر ، و بعد التبادل الحرارى بين الماء و قطعة الحديد أصبحت درجة الحرارة النهائية لمحتويات المسعر 29.30°C ، و كانت كمية الحرارة التى امتصها الماء 1940 J ، ما كتلة الماء؟

[الجواب : 125.3 g]

تدريبات 10

ما كمية الحرارة التي تكتسبها صخرة من الجرانيت كتلتها $2.00 \times 10^3 \text{ g}$ إذا ارتفعت درجة حرارتها من 10.0°C إلى 29.0°C ، إذا علمت أن الحرارة النوعية للجرانيت $0.803 \text{ J/g}\cdot^\circ\text{C}$ ؟

[الجواب : 30500 J]

إذا فقدت 335 g من الماء ، عند درجة حرارة 65.5°C كمية من الحرارة مقدارها 9750 J ، فما درجة الحرارة النهائية للماء ؟

[الجواب : 72.5°C]

احسب الحرارة التي تفقدتها 3580 Kg من الجرانيت ($0.803 \text{ J/g}\cdot^\circ\text{C}$) عندما تبرد درجة حرارتها من 41.2°C إلى -12.9°C ؟

[الجواب : $1.56 \times 10^8 \text{ J}$]

ملئ حوض سباحة $20 \text{ m} \times 12.5 \text{ m}$ بالماء إلى عمق 3.75 m ، إذا كانت درجة حرارة ماء الحوض الابتدائية 18.40°C ، إذا علمت أن كثافة الماء 1.000 g/mL ، فما كمية الحرارة اللازمة لرفع درجة حرارته إلى 29.0°C ؟

[الجواب : $4.16 \times 10^{10} \text{ J}$]

وضع 10.2 g من زيت الكانولا في مقلاة ، ولزم 3.34 kJ لرفع درجة حرارته من 25°C إلى 196.4°C ما الحرارة النوعية للزيت ؟

[الجواب : $1.91 \text{ J/g}\cdot^\circ\text{C}$]

وضعت سبيكة السبائك كتلتها 58.8 g في من 125 g من الماء البارد في مسعر ، فنقصت درجة حرارة مسعر بمقدار 106.1°C بينما ارتفعت درجة حرارة الماء 10.5°C ، ما الحرارة النوعية للسبيكة ؟

[الجواب : $0.880 \text{ J/(g}\cdot^\circ\text{C)}$]

احسب الحرارة النوعية ($\text{J/(g}\cdot^\circ\text{C)}$) لمادة مجهولة ، إذا تطلق عينة كتلتها 2.50 g منها 12.0 cal عندما تتغير درجة حرارتها من 25.0°C إلى 20.0°C ؟

[الجواب : $4.02 \text{ J/(g}\cdot^\circ\text{C)}$]

لا تنسونا من صالح الدعاء

تدريبات إضافية 11 (التبادل الحرارى)

سخن خاتم من الذهب حرارته النوعية $0.129 \text{ J/g} \cdot ^\circ\text{C}$ و كتلته 0.047 kg إلى درجة حرارة 99°C ثم ألقى في مسعر يحوي ماء درجة حرارته 25°C فأصبحت درجة الحرارة النهائية 38°C إذا كان المسعر معزول تماماً ، ولا يمتص حرارة ، ما كتلة الماء اللازمة لذلك ؟

[الجواب : 6.8 g]

سخنت صمولة من الألومنيوم كتلتها 0.050 kg إلى درجة حرارة غير معروفة ، ثم ألقيت فى وعاء يحتوى على 0.15 kg من الماء عند درجة حرارة ابتدائية 21.0°C ، وصلت درجة الحرارة النهائية للصمولة و الماء إلى 25.0°C ، إذا كانت الحرارة النوعية للألومنيوم $0.899 \text{ J/g} \cdot ^\circ\text{C}$ فما درجة الحرارة الابتدائية لقطعة الألومنيوم ؟

[الجواب : 81°C]

ما درجة الحرارة النهائية عندما نضع قالباً من الذهب كتلته 3000 g و درجة حرارته 99°C فى 220 g ماء عند درجة حرارة 25°C مع العلم أن الذهب حرارته النوعية هي $0.129 \text{ J/g} \cdot ^\circ\text{C}$ ؟

[الجواب : 47°C]

ألقيت قطعة من القصدير كتلتها 225 g و درجة حرارتها 97.5°C فى 111 g ماء عند درجة حرارة 10.0°C ، إذا كانت الحرارة النوعية للقصدير $0.230 \text{ J/g} \cdot ^\circ\text{C}$ ، فما درجة الحرارة النهائية للخليط المكون من القصدير و الماء ؟

[الجواب : 18.8°C]

وضعت قطعة نقد نحاسية ساخنة فى 101 g ماء إذا كان التغير فى درجة حرارة الماء 8.39°C و التغير فى درجة حرارة القطعة النقدية 68.0°C - ، فما كتلة القطعة النقدية إذا كانت الحرارة النوعية للنحاس $0.387 \text{ J/g} \cdot ^\circ\text{C}$ ؟

[الجواب : 135 g]

الطاقة الكيميائية و الكون

الكيمياء الحرارية : فرع من فروع الكيمياء يختص بدراسة تغيرات الحرارة التي ترافق التفاعلات الكيميائية وتغيرات الحالة الفيزيائية.

لاحظ : أى تفاعل كيميائى أو تغير فى الحالة الفيزيائية (يرافقه)
 • اطلاق حرارة .
 • امتصاص حرارة .

0544555703

الوقود	ينتج الوقود حرارة عند احتراقه (تفاعل طارد للحرارة) .
الوجبات ذاتية التسخين	تصمم بحيث تعطى حرارة عند الطلب عن طريق تفاعل شديد طارد للحرارة ، لذلك يستخدمها الجنود فى الميدان لتسخين وجباتهم .
الكمامات الساخنة	تستخدم هذه الكمامات لتدفئة الأيدي فى الأيام الباردة ، و تنتج الطاقة المنطلقة من الكمامة الساخنة نتيجة التفاعل الكيميائى الآتى : $4Fe + 3O_2 \rightarrow 2Fe_2O_3 + 1625 \text{ kJ}$

العلاقة بين النظام و المحيط و الطاقة الكيميائية

النظام	جزء معين من الكون يحتوى على التفاعل أو العملية التى تريد دراستها .
المحيط	هو كل شئ فى الكون غير النظام
الكون	هو النظام مع المحيط [الكون = النظام + المحيط]

فى التفاعلات الطاردة الحرارة	تنتقل الحرارة من النظام إلى المحيط [نظام ← محيط] <u>مثال</u> : انتقال الحرارة من الكمامة الساخنة (النظام) إلى يدك الباردتين (جزء من المحيط)
------------------------------	--

فى التفاعلات الماصة الحرارة	تنتقل الحرارة من المحيط إلى النظام [محيط ← نظام] <u>مثال</u> : تفاعل هيدروكسيد الباريوم $Ba(OH)_2$ مع ثيوسيانات الأمونيوم NH_4SCN عند وضع الخليط السابق فى كأس ، و وضع الكأس على لوح خشبى مبتل بالماء ، فإنه يحدث تفاعل ماص للحرارة بشدة ، فنتقل الحرارة من اللوح و الماء الذى يبلله (المحيط) إلى الكأس (النظام) ، و بالتالى يحدث تغير كبير فى درجة الحرارة يتسبب فى تجمد الماء بين اللوح و الكأس ، مما يجعل الكأس تلتصق باللوح <u>تنبيه</u> : لا يتصح بإجراء هذا التفاعل نظراً للمخاطر المرافقة له ، لأن مادة ثيوسيانات الأمونيوم مادة شديدة للسمية ، ضارة عند الاستنشاق ، و التلامس مع الجلد أو الابتلاع .
-----------------------------	--

تدريبات 12

صف معنى النظام فى الديناميكا الحرارية ، و اشرح العلاقة بين النظام و المحيط و الكون ؟

اعط مثالين على أنظمة كيميائية و عرف مفهوم الكون فى هذين المثالين ؟

إذا أردت أن تحفظ الشئ ساخناً فإنك تضعه فى ترمس ، فسر لماذا تغسل الترمس بالماء الساخن قبل حفظ الشئ فيه ؟

<http://www.facebook.com/mr.m7md.mo7sn>

المحتوى الحرارى و تغيراته

<p>علل : يهتم الكيميائيون بدراسه [تغيرات الطاقة] فى أثناء التفاعلات الكيميائية أكثر من اهتمامهم بدراسة [كمية الطاقة] الموجودة فى التفاعلات والنواتج ؟</p>	<p>لأنه يمكن قياس كمية الطاقة المكتسبة أو المفقودة (التغيرات) للتفاعل الكيميائى باستخدام المسعر عند ضغط ثابت . بينما من المستحيل قياس كمية الطاقة الحرارية الكلية الموجودة فى المادة .</p>
<p>علل : من المستحيل قياس كمية الطاقة الحرارية الكلية الموجودة فى المادة ؟</p>	<p>لأن كمية الحرارة الكلية التى تحتوى عليها المادة تعتمد على عوامل كثيرة ، و بعض هذه العوامل غير مفهوم تماماً حتى الآن .</p>
<p>علل : وضع الكيميائيون خاصية أسموها (المحتوى الحرارى) ؟</p>	<p>لتسهيل قياس أو دراسة تغيرات الطاقة التى ترافق التفاعلات</p>

ملاحظات

<p>قياس كمية الطاقة المكتسبة أو المفقودة للتفاعل الكيميائى باستخدام [المسعر عند ضغط ثابت]</p>	<p>⊙ تقاس كمية الطاقة المكتسبة أو المفقودة للتفاعل الكيميائى باستخدام [المسعر عند ضغط ثابت]</p>
<p>الضغط الثابت</p>	<p>⊙ الكثير من التفاعلات الكيميائية تحدث عند ضغط جوى ثابت ، مثل : <input type="checkbox"/> مسعر كأس البولسترين الغير مغلق (المفتوح) . <input type="checkbox"/> التفاعلات التى تحدث فى الكائنات الحية التى تعيش على سطح الأرض و فى البرك و المحيطات <input type="checkbox"/> التفاعلات التى تحدث فى الكؤوس و الدورق المفتوحة فى المختبرات .</p>
<p>q_p</p>	<p>هو رمز الطاقة المنطلقة أو المتولدة من التفاعلات التى تحدث عند ضغط ثابت .</p>

الفرق بين [المحتوى الحرارى & التغير فى المحتوى الحرارى]

المقارنة	المحتوى الحرارى	التغير فى المحتوى الحرارى
الرمز	H	ΔH _{rxn}
التعريف	هو مقدار الطاقة الحرارية المخزنة فى مول واحد من المادة تحت ضغط ثابت	هو كمية الحرارة الممتصة أو المنطلقة فى التفاعل الكيميائى
القياس	لا يمكن قياسه	يمكن قياسه

التغير فى المحتوى الحرارى ΔH_{rxn}

<p>تسميته</p>	<p>⊙ يُسمى التغير فى المحتوى الحرارى بـ [حرارة التفاعل] . هو الفرق بين :</p>
<p>المقصود بـ : [التغير فى المحتوى الحرارى] [حرارة التفاعل] [ΔH_{rxn}]</p>	<p>• المحتوى الحرارى للمواد عند نهاية التفاعل H_{final} (النواتج) و • المحتوى الحرارى للمواد فى بداية التفاعل H_{initial} (المتفاعلات)</p>
<p>قانون حساب ΔH_{rxn}</p>	<p>ΔH_{rxn} = H_{final} - H_{initial} ΔH_{rxn} = H_{products} - H_{reactants}</p>

<p>ملاحظة</p>	<p>⊙ فى أى تفاعل أو عملية تحدث تحت ضغط ثابت فإن : التغير فى المحتوى الحرارى (يساوى) الحرارة المفقودة أو المكتسبة q_p = ΔH_{rxn}</p>
---------------	---

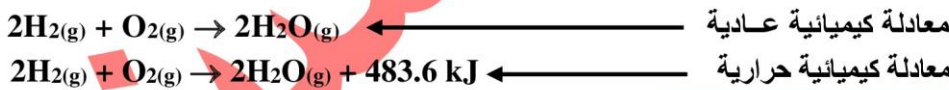
<http://alainphysics.blogspot.ae/>

إشارة المحتوى الحرارى

التفاعل الماص للحرارة	التفاعل الطارد للحرارة	المقارنة
هو التفاعل المصحب بامتصاص طاقة	هو التفاعل المصحب بإطلاق طاقة	المفهوم
التفاعلات التي فيها طاقة النواتج أكبر من طاقة المتفاعلات	التفاعلات التي فيها طاقة النواتج أقل من طاقة المتفاعلات	التعريف
$H_{\text{products}} > H_{\text{reactants}}$	$H_{\text{products}} < H_{\text{reactants}}$	
$\Delta H > 0$	$\Delta H < 0$	قيمة ΔH
موجبة	سالبة	إشارة ΔH
تُكتب في جهة المتفاعلات	تُكتب في جهة النواتج	الطاقة
<u>الكماة الباردة</u>	<u>الكماة الساخنة</u>	مثال
$27\text{kJ} + \text{NH}_4\text{NO}_3 \rightarrow \text{NH}_4^+ + \text{NO}_3^-$ $\text{NH}_4\text{NO}_3 \rightarrow \text{NH}_4^+ + \text{NO}_3^- \quad \Delta H = +27\text{kJ}$	$4\text{Fe} + 3\text{O}_2 \rightarrow 2\text{Fe}_2\text{O}_3 + 1625\text{kJ}$ $4\text{Fe} + 3\text{O}_2 \rightarrow 2\text{Fe}_2\text{O}_3 \quad \Delta H = -1625\text{kJ}$	
المحيط ← النظام	النظام ← المحيط	اتجاه الطاقة
لا يحدث تلقائياً غالباً	يحدث تلقائياً غالباً	التلقائية
التفاعل الكيميائي الذي يحدث في الكماة الباردة	التفاعل الكيميائي الذي يحدث في الكماة الساخنة	مخطط التغير في المحتوى الحرارى

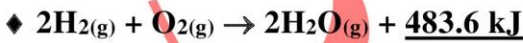
ملاحظات

المعادلة الكيميائية الحرارية : ⊙ هي المعادلة التي تتضمن كمية الطاقة الممتصة أو المنطلقة كحرارة خلال التفاعل الكيميائي .
المعادلة الكيميائية الحرارية : ⊙ هي المعادلة التي تبين التغير في المحتوى الحرارى .

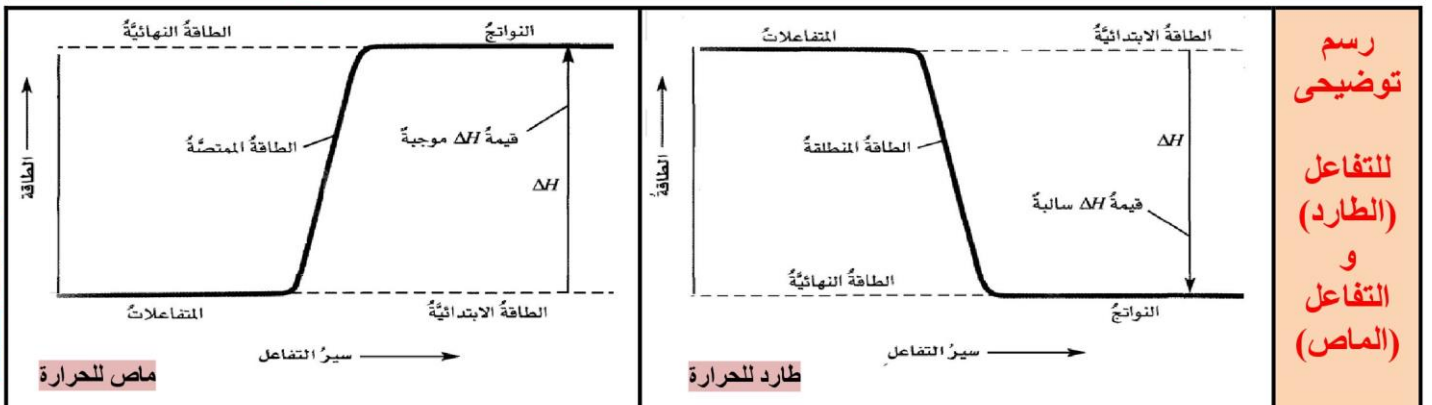
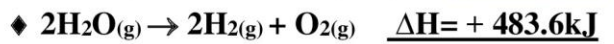


لاحظ! يُمكن أن تُكتب المعادلة الكيميائية الحرارية على صورتين :

الصورة الأولى : تُكتب كمية الطاقة الممتصة أو المنطلقة كجزء من المعادلة نفسها سواء في طرف المتفاعلات أو النواتج



الصورة الثانية : تُكتب كمية الطاقة الممتصة أو المنطلقة منفصلة بجوار المعادلة وتسمى ΔH (موجبة أو سالبة)



تدريبات 13

متى تكون كمية الحرارة (q) الناتجة أو الممتصة في تفاعل كيميائي مساوية للتغير في المحتوى الحرارى ΔH ؟

حدد نوع التفاعلات فى الجدول (تفاعل طارد أم تفاعل ماص) ؟ كيف عرفت ذلك ؟

كيف عرفت ذلك !!؟	نوع التفاعل	الرسم / المعادلة
.....	$\text{CH}_4(\text{g}) + 2\text{O}_2(\text{g}) \rightarrow \text{CO}_2(\text{g}) + 2\text{H}_2\text{O}(\text{l}) + 890.31 \text{ kJ}$
.....	$\text{I}_2(\text{s}) \rightarrow \text{I}_2(\text{g}) \quad \Delta H = +62.4 \text{ kJ}$
.....	$\text{CaCO}_3(\text{s}) + 176 \text{ kJ} \rightarrow \text{CaO}(\text{s}) + \text{CO}_2(\text{g})$
.....	$2\text{Mg}(\text{s}) + \text{O}_2(\text{g}) \rightarrow 2\text{MgO}(\text{s}) \quad \Delta H = -285.83 \text{ kJ}$
.....	
.....	

أكمل الجدول التالى :

اتجاه انتقال الطاقة (من ← إلى)	الطاقة الكامنة الكيميائية (تزداد أم تقل)	قيمة ΔH
.....	سالبة
.....	موجبة

أسألكم الدعاء بالرحمة و المغفرة لوالدى

يمكنك تسجيل إعجاب <http://www.facebook.com/mr.m7md.mo7sn> لصفحة الفيس بوك Like

لضمان وصول ملازم الفصول التالية إليك مباشرة ، بالتوفيق للجميع إن شاء الله

القسم (3 - 6)

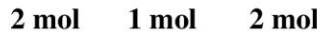
المعادلات الكيميائية الحرارية

كتابة المعادلات الكيميائية الحرارية

التعريف	هي المعادلات التي تعبر عن مقدار الحرارة المنطلقة أو الممتصة في التفاعلات الكيميائية .
طريقة كتابتها	تكتب في صورة معادلة كيميائية موزونة تشتمل على الحالات الفيزيائية لجميع المواد الناتجة و المتفاعلة و تشتمل أيضاً على التغير في الطاقة الذي يعبر عنه عادة بأنه تغير في المحتوى الحراري ΔH
أمثلة	$4Fe + 3O_2 \rightarrow 2Fe_2O_3 \quad \Delta H = -1625 \text{ kJ}$ $NH_4NO_3 \rightarrow NH_4^+ + NO_3^- \quad \Delta H = +27 \text{ kJ}$

ملاحظات عامة حول المعادلة الكيميائية الحرارية

المعاملات في المعادلة الكيميائية الحرارية الموزونة ، تمثل عدد (المولات) و لا تمثل عدد الجزيئات .



يمكن عند الحاجة كتابة هذه المعاملات في صورة كسور و ليس بالضرورة في صورة أعداد صحيحة .



التغير في الطاقة يتناسب طردياً مع عدد المولات ، لذلك فعند ضرب أو قسمة معاملات المواد في المعادلة برقم معين فإن قيمة ΔH تُضرب أو تُقسم بنفس الرقم .

مثال : تقسيم المعادلة على 2



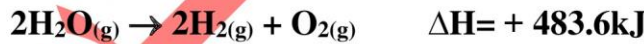
مثال : ضرب المعادلة في 4



في المعادلة الكيميائية الحرارية يجب ذكر الحالة الفيزيائية (g) - (l) - (s) - (aq) للمتفاعلات والنواتج دائماً [علل]

□ الإجابة : لأنها تؤثر في مجمل الطاقة المتبادلة (أي الممتصة أو المنطلقة) أو لأن قيمة ΔH تتوقف على الحالة الفيزيائية للمادة .

عند عكس (قلب) المعادلة يجب تغيير إشارة ΔH مع بقاء قيمتها ، لأن الفرق بين طاقة المتفاعلات والنواتج ثابت أي تبقى ΔH ثابتة



قيمة التغير في المحتوى الحراري ΔH ، لا تتأثر بتغيرات درجة الحرارة .

العوامل المؤثرة في قيمة ΔH هي عدد و قوة الروابط التي يتم كسرها أو تكوينها أثناء التفاعل .

تدريبات 14

حدد لكل من المعادلات التالية قيمة ΔH ، و نوعية التفاعل (ماص أم طارد) :

نوع التفاعل	قيمة ΔH	التفاعل
		$C(s) + O_2(g) \rightarrow CO_2(g) + 393.51 \text{ kJ}$
		$CH_4(g) + 2O_2(g) \rightarrow CO_2(g) + 2H_2O(l) + 890.31 \text{ kJ}$
		$CaCO_3(s) + 176 \text{ kJ} \rightarrow CaO(s) + CO_2(g)$
		$H_2O(g) \rightarrow H_2O(l) + 44.02 \text{ kJ}$

أعد كتابة كل من المعادلات التالية مضمناً قيمة ΔH في جانب النواتج أو المتفاعلات و حدد نوعية التفاعل :

التفاعل	الإجابة
$H_2(g) + O_2(g) \rightarrow H_2O(l) \quad \Delta H = -285.83 \text{ kJ}$	
$2Mg(s) + O_2(g) \rightarrow 2MgO(s) \quad \Delta H = -285.83 \text{ kJ}$	
$I_2(s) \rightarrow I_2(g) \quad \Delta H = +62.4 \text{ kJ}$	

حرارة الاحتراق $\Delta H_{\text{comb}}^{\circ}$

التعريف	<input type="checkbox"/> هي المحتوى الحرارى الناتج عن حرق 1 mol من المادة احتراقاً كاملاً . <input type="checkbox"/> هي الحرارة المنطلقة عند الاحتراق الكامل لمول واحد من المادة (فى وفرة من الأوكسجين) .
الرمز	<input type="checkbox"/> يرمز لها بالرمز ($\Delta H^{\circ}c$) الرمز $^{\circ}$ للدلالة على الظروف القياسية الرمز c من كلمة combustion (احتراق)
شروطها	<input type="checkbox"/> تُعرف حرارة الاحتراق بدلالة احتراق مول واحد فقط من المتفاعل وجود الأوكسجين O_2
مثال	فى اثناء عملية أيض الجسم ، يُنتج عن تفاعل احتراق $C_6H_{12}O_6$ الطارد للحرارة ، كمية كبيرة من الطاقة $C_6H_{12}O_6(s) + 6O_2(g) \rightarrow 6CO_2(g) + 6H_2O(l) \quad \Delta H_{\text{comb}} = -2808 \text{ kJ}$
لاحظ !!	<input type="checkbox"/> يستعمل الرمز ΔH° للتعبير عن تغير المحتوى الحرارى القياسى . <input type="checkbox"/> الرمز ($^{\circ}$) يبين أن تغيرات المحتوى الحرارى قد تم تحديدها للمواد المتفاعلة و النواتج جميعها عند الظروف القياسية [ضغط جوى 1atm و درجة حرارة $25^{\circ}C$] ، و يجب عدم الخلط بينها و بين الـ STP .

تغيرات الحالة

حرارة التبخير المولارية ΔH_{vap} & حرارة التكثيف المولارية ΔH_{cond}

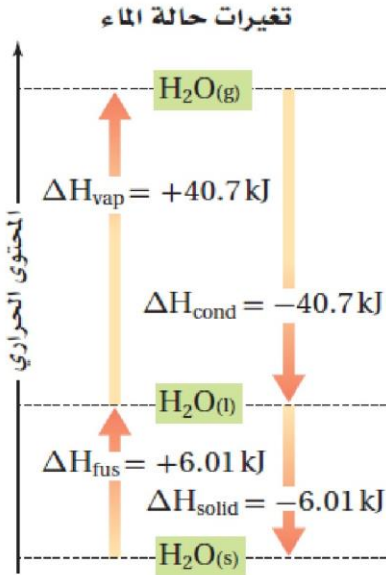
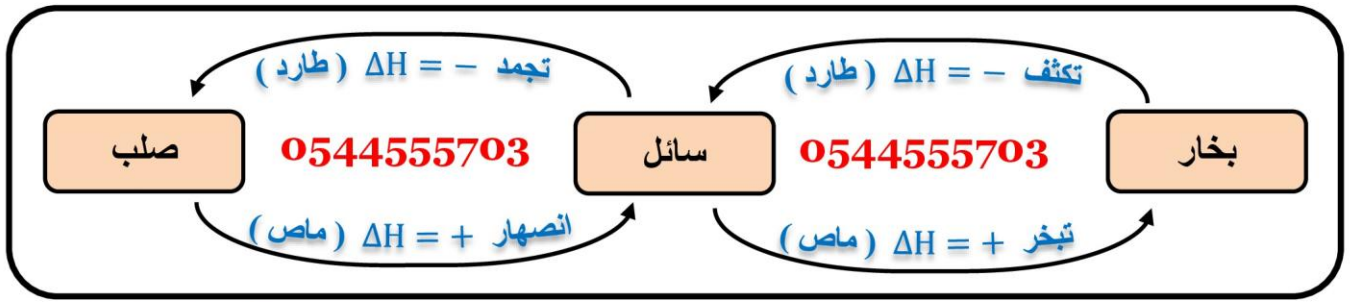
المقارنة	حرارة التبخير المولارية	حرارة التكثيف المولارية
التعريف	هي الحرارة اللازمة لتبخير 1 mol من سائل	هي الحرارة اللازمة لتكثف 1 mol من بخار
الرمز	ΔH_{vap}	ΔH_{cond}
قيمتها	تكون قيمتها دائماً موجبة [$\Delta H_{\text{vap}} = +$] لأن عملية التبخير عملية ماصة للحرارة	تكون قيمتها دائماً سالبة [$\Delta H_{\text{cond}} = -$] لأن عملية التكثيف عملية طاردة للحرارة
لاحظ !!	كمية الحرارة فى عملية التبخير الماصه للحرارة (تساوى) كمية الحرارة فى عملية التكثيف الطارده للحرارة أى أنهما متساويتان رقمياً ، لكن يختلفان فى الاشارة $\Delta H_{\text{vap}} = - \Delta H_{\text{cond}}$	

حرارة الانصهار المولارية ΔH_{fus} & حرارة التجمد المولارية ΔH_{solid}

المقارنة	حرارة الانصهار المولارية	حرارة التجميد المولارية
التعريف	هي الحرارة اللازمة لاصهر 1 mol من مادة صلبة	هي الحرارة اللازمة لتجميد 1 mol من سائل
الرمز	ΔH_{fus}	ΔH_{solid}
قيمتها	تكون قيمتها دائماً موجبة [$\Delta H_{\text{fus}} = +$] لأن عملية الانصهار عملية ماصة للحرارة .	تكون قيمتها دائماً سالبة [$\Delta H_{\text{solid}} = -$] لأن عملية التجميد عملية طاردة للحرارة
لاحظ !!	كمية الحرارة فى عملية الانصهار الماصه للحرارة (تساوى) كمية الحرارة فى عملية التجميد الطارده للحرارة أى أنهما متساويتان رقمياً ، لكن يختلفان فى الاشارة $\Delta H_{\text{fus}} = - \Delta H_{\text{solid}}$	

لا تنسوننا من صالح الدعاء

المعادلات الكيميائية الحرارية لتغيرات الحالة



تكثف الماء	تبخر الماء
$\text{H}_2\text{O}_{(g)} \rightarrow \text{H}_2\text{O}_{(l)} \quad \Delta H = -40.7 \text{ kJ}$	$\text{H}_2\text{O}_{(l)} \rightarrow \text{H}_2\text{O}_{(g)} \quad \Delta H = 40.7 \text{ kJ}$

تجمد الماء	انصهار الماء
$\text{H}_2\text{O}_{(l)} \rightarrow \text{H}_2\text{O}_{(s)} \quad \Delta H = -6.01 \text{ kJ}$	$\text{H}_2\text{O}_{(s)} \rightarrow \text{H}_2\text{O}_{(l)} \quad \Delta H = 6.01 \text{ kJ}$

- ⊙ الأسهم التي تشير إلى أعلى ↑ تدل على أن طاقة النظام (تزداد) عندما ينصهر الماء و يتبخر لأن عملية الانصهار و التبخر عمليات ماصة للطاقة .
- ⊙ الأسهم التي تشير إلى أسفل ↓ تدل على أن طاقة النظام (تقل) عندما يتكثف الماء و يتجمد لأن عملية التجمد و التكثف عمليات طاردة للطاقة .

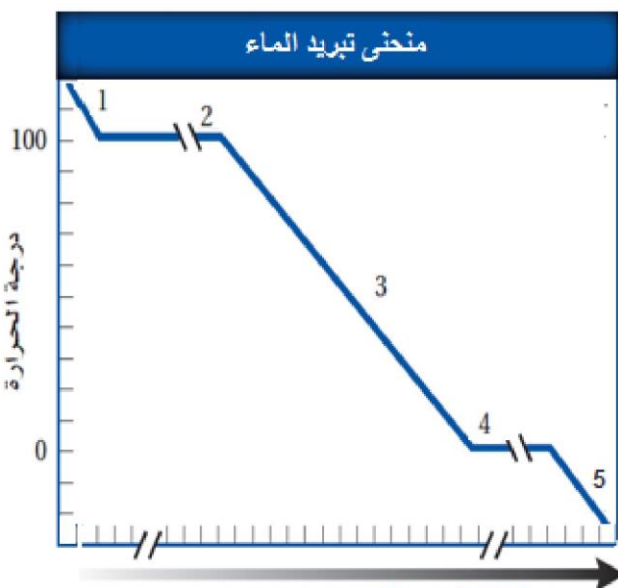
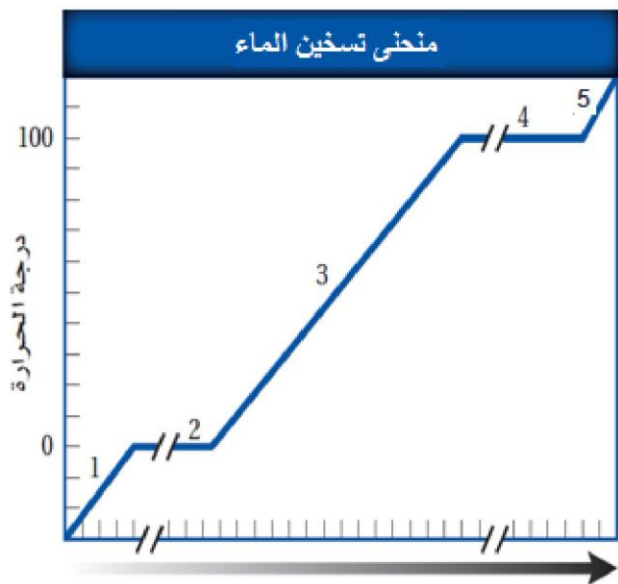
استخدامات تغيرات الحالة

لأن جلدك يزود الماء بالحرارة التي يحتاج إليها لكي يتبخر و كلما امتص الماء الحرارة من جلدك و تبخر ، ازدادت برودة جسمك .	<u>علل</u> : عندما تخرج من حمام ساخن فإنك تشعر برعشه أو ببرودة في جسدك ؟
لأن الماء يزود الثلج بالحرارة لكي ينصهر و بالتالي يبرد الماء و تنخفض درجة حرارته .	<u>علل</u> : إذا أردت شرب كأس ماء بارد فإنك تضع فيه مكعباً من الثلج ؟
لأن عملية تجمد الماء تطلق طاقة ($\Delta H_{\text{solid}} = -$) تدفئ الهواء المحيط لدرجة كافية لمنع الفاكهة و الخضروات من التلف .	<u>علل</u> : يستغل بعض المزارعين في البلاد الباردة حرارة انصهار الماء لحماية الفاكهة و الخضروات من التجمد فإذا كان من المتوقع أن تنخفض درجة الحرارة إلى التجمد في أحد الأيام فإنهم يغمرون بساتينهم بالماء في تلك الليلة ؟

تعليقات

لأن العرق عندما يتبخر فإنه يحتاج لطاقة حرارية يمتصها من الجسم مما يؤدي إلى انخفاض درجة حرارة الجسم .	<u>علل</u> : تشعر ببرودة بعد ممارسة الرياضة عند هبوب نسمة هواء ؟
ذلك لتخفيض درجة حرارة الهواء المحيط حيث يتبخر الماء و يمتص قدرًا من الحرارة من الجو المحيط .	<u>علل</u> : قيام بعض السكان برش الماء على الأرضيات وعلى أسطح الممرات الضيقة صيفًا ؟
لأنها تحتوي على مسامات تسمح بتبخر بعض قطرات الماء أخذة الحرارة من الماء في الإناء فيبرد الماء بداخله .	<u>علل</u> : يقوم الإنسان منذ زمن بعيد بتعليق أواني المياه الفخارية في نوافذ المنازل ؟
لأن العطر عندما يتبخر فإنه يحتاج لكمية من الحرارة يكتسبها من اليد فتشعر بالبرودة .	<u>علل</u> : عند وضع كمية من العطر في اليد نشعر بالبرودة ؟
لأن عملية انصهار الثلج تحتاج لطاقة حرارية تمتصها من الجو المحيط بها و بالتالي تنخفض درجة حرارة الجو .	<u>علل</u> : تنخفض درجة حرارة الجو عما هي عليه عند انصهار الثلج في المناطق الباردة ؟

منحنيات التسخين و منحنيات التبريد



وصف تغيرات الحالة و طاقة الوضع و الطاقة الحركية

في منحنى التسخين

المقطع 1	تزداد الطاقة الحركية للماء بزيادة درجة الحرارة
المقطع 2	تزداد طاقة الوضع عند امتصاص الحرارة للانصهار (تغير حالة)
المقطع 3	تزداد الطاقة الحركية للماء بزيادة درجة الحرارة
المقطع 4	تزداد طاقة الوضع عند امتصاص الحرارة للتبخير (تغير حالة)
المقطع 5	تزداد الطاقة الحركية للماء بزيادة درجة الحرارة

وصف تغيرات الحالة و طاقة الوضع و الطاقة الحركية

في منحنى التبريد

المقطع 1	تقل الطاقة الحركية للماء بانخفاض درجة الحرارة
المقطع 2	تقل طاقة الوضع عند فقد الحرارة و حدوث التكثف (تغير حالة)
المقطع 3	تقل الطاقة الحركية للماء بانخفاض درجة الحرارة
المقطع 4	تقل طاقة الوضع عند فقد الحرارة و حدوث التجمد (تغير حالة)
المقطع 5	تقل الطاقة الحركية للماء بانخفاض درجة الحرارة

تدريبات 15

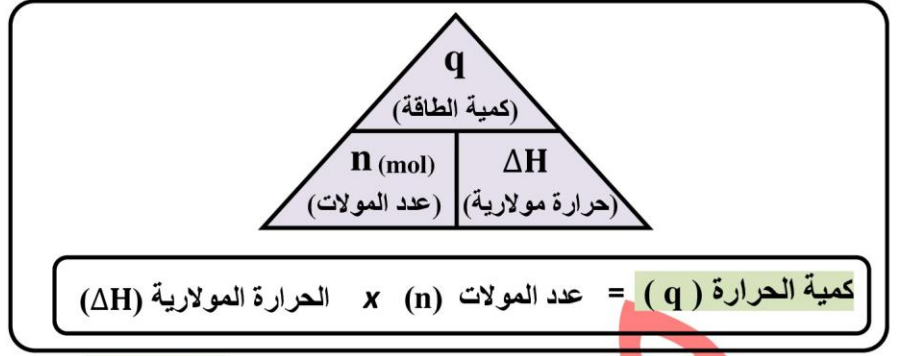
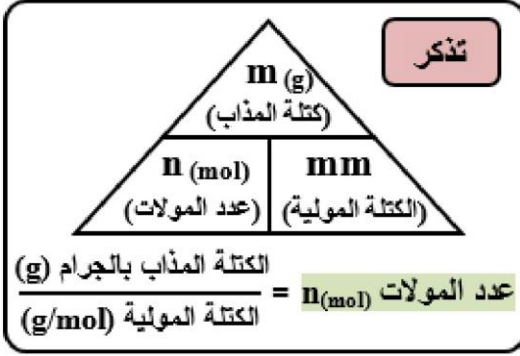
أكمل الجدول التالي :

المعادلة	نوع التفاعل	إشارة ΔH	التفسير
$C_2H_5OH(s) \rightarrow C_2H_5OH(l)$			
$C_2H_5OH(l) \rightarrow C_2H_5OH(g)$			
$H_2O(g) \rightarrow H_2O(l)$			
$CH_3OH(l) \rightarrow CH_3OH(g)$			
$NH_3(l) \rightarrow NH_3(s)$			
$Br_2(l) \rightarrow Br_2(s)$			
$C_5H_{12}(g) + 8O_2(g) \rightarrow 5CO(g) + 6H_2O(l)$			

لا تنسوننا من صالح الدعاء

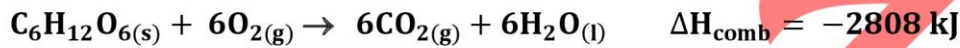
حساب الحرارة المنطلقة من التفاعل

$$q = n_{\text{mol}} \times \Delta H$$



مثال محلول

يستعمل المسعر في قياس الحرارة الناتجة عن تفاعلات الاحتراق؛ إذ يتم التفاعل في حجم ثابت يحوي أكسجيناً مضغوطاً ضغطاً عالياً ، ما كمية الحرارة الناتجة عن احتراق 54.0 g جلوكوز ، بحسب المعادلة الآتية ، حيث $C_6H_{12}O_6 = 180.18 \text{ g/mol}$ ؟



المعطيات	المعطيات	المعطيات
الكتلة $m = 54.0 \text{ g}$	الكتلة المولية $m.m = 180.10 \text{ g/mol}$	$\Delta H_{\text{comb}} = -2808 \text{ kJ}$
$n = 54.0 \text{ g} \times \frac{1 \text{ mol}}{180.18 \text{ g}} = 0.300 \text{ mol}$	نحول الجرامات إلى مولات $n = \frac{m}{m.m}$	خطوات الحل
$0.300 \text{ mol} \times \frac{2808 \text{ kJ}}{1 \text{ mol}} = 842 \text{ kJ}$	نضرب عدد المولات في ΔH_{comb} $q = n_{\text{mol}} \times \Delta H_{\text{comb}}$	

تدريبات 16

1 - اشرح كيف يمكنك حساب الحرارة المنطلقة عند تجمد 0.25 mol ماء ؟

2 - ما المقصود بأن حرارة الانصهار المولية للميثانول CH_3OH هي 3.22 kJ/mol ؟

3 - إذا كانت حرارة التبخر المولية للأمونيا هي 23.3 kJ/mol فما مقدار حرارة التكتف للمولية للأمونيا ؟

4 - احسب كمية الحرارة المنطلقة عند احتراق 206 g من غاز الهيدروجين ، حيث و $\Delta H_{\text{comb}} = -286 \text{ kJ/mol}$ ؟

[الإجابة : 29458 kJ]

5 - احسب الحرارة اللازمة لصهر 25.7 g من الميثانول الصلب عند درجة انصهار ، حيث $CH_3OH = 32 \text{ g/mol}$ و $\Delta H_{\text{fus}} = 3.22 \text{ kJ/mol}$ ؟

[الإجابة : 2.58 kJ]

6 - ما كمية الحرارة المنطلقة عن تكتف 275 g من غاز الأمونيا إلى سائل عند درجة غليانه ، حيث $NH_3 = 17 \text{ g/mol}$ و $\Delta H_{\text{cond}} = -23.3 \text{ kJ/mol}$ ؟

[الإجابة : 376 kJ]

تدريبات 17

1 - يُرَشَّ الماء على البرتقال في ليلة باردة ، إذا كان متوسط ما يتجمد من الماء على كل برتقالة 11.8 g ، فكمية الحرارة المنطلقة ، إذا كانت $\Delta H_{\text{solid}} = -6.01 \text{ kJ}$ ؟

[الإجابة : -3.94 kJ]

2 - ما كتلة البروبان C_3H_8 التي يجب حرقها في شواية لكي تطلق 4560 kJ من الحرارة إذا كان $\Delta H_{\text{comb}} = -2219 \text{ kJ/mol}$ ؟

[الإجابة : 90.60 g]

3 - ما كمية الحرارة التي تنطلق عند احتراق 5.0 kg من الفحم إذا كانت كتلة الكربون فيه % 96.2 و المواد الأخرى التي يحويها الفحم لا تتفاعل ، مع العلم أن ΔH_{comb} للكربون يساوي -394 kJ/mol ؟

[الإجابة : $158 \times 10^3 \text{ kJ}$]

4 - ما كمية الحرارة المنطلقة من تكثف 1255 g بخار ماء سائل عند درجة حرارة 100°C علماً بأن $\Delta H_{\text{cond}} = -40.7 \text{ kJ}$ ؟

[الإجابة : 2830 kJ]

5 - إذا أطلقت عينة من الأمونيا 5.66 kJ من الحرارة عندما تصلبت عند درجة انصهارها فما كتلة العينة إذا كان $\Delta H_{\text{fus}} = 5.66 \text{ kJ}$ ؟

[الإجابة : 17 g]

6 - ما كتلة الميثان التي يجب حرقها لإطلاق 12880 kJ من الحرارة ، حيث $\text{CH}_4 = 16 \text{ g/mol}$ و $\Delta H_{\text{comb}} = -891 \text{ kJ/mol}$ ؟

[الإجابة : 231.3 g]

<http://alainphysics.blogspot.ae/>

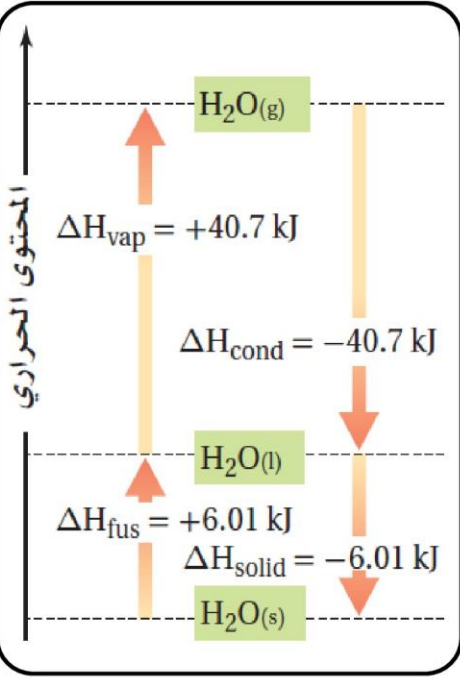
<http://www.facebook.com/mr.m7md.mo7sn>

0544555703

تدريبات 18

1 - استعن بالمعلومات الواردة في الشكل لحساب الآتي :

A - كمية الحرارة اللازمة لتبخر 4.33 mol من الماء عند درجة حرارة 100 °C ؟



[الإجابة : 176 kJ]

B - كمية الحرارة اللازمة التي يطلقها تكثيف 166 g من الماء عند درجة حرارة 100 °C ؟

[الإجابة : 375 kJ]

C - ما كتلة الماء التي يجب انصهارها عند درجة حرارة 0 °C لامتصاص 418.9 kJ من الحرارة ؟

[الإجابة : 1254.6 g]

D - ما عدد مولات الماء التي يجب تجمدها عند درجة حرارة 0 °C لإطلاق 324.54 kJ من الحرارة ؟

[الإجابة : 54 mol]

2 - استعن بالمعلومات الواردة في الجدول :

A - اكتب معادلة تبخر 1 mol من الإيثانول ؟

0544555703

حرارة التبخر والانصهار القياسية

المادة	الصيغة الكيميائية	$\Delta H^{\circ}_{\text{vap}}$ kJ/mol	$\Delta H^{\circ}_{\text{fus}}$ kJ/mol
الماء	H ₂ O	40.7	6.01
الإيثانول	C ₂ H ₅ OH	38.6	4.94
الميثانول	CH ₃ OH	35.2	3.22
حمض الإيثانويك (الخل)	CH ₃ COOH	23.4	11.7
الأمونيا	NH ₃	23.3	5.66

B - اكتب معادلة تجمد 3 mol من الأمونيا ؟

C - اكتب معادلة انصهار 108 g من الثلج ؟

<http://www.facebook.com/mr.m7md.mo7sn>

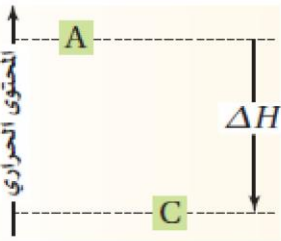
تفاعلات الاحتراق

التعريف	هي عبارة عن تفاعل الوقود مع الأكسجين .
1 - في الأنظمة الحيوية : يُعد الغذاء هو وقود الجسم فالغذاء يزود الجسم بالجلوكوز أو بالكربوهيدرات التي تتحول إلى جلوكوز ، الذي يحترق لانتاج 2808 kJ/mol ليقوم الجسم بأنشطته الحيوية .	
2 - تدفئة المنازل و طهو الطعام : حيث يحترق 1 mol من غاز الميثان و ينتج 891 kJ/mol من الطاقة الحرارية	$\text{CH}_4(\text{g}) + 2\text{O}_2(\text{g}) \rightarrow \text{CO}_2(\text{g}) + 2\text{H}_2\text{O}(\text{l}) + 891 \text{ kJ}$
3 - عمل معظم المركبات (السيارات - الطائرات - ...) : نتيجة باحتراق الجازولين ، الذي يتكون من C_8H_{18} ، حيث أن احتراق 1 mol من الأوكتان يُنتج 5471 kJ من الحرارة	$\text{C}_8\text{H}_{18}(\text{l}) + \frac{25}{2}\text{O}_2(\text{g}) \rightarrow 8\text{CO}_2(\text{g}) + 9\text{H}_2\text{O}(\text{l}) + 5471 \text{ kJ}$
4 - رفع مكوك الفضاء إلى ارتفاعات شاهقة : باستخدام تفاعل الهيدروجين و الأكسجين معاً لانتاج الطاقة اللازمة .	$\text{H}_2(\text{g}) + \frac{1}{2}\text{O}_2(\text{g}) \rightarrow \text{H}_2\text{O}(\text{l}) + 286 \text{ kJ}$

أمثلة على أهمية تفاعلات الاحتراق

تدريبات 19

1- اكتب معادلة كيميائية حرارية لاحتراق الإيثانول $\text{C}_2\text{H}_5\text{OH}$ إذا علمت أنه ينتج 2734 kJ عند احتراق 2 mol من الإيثانول ؟

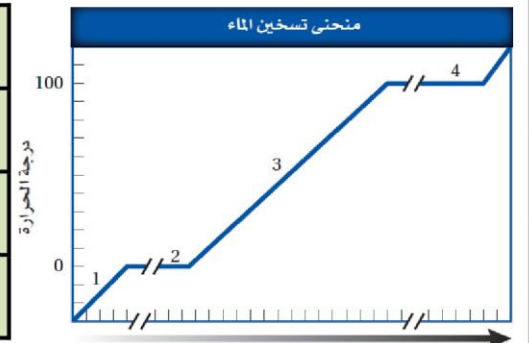


2 - يبين الرسم المجاور المحتوى الحراري للتفاعل $\text{A} \rightarrow \text{C}$ هل التفاعل طارد أم ماص للحرارة ؟
فسر اجابتك ؟

3- علل : يساعد التعرق على تبريد الجسم ؟

4 - زودت عينة من الماء بالحرارة بصورة ثابتة لانتاج منحنى التسخين كما في الشكل المقابل ، حدد ماذا يحدث لكل من :
طاقة الوضع و الطاقة الحركية في المقاطع 1-2-3-4 الموضحة على المنحنى ؟

المقطع	1
المقطع	2
المقطع	3
المقطع	4



5 - بالاستعانة بالمعلومات الواردة في الجدول :

0544555703

حرارة الاحتراق القياسية

المادة	الصيغة الكيميائية	$\Delta H^\circ_{\text{comb}}$ kJ/mol
السكروز (سكر المائدة)	$\text{C}_{12}\text{H}_{22}\text{O}_{11}(\text{s})$	-5644
الأوكتان (أحد مكونات البنزين)	$\text{C}_8\text{H}_{18}(\text{l})$	-5471
الجلوكوز (سكر بسيط يوجد في الفواكه)	$\text{C}_6\text{H}_{12}\text{O}_6(\text{s})$	-2808
البروبان (وقود غازي)	$\text{C}_3\text{H}_8(\text{g})$	-2219
الميثان (وقود غازي)	$\text{CH}_4(\text{g})$	-891

A - اكتب معادلة كيميائية حرارية لاحتراق الميثان CH_4 ؟

B - اكتب معادلة كيميائية حرارية لاحتراق الأوكتان C_8H_{18} ؟

C - احسب كتلة البروبان التي يجب حرقها لانتاج 2673kJ من الحرارة ؟

عند احتراق 1 mol من الجلوكوز في مسعر ينطلق 2808 kJ من الحرارة ، و تنطلق الكمية نفسها من الحرارة في عملية أيض كتلة مساوية من الجلوكوز خلال عملية التنفس الخلوي .

و تحدث هذه العملية في كل خلية داخل جسمك في سلسلة من الخطوات المعقدة ؛ حيث يتكسر الجلوكوز و ينطلق ثاني أكسيد الكربون و الماء اللذان ينتجان أيضاً الحرارة عن حرق الجلوكوز في المسعر .

و تخزن الحرارة الناتجة في صورة طاقة وضع كيميائية في روابط جزيئات ثلاثي فوسفات الأدينوسين ATP و عندما يحتاج أي جزء من الجسم إلى الطاقة تقوم جزيئات ATP بإطلاق كمية الطاقة المطلوبة.

مختبر حل المشكلات

- تتجاذب جزيئات الماء بشدة بعضها نحو بعض لأنها قطبية و تكوّن روابط هيدروجينية فيما بينها .
- و تفسر قطبية الماء حرارته النوعية العالية وحرارة الانصهار ، والتبخير العاليتين نسبياً .

التحليل

- استعمل بيانات الجدول لرسم منحنى التسخين لعينة من الماء كتلتها 180 g عند تسخينها بمعدل ثابت من -20°C إلى 120°C .

- ثم سجل الوقت الذي يحتاج إليه الماء ليمر في كل قطاع من الرسم البياني .

التفكير الناقد

- 1 - حل كلاً من الأجزاء الخمسة من الرسم . و التي تتميز بتغير حاد في ميل المنحنى و بين كيف يغير امتصاص الحرارة من طاقة الوضع و طاقة الحركة لجزيئات الماء
- 2 - احسب كمية الحرارة اللازمة لكل منطقة من الرسم :

$$180 \text{ g H}_2\text{O} = 10 \text{ mol H}_2\text{O} \quad \Delta H_{\text{fus}} = 6.01 \text{ kJ/mol} \quad \Delta H_{\text{vap}} = 40.7 \text{ kJ/mol}$$

$$C_{\text{H}_2\text{O}(l)} = 4.184 \text{ J/g}\cdot^{\circ}\text{C} \quad C_{\text{H}_2\text{O}(g)} = 2.01 \text{ J/g}\cdot^{\circ}\text{C} \quad C_{\text{H}_2\text{O}(s)} = 2.03 \text{ J/g}\cdot^{\circ}\text{C}$$

- 3 - ما علاقة الزمن اللازم في كل منطقة في الرسم بكمية الحرارة الممتصة ؟
- 4 - استنتج كيف يبدو شكل منحنى التسخين للإيثانول ؟ علماً بأن ينصهر الإيثانول عند -114°C و يغلي عند 78°C ، ارسم منحنى تسخين الإيثانول في مدى درجات الحرارة من -120°C إلى 90°C ؟
- 5 - ما العوامل التي تحدد طول الأجزاء التي تثبت فيها درجة الحرارة (الخطوط الأفقية) و ميل المنحنى بين الأجزاء التي تتغير فيها درجة الحرارة ؟

درجة الحرارة °C	الزمن min	درجة الحرارة °C	الزمن min
100	13.0	-20	0.0
100	14.0	0	1.0
100	15.0	0	2.0
100	16.0	9	3.0
100	17.0	26	4.0
100	18.0	42	5.0
100	19.0	58	6.0
100	20.0	71	7.0
100	21.0	83	8.0
100	22.0	92	9.0
100	23.0	98	10.0
100	24.0	100	11.0
120	25.0	100	12.0

تدريبات 20

(مهارات عليا)

1- توقع أي المركبين: غاز الميثان CH_4 ، وبخار الميثانال CH_2O له حرارة احتراق أكبر؟ وضّح إجابتك؟

2 - خلّلت عيّنة من الغاز الطبيعي فوجد أنها تتكوّن من 88.4% ميثان CH_4 و 11.6% إيثان C_2H_6 فإذا كانت حرارة الاحتراق القياسية للميثان -891 kJ/mol ، حرارة الاحتراق القياسية للإيثان -1599.7 kJ/mol ، اكتب معادلة الاحتراق لكل منهما ثم احسب الطاقة المنطلقة عن احتراق 1 kg من الغاز الطبيعي؟

نوع الزيت	ΔH_{comb} (kJ/mol)
زيت الصويا	40.81
زيت الكانولا	41.45
زيت الزيتون	39.31
زيت زيتون بكر استثنائي	40.98

زيت الطبخ قامت مجموعة بحث جامعية بحرق أربع أنواع من زيوت الطبخ في مسعر لتحديد ما إذا كان هناك علاقة بين حرارة الاحتراق و عدد الروابط الثنائية في جزيء الزيت . حرارة الاحتراق للزيوت الأربعة موجودة في الجدول المقابل حسب الباحثون نسبة انحراف النتائج فوجدوا أنها 0.6% ، واستنتجوا أنه لا يمكن تحري أي علاقة بين التشبع و حرارة الاحتراق بالطريقة المختبرية المستعملة.

a - أي الزيوت أعطى أكبر كمية من الحرارة لكل وحدة كتلة عند احتراقه؟

b - ما مقدار الحرارة التي قد تنطلق عند حرق 0.554 kg من زيت الزيتون؟

c - افترض أنه عند حرق 12.2 g من زيت الصويا استعملت الطاقة الناتجة جميعها في تسخين 1.600 kg من الماء الذي درجة حرارته الأولية 20.0°C ما درجة الحرارة النهائية للماء؟

1- $CH_4(g) + 2O_2(g) \rightarrow CO_2(g) + 2H_2O(l)$ $CH_2O(g) + O_2(g) \rightarrow CO_2(g) + H_2O(l)$

الميثان له حرارة احتراق مولارية أكبر؛ حيث تُظهر المعادلتان أن احتراق مول واحد من غاز الميثان يُنتج مولاً واحداً من غاز ثاني أكسيد الكربون، ومولين اثنين من الماء، في حين يُنتج احتراق مول واحد من غاز الميثانال مولاً واحداً من غاز ثاني أكسيد الكربون، ومولاً واحداً من الماء. وبما أن المحتوى الحراري لنواتج احتراق غاز الميثان قيمة أكبر ، سيبود أن الميثان له حرارة احتراق مولارية أكبر من الميثانال.

2- $CH_4(g) + 2O_2(g) \rightarrow CO_2(g) + 2H_2O(l)$ $\Delta H_{\text{comb}} = -891 \text{ kJ/mol}$

$C_2H_6(g) + 7/2O_2(g) \rightarrow 2CO_2(g) + 3H_2O(l)$ $\Delta H_{\text{comb}} = -1599.7 \text{ kJ/mol}$

يحتوي كل 1.000 kg من الغاز الطبيعي على 884 g من غاز الميثان ، 116 g من غاز الإيثان نحسب عدد مولات كل من الغازين:

$884 \text{ g } CH_4 \times \frac{1 \text{ mol}}{16.0 \text{ g}} = 55.2 \text{ mol } CH_4$ $116 \text{ g } C_2H_6 \times \frac{1 \text{ mol}}{30.1 \text{ g}} = 3.86 \text{ mol } C_2H_6$

احسب الطاقة المنطلقة من المعادلة $q = \text{mol} \times \Delta H$

3- $q = (55.2 \text{ mol } CH_4) \times (-891 \text{ kJ/mol}) + (3.86 \text{ mol } C_2H_6) \times (-1599.7 \text{ kJ/mol}) = -55400 \text{ kJ}$

الإجابات

a - زيت الكانولا b $0.554 \text{ kg} \times \frac{1000 \text{ g}}{\text{kg}} \times \frac{39.31 \text{ kJ}}{\text{g}} = 21800 \text{ kJ}$

c $q = 12.2 \text{ g} \times \frac{40.81 \text{ kJ}}{\text{g}} = 498 \text{ kJ}$ $q = c \times m \times (T_f - T_i)$

$498000 \text{ J} = 4.184 \text{ J/(g} \cdot ^\circ\text{C)} \times 1600 \text{ g} \times (T_f - 20.0^\circ\text{C})$ $T_f = 94.4^\circ\text{C}$

القسم (4 - 6)

حساب التغير في المحتوى الحراري

قانون هس للجمع الحراري

<p>ينص على : أنك إذا استطعت جمع معادلتين حراريتين أو أكثر لإنتاج معادلة نهائية للتفاعل فسيكون مجموع التغير في المحتوى الحراري للتفاعلات الفردية هو التغير في المحتوى الحراري للتفاعل النهائي .</p> <p>أو ينص على : أن حرارة التفاعل أو التغير في المحتوى الحراري تتوقف على طبيعة المواد الداخلة في التفاعل و المواد الناتجة منه ، وليس على الخطوات أو المسار الذي يتم فيه التفاعل .</p> <p>أو ينص على : أن التغير في المحتوى الحراري ΔH لأي تفاعل كيميائي قيمته ثابتة سواء تم التفاعل في خطوة واحدة أو عدة خطوات .</p> <p>الخلاصة : التفاعل إذا تم في عدة خطوات فإن التغير في المحتوى الحراري الإجمالي ΔH للتفاعل يساوي حاصل جمع التغير الحراري للخطوات الفردية .</p>	<p>نص قانون هس</p>
<p>يستخدم قانون هس لحساب التغير في المحتوى الحراري للتفاعلات الكيميائية عندما يكون من المستحيل أو من غير العملي حساب ΔH في تفاعل ما باستخدام الكالوريمتر (المسعر) .</p>	<p>أهمية قانون هس</p>
<p>عندما يحدث التفاعل ببطء شديد .</p> <p>□ مثال : تحدث (عملية تحويل الكربون من صورته التآصلية الماس ← إلى صورته التآصلية الجرافيت) ببطء شديد مما يجعل من المستحيل قياس التغير في المحتوى الحراري الإجمالي ΔH .</p> <p>⊙ الصور التآصلية : هي عدة صور لنفس العنصر في الطبيعة تتشابه في خصائصها الكيميائية و تختلف في خصائصها الفيزيائية $C(S, \text{ماس}) \rightarrow C(S, \text{جرافيت})$ </p>	<p>الحالات التي يستحيل فيها حساب ΔH باستخدام الكالوريمتر</p>
<p>عندما تحدث التفاعلات في ظروف يصعب إيجادها في المختبر .</p>	<p>1</p>
<p>عندما تعطى التفاعلات نتائج غير النتائج المرغوب فيها .</p> <p>□ مثال : لدراسة تكوين ثالث أكسيد الكبريت في الهواء الجوي سنحتاج لحساب ΔH للتفاعل التالي :</p> $2S(S) + 3O_2(g) \rightarrow 2SO_3(g)$ <p>لكن التجارب المختبرية لهذا التفاعل ينتج عنها خليط من النواتج مثل $SO_2(g)$ و $SO_3(g)$</p>	<p>2</p> <p>3</p>

حساب حرارة التفاعل بجمع المعادلات

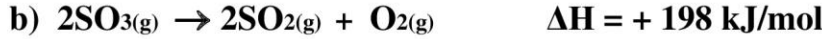
ملاحظات مهمة

<p>إذا كانت المعادلة الرئيسية غير معطاه و من المفروض عليك كتابتها يجب الانتباه إلى :</p> <p>♣ أولاً : نوع المعادلة المطلوبة من حيث كونها تكوين أو احتراق و مراعاة شروطهما .</p> <p>♣ ثانياً : ان تكون موزونة وزناً صحيحاً (تذكر: يمكن استخدام الكسور لوزن المعادلة) .</p> <p>يجب إعادة ترتيب المعادلات المعطاة من أجل الوصول للمعادلة الأصلية في النهاية للحصول على الإجابة ويكون ذلك عن طريق (ضرب ، قسمة ، عكس) المعادلات الكيميائية المعطاة ثم (الجمع و الطرح و الحذف) للوصول للمعادلة المطلوبة</p> <p>يمكن القيام بعمليتين معاً لنفس المعادلة (مثلاً : يمكن عكس (قلب) المعادلة و ضربها في أحد الأرقام في نفس الوقت) .</p>
--

لا تنسونا من صالح الدعاء

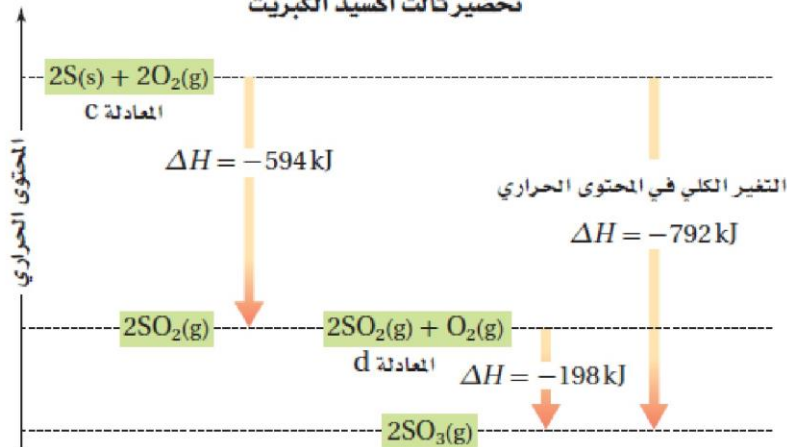
مثال (1) محلول

احسب حرارة التفاعل التالي $2S(s) + 3O_2(g) \rightarrow 2SO_3(g)$ $\Delta H = ???$ موظفاً المعادلات الحرارية التالية :



$2S(s) + 2O_2(g) \rightarrow 2SO_2(g)$ $\Delta H = - 594 \text{ kJ/mol}$	<p>المعادلة [a]</p> <p><u>ضرب المعادلة في 2</u></p> <p>لاحظ : أن احد S(s) في المعادلة الأصلية 2 mol لكنه في المعادلة a يوجد فقط 1 mol من S(s) لذلك نقوم بضرب هذه المعادلة في 2</p> <p>انتبه: يجب ضرب جميع المتفاعلات و النواتج و ΔH</p>
$2SO_2(g) + O_2(g) \rightarrow 2SO_3(g)$ $\Delta H = - 198 \text{ kJ/mol}$	<p>المعادلة [b]</p> <p><u>عكس (قلب) المعادلة</u></p> <p>لاحظ : أن في المعادلة الأصلية SO_3 موجود طرف النواتج بينما في المعادلة b موجود طرف المتفاعلات لذا يتم عكس (قلب) المعادلة لجعله في طرف النواتج .</p> <p>انتبه : يجب عكس إشارة ΔH عند قلب المعادلة</p>
$2S(s) + 2O_2(g) \rightarrow 2SO_2(g)$ $\Delta H = - 594 \text{ kJ/mol}$ $2SO_2(g) + O_2(g) \rightarrow 2SO_3(g)$ $\Delta H = - 198 \text{ kJ/mol}$ <hr/> $2S(s) + 3O_2(g) \rightarrow 2SO_3(g)$ $\Delta H = - 792 \text{ kJ/mol}$	<p>الوصول الإجابة</p> <ul style="list-style-type: none"> • بالحذف و الجمع للوصول للمعادلة المطلوبة • جمع قيم ΔH للحصول على الإجابة . <p>لاحظ :</p> <ul style="list-style-type: none"> • إذا كان هناك مركبان متشابهان في طرف واحد (طرف المتفاعلات أو طرف النواتج) يتم [جمعهم] • إذا كان هناك مركبان متشابهان في طرفين مختلفين (احدهم طرف المتفاعلات و الآخر طرف النواتج) يتم [طرحهم] : • إذا كانوا متساويين في عدد المولات يتم (حذفهم) • إذا كانوا غير متساويين و كان هناك ناتج للطرح فإنه يوضع ناحية الأكبر في عدد المولات .

تحضير ثالث أكسيد الكبريت



يدل السهم الموجود عن اليسار

على إطلاق 594 kJ عند اتحاد S و O_2 لتكوين SO_2 (المعادلة c). ثم يتحد SO_2 مع O_2 لتكوين SO_3 (المعادلة d) عند إطلاق 198 kJ (السهم الأوسط). إن التغير الكلي في الحرارة (مجموع العمليتين) يمثل السهم الأيمن.

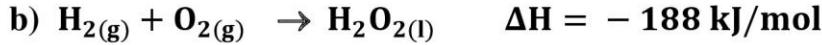
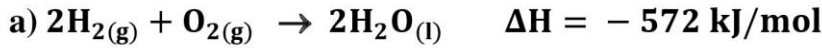
لاحظ : التغير في المحتوى الحراري لتحلل SO_3 إلى S و O_2 $\Delta H = +792 \text{ kJ}$

أ / محمد محسن محمد

مثال (2) محلول

استعمل المعادلتين الكيمائيتين الحراريتين a , b لحساب ΔH لتفاعل تحلل فوق أكسيد الهيدروجين و هو مركب له عدة

استعمالات ، منها : إزالة لون الشعر و تزويد محركات الصواريخ بالطاقة



$2H_2(g) + O_2(g) \rightarrow 2H_2O(l) \quad \Delta H = - 572 \text{ kJ/mol}$	<p>المعادلة [a]</p> <p>تبقى المعادلة a كما هي دون أي تغيير</p>
$2H_2O_2(l) \rightarrow 2H_2(g) + 2O_2(g) \quad \Delta H = + 376 \text{ kJ/mol}$	<p>المعادلة [b]</p> <p><u>عكس (قلب) المعادلة b</u></p> <p>لاحظ : أن H_2O_2 في المعادلة الأصلية موجود طرف المتفاعلات بينما في المعادلة b موجود طرف النواتج لذا يتم عكس (قلب) المعادلة لجعله في طرف المتفاعلات . انتبه : يجب عكس إشارة ΔH عند قلب المعادلة</p> <p><u>ضرب المعادلة b في 2</u></p> <p>لاحظ : أن H_2O_2 في المعادلة الأصلية 2 mol لكنه في المعادلة b يوجد فقط 1 mol من H_2O_2 لذلك نقوم بضرب هذه المعادلة في 2 انتبه: يجب ضرب جميع المتفاعلات و النواتج و ΔH</p>
$2H_2(g) + O_2(g) \rightarrow 2H_2O(l) \quad \Delta H = - 572 \text{ kJ/mol}$ $2H_2O_2(l) \rightarrow 2H_2(g) + 2O_2(g) \quad \Delta H = + 376 \text{ kJ/mol}$ <hr/> $2H_2O_2(l) \rightarrow 2H_2O(l) + O_2(g) \quad \Delta H = - 196 \text{ kJ/mol}$	<p>الوصول الإجابة</p> <ul style="list-style-type: none"> • بالحذف و الجمع للوصول للمعادلة المطلوبة • جمع قيم ΔH للحصول على الإجابة . <p>لاحظ :</p> <ul style="list-style-type: none"> • إذا كان هناك مركبان متشابهان في طرف واحد (طرف المتفاعلات أو طرف النواتج) يتم [جمعهم] • إذا كان هناك مركبان متشابهان في طرفين مختلفين (احدهم طرف المتفاعلات و الآخر طرف النواتج) يتم [طرحهم] : • إذا كانوا متساويين في عدد المولات يتم (حذفهم) • إذا كانوا غير متساويين و كان هناك ناتج للطرح فإنه يوضع ناحية الأكبر في عدد المولات .

لا تنسونا من صالح الدعاء

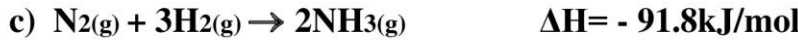
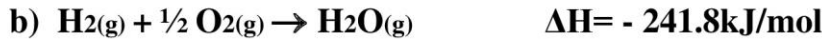
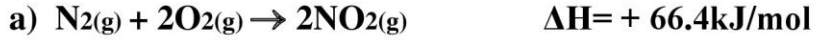
<http://alainphysics.blogspot.ae/>

<http://www.facebook.com/mr.m7md.mo7sn>

0544555703

مثال (3) محلول

احسب حرارة التفاعل التالي $2\text{NH}_3(\text{g}) + \frac{7}{2} \text{O}_2(\text{g}) \rightarrow 2\text{NO}_2(\text{g}) + 3\text{H}_2\text{O}(\text{g})$ موظفاً المعادلات الحرارية التالية :



$\text{N}_2(\text{g}) + 2\text{O}_2(\text{g}) \rightarrow 2\text{NO}_2(\text{g}) \quad \Delta\text{H} = + 66.4\text{kJ/mol}$	المعادلة [a] تبقى المعادلة a كما هي دون أي تغيير
$3\text{H}_2(\text{g}) + \frac{3}{2} \text{O}_2(\text{g}) \rightarrow 3\text{H}_2\text{O}(\text{g}) \quad \Delta\text{H} = - 725.4\text{kJ/mol}$	المعادلة [b] ضرب المعادلة b في 3 لاحظ : أن H_2O في المعادلة الأصلية 3 mol لكنه في المعادلة b يوجد فقط 1 mol من H_2O لذلك نقوم بضرب هذه المعادلة في 3 انتبه: يجب ضرب جميع المتفاعلات و النواتج و ΔH
$2\text{NH}_3(\text{g}) \rightarrow \text{N}_2(\text{g}) + 3\text{H}_2(\text{g}) \quad \Delta\text{H} = + 91.8\text{kJ/mol}$	المعادلة [c] عكس (قلب) المعادلة b لاحظ : أن NH_3 في المعادلة الأصلية موجود طرف المتفاعلات بينما في المعادلة c موجود طرف النواتج لذا يتم عكس (قلب) المعادلة لجعله في طرف المتفاعلات . انتبه : يجب عكس إشارة ΔH عند قلب المعادلة
$\text{N}_2(\text{g}) + 2\text{O}_2(\text{g}) \rightarrow 2\text{NO}_2(\text{g}) \quad \Delta\text{H} = + 66.4\text{kJ/mol}$ $3\text{H}_2(\text{g}) + \frac{3}{2} \text{O}_2(\text{g}) \rightarrow 3\text{H}_2\text{O}(\text{g}) \quad \Delta\text{H} = - 725.4\text{kJ/mol}$ $2\text{NH}_3(\text{g}) \rightarrow \text{N}_2(\text{g}) + 3\text{H}_2(\text{g}) \quad \Delta\text{H} = + 91.8\text{kJ/mol}$ <hr/> $2\text{NH}_3 + \frac{7}{2} \text{O}_2 \rightarrow 2\text{NO}_2 + 3\text{H}_2\text{O} \quad \Delta\text{H} = + 567.2\text{kJ/mol}$	الوصول الإجابة • بالحذف و الجمع للوصول للمعادلة المطلوبة • جمع قيم ΔH للحصول على الإجابة . لاحظ : • إذا كان هناك مركبان متشابهان في طرف واحد (طرف المتفاعلات أو طرف النواتج) يتم [جمعهم] • إذا كان هناك مركبان متشابهان في طرفين مختلفين (احدهم طرف المتفاعلات و الآخر طرف النواتج) يتم [طرحهم] : • إذا كانوا متساويين في عدد المولات يتم (حذفهم) • إذا كانوا غير متساويين و كان هناك ناتج للطرح فإنه يوضع ناحية الأكبر في عدد المولات .

مثال (4) محلول

أكمل المعادلة الكيميائية الحرارية التالية : $\text{C}_8\text{H}_{18}(\text{l}) + \frac{25}{2} \text{O}_2(\text{g}) \rightarrow 8\text{CO}_2(\text{g}) + 9\text{H}_2\text{O}(\text{g}) \quad \Delta\text{H} = \dots\dots\dots$



$8\text{C}(\text{s}) + 8\text{O}_2(\text{g}) \rightarrow 8\text{CO}_2(\text{g}) \quad \Delta\text{H} = -3148 \text{ kJ}$	المعادلة a : بالضرب في 8
$9\text{H}_2(\text{g}) + \frac{9}{2} \text{O}_2(\text{g}) \rightarrow 9\text{H}_2\text{O}(\text{g}) \quad \Delta\text{H} = -2176.2$	المعادلة b : بالضرب في 9
$\text{C}_8\text{H}_{18}(\text{l}) \rightarrow 8\text{C}(\text{s}) + 9\text{H}_2(\text{g}) \quad \Delta\text{H} = +224.1 \text{ kJ}$	المعادلة c : بقلب المعادلة
$\text{C}_8\text{H}_{18}(\text{l}) + \frac{25}{2} \text{O}_2(\text{g}) \rightarrow 8\text{CO}_2(\text{g}) + 9\text{H}_2\text{O}(\text{g}) \quad \Delta\text{H} = - 5100.1 \text{ kJ}$	الإجابة : (بالحذف و الجمع)

تدريبات 21

كيف تتغير ΔH في معادلة كيميائية حرارية إذا تضاعفت كميات المواد جميعها ثلاث مرات و عكست المعادلة؟

احسب قيمة ΔH للتفاعل : $C_{(s,graphite)} + \frac{1}{2}O_{2(g)} \rightarrow CO_{(g)}$ مستعملاً المعادلتين الكيميائيتين الحراريتين الآتيتين :

a	$C_{(s,graphite)} + O_{2(g)} \rightarrow CO_{2(g)}$	$\Delta H = -394 \text{ kJ}$
b	$CO_{(g)} + \frac{1}{2}O_{2(g)} \rightarrow CO_{2(g)}$	$\Delta H = -283 \text{ kJ}$

[الإجابة $\Delta H = -111 \text{ kJ}$]

استعمل المعادلتين a و b لإيجاد ΔH للتفاعل الآتي : $2CO_{(g)} + 2NO_{(g)} \rightarrow 2CO_{2(g)} + N_{2(g)}$ $\Delta H = ?!!!$

a	$2CO_{(g)} + O_{2(g)} \rightarrow 2CO_{2(g)}$	$\Delta H = -566.0 \text{ kJ}$
b	$N_{2(g)} + O_{2(g)} \rightarrow 2NO_{(g)}$	$\Delta H = -180.6 \text{ kJ}$

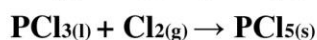
[الإجابة $\Delta H = -385.4 \text{ kJ}$]

استعمل المعادلتين a و b لإيجاد ΔH للتفاعل الآتي : $C_{(s,الماس)} \rightarrow C_{(s,جرافيت)}$ $\Delta H = ?!!$

a	$C_{(s,جرافيت)} + O_{2(g)} \rightarrow CO_{2(g)}$	$\Delta H = -394.0 \text{ kJ}$
b	$C_{(s,الماس)} + O_{2(g)} \rightarrow CO_{2(g)}$	$\Delta H = -396.0 \text{ kJ}$

[الإجابة $\Delta H = -2 \text{ kJ}$]

يُعد ثالث كلوريد الفوسفور مادة أولية في تحضير مركبات الفوسفور العضوية استعمل المعادلتين a و b لإيجاد ΔH للتفاعل الآتي :



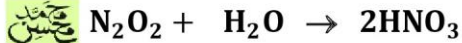
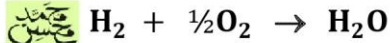
a	$P_{4(s)} + 6Cl_{2(g)} \rightarrow 4PCl_{3(l)}$	$\Delta H = -1280 \text{ kJ}$
b	$P_{4(s)} + 10Cl_{2(g)} \rightarrow 4PCl_{5(l)}$	$\Delta H = -1774 \text{ kJ}$

[الإجابة $\Delta H = -124 \text{ kJ}$]

تدريبات 22

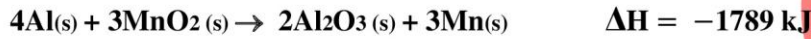
(مهارات عليا)

احسب قيمة ΔH للتفاعل التالي : $2N_2 + 5O_2 \rightarrow 2N_2O_2$ استخدم البيانات التالية في حساباتك



[الإجابة $\Delta H = 28.4 \text{ kJ}$]

إذا كانت قيمة ΔH للتفاعل الآتي -1789 kJ ، فاستعمل ذلك مع المعادلة a لإيجاد ΔH للتفاعل b ؟



a	$4Al(s) + 3O_2(g) \rightarrow 2Al_2O_3(s)$	$\Delta H = -3352 \text{ kJ}$
b	$Mn(s) + O_2(g) \rightarrow MnO_2(s)$	$\Delta H = ?!!!$

[الإجابة $\Delta H = -521 \text{ kJ}$]

بدمج معادلتى التكوين a و b تحصل على المعادلة التالية :



أوجد قيمة ΔH_f^0 للتفاعل b ؟

a	$\frac{1}{2}N_2(g) + \frac{1}{2}O_2(g) \rightarrow NO(g)$	$\Delta H_f^0 = 91.3 \text{ kJ}$
b	$\frac{1}{2}N_2(g) + O_2(g) \rightarrow NO_2(g)$	$\Delta H_f^0 = ?????? \text{ kJ}$

[الإجابة $\Delta H = 33.2 \text{ kJ}$]

لا تنسونا من صالح الدعاء

0544555703

حرارة التكوين القياسية (حرارة التكوين المولية) ΔH_f°

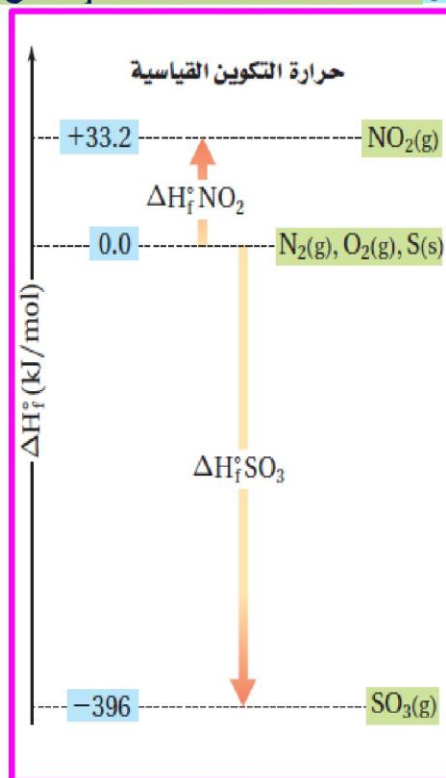
عملية تدوين قيم ΔH لجميع التفاعلات الكيميائية المعطومة مهمة ضخمة و لا نهائية .
ولكن عوضاً عن ذلك ، يدون العلماء التغيرات في المحتوى الحراري و يستخدمونها لنوع واحد فقط من التفاعلات .
و هي تفاعلات التكوين التي يتكون فيها المركب من تفاعل عناصره الأولية في حالتها القياسية .

حرارة التكوين القياسية

التعريف	هي التغير في المحتوى الحراري الذي يصاحب تكوّن مول واحد من مركب من عناصره (الأولية) التي تكون في حالتها القياسية عند درجة حرارة 25°C وضغط 1 atm .
الرمز	يرمز لحرارة التكوين القياسية بالرمز (ΔH_f°) الرمز f من كلمة formation (تكوين) الرمز ° للدلالة على الظروف القياسية
شروطها	تُعرف حرارة التكوين المولية بدلالة تكوّن مول واحد فقط من الناتج . أن تكون المتفاعلات عناصر أولية في الحالة القياسية .
لاحظ !!	<input type="checkbox"/> الظروف القياسية : هي ضغط 1 atm ودرجة حرارة 25°C (298 k) <input type="checkbox"/> الحالة القياسية : هي الحالة المعتادة التي توجد عندها المادة بشكل أكثر استقراراً عند الظروف القياسية . مثال : • الحالة القياسية للماء هي الحالة السائلة لا الحالة الصلبة و لا الغازية . • الحالة القياسية للحديد هي الحالة الصلبة . • الحالة القياسية للزئبق هي الحالة السائلة . • الحالة القياسية للأكسجين هي غاز ثنائي الذرة .
مثال	تفاعل التكوين لمول واحد من SO_3 من عناصره الأولية في حالتها القياسية تحت الظروف القياسية . $\text{S}_{(s)} + \frac{3}{2} \text{O}_{2(g)} \rightarrow \text{SO}_{3(g)} \quad \Delta H_f^\circ = -396 \text{ kJ}$ <input type="checkbox"/> ملاحظة : ناتج هذا التفاعل هو SO_3 ، و هو غاز خائق يمتزج مع رطوبة الهواء مكوناً H_2SO_4 و هو حمض قوى يصل إلى الأرض في صورة مطر حمضي يدمر الأشجار و المباني ببطء .

مصدر حرارة التكوين | تدرج حرارة التكوين القياسية

<input type="checkbox"/> حين تحدد ارتفاع جبل ما ، فإنك تقوم بذلك بالنسبة لنقطة مرجعية ما ، عادة ما تكون مستوى سطح البحر . <input type="checkbox"/> بطريقة مشابهة ، يتم تحديد حرارة التكوين القياسية بناء على الافتراض أن : العناصر في حالتها القياسية تكون ΔH_f° لها تساوي 0.0 kJ	على ماذا تعتمد حرارة التكوين !!؟
<input type="checkbox"/> يتم قياس حرارة التكوين القياسية للعديد من المركبات تجريبياً . • مثال : عندما يتفاعل الأكسجين و النيتروجين معاً لتكوين مول واحد من ثاني أكسيد النيتروجين ، تكون ΔH المحسوبة تجريبياً للتفاعل تساوي $+33.2 \text{ kJ}$ $\text{N}_{2(s)} + \text{O}_{2(g)} \rightarrow \text{NO}_{2(g)} \quad \Delta H_f^\circ = +33.2 \text{ kJ}$ هذا يعني أنه يتم امتصاص 33.2 kJ من الطاقة لتكوين NO_2 لذلك فإنه على تدرج حرارة التكوين القياسية يوضع NO_2 أعلى من العناصر التي تكون منها بمقدار 33.2 kJ	ايجاد حرارة التكوين بالتجارب
• مثال : عندما يتفاعل الأكسجين و الكبريت معاً لتكوين مول واحد من ثاني أكسيد الكبريت ، تكون ΔH المحسوبة تجريبياً للتفاعل تساوي -396 kJ $\text{S}_{(s)} + \frac{3}{2} \text{O}_{2(g)} \rightarrow \text{SO}_{3(g)} \quad \Delta H_f^\circ = -396 \text{ kJ}$ هذا يعني أنه يتم انطلاق 396 kJ من الطاقة لتكوين SO_3 لذلك فإنه على تدرج حرارة التكوين القياسية يوضع SO_3 أسفل من العناصر التي تكون منها بمقدار 396 kJ	



تدريبات 23

① أي هذه المعادلات التالية تمثل حرارة تكوين و أيها لا تمثل :

1	$2\text{H}_2(\text{g}) + \text{O}_2(\text{g}) \rightarrow 2\text{H}_2\text{O}(\text{g}) + 483.6 \text{ kJ}$	1	$\text{N}_2\text{H}_4(\text{l}) + \text{H}_2(\text{g}) \rightarrow 2\text{NH}_3(\text{g}) \quad \Delta H = -22.5 \text{ kJ}$
2	$\text{C}(\text{s}) + \text{O}_2(\text{g}) \rightarrow \text{CO}_2(\text{g}) \quad \Delta H = -393.5 \text{ kJ}$	5	$\text{NO}(\text{g}) + \frac{1}{2}\text{O}_2(\text{g}) \rightarrow \text{NO}_2(\text{g}) + 57.1 \text{ kJ}$
3	$2\text{C}_2\text{H}_2(\text{g}) + 5\text{O}_2(\text{g}) \rightarrow 4\text{CO}_2(\text{g}) + 2\text{H}_2\text{O}(\text{g}) + 2600 \text{ kJ}$	6	$2\text{Fe}(\text{s}) + \frac{3}{2}\text{O}_2(\text{g}) \rightarrow \text{Fe}_2\text{O}_3(\text{s}), \Delta H^\circ = -850.5 \text{ kJ}$

② علل: في التفاعل $[\text{KOH}(\text{aq}) + \text{HNO}_3(\text{aq}) \rightarrow \text{KNO}_3(\text{aq}) + \text{H}_2\text{O}(\text{l}), \Delta H = -57.3 \text{ kJ/mol}]$ لا تمثل حرارة التفاعل حرارة التكوين المولية للماء ؟

③ علل : لا تعتبر حرارة التفاعل التالي $(\text{H}_2(\text{g}) + \text{O}_2(\text{g}) \rightarrow 2\text{H}_2\text{O}(\text{g}) + 483.6 \text{ kJ})$ حرارة تكوين الماء ؟

④ بين كيف أن مجموع معادلات حرارة (التكوين) يعطي كل من التفاعلات الآتية و ذلك بدون استخدام قيم ΔH ؟



--	--

⑤ بين كيف تعرف العناصر في حالاتها القياسية على [تدرج حرارة التكوين القياسية] ؟

⑥ استعمل البيانات أدناه لعمل رسم لحرارة التكوين القياسية ، واستعمله في إيجاد حرارة تبخر الماء عند درجة حرارة 298 K

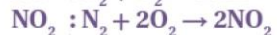
الماء في الحالة السائلة : $\Delta H_f^\circ = -285.8 \text{ kJ/mol}$

الماء في الحالة الغازية : $\Delta H_f^\circ = -241.8 \text{ kJ/mol}$

6	5	4	3	2	1	الإجابات 1
تمثل	لا تمثل	لا تمثل	لا تمثل	تمثل	لا تمثل	

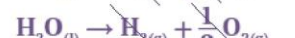
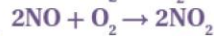
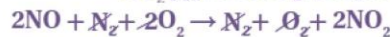
② لأن الماء في هذا التفاعل لم ينتج (يتكون) من عناصر الأولية ($\text{O}_2 - \text{H}_2$) و إنما نتج من مركبات أخرى .

③ لأن الماء المتكون في هذا التفاعل (2) مول و ليس (1) مول ، و حرارة التكوين تُعرف بدلالة مول واحد من الناتج .



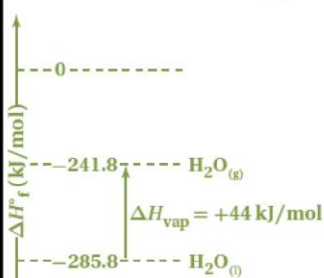
تُعدُّ مادة NO متفاعلة في السائلة ؛ لذا اجمع معادلة تكوين

NO المعكوسة إلى معادلة تكوين NO_2



⑤ العناصر في حالاتها القياسية تعطى القيمة (صفر) على تدرج حرارة التكوين القياسية .

⑥ $2858 - (-241.8) = 44.0 \text{ kJ}$



استعمال حرارة التكوين القياسية

حساب حرارة التفاعل باستخدام حرارة تكوين المتفاعلات و النواتج

معادلة الجمع

$$\Delta H_{rxn}^{\circ} = \Sigma (\Delta H_f^{\circ})_{\text{نواتج}} - \Sigma (\Delta H_f^{\circ})_{\text{متفاعلات}}$$

ملاحظات مهمة

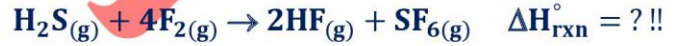
- عند التعويض بقيمة ΔH_f° لكل من النواتج و المتفاعلات يتم التعويض بالقيم مع اشارتها المرفقة (- أو +) .
- عند التعويض بقيمة ΔH_f° لكل من النواتج و المتفاعلات يتم ضرب قيم ΔH_f° في عدد المولات حسب المعادلة الموزونة
- حرارة تكوين العناصر في حالتها القياسية يساوى صفر . (حتى إذا لم يُذكر ذلك في المعطيات) .
- أحيانا تكون حرارة التفاعل ΔH_{rxn}° (معطاة) و يكون المطلوب حرارة التكوين ΔH_f° لأحد المتفاعلات أو النواتج .

مثال محلول (1)

سادس فلوريد الكبريت SF_6 غاز مستقر و غير نشط ، و يستخدم سادس فلوريد الكبريت لحفر أنماط دقيقة و معقدة على رقائق السيليكون في عملية إنتاج الأجهزة شبه الموصلة، و أشباه الموصلات هي مكونات هامة في الأجهزة الإلكترونية الحديثة بما في ذلك الحواسيب والهواتف الخلوية

◉ مستخدماً البيانات الموجودة في الجدول المقابل

احسب بطريقتين مختلفتين ΔH_{rxn}° للتفاعل التالي الذي ينتج عنه سادس فلوريد الكبريت SF_6 ؟



□ الطريقة الأولى : باستخدام قانون هس

$H_2S(g) \rightarrow H_2(g) + S(s) \quad \Delta H_f^{\circ} = +21 \text{ kJ}$	المعادلة a : نقلب المعادلة
$H_2(g) + F_2(g) \rightarrow 2HF(g) \quad \Delta H_f^{\circ} = -546 \text{ kJ}$	المعادلة b : بالضرب في 2
$S(s) + 3F_2(g) \rightarrow SF_6(g) \quad \Delta H_f^{\circ} = -1220 \text{ kJ}$	المعادلة c : تظل كما هي
$H_2S(g) + 4F_2(g) \rightarrow 2HF(g) + SF_6(g) \quad \Delta H_{rxn}^{\circ} = -1745 \text{ kJ}$	الإجابة : (بالحدف و الجمع)

□ الطريقة الثانية : باستخدام معادلة الجمع

◆ أولاً : نكتب قانون معادلة الجمع لحساب ΔH_{rxn}° ← $\Delta H_{rxn}^{\circ} = \Sigma (\Delta H_f^{\circ})_{\text{نواتج}} - \Sigma (\Delta H_f^{\circ})_{\text{متفاعلات}}$

$$\Delta H_{rxn}^{\circ} = [2x (\Delta H_f^{\circ})_{HF} + (\Delta H_f^{\circ})_{SF_6}] - [(\Delta H_f^{\circ})_{H_2S} + 4x (\Delta H_f^{\circ})_{F_2}]$$

◆ ثانياً : التعويض بقيمة (ΔH_f°) للمتفاعلات و النواتج .

$$\Delta H_{rxn}^{\circ} = [2x(-273 \text{ kJ}) + (-1220 \text{ kJ})] - [(-21 \text{ kJ}) + 4x(0 \text{ kJ})]$$

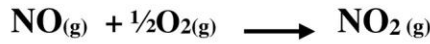
$$\Delta H_{rxn}^{\circ} = -1745 \text{ kJ}$$

لا تنسونا من صالح الدعاء

أ / محمد محسن محمد

مثال محلول (2)

احسب حرارة التفاعل لأحتراق غاز NO لتكوين غاز NO₂ كما في المعادلة الكيميائية الحرارية التالية :



حيث : $\Delta H^\circ_f(\text{O}_2) = 0 \text{ kJ/mol}$ / $\Delta H^\circ_f(\text{NO}_2) = +33.2 \text{ kJ/mol}$ / $\Delta H^\circ_f(\text{NO}) = +90.29 \text{ kJ/mol}$

الحل

$$\Delta H^\circ_{rxn} = \Sigma (\Delta H^\circ_f)_{\text{نواتج}} - \Sigma (\Delta H^\circ_f)_{\text{متفاعلات}} \quad \leftarrow \Delta H \text{ نكتب معادلة الجمع لحساب } \Delta H$$

$$\Delta H^\circ = [\Delta H^\circ_f(\text{NO}_2)] - [\Delta H^\circ_f(\text{NO}) + \Delta H^\circ_f(\text{O}_2)]$$

♦ **ثانياً** : التعويض بقيم ΔH°_f للمتفاعلات و النواتج .

$$\Delta H^\circ = [(1 \times 33.2)] - [(1 \times 90.28) + (\frac{1}{2} \times 0)]$$

$$\Delta H^\circ = - 57.1 \text{ kJ}$$

أمثلة محلول (3)

احسب حرارة التفاعل التالي :



حيث : $\Delta H^\circ_f(\text{O}_2) = 0 \text{ kJ/mol}$ / $\Delta H^\circ_f(\text{FeO}) = -272.0 \text{ kJ/mol}$ / $\Delta H^\circ_f(\text{Fe}_2\text{O}_3) = -824.2 \text{ kJ/mol}$

الحل

$$\Delta H^\circ_{rxn} = \Sigma (\Delta H^\circ_f)_{\text{نواتج}} - \Sigma (\Delta H^\circ_f)_{\text{متفاعلات}} \quad \leftarrow \Delta H \text{ نكتب معادلة الجمع لحساب } \Delta H$$

$$\Delta H^\circ = [\Delta H^\circ_f(\text{Fe}_2\text{O}_3)] - [\Delta H^\circ_f(\text{FeO}) + \Delta H^\circ_f(\text{O}_2)]$$

♦ **ثانياً** : التعويض بقيم ΔH°_f للمتفاعلات و النواتج .

$$\Delta H^\circ = [(2 \times -824.2)] - [(4 \times -272.0) + (1 \times 0)] \quad \rightarrow \quad \Delta H^\circ = - 560.4 \text{ kJ}$$

مثال محلول (4)

بالاعتماد على المعطيات :



احسب حرارة تكوين غاز الأسيثيلين ، حيث : $\Delta H^\circ_f(\text{H}_2\text{O}) = -241.8 \text{ kJ/mol}$ / $\Delta H^\circ_f(\text{CO}_2) = - 393.5 \text{ kJ/mol}$

الحل

$$\Delta H^\circ_{rxn} = \Sigma (\Delta H^\circ_f)_{\text{نواتج}} - \Sigma (\Delta H^\circ_f)_{\text{متفاعلات}} \quad \leftarrow \Delta H \text{ نكتب معادلة الجمع لحساب } \Delta H$$

$$\Delta H^\circ = [\Delta H^\circ_f(\text{CO}_2) + \Delta H^\circ_f(\text{H}_2\text{O})] - [\Delta H^\circ_f(\text{C}_2\text{H}_2) + \Delta H^\circ_f(\text{O}_2)]$$

♦ **ثانياً** : التعويض بقيم ΔH°_f للمتفاعلات و النواتج .

$$- 2600 = [(4 \times - 393.5) + (2 \times -241.8)] - [(2 \times \Delta H^\circ_f(\text{C}_2\text{H}_2)) + (5 \times 0)]$$

$$- 2600 = - 2057.6 - 2 \times \Delta H^\circ_f(\text{C}_2\text{H}_2)$$

$$\Delta H^\circ_f(\text{C}_2\text{H}_2) = \frac{-2600+2057.6}{-2} \quad \rightarrow \quad \Delta H^\circ_f(\text{C}_2\text{H}_2) = 271.2 \text{ kJ}$$

لا تنسونا من صالح الدعاء

أ / محمد محسن محمد

تدريبات 24

احسب حرارة تكوين غاز الهكسان C_6H_{14} إذا علمت أن حرارة احتراقه 4163.2 kJ/mol - مستخدماً جدول حرارة التكوين التالي

المادة	حرارة التكوين
H_2O	-285.8 kJ/mol
CO_2	-393.5 kJ/mol

[الجواب : -198.4 kJ]

احسب حرارة تفاعل احتراق غاز الميثان $CH_4(g)$ لتكوين $CO_2(g) + H_2O(l)$ ؟

$$\Delta H^{\circ}_f H_2O(l) = -285.8 \text{ kJ/mol} / \Delta H^{\circ}_f CO_2(g) = -393.5 \text{ kJ/mol} / \Delta H^{\circ}_f CH_4(g) = -74.9 \text{ kJ/mol}$$

[الجواب : -890.2 kJ]

احسب حرارة احتراق 1 mol من غاز النيتروجين لتكوين ثاني أكسيد النيتروجين [$\Delta H^{\circ}_f (NO_2) = +33 \text{ kJ/mol}$]

[الجواب : $+66 \text{ kJ}$]

لا تنسونا من صالح الدعاء

<http://alainphysics.blogspot.ae/>

<http://www.facebook.com/mr.m7md.mo7sn>

0544555703

مقارنة بين حرارة التكوين و حرارة الاحتراق

وجه المقارنة	حرارة التكوين (ΔH°_f)	حرارة الاحتراق (ΔH°_c)
التعريف	الحرارة المنطلقة أو الممتصة عند تكوّن 1 mol من مركب من عناصره (الأولية) في حالتها القياسية .	الحرارة المنطلقة لدى الاحتراق الكامل لمول واحد من المادة (في وفرة من الأوكسجين) .
حرارة التفاعل	منطلقة أو ممتصة	منطلقة
ΔH	سالبة (-) أو موجبة (+)	سالبة (-)
بدلالة مول واحد	من النواتج	من المتفاعلات
شروط أخرى	ان تكون المتفاعلات عناصر أولية في الحالة القياسية	وجود وفرة من الأوكسجين

ملاحظة

♦ من الممكن ان تمثل المعادلة حرارة تكوين و حرارة احتراق معاً في نفس الوقت .



تدريبات 25

صنف المعادلات التالية إلى معادلات تمثل حرارة تكوين (A) أو حرارة احتراق (B) أو الاثنين معاً (C) لا تمثل أي منهما (D)

1.....	$H_2(g) + \frac{1}{2}O_2(g) \rightarrow H_2O(g) + 242 \text{ kJ}$	5.....	$CH_4(g) + 2O_2(g) \rightarrow CO_2(g) + 2H_2O(l) + 890.8 \text{ kJ}$
2.....	$NO(g) + \frac{1}{2}O_2(g) \rightarrow NO_2(g) + 57.1 \text{ kJ}$	6.....	$C(s) + O_2(g) \rightarrow CO_2(g) \quad \Delta H = -393.5 \text{ kJ}$
3.....	$2C_2H_2(g) + 5O_2(g) \rightarrow 4CO_2(g) + 2H_2O(g) + 2600 \text{ kJ}$	7.....	$2Fe(s) + \frac{3}{2}O_2(g) \rightarrow Fe_2O_3(s), \Delta H^{\circ} = -850.5 \text{ kJ}$
4.....	$2S(s) + C(s) \rightarrow CS_2(g) \quad \Delta H^{\circ} = -88 \text{ kJ}$	8.....	$2H_2(g) + O_2(g) \rightarrow 2H_2O(g) + 483.6 \text{ kJ}$

الإجابات	1	2	3	4	5	6	7	8
	C	B	D	A	B	C	A	D

من أسئلة الامتحانات (أسئلة الاختيار من متعدد)

- ① إذا علمت أن حرارة تكوين المركب X هي -110.5 kJ/mol و حرارة تكوين الناتج الوحيد لاحتراقه هي -393.5 kJ/mol فما حرارة احتراق المركب X (kJ/mol)
- (نهائي 2011-2012)
- A -504.0 B -283.0 C +283.0 D +504.0
- ② أي العبارات التالية تنطبق على التفاعل $2S(g) + 3O_2(g) \rightarrow 2SO_3(g) \quad \Delta H = -722 \text{ kJ}$ ؟
- (نهائي 2009-2010)
- A- التفاعل ماص للحرارة
B- حرارة تكوين SO_3 = حرارة التفاعل
C- حرارة تكوين SO_3 = حرارة احتراق S
D- حرارة احتراق S = حرارة التفاعل
- ③ قيمة ΔH للتفاعل $N_2(g) + O_2(g) \rightarrow 2NO(g) + 106.5 \text{ kJ}$ تُعبر عن ؟
- A - ضعف حرارة التكوين B - حرارة التكوين C - ضعف حرارة الاحتراق D - نصف حرارة التكوين

الإجابات	1	2	3
	B	C	A

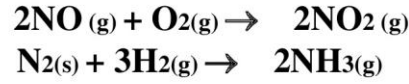
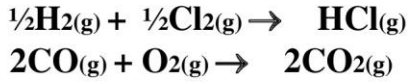
الامتحان النهائي للفصل الدراسي الأول لعام 2013 - 2014

فسر (موظفاً المعادلتين التاليتين) : $C(s) + O_2(g) \rightarrow CO_2(g) \quad \Delta H = -393.5 \text{ kJ}$
 $CH_4(s) + 2O_2(g) \rightarrow CO_2(g) + H_2O(l) \quad \Delta H = -890.8 \text{ kJ}$
 تتساوى حرارة تكوين CO_2 و حرارة احتراق الكربون في حين لاينطبق ذلك على حرارة احتراق الميثان ؟

الإجابة : لأن التفاعل الأول (يمثل) احتراق 1 مول C(s) و تكوين 1 مول $CO_2(g)$ من عناصره الأولية .
 بينما التفاعل الثاني يمثل احتراق 1 مول $CH_4(s)$ ولكنه (لا يمثل) تكوين 1 مول $CO_2(g)$ من عناصره الأولية .

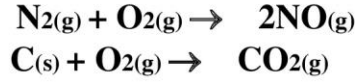
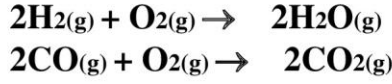
تدريبات 26

♦ أمامك أربعة بدائل في كل فقرة اختر البديل غير المنسجم علمياً ثم برر سبب اختيارك :



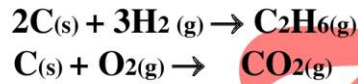
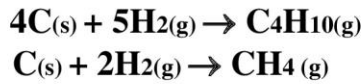
أحمد
عيسى

1



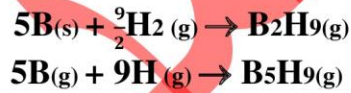
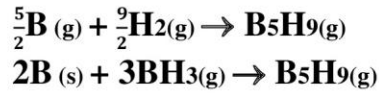
أحمد
عيسى

2



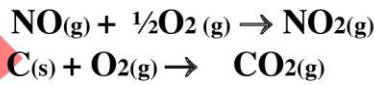
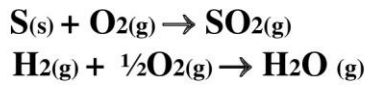
أحمد
عيسى

3



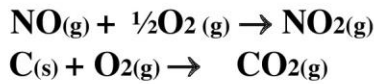
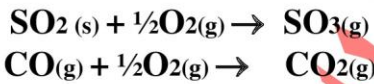
أحمد
عيسى

4



أحمد
عيسى

5



أحمد
عيسى

6

الإجابات

م	البديل الصحيح	التفسير
1	$\frac{1}{2}\text{H}_2(\text{g}) + \frac{1}{2}\text{Cl}_2(\text{g}) \rightarrow \text{HCl}(\text{g})$	لأنها تمثل معادلة تكوين ، بينما الباقي لا يمثل معادلات تكوين .
2	$\text{C}(\text{s}) + \text{O}_2(\text{g}) \rightarrow \text{CO}_2(\text{g})$	لأنها تمثل معادلة تكوين ، بينما الباقي لا يمثل معادلات تكوين .
3	$\text{C}(\text{s}) + \text{O}_2(\text{g}) \rightarrow \text{CO}_2(\text{g})$	لأنها تمثل معادلة تكوين و احتراق ، بينما الباقي يمثل معادلات تكوين فقط .
4	$5\text{B}(\text{s}) + \frac{9}{2}\text{H}_2(\text{g}) \rightarrow \text{B}_5\text{H}_9(\text{g})$	لأنها تمثل معادلة تكون $\text{B}_5\text{H}_9(\text{g})$ من عناصره الأولية في حالتها القياسية .
5	$\text{NO}(\text{g}) + \frac{1}{2}\text{O}_2(\text{g}) \rightarrow \text{NO}_2(\text{g})$	لأنها تمثل معادلة احتراق فقط ، بينما الباقي يمثل معادلات احتراق و تكوين .
6	$\text{C}(\text{s}) + \text{O}_2(\text{g}) \rightarrow \text{CO}_2(\text{g})$	لأنها تمثل معادلة احتراق و تكوين، بينما الباقي يمثل معادلات احتراق فقط .

لا تنسونا من صالح الدعاء

استقرار المركبات و حرارة تكوينها

◆ يعتمد استقرار المركبات و ثباتها على حرارة تكوينها .

◆ الثبات و الاستقرار يرتبط مع الطاقة المنخفضة .

الاستقرار	قيمة (ΔH°_f)
مركب مستقر جداً	قيمة سالبة كبيرة
مركب غير مستقر	قيمة سالبة صغيرة
مركب غير مستقر بدرجة كبيرة	قيمة موجبة صغيرة
مركب غير مستقر تماماً	قيمة موجبة كبيرة

◆ المركبات التي لها قيمة [ΔH°_f ← سالبة كبيرة] تكون مستقرة عند درجة حرارة الغرفة ويزداد الثبات مع زيادة القيمة السالبة

التفسير : القيمة السالبة الكبيرة تعنى أن تفاعل تكوّن تلك المركبات يكون تفاعل طارد للحرارة يصاحبه انطلاق كمية كبيرة من

الطاقة ، و عند عكس التفاعل كى تتفكك تلك المركبات فإن التفاعل يصبح تفاعل ماص للحرارة و هو لا يحدث تلقائياً

أى أنها كى تتفكك يلزم إعطائها نفس الكمية الكبيرة من الطاقة ، أى يصعب تفككها و بالتالى فهي أكثر استقراراً و ثباتاً

◆ المركبات التي لها قيمة [ΔH°_f ← موجبة] تكون غير مستقرة عند درجة حرارة الغرفة و يقل الثبات مع زيادة القيمة الموجبة

التفسير : القيمة الموجبة الكبيرة تعنى أن تفاعل تكوّن تلك المركبات يكون تفاعل ماص للحرارة يصاحبه امتصاص كمية كبيرة من

الطاقة و عند عكس التفاعل كى تتفكك تلك المركبات فإن التفاعل يصبح تفاعل طارد للحرارة يحدث تلقائياً و يعطى نفس

الكمية الكبيرة من الطاقة ، أى يسهل تفككها و بالتالى فهي أقل استقراراً و ثباتاً .

ملاحظات

◆ المركبات ذات : القيم الموجبة لحرارة التكوين (كبيرة أو صغيرة) و القيم السالبة (الصغيرة) هي في الواقع غير مستقرة .

◆ حرارة تكوين العناصر في حالتها القياسية يساوى صفر ($\Delta H^{\circ}_f = 0$) مثال ← ($\Delta H^{\circ}_f(\text{O}_2) = 0$ & $\Delta H^{\circ}_f(\text{He}) = 0$)

علل	الإجابة
غاز CO_2 أكثر استقراراً من العناصر التي تكوّن منها أصلاً ؟ ($\Delta H^{\circ}_f(\text{CO}_2) = -393.5 \text{ kJ/mol}$)	لأن حرارة تكوينه سالبة ذات قيمة كبيرة جداً لذا فهو مستقر جداً بينما العناصر التي يتكون منها يكون لها $\Delta H^{\circ}_f = 0$ أى أقل استقراراً
غاز يوديد الهيدروجين HI غاز لا لون له ، لكنه أحياناً يصبح مرئياً على جوانب وعاء الغاز ؟ مع العلم أن : $\Delta H^{\circ}_f(\text{HI}) = +26.5 \text{ kJ/mol}$	لأن حرارة تكوينه موجبة لذا فإنه يكون غير مستقر و يتفكك عند تخزينه ، و يتكون بخار اليود I_2 البنفسجي و يصبح مرئياً على جوانب وعاء الغاز .
يجب أن يُخزن الاستيلين في اسطوانات محلولاً في الأسيتون ؟ (مع العلم أن حرارة تكوينه = $+226 \text{ kJ}$)	لأن حرارة تكوينه موجبة و قيمتها العددية كبيرة لذا فهو غير مستقر تماماً و يتفاعل بقوة مع الأكسجين .
تستخدم فلمينات الزنبق $\text{HgC}_2\text{N}_2\text{O}_2$ التي حرارة تكوينها ($\Delta H^{\circ}_f = +270 \text{ kJ/mol}$) كصاعق للمتفجرات ؟	لأن حرارة تكوينها موجبة و قيمتها العددية كبيرة جداً لذا فهي غير مستقرة تماماً و تتفكك بشدة .
غاز CO_2 ($\Delta H^{\circ}_f = -393.5 \text{ kJ/mol}$) أكثر استقراراً من غاز CO ($\Delta H^{\circ}_f = -110.5 \text{ kJ/mol}$)	لأن CO_2 يحتاج إلى طاقة حرارية أكبر من CO كى يتفكك إلى عناصره الأولية و ذلك لأن CO_2 له حرارة تكوين سالبة أكبر قيمة من حرارة التكوين السالبة لـ CO .

محمد
حسن

ΔH	يزداد الاستقرار	ΔH
-	0	+
أكبر قيمة سالبة الأعلى استقراراً	عناصر في الحالة القياسية الأولية	أكبر قيمة موجبة الأقل استقراراً

الخلاصة

لا تنسوننا من صالح الدعاء

ملاحظة مهمة

قيمة ΔH تتوقف على الحالة الفيزيائية للمادة لأن تغير الحالة الفيزيائية يؤثر في مجمل الطاقة الممتصة أو المنطلقة خلال التفاعل

أولاً تحديد التغير الحادث في قيمة ΔH :

يجب أولاً تحديد

◆ نوع التفاعل (طارد أم ماص)

◆ نوع التحول في الحالة (طارد أم ماص)

تذكر أن

- تغير حالة الماء من سائل إلى غاز يسمى (تبخير) و هي عملية (ماصة للحرارة) .
- تغير حالة الماء من غاز إلى سائل تسمى (تكثيف) و هي عملية (طاردة للحرارة) .

تحديد التغير الحادث في قيمة ΔH

ثانياً التفسير

- ◆ إذا كان التفاعل (طارد) و التحول (طارد) فإن قيمة ΔH (تزداد)
- ◆ إذا كان التفاعل (طارد) و التحول (ماص) فإن قيمة ΔH (تقل)
- ◆ إذا كان التفاعل (ماص) و التحول (طارد) فإن قيمة ΔH (تقل)
- ◆ إذا كان التفاعل (ماص) و التحول (ماص) فإن قيمة ΔH (تزداد)

نوع التغير في حالة الماء كنتاج	التفاعل	قيمة ΔH	التفسير
إذا كان التغير في حالة الماء الناتج من بخار (g) ← إلى سائل (l)	طارد للحرارة	تزداد	لأن الماء عندما يتحول من الصورة الغازية إلى الصورة السائلة يطلق طاقة حرارية ، تلك الطاقة سوف تُضاف إلى الطاقة المنطلقة من التفاعل الطارد و بالتالي تزداد قيمة ΔH .
تذكر أن : هذا التحول (طارد للحرارة)	ماص للحرارة	تقل	لأن جزء من الطاقة الممتصة كان يُستهلك لكي ينتج الماء في صورة بخار و بما أن الماء سوف ينتج في صورة سائل ، فسوف يتم توفير جزء من الطاقة الممتصة و بالتالي تقل قيمة ΔH .
إذا كان التغير في حالة الماء الناتج من سائل (l) ← إلى بخار (g)	طارد للحرارة	تقل	لأن الماء كي يتحول من الصورة السائلة إلى الصورة الغازية يحتاج إلى طاقة حرارية ، تلك الطاقة المطلوبة سوف يتم (أخذها) خصمها من الطاقة المنطلقة من التفاعل الطارد و بالتالي تقل قيمة ΔH .
تذكر أن : هذا التحول (ماص للحرارة)	ماص للحرارة	تزداد	لأن الماء كي يتحول من الصورة السائلة إلى الصورة الغازية يحتاج إلى طاقة حرارية ، تلك الطاقة المطلوبة سيتم إضافتها إلى الطاقة الممتصة اللازمة لحدوث التفاعل و بالتالي تزداد قيمة ΔH .

تدريبات 27

فرق بين حرارة تكوين $H_2O(g)$ و $H_2O(l)$ ، و فسر لماذا من الضروري تحديد الحالة الفيزيائية للماء في المعادلات الحرارية ؟

في التفاعل : $H_2(g) + \frac{1}{2}O_2(g) \rightarrow H_2O(g) + 242 \text{ kJ}$ ، ماذا تتوقع لقيمة ΔH إذا تكون الماء السائل بدلاً من بخار الماء ، مع التفسير ؟

[الإجابة : تزداد]

في التفاعل : $Ca(OH)_2(s) \rightarrow CaO(s) + H_2O(g)$ ، $\Delta H_f = +106.5$ ، ماذا تتوقع لقيمة ΔH إذا تكون الماء السائل بدلاً من بخار الماء ، مع التفسير ؟

[الإجابة : تقل]

في التفاعل : $CH_4(g) + 2O_2(g) \rightarrow CO_2(g) + 2H_2O(l)$ ، $\Delta H = -890.8 \text{ kJ}$ ، ماذا تتوقع لقيمة ΔH إذا تكون بخار الماء بدلاً من الماء السائل ، مع التفسير ؟

[الإجابة : تقل]

في التفاعل : $2C_2H_2(g) + 5O_2(g) \rightarrow 4CO_2(g) + 2H_2O(g) + 2600 \text{ kJ}$ ، ماذا تتوقع لقيمة ΔH إذا تكون الماء السائل بدلاً من بخار الماء ، مع التفسير ؟

[الإجابة : تزداد]

من أسئلة الامتحانات

(أسئلة الاختيار من متعدد)

- ① ما قيمة حرارة التكوين (kJ / mol) التي تمثل المركب الأقل استقراراً ؟
 (نهائي 2013-2014)
 -A 270.0 -B 226.7 -C 26.6 -D -393.5
- ② ماذا يطلق على كمية الطاقة المنطلقة أو الممتصة على صورة حرارة خلال التفاعل الكيميائي .
 (نهائي 2012-2013)
 -A حرارة التفاعل -B حرارة التكوين -C طاقة التنشيط -D طاقة المعقد المنشط
- ③ ما اسم الطاقة المنطلقة أو الممتصة على صورة حرارة عندما ينتج مول 1 من مركب باتحاد عناصره (تدريري 2012-2013)
 -A الطاقة الحرارية -B طاقة التنشيط -C حرارة التكوين -D حرارة الاحتراق
- ④ ماذا يسمى قياس معدل الطاقة الحركية لجسيمات عينة من المادة .
 (نهائي 2011-2012)
 -A درجة الحرارة -B الحرارة -C الحرارة النوعية -D المحتوى الحراري
- ⑤ معتمداً على التفاعل :
 $2H_2(g) + O_2(g) \rightarrow 2 H_2O(g) + 483.6 \text{ kJ}$
 ما قيمة الطاقة (kJ) المنطلقة من تكون 0.25 mol من بخار الماء ؟ .
 (تدريري 2011-2012)
 -A 483.6 -B 241.8 -C -120.9 -D 60.45
- ⑥ إذا علمت أن المحتوى الحراري لنواتج تفاعل يساوي 458 kJ/mol و المحتوى الحراري للمتفاعلات 658 kJ/mol
 فأى العبارات التالية صحيحة ؟
 (تدريري 2011-2012)
 -A النواتج أكثر استقراراً و التفاعل طارد للحرارة .
 -B المتفاعلات أكثر استقراراً و التفاعل طارد للحرارة .
 -C النواتج أكثر استقراراً و التفاعل ماص للحرارة .
 -D المتفاعلات أكثر استقراراً و التفاعل ماص للحرارة .
- ⑦ أى الغازات الآتية الأكثر استقراراً اعتماداً على قيم حرارة التكوين المعطاه بـ (kJ / mol) ؟
 (نهائي 2010-2011)
 -A NO (g) (+90.29) -B CO₂(g) (-110.5) -C C₂H₆ (g) (-83.8) -D HI (g) (+26.5)
- ⑧ أى مما يلي يقلل الطاقة الحركية لجسيمات عينة مادة ما ؟
 (نهائي 2010-2011)
 -A خفض درجة الحرارة -B رفع درجة الحرارة -C تثبيت درجة الحرارة -D اكتساب العينة طاقة على شكل حرارة
- ⑨ أى مما يلي غير قابل للقياس بشكل مباشر ؟
 (تدريري 2010-2011)
 -A حرارة التكوين -B حرارة الاحتراق -C المحتوى الحراري -D تغير المحتوى الحراري
- ⑩ اعتماداً على قيم حرارة التكوين المعطاه بـ (kJ / mol) أى المركبات التالية أقل استقراراً ؟
 (تدريري 2010-2011)
 -A CuSO₄ (s) (-771) -B Ag₂S(s) (-32.6) -C NO₂(g) (+33.2) -D C₆H₆ (g) (+49.1)

10	9	8	7	6	5	4	3	2	1	الإجابات
D	C	A	B	A	D	A	C	A	A	

من أسئلة الامتحانات
(أسئلة الترتيب)

الامتحان التدريبي 2014/2013	1	رتب ترتيباً تصاعدياً المواد التالية تبعاً لاستقرارها اعتماداً على قيم ΔH_f (kJ/mol) $(\Delta H_f = -361.8)\text{NaBr}/(\Delta H_f = +82.8)\text{C}_6\text{H}_6/(\Delta H_f = -36.29)\text{HBr}/(\Delta H_f = +33.2)\text{NO}_2$
الامتحان النهائي 2013/2012	2	رتب ترتيباً تصاعدياً المواد التالية تبعاً لاستقرارها اعتماداً على قيم ΔH_f (kJ/mol) $(\Delta H_f = +226.7)\text{C}_2\text{H}_2/(\Delta H_f = -393.5)\text{CO}_2/(\Delta H_f = +26.6)\text{HF}/(\Delta H_f = -285.8)\text{H}_2\text{O}$
الامتحان التدريبي 2013/2012	3	رتب ترتيباً تصاعدياً المواد التالية تبعاً لاستقرارها اعتماداً على قيم ΔH_f (kJ/mol) $\text{CaO (s)} (-635)$ ، $\text{C}_2\text{H}_2(\text{g}) (+228)$ ، $\text{NO}_2(\text{g}) (+82)$ ، $\text{CuO (s)} (-175)$

الأقل: C_6H_6 ثم NO_2 ثم HBr ثم NaBr	1	الإجابة
الأقل: C_2H_2 ثم HF ثم H_2O ثم CO_2	2	
الأقل: $\text{C}_2\text{H}_2(\text{g})$ ثم $\text{NO}_2(\text{g})$ ثم CuO(s) ثم CaO(s)	3	

من أسئلة الامتحانات
(متنوع)

الامتحان النهائي للفصل الدراسي الأول لعام 2008 - 2009

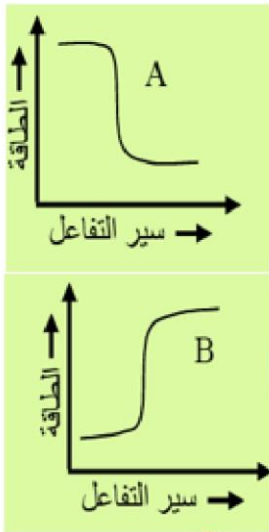
تأمل كلاً من الشكلين والتفاعلين التاليين وأجب عن الأسئلة التي تليها:

- $2\text{H}_2(\text{g}) + \text{O}_2(\text{g}) \rightarrow 2\text{H}_2\text{O}(\text{g}) + 483.6 \text{ kJ}$
- $\text{Ca}(\text{OH})_2(\text{s}) \rightarrow \text{CaO}(\text{s}) + \text{H}_2\text{O}(\text{g})$, $\Delta H^\circ_f = +106.5$

① أي الشكلين يمثل المعادلة رقم 2 ؟
② لا تمثل ΔH في التفاعل الأول حرارة تكوين بخار الماء ، فسر ذلك ؟

③ في التفاعل الثاني إذا تكون الماء السائل بدلاً من بخار الماء ماذا تتوقع لقيمة ΔH مع التفسير ؟

④ في الشكل A تكون المواد الناتجة أكثر استقراراً من المواد المتفاعلة . فسر ذلك ؟



الإجابة

- B
- لأن بخار الماء الناتج في التفاعل 2 mol وليس 1 mol ، و بالتالي فإن ΔH تمثل ضعف حرارة تكوين بخار الماء .
- قيمة ΔH سوف تقل لأن جزء من الطاقة الممتصة كان يستهلك لكي ينتج الماء في صورة بخار $\text{H}_2\text{O}(\text{g})$ و بما أن الماء سوف ينتج في صورة سائل $\text{H}_2\text{O}(\text{l})$ ، فسوف يتم توفير جزء من الطاقة الممتصة و بالتالي تقل قيمة ΔH .
- لأن طاقة النواتج أقل من طاقة المواد المتفاعلة ، كذلك تكون أكثر مقاومة للتغير .

من أسئلة الامتحانات

(أسئلة على معادلة الجمع)

الامتحان النهائي للفصل الدراسي الثاني لعام 2013 - 2014

بالاعتماد على التفاعل التالي : $C_5H_{12}(g) + 8O_2(g) \rightarrow 5CO_2(g) + 6H_2O(l) + 3535.6 \text{ kJ}$ أجب عما يلي :

⊙ احسب حرارة تكوين البنتان (C_5H_{12}) فما بأن :

$$\Delta H^{\circ}_f (H_2O(l)) = -285.8 \text{ kJ/mol} \quad / \quad \Delta H^{\circ}_f (CO_2(g)) = -393.5 \text{ kJ/mol}$$

[الجواب : - 146.7 kJ]

⊙ في ضوء البيانات لديك برر استخدام البنتان كوقود ؟

[لانه يطلق كمية كبيرة من الطاقة عند احتراقه]

الامتحان التدريبي للفصل الدراسي الثاني لعام 2010 - 2011

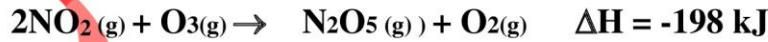
احسب ΔH للتفاعل التالي : $2Al + Fe_2O_3 \rightarrow 2Fe + Al_2O_3$

علماً بأن حرارة التكوين (بـ KJ/mol) تساوى $Al_2O_3 = -1676$ ، $Fe_2O_3 = -826$

[الجواب : - 850 kJ]

الامتحان التدريبي للفصل الدراسي الأول لعام 2008 - 2009

يتفاعل الأوزون مع ثاني أكسيد النيتروجين حسب المعادلة التالية :



فإذا كان: $\Delta H^{\circ}_f (N_2O_5) = +11 \text{ kJ/mol}$ / $\Delta H^{\circ}_f (O_3) = +143 \text{ kJ/mol}$ ، احسب حرارة تكوين ثاني أكسيد النيتروجين

[الجواب : + 33 kJ]

من أسئلة الامتحانات

(أسئلة على قانون هس)

الامتحان التدريبي للفصل الدراسي الثاني لعام 2013 - 2014


وظف المعادلات الآتية لحساب حرارة تكوين غاز البروبان C_3H_8 مبتدئاً من عنصريه ، غاز الهيدروجين و الكربون الصلب



$3CO_2(g) + 4H_2O(l) \rightarrow C_3H_8(g) + 5O_2(g)$	$\Delta H = +2219.2 \text{ kJ/mol}$	عكس (قلب) المعادلة
$3C(s) + 3O_2(g) \rightarrow 3CO_2(g)$	$\Delta H = -1180.5 \text{ kJ/mol}$	بالضرب في 3
$4H_2(g) + 2O_2(g) \rightarrow 4H_2O(l)$	$\Delta H = -1143.2 \text{ kJ/mol}$	بالضرب في 4
$3C(s) + 4H_2(g) \rightarrow C_3H_8(g)$	$\Delta H_f = -104.5 \text{ kJ/mol}$	الإجابة (بالحذف و الجمع)

الامتحان النهائي للفصل الدراسي الثاني لعام 2012 - 2013

احسب حرارة التفاعل لاحتراق غاز أول أكسيد النيتروجين NO لتكوين غاز ثاني أكسيد النيتروجين NO_2 كما في



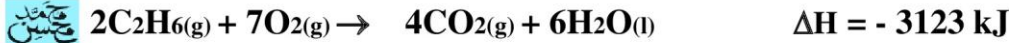
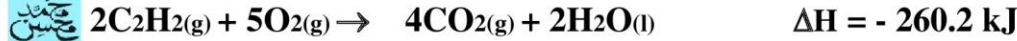
$NO(g) \rightarrow \frac{1}{2}N_2(g) + \frac{1}{2}O_2(g)$	$\Delta H^\circ_f = -90.29 \text{ kJ/mol}$	عكس (قلب) المعادلة
$\frac{1}{2}N_2(g) + O_2(g) \rightarrow NO_2(g)$	$\Delta H^\circ_f = +33.2 \text{ kJ/mol}$	تبقى كما هي
$NO(g) + \frac{1}{2}O_2(g) \rightarrow NO_2(g)$	$\Delta H^\circ_c = -57.09 \text{ kJ/mol}$	الإجابة (بالحذف و الجمع)

<http://alainphysics.blogspot.ae/>

<http://www.facebook.com/mr.m7md.mo7sn>

الامتحان التدريبي للفصل الدراسي الثاني لعام 2012 - 2013

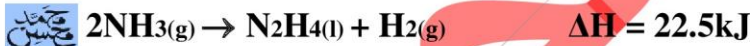
احسب حرارة التفاعل : $\Delta H^\circ_f = ?$ $C_2H_2(g) + 2H_2(g) \rightarrow C_2H_6(g)$ موظفاً المعادلات التالية :



$C_2H_2(g) + \frac{5}{2}O_2(g) \rightarrow 2CO_2(g) + H_2O(l)$	$\Delta H = - 130.1 \text{ kJ}$	بالقسمة على 2
$2CO_2(g) + 3H_2O(l) \rightarrow C_2H_6(g) + \frac{7}{2}O_2(g)$	$\Delta H = + 1561.5 \text{ kJ}$	بالعكس و القسمة على 2
$2H_2(g) + O_2(g) \rightarrow 2H_2O(g)$	$\Delta H = - 572 \text{ kJ}$	بالضرب في 2
$C_2H_2(g) + 2H_2(g) \rightarrow C_2H_6(g)$	$\Delta H = + 859.4 \text{ kJ}$	الإجابة (بالحذف و الجمع)

الامتحان النهائي للفصل الدراسي الثاني لعام 2011 - 2012

احسب حرارة التفاعل التالي $N_2H_4(l) + CH_3OH(g) \rightarrow HCOH(g) + N_2(g) + 3H_2(g)$



$N_2H_4(l) + H_2(g) \rightarrow 2NH_3(g)$	$\Delta H = - 22.5 \text{ kJ}$	عكس المعادلة
$2NH_3(g) \rightarrow N_2(g) + 3H_2(g)$	$\Delta H = + 57.5 \text{ kJ}$	تبقى كما هي
$CH_3OH(l) \rightarrow HCHO(g) + H_2(g)$	$\Delta H = - 81.2 \text{ kJ}$	عكس (قلب) المعادلة
$CH_3OH(g) + N_2H_4(l) \rightarrow HCOH(g) + N_2(g) + 3H_2(g)$	$\Delta H = - 46.2 \text{ kJ}$	الإجابة (بالحذف و الجمع)

<http://alainphysics.blogspot.ae/>

05044555703

احسب حرارة التفاعل التالي $4\text{NH}_3(\text{g}) + 7\text{O}_2(\text{g}) \rightarrow 4\text{NO}_2(\text{g}) + 6\text{H}_2\text{O}(\text{g})$ موظفاً المعادلات الحرارية التالية

- 1) $\text{N}_2(\text{g}) + 2\text{O}_2(\text{g}) \rightarrow 2\text{NO}_2(\text{g}) \quad \Delta\text{H} = + 66.4 \text{ kJ/mol}$
- 2) $2\text{H}_2(\text{g}) + \text{O}_2(\text{g}) \rightarrow 2\text{H}_2\text{O}(\text{g}) \quad \Delta\text{H} = - 483.6 \text{ kJ/mol}$
- 3) $\text{N}_2(\text{g}) + 3\text{H}_2(\text{g}) \rightarrow 2\text{NH}_3(\text{g}) \quad \Delta\text{H} = - 91.8 \text{ kJ/mol}$

$2\text{N}_2(\text{g}) + 4\text{O}_2(\text{g}) \rightarrow 4\text{NO}_2(\text{g})$	$\Delta\text{H} = + 132.8 \text{ kJ/mol}$	بالضرب في 2
$6\text{H}_2(\text{g}) + 3\text{O}_2(\text{g}) \rightarrow 6\text{H}_2\text{O}(\text{g})$	$\Delta\text{H} = - 1450.8 \text{ kJ/mol}$	بالضرب في 3
$4\text{NH}_3 \rightarrow (\text{g}) 2\text{N}_2(\text{g}) + 6\text{H}_2(\text{g})$	$\Delta\text{H} = + 183.6 \text{ kJ/mol}$	بالعكس و الضرب في 2
$4\text{NH}_3(\text{g}) + 7\text{O}_2(\text{g}) \rightarrow 4\text{NO}_2(\text{g}) + 6\text{H}_2\text{O}(\text{g})$	$\Delta\text{H} = + 1134.4 \text{ kJ/mol}$	الإجابة (بالحذف و الجمع)

الامتحان النهائي للفصل الدراسي الثاني لعام 2010 - 2011

مستخدماً المعادلات الحرارية التالية :

- $\text{C}(\text{s}) + \text{O}_2(\text{g}) \rightarrow \text{CO}_2(\text{g}) \quad \Delta\text{H} = - 393.5 \text{ kJ/mol}$
- $\text{H}_2(\text{g}) + \frac{1}{2}\text{O}_2(\text{g}) \rightarrow \text{H}_2\text{O}(\text{l}) \quad \Delta\text{H} = -285.8 \text{ kJ/mol}$
- $\text{C}_3\text{H}_8(\text{g}) + 5\text{O}_2(\text{g}) \rightarrow 3\text{CO}_2(\text{g}) + 4\text{H}_2\text{O}(\text{l}) \quad \Delta\text{H} = - 2219.2 \text{ kJ/mol}$

© احسب حرارة تكوين غاز البروبان (C_3H_8) .

$3\text{C}(\text{s}) + 3\text{O}_2(\text{g}) \rightarrow 3\text{CO}_2(\text{g})$	$\Delta\text{H} = - 1180.5 \text{ kJ/mol}$	بالضرب في 3
$4\text{H}_2(\text{g}) + 2\text{O}_2(\text{g}) \rightarrow 4\text{H}_2\text{O}(\text{l})$	$\Delta\text{H} = - 1143.2 \text{ kJ/mol}$	بالضرب في 4
$3\text{CO}_2(\text{g}) + 4\text{H}_2\text{O}(\text{l}) \rightarrow \text{C}_3\text{H}_8(\text{g}) + 5\text{O}_2(\text{g})$	$\Delta\text{H} = + 2219.2 \text{ kJ/mol}$	عكس (قلب) المعادلة
$3\text{C}(\text{s}) + 4\text{H}_2(\text{g}) \rightarrow \text{C}_3\text{H}_8(\text{g})$	$\Delta\text{H} = - 104.5 \text{ kJ/mol}$	الإجابة (بالحذف و الجمع)

الامتحان الموّجل للفصل الدراسي الثاني لعام 2010 - 2011

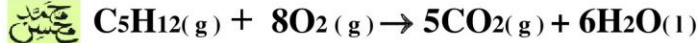
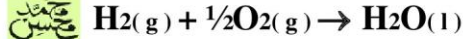
مستخدماً المعادلات الحرارية التالية :

$$\Delta H = - 393.5 \text{ kJ/mol}$$

$$\Delta H = -285.8 \text{ kJ/mol}$$

$$\Delta H = - 3535.6 \text{ kJ/mol}$$

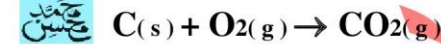
احسب حرارة تكوين غاز البننتان (C₅H₁₂) .



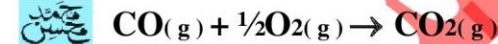
5C(s) + 5O₂(g) → 5CO₂(g)	ΔH = - 1180.5 kJ/mol	بالضرب في 5
6H₂(g) + 3O₂(g) → 6H₂O(l)	ΔH = - 1143.2 kJ/mol	بالضرب في 6
5CO₂(g) + 6H₂O(l) → C₅H₁₂(g) + 8O₂(g)	ΔH = - 2291.2 kJ/mol	عكس (قلب) المعادلة
5C(s) + 6H₂(g) → C₅H₁₂(g)	ΔH = - 104.5 kJ/mol	الإجابة (بالحذف و الجمع)

الامتحان النهائي للفصل الدراسي الثاني لعام 2009 - 2010

احسب حرارة تكوين غاز أول أكسيد الكربون CO موظفاً المعادلات الكيميائية الحرارية التالية :



$$\Delta H = - 393.5 \text{ kJ/mol}$$

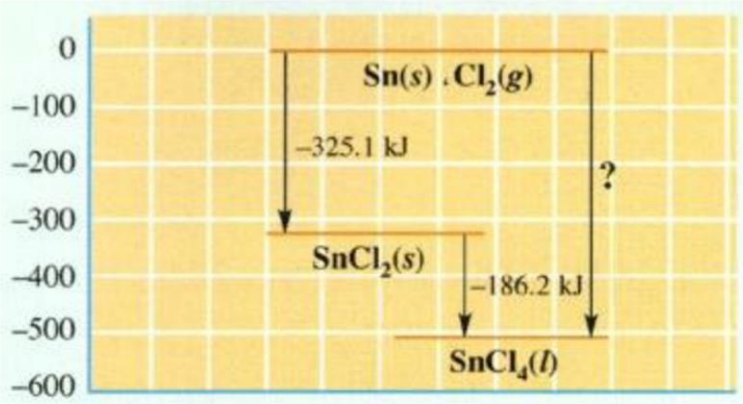


$$\Delta H = -283.0 \text{ kJ/mol}$$

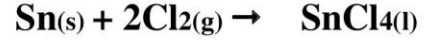
C(s) + O₂(g) → CO₂(g)	ΔH = - 393.5 kJ/mol	تبقى كما هي
CO₂(g) → CO(g) + 1/2O₂(g)	ΔH = + 283.0 kJ/mol	عكس (قلب) المعادلة
C(s) + 1/2O₂(g) → CO(g)	ΔH = - 110.0 kJ/mol	الإجابة (بالحذف و الجمع)

مسائل تتضمن رسومات بيانية

مثال (1)



◆ يمثل الشكل التوضيحي قانون هس للتفاعل التالي:



استخدم الشكل البياني لتحديد قيمة ΔH لكل خطوة من الخطوات التالية والتفاعل النهائي ؟

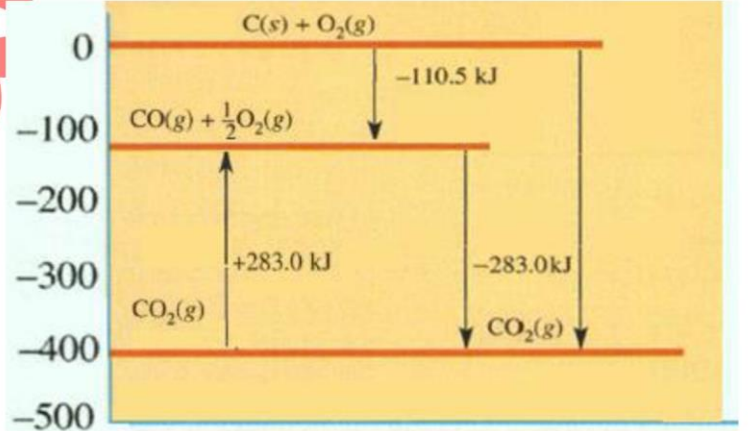
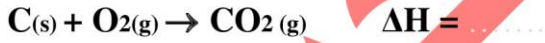


الحل



مثال (2)

◆ استخدم الشكل التوضيحي الذي يُمثل قانون هس: لتحديد قيمة ΔH لكل خطوة من الخطوات التالية والتفاعل النهائي ؟



الحل

◆ من خلال الرسم :



أسألكم الدعاء بالرحمة و المغفرة لوالدى

يمكنك تسجيل إعجاب <http://www.facebook.com/mr.m7md.mo7sn> لصفحة الفيس بوك Like

لضمان وصول ملازم الفصول التالية إليك مباشرة ، بالتوفيق للجميع إن شاء الله