

تم تحميل هذا الملف من موقع المناهج السعودية



موقع المناهج المنهاج السعودي

*للحصول على أوراق عمل لجميع الصفوف وجميع المواد اضغط هنا

<https://www.almanahj.com/sa>

* للحصول على أوراق عمل لجميع مواد الصف الأول اضغط هنا

<https://almanahj.com/sa/1>

* للحصول على جميع أوراق الصف الأول في مادة رياضيات ولجميع الفصول, اضغط هنا

<https://almanahj.com/sa/1math>

* للحصول على أوراق عمل لجميع مواد الصف الأول في مادة رياضيات الخاصة بـ الفصل الأول اضغط هنا

<https://www.almanahj.com/sa/1math1>

* لتحميل كتب جميع المواد في جميع الفصول للـ الصف الأول اضغط هنا

<https://www.almanahj.com/sa/grade1>

للحصول على جميع روابط الصفوف على تلغرام وفيسبوك من قنوات وصفحات: اضغط هنا

<https://t.me/sacourse>

الصف : الأول
الحصة :

المادة / رياضيات
التاريخ / / / 14

الاسم :

الموضوع / التهيئة

- ألون الشاحنة بالأصفر والكرة بالأزرق والطائر بالأسود
والوردة بالأحمر




غير مجتازة	متمكنة	متقدمة	متفوقة
<input type="checkbox"/> غير متقن أقل من 80 %	<input type="checkbox"/> متقن المعيار من 80% إلى أقل من 90%	<input type="checkbox"/> متقن المعيار من 90% إلى أقل من 100%	<input type="checkbox"/> متقن المعيار 100%
معلمة المادة/.....			

الصف : الأول
الحصة :

المادة / رياضيات
التاريخ / / / 14

الموضوع / التصنيف وفق خاصية واحدة الاسم :

أضع  حول الشيء داخل الإطار الذي له نفس الصفة



غير مجتازة

متمكنة

متقدمة

متفوقة

غير متقن أقل من 80 %

متقن المعيار من 80% إلى أقل من 90%

متقن المعيار من 90% إلى أقل من 100%

متقن المعيار 100%

معلمة المادة/.....

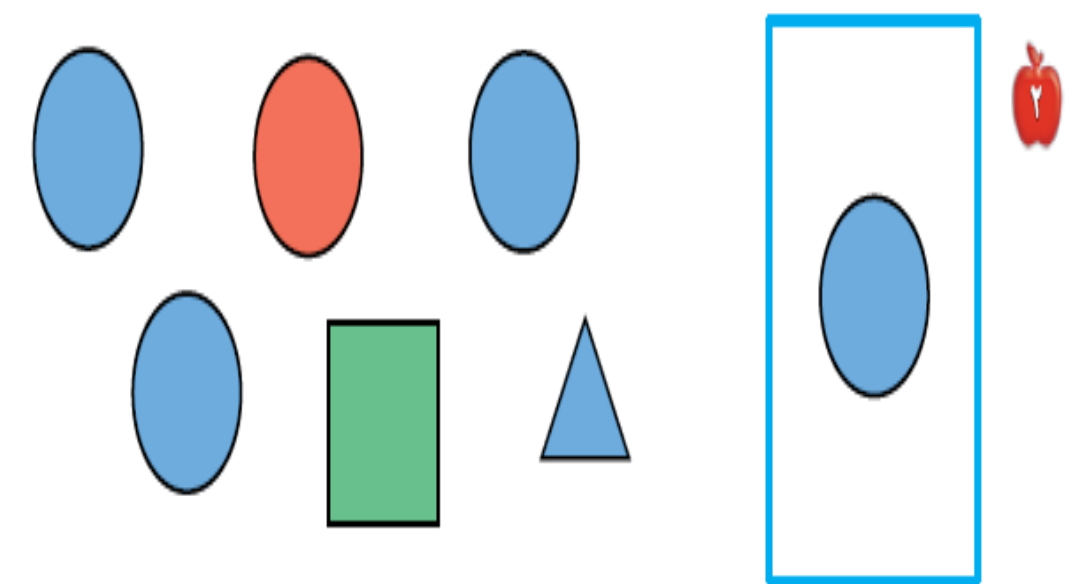
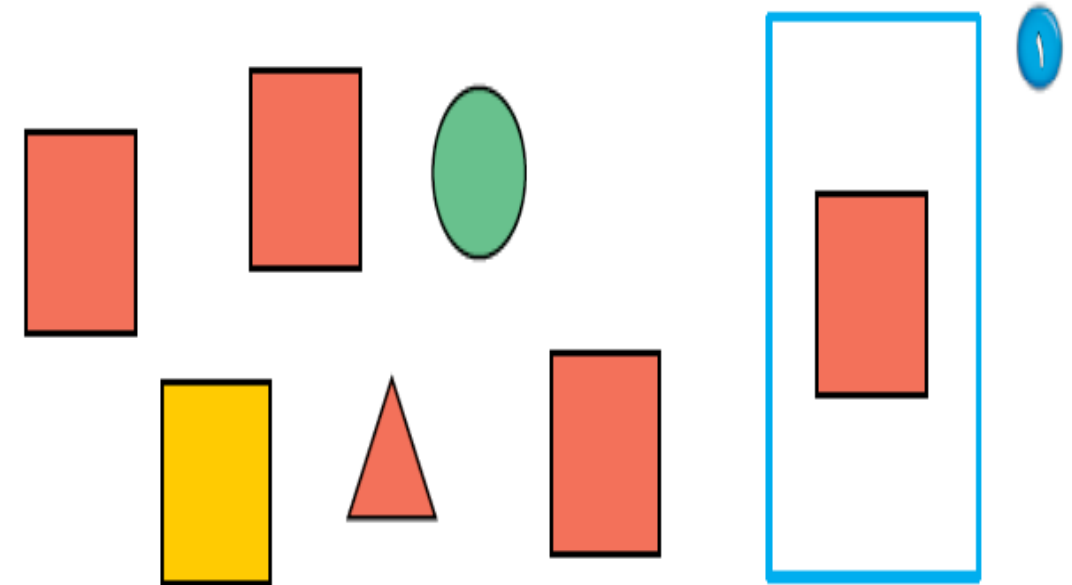
الصف : الأول
الحصة :

المادة / رياضيات
التاريخ / / / 14

الاسم :

الموضوع / التصنيف وفق أكثر من خاصية

أضع ○ حول الشكل المماثل و علامة × حول الشكل المختلف



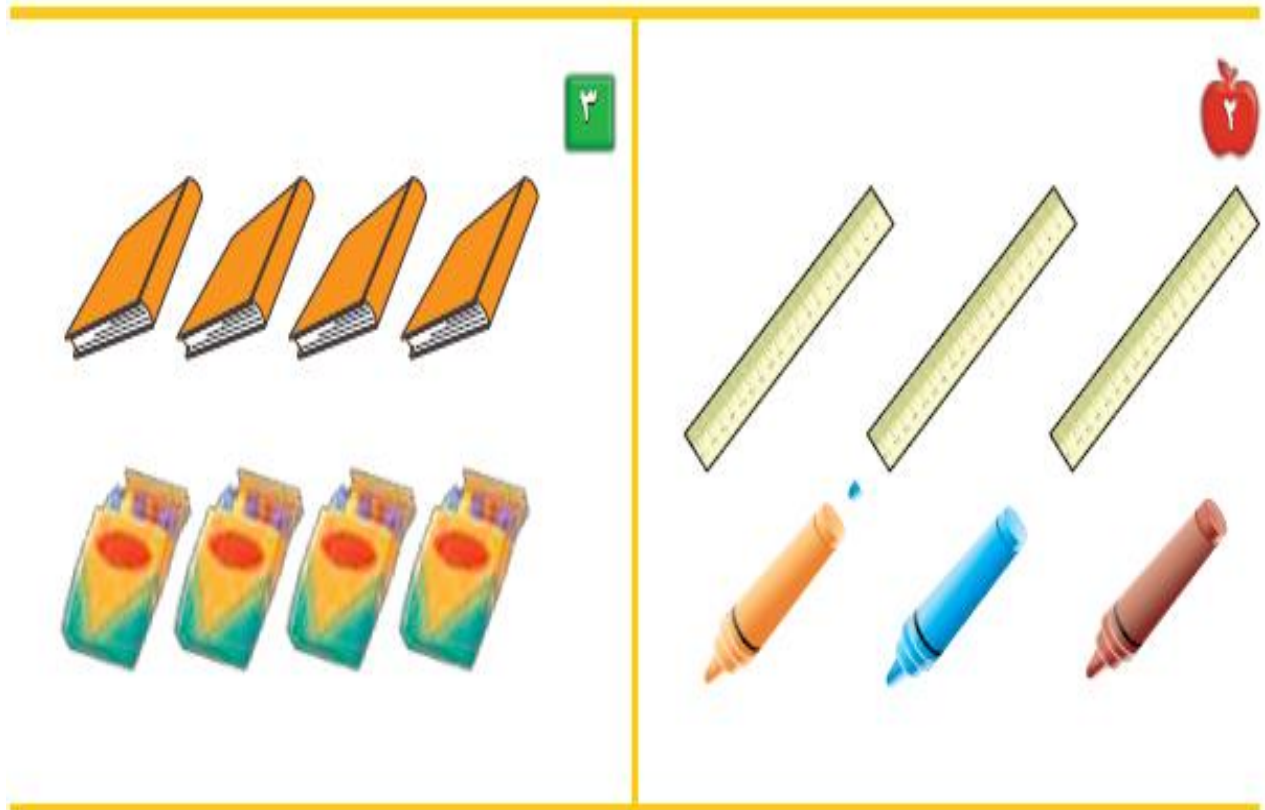
غير مجتازة	متمكنة	متقدمة	متفوقة
<input type="checkbox"/> غير متقن أقل من 80 %	<input type="checkbox"/> متقن المعيار من 80% إلى أقل من 90%	<input type="checkbox"/> متقن المعيار من 90% إلى أقل من 100%	<input type="checkbox"/> متقن المعيار 100%
معلمة المادة/.....			

الصف : الأول
الحصة :

المادة / رياضيات
التاريخ / / / 14

الموضوع / التصنيف وفق أكثر من خاصية (يساوي) الاسم :

أصل بخط بين المجموعتين المتقابلتين



غير مجتازة

متمكنة

متقدمة

متفوقة

غير متقن أقل من 80 %

متقن المعيار من 80% إلى أقل من 90%

متقن المعيار من 90% إلى أقل من 100%

متقن المعيار 100%

معلمة المادة/.....


الصف : الأول
الحصّة :

المادة / رياضيات
التاريخ / / / 14

الاسم :

الموضوع / التصنيف (أكثر من وأقل من)

أصل بخط بين المجموعتين وضع ○ حول المجموعة التي عناصرها أكثر


















غير مجتازة	متمكنة	متقدمة	متفوقة
<input type="checkbox"/> غير متقن أقل من 80 %	<input type="checkbox"/> متقن المعيار من 80% إلى أقل من 90%	<input type="checkbox"/> متقن المعيار من 90% إلى أقل من 100%	<input type="checkbox"/> متقن المعيار 100%
معلمة المادة/.....			

الصف : الأول
الحصة :

المادة / رياضيات
التاريخ / / / 14

الموضوع / الأعداد 1 ، 2 ، 3 . الاسم :

أعد المربعات ثم ألونها

 3 	 2 	 1 
		
 6 	 3 	
		

غير مجتازة

متمكنة

متقدمة

متفوقة

غير متقن أقل من 80 %

متقن المعيار من 80% إلى أقل من 90%

متقن المعيار من 90% إلى أقل من 100%

متقن المعيار 100%

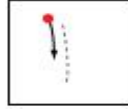
معلمة المادة/.....

الصف : الأول
الحصة :

المادة / رياضيات
التاريخ / / / 14

الموضوع / قراءة الأعداد (1 ، 2 ، 3) الاسم :

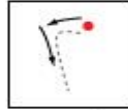
أعد الأشياء وانطق العدد ثم اكتبه ثلاث مرات



واحد



ثلاثة



اثنان



غير مجتازة

متمكنة

متقدمة

متفوقة

غير متقن أقل من 80 %

متقن المعيار من 80% إلى أقل من 90%

متقن المعيار من 90% إلى أقل من 100%

متقن المعيار 100%

معلمة المادة/.....

الصف : الأول
الحصة :

المادة / رياضيات
التاريخ / / / 14

الاسم :

الموضوع / العدان 4 ، 5

ارسم 4 تفاحات على الشجرة الأولى و 5 تفاحات على الشجرة الثانية



غير مجتازة

متمكنة

متقدمة

متفوقة

غير متقن أقل من 80 %

متقن المعيار من 80% إلى أقل من 90%

متقن المعيار من 90% إلى أقل من 100%

متقن المعيار 100%

معلمة المادة/.....

الصف : الأول
الحصّة :

المادة / رياضيات
التاريخ / / / 14

الاسم :

الموضوع / قراءة العددين 4 ، 5 وكتابتهم

أعد الأشياء وانطق العدد ثم اكتب العدد ثلاث مرات

3

أَرْبَعَةٌ

4

خَمْسَةٌ

5

أَرْبَعَةٌ

6

7

غير مجتازة

متمكنة

متقدمة

متفوقة

غير متقن أقل من 80 %

متقن المعيار من 80% إلى أقل من 90%

متقن المعيار من 90% إلى أقل من 100%

متقن المعيار 100%

معلمة المادة/.....







الصف : الأول
الحصة :

المادة / رياضيات
التاريخ / / / 14

الاسم :

الموضوع / قراءة العدد صفر وكتابتته

أعد الكرات في كل رسمة وعاء ثم قل العدد واكتبه

غير مجتازة

متمكنة

متقدمة

متفوقة

غير متقن أقل من 80 %

متقن المعيار من 80% إلى أقل من 90%

متقن المعيار من 90% إلى أقل من 100%

متقن المعيار 100%

معلمة المادة/.....

الصف : الأول
الحصة :

المادة / رياضيات
التاريخ / / / 14

الاسم :

الموضوع / الأعداد 6 ، 7 ، 8

أعد الأشياء وقل العدد واستعمل قطع العد الملونة لتمثيل العدد

1



2



3



غير مجتازة

متمكنة

متقدمة

متفوقة

غير متقن أقل من 80 %

متقن المعيار من 80% إلى أقل من 90%

متقن المعيار من 90% إلى أقل من 100%

متقن المعيار 100%

معلمة المادة/.....


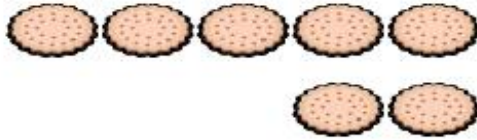
الصف : الأول
الحصة :

المادة / رياضيات
التاريخ / / / 14

الاسم :

الموضوع / قراءة الأعداد 6 ، 7 ، 8 وكتابتها

أعد الأشياء وقل العدد ووضح عددها



غير مجتازة

متمكنة

متقدمة

متفوقة

غير متقن أقل من 80 %

متقن المعيار من 80% إلى أقل من 90%

متقن المعيار من 90% إلى أقل من 100%

متقن المعيار 100%

معلمة المادة/.....

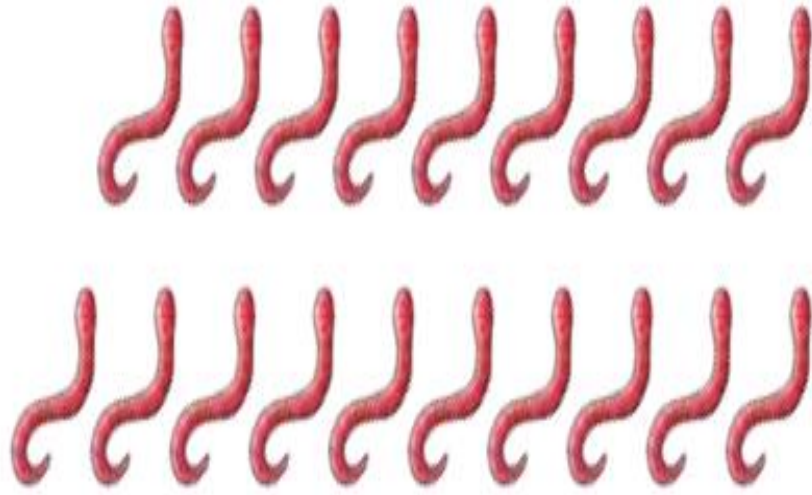
الصف : الأول
الحصة :

المادة / رياضيات
التاريخ / / / 14

الاسم :

الموضوع / العدّان 9 ، 10

أعد المجموعات ثم قل عددها ثم حوّل المجموعة التي عدد عناصرها 9 باللون الأحمر
والمجموعة التي عدد عناصرها 10 باللون الأزرق



غير مجتازة

متمكنة

متقدمة

متفوقة

غير متقن أقل من 80 %

متقن المعيار من 80% إلى أقل من 90%

متقن المعيار من 90% إلى أقل من 100%

متقن المعيار 100%

معلّمة المادة/.....

الصف : الأول
الحصة :

المادة / رياضيات
التاريخ / / / 14

الاسم :

الموضوع / قراءة العددين 9 - 10

أعد الحيوانات وقل العدد ثم اكتب العدد في المكان المخصص



٣



غير مجتازة

متمكنة

متقدمة

متفوقة

غير متقن أقل من 80 %

متقن المعيار من 80% إلى أقل من 90%

متقن المعيار من 90% إلى أقل من 100%

متقن المعيار 100%

معلمة المادة/.....

الصف : الأول
الحصّة :

المادة / رياضيات
التاريخ / / / 14

الموضوع / مقارنة الأعداد حتى 10 الاسم :

أعد الأشياء في كل مجموعة ثم اكتب عددها وضع × على المجموعة الأقل



غير مجتازة

متمكنة

متقدمة

متفوقة

غير متقن أقل من 80 %

متقن المعيار من 80% إلى أقل من 90%

متقن المعيار من 90% إلى أقل من 100%

متقن المعيار 100%

معلّمة المادة/.....

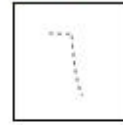

الصف : الأول
الحصة :

المادة / رياضيات
التاريخ / / / 14


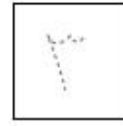


الاسم :

الموضوع / ترتيب الأعداد حتى 10

أعد الأشياء ثم مرر قلمك على الأعداد المنقطة واكتب الأعداد المفقودة



3



غير مجتازة

متمكنة

متقدمة

متفوقة

غير متقن أقل من 80 %

متقن المعيار من 80% إلى أقل من 90%

متقن المعيار من 90% إلى أقل من 100%

متقن المعيار 100%

معلمة المادة/.....

الصف : الأول
الحصّة :

المادة / رياضيات
التاريخ / / / 14

الاسم :

الموضوع / العدد الترتيبي

اذكر ترتيب كل نسر وضع  على النسر السادس و × على النسر الثالث




غير مجتازة	ممكنة	متقدمة	متفوقة
<input type="checkbox"/> غير متقن أقل من 80 %	<input type="checkbox"/> متقن المعيار من 80% إلى أقل من 90%	<input type="checkbox"/> متقن المعيار من 90% إلى أقل من 100%	<input type="checkbox"/> متقن المعيار 100%
معلمة المادة/.....			

الصف : الأول
الحصة :

المادة / رياضيات
التاريخ / / / 14

الموضوع / الفصل الثالث (الأعداد حتى 20) الاسم :

أعد الجزرات وحببات الفلفل و اكتب عددها



غير مجتازة

غير متقن أقل من 80 %

متمكنة

متقن المعيار من 80% إلى أقل من 90%

متقدمة

متقن المعيار من 90% إلى أقل من 100%

متفوقة

متقن المعيار 100%

معلمة المادة/.....

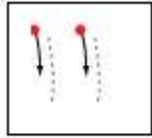
الصف : الأول
الحصة :

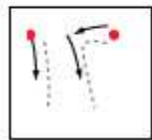
المادة / رياضيات
التاريخ / / / 14

الاسم :

الموضوع / العدان 11 ، 12

أعد الأشياء وانطق العدد ومرر قلمك على العدد المنقط واكتبه





غير مجتازة

متمكنة

متقدمة

متفوقة

غير متقن أقل من 80 %

متقن المعيار من 80% إلى أقل من 90%

متقن المعيار من 90% إلى أقل من 100%

متقن المعيار 100%

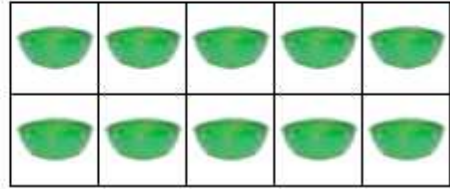

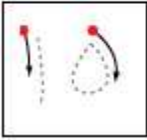


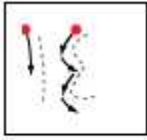
معلمة المادة/.....

الصف : الأول
الحصّة :

المادة / رياضيات
التاريخ / / / 14

الموضوع / الأعداد 13 ، 14 ، 15 الاسم :

أعد الأشياء وانطق العدد ومرر قلمك على العدد المنقط واكتبه



غير مجتازة

غير متقن أقل من 80 %

متمكنة

متقن المعيار من 80% إلى أقل من 90%

متقدمة

متقن المعيار من 90% إلى أقل من 100%

متفوقة

متقن المعيار 100%

معلمة المادة/.....


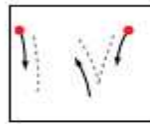
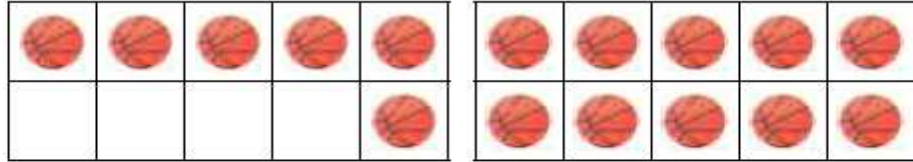
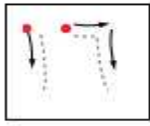
الصف : الأول
الحصة :

المادة / رياضيات
التاريخ / / / 14

الاسم :

الموضوع / العدان 16 - 17

أعد الكرات وانطق العدد ثم مرر قلمك على العدد المنقط واكتب العدد



غير مجتازة

متمكنة

متقدمة

متفوقة

غير متقن أقل من 80 %

متقن المعيار من 80% إلى أقل من 90%

متقن المعيار من 90% إلى أقل من 100%

متقن المعيار 100%

معلمة المادة/.....

الصف : الأول
الحصة :

المادة / رياضيات
التاريخ / / / 14

الموضوع / أبحث عن نمط الاسم :

أعد الريش ثم اكتب العدد وحدد النمط



غير مجتازة

غير متقن أقل من 80 %

متمكنة

متقن المعيار من 80% إلى أقل من 90%

متقدمة

متقن المعيار من 90% إلى أقل من 100%

متفوقة

متقن المعيار 100%

معلمة المادة/.....

الصف : الأول
الحصّة :

المادة / رياضيات
التاريخ / / / 14

الاسم :

الموضوع / الأعداد 18 ، 19 ، 20

أعد الأشياء واكتب العدد ومرر قلمك على العدد المنقط واكتبه

1

2

3

The worksheet is divided into three sections, each corresponding to a number: 1, 2, and 3. Each section contains a tracing guide on the left, a 2x5 grid of objects (cherries, lemons, and apples) in the middle, and a 2x5 grid for writing the number on the right. A yellow line separates each section. The number 1 is written in a blue circle, 2 in a red circle, and 3 in a green circle.

غير مجتازة

متمكنة

متقدمة

متفوقة

غير متقن أقل من 80 %

متقن المعيار من 80% إلى أقل من 90%

متقن المعيار من 90% إلى أقل من 100%

متقن المعيار 100%

معلمة المادة/.....

الصف : الأول
الحصّة :

المادة / رياضيات
التاريخ / / / 14


الاسم :

الموضوع / مقارنة الأعداد حتى 20

أعد الأشياء في كل طبق واكتب عددها وضعي × على العدد الذي يمثل المجموعة الأكبر

12 2

10 1



غير مجتازة	متمكنة	متقدمة	متفوقة
<input type="checkbox"/> غير متقن أقل من 80 %	<input type="checkbox"/> متقن المعيار من 80% إلى أقل من 90%	<input type="checkbox"/> متقن المعيار من 90% إلى أقل من 100%	<input type="checkbox"/> متقن المعيار 100%
معلمة المادة/.....			

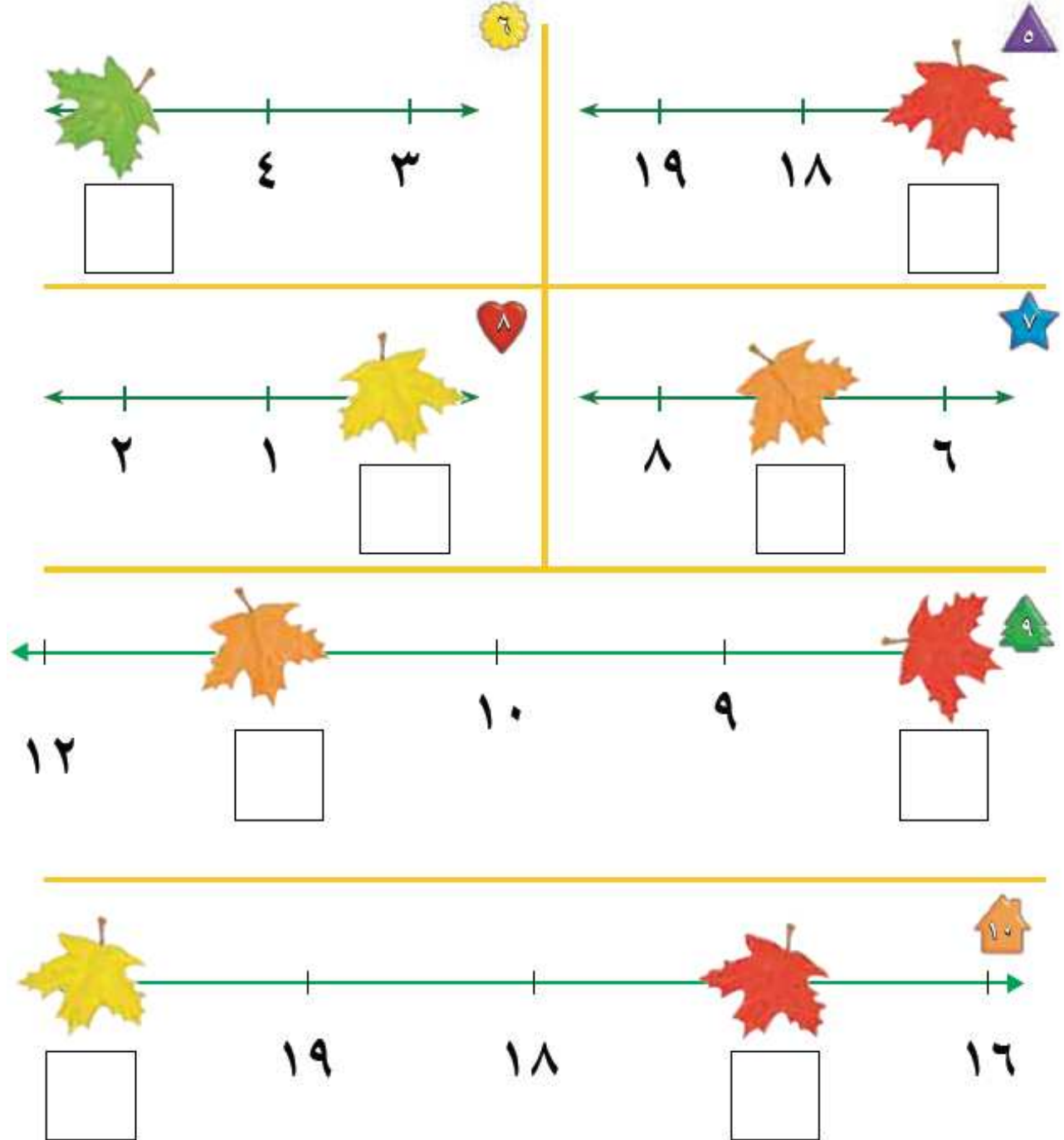
الصف : الأول
الحصة :

المادة / رياضيات
التاريخ / / / 14

الاسم :

الموضوع / ترتيب العدد حتى 20 .

أكتب العدد المفقود في الفراغ



غير مجتازة

متمكنة

متقدمة

متفوقة

غير متقن أقل من 80 %

متقن المعيار من 80% إلى أقل من 90%

متقن المعيار من 90% إلى أقل من 100%

متقن المعيار 100%

معلمة المادة/.....


الصف : الأول
الحصة :

المادة / رياضيات
التاريخ / / / 14

الاسم :

الموضوع / الفصل الرابع (الجمع)

ألاحظ الصورة واكتب عدد التفاحات



غير مجتازة

متمكنة

متقدمة

متفوقة

غير متقن أقل من 80 %

متقن المعيار من 80% إلى أقل من 90%

متقن المعيار من 90% إلى أقل من 100%

متقن المعيار 100%

معلمة المادة/.....

الصف : الأول
الحصة :

المادة / رياضيات
التاريخ / / / 14

الاسم :

الموضوع / قصص الجمع

احكي قصة عددية مستعملاً قطع العدد واكتب عدد الحيوانات



٣

ثَعَالِبَ _____



٢

غَزَالاً _____



٥

فَرَّاشَةً _____

غير مجتازة

متمكنة

متقدمة

متفوقة

غير متقن أقل من 80 %

متقن المعيار من 80% إلى أقل من 90%

متقن المعيار من 90% إلى أقل من 100%

متقن المعيار 100%

معلمة المادة/.....

الصف : الأول
الحصّة :

المادة / رياضيات
التاريخ / / / 14

الاسم :

الموضوع / تمثيل الجمع

استعمل ورقة العمل 3 وقطع العد لإيجاد (الكل) المجموع

جزء	جزء
٥	٤
الكل	



جزء	جزء
٢	٣
الكل	



جزء	جزء
٥	٥
الكل	



جزء	جزء
٢	٥
الكل	



جزء	جزء
٢	٤
الكل	



جزء	جزء
٣	١
الكل	



جزء	جزء
٣	٣
الكل	



جزء	جزء
٢	١
الكل	



غير مجتازة

متمكنة

متقدمة

متفوقة

غير متقن أقل من 80 %

متقن المعيار من 80% إلى أقل من 90%

متقن المعيار من 90% إلى أقل من 100%

متقن المعيار 100%

معلمة المادة/.....

الصف : الأول
الحصة :

المادة / رياضيات
التاريخ / / / 14

الاسم :

الموضوع / جمل الجمع

استعمل المكعبات لتمثيل جملة الجمع واكتبها



— () — () —



— () — () —



— () — () —



— () — () —



— () — () —



— () — () —

غير مجتازة

متمكنة

متقدمة

متفوقة

غير متقن أقل من 80 %

متقن المعيار من 80% إلى أقل من 90%

متقن المعيار من 90% إلى أقل من 100%

متقن المعيار 100%

معلمة المادة/.....

الصف : الأول
الحصة :

المادة / رياضيات
التاريخ / / / 14

الاسم :

الموضوع / جمع الصفر

اكتب ناتج الجمع



$$\underline{\quad} = 0 + 3$$



$$\underline{\quad} = 0 + 5$$



$$\underline{\quad} = 1 + 0$$



$$\underline{\quad} = 0 + 6$$

$$\underline{\quad} = 8 + 0$$



$$\underline{\quad} = 0 + 7$$



$$\underline{\quad} = 1 + 2$$



$$\underline{\quad} = 3 + 3$$



غير مجتازة

متمكنة

متقدمة

متفوقة

غير متقن أقل من 80 %

متقن المعيار من 80% إلى أقل من 90%

متقن المعيار من 90% إلى أقل من 100%

متقن المعيار 100%

معلمة المادة/.....

الصف : الأول
الحصة :

المادة / رياضيات
التاريخ / / / 14

الاسم :

الموضوع / أهل المسألة

مثل قصص الجمع لإيجاد الناتج



$$\underline{\hspace{2cm}} = \underline{\hspace{2cm}} + \underline{\hspace{2cm}}$$



$$\underline{\hspace{2cm}} = \underline{\hspace{2cm}} + \underline{\hspace{2cm}}$$



$$\underline{\hspace{2cm}} = \underline{\hspace{2cm}} + \underline{\hspace{2cm}}$$

غير مجتازة

متمكنة

متقدمة

متفوقة

غير متقن أقل من 80 %

متقن المعيار من 80% إلى أقل من 90%

متقن المعيار من 90% إلى أقل من 100%

متقن المعيار 100%

معلمة المادة/.....

الصف : الأول
الحصة :

المادة / رياضيات
التاريخ / / / 14

الاسم :

الموضوع / تكوين الأعداد 4 ، 5 ، 6

استعمل قطع العد الكرة الحمراء والصفراء وضعهما في مجموعتين لتكوين العدد 4 ثم لون واكتب الأعداد

تكوين العدد 4				
النتيجة	يساوي	زائد		
4	=	3	+	1
4	=	—	+	—
4	=	—	+	—



غير مجتازة

ممكنة

متقدمة

متفوقة

غير متقن أقل من 80 %

متقن المعيار من 80% إلى أقل من 90%

متقن المعيار من 90% إلى أقل من 100%

متقن المعيار 100%

معلمة المادة/.....








الصف : الأول
الحصة :








المادة / رياضيات
التاريخ / / / 14

الاسم :

الموضوع / تكوين الأعداد 7 ، 8 ، 9

استعمل قطع العد الكرة الحمراء والصفراء وضعهما في مجموعتين لتكوين العدان 8 ، 9 ثم
لون واكتب الأعداد

تكوين العدد 9			
الناتج	يساوي	زائد	
9	=	___ + ___	
9	=	___ + ___	
9	=	___ + ___	
9	=	___ + ___	
9	=	___ + ___	
9	=	___ + ___	
9	=	___ + ___	

تكوين العدد 8			
الناتج	يساوي	زائد	
8	=	___ + ___	
8	=	___ + ___	
8	=	___ + ___	
8	=	___ + ___	
8	=	___ + ___	
8	=	___ + ___	
8	=	___ + ___	

غير مجتازة	متمكنة	متقدمة	متفوقة
<input type="checkbox"/> غير متقن أقل من 80 %	<input type="checkbox"/> متقن المعيار من 80% إلى أقل من 90%	<input type="checkbox"/> متقن المعيار من 90% إلى أقل من 100%	<input type="checkbox"/> متقن المعيار 100%
معلمة المادة /			

الصف : الأول
الحصة :

المادة / رياضيات
التاريخ / / / 14

الاسم :

الموضوع / تكوين الأعداد 10 ، 11 ، 12

استعمل قطع العد الكرة الحمراء والصفراء ثم ارسم دوائر واكتب العدد



$$10 = \text{---} + \text{---}$$



$$10 = \text{---} + \text{---}$$



$$11 = \text{---} + \text{---}$$



$$11 = \text{---} + \text{---}$$



$$12 = \text{---} + \text{---}$$



$$12 = \text{---} + \text{---}$$



$$12 = \text{---} + \text{---}$$



$$11 = \text{---} + \text{---}$$

غير مجتازة

متمكنة

متقدمة

متفوقة

غير متقن أقل من 80 %

متقن المعيار من 80% إلى أقل من 90%

متقن المعيار من 90% إلى أقل من 100%

متقن المعيار 100%

معلمة المادة/.....

الصف : الأول
الحصة :

المادة / رياضيات
التاريخ / / / 14

الاسم :

الموضوع / الجمع الراسي

اكتب الأعداد ثم أوجد الناتج



$$\begin{array}{r} \square \\ \square + \\ \hline \square \end{array}$$



$$\square = \square + \square$$



$$\begin{array}{r} \square \\ \square + \\ \hline \square \end{array}$$



$$\square = \square + \square$$



غير مجتازة

متمكنة

متقدمة

متفوقة

غير متقن أقل من 80 %

متقن المعيار من 80% إلى أقل من 90%

متقن المعيار من 90% إلى أقل من 100%

متقن المعيار 100%

معلمة المادة/.....