

تم تحميل هذا الملف من موقع المناهج السعودية



# موقع المناهج السعودي

\* للحصول على أوراق عمل لجميع الصفوف وجميع المواد اضغط هنا

<https://www.almanahj.com/sa>

\* للحصول على أوراق عمل لجميع مواد الصف الأول اضغط هنا

<https://almanahj.com/sa/1>

\* للحصول على أوراق الصف الأول في مادة رياضيات ولجميع الفصول, اضغط هنا

<https://almanahj.com/sa/1math>

\* للحصول على أوراق عمل لجميع مواد الصف الأول في مادة رياضيات الخاصة بـ الفصل الثاني اضغط هنا

<https://www.almanahj.com/sa/1math2>

\* لتحميل كتب جميع المواد في جميع الفصول للـ الصف الأول اضغط هنا

<https://www.almanahj.com/sa/grade1>

للحصول على جميع روابط الصفوف على تلغرام وفيسبوك من قنوات وصفحات: اضغط هنا

<https://t.me/sacourse>

المملكة العربية السعودية  
وزارة التعليم  
إدارة التعليم بمحافظات عسير  
مدرسة الكسائي الابتدائية



الدرجة: \_\_\_\_\_

توقيع ولي الأمر:

### اختبار الفترة الرابعة

الصف: الأول الابتدائي

المادة: رياضيات

اسم الطالب: .....

السؤال الأول : اكمل العد بالقفز .

٥ ، ١٠ ، ١٥ ، ..... ، .....

١٠ ، ٢٠ ، ٣٠ ، ..... ، .....

السؤال الثاني : ( أ ) جد نواتج عمليات الجمع التالية :

$$= ٤ + ٦$$

$$= ١ + ٧$$

$$= ٤ + ٥$$

( ب ) جد نواتج عمليات الطرح التالية :

$$= ٣ - ٥$$

$$= ٢ - ٦$$

$$= ٤ - ٩$$

( ج ) اكتب أرقام الآحاد والعشرات في الأعداد التالية :

$$٦٥ = \text{..... آحاد} + \text{..... عشرات}$$

$$٧٤ = \text{..... آحاد} + \text{..... عشرات}$$

السؤال الثالث : ( أ ) قارن بين الأعداد التالية:

$$٢٥ \bigcirc ٢٢$$

$$٢٩ \bigcirc ١٤$$

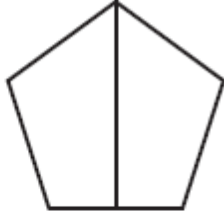
$$٤٤ \bigcirc ٧٢$$

$$١٥ \bigcirc ١٥$$

( ب ) اكتب الأعداد من ٣٤ إلى ٤٣ بالترتيب

٣٤ ، ، ، ، ، ، ، ، ، ، ٤٣

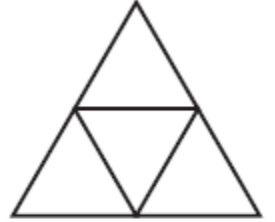
السؤال الرابع : لون جزءا واحدا من الأشكال المتطابقة ، وضع دائرة على الكسر الذي يمثله



$$\frac{1}{4} \quad \frac{1}{3} \quad \frac{1}{2}$$



$$\frac{1}{4} \quad \frac{1}{3} \quad \frac{1}{2}$$



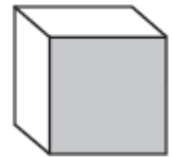
$$\frac{1}{4} \quad \frac{1}{3} \quad \frac{1}{2}$$

السؤال الخامس : ضع دائرة حول الخواص المناسبة لكل شكل مما يأتي:

( ينزلق - يتدحرج - يترصص )



( ينزلق - يتدحرج - يترصص )



( ينزلق - يتدحرج - يترصص )

