

تم تحميل هذا الملف من موقع المناهج السعودية



موقع المناهج المنهاج السعودي

* للحصول على أوراق عمل لجميع الصفوف وجميع المواد اضغط هنا

<https://www.almanahj.com/sa>

* للحصول على أوراق عمل لجميع مواد الصف الأول اضغط هنا

<https://almanahj.com/sa/1>

* للحصول على أوراق الصف الأول في مادة رياضيات ولجميع الفصول, اضغط هنا

<https://almanahj.com/sa/1math>

* للحصول على أوراق عمل لجميع مواد الصف الأول في مادة رياضيات الخاصة بـ الفصل الثاني اضغط هنا

<https://www.almanahj.com/sa/1math2>

* لتحميل كتب جميع المواد في جميع الفصول للـ الصف الأول اضغط هنا

<https://www.almanahj.com/sa/grade1>

للحصول على جميع روابط الصفوف على تلغرام وفيسبوك من قنوات وصفحات: اضغط هنا

<https://t.me/sacourse>

الدرجة:

توقيع ولي الأمر:

اختبار الفترة الثانية



الصف : الأول

المادة : رياضيات



اسم الطالب:
الابتدائي

السؤال الأول: اكتب الأعداد مرتبة من 1 إلى 20 في الجدول التالي:

السؤال الثاني: عدّ الأشكال التالية ثم اكتب عددها في المربع المجاور لها.



السؤال الثالث: اكتب جمل الجمع التالية، ثم اوجد ناتج الجمع.



انتهت الأسئلة: وفقكم الله وجعلكم فخرا لوطنكم وأمتكم