

تم تحميل هذا الملف من موقع المناهج السعودية



\* للحصول على أوراق عمل لجميع الصفوف وجميع المواد اضغط هنا

<https://www.almanahj.com/sa>

[1/sa/com.almanahj//:https](https://www.almanahj.com/sa/1science)

\* للحصول على أوراق عمل لجميع مواد الصف الأول اضغط هنا

\* للحصول على جميع أوراق الصف الأول في مادة علوم ولجميع الفصول, اضغط هنا

<https://www.almanahj.com/sa/1science>

\* للحصول على أوراق عمل لجميع مواد الصف الأول في مادة علوم الخاصة بـ الفصل الأول اضغط هنا

<https://www.almanahj.com/sa/1science1>

\* لتحميل كتب جميع المواد في جميع الفصول للـ الصف الأول اضغط هنا

<https://www.almanahj.com/sa/grade1>

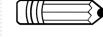
[sacourse/me.t//:https](https://www.almanahj.com/sa/course)

للحصول على جميع روابط الصفوف على تلغرام وفيسبوك من قنوات وصفحات: اضغط هنا

مراجعة الوحدة الأولى (( أول ابتدائي ))

**المهارة / المقارنة بين المخلوقات الحية والأشياء غير الحية وتصنيفها.**

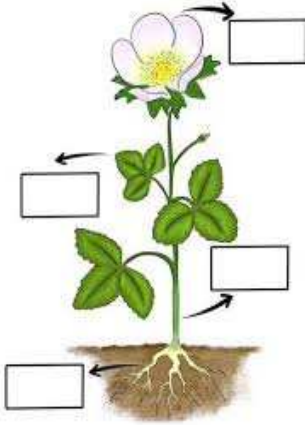
س/ صنف المخلوقات الحية والأشياء الغير حية



المخلوقات الحية	الأشياء الغير حية
- تحتاج للماء والهواء والغذاء	- لا تحتاج للماء والهواء والغذاء
- النباتات تحتاج للماء والغذاء والهواء وضوء الشمس	- لا تنمو ولا تتكاثر
- تنمو وتتكاثر	- مثل الجبال والحجر والسيارة والقلم
- مثل الحيوانات والنباتات	

**المهارة / استنتاج الأجزاء الرئيسية للنبات من خلال قراءة مجموعة من الصور مع ذكر وظيفة واحدة لأحد أجزاء النبات.**

س/ اكتب في المربع رقم الجزء الصحيح للنبات



1- الورقة

2- الجذور

3- الساق

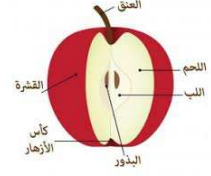
4- الزهرة

الجزء	الوظيفة
الجذور	- امتصاص الماء والأملاح من التربة - تثبيت النبات
الساق	- نقل الماء والأملاح المعدنية من الجذور الى باقي أجزاء النبات - حمل الأوراق والازهار والثمار
الأوراق	- تقوم بصنع غذاء النبات باستخدام ضوء الشمس والهواء
الازهار	- تنتج البذور وتساعد على تكاثر النبات

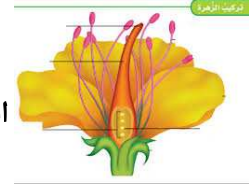
المهارة / تحديد أهمية الأزهار والثمار للنبات.

س / ضع ( صح ) أو ( خطأ )

الثمرة جزء من النبات يحمي الذور ( )

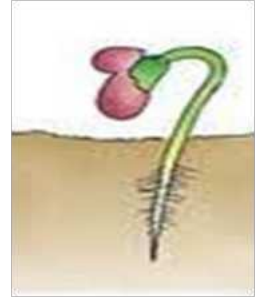
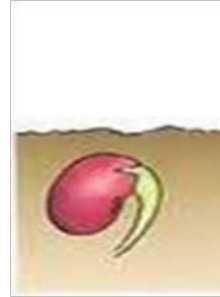
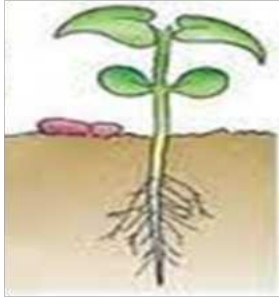
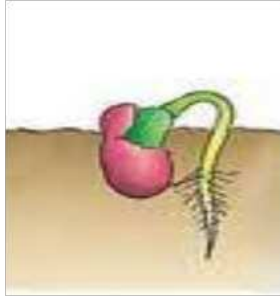


الزهرة جزء من النبات تكون البذور ( )



المهارة / ترتيب دورة حياة نبات الفاصوليا من خلال قراءة الصور.

س / رتب مراحل نمو نبات الفاصوليا



**المهارة / المقارنة بين النباتات في بيئات مختلفة**

س/ من خلال الصور حدد النبات الصحراوي و نبات الغابة ؟

( نبات ..... ) اوراقها صغيرة تقلل فقدان الماء



( نبات ..... ) اوراقها كبيرة لكي تتخلص من الماء الزائد .

