

تم تحميل هذا الملف من موقع المناهج الإماراتية



* للحصول على أوراق عمل لجميع الصفوف وجميع المواد اضغط هنا

<https://almanahj.com/ae>

* للحصول على أوراق عمل لجميع مواد الصف الثاني عشر المتقدم اضغط هنا

<https://almanahj.com/ae/15>

* للحصول على جميع أوراق الصف الثاني عشر المتقدم في مادة فيزياء وجميع الفصول, اضغط هنا

<https://almanahj.com/ae/15physics>

* للحصول على أوراق عمل لجميع مواد الصف الثاني عشر المتقدم في مادة فيزياء الخاصة بـ الفصل الثالث اضغط هنا

<https://almanahj.com/ae/15physics3>

* لتحميل كتب جميع المواد في جميع الفصول للـ الصف الثاني عشر المتقدم اضغط هنا

<https://almanahj.com/ae/grade15>

* لتحميل جميع ملفات المدرس معهد الشيخ راشد بن سعيد الإسلامي اضغط هنا

للتحدث إلى بوت المناهج على تلغرام: اضغط هنا

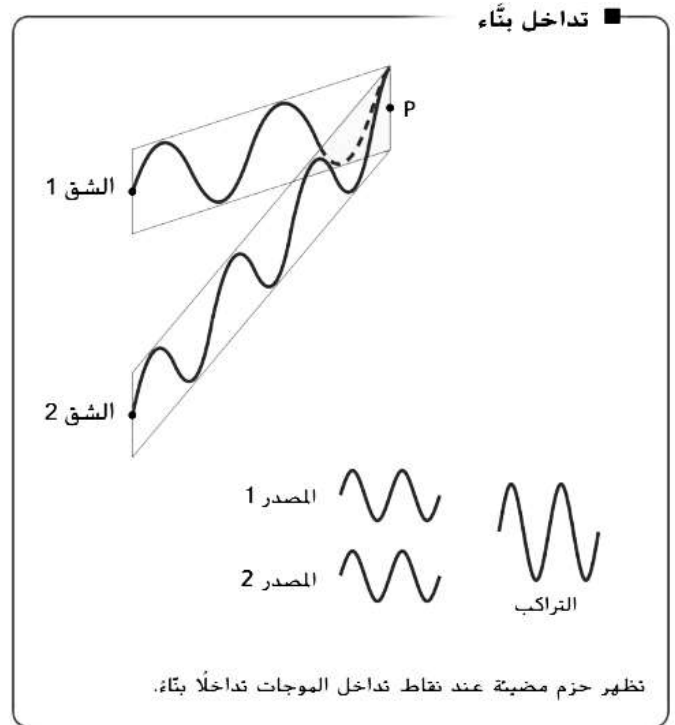
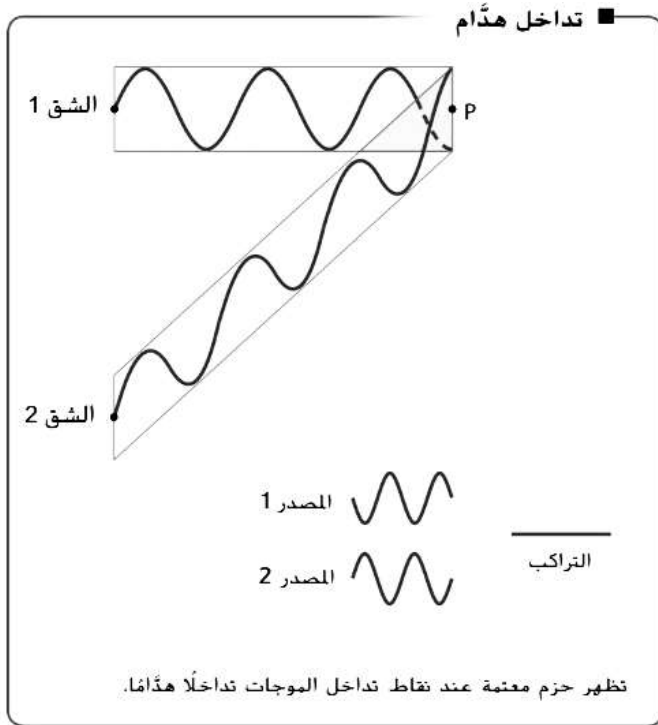
https://t.me/almanahj_bot

قسم (1) التداخل

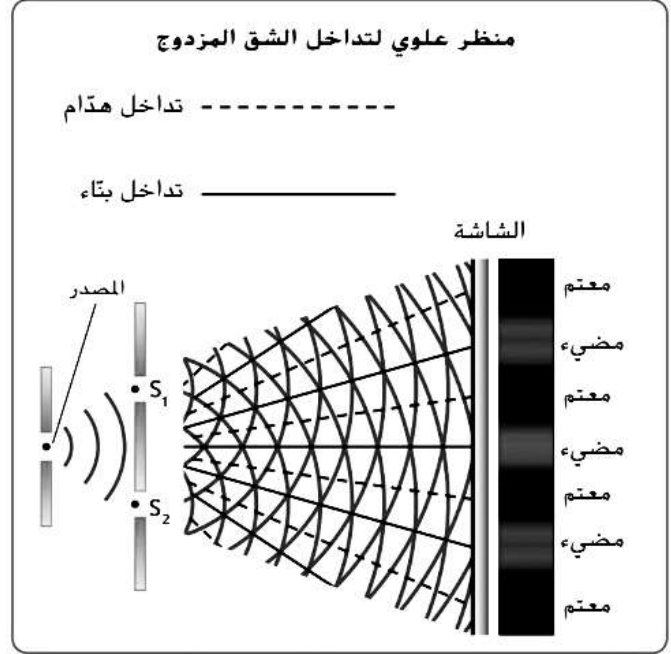
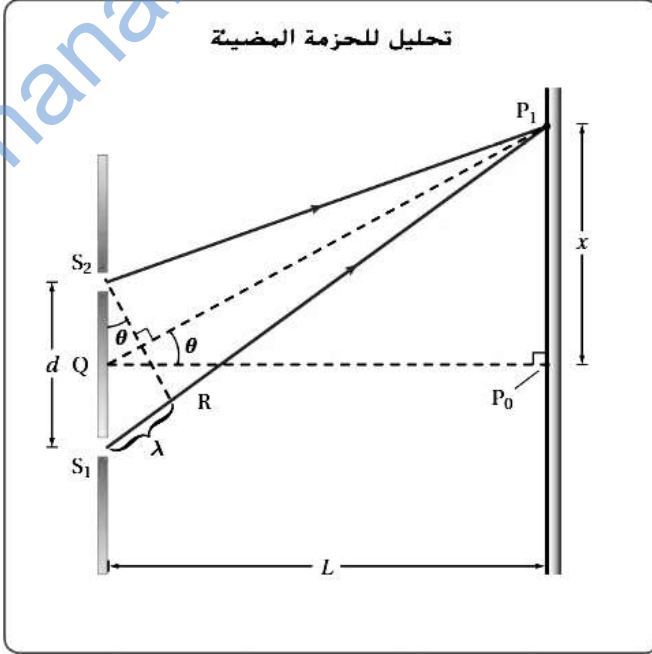
الضوء الغير مترابط	هو ضوء موجاته غير متغقة فى الطور، مثل الضوء الساقط من المصباح.
الضوء المترابط	هو ضوء تكون موجاته لها نفس الطور، مثل ضوء الليزر.
الضوء أحادى اللون	هو ضوء موجاته لها نفس الطول الموجى.

تداخل الضوء المترابط

عندما تتداخل موج الضوء المترابط فإنها تكون هدب مضيئة وأخرى مظلمة، وتعرف منطقة الهدبة المضيئة بالتداخل البناء ، بينما منطقة الهدبة المظلمة بالتداخل الهدام.



تجربة الشق المزدوج



حساب الطول الموجي في تجربة الشق المزدوج

$$\lambda = \frac{xd}{L}$$

(X) المسافة بين الهدبة المركزية المضيئة والهدبة الأولى المضيئة.

(d) المسافة بين الشقين.

(L) المسافة بين الشقين والشاشة.

ملحوظة هامة

يحدث التداخل البناء عند (X_m) حيث $m = 0, 1, 2, \dots$ ويتم تحديد رتبة الهدبة المضيئة من خلال العلاقة

$$m\lambda = \frac{x_m d}{L}$$

حل تطبيق الكتاب ص 188

التداخل في الأغشية الرقيقة

تكون ألوان الطيف في الأغشية الرقيقة نتيجة لتداخل الأمواج الضوئية المنعكسة على الغشاء.

أمثلة:

ظهور الفقاعات الصابونية أو بقعة زيت على سطح ماء أو غشاء صابوني بشكل ملون راجع إلى تداخل الموجات الضوئية بعد انعكاسها على الأغشية الرقيقة.

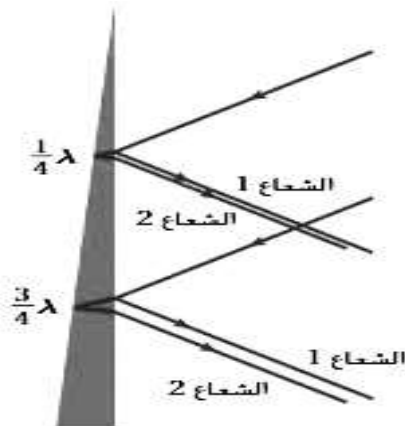
التوضيح:

عندما تسقط الحزمة الضوئية على الغشاء ينعكس جزء منها ويمر الجزء الباقي ، حيث ينعكس على السطح الآخر للغشاء ، و بذلك يمكن أن يتراكب الشعاعان المنعكسان و يحدث تداخل بناء ينتج عنه ألوان متعددة أو يكون التداخل هدام ولا ينتج عنه ألوان.

ملحوظة:

في حالة انعكاس الشعاع من وسط معامل إنكساره أقل إلى وسط معامل إنكساره أكبر يحدث انقلاب للموجة، وفي حالة العكس لا يحدث انقلاب للموجة المنعكسة.

دلالة الرموز	تداخل بناء	تداخل هدام	وضعية الموجتين
(d) سمك الغشاء (λ) الطول الموجي للضوء في الوسط. (n) معامل انكسار الوسط (m) معامل يساوى 0,1,2,3,.....	$2d = m \frac{\lambda_{\text{غشاء}}}{n}$	$2d = \left(m + \frac{1}{2}\right) \frac{\lambda_{\text{غشاء}}}{n}$	أحدى الموجتين مقلوبة
	$2d = \left(m + \frac{1}{2}\right) \frac{\lambda_{\text{غشاء}}}{n}$	$2d = m \frac{\lambda_{\text{غشاء}}}{n}$	الموجتين مقلوبتين

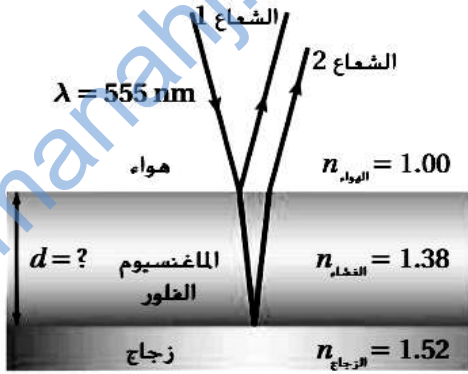


ملحوظة :

$$\lambda_{\text{الغشاء}} = \frac{\lambda_{\text{الفراغ}}}{n}$$

تطبيق (الكتاب المدرسي)

1- وضع غشاء من فوريد المغنسيوم على عدسة زجاجية مطلية بطبقة من غير عاكسة. ما السمك اللازم للغشاء غير العاكس لمنع انعكاس الضوء الأخضر المصفر ذي الطول الموجي 555nm؟ أنظر إلى الرسم.



2- يمكن ملاحظة التداخل في الأغشية الرقيقة عند غمس عصا فقاعة في محلول فقاعات ثم رفع العصا في الهواء. ما أقل سمك لغشاء الصابون يمكن أن ترى عليه خيطا أسود إذا كان الطول الموجي للضوء الساقط على الغشاء 521 nm، ومعامل انكسار محلول الفقاعات $n = 1.33$.

القسم (2) الحيود

حيود الضوء

هو تغير اتجاه الموجة الضوئية عند مرورها بحافة حادة أو شق ضيق.

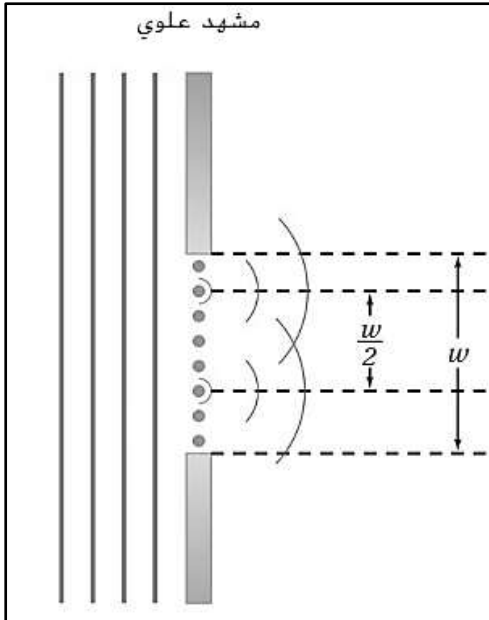
الشرح و التوضيح

عند مرور ضوء أحادي عبر فتحة ضيقة جدا يحيد الضوء على حواف الفتحة و يتكون نمط على الشاشة عبارة عن هدبة مركزية متسعة و مضيئة مع حزم على الجانبين يقل اتساعها و اضاءتها بالبعد عن الحزمة المركزية. وهذا ما لا يحدث في حالة تداخل موجات الضوء في تجربة الشق المزدوج حيث تكون جميع الهدب متساوية في الاتساع.

موجات هيجنز

يفترض هيجنز أن مقدمة كل موجة يتكون من موجات صغيرة.

شرح التداخل نتيجة للحيود عن طريق مبدأ هيجنز:



عندما تمر مقدمة الموجة بالشق نفرض ان هناك موجتين على مسافة $(\frac{w}{2})$ من بعضهما (w اتساع الشق) ، حيث تنحني الموجيتسن و تتقابل اجزاءهما حيث يحدث تداخل بناء يظهر على شكل حزم مضيئة و تداخل هدام يظهر على شكل حزم معتمة.

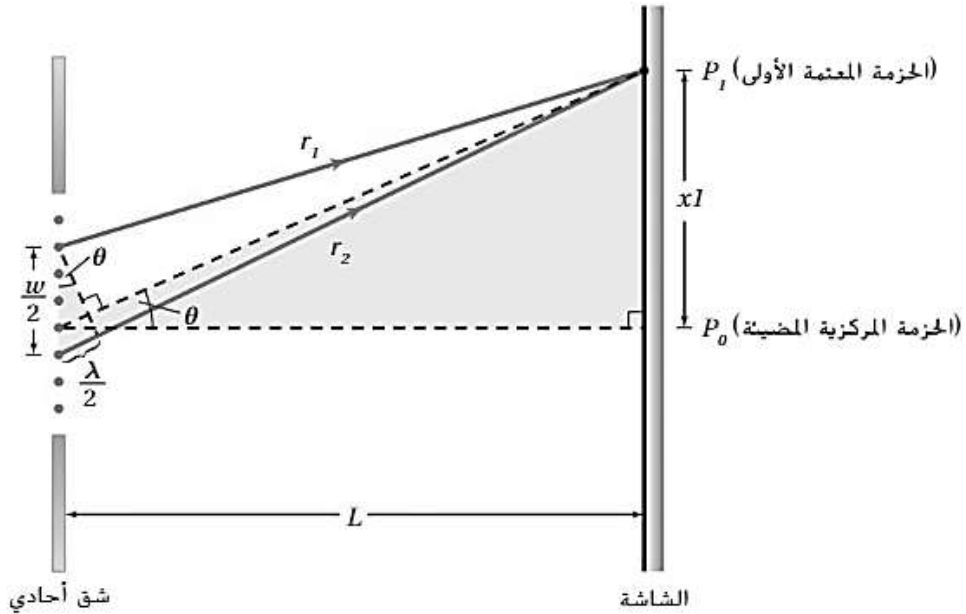
حساب عرض الحزمة المركزية المضيئة فى نمط الحيود للشق الأحدى

$$2x_1 = \frac{2\lambda L}{w}$$

(x_1) المسافة بين مركز الحزمة المركزية المضيئة و مركز الحزمة المعتمة الأولى (نصف عرض الحزمة المركزية).
(w) عرض الشق.

(λ) الطول الموجى للضوء المستخدم

(L) المسافة بين الشق الأحدى و الشاشة.



تطبيق الكتاب المدرسى ص

1- يسقط ضوء أخضر احدى اللون طوله الموجى 546 nm على شق أحدى عرضه 0.095 mm. و يبعد الشق مسافة 75 cm عن الشاشة. فكم يبلغ عرض الحزمة المركزية المضيئة.

2- مر ضوء اصفر طوله الموجى 589 nm عبر شق عرضه 0.11 mm، فنتج نمط تداخل على الشاشة عرض الحزمة المركزية المضيئة $2.6 \times 10^{-2} m$. فما بعد الشق عن الشاشة.

محزوز الحيود

هو أداة مكونة من شقوق كثيرة و صغيرة قد تصل المسافة بينها إلى (10^{-6} m) و تسبب حيود الضوء مكونة نمط يشبه التداخل الناتج عن الشق المزدوج.

الإستخدام:

أخذ قياسات دقيقة للطول الموجى للضوء الساقط.

أنواع محزوز الحيود:

محزوز الانعكاس	المحزوز الهولوجرافى الطيف	المحزوز النفاذ
يصنع بحفر خطوط رفيعة على سطح طبقة فلزية أو زجاجا عاكس، و تعتبر الأقراص المدمجة مثلا على محزوز الانعكاس.	يصنع باستخدام ليزر و مرايا حيث يعرض قطعة فلزية مطلية بمادة حساسة للضوء إلى نمط حيود مكون من خطوط مضيئة و معتمة متوازية، فيتفاع الضوء الناتج من الليزر مع المادة الصلبة و يتكون نتيجة لذلك مجموعة من النتوءات و البروزات مماثلة لنمط الحيود الأصى.	يتم عمل خدوش على زجاج منفذ للضوء فى صورة خطوط رفيعة جدا باستخدام رأس الماس، حيث تعمل الفراغات بين الخدوش كالشقوق.

الأقراص المدمجة و أقراص (DVD)

تعتبر الأقراص المدمجة و DVD محزوز حيود، حيث تغطى اسطحها بخطوط من الفجوات المجهرية تسمى ثقوب و تفصلها مناطق مسطحة تسمى أرضيات.

كيف يتم تخزين المعلومات و قراءتها؟

يستخدم الليزر لقراءة نمط الثقوب و الأرضيات على القرص المدمج أو DVD. حيث ينعكس الضوء الصادر من الليزر على سطح القرص إلى كشاف الضوء. يتم تسليط ضوء الليزر بحيث تسقط بقعته الساطعة على الكشاف عندما ينعكس على الأرضيات، بينما ينتشر و يخفت ضوءه عندما ينعكس على الثقوب.

كيف نزيد السعة التخزينية للقرص المدمج أو DVD؟

عن طريق استخدام ليزر ذو طول موجى قصير، حيث يقل حجم البقعة و تكون الثقوب أقرب.

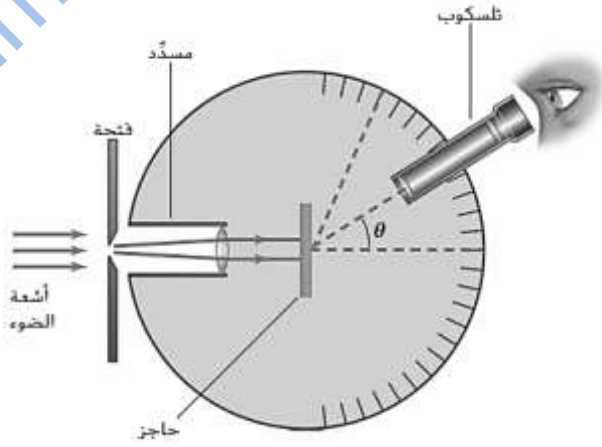
قياس الطول الموجي باستخدام محزوز الحيود

المنظار الطيفي:

أداة تستخدم محزوز الحيود في قياس الطول الموجي لضوء ساقط.

طريقة العمل:

- 1- يبعث المصدر المراد تحليله ضوءا يوجه نحو شق ثم إلى مجمع أشعة ثم على محزوز الحيود.
- 2- ينتج المحزوز نمط حيود يمكن مشاهدته بالمنظار.
- 3- إذا كان الضوء الساقط احادي اللون فسيتكون نمط حيود عبارة عن خطوط مضيئة تفصلها مسافات متساوية.
- 4- كلما زاد عدد الشقوق لكل وحدة طول من المحزوز، كانت الخطوط أضيق فتزداد دقة القياس.



قانون حساب الطول الموجي

$$m \lambda = d \sin \theta$$

- (λ) الطول الموجي للضوء الساقط. (المسافة الفاصلة بين الشقوق.)
(θ) الزاوية التي يحدث عندها الخط المضيء.
(m) تاخذ القيم 0,1,2,3,.....

تطبيق الكتاب المدرسي ص

- 1- إذا سقط ضوء أزرق طوله الموجي 434 nm على محزوز حيود. وكانت المسافة الفاصلة بين الخطوط الناتجة هي 0.55 m حيث تبع الشاشة مسافة 1.05 m. فما المسافة الفاصلة بين شقوق المحزوز.
- 2- يضاء محزوز حيود تفصل بين شقوقه مسافة $8.60 \times 10^{-7} m$ بضوء بنفسجي طوله الموجي 421 nm. إذا كانت الشاشة على بعد 80 cm من المحزوز. فما مقدار المسافات الفاصلة بين الخطوط الناتجة في نمط الحيود.

قدرة التحليل للعدسات:

تعمل العدسة المستديرة فى التلسكوب و المجهر و حتى العين عمل الشق الأحادى و تنطبق عليها نفس المعادلة غير أن نستبدل عرض الشق بقطر الفتحة الدائرية (D) التى يمر خلالها الضوء، و يضاف معامل هندسى قيمته 1.22

$$x_1 = \frac{1.22 \lambda L}{D}$$

(x_1) المسافة بين مركزى هديتين مضيئتين (D) قطر الفتحة أمام العدسة.

الربط بعلم الفلك

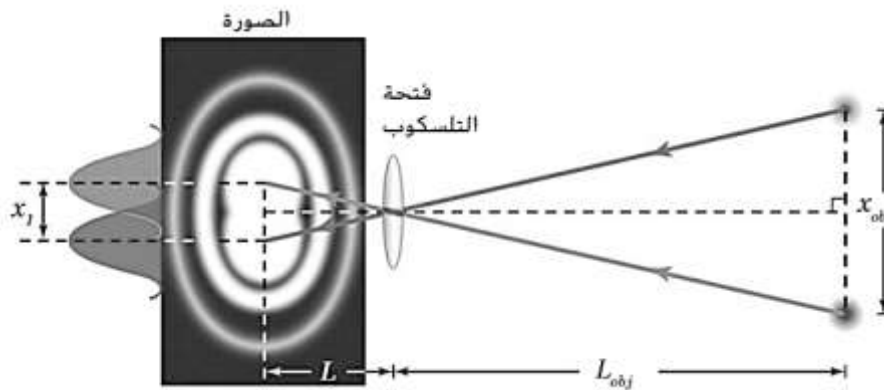
عند النظر إلى نجمين من خلال فتحة التلسكوب فإن صورة النجمين تتداخل نتيجة لحيود الضوء خلال فتحة التلسكوب.

إيجاد المسافة بين نجمين باستخدام التلسكوب

معياريه:

إذا سقط مركز البقعة المضيئة لصورة أحد النجمين على الحلقة المعتمة الأولى للنجم الثانى، فإن الصورتين توكلنا عند حد التمييز، و عندها نستطيع رؤية النجمين معا، و كذلك حساب المسافة بينهما من خلال المعادلة من الرسم الموضح نجد أن

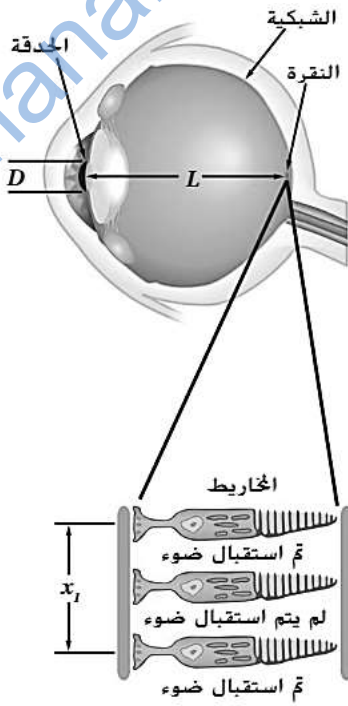
$$\frac{x_{obj}}{L_{obj}} = \frac{x_1}{L} \implies \frac{x_1}{L} = \frac{1.22 \lambda}{D} \implies \frac{x_{obj}}{L_{obj}} = \frac{1.22 \lambda}{D}$$



$$x_{obj} = \frac{1.22 \lambda}{D} L_{obj}$$

الحيود في العين:

يدل تطبيق معيار ريليه لإيجاد قدرة العين على التمييز بين مصدرين متباعدين على أن العين يمكنها التمييز بين المصباحين الاماميين لسيارة المسافة بينهما 1.5 m على بعد 7km، و عمليا لا يقلل الحيود من قدرة العين على العمل.



مراجعة الكتاب المدرسي ص 275