

تم تحميل هذا الملف من موقع ملفات الكويت التعليمية



[com.kwedufiles.www//:https](https://www.kwedufiles.com)

*للحصول على أوراق عمل لجميع الصفوف وجميع المواد اضغط هنا

* للحصول على أوراق عمل لجميع مواد الصف الخامس اضغط هنا

<https://kwedufiles.com/5>

* للحصول على جميع أوراق الصف الخامس في مادة رياضيات ولجميع الفصول, اضغط هنا

<https://kwedufiles.com/5math>

* للحصول على أوراق عمل لجميع مواد الصف الخامس في مادة رياضيات الخاصة بـ الفصل الأول اضغط هنا

<https://www.kwedufiles.com/5math1>

* لتحميل كتب جميع المواد في جميع الفصول للصف الخامس اضغط هنا

<https://www.kwedufiles.com/grade5>

* لتحميل جميع ملفات المدرس التوجيه الفني للرياضيات اضغط هنا

[bot_kwlinks/me.t//:https](https://t.me/bot_kwlinks)

* للحصول على جميع روابط الصفوف على تلغرام وفيسبوك من قنوات وصفحات: اضغط هنا

الروابط التالية هي روابط الصف الخامس على مواقع التواصل الاجتماعي

مجموعة الفيسبوك

صفحة الفيسبوك


مجموعة التلغرام

بوت التلغرام

قناة التلغرام

رياضيات على التلغرام

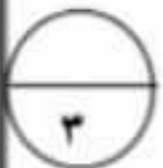
السؤال الأول: (أ) أكتب فى الصورة المعتادة والصورة العشرية ما يدل على الاجزاء الملونة فيما يلى :



..... ،



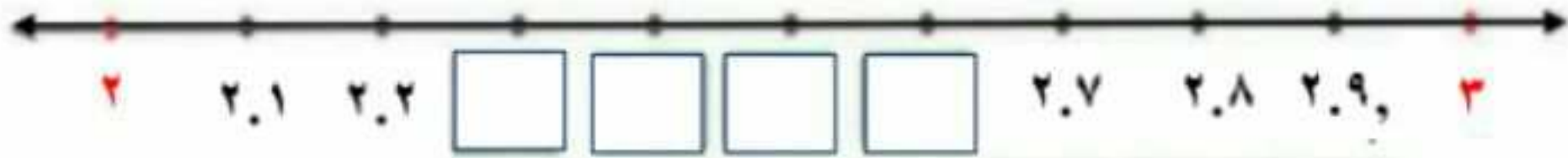
(ب) أكتب فى الصورة العشرية كلا مما يلى :



..... $\frac{2}{1000}$ $\frac{3}{1000}$

ثمانية عشر صحيح وستة أجزاء من مئة.....

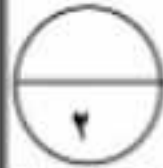
(ج) أكتب رموز الاعداد العشرية على خط الاعداد :



السؤال الثانى: (أ) رتب تصاعديا :

٤.٧ - ١.٨ - ٦ - ٤.١٩٥

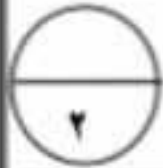
| | | | |
|--|--|--|--|
| | | | |
|--|--|--|--|



(ب) قرب الى منزلة الرقم الذى تحته خط :

$\square \approx 0.\underline{9}6$

$\square \approx ٦.١\underline{٥}٣$



السؤال الثالث: لكل بند فيما يلى أربع اختيارات واحد فقط منها صحيح ، ظلل الدائرة الدالة على الاختيار الصحيح :

❖ العدد العشري ٢.١٠٠ يكافىء

- أ) ٢.٠٠١
 ب) ٢.٠١
 ج) ٢.١٠
 د) ٢٠.١

❖ القيمة المكانية للرقم الذى تحته خط ٠.٤٣٨ هو

- أ) ٠.٣
 ب) ٠.٠٣
 ج) ٠.٠٠٣
 د) ٣

