

تم تحميل هذا الملف من موقع ملفات الكويت التعليمية



[com.kwedufiles.www//:https](https://www.kwedufiles.com)

*للحصول على أوراق عمل لجميع الصفوف وجميع المواد اضغط هنا

* للحصول على أوراق عمل لجميع مواد الصف الخامس اضغط هنا

<https://kwedufiles.com/5>

* للحصول على جميع أوراق الصف الخامس في مادة رياضيات وجميع الفصول, اضغط هنا

<https://kwedufiles.com/5math>

* للحصول على أوراق عمل لجميع مواد الصف الخامس في مادة رياضيات الخاصة بـ الفصل الأول اضغط هنا

<https://www.kwedufiles.com/5math1>

* لتحميل كتب جميع المواد في جميع الفصول للـ الصف الخامس اضغط هنا

<https://www.kwedufiles.com/grade5>

[bot_kwlinks/me.t//:https](https://t.me/bot_kwlinks)

للحصول على جميع روابط الصفوف على تلغرام وفيسبوك من قنوات وصفحات: اضغط هنا

الروابط التالية هي روابط الصف الخامس على مواقع التواصل الاجتماعي

مجموعة الفيسبوك

صفحة الفيسبوك

مجموعة التلغرام

بوت التلغرام

قناة التلغرام

رياضيات على التلغرام

أوراق قبلية للدرس الأول (٦-١)

٨						محطة وقود
٧	مركز تسوق			حديقة عامة		
٦			الحضارة			
٥	المسجد				مكتب بريد	
٤			المدرسة			
٣				المنزل		
٢		مكتبة عامة				
١					مركز الشرطة	
						د خ ح ج ث ت ب أ

١) استخدم الخريطة لتحديد موقع كلاً من:

أ) المدرسة : _____ ب) المسجد : _____

ج) مكتب البريد : _____ د) مكتب بريد : _____

هـ) مركز الشرطة : _____ و) المنزل : _____

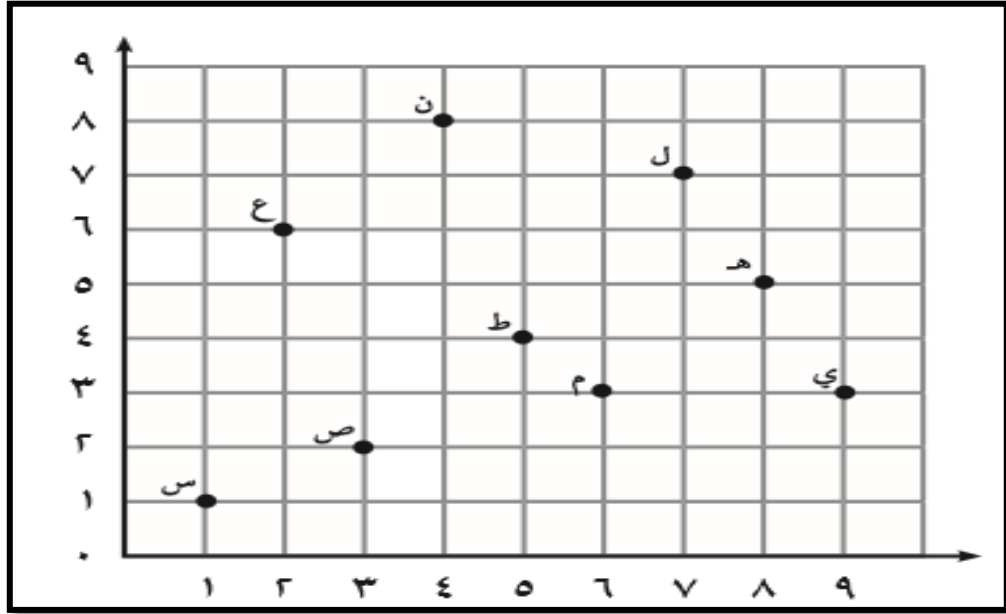
٢) سم ما يحدده كل موقع مما يلي مستخدماً الخريطة :

أ) ح ٧ : _____

ب) ج ٦ : _____

ج) د ٨ : _____

أوراق قبلية للدرس الأول (٦-١)



١) استخدم شبكة الأحداثيات لتسمية الزوج المرتب لكل نقطة :

_____ : (ب) م

_____ : (أ) س

_____ : (د) ع

_____ : (ج) ط

٢) سم النقطة التي يحددها كل من الأزواج المرتبة بحسب الشبكة الموضحة أعلاه :

_____ : (ب) (٣، ٩)

_____ : (أ) (٢، ٣)

_____ : (د) (٥، ٨)

_____ : (ج) (٧، ٧)

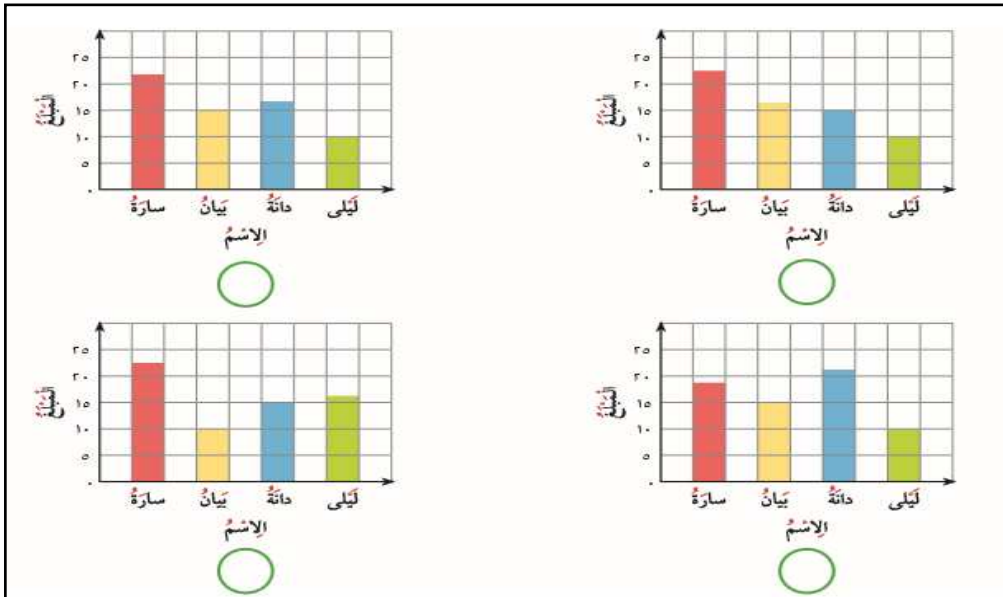
أوراق قبلية للدرس الثاني (٦-٢)

اختاري الإجابة الصحيحة :

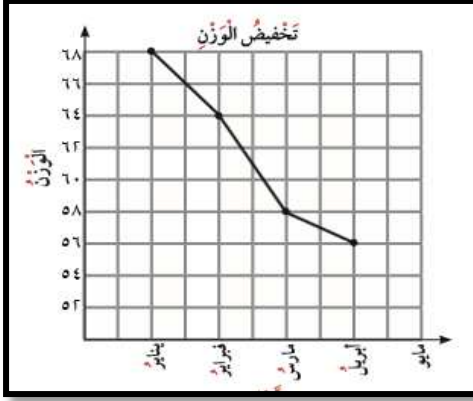
ب) استلمت منيرة الجدول المقابل من معلمتها وطلبت منها تحديد التمثيل البياني المناسب لبيانات الجدول .

أي من هذه التمثيلات يجب على منيرة اختيارها

مقدار ما توفّره بعض المتعلّمات	
المبلغ	الإسم
٢٢ دينارًا	سارة
١٥ دينارًا	بيان
١٧ دينارًا	دانة
١٠ دنانير	ليلى



أوراق قبلية للدرس الثالث (٦-٣)



استعملت سارة نظاما لتخفيض

الوزن خلال خمسة أشهر ،

والتمثيل المجاور يبين وزن سارة

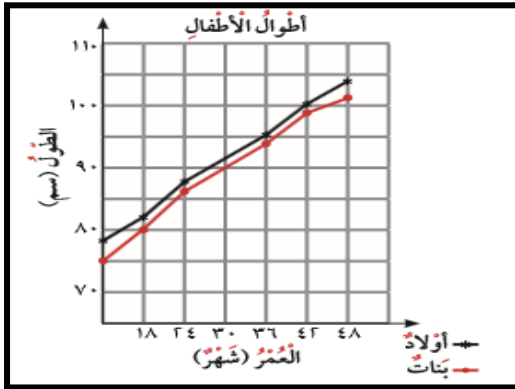
في كل شهر . استخدم التمثيل

للإجابة عن الأسئلة التالية :

أ) كم كان وزن سارة في شهر يناير ؟ _____

ب) في أي شهر أصبح وزن سارة ٥٦ كجم ؟ _____

ج) ما الفرق بين وزن سارة في شهري فبراير و أبريل ؟ _____



يبين التمثيل بالخطوط المزدوجة

المجاور أطوال أطفال من فئات

عمرية مختلفة .

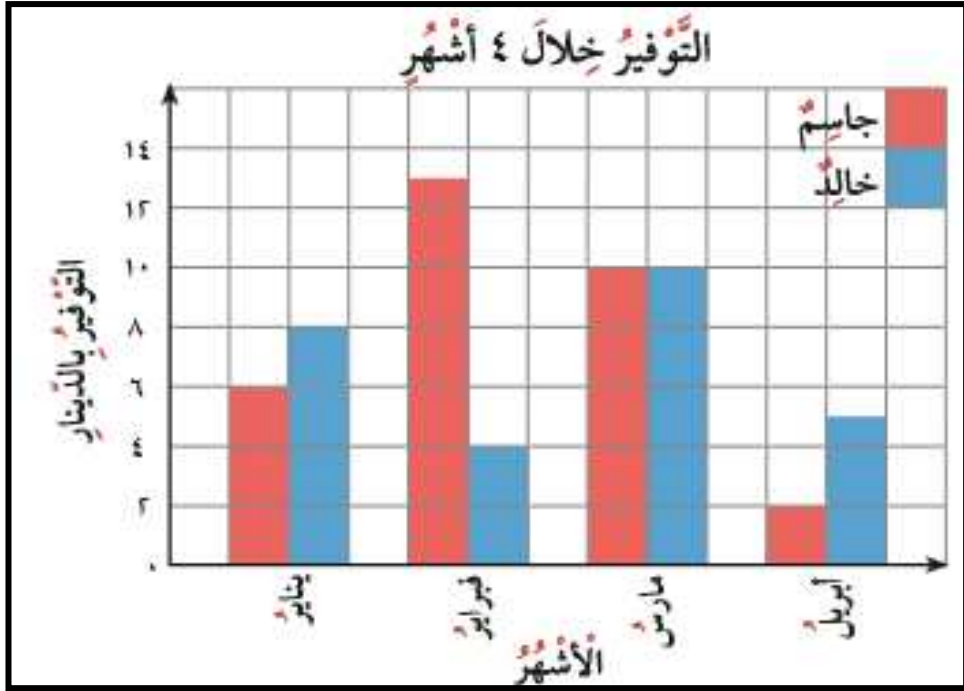
أ) ما أطوال البنات اللواتي أعمارهن ٣٠ شهرا؟ _____

ب) ما أطوال الأولاد الذين أعمارهم ٣٦ شهرا ؟ _____

ج) طول منى يساوي أطوال البنات اللواتي أعمارهن من عمرها ،

ويساوي ٨٠ سم . استخدم التمثيل لمعرفة عمرها ؟ _____

أوراق قبلية للدرس الرابع (٦-٤)



استخدم التمثيل البياني أدناه الذي يبين ما وفره جاسم وخالد خلال ٤ أشهر من المصروف الشهري في الإجابة عن الأسئلة التالية :

أ) ما المبلغ الذي وفره خالد خلال شهر فبراير؟ _____

ب) ما المبلغ الذي وفره جاسم خلال شهر يناير؟ _____

ج) ما الشهر الذي تساوى التوفير عند جاسم وخالد؟ _____

د) ما المبلغ الذي وفره جاسم خلال ٤ أشهر؟ _____

أوراق قبلية للدرس الخامس (٥-٦)

أوجد المتوسط الحسابي للقيم :

٩

٦

١٠

٤

١١

مجموع القيم = _____

عدد القيم = _____

المتوسط الحسابي = _____

السنة	عدد مرات السفر
٢٠١٤	٥
٢٠١٥	١٠
٢٠١٦	٦

في الجدول

يبين عدد مرات سفر سلطان خلال ثلاث سنوات أحسب ، المتوسط الحسابي لعدد مرات سفر سلطان في السنة الواحدة .

أوراق قبلية للدرس السادس (٦-٦)

كان عدد الرحلات اليومية لإحدى شركات السياحة لمدة أسبوع كما يلي :

٤	٩	٦	٩	٤	٩	٨
---	---	---	---	---	---	---

أوجدني المنوال والوسيط والمدى لعدد الرحلات :

الترتيب : _____

المنوال هو : _____

الوسيط : _____

المدى : _____

درجات بعض متعلمي أحد الفصول

X		X	X	
X		X	X	X
X		X	X	X
12	13	14	15	16

الرمز X يمثل متعلماً واحداً

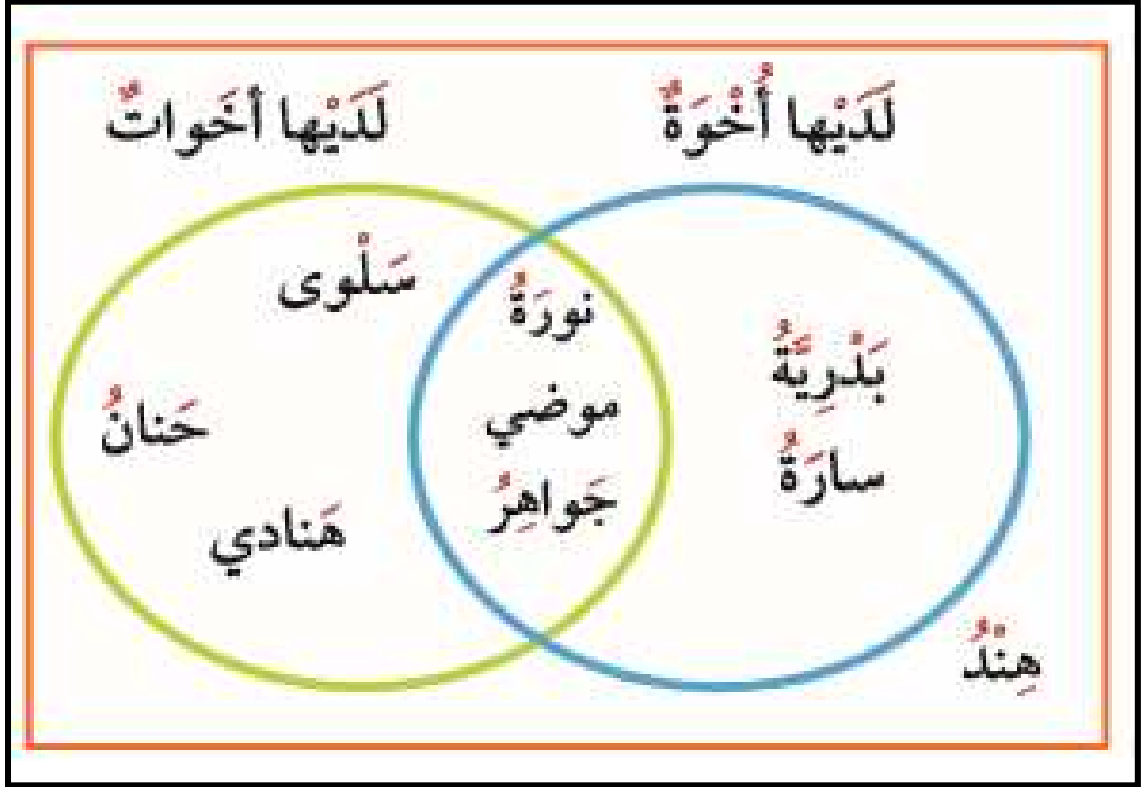
مستخدماً التمثيل البياني بالنقاط المجمعّة ، أوجد :

المدى = _____

الوسيط = _____

المنوال هو = _____

أوراق قبلية للدرس السابع (٦-٧)



استعن بمخطط فن الذي يوضح تصنيف بعض المتعلمات ،
وأجب عن الأسئلة التالية :

- أ) كم عدد المتعلمات اللواتي عندهن أخوة فقط ؟

- ب) كم عدد المتعلمات اللواتي عندهن أخوات ؟

- ج) كم عدد اللواتي لديهن أخوة وأخوات معا ؟

- د) من من المتعلمات ليس لديها أخوة أو أخوات ؟
