

تم تحميل هذا الملف من موقع ملفات الكويت التعليمية



[com.kwedufiles.www//:https](https://www.kwedufiles.com)

\*للحصول على أوراق عمل لجميع الصفوف وجميع المواد اضغط هنا

\* للحصول على أوراق عمل لجميع مواد الصف الخامس اضغط هنا

<https://kwedufiles.com/5>

\* للحصول على جميع أوراق الصف الخامس في مادة علوم ولجميع الفصول, اضغط هنا

<https://kwedufiles.com/5science>

\* للحصول على أوراق عمل لجميع مواد الصف الخامس في مادة علوم الخاصة بـ الفصل الأول اضغط هنا

<https://www.kwedufiles.com/5science1>

\* لتحميل كتب جميع المواد في جميع الفصول للصف الخامس اضغط هنا

<https://www.kwedufiles.com/grade5>

\* لتحميل جميع ملفات المدرس اللجنة الفنية المشتركة للعلوم اضغط هنا

[bot\\_kwlinks/me.t//:https](https://t.me/bot_kwlinks)

\* للحصول على جميع روابط الصفوف على تلغرام وفيسبوك من قنوات وصفحات: اضغط هنا

الروابط التالية هي روابط الصف الخامس على مواقع التواصل الاجتماعي

مجموعة الفيسبوك

صفحة الفيسبوك

مجموعة التلغرام

بوت التلغرام

قناة التلغرام

رياضيات على التلغرام



بنك أسئلة في مادة العلوم للفترة الدراسية الأولى من العام الدراسي ٢٠١٩-٢٠٢٠ م

نموذج رقم (٦)

**السؤال الأول : اختر الإجابة الصحيحة من بين الإجابات التالية بوضع دائرة حولها :**

١- عدد كواكب المجموعة الشمسية:

٨  ١٣  ١٥  ٦

٢- طبقة من طبقات الغلاف الجوي تتولى حماية الأرض من خطر الشهب القادمة من الفضاء:

التروبوسفير  الستراتوسفير  الميزوسفير  الثيرموسفير

٣- عضو في الجهاز الهضمي تستكمل فيه عملية الهضم :

المريء  المعدة  الأمعاء الدقيقة  المعدة الغليظة

٤- جزء صغير من الدماغ يلتقي بالعمود الفقري :

المخ  الأعصاب  النخاع المستطيل

٥- من الأمراض التي يصاب بها الجهاز العصبي لرائد الفضاء هي :

هشاشة العظام  القيء  الغثيان  فقد التوازن

**السؤال الثاني: أكتب بين القوسين كلمة (صحيحة) للعبارة الصحيحة وكلمة (خطأ) للعبارة غير الصحيحة في كل مما يلي :**

١- غاز الأوزون يتواجد في طبقة الستراتوسفير. ( )

٢- الهيكل العظمي هو الذي يحمي الأعضاء الخارجية لجسم الانسان . ( )

٣- تقديم الإسعافات الأولية بطريقة خاطئة يعرض حياة الآخرين للخطر . ( )

٤- النزيف ينتج عن فقدان الدم من الجهاز العصبي . ( )

٥- الاحتباس الحراري ظاهرة تنتج عن انخفاض حرارة الغلاف الجوي للكرة الأرضية ( )

**السؤال الثالث : في الجداول التالية اختر العبارة من المجموعة (ب) وأكتب رقمها أمام مايناسبها من عبارات**

**المجموعة (أ) :**

الرقم	المجموعة (أ)	المجموعة (ب)
( )	جهاز يزود خلايا جسمك بالأكسجين ويتخلص من ثاني أكسيد الكربون .	١- الجهاز الدوري
( )	جهاز يتحكم في كل الأنشطة الإرادية واللاإرادية في جسمك.	٢- الجهاز التنفسي ٣- الجهاز العصبي
( )	حالة تحدث نتيجة فقدان الشخص وعيه تماما .	١- الإغماء
( )	حالة تنتج عن فقدان الدم من الجهاز الدوري .	٢- الكسور ٣- النزيف

**السؤال الرابع : أكمل الفراغات التالية بما يناسبها علمياً :**

- ١- النظام الشمسي ينتمي لمجرة .....
- ٢- يؤثر ميل ..... على كمية الضوء الواصل لإجزاء الأرض المختلفة .
- ٣- المكونان الأساسيان للغلاف الجوي هما النيتروجين و .....
- ٤- ينتقل الطعام غير المهضوم إلى .....
- ٥- الجروح العميقة أحد أنواع.....التي يتعرض لها الانسان.

**السؤال الخامس: أكتب بين القوسين كلمة (صحيحة) للعبارة الصحيحة وكلمة (خطأ) للعبارة غير الصحيحة**

**في كل مما يلي مع تصحيح الخطأ:**

١- يغطي الماء كوكب الأرض بنسبة ٥٢% . ( )

٢- لحبل الشوكي عبارة عن عضو ظري متعرج . ( )

٣- عند الإصابة بكسر في الذراع نقوم بوضع جبيرة . ( )

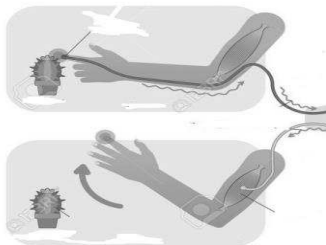
**السؤال السادس: أكمل جداول المقارنة التالية:**

وجه المقارنة	التروبوسفير	الستراتوسفير
وجود الظواهر الجوية		

وجه المقارنة	الشريان	الوريد
الوظيفة		

**السؤال السابع: ماذا يحدث في الحالات التالية؟**

١- عند لمس نبات الصبار:



.....  
.....

السؤال الثامن : علل لما يأتي تعليلاً علمياً :

١- التطور الصناعي يؤثر على سلامة الغلاف الجوي .

.....

.....

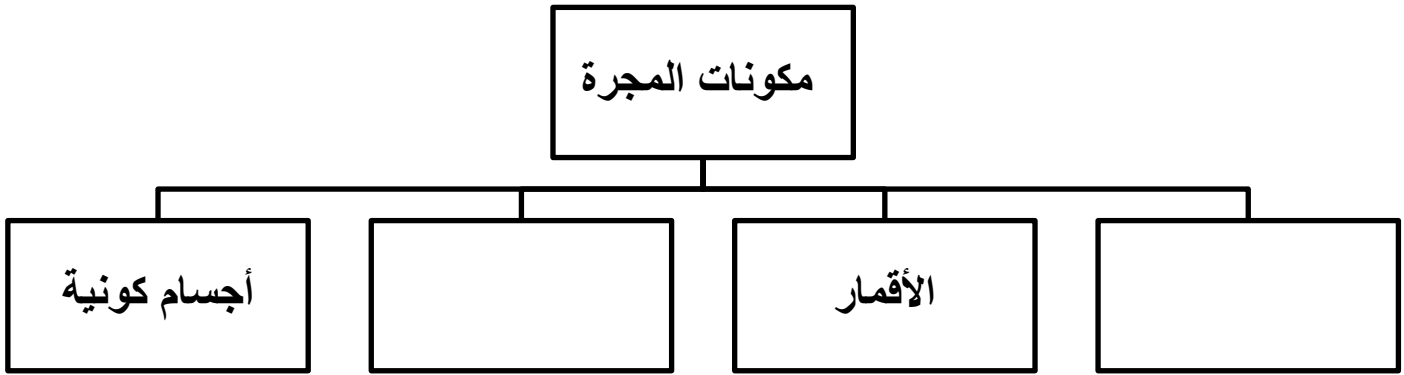
٢- اختفاء الرسائل العصبية لرواد الفضاء .

.....

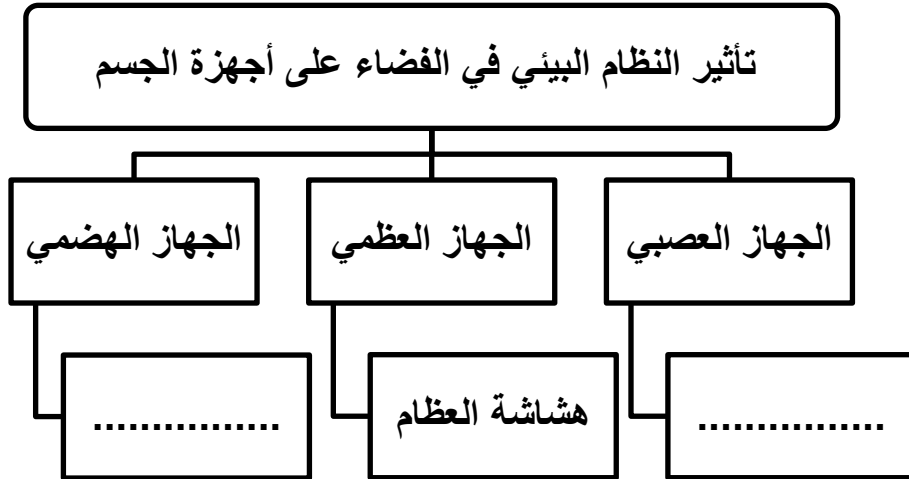
.....

السؤال التاسع : أكمل المخططات السهمية التالية بما يناسبها :

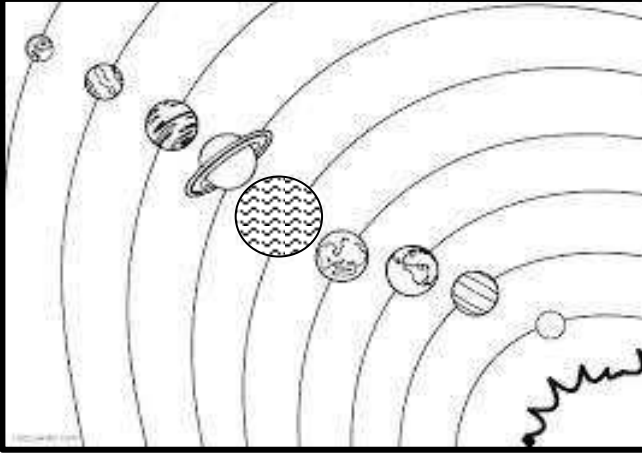
-١



-٢

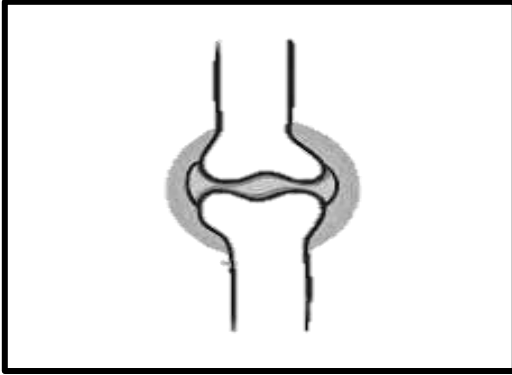


**السؤال العاشر : أكمل البيانات على الرسم التالي :**



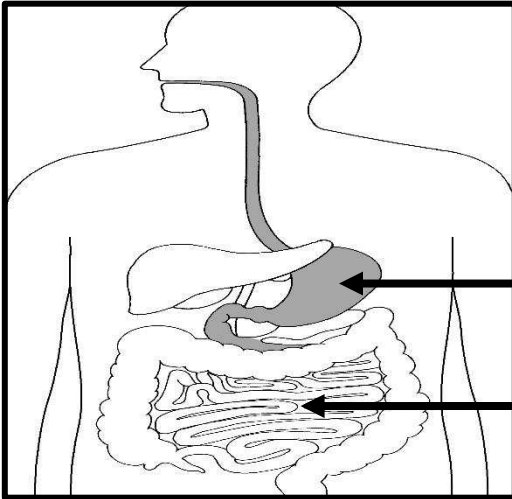
١- الشكل يوضح .....

ظلل أكبر الكواكب حجماً .



٢- الشكل يوضح .....

الوظيفة : .....



٣- الشكل يوضح الجهاز الهضمي:

**نرجو لكم دوام التوفيق**