

ملفات الكويت
التعليمية
kufufiles.com



الإدارة العامة لمنطقة الفردانية التعليمية

ملفات الكويت
التعليمية
kufufiles.com



وزارة التربية

امتحان نهاية الفترة الدراسية الأولى

العام الدراسي : ٢٠١٨ / ٢٠١٩ م

الإدارة العامة لمنطقة الفروانية التعليمية

للفص الخامس

الزمن : ساعة وربع

التوجيه الفني للاجتماعيات

لمقرر بلادي الكويت

عدد الأوراق : ٥

+++++

السؤال الأول : ويتكون من (أ - ب - ج - د - هـ) : (نموذج الإجابة) (درجة واحدة لكل نقطة)

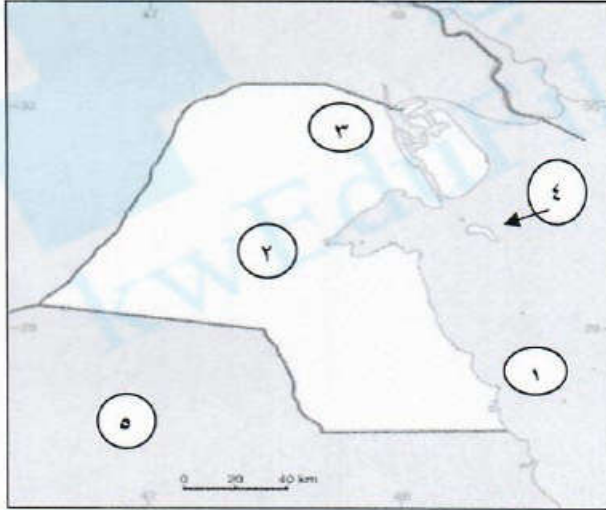
(أ) استنتج الرابط المشترك بين العناصر التالية :-

تضاريس	ص ٢٧	١- منخفضات - وادي جاف - تلال - سبخات
عناصر المناخ	ص ٣٢	٢- رياح - أمطار - رطوبة - ضغط جوي
نبات طبيعي	ص ٤٠	٣- العرفج - كحيل - الثيل - النخيل
الحيوانات في بلادي	ص ٤٤	٤- الطيور - الحشرات - الثدييات - الزواحف

(ب) ضع خطأ تحت الخيار الصحيح من بين الخيارات التي تلي كل عبارة :

- ١- تقع دولة الكويت ضمن المنطقة المناخية : ص ٣٤
الحارة - المعتدلة - الباردة - الاستوائية
- ٢- تم اكتشاف أول بئر نفطي عام ١٩٣٦م في دولة الكويت في حقل : ص ٥٠
الرتقة - بحرة - الروصتين - المقوع
- ٣- حصلت دولة الكويت على استقلالها في عام : ص ٥٣
١٩٦٠ م - ١٩٦١ م - ١٩٦٢ م - ١٩٦٣ م
- ٤- من المواسم السنوية في دولة الكويت ينكسر الحر حيث تنخفض درجة الحرارة فيه : ص ٣٦
الوسم - المرزم - سهيل - المر بعانية
- ٥- أكبر الجزر الكويتية جزيرة تسمى : ص ٢٧
عوهه - أم المرادم - فيلكا - بوبيان
- ٦- موقع القارة أو الدولة بالنسبة لخطوط الطول ودوائر العرض يسمى : ص ١٩
النسبي - الفلكي - المكاني - الجغرافي

(ج) لاحظ خريطة دولة الكويت التي أمامك ثم أجب عن الأسئلة التي تليها: ص ٢٦



- الرقم (١) يمثل مسطح مائي يسمىالخليج العربي....
- الرقم (٢) يمثل تلال تسمىكراع المرو....
- الرقم (٣) يمثل كثبان رملية تسمى أم النقا ...
- الرقم (٤) يمثل جزيرة تسمى فيلكا
- الرقم (٥) يمثل دولة عربية خليجية تسمى المملكة العربية السعودية.....

(د) ظلل الحرف (أ) إذا كانت الإجابة صحيحة والحرف (ب) إذا كانت الإجابة غير صحيحة :

ب

أ

١- يتوسط ساحل دولة الكويت خليج صغير يسمى جون الكويت ص ٢٧

ب

أ

٢- النباتات المعمرة هي نباتات تتكاثر بعد سقوط الأمطار ص ٤٠

ب

أ

٣- الأمطار الرعدية (السرايات) هي أمطار رعدية التي تسقط في شهر (مارس وأبريل ومايو) في دولة الكويت ص ٣٣

ب

أ

٤- تم تصدير أول شحنة من النفط الكويتي عام ١٩٤٠م ص ٥٠

ب

أ

٥- أرض الكويت صحراء منبسطة تنحدر تدريجيا من الشمال إلي الجنوب ص ٢٦

تابع نموذج إجابة امتحان نهاية الفترة الدراسية الأولى للصف الخامس مقرر بلادي الكويت عام ٢٠١٨- ٢٠١٩م

(هـ) صل الصورة في القائمة (أ) بما يناسبها من القائمة (ب) :

(ب)

(أ)

ص ٤٤

سفينة الصحراء

ص ١٨

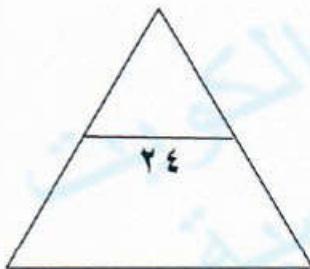
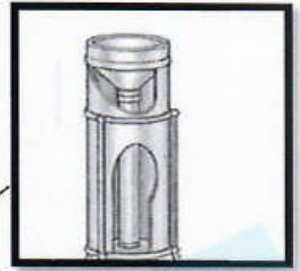
دوائر العرض

ص ٢٧

كثبان رملية

ص ٣٣

جهاز قياس المطر



تابع نموذج إجابة امتحان نهاية الفترة الدراسية الأولى للصف الخامس مقرر بلادي الكويت عام ٢٠١٨- ٢٠١٩م

السؤال الثاني: ويتكون من (أ - ب - ج) : (٨ درجات لكل نقطة درجة)

(أ) اكتب إنجازات الشيخ عبدالله السالم الصباح حسب المطلوب بالجدول : ص ٥٢



الإنجازات الخارجية	الإنجازات الداخلية
١- إلغاء معاهدة الحماية ١٨٩٩م واستبدالها بمعاهدة تعاون وصدقة ١٩٦١م مع بريطانيا ٢- الانضمام للجامعة العربية ١٩٦١م ٣- الانضمام لهيئة الأمم المتحدة ١٩٦٣م	١- رفع العلم الجديد لدولة الكويت ٢- صدور عملة جديدة هي الدينار الكويتي ٣- إنشاء المجلس التأسيسي ١٩٦٢م لإعداد الدستور الكويتي والتصديق عليه ٤- إجراء أول انتخابات نيابية وافتتاح مجلس الأمة عام ١٩٦٣م

(ب) علل ما يلي :

- اثرت الظروف المناخية القاسية في شكل الغطاء النباتي لدولة الكويت . ص ٤٠

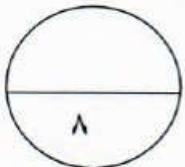
التفاوت في درجة الحرارة / ارتفاع نسبة سطوع الشمس / العواصف الترابية / ارتفاع نسبة التبخر
قلة مياه الأمطار وعدم انتظامها

(ج) عرف المفاهيم و المصطلحات التالية :

١- امتياز التنقيب : يعني إعطاء الدولة حق البحث و التنقيب عن النفط وبيعه لشركة أجنبية متخصصة تشارك الدولة في

قسط من العائدات المالية لمدة معينة ص ٥٠

٢- السبخات : هي أراضي منخفضة قليلة المياه تنمو فيها النباتات الملحية ص ٢٧



تابع نموذج إجابة امتحان نهاية الفترة الدراسية الأولى للصف الخامس مقرر بلادي الكويت عام ٢٠١٨-٢٠١٩م

السؤال الثالث : ويتكون من (أ - ب) :

(أ) اقرأ الفقرة التالية ثم أجب عن الأسئلة التي تليها : (٣ درجات لكل نقطة درجة)

" تميزت صحراء شبه الجزيرة العربية غالباً بصفاء جوها مما أتاح لسكانها التميز بعلم الفلك ، وقد عرف

أهل الكويت مواقع النجوم واستفادوا منها " ص ٣٦

١- ما اسم العلم الذي تميز به الكويتيون ؟

(علم الفلك)

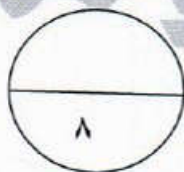
٢- كيف استفاد أهل الكويت من مواقع النجوم ؟

*معرفة الاتجاهات الأصلية

*معرفة أحوال المناخ مما أعانهم على تجنب أوقات الرياح الشديدة على السفن حيث يتوقف السفر في فصل الصيف

(ب) قارن بين ما يلي حسب الجدول التالي : ص ١٨ (٥ درجات)

أوجه المقارنة	دوائر العرض	خطوط الطول
العدد	١٨٠ دائرة (درجة)	٣٦٠ خطأ (درجة)
الأهمية	تحديد نوع المناخ لأي دولة في العالم (درجة)	تساعد في تحديد مواقع الدول على الخريطة تحديد التوقيت الزمني لأي دولة في العالم (درجة)
الخط الرئيسي	خط الاستواء (نصف درجة)	خط جرينتش (نصف درجة)



انتهت الأسئلة