

تم تحميل هذا الملف من موقع ملفات الكويت التعليمية



[com.kwedufiles.www//:https](https://www.kwedufiles.com)

*للحصول على أوراق عمل لجميع الصفوف وجميع المواد اضغط هنا

* للحصول على أوراق عمل لجميع مواد الصف الخامس اضغط هنا

<https://kwedufiles.com/5>

* للحصول على جميع أوراق الصف الخامس في مادة اجتماعيات ولجميع الفصول, اضغط هنا

<https://kwedufiles.com/5social>

* للحصول على أوراق عمل لجميع مواد الصف الخامس في مادة اجتماعيات الخاصة بـ الفصل الأول اضغط هنا

<https://www.kwedufiles.com/5social1>

* لتحميل كتب جميع المواد في جميع الفصول للـ الصف الخامس اضغط هنا

<https://www.kwedufiles.com/grade5>

* لتحميل جميع ملفات المدرس مدرسة فاطمة بنت قيس المتوسطة اضغط هنا

[bot_kwlinks/me.t//:https](https://t.me/bot_kwlinks)

* للحصول على جميع روابط الصفوف على تلغرام وفيسبوك من قنوات وصفحات: اضغط هنا

الروابط التالية هي روابط الصف الخامس على مواقع التواصل الاجتماعي

مجموعة الفيسبوك

صفحة الفيسبوك

مجموعة التلغرام

بوت التلغرام

قناة التلغرام

رياضيات على التلغرام




وزارة التربية

الادارة العامة لمنطقة الفروانية التعليمية

مدرسة فاطمة بنت قيس إبتدائية بنات

قسم الاجتماعيات



مراجعة مادة بلادي الكويت

الصف الخامس

الفصل الدراسي الأول

٢٠١٩-٢٠٢٠م

ملاحظة هامة

الكتاب المدرسي مصدر أساسي للدراسة والمراجعة لاتغنى عنه

إعداد المعلمات

ايمان حبيب - ساره المطيري - عهد الرشيدى - مريم العازمي

مديرة المدرسة

الموجهه الفنيه

رئيسة القسم

نوره المسبحي

عهد المطيري

ريم المريخي

الوحدة الأولى

إعداد المعلمة

ايمان حبيب



الدرس الأول : سطح الكرة الارضية

أ- المسطحات المائية

السؤال الأول : ضع الرمز (√) امام العبارة الصحيحة والرمز (×) امام العبارة الخاطئة :-

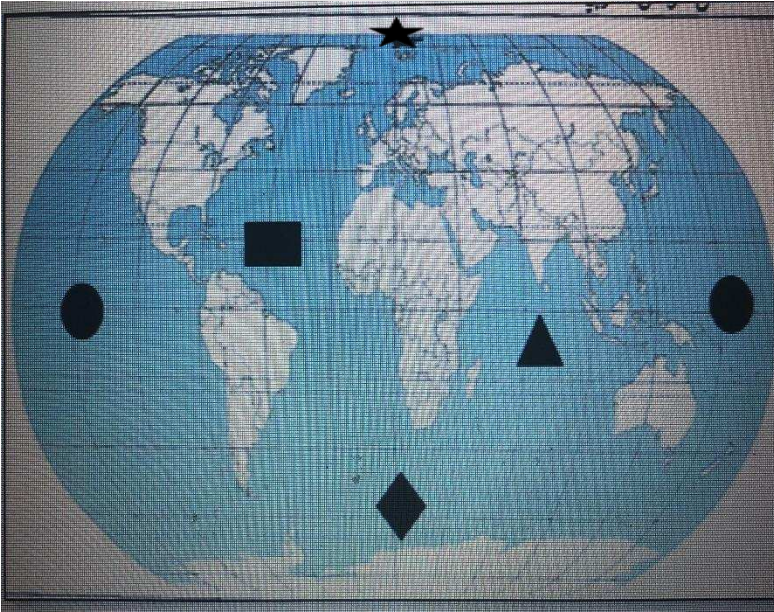
- 1- تبلغ نسبة اليابسة من سطح الكرة الارضية حوالي ٥٠% . (×)
- 2- تتنوع المسطحات المائية على سطح الكرة الارضية . (√)
- 3- يبلغ عدد المحيطات في العالم ٥ محيطات . (√)
- 4- تطل بلاد الكويت على مسطح مائي يسمى الخليج العربي . (√)
- 5- البحر هو بحر ضيق يمتد طوليا بين اليابس . (×)

السؤال الثاني : اختر الاجابة الصحيحة من بين البدائل التالية :

- 1- تغطي مياه سطح الكرة الارضية حوالي :
(٦٠% - ٧٠% - ٨٠% - ٩٠%)
- 2- مسطح كبير جدا من الماء المالح يسمى :
(الخليج - البحر - المحيط - المضيق)
- 3- اكبر المحيطات مساحة هو محيط :
(الهادي - الاطلسي - الهندي - المتجمد الشمالي)

السؤال الثالث : امامك خريطة العالم الصماء حددي عليها مايلي :

- 1- اكبر محيط في العالم باستخدام الرمز ●
- 2- محيط الاطلسي باستخدام الرمز ■
- 3- محيط الهندي باستخدام الرمز ▲
- 4- محيط المتجمد الشمالي ★
- 5- محيط المتجمد الجنوبي ◆



السؤال الرابع : اجب عما يلي

١- عددي بعض من الخلجان الموجودة على سطح الكرة الارضية
أ- الخليج العربي
ب- خليج عمان

٢- عددي بعض من البحار الموجودة على سطح الكرة الارضية
أ- بحر العرب
ب- بحر الاحمر

السؤال الخامس : عرف المفاهيم التالية :

- ١- الخليج : بحر ضيق يمتد طوليا بين اليابس .
- ٢- البحر : مسطح مائي أصغر من المحيط يفصل بين القارات .
- ٣- المحيط : مسطح كبير جدا من الماء المالح .

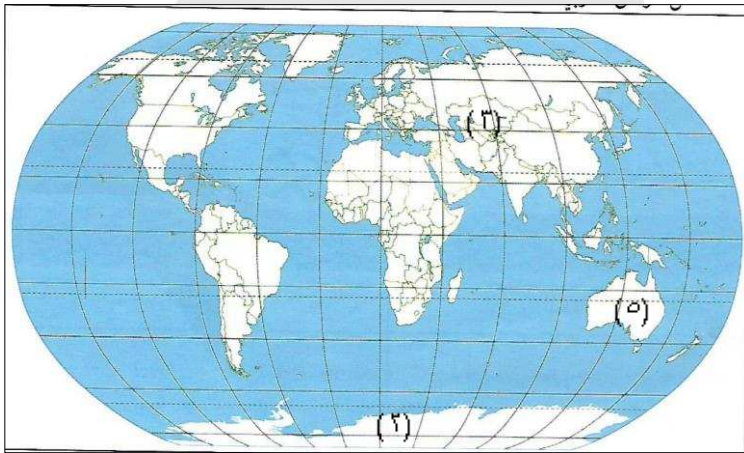
ب- القارات

السؤال الأول : اكمل العبارات التالية بما يناسبها فيما درست :

- ١- يبلغ عدد القارات في العالم .. ٧ .. قارات .
- ٢- مساحة كبير من اليابسة يحيط بها الماء يسمى .. القارة ..
- ٣- أكبر القارات مساحة وأكثرها سكانا هي قارة .. آسيا ..
- ٤- أصغر القارات مساحة هي قارة ... استراليا ...
- ٥- القارة الغير مأهولة بالسكان هي قارة ... القطبية الجنوبية ...
- ٦- تقع الكويت في قارة آسيا

السؤال الثالث : امامك خريطة العالم الصماء حدد عليها مايلي :

- ١- أصغر قارة مساحة تمثل الرقم (٥ ..)
- ٢- القارة الغير مأهولة بالسكان تمثل الرقم (٢)
- ٣- تقع الكويت في قارة رقم (٣ ..)



الدرس الثاني : بلاد الكويت ودول الخليج العربية

السؤال الأول : ضع الرمز (√) امام العبارة الصحيحة والرمز (×) امام العبارة الخاطئة :-

- ١- يبلغ عدد الجهات الاصلية اربعة جهات وهي الشمال - الجنوب - الشرق - الغرب . (√)
- ٢- تقع الكويت بالنسبة لشبه الجزيرة العربية في جهة الشمال الشرقي . (√)
- ٣- تقع دول الخليج العربية جميعها على الساحل الشرقي للخليج العربي . (×)
- ٤- يبلغ عدد دول الخليج العربية سبعة دول . (×)
- ٥- المضيق هو منفذ أو ممر ضيق من الماء يفصل بين المسطحين مائين . (√)

السؤال الثاني : استنتج الرابط المشترك بين العناصر التالية :

- ١- (الشمال - الجنوب - الشرق - الغرب) (.. الجهات الاصلية ..)
- ٢- (شمال شرقي - شمال غربي - جنوب شرقي - جنوب غربي) (.. الجهات الفرعية ..)
- ٣- (الكويت- السعودية - عمان - البحرين - الامارات- قطر) (..دول الخليج العربية..)

السؤال الثالث : صنف الكلمات الى مكانها المناسب في الجدول الذي يليها :

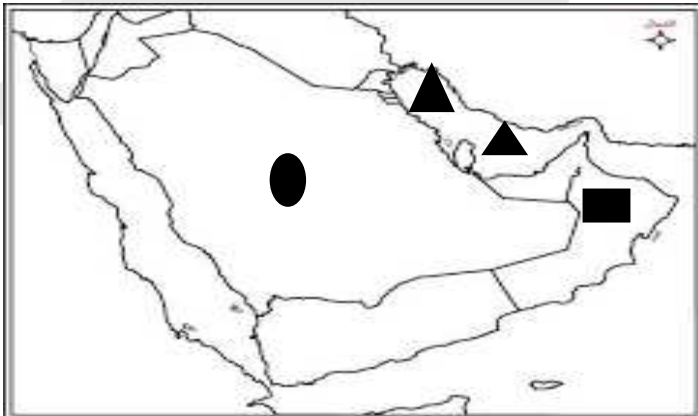
(دولة الكويت - المملكة العربية السعودية - سلطنة عمان - دولة قطر)

دول تطل على مسطح مائي واحد	دول تطل على أكثر من مسطح مائي
..... دولة الكويت المملكة العربية السعودية
..... دولة قطر سلطنة عمان

السؤال الرابع : علل لما يلي :

- سميت دول الخليج العربية بهذا الاسم .
- لأنها تطل على مسطح مائي يسمى الخليج العربي

السؤال الخامس : امامك خريطة شبه الجزيرة العربية الصماء حدد عليها مايلي :



- ١- لون دولة الكويت .
- ٢- المملكة العربية السعودية باستخدام الرمز
- ٣- سلطنة عمان باستخدام
- ٤- الخليج العربي باستخدام

الدرس الثالث : بلاد الكويت ودول الوطن العربي

السؤال الاول : اختر الاجابة الصحيحة من بين البدائل التالية:

١- يمتد الوطن العربي بين قارتي آسيا و:
(اوروبا - استراليا - إفريقيا - امريكا الجنوبية)

٢- يبلغ عدد دول الوطن العربي :
(٢٢ دولة - ٢٣ دولة - ٢٤ دولة - ٢٥ دولة)

٣- تقع الكويت بالنسبة للوطن العربي في الجهة :
(الشمالية - الشرقية - الغربية - الجنوبية)

السؤال الثاني : صوب ما تحته خط في العبارات التالية :-

- ١- ممر مائي صناعي يشق للربط ما بين مسطحين مائيين يسمى المضيق . (.. القناة ..)
٢- يفصل بين دول الوطن العربي في قارة آسيا وقارة افريقيا مسطح مائي يسمى المحيط الاطلسي . (.. البحر الاحمر ..)

السؤال الثالث : احب عما يلي :

- عدد المضائق المائية التي تطل عليها الوطن العربي
أ- مضيق هرمز ب- مضيق باب المندب ج- قناة السويس د- مضيق جبل طارق
- عدد السمات المشتركة بين دول الوطن العربي
أ- الدين واللغة العربية ب- التراث ج- التاريخ د- الاهداف المشتركة
- عدد المسطحات المائية التي تطل عليها دول الوطن العربي
(الخليج العربي - خليج عمان - خليج عدن - بحر العرب - بحر الاحمر - البحر المتوسط - المحيط الاطلسي - المحيط الهندي)

الدرس الرابع : بلادي الكويت ودول العالم الاسلامي

السؤال الاول : صوب ما تحته خط في العبارات التالية :-

- ١- يمتد العالم الاسلامي في ثلاث قارات . (.. اربعة ..)
- ٢- تقع دولة الكويت في جنوب العالم الاسلامي . (.. وسط ..)
- ٣- العالم الاسلامي مجموعة من الدول التي يكون فيها عدد المسلمين ٤٠% فأكثر من مجموع السكان (.. ٥٠% ..)
- ٤- عدد المسلمين في العالم الاسلامي نصف سكان العالم . (.. ربع ..)

السؤال الثاني : ضع الرمز (√) امام العبارة الصحيحة والرمز (×) امام العبارة الخاطئة :-

- ١- يحتل العالم الاسلامي موقعا وسطا بالنسبة الى العالم . (√)
- ٢- مساحة العالم الاسلامي ربع مساحة الكرة الارضية . (√)
- ٣- يطل العالم الاسلامي على ١٢ بحرا . (×)
- ٤- يشرف العالم الاسلامي على ٤ محيطات . (×)

السؤال الثالث : صنف الارقام الى مكانها المناسب في الجدول الذي يليها :

(٢٧ - ٢٦ - ٢ - ١)

عدد الدول الاسلامية في قارات العالم			
أوروبا	آسيا	أفريقيا	أمريكا الجنوبية
٢	٢٧	٢٦	١

السؤال الرابع : احب عما يلي :

- عدد مميزات العالم الاسلامي :
- أ- مساحة العالم الاسلامي ربع مساحة الكرة الارضية
- ب- يطل على ١٨ بحرا ويشرف على ٣ محيطات والعديد من المضائق المائية
- ج- كثرة الموارد الطبيعية
- د- عدد المسلمين في العالم الاسلامي ربع سكان العالم

علل : اهمية موقع العالم الاسلامي

يقع في وسط العالم

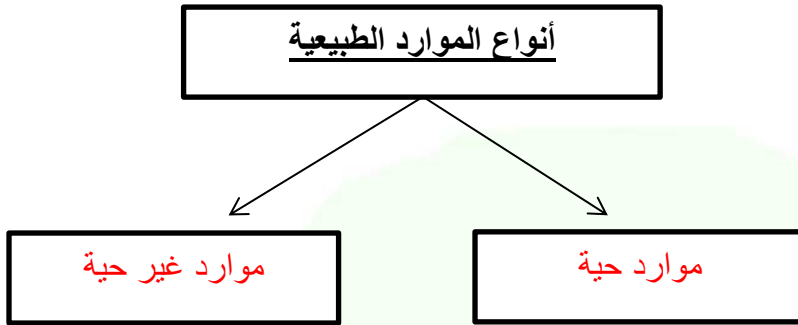
الوحدة الثانية
إعداد المعلمة
ساره المطيري



(الموارد الطبيعية في بلاد الكويت)

١- الموارد الطبيعية : هي كل ما أوجده الله في الطبيعة دون أن يكون للإنسان دخل في وجودها .

٢: أكملي المخطط السهمي :



٣: صنفي الموارد الطبيعية التالية وفق الجدول التالي :

(ماء - نباتات - حيوانات - شمس - اسماك - رياح - غاز طبيعي - نפט)

<u>مجموعة الموارد غير حية</u>	<u>مجموعة الموارد الحية</u>
ماء رياح غاز طبيعي نفط شمس	نباتات حيوانات اسماك

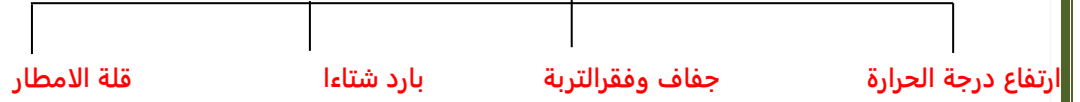
٤- ما أهمية الموارد الطبيعية ؟

- لازمة لاستمرار حياة الانسان .

(الموارد الطبيعية في بلاد الكويت)

١- الاقليم المناخي الذي تقع ضمنه دولة الكويت هو (الاقليم الصحراوي)

٢- مميزات الاقليم الصحراوي

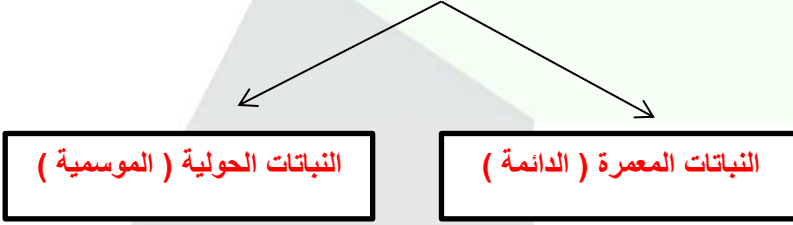


٢- النبات الطبيعي : هو النبات الذي ينمو دون تدخل الانسان .

- علل :سود النبات الصحراوي في دولة الكويت ؟

- ١- بسبب شدة الحرارة
- ٢- بسبب قلة الامطار
- ٣- بسبب فقر التربة

تنقسم النباتات الطبيعية الى :



<u>النباتات الحولية (الموسمية)</u>	<u>النباتات المعمرة (دائمة)</u>
هي حشائش تنبت بعد سقوط المطر و تموت بسرعة .	هي نباتات تنمو طول العام جذورها عميقة تساعد على الاستفادة من الماء .
مثل : الربلة - الخزامى .	مثل : الرمث - العرفج

٤- ما أهمية النباتات الطبيعية ؟

- ١- رعي الحيوانات
- ٢- الحصول على الاخشاب و الوقود
- ٣- صناعة الادوية و الصابون .

٥- ماهي المشكلات التي تواجه النبات الطبيعي ؟

- ١- تلوث التربة .
- ٢- الرعي الجائر
- ٣- قطع الاشجار
- ٤- التوسع في بناء المدن و المصانع .

ما فائدة الاشجار في البيئة ؟

- ١- منظر جمالي
- ٢- تقليل التلوث
- ٣- تقليل الحرارة
- ٤- تثبت التربة
- ٥- تقلل من الغبار

المحمية الطبيعية : هي اماكن تخصصها الدولة لحماية الحيوانات و النباتات المهددة بالانقراض

الهيئة المسؤولة عن البيئة و حمايتها التي تعطي المخالفات لمن يضر البيئة هي (الهيئة العامة للبيئة)

ماهي جهود الكويت في المحافظة على النبات الطبيعي ؟

- انشاء محميات طبيعية مثل محمية صباح الاحمد الطبيعية .
- سن القوانين لمنع قطع النباتات الطبيعية .
- تحديد مواسم التخميم .

(الثروة الحيوانية في بلادى الكويت)

١- كيف تتكيف الحيوانات مع ظروف البيئة القاسية ؟

- مقاومة الجفاف
- تخزين الماء
- تلون غطاء اجسامها مع المكان .

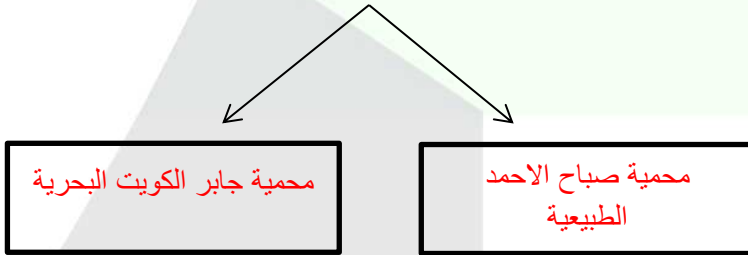
٢- علل : ازدياد أعداد الحيوانات المهددة بالانقراض ؟

- بسبب الصيد و الاتجار الغير قانوني .و تلوث البيئة .

٣- اذكري جهود دولة الكويت في المحافظة على حيوانات في الحياة الفطرية ؟

- حظر صيد الحيوانات في مواسم تكاثرها .
- انشاء محميات طبيعية لحماية الحيوانات من الانقراض .

اذكري امثلة لأسماء محميات الطبيعية في دولة الكويت



علل : اقامة المحميات الطبيعية في دولة الكويت ؟

- لحماية الحيوانات من الانقراض .

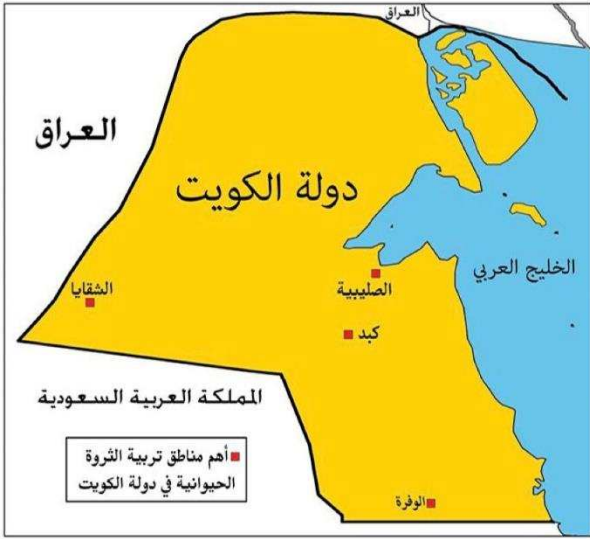
(حيوانات الرعي و الدواجن)

١- كيف شجعت الكويت على الاهتمام بحيوانات الرعي و الدواجن ؟

- توفير المزارع الخاصة
- الرعاية البيطرية
- الدعم المادي
- الاعلاف بأسعار رمزية

٢- ماهي أهم المناطق تربية حيوانات الرعي و الدواجن في الكويت ؟

- صليبية - الشقاي - الوفرة - كبد



تابع الوحدة الثانية

إعداد المعلمة

مريم العازمي



١- علل الاعتماد على السمك كغذاء رئيسي في دولة الكويت
-بسبب فقر البيئة الصحراوية
-موقعها يطل على ساحل الخليج العربي

٢- ماهي أدوات صيد الأسماك قديما في دولة الكويت ؟

-الحضرة. -القرقور -الشباك

٣- عددي بعض من أشهر انواع الأسماك في بلادي ؟

-الزبيدي. -الهامور. -الميد
-الشعم. -الربيان

٤- اذكري المشكلات التي تعرضت لها الثروة السمكية في بلادي الكويت ؟

-رمي النفايات في البحر. -تسريب النفط. -مخلفات المصانع.

٥- عدد انواع الأسماك التي تم استزراعها في دولة الكويت

-الشعم. -الهامور

٦- ماهي جهود دولة الكويت في المحافظة على الثروة السمكية ؟

-تحديد مواسم صيد الاسماك -الاهتمام باستزراع الاسماك
-سن القوانين -منع الدولة لبعض أدوات الصيد

٧- ما المقصود بإستزراع الاسماك ؟

-تربية الاسماك بأنواعها المختلفة تحت ظروف محكمة وتحت سيطرة الانسان

٨- ما المقصود بالنفط ؟

-سائل اسود كثيف قابل للاشتعال يتواجد في باطن الارض تكون نتيجة تحلل الكائنات.
الحية بسبب الضغط والحرارة

٩- علل سبب تسمية النفط بالذهب الأسود ؟

-لاهميته وقيمه الكبيرة

١٠- اذكري استخدامات النفط ؟

-الإضاءة والتدفئة. -تشغيل المصانع وتحريك وسائل النقل

-الصناعات الكيماوية

١١- عددي منتجات النفط ؟

-بلاستيك. -مطاط. -الأدوية
-مبيدات حشرية.

١٢- ما هو اكبر حقل نفطي بالكويت ؟

-حقل برقان

١٣- ما المقصود بإنتاج النفط ؟

-كمية النفط المستخرجة من باطن الارض عن طريق حفر الآبار

- ١٤- ما المقصود بتصدير النفط ؟
-نقل النفط الخام من الدولة المنتجة الى الدول المستوردة
١٥. - ما المقصود باحتياطي النفط؟
-كمية النفط المخزونة في باطن الارض
١٦. - تم اكتشاف حقل برقان في عهد الشيخ احمد الجابر الصباح عام ؟
١٩٣٨م
١٧. - متى تم تصدير اول شحنة نفط في دولة الكويت ؟ وفي أي عهد ؟
-١٩٤٦م. في عهد الشيخ احمد الجابر الصباح
١٨. - متى تم حرق آبار النفط الكويتية ؟ وعلى يد من ؟
-١٩٩١م على يد القوات العراقية
١٩. - اكتشف النفط في بلادي الكويت في عهد الشيخ ؟
-الشيخ احمد الجابر الصباح
٢٠. - تم تصدير اول شحنة من النفط الكويتي عام ١٩٤٦ م من ميناء ؟
-ميناء الاحمدي
٢١. - في أي عام تم اكتشاف النفط الخفيف بالدولة الكويت؟ وفي اي عهد حاكم ؟
-٢٠٠٥م عهد الشيخ صباح الاحمد
- ٢٢ - في أي سنة تم تصدير اول شحنة من النفط الخفيف العالي الجودة بدولة الكويت ؟
-٢٠١٨م
- ٢٣ - ماهي النتائج المترتبة على الممارسات السلبية للإنسان ضد البيئة الطبيعية ؟
- الأمراض. - الأوبئة
- ٢٤ - ما المقصود بالبيئة ؟
-هي المكان الذي نعيش فيه ونمارس نشاطاتنا المختلفة
- ٢٥ - ما المقصود بالعمل التطوعي ؟
-التطوع في اعمال كثيرة تساهم في المحافظة على البيئه من خلال الانضمام الى جمعيات ومراكز تهتم بالبيئة
- ٢٦- كيف يمكن المحافظة على الموارد الطبيعية ؟
- العمل التطوعي - التدوير - ترشيد الاستهلاك
- ٢٧ - جهود دولة الكويت في المحافظة على الثروة النفطية:
من خلال أنشاء مشاريع جديدة تساهم في الحفاظ على النفط والبيئة مثل
- مشروع الوقود البيئي
- مشروع الطاقة البديلة



نسبة احتياطي النفط الكويتي بالنسبة للاحتياطي

العالمي ١٠٪

يشكل النفط ومنتجاته البتروكيمياوية والأسمدة ٩٤٪

من مجموع قيمة الصادرات الكويتية.

اكتب دلالات الشعارات التالية في الأشكال التي تليها.



.....

.....

.....

.....

.....

.....

.....

.....

.....

.....

.....

.....

.....

.....

.....

.....

.....

.....

.....

.....



الوحدة الثالثة

إعداد المعلمة

عهد الرشيدى



(مفهوم الطاقة البديله والنظيفة)

١- الطاقة هي: القدرة على القيام بعمل معين .

١. ماهي انواع الطاقة ؟
(طاقة متجددة / طاقة غير متجددة)

٢-علي: تسمية الطاقة المتجددة بالطاقة النظيفة ؟
لأنها غير ملوثة للبيئة .

٤. فرقي بين كل من الطاقة المتجددة والطاقة الغير متجددة:


الطاقة الغير متجددة	الطاقة المتجددة
هي التي تنتهي ولا يمكن تعويضها في زمن قصير	هي التي لاتنتهي ولا تنفذ وتسمى بالطاقة النظيفة
مصادرها: الفحم / النفط / الغاز الطبيعي	مصادرها: الرياح / المياه / الشمس
مميزاتها: متوفرة حالياً بكميات كبيرة / تنتج طاقة حرارية كبيرة جداً	مميزاتها: غير ملوثة للبيئة / دائمة / اقتصادية / بديلة عن الطاقة الغير متجددة



(نماذج من الطاقة في بلادي الكويت - الطاقة المتجددة الرياح / الطاقة الهوائية)

- ١- دواره الرياح هي : اداة تحول حركة الرياح الى طاقة .
- ٢-الرياح من : من اقدم مصادر الطاقة التي عرفها الانسان .
- ٣- ماهي مميزات طاقة الرياح ؟
نظيفة / غير ملوثة للبيئة / دائمة التجدد
- ٤- محطة كويتية لتوليد الكهرباء باستخدام طاقة الرياح هي : محطة الشقاييا .
- ٥- فرقي بين استخدام الكويتيون للرياح قديماً وحديثاً :

حديثاً	قديماً
١- توليد الكهرباء	١- تسيير السفن الشراعية .
٢- تسخين الماء	٢- تجفيف الحبوب .



(الطاقة الغير متجددة - الغاز الطبيعي)



١- العام الذي اكتشف فيه الغاز الحر في دولة الكويت :
(٢٠٠٦ م - في حقول : الصابرية / ام النقا)

٢- اذكر مميزات الغاز الطبيعي ؟

ليس له
لون ولا
رائحة

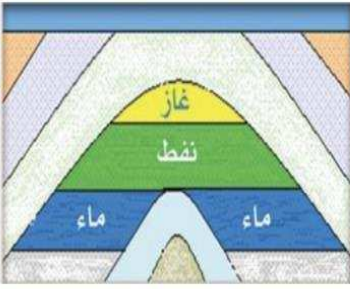
امن جداً
وصديق
للبيئة

غير سام

اكثر انواع
الطاقة
استخداماً

٣- ماهي استخدامات الغاز الطبيعي ؟

طبخ / تدفئة / تعبئة الثلجات / تحلية مياه البحر .



٤. الغاز الذي يوجد في بئر منفصل عن النفط يسمى :
الغاز الحر



(استثمار الطاقة البديلة والنظيفة في دولة الكويت)

- ١- ما الهدف من اقامة مشروع محطة الشقاي ؟
 - استغلال طاقة الشمس و الرياح في توليد الكهرباء .
- ٢- ماهي مميزات منطقة الشقاي ؟
 - شدة الحرارة / سطوع الشمس / استمرار حركة الرياح طوال العام / اتساع الاراضي المفتوحة / سهولة التضاريس .
- ٣- عددي محطات منطقة الشقاي ؟
 - الشقاي للطاقة الشمسية الحرارية .
 - الشقاي للطاقة الكهروضوئية .
 - الشقاي لطاقة الرياح .
٤. كم نسبة طلب الكويت من الكهرباء خلال الطاقة المتجددة ؟
 - (١٥ %) .
- ٥- ماهي نماذج استخدام الطاقة البديلة في الكويت ؟
 - المساجد مثل مسجد فاطمة العوضي .
 - الجمعيات التعاونية مثل جمعية العديلية وجمعية الزهراء .
 - مطار الكويت الدولي الجديد .
 - مركز الشيخ عبدالله السالم الثقافي.

