



ملخص الدروس الخاصة في الاختبار

## ( الفصل الدراسي الأول )

“ قل لي، وأنا سأنسى...  
بين لي، وأنا سأتذكر...  
أشركني وأنا سأفهم...”



الاستاذة : كويتية الدغيم  
للصف الخامس





# عنوان الدرس : الموقع الفلكي



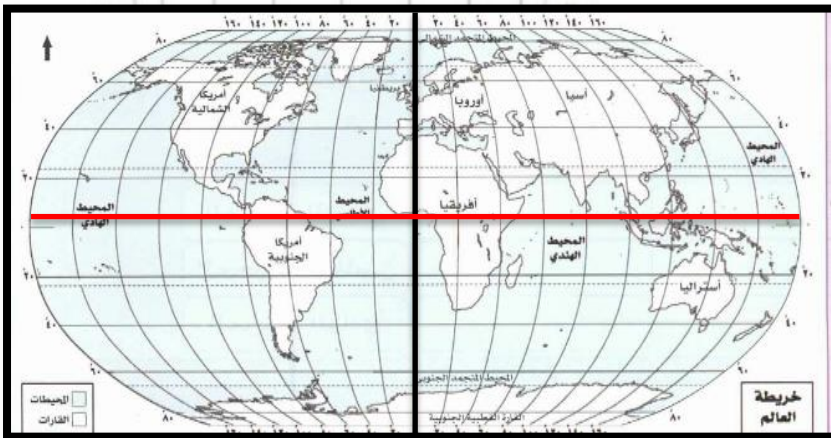
١- اعلل اهمية خطوط الطول ودوائر العرض ؟

- ١- تساعد في تحديد مواقع الدول على الخريطة .....
- ٢- تحديد التوقيت الزمني .....
- ٣- تقوم دوائر العرض بتحديد المناخ .....

٢- فرق بين دوائر العرض وخطوط الطول في الجدول التالي :

الموقع	دوائر العرض	خطوط الطول
العدد	١٨٠ ( ٩٠ شمالا ، ٩٠ جنوبا )	٣٦٠ ( ١٨٠ شرقا ، ١٨٠ غربا )
الرقم	صفر ويسمى ( خط الاستواء )	صفر ويسمى ( خط جرينتش )
التقسيم	يقسم الكرة الأرضية شمالا وجنوبا .	يقسم الكرة الأرضية شرقا وغربا
الأهمية	تعدد المناخ	تعدد موقع الدولة - تعدد الوقت

٣- **الموقع الفلكي** هو : موقع القارة او الدولة بالنسبة لخطوط الطول ودوائر العرض .



٤- ارسم خط الاستواء ( — )

وخط جرينتش . ( — )

# عنوان الدرس : تضاريس بلادي

١- عرف :

- أ- **الكثبان الرملية** : هي تلال من الرمال تتراكم في الصحاري بفعل الرياح  
ب- **السيخات** : هي اراض منخفضة قليلة المياه تنمو فيها النباتات الملحية .

٢- اكمل :

- أ- يتوسط ساحل دولة الكويت خليج صغير يسمى ... **جون الكويت** ... ينحدر في شمال رأس ... **الصبية** .. وينتهي جنوباً برأس .. **الأرض** ..  
ب- اكبر الجزر الكويتية جزيرة ... **بوبيان** ...  
ت- تفصل جزيرة بوبيان قناة ضيقة هي خور .. **الصبية** .. وخور .. **عبدالله** ...

- ارض الكويت تعتبر صحراء منبسطة تنحدر تدريجياً من الغرب الى الشرق حيث تقع سواحلها على الخليج العربي .

- تتميز دولة الكويت بوجود العديد من التضاريس المختلفة مثل :

المقارنة	تلال	المنخفضات	اودية	كثبان رملية	سيخات
تقع في	-جال الزور -اللياح -كراع المرو -تلال وارة -و برقان الاقل ارتفاعا	الروضتين ام العيش ام الرمم	وادي الباطن	ام النقا الهويميلية	خيران جال الزور
يمثلها الشكل					

العودة للكتاب المدرسي لمراجعة الخريطة ومواقع التضاريس عليها ( **مهمة** )

# عناصر المناخ

١- عدد عناصر المناخ؟

أ- الرياح ب- الامطار ج- الرطوبة د- الحرارة ه- الضغط الجوي م- الرطوبة

٢- ما هي فائدة الارصاد الجوية :

أ- لمعرفة حالة الطقس ب- لاخت الحيطه والحذر

٣- لماذا وضعت جهاز الصواعق اعلى المباني ؟

.... حتى لا يتعرض الأشخاص الذين بالقرب منه للصاعقة ....

... لامتناس الصواعق .....

٤- فرق بين الطقس والمناخ من حيث التعريف:

المناخ	الطقس	المقارنة
هو حالة الجو في فترة زمنية طويلة مدتها ٣٠ عام وثابته .	هو حالة الجو في فترة زمنية قصيرة اكثرها ٣ ايام الى اسبوع ومتغير .	التعريف

اكمل ما يلي :

١- يبدأ سقوط الامطار في شهر .. **اكتوبر** ...

٢- تعرف الامطار الرعدية التي تسقط في ابريل ومارس ومايو بأسم ... **السرايات** ....



الأمطار الرعدية، (السرايات)



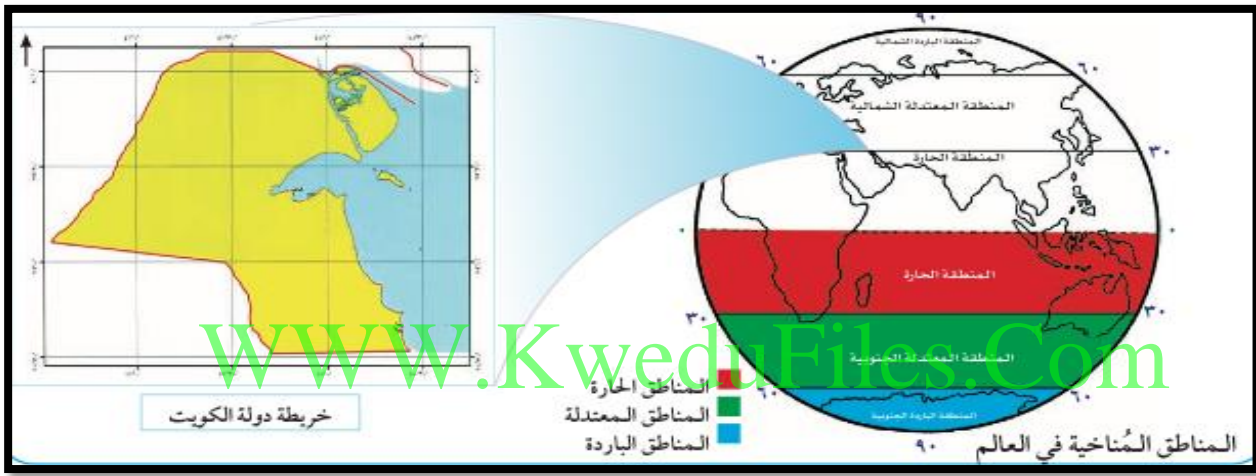
## العوامل المؤثرة في مناخ بلادي



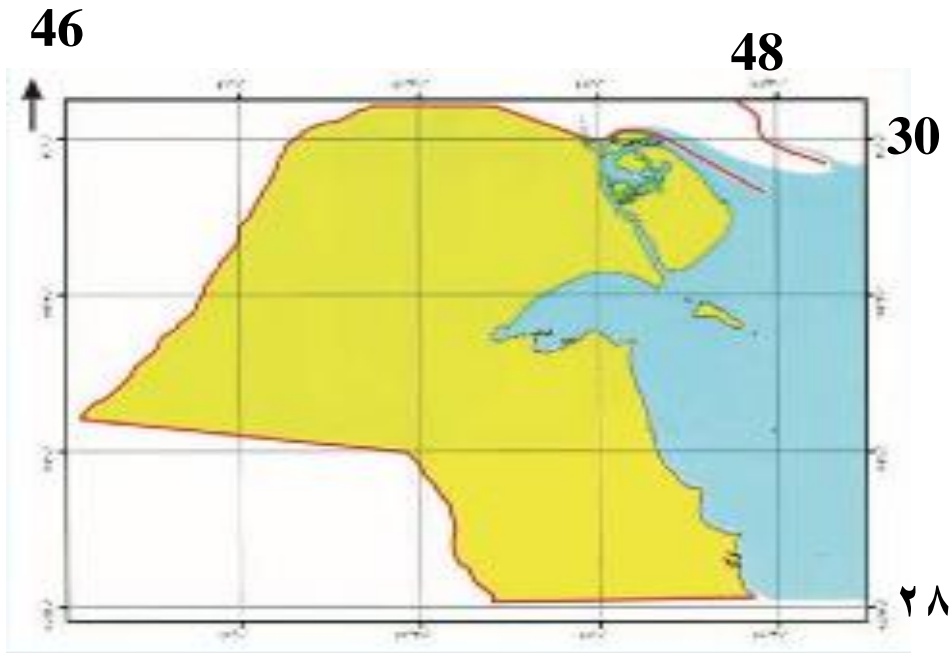
لماذا يختلف المناخ بين مناطق العالم؟

- ١- الموقع بالنسبة لدوائر العرض .
- ٢- توزيع اليابس والماء
- ٣- الارتفاع عن مستوى سطح البحر .

حدد موقع دولة الكويت على خريطة المناطق المناخية في العالم؟



حدد خطوط طول ودوائر العرض على خريطة دولة الكويت .:



# النبات الطبيعي في بلادنا



١- علل :

- اثر الظروف المناخية القاسية في شكل الغطاء النباتي لدولة الكويت ؟

١- التفاوت في رجة الحرارة ٢- ارتفاع نسبة سطوع الشمس

٣- العواصف الترابية ٤- ارتفاع نسبة التبخر ٥- قلة الامطار

- تختلف أنواع النباتات في دولة الكويت ؟

١- اختلاف طبيعة التربة ٢- البعد عن البحر

٢- فرق بين :

١- النباتات الحولية او الموسمية وبين النباتات الدائمة او المعمرة من حيث :

المقارنة	النبات الحولي او الموسمي	النبات الدائم او المعمر
التعريف	نباتات تتكاثر بعد سقوط الامطار وتكمل دورة حياتها في فترة زمنية قصيرة	نباتات ذات جذور عميقة تمتاز بصفات التي تجعلها تستفيد من المياه القليله وتزدهر في فصل الربيع .
مثال	كحيل	العرفج

اكمل :

١- عدم وجود تضاريس مختلفة كالمرتفعات والوديان في الكويت جعل الغطاء النباتي ... ضعيفا .....

٢- يتم استخراج الفقع عن طريق ... الحفر ...

٣- يخرج الفقع في موسم .. الموسم .....

# حيوانات في بلادي



١/ عدد بعض أنواع المجموعات الحيوانية الموجودة في الكويت :

- ١- الثدييات      ٢- زواحف والقوارض      ٣- الطيور  
٤- الاحياء البحرية      ٥- الحشرات .

١٢ اكمل العبارات التالية :

- (١) الحيوان الذي يطلق عليه سفينة الصحراء ... **الابل** | **الجمل** .....
- (٢) اكثر الطيور انتشارا هو ... **الخضيري** | **العوسق** ....
- (٣) السلحفاة في اللهجة المحلية لها اسم وهو ... **الحمسة** .....
- (٤) يسمى سرطان البحر في الاسم المحلي له بـ ... **القبب** .....
- (٥) الاقراط في الرعي يسمى .. **الرعي الجائر** ....
- (٦) امتداد تأثير الصحراء على المناطق الرعوية والزراعية ... **التصحّر** ..
- (٧) اكثر الحيوانات استجابة للظروف المناخية المحلية .. **الأغنام** .. و .. **الماعز** .. و .. **الابل** ..

١٣ عدد بعض أنواع الحيوانات لكل مجموعة في الجدول التالي :

الثدييات	الزواحف والقوارض	الحشرات	الطيور	الاحياء البحرية
الابل الخروف	الثعبان الجربوع - العقرب	الفراشة - العنكبوت جراد	الخضيري العوسق	السلحفاة الزبيدي - سرطان البحر

١٤

عدد

دور

الدولة في الحفاظ على البيئة الحيوية في الكويت :

- ١- انشاء محميات طبيعية      ٢- تحديد اوقات للرعي      ٣- عمل عقوبات للرعي الجائر

علل : اختفاء الكامل للنباتات الطبيعية في بعض مناطق الكويت :

بسبب الرعي الجائر

- أهمية النباتات الطبيعية للحيوانات ؟

- لانها تعتبر مصدر غذائي للحيوانات البرية والطيور

- حدد المناطق الزراعية على خريطة الكويت ( ارجع للكتاب المدرسي )



## حاكم من بلادي الشيخ احمد الجابر الصباح الحاكم العاشر



- عدد بعض الاحداث في عهد الشيخ احمد الجابر الصباح :

- ١- قيام مجلس الشورى عام ١٩٢١
- ٢- افتتاح المدرسة الاحمدية عام ١٩٢١
- ٣- منح امتياز التنقيب عن النفط ١٩٣٤
- ٤- اكتشاف اول بئر نفطي في بحرة ١٩٣٦ وأول بئر منتجة في برقان ١٩٣٨
- ٥- تصدير اول شحنة نفط ١٩٤٦
- ٦- جعل الكويت دولة بدلا من امانة .

WWW.KweduFiles.Com

- عرف :

امتياز التنقيب : إعطاء الدولة حق البحث والتنقيب عن النفط وبيعه لشركة اجنبية متخصصة تشارك الدولة في قسط العائدات المالية لمدة معينة .

### اتفاقية امتياز تنقيب النفط

الأطراف : الشيخ احمد الجابر X شركة النفط الكويتية المحدودة تابعة لبريطانيا

العام : ١٩٣٤

( تولى الشيخ احمد الجابر الحكم بعد وفاة عمه الشيخ سالم بن مبارك الصباح )





## بصمة حاكم في تاريخ الكويت الشيخ عبدالله السالم الصباح الحاكم الحادي عشر



١/ فرق بين انجازات الشيخ عبدالله السالم الداخلية والخارجية :

الإنجازات الخارجية	الإنجازات الداخلية
١- إلغاء معاهدة الحماية واستبدالها بمعاهدة صداقة عام ١٩٦١ مع بريطانيا . ٢- الانضمام للجامعة العربية ١٩٦١ ٣- الانضمام لهيئة الأمم المتحدة ١٩٦٣	١- رفع علم جديد  ٢- صدور عملة جديدة وهي الدينار الكويتي  ٣- انشاء المجلس التأسيسي ١٩٦٢ لاعداد الدستور والتصديق عليه ٤- اول انتخابات نيابية وافتتاح مجلس الامة ١٩٦٣

اكمل :

- ١- استقلت دولة الكويت ... ١٩٦١ | ٦ | ١٩ ...
- ٢- مسؤولية الدولة بصورة مباشرة عن إدارة شؤونها الداخلية والخارجية هي .. الاستقلال .
- ٣- تحتفل الكويت في ٢٥ فبراير بسبب ... تاريخ جلوس الشيخ عبدالله السالم ...
- ٤- لقب الشيخ عبدالله السالم بـ ... أبو الاستقلال | أبو الدستور ....
- ٥- عرف العهد في حكم الشيخ عبدالله السالم بـ .. العصر الذهبي ...
- ٦- وثيقة مكتوبة تتكون من مجموعة مواد تنظم العلاقة بين الحاكم والمحكوم وتحدد الحقوق والواجبات المواطنين نحو وطنهم تسمى .... الدستور ....

( تولى الحكم بعد وفاة ابن عمه الشيخ احمد الجابر الصباح )