

تم تحميل هذا الملف من موقع ملفات الكويت التعليمية



[com.kwedufiles.www//:https](https://www.kwedufiles.com)

\*للحصول على أوراق عمل لجميع الصفوف وجميع المواد اضغط هنا

\* للحصول على أوراق عمل لجميع مواد الصف الخامس اضغط هنا

<https://kwedufiles.com/5>

\* للحصول على جميع أوراق الصف الخامس في مادة تربية اسلامية ولجميع الفصول, اضغط هنا

<https://kwedufiles.com/5islamic>

\* للحصول على أوراق عمل لجميع مواد الصف الخامس في مادة تربية اسلامية الخاصة بـ الفصل الأول اضغط هنا

<https://www.kwedufiles.com/5islamic1>

\* لتحميل كتب جميع المواد في جميع الفصول للـ الصف الخامس اضغط هنا

<https://www.kwedufiles.com/grade5>

\* لتحميل جميع ملفات المدرس مدرسة الرفعة النموذجية اضغط هنا

[bot\\_kwlinks/me.t//:https](https://t.me/bot_kwlinks)

للحصول على جميع روابط الصفوف على تلغرام وفيسبوك من قنوات وصفحات: اضغط هنا

الروابط التالية هي روابط الصف الخامس على مواقع التواصل الاجتماعي

مجموعة الفيسبوك

صفحة الفيسبوك

مجموعة التلغرام

بوت التلغرام

قناة التلغرام

رياضيات على التلغرام



وزارة التربية  
الإدارة العامة للتعليم الخاص  
مؤسسة الجهرء الأهلية التعليمية  
مدرسة الرفعة النموذجية (ب) بنون

قسم الاجتماعيات

مراجعة الصف الخامس

اجتماعيات

الفترة الأولى

٢٠١٩ - ٢٠٢٠ م

المراجعة لا تغني  
عن الكتاب المدرسي

### السؤال الأول : أكمل الفراغات التالية بما يناسبها مما درست :

- ١- تبلغ نسبة اليابس على سطح الكرة الأرضية ٣٠٪.
- ٢- أكبر قارات العالم مساحة وأكثرها سكاناً هي قارة آسيا.
- ٣- تبلغ نسبة الماء على سطح الكرة الأرضية ٧٠٪.
- ٤- القارة التي تقع فيها دولة الكويت اسمها آسيا.
- ٥- أصغر قارات العالم مساحة هي قارة استراليا.
- ٦- القارة الغير مأهولة بالسكان هي القارة القطبية الجنوبية.
- ٧- تطل دول الخليج العربي على مسطح مائي اسمه الخليج العربي.
- ٨- يبلغ عدد دول الخليج العربية ٦ دول.
- ٩- تقع دول الخليج العربية على الجانب الغربي للخليج العربي.
- ١٠- تقع دولة الكويت بالنسبة لشبه الجزيرة العربية في جهة الشمال الشرقي.
- ١١- المضيق الذي يفصل بين الخليج العربي وخليج عمان يسمى مضيق هرمز.
- ١٢- يمتد الوطن العربي في قارتين هما قارة آسيا وقارة أفريقيا.
- ١٣- تقع دولة الكويت بالنسبة للوطن العربي في جهة الشرق.
- ١٤- يبلغ عدد دول الوطن العربي ٢٢ دولة.
- ١٥- عدد القارات التي يمتد فيها العالم الإسلامي ٤ قارات .
- ١٦- تقع دولة الكويت بالنسبة للعالم الإسلامي في الوسط.
- ١٧- عدد البحار التي يطل عليها العالم الإسلامي ١٨ بحراً .
- ١٨- عدد المحيطات التي يشرف عليها العالم الإسلامي ٣ محيطات .
- ١٩- القارة التي يوجد بها دولة اسلامية واحدة اسمها قارة أمريكا الجنوبية.
- ٢٠- يبلغ عدد الدول الإسلامية في قارة آسيا ٢٧ دولة.
- ٢١- الموارد الطبيعية نوعان هما موارد حية . و موارد غير حية.
- ٢٢- الإقليم المناخي الذي تقع ضمنه دولة الكويت اسمه الصحراوي .
- ٢٣- معظم النباتات الطبيعية في دولة الكويت تنمو في فصل الربيع .
- ٢٤- النباتات الطبيعية السائدة في دولة الكويت من النوع الصحراوي .
- ٢٥- من أمثلة المحميات الطبيعية في دولة الكويت محمية صباح الأحمد ومحمية جابر الكويت البحرية

٢٦- الهيئة المشرفة على استزراع الأسماك في دولة الكويت اسمها الهيئة العامة لشؤون الزراعة

### والثروة السمكية

٢٧- أكبر الحقول النفطية في دولة الكويت حقل برقان

٢٨- العام الميلادي الذي تم فيه حفر بئر بحرة هو ١٩٣٦م

٢٩- الحاكم الكويتي الذي اكتشف في عهده حقل برقان هو الشيخ أحمد الجابر الصباح.

٣٠- تم تصدير أول شحنة من النفط الكويتي عام ١٩٤٦م في عهد الشيخ أحمد الجابر.

٣١- العام الميلادي الذي اكتشف فيه حقل البرقان هو ١٩٣٨م.

٣٢- أحرقت آبار النفط الكويتية على يد القوات العراقية

٣٣- العام الميلادي الذي أحرقت فيه القوات العراقية آبار النفط الكويتية هو ١٩٩١م.

٣٤- الميناء الذي تم من خلاله تصدير أول شحنة نفط كويتي اسمه ميناء الأحمدى

٣٥- تم تصدير أول شحنة من النفط الخفيف عالي الجودة عام ٢٠١٨م.

٣٦- الحقل الذي اكتشف فيه النفط الخفيف عالي الجودة هو حقل الصابرية عام ٢٠٠٥م.

٣٧- أقدم مصادر الطاقة التي عرفها الإنسان هي طاقة الرياح.

٣٨- المحطة الكويتية لتوليد الكهرباء باستخدام طاقة الرياح اسمها الشقاييا.

٣٩- الغاز الذي يوجد في بئر منفصل عن النفط يسمى الغاز الحر.

٤٠- العام الميلادي الذي اكتشف فيه الغاز الحر في دولة الكويت هو ٢٠٠٦م.

٤١- الطاقة التي تنتهي ولا يمكن تعويضها في زمن قصير تسمى الطاقة غير المتجددة.

٤٢- تبلغ نسبة طلب الكويت من الكهرباء من خلال الطاقة المتجددة ٢٥٪.

### السؤال الثاني ما يلي حسب الجدول الى يلها.

أ- نباتات - أسماك - شمس - ماء - غاز طبيعي - نفط - رياح - حيوانات

موارد غير حية	موارد حية
- <u>شمس</u>	- <u>نباتات</u>
- <u>ماء</u>	- <u>أسماك</u>
- <u>غاز طبيعي</u> - <u>نفط</u>	- <u>حيوانات</u>

ب- جربوع - خروف - ثعبان - ثعلب - ماعز - ضب - دجاج - بقرة

حيوانات الحياة الفطرية	حيوانات الرعي والدواجن
- <u>جربوع</u>	- <u>خروف</u>
- <u>ثعبان</u>	- <u>ماعز</u>
- <u>ثعلب</u>	- <u>بقرة</u>
- <u>ضب</u>	- <u>دجاج</u>

ج- الكويت - الإمارات - السعودية - البحرين - عمان - قطر

الدول العربية التي تطل على مسطح مائي واحد	الدول العربية الخليجية التي تطل على مسطح مائي
- <u>الكويت</u>	- <u>السعودية</u>
- <u>البحرين</u>	- <u>الإمارات</u>
- <u>قطر</u>	- <u>عمان</u>

د- الرياح - النفط - الشمس - المياه - الفحم - الغاز الطبيعي

مصادر الطاقة المتجددة (النظيفة)	مصادر الطاقة غير المتجددة
- <u>الرياح</u>	- <u>الفحم</u>
- <u>المياه</u>	- <u>النفط</u>
- <u>الشمس</u>	- <u>الغاز الطبيعي</u>

السؤال الثالث : قارن بين كل مما يلي:

أوجه المقارنة	الطاقة المتجددة (النظيفة)	الطاقة غير المتجددة
التعريف	هي التي لا تنتهي ولا تنفذ	هي التي تنتهي ولا يمكن تعويضها
مصدرها	الرياح - المياه - الشمس	الفحم - النفط - الغاز الطبيعي
مميزاتها	غير ملوثة للبيئة - دائمة - اقتصادية	متوفرة بكميات كبيرة - تنتج طاقة كبيرة

أوجه المقارنة	النباتات المعمرة ( الدائمة )	النباتات الحولية ( الموسمية )
التعريف	نباتات تنمو طول العام	حشائش تنبت بعد سقوط الأمطار
فترة نمو النبات	طول العام	بعد سقوط الأمطار
أمثلة	العرفج - الرمث	الربلة - الخزامى

### السؤال الرابع: أكتب فيما يلي:

١- القارات التي يتكون منها العالم.

- آسيا - أفريقيا - أوروبا - أمريكا الشمالية - أمريكا الجنوبية - أستراليا - القارة القطبية الجنوبية

٢- السمات المشتركة التي تجمع بين دول الوطن العربي.

- الدين - اللغة العربية - التراث - التاريخ - الأهداف المشتركة

٣- مميزات العالم الإسلامي.

- عدد المسلمين ربع سكان العالم

- كثرة الموارد الطبيعية

٤- جهود دولة الكويت في المحافظة على النبات الطبيعي.

- إنشاء المحميات الطبيعية - إصدار القوانين لمنع تدمير النباتات الطبيعية

- تحديد مواسم التخيم

٥- جهود دولة الكويت في المحافظة على الحيوانات في الحياة الفطرية.

- حظر صيد الحيوانات والطيور - إنشاء محميات للحيوانات والطيور

٥- جهود دولة الكويت في الاهتمام بتربية حيوانات الرعي والدواجن.

- الرعاية البيطرية - الدعم المادي للمربين - توفير الأعلاف بأسعار رمزية - توفير المزارع

الخاصة

٦- المشكلات التي تتعرض لها الثروة السمكية .

- تلوث البحر - رمي النفايات - مخلفات المصانع

٧- جهود دولة الكويت في المحافظة على الثروة السمكية.

- تحديد مواسم الصيد - منع أدوات الصيد السلبية - الاهتمام باستزراع الأسماك - سن القوانين

٨- استخدامات النفط .

- الإضاءة والتدفئة - تشغيل المصانع وتحريك وسائل النقل - يدخل في الصناعات الكيماوية

٩- جهود الدولة في المحافظة على الثروة النفطية.

- إنشاء مشاريع تساهم في الحفاظ على النفط مثل

مشروع الوقود البيني - مشروع الطاقة البديلة

١٠- كيفية المحافظة على البيئة.

- الحفاظ على نظافة المكان - وضع النفايات في الأماكن المخصصة

- تدوير النفايات - التشجير

١١- مميزات الغاز الطبيعي.

- آمن وصديق للبيئة - غير سام - ليس له رائحة ولا لون

١٢- المنشآت التي تم استخدام الطاقة الشمسية فيها.

- مسجد فاطمة العوضى - جمعية العديلية وجمعية الزهراء التعاونية

١٣- أهمية النبات الطبيعي.

- رعي الحيوانات - الحصول على الأخشاب والوقود - صناعة الأدوية والصابون

١٤- المشكلات التي تواجه النبات الطبيعي.

- تلوث التربة - الرعي الجائر - قطع الأشجار - التوسع في بناء المدن والمصانع

١٥- مراحل تكوين النفط.

- موت الكائنات الحية - تحلل الكائنات بعد دفنها - الضغط والحرارة والزمن يشكل النفط

١٦- استخدامات الغاز الطبيعي.

- الطبخ والتدفئة - تعبئة الثلجات - تحلية مياه البحر

١٧- كيفية ترشيد استهلاك الموارد المتاحة

- إطفاء المصابيح عند مغادرة الغرفة - إغلاق صنوبر المياه أثناء تنظيف الأسنان

- التقليل من استخدام الماء

١٨- أهم خطوات التدوير.

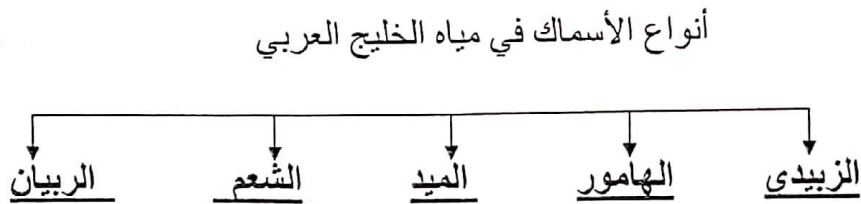
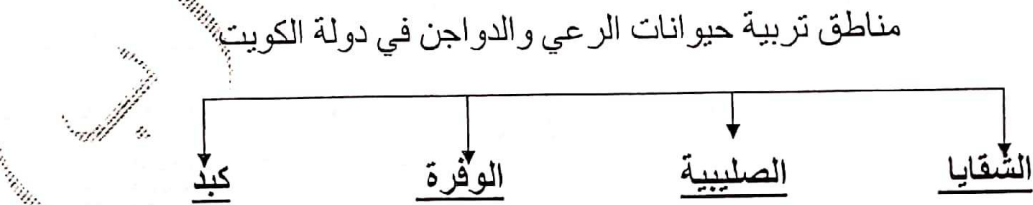
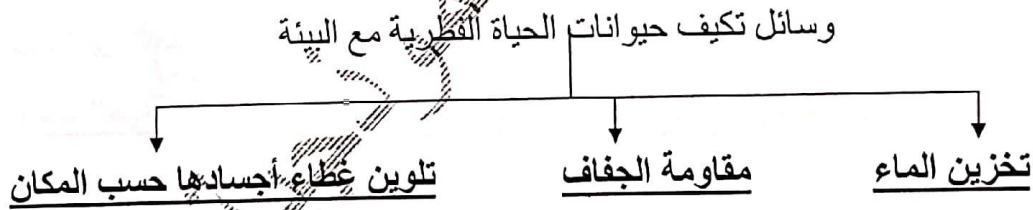
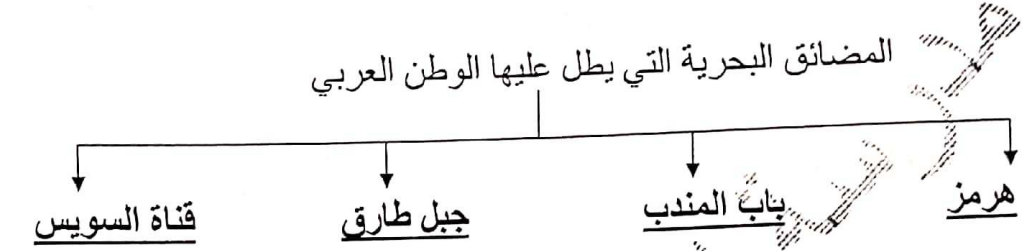
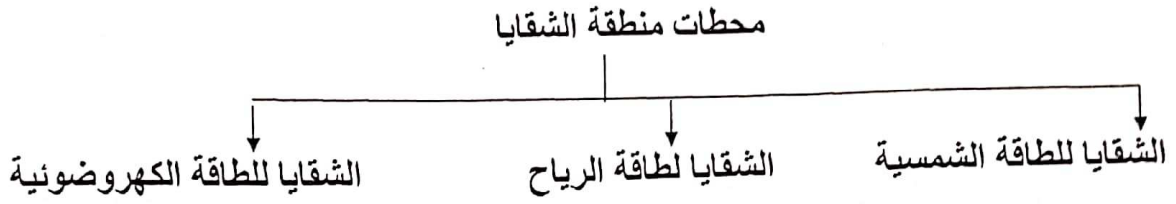
- فرز النفايات حسب أنواعها من زجاج أو بلاستيك أو ورق

١٩- كيفية المحافظة على الموارد الطبيعية.

- العمل التطوعي - التدوير

- ترشيد الاستهلاك

السؤال الخامس: أكمل المخططات السهمية التالية:





## أدوات صيد الأسماك قديماً في دولة الكويت



## مناطق استزراع الأسماك في دولة الكويت



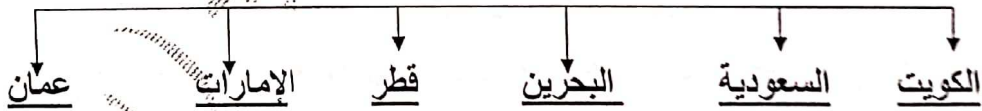
## أنواع الأسماك التي تم استزراعها في دولة الكويت



## مميزات طاقة الرياح



## دول الخليج العربية



## السؤال السادس : علل لما يلي ( اذكر السبب )

- 1- تسمية دول الخليج العربية بهذا الاسم .  
لأنه تطل على مسطح مائي هو الخليج العربي.
- 2- أهمية موقع الخليج العربي.  
يقع وسط العالم - يشرف على المسطحات المائية - له أهمية ملاحية وتجارية
- 3- يسود النبات الصحراوي دولة الكويت  
شدة الحرارة - قلة الأمطار - فقر التربة

٦. انخفاض المنتج في أعداد الحيوانات البرية الفريدة

بسبب الصيد - تلوث البيئة - الاتجار غير القانوني

٧. أهمية الإنتاج الحيواني

٨. دور كوبر في سد جزء كبير من حاجة البلاد من الغذاء

٩. الاعتماد على الأسماك كغذاء رئيسي في دولة الكويت

وظرة الأسماك - جودة أنواعه - موقع دولة الكويت على الخليج العربي

١٠. تنمية النفط والذهب الأسود

بسبب أهميته وقيمته الكبير - غالي الثمن

١١. تنمية الطاقة المتجددة بالطاقة النظيفة

١٢. غير مؤثرة للبيئة - اقتصادية

١٣. إنشاء المحميات الطبيعية في دولة الكويت

لحماية الحيوانات والنباتات المهددة بالانقراض

السؤال السابع فرق بين مفهوم كل مما يلي:

الخارج	البحر
بحر ضيق يمتد طولياً بين اليابس	مسطح مائي أصغر من المحيط

الوطن العربي	العالم الإسلامي
مجموعة الدول العربية التي تجمعها سمات مشتركة	مجموعة الدول التي يكون فيها عدد المسلمين ٥٠% فأكثر من عدد السكان

الموارد الطبيعية	النبات الطبيعي
هي كل ما أوجده الله في الطبيعة دون تدخل الإنسان	هو النبات الذي ينمو دون تدخل الإنسان

المحمية الطبيعية	استزراع الأسماك
<u>أماكن تخصصها الدولة لحماية الحيوانات والنباتات المهددة بالانقراض</u>	<u>تربية الأسماك تحت سيطرة الإنسان</u>
الغاز الحر	الغاز الطبيعي
<u>يوجد الغاز الحر في بئر منفصلة</u>	<u>يوجد مع النفط في بئر واحد</u>

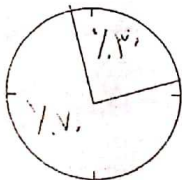
استخدامات طاقة الرياح حديثاً	استخدامات طاقة الرياح قديماً
- توليد الكهرباء - تسخين المياه	- تسيير السفن الشراعية - تجفيف الحبوب

### السؤال السابع : عرف المفاهيم التالية:

- ١- المحيط : مسطح كبير جداً من الماء المالح.
- ٢- القارة : مساحة كبيرة من اليابسة يحيط بها الماء.
- ٣- المضيق : ممر ضيق من الماء يفصل بين مسطحين مائيين.
- ٤- القناة: ممر مائي صناعي شق للربط بين مسطحين مائيين.
- ٥- النباتات الحولية : حشائش تنبت بعد سقوط الأمطار.
- ٦- النباتات المعمرة : نباتات تنمو طول العام وجذورها عميقة.
- ٧- النفط : سائل أسود اللون كثيف قابل للاشتعال يوجد في أعماق الأرض .
- ٨- ترشيد الاستهلاك : هو استخدام الموارد المتاحة بالشكل الأمثل .
- ٩- البيئة : هي المكان الذي نعيش فيه ونمارس نشاطاتنا المختلفة.
- ١٠- الطاقة : هي القدرة على القيام بعمل معين .
- ١١- دوارة الرياح : هي أداة تحول حركة الرياح إلى طاقة.

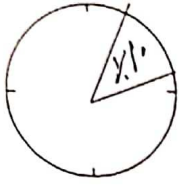
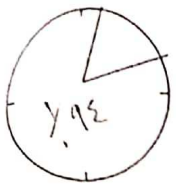
### السؤال الثامن :وزع النسب التالية في الدوائر البيانية التي تليها.

- ١- نسبة الماء على سطح الكرة الأرضية ٧٠٪ ونسبة اليابس ٣٠٪

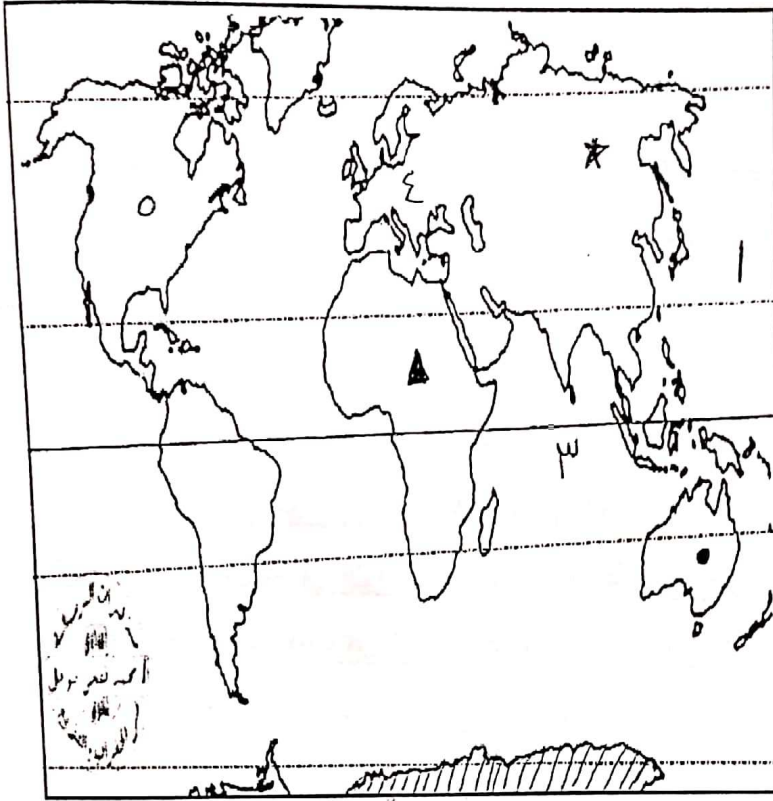


٢- نسبة النفط ومنتجاته من الصادرات الكويتية ٩٤٪

٣- نسبة احتياطي النفط الكويتي من الاحتياط العالمي ١٠٪



٤- السؤال التاسع : نفذ المطلوب منك في الخرائط التالية.



- المحيط الهندي على الخريطة يحمل

الرقم ١.....

- قارة أمريكا الشمالية على الخريطة

تحمل الرقم ٢.....

- المحيط الهادي على الخريطة يحمل

الرقم ٣.....

- قارة أوروبا على الخريطة تحمل

الرقم ٤.....

ب- ضع الرمز \* على قارة آسيا

ج- ضع الرمز ▲ على قارة أفريقيا

د- ضع الرمز ● على قارة استراليا

و- ظلل القارة القطبية الجنوبية



- منطقة الشقاييا على الخريطة تحمل الرقم ٤.....

- ميناء الأحمدى على الخريطة يحمل الرقم ١.....

- منطقة العبدلي على الخريطة تحمل الرقم ٣.....

- حقل برقان على الخريطة يحمل الرقم ٢.....

- منطقة كبد على الخريطة تحمل الرقم ٤.....

ب- ضع الرمز # على منطقة الوفرة

ج- ضع الرمز ● على حقل بحرة

د- ضع الرمز ▲ على منطقة الصليبية

و- ضع الرمز ♥ على حقل الصابرية