

تم تحميل هذا الملف من موقع المناهج السعودية



موقع المناهج السعودي

*للحصول على أوراق عمل لجميع الصفوف وجميع المواد اضغط هنا

<https://www.almanahj.com/sa>

* للحصول على أوراق عمل لجميع مواد الصف الثالث اضغط هنا

<https://almanahj.com/sa/3>

* للحصول على جميع أوراق الصف الثالث في مادة علوم ولجميع الفصول, اضغط هنا

<https://almanahj.com/sa/3science>

* للحصول على أوراق عمل لجميع مواد الصف الثالث في مادة علوم الخاصة بـ الفصل الثاني اضغط هنا

<https://www.almanahj.com/sa/3science2>

* لتحميل كتب جميع المواد في جميع الفصول للـ الصف الثالث اضغط هنا

<https://www.almanahj.com/sa/grade3>

للحصول على جميع روابط الصفوف على تلغرام وفيسبوك من قنوات وصفحات: اضغط هنا

<https://t.me/sacourse>

الثالث	الصف	علوم	المادة	الثاني	الفصل الدراسي
		١٤٤٠ هـ / /	التاريخ	الرابعة	الفترة

س١ / حدد موقع الأجسام في الصور التالية؟




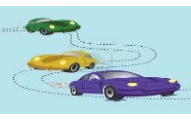



يقع الطفل الشجرة

يقع القلم الدفتر

المهارة: ٣٥
معرفة مفهوم الموقع

أ	ب	ج	د

س٢ / أكتب نوع الحركة تحت الصورة المناسبة لها فيما يلي:-

المهارة: ٣٦
تسمية أنواع الحركة من خلال قراءة مجموعة من الصور

أ	ب	ج	د

س٣ / عدد بعض القوى التي تؤثر على الأجسام؟

..... -

المهارة: ٣٧
التمثيل لأنواع القوى التي تؤثر في الأجسام

أ	ب	ج	د

س٤ / عدد بعض الطرائق للمحافظة على الأذن؟

١-

٢-

المهارة: ٣٩
بعض الطرائق للمحافظة على الأذن

أ	ب	ج	د

س٥ / ضع علامة (√) أو علامة (X) أمام العبارة التالية:

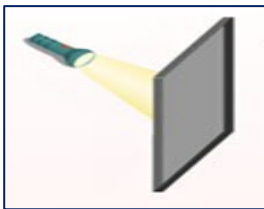

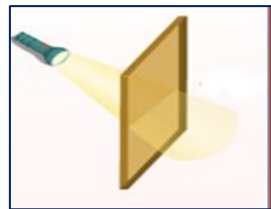
- يعتبر الضوء شكل من أشكال الطاقة ()

- ينتقل الضوء في خطوط مستقيمة ()

المهارة: ٤٠
معرفة مفهوم الضوء

أ	ب	ج	د

س٦ / صنف الأجسام التالية من حيث نفاذيتها للضوء:

.....

المهارة: ٤١
صنف الأجسام التالية من حيث نفاذيتها للضوء

أ	ب	ج	د

س٦ / صمم تجربة توضح انكسار الضوء (عملي)

س٧ / نفذ تجربة عملية لإحداث الصوت (عملي)

المهارة: ٤٢ - ٣٨
صمم تجربة توضح انكسار الضوء

أ	ب	ج	د

أ	ب	ج	د
١٠٠/٩٥	٩٥>٨٥	٨٥>٧٥	>٧٥
متفوق	متقدم	متمكن	غير مجتاز