

Teacher

الفيزياء

للفص الثاني عشر المتقدم

الوحدة 1

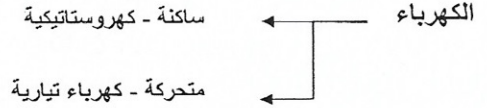
الكهرباء الساكنة

اعداد الأستاذ

وليد النبتيتي

الفصل الأول

القوى و المجالات الكهربائية



اذكر بعض الظواهر الحياتية على الكهرباء الساكنة.

1. حصول صدمة كهربائية عند: أ. لمس مقبض سيارة بعد رحلة

ب. لمس عربة التسوق

ج. السلم المتحرك

2. سماع صوت طقطة عند: أ. ليس أو نزع كنزة صوفية

ب. التمشيط بمشط بلاستيكي

ج. الأشرطة اللاصقة ← راجع مصورات الكتاب

3. الكهرباء الجوية: أ. البرق - تصدع كهربائي بين حابتي

ب. الصاعقة - تصدع كهربائي بين حابتي جسم على الأرض

4. المرذاذ الكهروستاتيكي لرش السيارات

5. المطاطجات

6. مداخل المصانع

ما هما نوعا الشحنة الكهربائية؟

حسب تسمية بنجامين فرانكلين:

1. سالبة: مثل (شحنة ساق ابونيت بعد ذلك بالصوف، شحنة الإلكترون)


2. موجبة: مثل (شحنة ساق زجاج بعد ذلك بالحريز، شحنة البروتون)

Electro Statics كهرباء ساكنة


almanahj.com موقع المناهج الإماراتية

كهرباء ساكنة

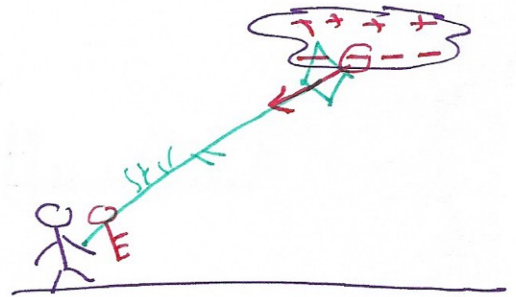
كهرباء متحركة - تيارية



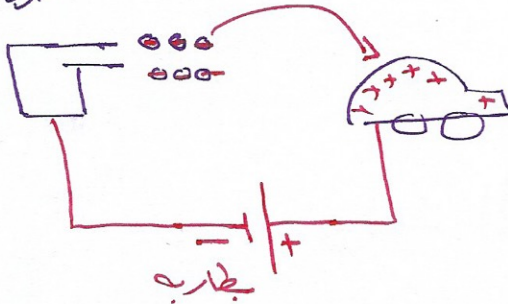
1. الكهرباء الساكنة
2. المجالات الكهربائية
3. التيار الكهربائي
4. دوائر التيار



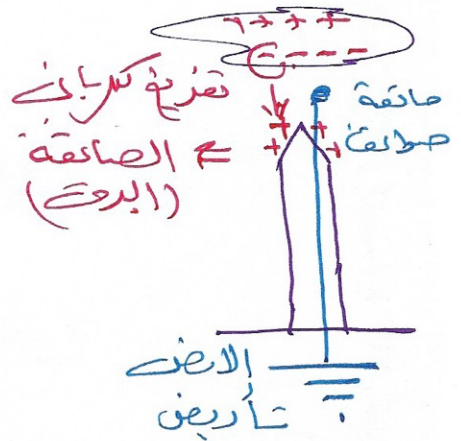
بجانب من مزاياها



صرفاً



50 M \$



ما تركيب الذرة حسب نموذج رذرفورد ؟

الذرة تتركب من :

- 1- نواة تحتوي بروتونات P موجبة , و نيوترونات n متعادلة.
- 2- مجموعة من الالكترونات e السالبة تدور حول النواة.

علل:

1- الذرة متعادلة كهربائياً.

- عدد الالكترونات يساوي عدد البروتونات
- مقدار شحنة الالكترونات السالبة يساوي مقدار شحنة البروتونات الموجبة

2- الالكترونات هي القابلة للحركة وليس البروتونات.

- الالكترونات أقل رتباطاً بالذرة من البروتونات
- كتلة الالكترونات أقل بكثير من كتلة البروتونات

$$m_e \ll m_p$$

انتبه في تفسير أي عملية شحن نعتبر الالكترونات هو القابل للحركة وليس البروتونات $m_p = 1837 m_e$

ما المقصود بكل من :

- الايون الموجب (كاتيون): ذرة فقدت االكترونات او أكثر .

- الايون السالب (انيون):

- الشحنة الكهربائية: كمية الشحنة في ذرة الالكترونات وعدد البروتونات

- الجسم المتعادل: جسم محوي بعدد الالكترونات يساوي عدد البروتونات

- الجسم السالب الشحنة:

الكاتيون / البروتون

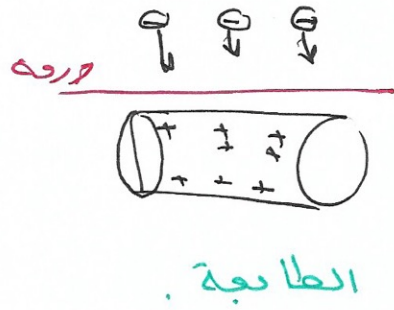
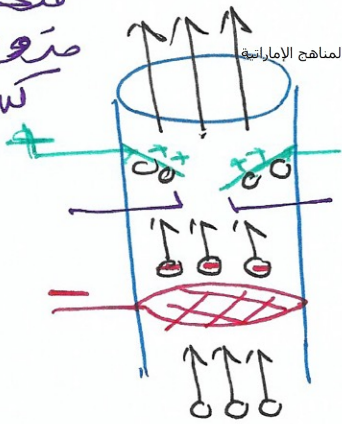
الانيون / فقد الالكترونات

- الجسم الموجب الشحنة

وليد النبتيتي

مخونه
متدورة بمرحلات
كثروستاتيكية

almanahz.com موقع المشاهج الإماراتية

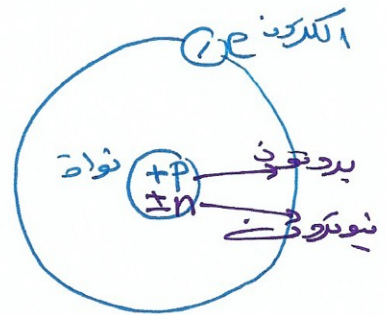


23

Na

11

نموذج ذر صورد



$$\text{العدد الذري} = 11 = P^+ = e^-$$

$$\text{العدد الكتلي} = 23 = P + n$$

$$n = 23 - 11 = 12$$

235

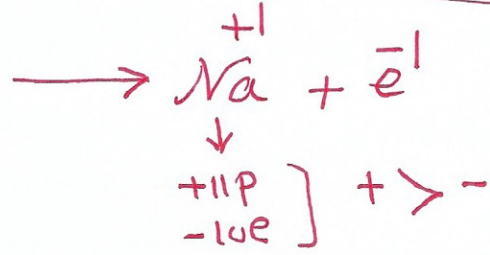
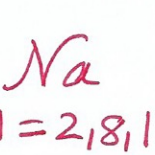

U

92

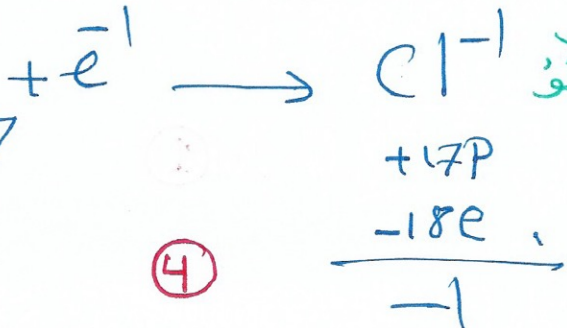
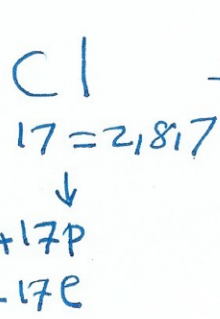
$$e = 92$$

$$p = 92$$

$$n = 143$$



ايون موجب
احادي التكافؤ



ايون سالب
احادي التكافؤ

4

رمز الوحدة القياس	وصف القياس	رمز الكمية	الكمية الفيزيائية
m	كجم almanahj.com موقع المناهج الإماراتية	l	الطول
kg	كيلوجرام	m	الكتلة
s	ثانية	t	الزمن
A	أمبير	I	شدة التيار
Cd	شمعة عيارية	I _{cd}	شدة الاضاءة
mol	مول	n	كمية المادة
k	كلفن	T	درجة الحرارة

اساسيه

C	كولومب Coulomb	Q, q	شحنة الكهربائية ↓ كمية شحنة
---	-------------------	------	-----------------------------------

$$q_{he} = -1.6 \times 10^{-19} \text{ C}$$

$$1 \text{ إلكترون} = 1.6 \times 10^{-19} \text{ C}$$

$$1 \text{ كولومب} = 6.25 \times 10^{18} \text{ إلكترون}$$

$$x = \frac{1 \text{ C}}{1.6 \times 10^{-19}}$$

$$1 \text{ كولومب} = 6.25 \times 10^{18} \text{ إلكترون}$$

ما هو عدد
الإلكترونات
في الكولومب
الواحد؟

* قارن بين مكونات الذرة بإكمال الجدول التالي :

الكتلة	الشحنة	
$m_e = 9.11 \times 10^{-31} \text{ كغ}$	$q_{re} = -1.6 \times 10^{-19} \text{ C}$	الإلكترون
$m_p = 1.673 \times 10^{-27} \text{ كغ}$	$q_{rp} = +1.6 \times 10^{-19} \text{ C}$	البروتون
$m_n = 1.675 \times 10^{-27} \text{ كغ}$	$q_{rn} = 0.0$	النيوترون

- ما هي وحدة قياس الشحنة الكهربائية...؟ وما رمزها...؟

الوحدة الكولوم رمزها C

* أكمل الفراغ فيما يلي بما يناسبه:

$$\begin{aligned}
 \text{ملي كولوم} &= \text{mc} &= 10^{-3} \text{ C} \\
 \text{ميكرو كولوم} &= \text{μC} &= 10^{-6} \text{ C} \\
 \text{نانو كولوم} &= \text{nC} &= 10^{-9} \text{ C} \\
 \text{بيكو كولوم} &= \text{pC} &= 10^{-12} \text{ C}
 \end{aligned}$$

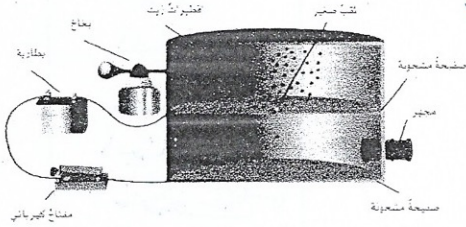
* ما هي خواص الشحنة الكهربائية؟! *

- 1- التخالف المتماثل تتنافر والمختلفة تجاذب
- 2- التخالف المتماثل مكافئة
- 3- التخالف المتماثل محفوظة

الشحنة مكماة

ما المقصود بمبدأ تكميم الشحنة [الشحنة المكماة] ؟

شحنة اي جسم عبارة عن مضاعفات
صغيرة من الشحنة الأولية



ما التجربة العملية التي أثبتت مبدأ تكميم الشحنة ؟

تجربة ميلكان لقطرة الزيت

اكتب صيغة رياضية تعبر عن مبدأ تكميم الشحنة ؟

$$q = \pm ne \Rightarrow n = \frac{|q|}{e}$$

n : عدد صحيح موجب يمثل عدد الإلكترونات .

حفظ الشحنة الكهربائية

ما المقصود بمبدأ حفظ الشحنة ؟

الشحنة لا تخلق ولا تتبدد بل ~~تتحول~~ ^{تنقل} من جسم لآخر

المواد من حيث إيصاليتها للشحنات الكهربائية :

1. موصلة : مواد تتيج بركة الشحنات ، لانه لسيب الالكترونات حركة الحركة
مثل [الفلزات Ag ← Cu ← Al ← Fe ...] ابلوا

2. عازلة : مواد لا تتيج بركة الشحنات ، ليس لسيب الالكترونات حركة
مثل [الخشب ، الزجاج ، المطاط ، المواد الجاف ...]

3. شبه موصلة :
حالة وسط بين الموصلات والعوازل
مثل السيلكون ، الجرمانيوم

4. فانقة التوصيل :
مواد مسمية للكامر ، من ظروف مجزية هامة

وليد النبتيتي

تكمية الشحنه

الشحنه الاوليّه \times عدد صحيح $+$ = شحنه الجسم
almanahj.com موقع المناهج الإماراتية

$$|q| = \pm n e$$

+ الجسم فقد الالكترونات (اصبح موجب)

- ~ اكتسب ~ (اصبح سالب)

q = شحنه الجسم (كولوم C)

$n = 1, 2, 3, 4, \dots$

n = عدد صحيح موجب

elementary charge

e = الشحنه الاوليّه

$$e = 1.6 \times 10^{-19} C$$

$q_f = -e$
 الكترون

$q_p = +e$
 بروتون

$$|q| = n e$$



$$\Delta q = q_f - q_i$$

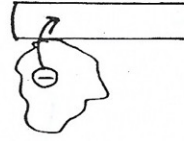

Δq [+ فقد الالكترونات]
 [- اكتسب]
 الالكترونات



ما هي طرق شحن الأجسام ؟

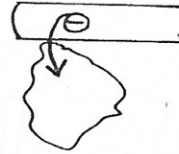

1. الدلك
2. اللمس
3. الحث
4. الاستقطاب

الشحن بالدلك



ساق ايونيت / عازل

دالة / عازل صوت

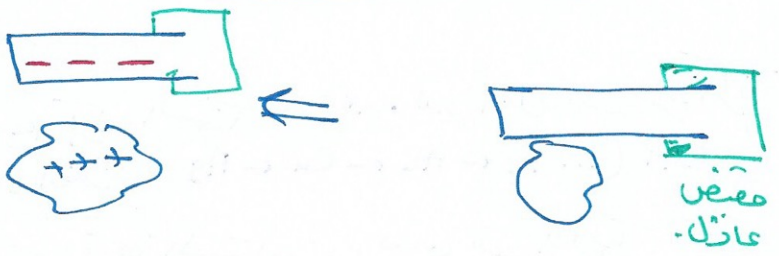
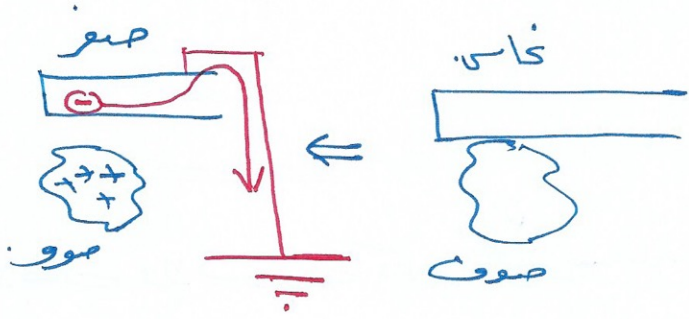


ساق زجاج / عازل معادن

دالكسبر / عازل معادن

- مناسب للمواد العازلة .
- في عملية الدلك نعمل على زيادة مساحة سطح التلامس .
- تنتقل الالكترونات من أحد الجسمين إلى الآخر .
- مقدار شحنة الدالكة = مقدار شحنة الجسم المدلوك وتخالفها في النوع .
- عند ذلك ساق موصلة تنتقل كل شحنة يكتسبها الموصل إلى الأرض عن طريق اليد .
- إذا أردنا شحن مادة موصلة بطريقة الدلك يجب أن تكون محاطة بمادة عازلة .

الدرجات
الضعف
حريه
المشغول
مطاط ايلوا
ابوليا
~~مفرد خاص~~
بولير

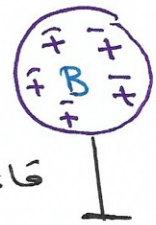


موصل	عازل

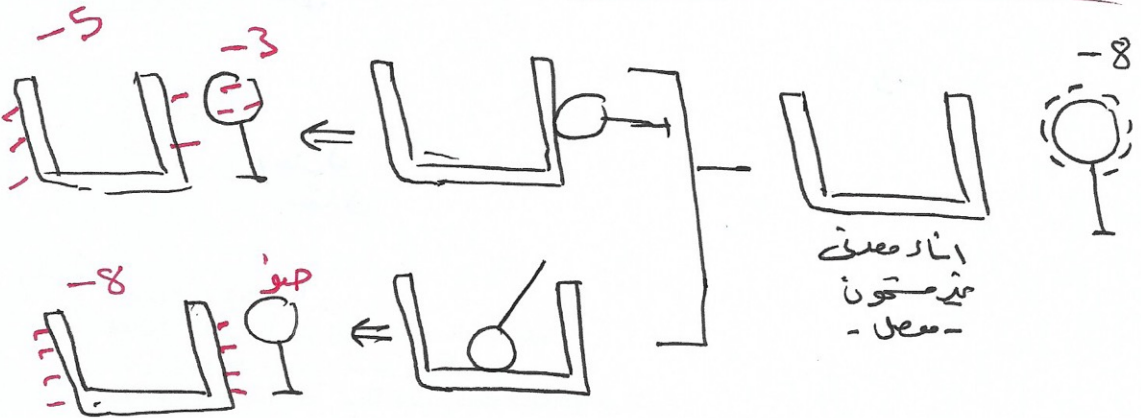


التنن بالتوصيل

almanahj.com موقع المشاهج الإماراتية

كرو معطلة
مقابلة



قاعة غازية



عليه نقل شحنة من معدن حوني الى المعدن الآخر

اذا لاحظ به اللاظ

على الخانات موزع في الطرح الثاني المعدل لنقل نقل !!
المعدن يتب ثقل وطرده الخات تشاينزا موة تامز
تمامه اجاردا اكبر ماته مكنه وهذا يتحقق مع الطرح
الخارج

الشحن باللمس [التوصل]

مناسب للمواد الموصلة

شحنات الأجسام المتلامسة بعد التلامس تكون من نفس النوع

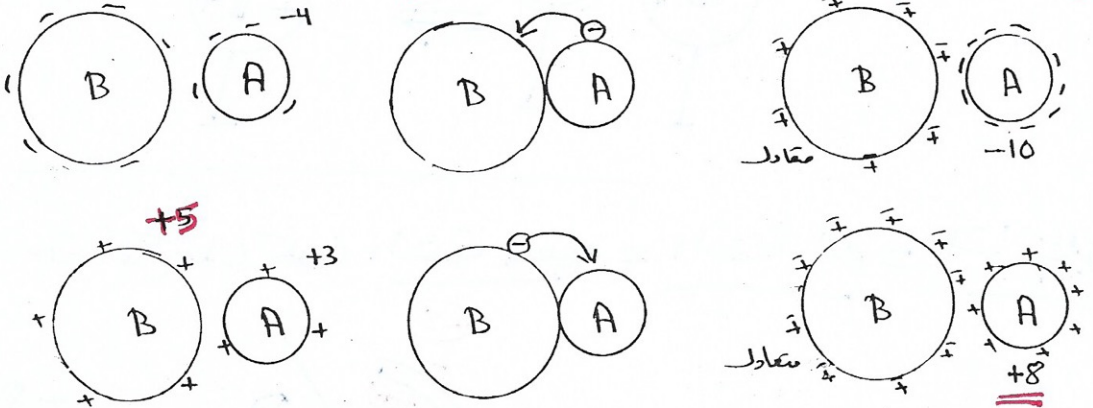
مجموع الشحنات بعد التلامس يساوي مجموعها قبل التلامس

بعد التلامس تتوزع الشحنات بين الموصلات بنسب سعاتها حتى يصبح لها نفس الجهد ونفس نوع الشحنة وليس

بالضرورة نفس مقدار الشحنة

الشحنات السالبة تنتقل من الموصلات الأقل جهد إلى الموصلات الأعلى جهد

[الشحنات الموجبة تنتقل من الموصلات الأعلى جهد إلى الموصلات الأقل جهد] **امطالعاً** **ظاهراً** -6



الشحن بالحث (التأثير) بشحنة مؤقتة

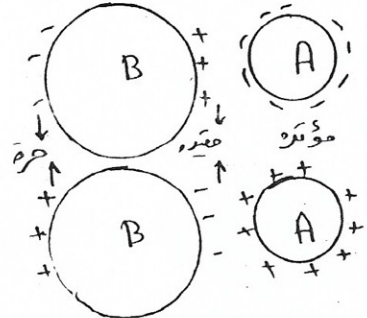
مناسب للمواد الموصلة لأن لديه إلكترونات حرة الحركة

مقدار الشحنة المقيدة أقل من أو يساوي مقدار الشحنة المؤثرة وتخالفها في النوع


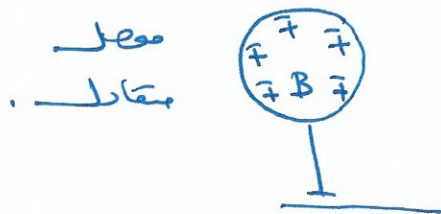
مقدار الشحنة المقيدة يساوي مقدار الشحنة الحرة وتخالفها في النوع

مقدار الشحنة المؤثرة لا يتغير

عند ابعاد المؤثر يعود الموصل المتأثر لما كان عليه من حيث الشحن




خطوات شحن جسم موصل
 تقنية موجية من طريق المت:



عنه عليه ان يكون الشحنة المضاد = الشحنة الموجبة = الشحنة الموجبة

اذا احاط المتأثر
 بالوتر احاطة تامة

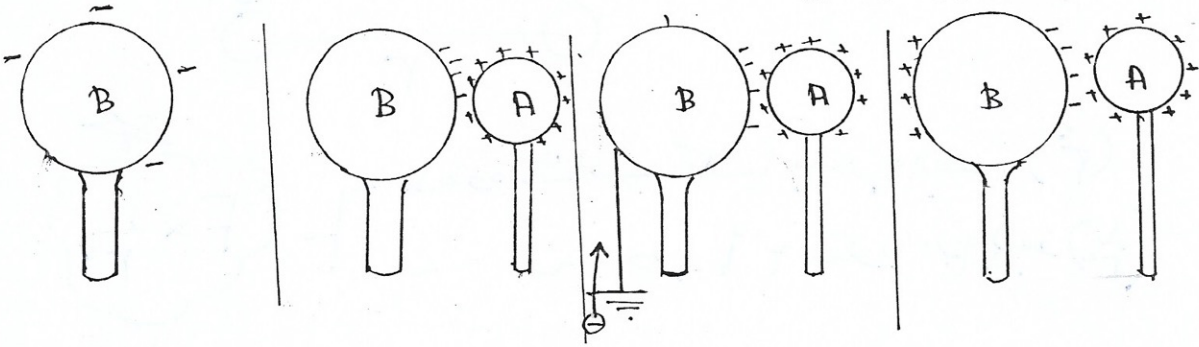


الشحن بالحث (التأثير) بشحنة دائمة

عند وصل الموصل المتأثر بالأرض بوجود المؤثر يفقد الشحنة الحرة فقط الشحنة المتبقية على الموصل بعد زوال المؤثر هي الشحنة التي كانت مقيدة ومقدارها أقل من أو يساوي مقدار الشحنة المؤثرة ومن نوع مخالف

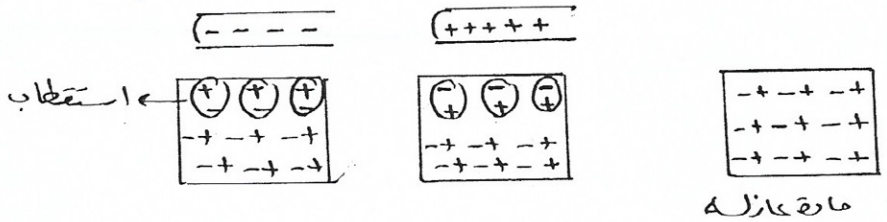
الأرض تعتبر مستودع للشحنات السالبة وجهدها صفر وجهدها أي جسم يتصل بالأرض صفر كذلك برغم أنه قد يكون مشحون خطوات الشحن بالتأثير بشحنة تبقى : 1- تقريب موصل مشحون (المؤثر) من موصل متعادل 2- توصيل المتأثر بالأرض

3- إزالة توصيلة الأرض 4- ابعاد المؤثر




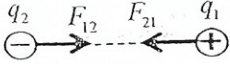
استقطاب المادة العازلة

إذا كان المؤثر موجب الشحنة تصطف الكثرونات المادة العازلة قريبا منه والبروتونات بعيدا عنه مع بقاء الكثرونات وبروتونات المادة العازلة مرتبطة معا



قانون كولوم

(القوة الكهروستاتيكية المتبادله بين شحنتين نقطيتين)



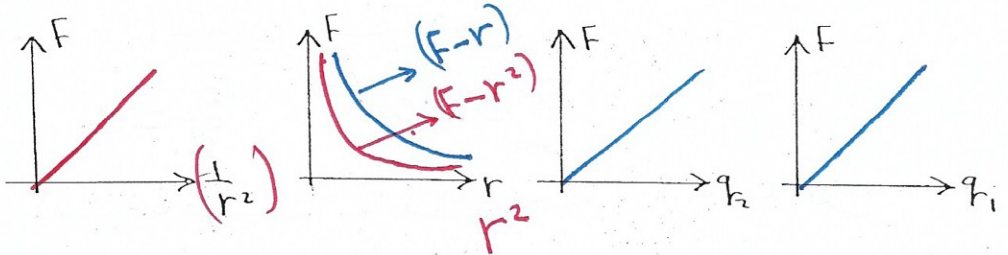
وما اثر كل عامل

ما العوامل التي يتوقف عليها مقدار القوة الكهروستاتيكية المتبادله بين شحنتين نقطيتين

عكسياً مع مربع البعد r^2
 طردياً مع حاصل ضرب مقدار الشحنة
 $F \propto |q_1| \times |q_2|$
 حسب نوع الوسط

- 1- المسافة بين الشحنتين (r)
- 2- مقدار كل شحنة $q_1 = q_2$
- 3- الوسط العازل

ارسم المنحنى البياني في كل من الحالات التالية



استنتج قانون كولوم

الصيغة الرياضية

لقانون كولوم :

$$F_e = k_c \frac{|q_1| |q_2|}{r^2}$$

r : البعد بين الشحنتين (بالمتر)

$k_c = 8.99 \times 10^9 \text{ Nm}^2/\text{C}^2$: ثابت كولوم حيث أن

$|q_2|$: مقدار الشحنة الثانية

$|q_1|$: مقدار الشحنة الأولى

وليد النبيني

$$F \propto |q_1| \times |q_2|$$

$$F \propto \frac{1}{r^2}$$

F تتناسب عكسياً

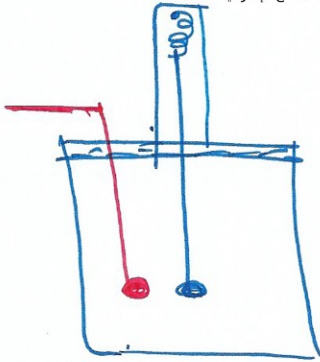
$$F \propto \frac{|q_1| \times |q_2|}{r^2}$$

$$F = \text{ثابت كولوم} \frac{|q_1| |q_2|}{r^2}$$

قانون كولوم امتحان علياً باستخدام جهاز

almanahz.com موقع المشاهج الإماراتية

ميزان اللي



العوة متناسب عكسياً مع مربع البعد (r^2)
 طردياً مع مقلوب مربع البعد ($\frac{1}{r^2}$)

$$F \propto \frac{1}{r^2}$$

عندبات الحصر
 والوسط

$$\frac{F_2}{F_1} = \frac{r_1^2}{r_2^2} = \left(\frac{r_1}{r_2}\right)^2$$

$$r^2 \propto \frac{1}{F}$$

$$r \propto \frac{1}{\sqrt{F}}$$

ما المقصود ب K_c ؟ ما العوامل التي يتوقف عليها ؟ ما قيمتها في حالة الهواء او الفراغ ؟ وفي نظام الروب

$$K = 9 \times 10^9 \text{ Nm}^2 \text{C}^{-2}$$

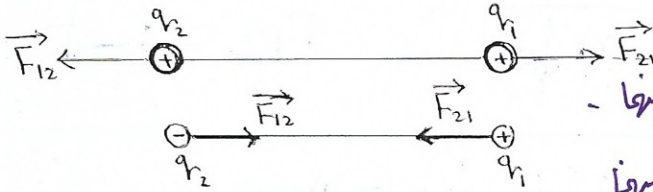
1. الوسط
2. وحدات الصيغ

كتاب علوم

ملاحظات

- 1- K_c مصفاة صيغ
2- الكولوم
3- قانون كولوم
4- مسائل عوامل القوة
- ← القوة الكهربائية التي لو وضعت على بعد 1m من
شحنة اخرى تأتلف في الهواء ثلاث القوة بينها
 $9 \times 10^9 \text{ N}$

اتجاه القوة

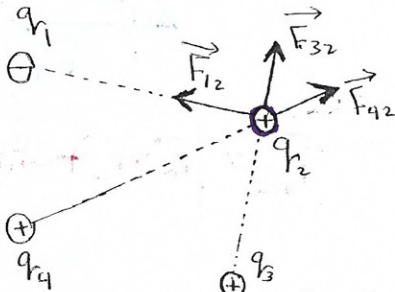


- أ- في حالة شحنتين نقطيتين
متشابهتين - تنافر
على امتداد الخط الواصل بينهما
مختلفتين - تجاذب

على نفس الخط الواصل بينهما

$$\vec{F}_{12} = -\vec{F}_{21}$$

قوتان متساويتان مقدارا متعاكستان اتجاها
قوتا فعل ورد فعل حسب القانون الثالث لنيوتن



$$\vec{F}_2 = \vec{F}_{12} + \vec{F}_{32} + \vec{F}_{42} + \dots$$

- ب- في حالة عدة شحنت نقطية
نحدد الشحنة المراد حساب القوة المؤثرة عليها
ونعتبرها قابلة للحركة وبقيّة الشحنت ساكنة
ثم نحسب محصلة القوى المؤثرة على الشحنة

جمع اتجاها

www.almanahj.com موقع المناهج الإماراتية

$$F_e = \frac{k_e |q_1 q_2|}{r^2}$$

\leftarrow N نيوتن
 \leftarrow C كولوم
 \leftarrow m^2

$$N \equiv \frac{C^2}{m^2} = C^2 m^{-2}$$

$$k = \frac{F_e \times r^2}{|q_1 \times q_2|} = \frac{N \cdot m^2}{C^2} = N m^2 C^{-2}$$

اتحاد خارجية - عند مطلوب -

$$k = \frac{1}{4\pi \epsilon_0}$$

$\epsilon = \epsilon_0 = \epsilon_r \epsilon_0$ ثابت العازلية للوسط.

$\epsilon_r = 1$ فراغ

$\epsilon_r = 1.00056$ هواء

$\epsilon_r = 81$ ماء

$\epsilon_0 = \epsilon_r \epsilon_0$ = ثابت العازلية الكلي للوسط
 $\epsilon_0 = 8.85 \times 10^{-12}$

$$k_{\text{هواء}} = \frac{1}{4\pi \times 1 \times 8.85 \times 10^{-12}} = 9 \times 10^9 \text{ N m}^2 \text{ C}^{-2}$$

$$k_{\text{ماء}} = \frac{1}{4\pi \times 81 \times 8.85 \times 10^{-12}} = 1.1 \times 10^8 \text{ N m}^2 \text{ C}^{-2}$$

$$F = k \frac{q_1 q_2}{r^2} = \frac{k \times 1 \times 1}{(1)^2} = k = 9 \times 10^9 \text{ N}$$

قوة كولوم = القوة الكهروستاتيكية المتبادلة بين شحنتين متساويتين طردياً مع حامل جذب التجاذب وتكبيراً مع مربع المسافة بينهما

$$q_2 \text{ القوة المؤثرة من } q_1 = F_{2 \rightarrow 1} = F_{21}$$

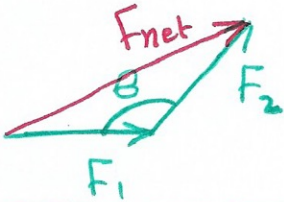
كل
قوة

$$q_1 \text{ القوة المؤثرة من } q_2 = F_{1 \rightarrow 2} = F_{12}$$

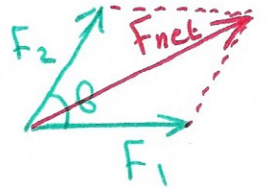
كل
قوة

$$\uparrow a = \frac{F}{m \downarrow} \qquad \vec{F}_{12} = -\vec{F}_{21}$$

قاعدة جيبس بين زاويتين:

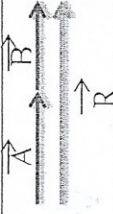
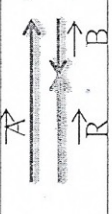
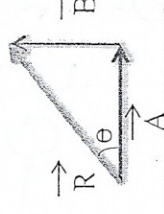


$$\sqrt{F_{net}^2 = F_1^2 + F_2^2 - 2F_1F_2 \cos \theta}$$



$$F_{net} = \sqrt{F_1^2 + F_2^2 + 2F_1F_2 \cos \theta}$$

حالات محصلة متجهين

اتجاه المحصلة	مقدار المحصلة	الرسم	حالة المتجهين
باتجاهها	مجموعهما $R = A + B$		1. باتجاه واحد
باتجاه الاكبر مقداراً	الفرق بينهما $R = A - B$		2. باتجاهين متعاكسين
$\Theta = \tan^{-1} \frac{\text{المقابل المجاور}}{B}$ $\Theta = \tan^{-1} \frac{B}{A}$	$R = \sqrt{A^2 + B^2}$		3. باتجاهين متعامدين

- * ملاحظات: 1. أكبر قيمة لمحصلة متجهين، إذا كانا باتجاه واحد.
2. أقل قيمة ممكنة لمحصلة متجهين، إذا كانا باتجاهين متعاكسين.
3. القيم الممكنة للمحصلة: الفرق بينهما $R \geq$ مجموعهما.

* محصلة متجهين غير متعامدين أو عدة متجهات :

$$\vec{A}_x, \vec{A}_y$$

1. نحلل كل متجه إلى مركبتين R_x

2. نوجد محصلة المركبات الأفقية R_y

3. نوجد محصلة المركبات الرأسية $R = \sqrt{R_x^2 + R_y^2}$

4. المحصلة النهائية $\Theta = \tan^{-1} \frac{R_y}{R_x}$

ونضع زاوية Θ مع محور X حسب :

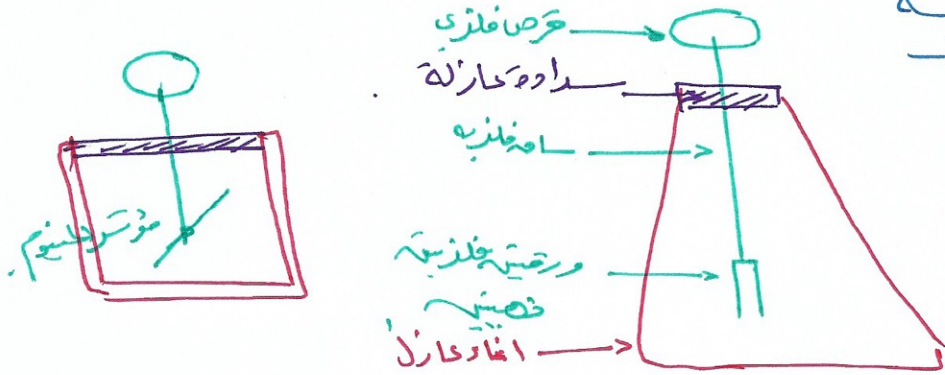
$$\Theta = \tan^{-1} \frac{R_y}{R_x}$$

إعداد: أ. وليد النبيني

الكشاف الكهربائي Electroscope

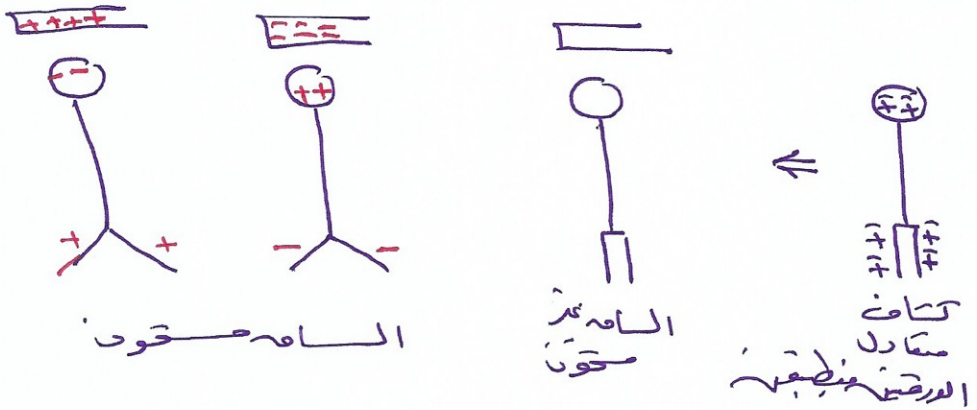
almanahj.com موقع المشاهج الإماراتية

تركيبه




استخداماته

1. معرفة حالة الجسم الكهربائي [محمون او غير محمونا]

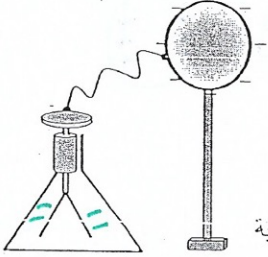


2. الكشاف نوع شحنة الجسم





أسئلة عامة حول طرق شحن الأجسام

س1 يبين الشكل المجاور موصل كروي مشحون ويرتكز على حامل عازل وسطحه متصل بقرص كشاف كهربائي. فسّر الآتي:



(1) عدم تأثر ورقتي الكشاف عند ملامسة سطح الموصل الكروي بجسم معين.
 الجسم غير موصل (عازل)، ما يعني عدم انتقال الشحنة من الموصل الكروي...
 إلى الجسم عن طريق الممس (التوصيل)، لذلك لم تتأثر ورقتي الكشاف... (3)
 (2) يقل انفتاح ورقتي الكشاف عند تقريب جسم موصل من الموصل الكروي.

الجسم مشحون بشحنة موجبة، وذلك لأن شحنته كانت قادرة على جذب جزء من الشحنة السالبة المتواجدة على ورقتي الكشاف والموصل الكروي لتتجمع في جهة الموصل الكروي القريبة من الجسم، ما يؤدي إلى نقصان قوة التنافر بين ورقتي الكشاف فيقل انفتاح الورقتين. (2)



س2 يبين الشكل المجاور موصل كروي يرتكز على حامل عازل وسطحه متصل بقرص كشاف كهربائي.

ما التغير الذي يطرأ على ورقتي الكشاف عند تقريب جسم مشحون بشحنة موجبة من جهة اليمين للموصل الكروي؟ برّر إجابتك.

تتجاذبان، للموصل الكهربائي المتعادل.

والإلكترونات التي تخرج منه أثناء التلامس مع
 ورقتي الكشاف موجبة تنفر طارئة

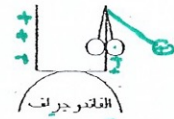


كرة فلزية متعادلة

حامل عازل

س3 - اشرح بخطوات كيفية شحن الكرة في الشكل المجاور بشحنة سالبة بطريقة الاحتكاك

س4 (وضع إناء معبني على قبة جهاز الفاندوجراف ، ربطت كرتان متماثلتان كما في الشكل المجاور. بين ماذا يحدث للكرتين عند تشغيل جهاز الفاندوجراف؟ فسّر إجابتك؟



الفاندوجراف

الكرة المعبية تتأخرج التيار الكهربائي إليها
 بينما الكرة الفلزية تبقى متعادلة
 تتكون مع الطرح الكهربائي للكرة

س5 : قام طالب بحك ساق من البلاستيك المتوى بقطعة صوف

، فاكتسب الساق شحنة سالبة

أ- ماذا عن شحنة قطعة الصوف - علل إجابتك

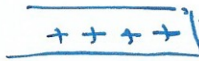
ب- عند تقريب ساق البلاستيك من قصاصات من الورق انجذبت إليه ثم تنافرت معه - فسّر ذلك؟

وليد النبتيني

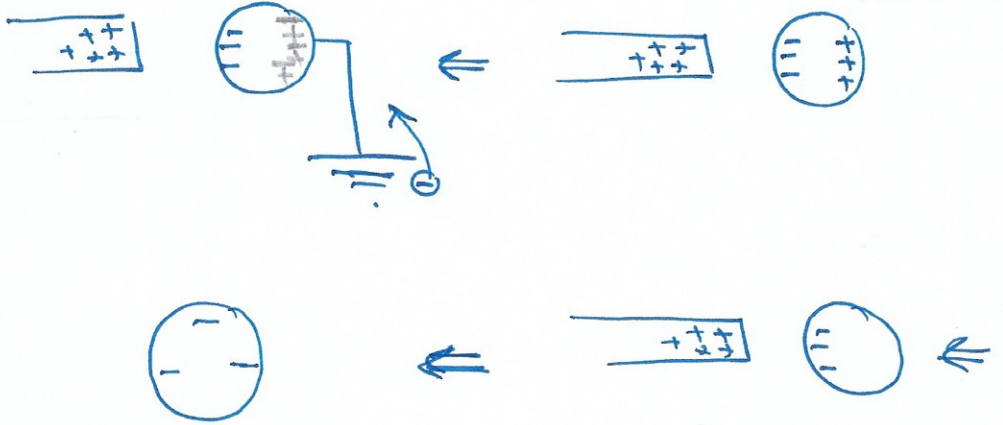
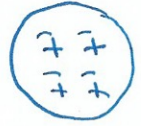
موجهة، حب مباحظم الخنة الصوف فقد

الكرتين موجبة
 والساق موجبة
 الساق

توضیح سر 12


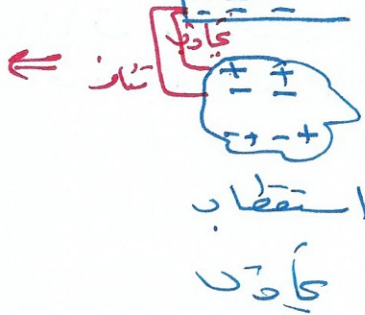



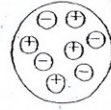
almanahj.com موقع المشاهج الإماراتية



صدا 11

سر 5



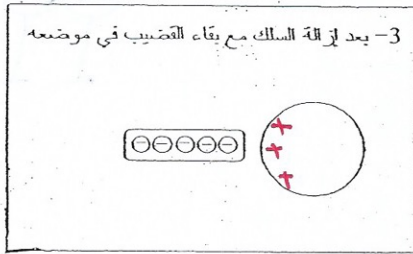
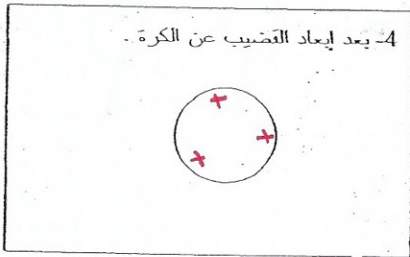
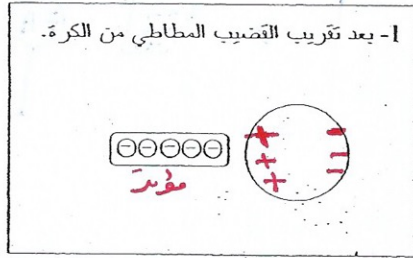
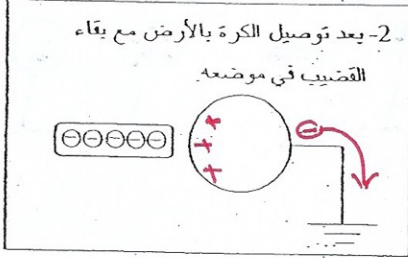


كرة معدنية متعادلة ومعزولة



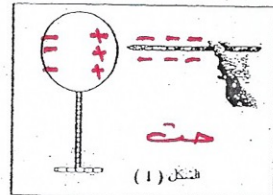
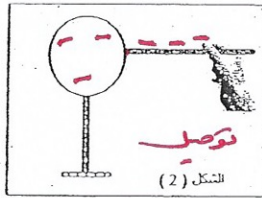
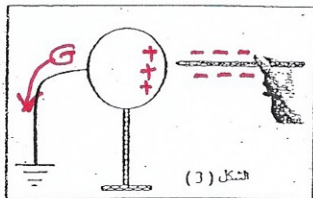
قضيب مطاطي مشحون بشحنة سالبة

(أ) أعد توزيع الشحنات على الكرة في كل من الخطوات التالية :



(ب) ماذا يطلق على هذه العملية ؟ **الحث**

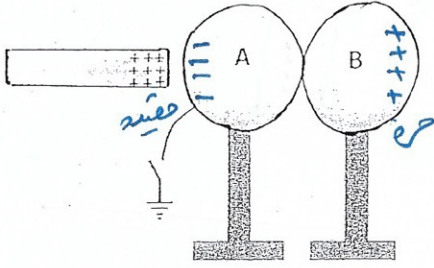
س7 : (P) استخدم قضيب بلاستيكي بعد ذلك بالصوف لشحن كرة معدنية صغيرة في ثلاث تجارب كما توضح الأشكال الثلاثة الآتية، حيث وضعت الكرات الثلاث على حوامل عازلة. بفرض أن شحنة القضيب سالبة. أجب عما يلي :



1- بين بالرسم توزيع الشحنات على الكرة في الحالات الثلاث.

2- أي من الكرات ستكون مشحونة بشحنة إضافية عند إبعاد القضيب ؟ **2**

وليد النبيتي

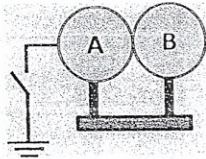


8- يُظهر الشكل المجاور موصلين كرويين متماثلين متلامسين، حيث يتصل الموصل A بالأرض بواسطة سلك توصيل ومفتاح مفتوح، كما يُظهر الشكل ساق زجاجية مشحونة بشحنة موجبة وقد قُرِبت من الموصل A من جهة اليسار دون أن تلامسه. أجب عما يلي.

- ارسم على الشكل توزيع الشحنات على الموصلين.
- في الجدول أدناه حدد نوع شحنة كل من الموصلين بكتابة (موجبة أو سالبة أو غير مشحون) في كل حالة من الحالات الموضحة في العمود الأول.

الحالة	شحنة الموصل A	شحنة الموصل B
غلق المفتاح S ثم فتحه ثم ابعاد الموصلين عن بعضهما ثم ابعاد ساق الزجاج	سالبة	مقابلة
غلق المفتاح S ثم فتحه ثم ابعاد ساق الزجاج ثم ابعاد الموصلين عن بعضهما	الب	الب

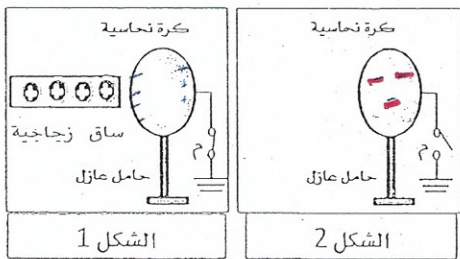
9- حدد بأربع خطوات كيف يمكنك أن تكسب الموصلان في الشكل المجاور نفس المقدار والنوع من الشحنات الكهربائية دون لمسهما؟



الإجابة:

- الخطوة الأولى: تقريب جسم مشحون ومعزول منهما
- الخطوة الثانية: غلق المفتاح مع وجود الجسم المشحون
- الخطوة الثالثة: فتح المفتاح مع وجود الجسم المشحون
- الخطوة الرابعة: إبعاد الجسم المشحون عنهما

ثم ابعاد الموصلين



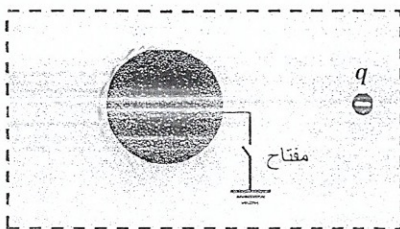
10- بعد فتح المفتاح (م) و ابعاد الساق الزجاجية عن الكرة

في الشكل 1 المجاور،

ارسم توزيع الشحنة الكهربائية على الكرة في الشكل 2 المجاور
واكتب اسم طريقة شحن الكرة.

البحث

11- يُظهر الشكل المجاور موصلًا كرويًا متصل بالأرض بواسطة سلك توصيل ومفتاح مفتوح، فإذا أُغلق




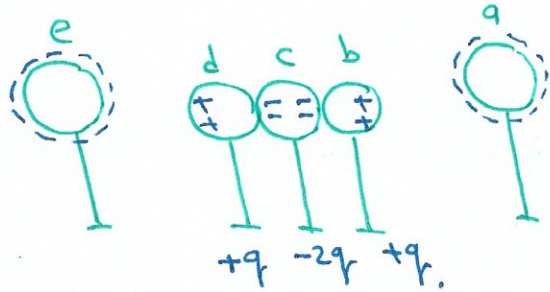
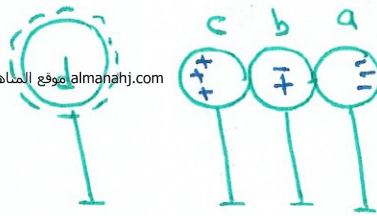
المفتاح ثم فتح ثم أبعدت الشحنة النقطية (q) فما شحنة الموصل؟

- سالبة
- موجبة
- لا يمكن تحديدها
- غير مشحون

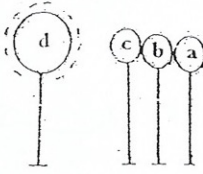
[توضیح حل سوال 8]

almanahj.com موقع المصاحح الإماراتية





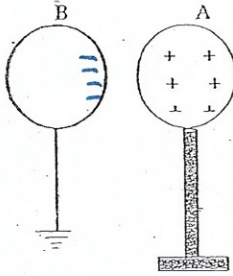
ثلاثة موصلات معزولة وغير مشحونة almanahj.com موقع المراهج الإماراتية



وضعت متلامسة كما في الشكل المجاور ، وقرب
منها موصل (d) معزول ومشحون بشحنة سالبة.
إذا فصل الموصل b عن المجموعة ثم أبعاد
الموصل d نهائياً فإن شحنة الموصلات a, b, c

ستكون بحيث أن :

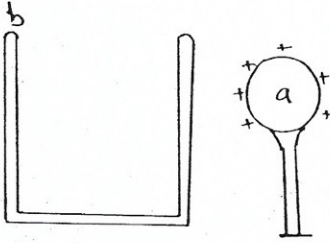
- أ. a, c موجبة ، b سالبة ج. a, b سالبان ، c موجب
ب. a, c سالبان ، b موجب د. a. سالب ، b متعادل ، c موجب



2- أثناء وجود موصل A مشحون بشحنة موجبة بالقرب من آخر B متصل

بالأرض كما في الشكل فإن شحنة الموصل B تكون :

- سالبة على الطرف القريب و موجبة على الطرف البعيد
 موجبة على الطرف القريب و سالبة على الطرف البعيد
 سالبة على الطرف القريب و متعادلة على الطرف البعيد
 متعادلة على كل من الطرفين

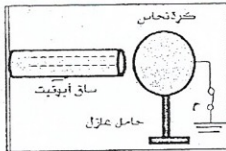


3 يمكن نقل شحنة الموصل a بالكامل إلى الموصل b وذلك إذا :

- أ- لامس الموصل a الموصل b من الخارج
ب- لامس الموصل a الموصل b من الداخل
ج- أدخل الموصل a داخل الموصل b دون لمسه
د- قرب الموصل a من الموصل b دون لمسه

4 - في الشكل المجاور، بعد فتح المفتاح (م) ثم إبعاد ساق الأيونيت عن الكرة :

- تشحن الكرة بشحنة موجبة
 تبقى الكرة متعادلة
 تشحن الكرة بشحنة سالبة
 لا يمكن معرفة شحنة الكرة

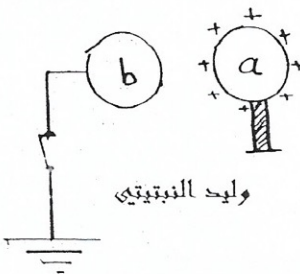


5. قرب الموصل a الذي يحمل شحنة موجبة من آخر b متصل

بالأرض، قطع الاتصال بالأرض ثم أبعاد الموصل a عن b ،

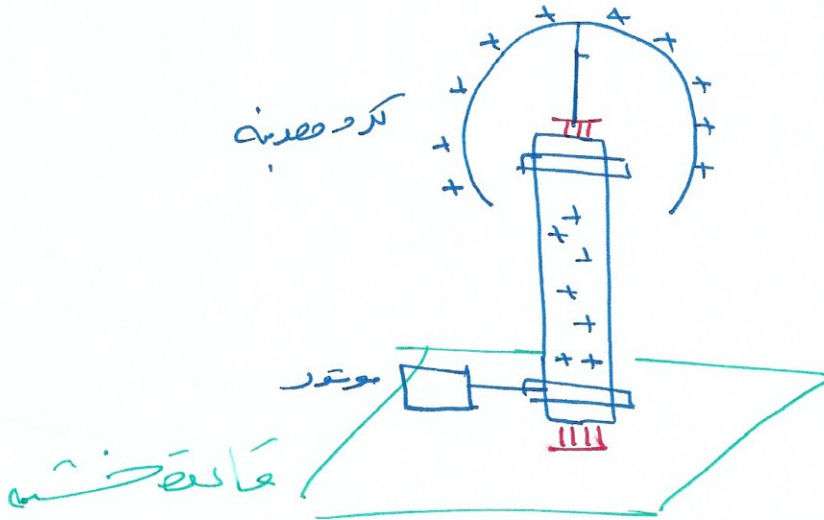
فإن شحنة الموصل b :

- أ- صفر ب- سالبة ج- موجبة



القانون جراف : [www.almanahj.com](http://almanahj.com) موقع المناهج الإماراتية : الكهرباء

تدريسه



وضع جسم سالب الشحنة على مقربة من موصل غير مشحون ومتصل بالأرض أجب عن الفقرتين التاليتين (1) ما اسم عملية الشحن هذه .

(أ) ذلك (ب) الحث (ج) التوصيل (د) الاستقطاب

(2) ما نوع الشحنة التي يكتسبها الموصل :

(أ) لا يمكن تحديدها (ب) موجبة (ج) سالبة (د) موجبة من جهة وسالبة من الجهة المقابلة

(3) ماذا يحدث عندما يدلك قضيب مطاطي بقطعة فراء تعطيه شحنة سالبة ؟

(أ) تنتزع البروتونات من القضيب (ب) يصبح الفراء سالباً أيضاً

(ج) تضاف الإلكترونات إلى القضيب (د) يبقى الفراء متعادلاً

(4) بعد ذلك قضيب زجاجي بالحري صار القضيب موجباً إذ :

(أ) انتزعت الإلكترونات من القضيب (ب) أضيفت البروتونات إلى القضيب

(ج) انتزعت البروتونات من القضيب (د) بقي الحري متعادلاً

(5) أيها يُسهل أكثر نقل الشحنة :

(أ) غير الموصلات (ب) شبة الموصلات (ج) الموصلات (د) العوازل

(6) أيها يصف العوازل الكهربائية :

(أ) الشحنات على سطحها لا تتحرك (ب) تتحرك الشحنات فيها بحرية أكثر

(ج) لها قوة شد عالية (د) هي موصلة جيدة للحرارة

(7) طريقة شحن الموصل بمجاورته لجسم آخر مشحون ومن ثم توصيل الموصل بالأرض تسمى :

(أ) الشحن بالتماس (ب) الشحن بالاستقطاب (ج) الحث (د) التعادل

(8) يمكن شحن الموصلات والعوازل بواسطة :

(أ) التوصيل بالأرض (ب) الاستقطاب (ج) الحث (د) التوصيل

(9) بعكس شحن العوازل يمكن شحن الموصلات بواسطة :

(أ) التوصيل بالأرض (ب) الحث (ج) الاستقطاب (د) الاتصال

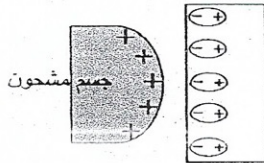
(10) تحدث قوة التنافر بين شحنتين عندما :

(أ) تختلف إشارتا الشحنتين (ب) يساوي مقدارا الشحنتين (ج) تتشابه إشارتا الشحنتين (د) يختلف مقدارا الشحنتين

(11) الشحنة الكهربائية :

(أ) توجد فقط في الموصلات (ب) توجد فقط في العوازل (ج) محفوظة (د) غير محفوظة

(12) يوضح الشكل المجاور الشحن بواسطة :



(أ) التوصيل بالأرض (ب) الاستقطاب

(ج) الاتصال (د) الحث

(13) يمكن إحداث شحنة سطحية على العوازل بواسطة :

(أ) التوصيل بالأرض (ب) الاستقطاب (ج) الحث (د) التوصيل



$$q = -6 \times 10^{-6} \text{ C}$$

(1) بالون مشحون بشحنة سالبة $(-6 \mu\text{C})$ ما عدد الإلكترونات الزائدة التي يحملها .

$$n = \frac{141}{e} = \frac{6 \times 10^{-6}}{1.6 \times 10^{-19}} = 3.75 \times 10^{13} \text{ إلكترون}$$

(2) جسم متعادل اكتسب (3000) إلكترون أثناء عملية شحنه بالذالك كم تصبح شحنة هذا الجسم q_f ؟

$$q_f = n e = -3000 \times 1.6 \times 10^{-19} = -4.8 \times 10^{-16} \text{ C}$$

(3) جسم شحنته $(-3 \times 10^{-12} \text{ C})$, ما عدد الإلكترونات التي يجب أن يفقدها أو يكتسبها الجسم لتصبح شحنته $(+1.8 \times 10^{-12} \text{ C})$ ثم حدد هل الجسم يكسب أم يفقد الإلكترونات ؟

$$\Delta q = q_f - q_i$$

$$= 1.8 \times 10^{-12} - (-3 \times 10^{-12})$$
$$= +4.8 \times 10^{-12} \text{ C}$$

$$n = \frac{1491}{e} = \frac{4.8 \times 10^{-12}}{1.6 \times 10^{-19}} = 3 \times 10^7$$

(4) كرتان موصلتان ومتماثلتان شحنة الأولى $(-8 \mu\text{C})$ وشحنة الثانية $(+2 \mu\text{C})$ تلامست الكرتان ثم فصلتا

(1) ما شحنة كل منهما بعد التلامس ولماذا ؟

(2) احسب عدد الإلكترونات التي انتقلت بين الكرتين وحدد اتجاه حركتها ؟

نقل الشحنات من الكرة للكرة الثانية

5) أكدت تجربة روبرت ميلكان :

(أ) مبدأ كمية الشحنة

(ب) تساوي جهود النقاط على السطح نفسه للموصل

(ج) انعدام المجال داخل الموصل

(د) صحة اعتماد مقدار القوة الكهربائية على أنواع الشحنات

6) أي القيم التالية لا يمكن أن تكون كمية لشحنة جسم ما بوحدة الكولوم :

(د) -3.2×10^{-19}

(ج) 3.2×10^{-18}

(ب) 3.2×10^{-20}

(أ) 3.2×10^{-19}

$$n = 2$$

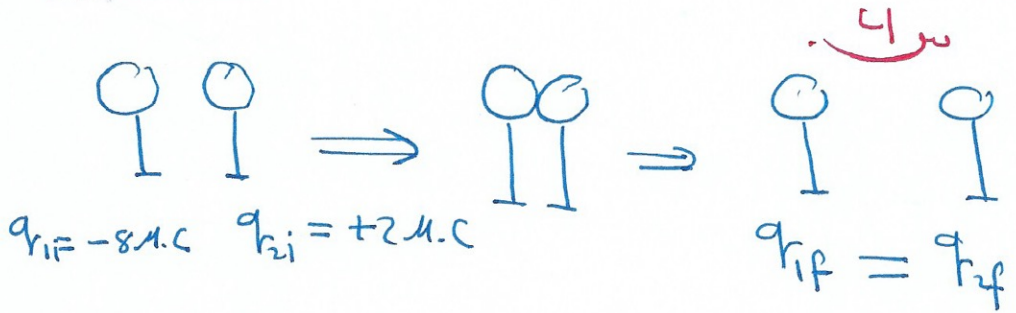

$$n = 20$$

$$n = 0.2$$

$$n = 2$$

$$n = \frac{141}{e}$$

↓
هو طاق
~ الشحنة الاولى



1) $\sum q_{\text{بعد الاتصال}} = \sum q_{\text{قبل الاتصال}}$

$$q_{1f} + q_{2f} = q_{1i} + q_{2i}$$

$$q_{1f} + q_{2f} = -8 + 2 = -6 \mu\text{C}$$

$$2q_{1f} = -6 \mu\text{C}$$

$$\therefore q_{1f} = -3 \mu\text{C}$$

$$q_{2f} = -3 \mu\text{C}$$

2) $\Delta q_1 = q_{1f} - q_{1i} = -3 \mu\text{C} - (-8 \mu\text{C})$
 $= +5 \mu\text{C}$

فقدت

$$n = \frac{\Delta q}{e} = \frac{5 \times 10^{-6}}{1.6 \times 10^{-19}} = 3.125 \times 10^{13}$$

انتقلت

32

$\Delta q_2 = -5 \mu\text{C}$

كسبت

$$n_2 = 3.125 \times 10^{13}$$

اختر الإجابة الصحيحة فيما يلي :

(1) إذا تضاعف مقدار إحدى الشحنتين مرتين فإن مقدار القوة الكهربائية بينهما :

(أ) يتضاعف مرتين (ب) يتضاعف أربع مرات (ج) يقل للنصف (د) يقل للربع

(2) إذا تضاعف مقدار كل من الشحنتين بعامل (2) فبأي عامل تتغير القوة الكهربائية :

(أ) 4 (ب) $\frac{1}{4}$ (ج) 2 (د) $\frac{1}{2}$

(3) إذا أصبح البعد بين الشحنتين ضعف ما كان عليه فإن مقدار القوة الكهربائية بينهما :

(أ) يتضاعف (ب) يتضاعف أربع مرات (ج) يقل للنصف (د) يقل للربع

(4) شحنتان نقطيتان متبادلان قوة كهربائية مقدارها (9N) فإذا أنقصت المسافة بينهما إلى نصف ما كانت عليه ، فكم يصبح مقدار القوة :

(أ) 18N (ب) 36N (ج) 4.5N (د) 2.25N

(5) شحنتان نقطيتان القوة الكهربائية المتبادلة بينهما (20N) عندما كان البعد بينهما (3cm) ، إذا أصبح البعد بين الشحنتين (6cm) فإن القوة الكهربائية المتبادلة بينهما تصبح :

(أ) 10N (ب) 40N (ج) 5N (د) 80N

(6) تباعدت شحنتان من مسافة (4.5cm) إلى (5.7cm) بأي عامل تتغير القوة الكهربائية بينهما :

(أ) 0.79 (ب) 0.89 (ج) 0.50 (د) 0.62

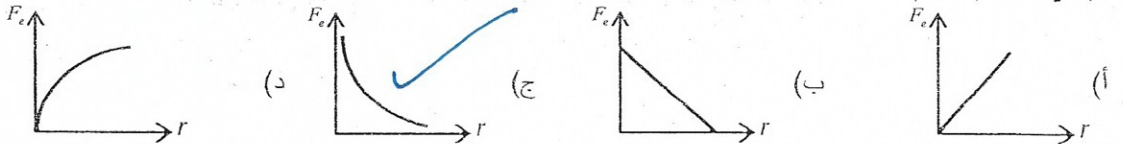
(7) بأي معامل تتغير القوة الكهربائية بين شحنتين إذا تغيرت المسافة بينهما بمعامل يساوي 2

(أ) 4 (ب) $\frac{1}{4}$ (ج) $\frac{1}{2}$ (د) 2

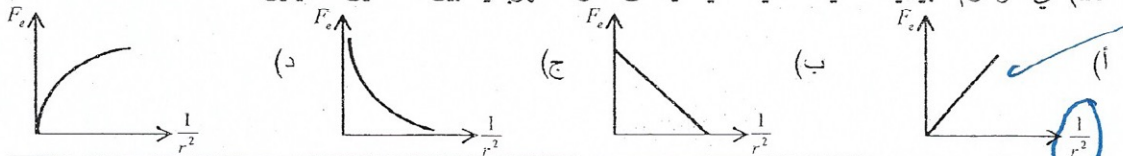
(8) شحنتان نقطيتان متجاورتان المسافة بينهما (r) والقوة الكهربائية المتبادلة بينهما (10N) إذا أصبحت المسافة بين الشحنتين ($\frac{r}{4}$) فإن القوة الكهربائية المتبادلة بينهما تصبح :

(أ) 20N (ب) 40N (ج) 80N (د) 160N

(9) أي الرسوم البيانية التالية صحيحة فيما يخص القوة الكهربائية بين شحنتين نقطيتين :



(10) أي الرسوم البيانية التالية صحيحة فيما يخص القوة الكهربائية بين شحنتين نقطيتين :



1. $F \propto q \propto 2$

2. $F \propto q_1 \times q_2 = 2 \times 2 = 4$

3. $F \propto \frac{1}{r^2} \propto \frac{1}{(2)^2} = \frac{1}{4}$

* ④ $F \propto \frac{1}{r^2}$ $\frac{1}{2} = \frac{r_2}{r_1} =$ عامل تغير البعد

$\frac{F_2}{F_1} =$ عامل تغير القوة

$\frac{F_2}{F_1} = \frac{r_1^2}{r_2^2}$
 $\frac{F_2}{9} = \left(\frac{r_1}{r_2}\right)^2 = \left(\frac{2}{1}\right)^2 = \frac{4}{1}$

$F_2 = 9 \times 4 = 36 \text{ N}$

⑤ $\frac{F_2}{F_1} = \left(\frac{r_1}{r_2}\right)^2$ $F_2 = \frac{20}{4}$
 $\frac{F_2}{20} = \left(\frac{3}{6}\right)^2 = \frac{1}{4}$ $= 5$

⑥ $\frac{\text{عامل تغير القوة}}{\text{عامل تغير البعد}} = \frac{F_2}{F_1} = \left(\frac{r_1}{r_2}\right)^2 = \left(\frac{4.5}{5.7}\right)^2 = 0.62$

⑦ $\frac{\text{عامل تغير القوة}}{\text{عامل تغير البعد}} = \left(\frac{1}{\text{عامل تغير البعد}}\right)^2 \propto \left(\frac{1}{2}\right)^2 = \frac{1}{4}$

8) $F \propto \frac{1}{r^2} \propto \frac{1}{\left(\frac{1}{4}\right)^2} = 16$

$F_2 = 16F_1 = 16 \times 10 = 160$ ③4

11. بأي معامل يتغير مقدار القوة المتبادلة بين شحنتين نقطيتين إذا أنقص البعد بينهما إلى الثلث :

- (أ) 9 (ب) 3 (ج) $\frac{1}{3}$ (د) $\frac{1}{9}$

12. عامل يتغير مقدار القوة الكهربائية المتبادلة بين شحنتين نقطيتين عند زيادة البعد بينهما إلى مثلي ما هو عليه

- (أ) 2 (ب) $\frac{1}{2}$ (ج) $\frac{1}{4}$ (د) 4

13. أي من الآتية وحدة ثابت كولوم في النظام الدولي للوحدات :

- (أ) NC^2/m^2 (ب) $N.m^2/C^2$ (ج) $N.m^2/C$ (د) $C/(N.m^2)$

14 - شحنتان كهربائيتان موضوعتان في الهواء تتنافران بقوة مقدارها (F) عند مضاعفة مقدار كلا من الشحنتين مع بقاء المسافة بين الشحنتين ثابتة ، فإن مقدار قوة التنافر تصبح :

- (أ) 4F (ب) 2F (ج) $\frac{F}{2}$ (د) $\frac{F}{4}$

15 - شحنتان نقطيتان متجاورتان ، مقدار الأولى يساوي ثلاثة أمثال الثانية ، فإن مقدار القوة الكهربائية المؤثرة

على الشحنة الأولى يساوي :

- (أ) مقدار القوة المؤثرة على الثانية .
(ب) ثلث القوة المؤثرة على الثانية .
(ج) ثلاثة أمثال القوة المؤثرة على الثانية .
(د) الصفر .

16 - شحنتان كهربائيتان نقطيتان ($-q_2 + q_1$) موضوعتان في الهواء والمسافة بينهما (r) ينتج بينهما قوة كهربائية (F) ، وعندما تقل المسافة بينهما إلى (0.25 r) مع ثبات

مقدار شحنة كل منهما فإن القوة بينهما تصبح :

- (أ) 4F تجاذب (ب) 4F تنافر (ج) 16F تجاذب (د) 16F تنافر

17 (شحنتان نقطيتان موجبتان متجاورتان ، القوة الكهربائية المتبادلة بينهما (1.6 N) ، إذا أنقص البعد بينهما إلى النصف

فإن مقدار القوة المتبادلة بينهما تصبح :

- (أ) 0.40 N (ب) 1.2 N (ج) 0.80 N (د) 6.4 N

18 - شحنتان القوة المتبادلة بينهما F عندما كانت المسافة بينهما r فإذا حركت

إحدهما حتى أصبحت القوة بينهما 9F فهذا يعني أن المسافة بينهما أصبحت :

- (أ) $\frac{1}{9}r$ (ب) 9r (ج) $\frac{1}{3}r$ (د) 3r

19 - شحنتان نقطيتان $q_2 = q$ ، $q_1 = 4q$

إذا كان مقدار القوة التي تؤثر بها الشحنة الثانية على الشحنة الأولى 16N فإن

مقدار القوة التي تؤثر بها الشحنة الأولى على الثانية تساوي :

- (أ) 16N (ب) 4N (ج) 64N (د) 1N

وليد النبيني

20. شحنتان متساويتان ، المسافة بينهما 1m والقوة بينهما 9000N ، هذا يدل على أن مقدار كل من الشحنتين يساوي:

- أ- 10^{-6} C ب- 10^{-3} C ج- 10^{-9} C د- 10^6 C

21. القوة الكهروستاتيكية بين شحنتين موجبتين إحداهما أكبر من الأخرى تكون :

- أ- مؤثرة على الشحنة الصغيرة ولا تؤثر على الكبيرة
ب- أكبر على الكبرى
ج- أكبر على الصغرى
د- متساوية على كل منهما

2.2 - قيمة ثابت كولوم:

- أ- تتناسب عكسياً مع مربع المسافة وطردياً مع $q_1 \times q_2$
ب- تتوقف على نوع الوسط والوحدات
ج- تتناسب عكسياً مع المسافة وطردياً مع $q_1 \times q_2$
د- ثابتة دائماً

2.3 - إذا كانت القوة المؤثرة على q_1 تساوي 30N

فإن القوة المؤثرة على q_2 تساوي:

- أ- 30N جهة اليسار
ب- 30N جهة اليمين
ج- 50N جهة اليمين
د- 50N جهة اليسار

24 - إن مقدار القوة الكهروستاتيكية المتبادلة بين شحنتين لا يتوقف على :

أ- مقداري كل من الشحنتين

ب- المسافة بين مركزيهما

ج- نوع الوسط العازل الفاصل بينهما

د- نوع كل من الشحنتين

← هذا محدد ايضاً بالصورة

25 () لا يثبت قانون التربيع العكسي للقوة المتبادلة بين الشحنتين الكهروستاتيكية المستخدمة:

- ميزان الزنبركي □ ميزان اللي □ ميزان القوة □ الكشاف الكهربائي

26 - القوة الكهربائية المتبادلة بين شحنتين التبع بينهما (10 cm) هي (36N) ، فإن مقدار

القوة بينهما إذا أصبح البعد بينهما (20 cm) تساوي :

- 72 N - 9 N - 18 N - 36 N

27 - شحنتان نقطيتان مقدار كل منهما 0.5C والمسافة بينهما 0.5m ، فإن القوة بينهما بدلالة ثابت كولوم هي:

- أ- $k/8$ ب- $k/4$ ج- k د- $4k$

28 - إذا كانت القوة بين شحنتين هي 9N عندما تكون المسافة بينهما r ، فإذا أصبحت المسافة بينهما $r/3$ ، فإن القوة بينهما تصبح :

- أ- 3N ب- 27N ج- 54N د- 81N

$$20 \quad F = k \frac{q_1 q_2}{r^2}$$

الموقع المصاحح الإماراتية almanahj.com

$$9000 = \frac{9 \times 10^9 q^2}{(1)^2}$$

$$q = \sqrt{\frac{9000}{9 \times 10^9}} = 1 \times 10^{-3} \text{ C}$$

$$26 \quad \frac{F_2}{F_1} = \left(\frac{r_1}{r_2} \right)^2$$


$$\frac{F_2}{36} = \left(\frac{10}{20} \right)^2 \Rightarrow F_2 = 9$$

$$(27) \quad F = k \frac{q_1 q_2}{r^2} = k \frac{0.5 \times 0.5}{(0.5)^2} = k$$

$$28 \quad F \propto \frac{1}{r^2} = \frac{1}{\left(\frac{1}{3}\right)^2} = 9$$

$$F_2 = 9 F_1 = 9 \times 9 = 81$$

37



ضع إشارة (√) امام انسب اجابة

1- في الشكل المجاور نتيجة الشحنات الكهربائية تلتصق

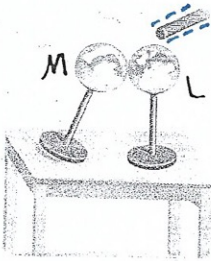
الشريحة ب بالمشط بينما تبتعد الشريحة أ عن المشط

فإذا كانت الشريحة أ تحمل شحنة سالبة أي الآتية صحيح لشحنة المشط وشحنة الشريحة ب ؟


- شحنة المشط موجبة والشريحة ب موجبة
- شحنة المشط سالبة والشريحة ب سالبة
- شحنة المشط موجبة والشريحة ب سالبة ✓
- شحنة المشط سالبة والشريحة ب موجبة

2- في الشكل المجاور عند فصل الموصلين (M و L) عن بعضهما

ما نوع الشحنة التي يكتسبها كل موصل وما طريقة شحنهما ؟



طريقة الشحن	شحنة الموصل L	شحنة الموصل M
التوصيل	موجبة	موجبة
الحث	سالبة	موجبة
التوصيل	سالبة	سالبة
الحث	موجبة	سالبة



3- يظهر الشكل المجاور جسماً يحمل شحنة كهربائية ؛ أي من الآتية صحيح ؟

- الجسم موصل وشحن بفقدته الكترولونات
- الجسم موصل وشحن باكتسابه الكترولونات
- الجسم عازل وشحن بفقدته الكترولونات ✓
- الجسم عازل وشحن باكتسابه الكترولونات

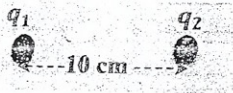
4- أي الآتية يمثل مقدار الشحنة الأساسية؟

- شحنة (6.24x10¹⁸) الكترولونات
- شحنة (6.24x10¹⁸) بروتونات
- 1.6x10⁻¹⁹ C ✓
- 1.6x10⁺¹⁹ C

5- يؤثر في الشحنة النقطية Q₁ في الشكل المجاور قوة كهربائية 16N

إذا أصبح البعد بين الشحنتين (5.0cm)

كم تصبح القوة المؤثرة في الشحنة q₁ ؟



64N-

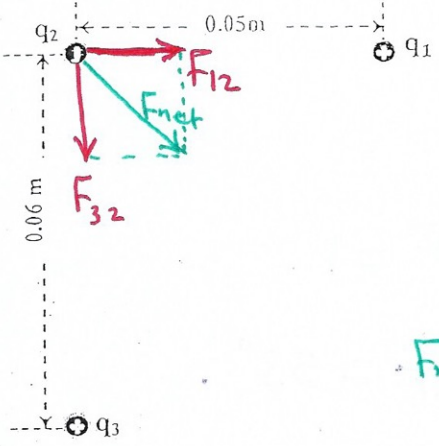
32N-

8.0N-

4.0N-

السؤال الأول

وضعت ثلاث شحنات نقطية $q_1 = +5.0 \text{ nC}$ و $q_2 = +1.0 \text{ nC}$ و $q_3 = +8.0 \text{ nC}$ في الهواء كما في الشكل المجاور ،
اجب عن الفقرتين (1 و 2).



1 - احسب مقدار القوة الكهربائية المؤثرة في الشحنة q_2 .

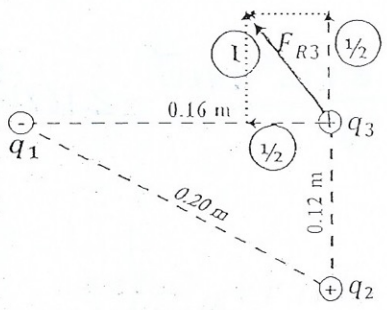
$$F_{12} = \frac{k q_1 q_2}{r_{12}^2} = \frac{9 \times 10^9 \times 5 \times 10^{-9} \times 1 \times 10^{-9}}{(0.05)^2}$$

$$F_{32} = \frac{k q_3 q_2}{r_{32}^2} = \frac{9 \times 10^9 \times 8 \times 10^{-9} \times 1 \times 10^{-9}}{(0.06)^2}$$

$$F_{net} = \sqrt{F_{12}^2 + F_{32}^2} =$$

2 - احسب مقدار شدة المجال الكهربائي المؤثر في الشحنة q_2 .

السؤال الثاني



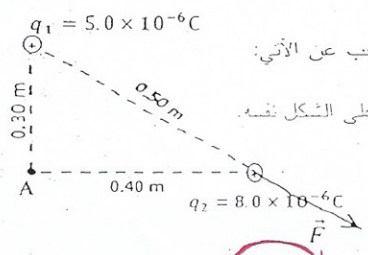
أولاً: وضعت ثلاث شحنات نقطية عند رؤوس مثلث، كما في الشكل المجاور. إذا كانت $(q_3 = +2.2 \times 10^{-8} \text{ C}$ ، $q_2 = +1.4 \times 10^{-8} \text{ C}$) وتؤثر الشحنة q_1 على الشحنة q_3 بقوة جذب مقدارها $(1.4 \times 10^{-4} \text{ N})$ ،
اجب عن الآتي:

جد مقدار محصلة القوى المؤثرة في الشحنة q_3 وحدد اتجاهها على الشكل نفسه.

تؤثر في الشحنة q_3 قوتان $(F_{R32}$ جذب ، F_{R31} تنافر) وهما متعامدتان

$$F_{2,3} = k_C \frac{q_2 \times q_3}{r_{2,3}^2} = 8.99 \times 10^9 \times \frac{1.4 \times 10^{-8} \times 2.2 \times 10^{-8}}{(0.12)^2} = 1.9 \times 10^{-4} \text{ N}$$

$$F_{R3} = \sqrt{F_{1,3}^2 + F_{2,3}^2} = \sqrt{(1.4 \times 10^{-4})^2 + (1.9 \times 10^{-4})^2} = 2.4 \times 10^{-4} \text{ N}$$



ثانياً: وضعت شحنتان نقطيتان موجبتان في الهواء كما في الشكل المجاور. اجب عن الآتي:

احسب مقدار القوة الكهربائية المؤثرة في الشحنة q_2 وحدد اتجاهها على الشكل نفسه.

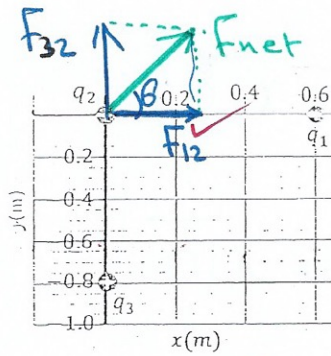
$$F_{12} = k_C \times \frac{q_1 \times q_2}{r^2}$$

$$F_{12} = \frac{8.99 \times 10^9 \times 5.0 \times 10^{-6} \times 8.0 \times 10^{-6}}{(0.50)^2}$$

$$= 1.4 \text{ N}$$

39

3



- وضعت الشحنات (q_3, q_2, q_1) متجاورات في الفراغ كما هو مبين في الشكل المجاور. إذا كانت ($q_1 = -4 \times 10^{-8} \text{ C}$, $q_2 = +8 \times 10^{-8} \text{ C}$, $q_3 = +6 \times 10^{-8} \text{ C}$)

جد مقدار القوة الكهربائية المؤثرة في الشحنة q_2 ؟

$$F_{12} = \frac{k |q_1| |q_2|}{r_{12}^2} = \frac{9 \times 10^9 \times 4 \times 10^{-8} \times 8 \times 10^{-8}}{(0.6)^2} = 8 \times 10^{-5} \text{ N}$$

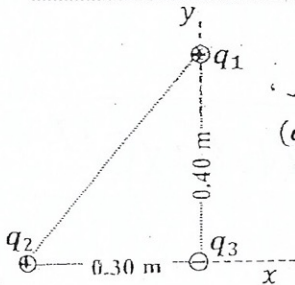
$$F_{32} = \frac{k |q_3| |q_2|}{r_{32}^2} = \frac{9 \times 10^9 \times 6 \times 10^{-8} \times 8 \times 10^{-8}}{(0.8)^2} = 6.75 \times 10^{-5} \text{ N}$$

$$F_{net} = \sqrt{(8 \times 10^{-5})^2 + (6.75 \times 10^{-5})^2} = 10.46 \times 10^{-5} \text{ N} = 1.046 \times 10^{-4} \text{ N}$$

• إذا أبعدت الشحنة q_3 نهائياً عن الشحنة q_2 مع بقاء q_1 في مكانها فهل يزداد مقدار القوة الكهربائية المؤثرة

في q_2 أم يقل أم يبقى ثابتاً؟ ولماذا؟

تقل ، لا يصحده محاسب
مكافئ آبله ساينز




وضعت ثلاث شحنات نقطية عند رؤوس مثلث قائم الزاوية كما في الشكل المجاور ،

إذا كانت ($q_1 = 6.0 \times 10^{-6} \text{ C}$) و ($q_2 = -8.0 \times 10^{-6} \text{ C}$) و ($q_3 = -8.0 \times 10^{-6} \text{ C}$)

وكان الهواء يحيط بالشحنات، أجب عن الفقرتين (1 و 2).

1- احسب مقدار القوة الكهربائية التي تؤثر في الشحنة q_3 .

2- حدد اتجاه حركة الشحنة q_3 بالنسبة لمحور x إذا سمح لها بالحركة.



5 وضعت ثلاث شحنات نقطية في الفراغ كما في الشكل المجاور. إذا

كانت ($q_1 = -2.0 \times 10^{-6} \text{ C}$) و ($q_2 = +1.6 \times 10^{-6} \text{ C}$) و

($q_3 = -2.0 \times 10^{-6} \text{ C}$)

جد مقدار محصلة القوى الكهربائية المؤثرة في الشحنة q_1 .

$$F_{21} = \frac{k |q_2| |q_1|}{r_{21}^2} = \frac{9 \times 10^9 \times 1.6 \times 10^{-6} \times 2 \times 10^{-6}}{(0.2)^2} = 0.72 \text{ N}$$

$$F_{31} = \frac{k |q_3| |q_1|}{r_{31}^2} = \frac{9 \times 10^9 \times 2 \times 10^{-6} \times 2 \times 10^{-6}}{(0.3)^2} = 0.4 \text{ N}$$

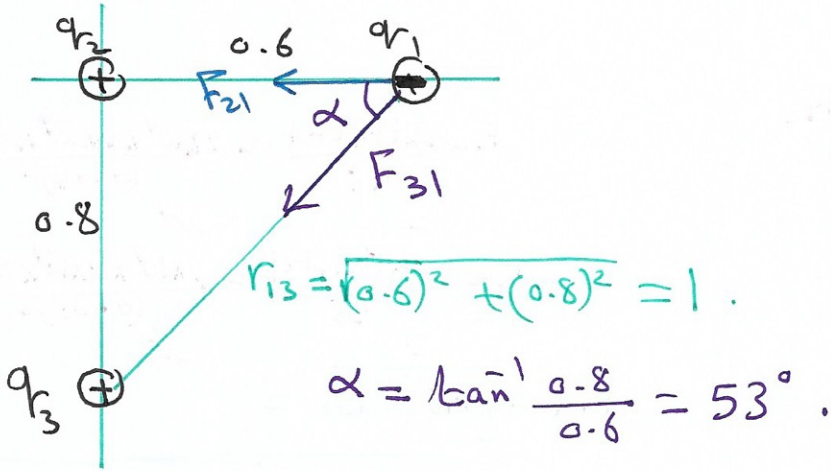
$$F_{net} = F_{21} + F_{31} = 0.72 + 0.4 = 1.12 \text{ N}$$

• إذا أبعدت الشحنة (q_2) نهائياً عن الشحنتين (q_1, q_3)، فهل تزداد القوة الكهربائية المؤثرة في الشحنة (q_1) أم

تقل أم لا تتغير؟ برّر إجابتك. تقل 22 (40)

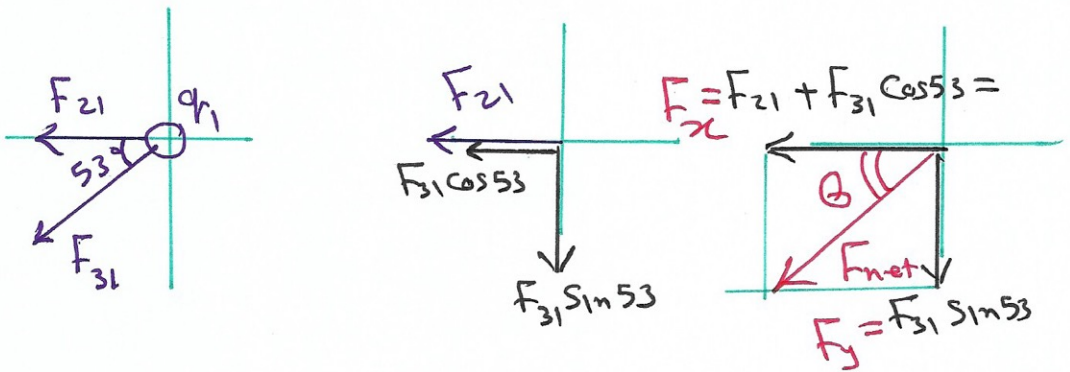
امقاداً على معطيات من 3. ماهي القوة المؤثرة على q_1

almanahj.com موقع المشاهج الإماراتية



$$F_{21} = F_{12} = 8 \times 10^{-5} \text{ N}$$

$$F_{31} = \frac{k |q_3| |q_1|}{r_{31}^2} = \frac{9 \times 10^9 \times 6 \times 10^{-8} \times 4 \times 10^{-8}}{(1)^2} = 2.16 \times 10^{-5} \text{ N}$$



$$F_{\text{net}} = \sqrt{F_x^2 + F_y^2}$$

$$\theta = \tan^{-1} \frac{F_y}{F_x} =$$

(41)

$$F_e = \frac{k |q_1| |q_2|}{r^2}$$

$$9 \times 10^9$$

www.almanahj.com موقع المناهج الإماراتية

$$F_g = \frac{G m_1 m_2}{r^2}$$

$$6.67 \times 10^{-11}$$

سواء كانت >

$$\frac{F_e}{F_g} = \frac{k q_e q_p}{G m_e m_p}$$

$$= \frac{9 \times 10^9 \times (1.6 \times 10^{-19})^2}{6.67 \times 10^{-11} \times 9.11 \times 10^{-31} \times 1.67 \times 10^{-27}}$$

$$= 2.3 \times 10^{39}$$

$$F_e = 2.3 \times 10^{39} F_g$$

القوة الكهربائية أكبر قوة الجاذبية
 سببها ان قيمة ثابت كولوم
 أكبر قيمة ثابت الجذب الكوني

س 6) معتمداً على البيانات في الشكل المجاور، almanahj.com موقع الفاهح الإماراتية



(1) ما نوع القوة بين الشحنتين . **تأخذ**

(2) إذا كانت الشحنة اليمنى موجبة ما نوع الشحنة اليسرى **موجبة**

(3) ما مقدار واتجاه القوة الكهربائية المؤثرة على الشحنة اليسرى ولماذا ؟

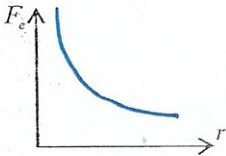
2N ، جهة اليسار ، فؤان صامية مقداراً متاكثاً تماماً
حبا نقا فؤا الثالث لثبوت
 (7) أجب عما يلي :

(1) ما هي العوامل التي يعتمد عليها ثابت كولوم .

1. نوع الوسط 2 وحدات القياس .

(2) قارن بين القوة الكهربائية وقوة الجاذبية حسب الجدول الآتي .

القوة الجاذبية	القوة الكهربائية	
مجالية ، غير مجالية	حاليه	مجالية ، غير مجالية
صغيرة ، كبيرة	كبيرة	صغيرة ، كبيرة
تجاذب ، تنافر	تجاذب وتنافر	تجاذب ، تنافر

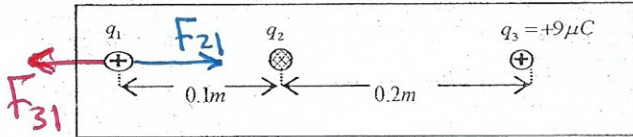


(3) أرسم العلاقة البيانية بين القوة الكهربائية والبعد بين الشحنتين .

(4) ما المقصود بعبارة " أثبت كولوم قانون التربيع العكسي للقوة المتبادلة بين الشحنتين الكهربائية " .

اثبت انه القوة الكهروستاتيكية المتبادلة بين شحنتين متساويتين
عكياً مع مربع البعد بينهما .

س 8) معتمداً على البيانات في الشكل المجاور احسب مقدار الشحنة (q_2) وحدد نوعها إذا علمت أن



الشحنة (q_1) متزنة . **مصلحة القوى = ضد**
 $F_{net} = 0.0$

$$F_{21} = F_{31}$$

$$k \frac{q_2 q_1}{r_{21}^2} = k \frac{q_3 q_1}{r_{31}^2}$$

q_2 البقية . \therefore

$$\frac{q_2}{(0.1)^2} = \frac{9 \times 10^{-6}}{(0.3)^2}$$


$$q_2 = -1 \times 10^{-6} C = -1 \mu C$$

س 9) تؤثر الشحنة (Q) في الشحنة ($q = 3.3 \times 10^{-7} C$) بقوة كهربائية تساوي ($5 \times 10^{-3} N$) باتجاه اليسار كما هو مبين

في الشكل المجاور ، إذا كان الهواء يحيط بالشحنتين :

(1) ما نوع الشحنة (Q) . **موجبة ، لان القوة تنافر / التجاذب سفس النقي .**

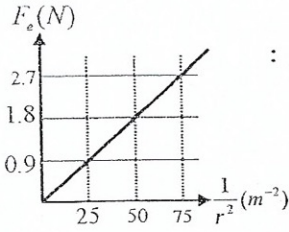
(2) احسب كمية الشحنة (Q) .



$$F = k \frac{qQ}{r^2}$$

$$\Rightarrow Q = \frac{5 \times 10^{-3} \times (0.2)^2}{9 \times 10^9 \times 3.3 \times 10^{-7}}$$

س10) الشكل المجاور يمثل العلاقة البيانية بين القوة الكهربائية بين شحنتين



نقطيتين متساويتين ومقلوب مربع البعد بينهما , معتمداً على الشكل أجب عما يلي :

(1) احسب ميل الخط البياني .

(2) ماذا يمثل ميل الخط .

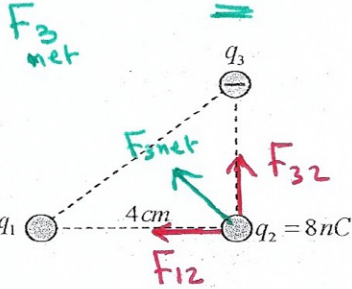
(3) احسب مقدار كل من الشحنتين .

(4) احسب مقدار القوة الكهربائية المتبادلة بين الشحنتين عندما يكون البعد بينهما (0.5m).

س11) وضعت ثلاث شحنات نقطية عند رؤوس مثلث قائم الزاوية كما في الشكل , إذا كانت القوة التي تؤثر بها

الشحنة (q_2) على الشحنة (q_3) تساوي ($1 \times 10^{-4} N$) وكانت محصلة القوة على الشحنة (q_2) تساوي ($1.35 \times 10^{-4} N$)

باتجاه شمال غرب :



(1) حدد نوع كل من الشحنتين (q_1) و (q_2) ؟

q_2 موجب ، q_1 سالبة .

(2) احسب مقدار الشحنة (q_1) .

$$F_{32} = F_{23} = 1 \times 10^{-4} N$$

$$F_{net}^2 = F_{12}^2 + F_{32}^2$$

$$(1.35 \times 10^{-4})^2 = F_{12}^2 + (1 \times 10^{-4})^2$$

$$\therefore F_{12} = 9.06 \times 10^{-5} N$$

$$F_{12} = k \frac{q_1 q_2}{r_{12}^2}$$

$$\therefore q_1 = \frac{F_{12} \times r_{12}^2}{k \times q_2} = \frac{9.06 \times 10^{-5} \times (0.04)^2}{9 \times 10^9 \times 8 \times 10^{-9}}$$

$$\approx 16 \times 10^{-9} C$$

44

$$1] \text{ الجهد } = m = \frac{2-7-0.9}{75-25} = 0.036$$

$$2] \text{ الجهد } = \frac{F}{\frac{1}{r^2}} = F \times r^2 = \frac{kq_1q_2}{r^2} \times r^2$$

$$= kq_1q_2$$

$$= kq^2$$

$$3] 0.036 = 9 \times 10^9 q^2$$

$$q = \sqrt{\frac{0.036}{9 \times 10^9}} = 2 \times 10^{-6} \text{ C}$$

$$4] \text{ الجهد } = F \times r^2$$

$$0.036 = F \times (0.5)^2 \Rightarrow F = 0.144 \text{ N}$$

$$\text{أو } F = k \frac{q_1q_2}{r^2} =$$

س 12

في لحظة الانشطار النووي، تنقسم نواة اليورانيوم ^{235}U التي تحتوي على 92 بروتوناً إلى نواتين جديديتين ربما عدد البروتونات نفسه ونصف قطر كل منهما $5.9 \times 10^{-15} \text{ m}$ ما مقدار قوة التفاعل بينهما؟

$$q_1 = q_2 = \frac{92}{2} \times 1.6 \times 10^{-19} = 73.6 \times 10^{-19} \text{ C}$$

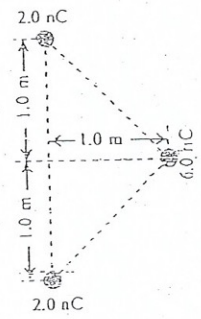
$$r = 2 \times 5.9 \times 10^{-15} \text{ m}$$

$$\therefore F_e = 8.99 \times 10^9 \frac{(73.6 \times 10^{-19})^2}{(2 \times 5.9 \times 10^{-15})^2}$$

$$F_e = 3.5 \times 10^3 \text{ N} \text{ تنافر}$$

س 13

وضعت ثلاث شحنات نقطية عند رؤوس مثلث كما في الشكل 32-1. جذ مقدار القوة الكهربائية التي تؤثر في الشحنة 6.0 nC .



الشكل 32-1

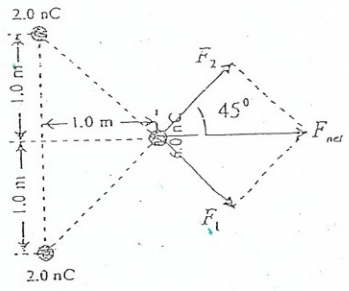
$$F_1 = F_2 = 8.99 \times 10^9 \times \frac{2 \times 10^{-9} \times 6 \times 10^{-9}}{(\sqrt{2})^2} = 5.4 \times 10^{-8} \text{ N}$$

وبما أن القوتين متعامدتان فإن محصلتهما تحسب كالتالي

$$F_{net} = \sqrt{(5.4 \times 10^{-8})^2 + (5.4 \times 10^{-8})^2}$$

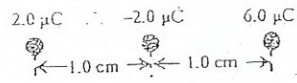
$$\therefore F_{net} = 7.6 \times 10^{-8} \text{ N}$$

أما اتجاه هذه القوة فهي بنصف الزاوية بين القوتين بسبب تساويهما وبالتالي يكون باتجاه التيمين لاحظ الشكل



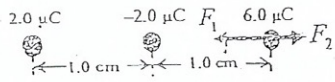
س 14

وضعت ثلاث شحنات نقطية في الهواء على المحور x كما في الشكل 33-1. جذ مقدار القوة التي تؤثر في الشحنة $6.0 \mu\text{C}$.



الشكل 33-1

الشحنة $6.0 \mu\text{C}$ يؤثر بها قوتان لاحظ الشكل



$$F_1 = 8.99 \times 10^9 \times \frac{6 \times 10^{-6} \times 2 \times 10^{-6}}{(1 \times 10^{-2})^2} = 1.07 \times 10^3 \text{ N}$$

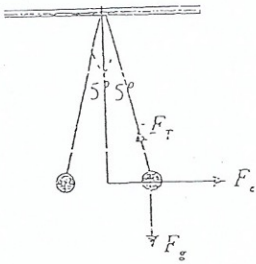
$$F_2 = 8.99 \times 10^9 \times \frac{6 \times 10^{-6} \times 2 \times 10^{-6}}{(2 \times 10^{-2})^2} = 270 \text{ N}$$

وبما أن القوتان متعاكستان فإن محصلتهما حاصل طرح مقداريهما أي أن

$$F_{net} = 1.07 \times 10^3 - 270 = 800 \text{ N} \text{ غرباً}$$

25 (46)

كرتان معدنيّتان صغيرتان، كتلة كل منهما 0.20 g، تتدليان كالبنسوزل من النقطة نفسها بواسطة خيط خفيف. شحنتنا كوربائياً بنفس نوع الشحنة ومقدارها، فأصبحتا في حالة اتزان بعد أن مال كل خيط بزاوية 5.0° مع الرأس. ما مقدار شحنة كل منهما إذا كان طول الخيط 30.0 cm



$$\Sigma F_x = F_e - F_T \cos(95) = \text{Zero}$$

$$\therefore 8.99 \times 10^9 \frac{q^2}{(2 \times 26.2 \times 10^{-3})^2} = 87.2 \times 10^{-3} F_T$$

$$3.27 \times 10^{12} q^2 = 87.2 \times 10^{-3} F_T \text{-----(1)}$$

$$\Sigma F_y = F_T \sin(95) - F_g = \text{Zero}$$

$$0.996 F_T = 0.2 \times 10^{-3} \times 9.81$$

$$\therefore F_T = 1.97 \times 10^{-3} \text{ N-----(2)}$$

وبتعويض 2 في 1 نحصل على :

$$q^2 = 5.25 \times 10^{-17} \Rightarrow q = \pm 7.25 \times 10^{-9} \text{ C}$$

س 17

يحتوي 1.00 g من الهيدروجين على 6.02×10^{23} ذرة تحتوي كل منها على إلكترون واحد وبروتون واحد. افترض فصل الإلكترونات عن البروتونات في الـ 1.00 g من الهيدروجين، بحيث توضع البروتونات في القطب الشمالي للأرض، والإلكترونات في القطب الجنوبي. جد مقدار القوة المحصلة الضاغطة على الأرض. (نصف قطر الأرض يساوي 6.38×10^6 m تقريباً).

$$q_1 = q_2 = 1.6 \times 10^{-19} \times 6.02 \times 10^{23} = 96.3 \times 10^3 \text{ C}$$

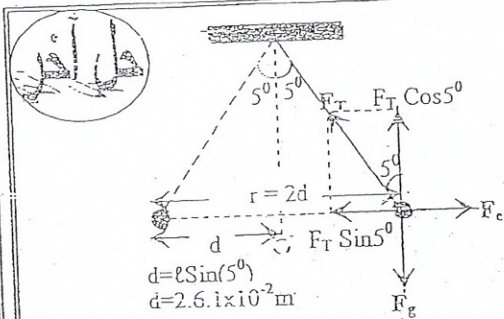
$$\therefore F_e = 8.99 \times 10^9 \frac{(96.3 \times 10^3)^2}{(2 \times 6.38 \times 10^6)^2} = 512 \times 10^3 \text{ N}$$

$$F_e = F_g$$

$$K_c \frac{q^2}{r^2} = G \frac{mM}{r^2}$$

$$q^2 = \frac{6.67 \times 10^{-11} \times 7.36 \times 10^{22} \times 5.98 \times 10^{24}}{8.99 \times 10^9}$$

$$q^2 = 32.7 \times 10^{48} \Rightarrow q = \pm 5.71 \times 10^{13} \text{ C}$$



بما أن الكرتين اتزننا فإن محصلة القوى = صفر

$$\Sigma F_x = F_e - F_T \sin(5^\circ) = 0.0$$

$$\Rightarrow F_e = F_T \sin(5^\circ) \text{-----(1)}$$

كذلك

$$\Sigma F_y = F_T \cos(5^\circ) - F_g = 0.0$$

$$\Rightarrow F_g = F_T \cos(5^\circ) \text{-----(2)}$$

وبقسمة المعادلة 1 على 2 نحصل على :

$$\frac{F_e}{F_g} = \frac{F_T \sin(5^\circ)}{F_T \cos(5^\circ)}$$

$$\Rightarrow \left(\frac{K_c q^2}{r^2} \right) / mg = \tan(5^\circ)$$

$$q^2 = 5.25 \times 10^{-17} \Rightarrow q = \pm 7.25 \times 10^{-9} \text{ C}$$

س 16

القمر (m = 7.36 × 10²² kg) مقيّد في فلكه بالأرض بسبب الجاذبية. لتفرض أن تجاذبهما ليس بسبب الجاذبية، بل لأنهما يحملان شحنتين مختلفتين في النوع، لكن متساويتين في المقدار. ما مقدار شحنة كل منهما لكي يتجاذبا بالقوة نفسها؟