

تم تحميل هذا الملف من موقع المناهج السعودية



موقع المناهج السعودي

* للحصول على أوراق عمل لجميع الصفوف وجميع المواد اضغط هنا

<https://www.almanahj.com/sa>

* للحصول على أوراق عمل لجميع مواد الصف الرابع اضغط هنا

<https://almanahj.com/sa/4>

* للحصول على جميع أوراق الصف الرابع في مادة رياضيات ولجميع الفصول, اضغط هنا

<https://almanahj.com/sa/4math>

* للحصول على أوراق عمل لجميع مواد الصف الرابع في مادة رياضيات الخاصة بـ الفصل الثاني اضغط هنا

<https://www.almanahj.com/sa/4math2>

* لتحميل كتب جميع المواد في جميع الفصول للـ الصف الرابع اضغط هنا

<https://www.almanahj.com/sa/grade4>

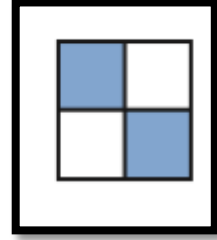
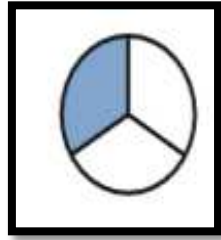
للحصول على جميع روابط الصفوف على تلغرام وفيسبوك من قنوات وصفحات: اضغط هنا

<https://t.me/sacourse>

اختبار الفصل العاشر (الكسور العشرية) للصف الرابع

اسم الطالب:

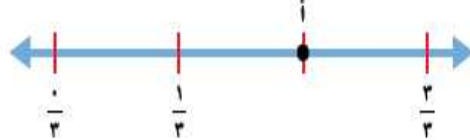
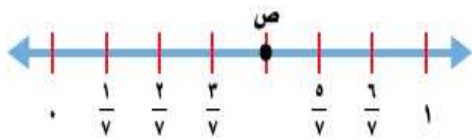
السؤال الأول: أكتب الكسر الذي يمثل الجزء المظلل ثم اوجد الكسر المكافئ له



ما الكسر الذي يمثل كل نقطة فيما يأتي:


النقطة ص =

النقطة أ =




السؤال الثاني:

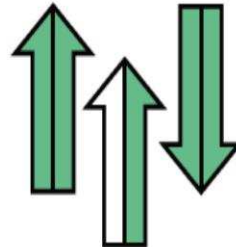
اكتب العدد الكسري والكسر غير الفعلي لكل تمثيل فيما يأتي:



١٢



١٣



١٤