



# مدرسة توام النموذجية الخاصة بالعين

## 26

### مثال محلول +7 تمارين

### الصف الثاني عشر العلمي

### تطبيقات على القيم القصوي المطلقة

[www.almanahj.com](http://www.almanahj.com)

### (القيم المتلي)

### الفصل الدراسي الثاني

### إعداد : أهلال حسين

## مدرسة خليفة بن زايد الثانوية

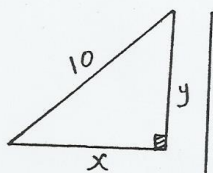
والعين

"قطبتان على القيم لقصوى"

"أفضل محاولة" إعداد: أ. هلال حسين

(أ) يراد رسم مثلث قائم الزاوية طول وتره  $10\text{ cm}$ ، وأوجر طوليه ضلعي القائمة  $(5\sqrt{2}\text{ cm}, 5\sqrt{2}\text{ cm})$  حيث يكون محيطه أكبر ما يمكن.

الحل



$$(T) \text{ المحيط} = y + 10 + x$$

$$(T) = x + 10 + \sqrt{100 - x^2} : x \in [0, 10]$$

$$\frac{dT}{dx} = 1 - \frac{2x}{2\sqrt{100 - x^2}} = 0$$

$$x^2 + y^2 = 100$$

$$\Rightarrow y = \sqrt{100 - x^2}$$

$$1 = \frac{x}{\sqrt{100 - x^2}} \Rightarrow \sqrt{100 - x^2} = x$$

(بالترتيب)

$$\Rightarrow 2x^2 = 100$$

$$\Rightarrow x = \frac{10}{\sqrt{2}} = 5\sqrt{2} \in ]0, 10[$$

$$\sqrt{50} \in ]0, 10[$$

∴ م. قيم  $x$  للنقاط الحرجة هي  $\{5\sqrt{2}\}$

$$24,14 = |T|_{x=5\sqrt{2}} \quad , \quad 20 = |T|_{x=10} \quad , \quad 20 = |T|_{x=0}$$

∴ توجد قيمة "عظمى" محيطة عند  $x = 5\sqrt{2}$

ويكون المحيط الأكبر ما يمكن عندما يكون طوليه ضلعي القائمة

$$5\sqrt{2} \quad , \quad 5\sqrt{2}$$

#

(1)

إعداد: أ. هلال حسين

(2) يبيع مصنع تلفزيونات (x) جهازاً من صنعاته الأسبوعياً ، فإذا كان غن  
بيع الجهاز لوأحد هو  $(-\frac{5}{3}x + 1150)$  وتكلفة إنتاج هذه الأجهزة هو  
 $(100000 + 30x + 0.2x^2)$  درهماً، وأوجد عدد الأجهزة التي يجب أن يبيعها  
المصنع أسبوعياً حتى يحقق أكبر ربح ممكن  
(جهاز 300)

الحل

دالة الربح = دالة البيع - دالة التكلفة

$$P(x) = x(-\frac{5}{3}x + 1150) - (0.2x^2 + 30x + 100000)$$

$$\Rightarrow P(x) = -\frac{5}{3}x^2 + 1150x - 0.2x^2 - 30x - 100000$$

$$\Rightarrow P'(x) = -\frac{10}{3}x + 1150 - 0.4x - 30$$

$$\Rightarrow P'(x) = -\frac{56}{15}x + 1120 = 0$$

$$\Rightarrow x = \frac{15}{56} \times 1120 = 300$$

$$\therefore P''(x) = -\frac{56}{15}$$

$$P''(300) = -\frac{56}{15} < 0 \Leftrightarrow x = 300$$

∴ توجد قيمة غنم محلية وهي 300 وحدة

∴ هي القيمة التي تحققها الخطة عند  $x = 300$

∴ عدد الأجهزة التي يجب بيعها للمصنع أسبوعياً 300 جهازاً

لاحتققه لأبزر ربح ممكن

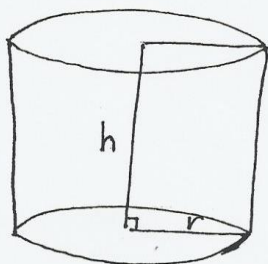
#

إعداد: أهلال حسين

(2)

(3) يراد صنع خزان من المعدن على شكل اسطوانة دائرية قائمة عطفه سعترا  
ثابتة وتساوي  $(128)\pi \text{ m}^3$  (أو بعد لأبعاد الخزان لتكون كمية المعدن المستخدم  
في صنعه أقل ما يمكن.

$$(r=4\text{cm}, h=8\text{cm})$$



المعادلة المساعدة :-  
 $\therefore S = \pi r^2 h$   
 $128\pi = \pi r^2 h$   
 $h = \frac{128}{r^2}$   
 حيث  $h > 0, r > 0$

الحل  
 المساحة الكلية =  $2\pi r h + 2\pi r^2$

$$A = 2\pi r * \frac{128}{r^2} + 2\pi r^2$$

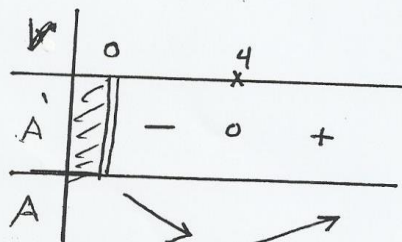

$$\Rightarrow A = \frac{256\pi}{r} + 2\pi r^2$$

$$\Rightarrow A' = \frac{-256\pi}{r^2} + 4\pi r = 0$$

$$\Rightarrow \frac{-256\pi}{r^2} = 4\pi r$$

$$\Rightarrow \frac{-256}{r^2} = 4r$$

$$\therefore r = 4\text{m}.$$



توجد قيمة صغرى محلية وهي الوحيدة

بهي لقيمة الصغرى المطلقة عند  $r = 4\text{m}$

$$\therefore h = \frac{128}{16} = 8\text{m}.$$

∴ أبعاد الخزان هي  $r = 4\text{m}$  و  $h = 8\text{m}$  لتكون كمية المعدن  
المستخدم صنعة أقل ما يمكن

(3)

إعداد: أ. هلال حسين



(4) تبيع شركة للحيوانات الأليفة نوعاً من البسليين في عبوات خاصة فاذا كانت دالة  
البيع  $h(x) = 20x$  ، ودالة لتكلفة:  $S(x) = 5000 + 8x + 0.003x^2$   
حيث  $x$  عدد لحيوانات المنتجة يومياً وكل من  $h(x)$  و  $S(x)$  بالبراهم، ووجد عدد لحيوانات التي  
يجب أن تنتجها الشركة يومياً لتحقيق أكبر ربح ممكن  
(عبوة 2000)

الحل

$$\therefore L(x) = h(x) - S(x)$$

$$\Rightarrow L(x) = 20x - 5000 - 8x - 0.003x^2$$

$$\Rightarrow L'(x) = 20 - 8 - 0.006x = 0$$

$$\Rightarrow 12 = 0.006x$$

$$\Rightarrow \boxed{x = 2000}$$

$$\therefore L''(x) = -0.006x$$

$$L''(2000) < 0 \Leftrightarrow x = 2000 \text{ عند}$$

توجد قيمة عظمى محلية وهي لحيوية

هي لحيوية لحيوية لحيوية عند  $x = 2000$

عدد لحيوانات = 2000 عبوة لتحقيق أكبر ربح

#

(5) صاحب مطبعة يرخ عن كل كتاب مبلغ (5) دراهم طالما عدد الكتب المراد طباعتها لا يتجاوز (100) كتاباً فإذا زاد عدد الكتب عن (100) فإن يرخ عن كل كتاب ينقص (2) فلس على كل كتاب زيادة ، لأوجد عدد الكتب الذي يحقق أكبر ربح للمطبعة (كتاباً 200)

الحل

نفرض عدد الكتب لزيادة  $x$

∴ العدد الكلي للكتب  $x + 100$

التخفيض في يرخ الكتاب نظير الزيادة  $= \frac{2}{100}x$   
 $= \frac{1}{50}x$

الربح في كتاب بعد الزيادة  $= (5 - \frac{1}{50}x)$

$$S(x) = (x + 100) \cdot (5 - \frac{1}{50}x)$$

$$S'(x) = \frac{-2}{50}x + 4 = 0$$

$$\Rightarrow x = 100$$

$$S''(x) = \frac{-2}{50} \Rightarrow S''(100) < 0$$

∴ توجد قيمة عظمى محلية وهي الوحيدة .

∴ هي النقطة المطلقة عند  $x = 100$

∴ العدد الكلي للكتب = كتاباً 200 =  $100 + 100$  يحقق بأعلى

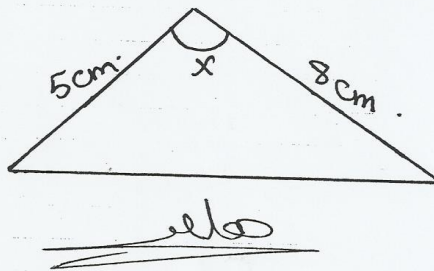
أكبر ربح

#

6) مثلث طولاه ضلعين فيه (5cm) و (8cm) وقاس الزاوية بينهما (x)  
 (أوجد قاس (x) التي تجعل مساحة مثلثه لأكبر ما يمكن

$(\frac{\pi}{2})$  rad.

الحل



$$M = \frac{1}{2} * 8 * 5 * \sin x$$

$$M = 20 \sin x$$

$$\frac{dM}{dx} = 20 \cos x = 0$$

$$\Rightarrow \cos x = \frac{0}{20} = 0$$

$$\Rightarrow x = \frac{\pi}{2}$$

$$\frac{d^2M}{dx^2} = -20 \sin x$$

$$\left. \frac{d^2M}{dx^2} \right|_{x=\frac{\pi}{2}} = < 0$$

$x = \frac{\pi}{2}$  : توجد قيمة غنوة محلية وهي الوحيدة عند

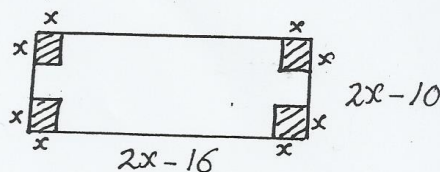
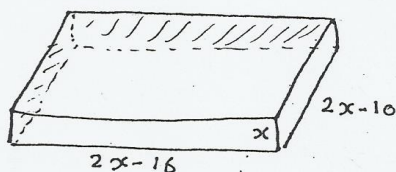
$x = \frac{\pi}{2}$  : هي القيمة الغنوة المطلقة عند

$\frac{\pi}{2}$  rad. = قاس الزاوية

#

إعداد: P / أهلال حسين (6)

(7) قطعة من الخرتون على شكل مستطيل أبعاده (16cm) ، (10cm) ، براد  
صنع صندوق مفتوح من الأعلى وذلك بقطع الأربع مربعات متطابقة عند الزوايا، أبعاد  
أبعاد الصندوق، حيث يكون حجمه أكبر ما يمكن  
( 2cm... )



(V) حجم الصندوق = الطول × العرض × الارتفاع

$$V = (2x-16)(2x-10)x : x \in [0, 5]$$

$$\therefore V = 160x - 52x^2 + 4x^3$$

$$V' = 160 - 104x + 12x^2 = 0$$

$$\therefore 3x^2 - 26x + 40 = 0$$

$$(3x-20)(x-2) = 0$$

$$x = \frac{20}{3} \notin ]0, 5[$$

$$\text{أو } x = 2 \in ]0, 5[$$

∴ قيم x للنقاط المحرجه هي {2}

نوجد فيه النقطة المحرمه والنقطة الطرفية

$$V(0) = 0, \quad V(5) = 0, \quad V(2) = 144$$

∴ القيمة العظمى للحجم عند  $x=2$  هي 144

الأبعاد هي 2، 6، 12 تكون الحجم أكبر ما يمكن

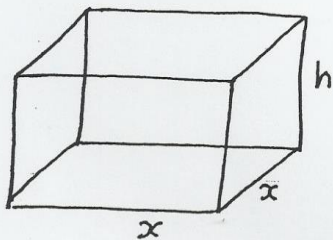
#

(7)

إعداد: / أهلال حسين



(8) أوجد حجم أكبر صندوق على شكل شبه مكعب قاعدته مربعة، لشكل مفتوح  
عن الأعلى يمكن صنعه باستخدام صفائح معدنية مساحتها  $(4800 \text{ cm}^2)$   
 $(32000 \text{ cm}^3)$



المعادلة لمساحة  $x^2 + 4xh = 4800$   
مساحة الكلية (ب)  $x^2 + 4xh = 4800$   
 $\Rightarrow 4xh + x^2 = 4800$   
 $\therefore h = \frac{x^2 + 4800}{4x}$

الحل

$$V = x^2 h$$

$$V = x^2 * \frac{x^2 - 4800}{4x}$$

$$\therefore V = \frac{x^3 - 4800x}{4}$$

$$\therefore V' = \frac{3x^2 - 4800}{4} = 0$$

$$4800 = 3x^2 \Rightarrow x^2 = 1600$$

$$\therefore x = 40$$

$$V'' = \frac{-6}{4} x$$

$$V'' < 0$$

$$x = 40$$

∴ توجد قيمة عظمى محلية وهي الوحيدة.

∴ هي النقطة المحلقة عند  $x = 40$

$$V = \frac{4800x - (40)^3}{4}$$

$$= 32000 \text{ m}^3$$

∴ حجم الصندوق  $32000 \text{ cm}^3$  أكبر ما يمكن

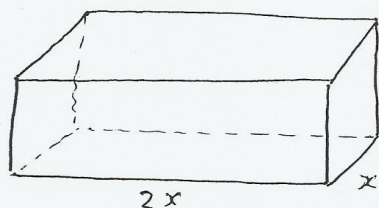
عندما تكون أبعاده  $40, 40, 20 \text{ cm}$

(8)

إعداد: / هلال حسين

9) صندوق على شكل متوازي مستطيلات وله غطاء وجهه (72cm) فإذا كان طول القاعدة نصف عرضها. أوجد الأبعاد للصندوق لتكون مساحته الكلية (أقل ما يمكن) (6, 4, 3)

الحل



المعادلة المساعدة :-

$$V = 2x^2h$$
$$72 = 2x^2h$$

$$h = \frac{36}{x^2}$$

$$A = 6xh + 4x^2$$

$$A = \frac{216}{x} + 4x^2$$

$$A'(x) = -\frac{216}{x^2} + 8x = 0$$

$$\Rightarrow x^3 = 27$$

$$\Rightarrow x = \sqrt[3]{27} = \underline{\underline{3}}$$

$$A''(x) = \frac{2 \times 216}{x^3} + 8$$

$$A'' \Big|_{x=3} > 0$$

∴ توجد قيمة صغرى محلية وهي الوحيدة

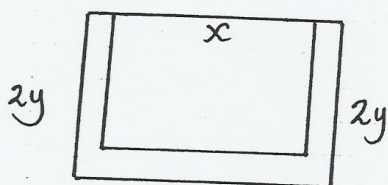
وهي القيمة الصغرى المطلقة

الأبعاد هي 3، 4، 6. تتكون الساحة أقل ما يمكن

##

(10) سلك طوله .. (12 m) ثني على شكل مستطيل بحيث غير لسلك على كل ضلع مرتين مانعا ضلع واحد فقط من عليه حرة واحدة . لا يوجد انبعاد المستطيل حتى تكون مساحته أكبر ما يمكن .

$$\left(\frac{3}{2} m, 2m\right)$$



المعادلة المسماة :-  
 $3x + 4y = 12$

$$4y = 12 - 3x$$

$$y = \frac{12 - 3x}{4}$$

$$y = \frac{12 - 3x}{4}$$

حل

الحل

$$A = xy$$

$$A = x \left( \frac{12 - 3x}{4} \right) : x \in [0, 4]$$

$$A = \frac{12x - 3x^2}{4}$$

$$A'(x) = \frac{12 - 6x}{4} = 0$$

$$\Rightarrow 12 - 6x = 0 \Rightarrow x = 2 \in ]0, 4[$$

مقيم x للنقطة الحرة = 2

نفسه في المساحة و بعض الطريقة

$$A(0) = 0$$

$$A(2) = 2 \times \frac{6}{4} = 3$$

$$A(4) = 0$$

$$\therefore x = 2 \quad , \quad y = \frac{12 - 6}{4} = \frac{3}{2}$$

الابعاد المستطيل =  $\frac{3}{2} m, 2m$  تحصل  $\hookrightarrow$  صفة أكبر ما يمكن

#



(11) (وجود عددين حقيقيين مجموعهما 40 بحيث يكون مجموع مربوعيهما لأقل ما يمكن  
(20, 20)

الحل

المعادلة المساعدة

$$y + x = 40$$

$$y = 40 - x$$

حل

العدد الأول  $x$ ، الثاني  $y$

$$x^2 + y^2 = h$$

$$h = x^2 + (40 - x)^2 \quad ; \quad x \in [0, 40]$$

$$h' = 2x + 2(40 - x) \cdot -1$$

$$h' = 2x - 2(40 - x)$$

$$h' = 2x - 80 + 2x = 4x - 80 = 0$$

$$x = 20 \in ]0, 40[$$

$$h(0) = (40)^2 = 1600$$

$$h(20) = (20)^2 + (20)^2 = 800 \Rightarrow \text{قيمة صغرى}$$

$$h(40) = (40)^2 = 1600$$

العددان هما

$$20, 20.$$

#

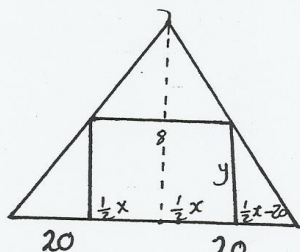
(11)

إعداد: / أهلال حسين



(12) مثلث متساوي الساقين قاعدته 40cm، وارتفاعه 8cm يناد قطع  
مستطيل عند قعر رأسه عند أعلى قاعدة المثلث والرأسان الآخران على الساقين. أوجد  
أكبر مساحة لهذا المستطيل

(80cm<sup>2</sup>)



معادلة مساحة =

$$\frac{\frac{1}{2}x - 20}{5 \times 20} = \frac{y}{8 \times 2}$$

$$\frac{y}{2} = \frac{x}{10} - \frac{20}{5}$$

$$y = \frac{x}{5} - 8$$

الحل

$$A = yx$$

$$A = x(8 - \frac{x}{5}) : x \in [0, 40]$$

$$A = 8x - \frac{x^2}{5}$$

$$A' = 8 - \frac{2}{5}x = 0$$

$$8 = \frac{2}{5}x \Rightarrow x = 20 \in ]0, 40[$$

$$A(0) = 0, A(40) = 0$$

$$A(20) = 20(8 - 4) = 20 \times 4 = \underline{\underline{80}}$$

قيمة أعلى منطقة

∴ تكون المساحة الأكبر ما عاين عندما تساوي **80cm**

#

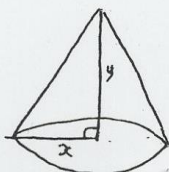
(12)

إعداد: P/ أهلال حسين

(13) حثت قائم الزاوية طول وتره ثابت (9cm) وطول ضلعي لقائمة  $x$  و  $y$  فأضار دار بثلاث حول لأحد ضلعي لقائمة مكونا مخروط. لأوجد أكبر حجم ممكن للمخروط.

$$(54\sqrt{3}\pi\text{cm}^3)$$

الحل



\* معادلة المساحة

$$y^2 = 81 - x^2$$

$$y = \sqrt{81 - x^2}$$

$$x \in [0, 9] \text{ حيث}$$

صلح

$$A = \frac{1}{3} \pi x^2 y$$

$$A = \frac{\pi}{3} x^2 (\sqrt{81 - x^2})$$

$$A' = \frac{2\pi}{3} x \sqrt{81 - x^2} - \frac{2x \times \frac{\pi}{3} x^2}{x \sqrt{81 - x^2}} = 0$$

$$\Rightarrow 2x(81 - x^2) - x^3 = 0$$

$$162x - 2x^3 - x^3 = 0$$

$$\Rightarrow 54x - x^3 = 0 \Rightarrow x(54 - x^2) = 0$$

$$x = 0 \notin ]0, 9[$$

$$x = \sqrt{54} \in ]0, 9[$$

$$A(0) = 0$$

$$A(\sqrt{54}) = 54\sqrt{3}\pi$$

$$A(9) = 0$$

$$54\sqrt{3}\pi\text{cm}^3 = \text{الأكبر قيمة للحجم}$$

#

$$x = 3\sqrt{6}, 3\sqrt{3} \text{ cm}$$

إعداد: أ / أهلال حسين

(13)

(14)  $(y = x^3 - 6x^2 + 5)$  عين لتمام المنحنى التي يكون ميلها عند  $x = 2$   $(2, -11)$  عابن ...

الحل  
من الميل  
 $m = \frac{dy}{dx}$   
 $m = 3x^2 - 12x$   
 $m' = 6x - 12 = 0$   
 $\Rightarrow \boxed{x = 2}$   
حاله  
 $m'' = 6$

[www.almanahj.com](http://www.almanahj.com)

∴ توجد قيمة صفرية محلية وهي الوحيدة  
∴ هي القيمة الصفرية المطلقة.

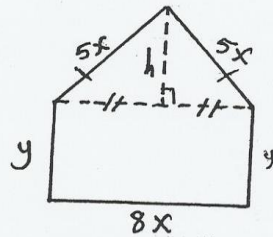
$x = 2 \Rightarrow y = -11$   
النقطة  $(2, -11)$  ويكون الميل عند  $x = 2$  عابن

#

(14)

إعداد: P / طارق حسين

(15) سلك طوله 90cm كما هو موضح بالشكل المجاور (الشكل الخامس) (أوجد أكبر مساحة يمكنه لبنها لشكل).  
(540cm<sup>2</sup>)



المعادلة المساحة

$$90 = 2y + 18x$$

$$\Rightarrow y = 45 - 9x$$

$$h^2 = 25x^2 - 16x^2$$

$$h^2 = 9x^2 \Rightarrow h = 3x$$

الحل

$$A = 8xy + \frac{1}{2} 8xh$$

$$A = 8x(45 - 9x) + 4x \cdot 3x$$

$$A = 360x - 72x^2 + 12x^2$$

$$A = 360x - 60x^2; x \in [0, 15]$$

$$A' = 360 - 120x = 0$$

$$\Rightarrow x = 3 \in ]0, 15[$$

$$A(0) = 0$$

$$A(15) = 300$$

$$A(3) = 540$$

∴ قيمة عظمى مساحتها عند  $x = 3$

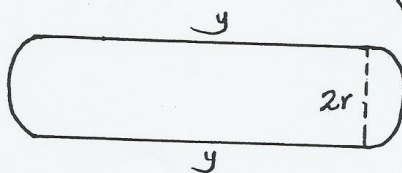
∴ أكبر قيمة للمساحة هي  $540\text{cm}^2$

##



(15) ملعب دائري شكل مستطيل ينتهي بنصف دائرة محيطه (240m)، وأوجد طول نصف قطر الدائرة حتى تكون مساحته أكبر ما يمكن ( $\frac{120}{\pi}$  m.)

الحل



المعادلة المسماة

$$240 = 2y + 2\pi r$$

$$120 = y + \pi r$$

$$y = 120 - \pi r$$

حل

$$\therefore V = y * 2r + \pi r^2$$

$$V = (y) * 2r + \pi r^2$$

$$V = 2r(120 - \pi r) + \pi r^2$$

$$V = 240r - \pi r^2$$

$$V' = 240 - 2\pi r = 0 \Rightarrow r = \frac{120}{\pi}$$

$$V'' = -2\pi$$

$$V'' < 0$$

$$r = \frac{120}{\pi}$$

∴ توجد قيمة عظمى محلية وهي الوحيدة.


∴ هي العظمى المطلقة عند  $r = \frac{120}{\pi}$

∴ تكون المساحة أكبر ما يمكن عند  $r = \frac{120}{\pi}$  m

##

(17) الأرض على محاذلة فهد لآراء صاحبها إحاطة جملانبراً ثلاثية بمساح طولها (800m)، (أوجد أبعاد هذه الأرض حتى تكون مساحتها أكبر ما يمكن (200m, 400m)

الحل



المحاذلة مساحتها =  $x \cdot y$

$$2y + x = 800$$

$$y = \frac{800 - x}{2}$$

$$y = 400 - \frac{x}{2}$$

$$A = x \cdot y$$

$$A = x \left( 400 - \frac{x}{2} \right) : x \in [0, 800]$$

$$A = 400x - \frac{x^2}{2}$$

$$A' = 400 - x = 0$$

$$\Rightarrow x = 400 \in ]0, 800[$$

م. قيم  $x$  للنقطة  $A$  هي  $\{400\}$  ...

$$A(0) = 0 \quad \underline{\text{هنا}}$$

$$A(800) = 0$$

$$A(400) = 80000 \Rightarrow \text{قيمة عظمى محققة عند } x = 400$$

$$\therefore y = 400 - \frac{400}{2} = 400 - 200 = \boxed{200 \text{ m}}$$

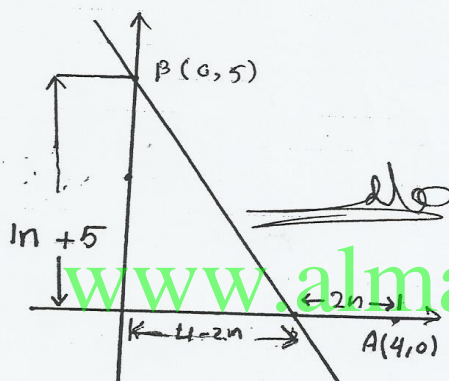
∴ الأبعاد هي 200 ، 400

///

(17)

إعداد: م/ أهلال حسين

(18) بدأت نقطة تتحرك من  $A(4,0)$  على محور السينات باتجاه نقطة الأصل بسرعة (ثانية واحدة 2) وفي نفس اللحظة بدأت نقطة (أخرى) بالحركة من نقطة  $B(0,5)$  مبتعدة عن نقطة الأصل على محور الصادات بسرعة منتظمة (ثانية واحدة 1) حتى يكون البعد بين النقطتين أقل ما يمكن (بعد 0.65)



$$F = \sqrt{(4-2n)^2 + (n+5)^2}$$

$$F' = \frac{2(4-2n) \cdot (-2) + 2(n+5)}{2\sqrt{(4-2n)^2 + (n+5)^2}}$$

$$F' = \frac{10n - 6}{2\sqrt{(4-2n)^2 + (n+5)^2}}$$

$$F' = 0 \Rightarrow 10n - 6 = 0 \Rightarrow n = 0.6$$

$x$		0.6	
$F'$	-	0	+
$F$			

∴ توجد قيمة صغرى محلية وهي الوحيدة.

∴ هي القيمة الصغرى المطلقة عند  $n = 0.6$

∴ عند  $x = 0.6$  يكون البعد أقل ما يمكن

#

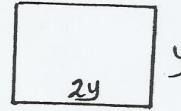
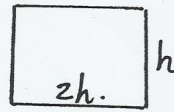


(19) سلك طوله (60 cm) قطع إلى جزأين فتكون من كل جزء مستطيل طوله نصف عرضه (أوجد أقل مساحة ممكنة للمستطيلين)

(100 cm<sup>2</sup>)

الحل

$$60 - x \quad * \quad x$$



المعادلة المساعدة :-

$$2y = x$$

$$y = \frac{x}{2}$$

$$2h = 60 - x$$

$$h = 10 - \frac{x}{2}$$

$$A = 2(y^2) + 2(h^2)$$

$$A = 2\left(\frac{x^2}{4}\right) + 2\left(10 - \frac{x}{2}\right)^2 \quad x \in [0, 60]$$

$$A = \frac{x^2}{2} + 2\left(100 - 10x + \frac{x^2}{4}\right)$$

$$A = \frac{2x^2}{2} - \frac{20}{2}x + 200$$

$$A = \frac{x^2}{1} - \frac{20}{1}x + 200$$

$$\frac{dA}{dx} = \frac{2x}{1} - \frac{20}{1} = 0 \Rightarrow x = 30 \in [0, 60]$$

نقطة صفر

$$A(0) = 200$$

$$A(30) = 100 \leftarrow x = 30 \text{ قيمة صفرية حادة عند}$$

$$A(60) = 400$$

$$100 \text{ cm}^2 = \text{أقل مساحة}$$

(19)

إعداد: أ / أهلال حسين



(20) جسم يتحرك حسب العلاقة  $S = n^3 - 6n^2 + 24n + 15$  (أوجد أقل سرعة ممكنة له.)

(12 m/s)

الحل

$$S = n^3 - 6n^2 + 24n + 15$$

$$\therefore V = 3n^2 - 12n + 24$$

$$S = v$$

$$V' = 6n - 12 = 0 \Rightarrow n = 2$$

$$V'' = 6 \Rightarrow V''|_{n=2} = 6 > 0$$

حله

توجد قيمة سرعة جليد وهي اقلية  
في لحظة اقلية الجليد عند  $n=2$

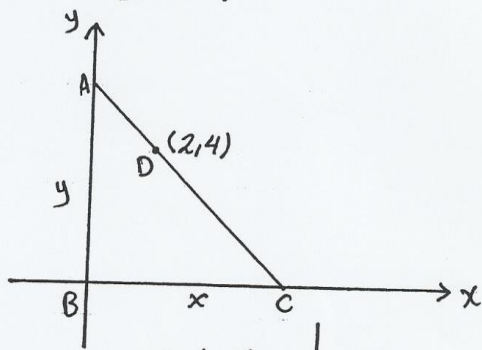
$$V|_{n=2} = 12 \text{ m/s}$$

#

(20)

إعداد: أهلال حسين

(21) في لشكل المرسوم: (أوجد أقل مساحة ممكنة للمثلث ABC  
(وحدة مربعة 16)



الميل  
↑  
 $m(\overline{CD}) = m(\overline{DA})$

$$\frac{4}{2-x} = \frac{y-4}{0-2}$$

$$(2-x)(y-4) = -8$$

$$y-4 = \frac{8}{x-2}$$

$$y = \frac{8}{x-2} + 4$$

$$\therefore y = \frac{4x}{x-2}$$

$$\therefore A = \frac{1}{2} xy$$

$$A = \left(\frac{1}{2} x\right) \left(\frac{4x}{x-2}\right)$$

$$A = \frac{2x^2}{x-2}$$

$$A' = \frac{2x^2 - 8x}{(x-2)^2} = 0$$

$$4x^2 - 8x = 0$$

$$\Rightarrow x(2x-8) = 0$$

$$x > 0 \Rightarrow \text{مرغوبة } x=0$$

$$2x = 8 \Rightarrow x = 4$$

x	4
A'	- 0 +
A	↘ ↗

توجد قيمة صغرى هي 16 وهي الجواب

$$\therefore \text{هي القيمة المحلقة } x=4 \Rightarrow A(4) = 16 \times 2 = 32$$

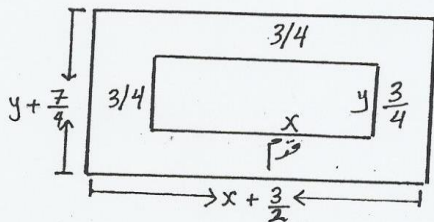
أعلى مساحة ممكنة هي 32 وحدة مربعة

(21)

إعداد: أهلال حسين

(22) لوحة مستطيلة الشكل محيطها (24) قدم يراد عمل إبلان على الأبر  
مساحة حيز بشرط أن يترك هامشاً من أسفله وعرضه قدم واحد وثلاثة أحواعش  
من الجوانب الأخرى عرض كل حيز  $\frac{3}{4}$  قدم، (أحسب بعدي للوحة  
(قدم  $\frac{7}{4}$ ،  $\frac{3}{4}$ ،  $\frac{1}{4}$ )

الحل



المعادلة المساءة :-  

$$24 = 2(x + \frac{3}{4} + y + \frac{7}{4})$$

$$24 = 2(x + \frac{3}{2} + y + \frac{7}{4})$$

$$\therefore y = 12 - x - \frac{13}{4}$$

$$y = \frac{35}{4} - x$$

$$\therefore x \in [0, \frac{35}{4}]$$

$$A = xy$$

$$A = x(\frac{35}{4} - x)$$

$$A = \frac{35}{4}x - x^2$$

$$A = \frac{35}{4} - 2x = 0$$

$$\Rightarrow x = \frac{35}{8} \in [0, \frac{35}{4}]$$

أقيم  $x$  للنظام المرجحة صح

$$\underline{\underline{\text{حالا}}}. \left\{ \frac{35}{8} \right\}$$

$$A(0) = 0$$

$$A(\frac{35}{4}) = 0$$

$$A(\frac{35}{8}) = (\frac{35}{8})^2$$

قيمة  $x$  تظهر  
مطلقة عند  $x = \frac{35}{8}$

$$\frac{35}{8} + \frac{3}{2} = 0 \frac{7}{8} \text{ قدم} = \text{عرض اللوحة} =$$

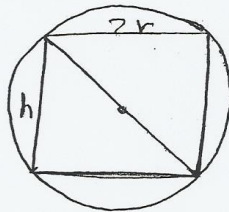
$$\# \frac{35}{8} + \frac{7}{4} = 6 \frac{1}{8} \text{ قدم} = \text{طول اللوحة} =$$

(22)

إعداد: P / هلال حسين

23) إيجاد ارتفاع (سحوانة دائرية قائمة ذات أكبر حجم والتي يكون رسمها داخل كرة نصف قطرها  $3\sqrt{3}$  cm

(6cm)



المعادلة المساعدة :-

$$\therefore h^2 = 108 - 4r^2$$

$$h = \sqrt{108 - 4r^2}$$

حيث  $h > 0, r > 0$

الحل

الحل

$$\therefore V = \pi r^2 h$$

$$V = \pi r^2 \sqrt{108 - 4r^2}$$

$$V' = 2\pi r \cdot \sqrt{108 - 4r^2} - \frac{8r \cdot \pi r^2}{2\sqrt{108 - 4r^2}}$$

$$V' = \frac{2\pi r \cdot 108 - 8\pi r^3}{2\sqrt{108 - 4r^2}} = \frac{4\pi r^3}{\sqrt{108 - 4r^2}}$$

$$V' = \frac{216\pi r - 12\pi r^3}{\sqrt{108 - 4r^2}}$$

$$V' = 0 \Rightarrow 216\pi r - 12\pi r^3 = 0$$

$$12\pi r(18 - r^2) = 0$$

$$r = 0 \text{ مرفوضة, } r = \sqrt{18}$$

r	$\sqrt{18}$
V'	+
V	↗ ↘

توجد قيمة عظمى للحديد وهي الوحيدة  
وهي الحلقة عند  $r = \sqrt{18}$

$$h = \sqrt{108 - 4 \times 18} = \sqrt{36} = \underline{\underline{6 \text{ cm}}}$$

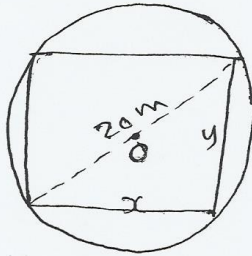
(23)

بإعداد: أهلال حسين



(24) (أوجد مساحة أكبر مستطيل يمكن رسمه داخل دائرة نصف قطرها (10cm) مساحتها  $(200 \text{ cm}^2)$ )

الحل



المعادلة المساعدة

$$y^2 + x^2 = 400$$

$$y = \sqrt{400 - x^2}$$

$$x \in [0, 20]$$

$$A = xy$$

$$A = x(\sqrt{400 - x^2})$$

$$A' = \sqrt{400 - x^2} + \frac{-2x^2}{2\sqrt{400 - x^2}}$$

$$A' = \frac{400 - 2x^2}{\sqrt{400 - x^2}}$$

$$A' = 0 \quad \text{حالة}$$

$$\Rightarrow 400 - 2x^2 = 0$$

$$\Rightarrow x = 10\sqrt{2} \in [0, 20]$$

$$A(0) = 0$$

$$A(10\sqrt{2}) = 200 \leftarrow \text{قيمة عظمى محققة}$$

$$A(20) = 0$$

∴ أكبر مساحة =  $200 \text{ cm}^2$  عند  $x = 10\sqrt{2}$

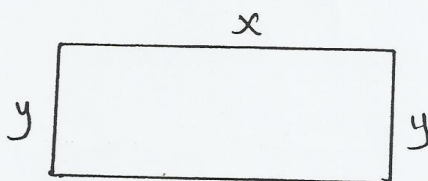
#

(24)

إعداد: ٢ / أهلال حسين

(25) أوجد أبعاد قطعة الأرض مستطيلة يراد إحاطتها بسياج تكلفته (1600) درهم علمنا بأن سعر لتر حديد السياج لأحد الجوانب الأربعة (15) درهم وسعر لتر الجوانب الثلاثة الباقية (5) دراهم بحيث يكون مساحتها الأكبر ما عليه (40m, 80m)

الحل



إعداد المساحة

$$15x + 5x + 5y + 5y = 1600$$

$$\therefore y = 160 - 2x$$

$$x \in [0, 80]$$

$$A = xy$$

$$A = x(160 - 2x)$$

$$A' = 160 - 4x = 0$$

$$160 = 4x$$

$$\Rightarrow \boxed{x = 40}$$

$$x = 40 \in ]0, 80[$$

∴ قيم x للنطاق الجيد هي = 40

$$A(0) = 0$$

$$A(40) = 3200 \leftarrow \text{قيمة عظمى عند } x = 40$$

$$A(80) = 0$$

$$x = 40, y = 160 - 2 \cdot 40 = 80 \text{ الأبعاد المستطيل هي}$$

$$40, 80 \text{ m}$$

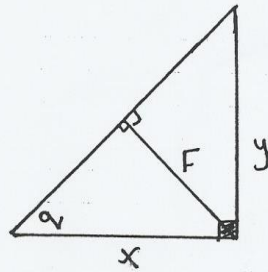
#

(25)

إعداد: أهلال حسين

26) مثلث قائم الزاوية طول وتره 100cm (أوجد طول كل من ضلعي القاعدة بحيث يكون طول العمود المنزل من رأس القاعدة إلى الوتر أكبر ما يمكن.

(150 cm, 150 cm)



$$x^2 + y^2 = 100$$

حيث  $x > 0$

$$y = \sqrt{100 - x^2}$$

والله

الحل

$$\therefore \sin \alpha = \frac{F}{x} = \frac{y}{10}$$

$$\frac{F}{x} = \frac{y}{10}$$

$$10F = xy = x\sqrt{100 - x^2}$$

$$F = \frac{x\sqrt{100 - x^2}}{10}$$

$$\frac{dF}{dx} = \frac{\sqrt{100 - x^2} + \frac{-x^2}{\sqrt{100 - x^2}}}{10}$$

$$\frac{dF}{dx} = \frac{100 - 2x^2}{10\sqrt{100 - x^2}} = 0$$

$$\Rightarrow 100 - 2x^2 = 0 \Rightarrow x^2 = 50$$

$$x = \sqrt{50}$$

x		$\sqrt{50}$	
F'	+	0	-
F	→		↘

توجد قيمة عليا محلية وهي إوجدية عند  $x = \sqrt{50}$

$$\therefore x = \sqrt{50} \quad , \quad y = \sqrt{100 - 50} = \sqrt{50}$$

"أرجو ملاحظتي أن هناك طرفين آخرين للمثلث"

إعداد: أ / أهلال حسين (26)



### \* بعض التمارين \*

(1) إذا أردت أن تنشئ لمنزل حديقة مكونة من مستطيل مزروع بالزهور مساحته  $10m^2$  وطوله حروف يحيط بالزهور عرضه حتر واحد عند كل من ضلعين حقا بلين للمستطيل  $160cm$  عند كل من الضلعين الآخرين، فأوجد بعدي المستطيل لكي تكون مساحة الأرض اللازمة لذلك لأصغر ما يمكنه.  
( $4m, 2.5m$ )

(2) قطعة من الورقة حربة الشكل طول حورها  $24cm$  قطعة من الورق الأربعة الأربعة حركات متساوية وشيت الأجزاء لبارزة لأعناق لتكون عليه على شلال متوازي المستطيلات. أوجد طول ضلع المربع المقطوع حتى يكون حجم إعلبه الأكبر ما يمكنه.  
( $4cm$ )

حللك

(3) مثلث قائم الزاوية في B فيه  $BC = 10cm$  و  $AB = 30cm$ ، أخذت نقطة D على AC ثم رسم  $h \parallel BC$  فقطع AB في h، رسم  $DL \parallel AB$  فقطع BC في L. أثبت أن أكبر مساحة للمستطيل hDBL هي  $75cm^2$ .



(4) إذا كان طول وتر مثلث قائم الزاوية يساوي  $5\sqrt{2}$  م، وأوجد طول ضلعي الزاوية القائمة، حيث تكون مساحة سطح المثلث قيمة غطوة (5، 5..)

(5) حوض بدون غطاء قاعدته أفقية مربعة الشكل وجدرانها مستقيمة الشكل بحيث يسع  $(108 \text{ m}^3)$  من الماء وهو مملوء. لأوجد أقل قيمة لتكاليف نظيئة حوائط الحوض إذا كان عرض الحوض  $4$  دراهم. [www.almarahj.com](http://www.almarahj.com)

(دراهم 432)

حلالة

(6) صندوق على شكل متوازي مستطيلات بدون غطاء وقاعدته مربعة الشكل فإذا كانت سعة الصندوق  $0.108 \text{ m}^3$ ، فأوجد الأبعاد للصندوق عندما تكون مساحة جميع أوجهه الأصغر ما يمكن

(0.3m, 0.6m, 0.6m)

(7) يراد صنع هيكل خارجي لتلاجة تسع  $72 \text{ m}^3$  بحيث يكون طول القاعدة ضعف العرض. لأوجد الأبعاد لتلاجة إذا استخضنا أقل مساحة عملته من المادة المصنوع منها لتسلي

(4m, 6m, 3m)

إعداد: ٢ / صلال حسين (28)