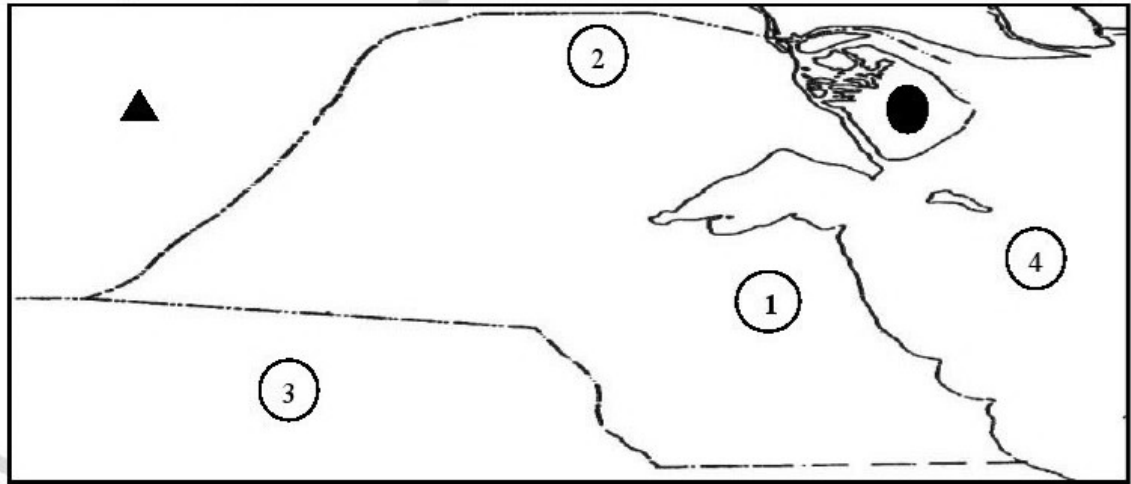


السؤال الأول يتكون من ( أ ، ب ):

أ- ظلل الحرف ( أ ) اذا كانت العبارة صحيحة وظلل الحرف ( ب ) اذا كانت العبارة خاطئة فيما يلي:  
(6 = 6 × 1)

م	العبارة	( أ )	( ب )
1	ذاكرة الشعوب التي تسجل فيها الأحداث هي المتاحف . ص85		
2	يبلغ احتياطي النفط لدولة الكويت بالنسبة للدول العربية 25% ص80		
3	تعتبر الحضرة والقرقور من طرق صيد الأسماك الحديثة . ص85		
4	الصناعات النفطية تسمى البتروكيماويات . ص81		
5	يعتبر ميناء الشعيبية أول ميناء تجاري في دولة الكويت . ص88		
6	تميز المعهد الكويتي للأبحاث العلمية في استزراع بعض الانواع الجيدة من الاسماك . ص85		

ب - امامك خريطة دولة الكويت الصماء , نفذ المطلوب فيما يلي : (6 = 6 × 1)



- مسطح الخليج العربي يمثله على الخريطة الرقم 4.... ص84
- منطقة صبحان الصناعية يمثله على الخريطة الرقم 1... ص81
- منطقة العبدلي الزراعية يمثله على الخريطة الرقم 2... ص84
- المملكة العربية السعودية يمثله على الخريطة الرقم 3.... ص84
- الرمز ● يمثل جزيرة أسمها ...بوبيان... ص84
- الرمز ▲ يمثل دولة عربية مجاورة على الخريطة اسمها ... العراق ... ص84

**السؤال الثاني : يتكون من ( أ - ب - ج ) :**

**أ - اختر الاجابة الصحيحة من بين البدائل فيما يلي : ( 6=6×1 )**

- 1- بدأ الهجوم البري لتحرير دولة الكويت العراقي الغاشم عام 1991م وذلك في يوم : ص 64  
( 17 يناير - 24 يناير - 24 فبراير - 24 مارس )
- 2- المنطقة الصناعية المرتبطة بإصلاح السيارات في دولة الكويت هي : ص 82  
( الأحمدي - الشويخ - الوفرة - الفروانية )
- 3- الوزارة التي تشرف على الهيئة العامة للشباب والرياضة هي: ص 92  
( الشؤون الاجتماعية والعمل - الصحة - الأشغال - الخارجية )
- 4- المورد الهام للدولة والذي يعتبر صناعة القرن الحادي والعشرين : ص 96  
( الزراعة - النفط - الغاز - السياحة )
- 5- الامتناع عن العمل والتعاون مع النظام المحتل بأي شكل من الأشكال يسمى : ص 60  
( الاستثمار - تأميم النفط - العصيان المدني - البتروكيماويات )
- 6- منتزه الخيران من المناطق السياحية في دولة : ص 97  
( الكويت - البحرين - عمان - مصر )

**ب - صنف اسماء المناطق التالية حسب الجدول فيما يلي : ( 4=4×1 ) ص 84**



- الوفرة - الفنتاس - الصليبية - الفحيحيل

مناطق زراعية حديثة	مناطق زراعية قديمة ( قبل النفط)
- الوفرة	- الفنتاس
- الصليبية	- الفحيحيل

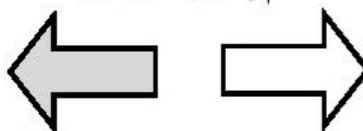
**ج - لون السهم الدال على العبارات التالية: ( 2=2×1 )**



السياحة الداخلية



أهم إنتاجها البيض



**السؤال الثالث: عدد اثنين فقط مما يلي : (8=4×2)**

- 1- معوقات الزراعة في دولة الكويت . ص84  
- فقر التربة  
- قلة المياه  
- شدة الحرارة
- 2- الموانئ التجارية في دولة الكويت . ص88  
- الشويخ  
- الشعبية  
- الدوحة
- 3- أهداف الهيئة العامة للصناعة. ص92  
- تطوير الصناعة المحلية  
- تشجيع العمالة الوطنية  
- تنويع الصناعات المحلية
- 4- الشركات التابعة لمؤسسة البترول الكويتية. ص91  
- البترول الوطنية الكويتية - خدمات القطاع النفطي - صناعة الكيماويات البترولية  
- نفط الكويت - البترول العالمية - ناقلات النفط - الكويتية لتزويد الطائرات بالوقود  
- الكويتية للاستكشافات البترولية الخارجية - الكويتية لنفط الخليج - التنمية النفطية

**السؤال الرابع ويتكون من ( أ- ب )**

**أ- : اجب عن الأسئلة التالية : -**

- 1- اذكر أهم أهداف انعقاد مؤتمر جدة الشعبي أثناء فترة الغزو العراقي على دولة الكويت ؟ (درجة)  
- عودة الشرعية الكويتية وتأييدها من الشعب . ص 61
- 2- اذكر فوائد السفر ؟ ص98 ( يكتفى بنقطتين ) ( درجتين)  
- تفريج هم  
- اكتساب معيشة  
- علم  
- آداب  
- صحبة ماجد
- 3- عدد مصادر الدخل في دولة الكويت ؟ ( يكتفى بثلاث نقاط ) ( 3 درجات )

- النفط والغاز الطبيعي
- الزراعة
- الثروة السمكية
- الثروة الحيوانية
- الصناعات البتروكيماوية
- الثروة السمكية
- الاستثمار

**ب- عرف المفاهيم التالية : - ( درجة لكل نقطة )**

- 1- السياحة: انتقال النسان من مكان الي آخر لفترة معينة ولغرض معين . ص96
- 2- الاستثمار : توظيف الفائض من الأموال الناتج عن زيادة دخل الدولة . ص 80

(انتهت الأسئلة)