



وزارة التربية

الإدارة العامة لمنطقة الجهراء التعليمية

اختبار نهاية الفصل الدراسي الثاني  
٢٠١٩ / ٢٠١٨

الصف	الخامس
المادة	الاجتماعيات

# نموذج إجابته



وزارة التربية

كنترول منطقة الجهراء



وزارة التربية

الإدارة العامة لمنطقة الجهراء التعليمية  
مكتب المدير العام

ملفات الكويت  
التعليمية

kwEdnFiles.com

نموذج الإجابة

( لكل إجابة درجة واحدة )

أولاً : الأسئلة الموضوعية :

السؤال الأول : يتكون من ( أ - ب - ج - د - هـ ) :

أ) ضع الرمز ( √ ) للعبارة الصحيحة والرمز ( × ) للعبارة غير الصحيحة :

- ١- حرب تحرير الكويت تعد أول حرب إلكترونية في العالم . ( √ ) ص ٦٥  
٢- كان مقر الحكومة الكويتية أثناء فترة الغزو العراقي البائد مدينة الخفجي . ( × ) ص ٦١  
٣- تعد الزراعة المصدر الرئيسي للدخل في دولة الكويت . ( × ) ص ٨٠  
٤- القرقور من وسائل صيد الأسماك قديماً . ( √ ) ص ٨٥  
٥- السياحة لا تشكل مورداً هاماً من موارد الدولة . ( × ) ص ٩٦

ب) ضع خطاً تحت العنصر المناسب من بين الخيارات التي تلي كل عبارة :-

١- العام الذي تم فيه غزو دولة الكويت من النظام العراقي البائد :

أ - ١٩٩٠م      ب - ١٩٩١م      ج - ١٩٩٢م      د - ١٩٩٣م

٢- أهم المناطق الكويتية في تربية الثروة الحيوانية :

أ - العبدلي      ب - الشعبية      ج - العمرية      د - الصليبية

٣- تبلغ نسبة الصادرات الكويتية من النفط ومنتجاته :

أ - ٩٢%      ب - ٩٣%      ج - ٩٤%      د - ٩٥%

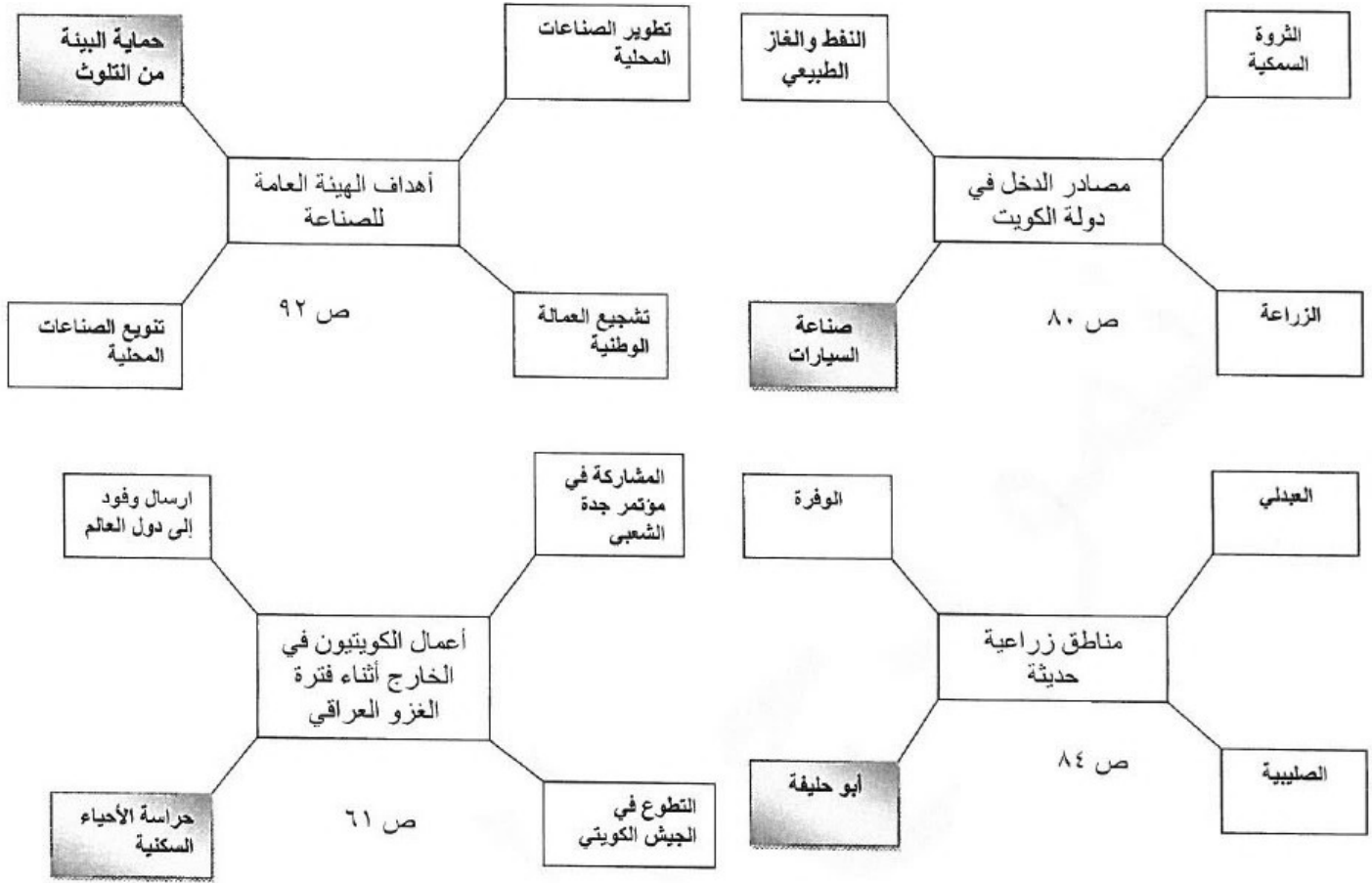
٤- أول ميناء تجاري وأكبرها في دولة الكويت :

أ - الشويخ      ب - الدوحة      ج - الشعبية      د - الأحمدية

٥- دام الغزو العراقي على دولة الكويت مدة :

أ - ٦ أشهر      ب - ٧ أشهر      ج - ٨ أشهر      د - ٩ أشهر

**ج) ظلل الإجابة التي لا تنتمي إلى المجموعة في الأشكال التالية :**



**د - صنف الصناعات الموجودة في المناطق الصناعية لدولة الكويت حسب الجدول التالي :**  
( تكرير النفط - الألمنيوم - الأثاث - إسالة الغاز - المعكرونة - البلاط ) ص ٨٢

منطقة الأحمدي	منطقة الشويخ	منطقة الشعبية
* الألمنيوم	* المعكرونة	* تكرير النفط
* البلاط	* الأثاث	* إسالة الغاز

هـ - اكتب المفاهيم والمصطلحات الدالة على العبارات التالية :

م	المفهوم	العبارة
١ -	العصيان المدني	الامتناع عن العمل والتعاون مع النظام المحتل بأي شكل من الأشكال . ص ٦٠
٢ -	الاستثمار	توظيف الفائض من الأموال الناتج عن زيادة دخل الدولة . ص ٨٠
٣ -	السياحة	انتقال الإنسان من مكان إلى آخر لفترة معينة ولغرض معين . ص ٩٦
٤ -	مؤسسة الموانئ	مؤسسة مستقلة تتولى إدارة وتشغيل وتطوير الموانئ التجارية . ص ٨٨

ثانيا : الأسئلة المقالية تتكون من ( أ - ب - ج - د - هـ ) : (درجة لكل إجابة )

أ - علل لما يلي :

- ١ - قلة الزراعة في دولة الكويت .  
ص ٨٤ ( يكتفى بنقطتين )  
- فقر التربة . - قلة المياه . - شدة الحرارة .  
٢ - اعتماد الكويتيون على السمك كغذاء رئيسي .  
ص ٨٥  
- فقر البيئة الصحراوية . - وفرة الأنواع وجودة أنواعه . - تشجيع الدولة حرفة صيد الأسماك وتطويرها .

ب - فرق بين كل من :

الزراعة المحمية ص ٨٤	الزراعة بدون تربة ص ٨٤
زراعة الخضروات في غير مواسمها بحمايتها من تقلبات الطقس وذلك في بيوت بلاستيكية .	زراعة تتم في بيئة من الرمل أو الحصى أو نشارة الخشب مضافا إليها محاليل غذائية .

ج - اذكر اثنين لكل من :

( يكتفى بنقطتين )

- ١ - جهود دولة الكويت في تشجيع القطاع الصناعي .  
ص ٨١  
- إقامة المناطق الصناعية .  
- تقديم القروض .  
- إعفاء الآلات الصناعية من الرسوم الجمركية .  
- إقامة معاهد للتدريب الصناعي .  
٢ - فوائد السفر .  
ص ٩٨  
- تفريج هم . - اكتساب معيشة . - علم وآداب . - وصحة ماجد .

د - عدد ما يلي :

( يكتفى بنقطتين )

- ١ - أعمال اللجان الشعبية في الدخل أثناء الغزو العراقي البائد على دولة الكويت . ص ٦١
  - إدارة الجمعيات التعاونية .
  - حراسة الأحياء السكنية .
  - القيام بأعمال النظافة وتوفير الخبز .
  - توصيل المساعدات للأهالي .
- ٢ - جهود دولة الكويت في تشجيع الزراعة . ص ٨٤
  - انشاء هيئات متخصصة في الزراعة مثل ( محطة التجارب الزراعية - معهد الكويت للأبحاث العلمية ) .
  - تقديم الإرشادات الزراعية .
  - الدعم المادي للمزارعين .
  - التشجيع على استخدام الأساليب الحديثة في الزراعة وتطوير مصادر المياه المستخدمة .

هـ - اذكر مواقف الدول التي شاركت في تحرير دولة الكويت على المستوى : ( يكتفى بنقطة واحدة) ص ٦٤

دول العالم
- تحالف العديد من دول العالم لنصرة الحق الكويتي .
- المساهمة بقوات عسكرية مشاة وطيران .
- كان للولايات المتحدة الأمريكية دور كبير في تحرير دولة الكويت .

الخليجي
- المشاركة بقوات عسكرية .
- استخدام مطارات دول الخليج العسكرية .
- استدعاء القوات الخليجية .
- كان للمملكة العربية السعودية ودول الخليج العربية دور كبير في تحرير دولة الكويت .



وزارة التربية

الإدارة العامة لمنطقة الجهراء التعليمية

اختبار نهاية الفصل الدراسي الثاني  
٢٠١٩ / ٢٠١٨

الخامس

الصف

الاجتماعيات

المادة

اختبار للطلبة المتفهمين عن  
الاختبار القصير

# نموذج إجابته



وزارة التربية  
مكتب المدير العام لمنطقة الجهراء التعليمية



وزارة التربية  
مكتب المدير العام لمنطقة الجهراء التعليمية

ملفات الكويت  
التعليمية

kwEdnFiles.com

أولاً : الأسئلة الموضوعية :-

**السؤال الأول : ويتكون من ( أ - ب - ج - د - هـ ) ( لكل نقطة درجة )**  
**(أ) ضع الرمز (√) امام العبارة الصحيحة والرمز (X) امام العبارة الخاطئة:**

- ١- وقفت دول العالم والدول الشقيقة مع الحق الكويتي أثناء الغزو العراقي (√) ص ٦١
- ٢- السياحة هي انتقال الإنسان من مكان لآخر لفترة زمنية معينة ولغرض معين (√) ص ٩٦
- ٣- استمر الغزو العراقي على دولة الكويت خمسة أشهر (X) ص ٦٥
- ٤- شركة نفط الكويت هي المسؤولة عن استكشاف النفط وإنتاجه (√) ص ٨٩
- ٥- تحتفظ دولة الكويت باحتياطي يبلغ ١٥% من احتياطي النفط العربي (√) ص ٨٠

( ب ) اختر البديل المناسب من بين البدائل التالية :-

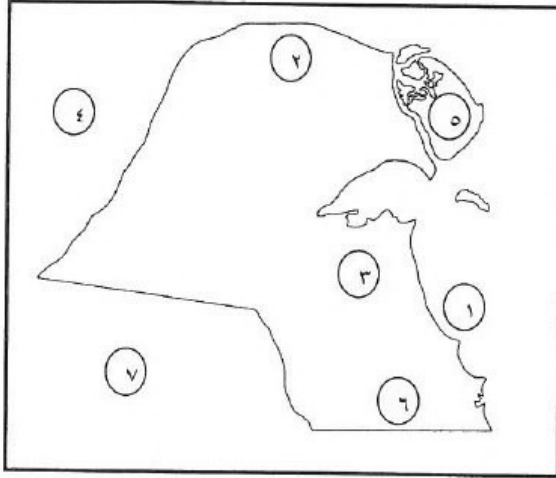
- ١- العام الذي حدث فيه الغزو العراقي على دولة الكويت :- ص ٥٨  
 (أ- ١٩٩٠م ب- ١٩٩١م ج- ١٩٩٢م د- ١٩٩٣م )
- ٢- أقل المحافظات الكويتية سكاناً محافظة تسمى : ص ٧٤  
 (أ- الأحمدية ب- الجهراء ج- العاصمة د- مبارك الكبير )
- ٣- المنطقة الصناعية التي تهتم بصناعة المرطبات تسمى : ص ٨٢  
 ( أ- الشعبية ب- صبحان ج- الأحمدية د- الشويخ )
- ٤- مدينة تعتبر مقر الحكومة الكويتية المؤقتة أثناء الغزو العراقي : ص ٦١  
 ( أ- الطائف ب- الرياض ج- جدة د- مكة المكرمة )
- ٥- من الأماكن السياحية داخل دولة الكويت : ص ٩٦  
 (أ- برج العرب ب- المركز العلمي ج- الأهرامات د- متحف الشمع )
- ٦- يتركز سكان دولة الكويت بالنسبة للجنون : ص ٧٤  
 ( أ- شمال جون الكويت ب- جنوب جون الكويت ج- شرق جون الكويت د- غرب جون الكويت )



تابع إجابة امتحان بلادي الكويت - الصف الخامس - الفترة الدراسية الثانية- حالات خاصة ٢٠١٨م-٢٠١٩م

يتبع السؤال الأول :-

(ج) من خلال الخريطة الصماء لدولة الكويت حدد ما يلي باستخدام الرموز التالية ص ٨٤:



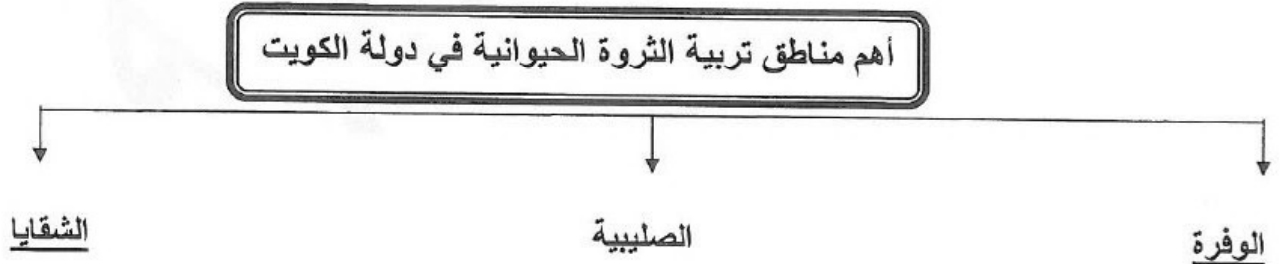
١. منطقة العبدلي الزراعية يمثلها على الخريطة الرقم (٢)
٢. محطة تجارب زراعية يمثلها على الخريطة الرقم (٣)
- ٣- دولة غزت دولة الكويت يمثلها على الخريطة الرقم (٤)
- ٤- جزيرة بوبيان يمثلها على الخريطة الرقم (٥)
- ٥- ميناء الشعبية يمثلها على الخريطة الرقم (١)

(د) صنف الصناعات حسب المناطق الصناعية التالية : ص ٨٢

( بسكويت - تكرير النفط - البلاط - المنظفات - إسالة الغاز - الألمنيوم )

الأحمدي	الشعبية	الشويخ
البلاط	تكرير النفط	بسكويت
الألمنيوم	إسالة الغاز	المنظفات

(هـ) - أكمل المخطط السهمي التالي : ص ٨٥



**ثانياً: الأسئلة المقالية :-**

لكل إجابة درجة

السؤال الثاني : ويتكون من ( أ ، ب ، ج ) :

(أ) فرق من حيث التعريف بين كل مما يلي : ص ٨٤

الزراعة بدون تربة	الزراعة المحمية
زراعة تتم في بيئة من الرمل أو الحصى أو نشارة الخشب مضافاً إليها المحاليل الغذائية	هي زراعة الخضروات في غير مواسمها لحمايتها من تقلبات الطقس وذلك في بيوت بلاستيكية

لكل إجابة درجة

( ب ) علل لما يلي (اذكر السبب) :

ص ٩٢

١- تعد الصناعة في الحاضر من أهم اهتمامات دول العالم.

لما لها من أثر مهم على المستوى الحضاري والإنمائي للدول

ص ٨٥

٢- ضعفت حرفة الرعي السائدة في دولة الكويت .

بسبب اكتشاف النفط

ص ٨٤

٣- قلة الزراعة في دولة الكويت .

بسبب فقر التربة – قلة المياه – شدة الحرارة

لكل إجابة درجة

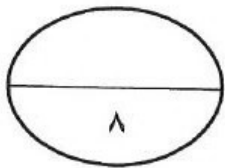
( ج ) عرف المفاهيم التالية :-

ص ٨٠

١-الاستثمار: توظيف الفائض من الأموال الناتج عن زيادة دخل الدولة

٢-الكثافة السكانية : هي عدد السكان على مساحة الدولة. ص ٧٤

٣-العصيان المدني: الامتناع عن العمل وعن التعاون مع النظام المحتل بأي شكل من الأشكال ص ٦٠



تابع إجابة امتحان بلادي الكويت – الصف الخامس – الفترة الدراسية الثانية- حالات خاصة ٢٠١٨م-٢٠١٩م

السؤال الثالث ( ويتكون من أ – ب – ج ) :  
( أ ) عدد كل من :

١-وسائل صيد الأسماك في دولة الكويت قديماً . درجتان ص ٨٥

أ-الحظرة

ب-القرقور

٢ – الموقف الخليجي أثناء تحرير دولة الكويت من براثن الغزو العراقي . درجتان ويكتفى بنقطتين ص ٦٤

أ- المشاركة بقوات عسكرية

ب- استخدام مطارات دول الخليج العسكرية

ج - استدعاء القوات الخليجية للانطلاق من أراضيها لتحرير دولة الكويت .

د- كان للمملكة العربية السعودية ودول الخليج دور كبير في تحرير دولة الكويت.

( ب ) - قارن بين الزيادة الطبيعية والزيادة الغير طبيعية من حيث التالي : ( درجتان ) ص ٧٢

المقارنة	الزيادة الطبيعية	الزيادة الغير الطبيعية
أسبابها	١-زيادة الخدمات الصحية ٢-تشجيع الدولة للزيادة الطبيعية (المواید)	١-حاجة الكويت للتخصصات الفنية الغير متوفرة في الكويت. ٢-توافر فرص العمل بأجور عالية. ٣- الأمن والاستقرار الذي تميزت به دولة الكويت. ٤- السماح للوافدين باصطحاب عائلاتهم.

تابع إجابة امتحان بلادي الكويت – الصف الخامس – الفترة الدراسية الثانية- حالات خاصة ٢٠١٨م-٢٠١٩م

يتبع السؤال الثالث:

(ج) اجب عن الأسئلة التالية:

١- جهود الحكومة الكويتية في تنمية الثروة السمكية في البلاد. ص ٨٥ ( درجة ويكتفى بنقطتين )

أ- كونت أسطول من السفن المتخصصة بالصيد

ب- استزراع معهد الكويت للأبحاث العلمية استزراع أنواع جيدة من الأسماك

٢- أهداف الهيئة العامة للبيئة في دولة الكويت. ص ٩٢ ( درجة ويكتفى بنقطتين )

أ- حماية البيئة من التلوث

ب- المحافظة على البيئة الطبيعية

ج - الحد من الآثار السلبية لاستخدام التكنولوجيا على الإنسان وعلى البيئة والاستفادة منها .



وزارة التربية

الإدارة العامة لمنطقة الجهراء التعليمية

اختبار نهاية الفصل الدراسي الثاني  
٢٠١٩ / ٢٠١٨

الخامس

الصف

الاجتماعيات

المادة

كامل  
المنهج

# نموذج إجابته



وزارة التربية  
مكتب المدير العام  
الإدارة العامة لمنطقة الجهراء التعليمية



وزارة التربية  
مكتب المدير العام  
الإدارة العامة لمنطقة الجهراء التعليمية

ملفات الكويت  
التعليمية

kwEdnFiles.com



وزارة التربية  
الإدارة العامة لمنطقة الجهراء التعليمية  
التوجيه الفني للاجتماعيات

الإجابة النموذجية  
لامتحان نهاية الفترة الثانية  
المنهج الكامل  
مقرر بلادي الكويت  
الصف الخامس

العام الدراسي : ٢٠١٨ - ٢٠١٩ م  
الزمن : ساعة  
عدد الأوراق : ٥ ورقات

أولاً: الأسئلة الموضوعية وتتكون من ( أ ، ب ، ج ، د ، هـ ):

أ) ضع الرمز ( ✓ ) للعبارة الصحيحة والرمز ( × ) للعبارة الغير صحيحة : \* خمس درجات

- ( ١ ) دوارة الرياح تقيس اتجاه وسرعة الرياح . ( ✓ ) ص ٣٣  
( ٢ ) نبات العرفج من النباتات الطبيعية الحولية . ( × ) ص ٤٠  
( ٣ ) حرصت دولة الكويت على تنوع مصادر الدخل فيها . ( ✓ ) ص ٨٠  
( ٤ ) حماية البيئة من التلوث من أهداف الهيئة العامة للصناعة . ( × ) ص ٩٢  
( ٥ ) تعد دولة الكويت من الدول قليلة السكان بالنسبة لدول العالم . ( ✓ ) ص ٧٧

ب) ضع خطاً تحت الخيار المناسب من بين الخيارات التي تلي كل عبارة : \* خمس درجات

- ( ١ ) المحافظة الأكثر سكاناً وفقاً لتعداد السكان عام ٢٠٠٥ م :  
\* الجهراء \* الفروانية \* حولي \* العاصمة ( ص ٧٤ )
- ( ٢ ) العام الذي تم فيه تصدير أول شحنة من النفط الكويتي :  
\* ١٩٤٦ م \* ١٩٤٧ م \* ١٩٤٨ م \* ١٩٤٩ م ( ص ٥٠ )
- ( ٣ ) الميناء التجاري الأول في دولة الكويت عام ١٩٦٠ م :  
\* الشعبية \* الشويخ \* ميناء عبدالله \* الأحمدى ( ص ٨٨ )
- ( ٤ ) المنطقة المناخية التي تقع ضمنها دولة الكويت :  
\* الباردة \* المعتدلة \* الحارة \* المتجمدة ( ص ٣٤ )
- ( ٥ ) نسبة احتياطي النفط بدولة الكويت بالنسبة للدول العربية تمثل :  
\* ٥ % \* ١٥ % \* ٢٥ % \* ٣٥ % ( ص ٨١ )

\* أربع درجات

ج) صنف أعمال حكام دولة الكويت حسب الجدول التالي :

\* رفع العلم الجديد \* افتتاح جامعة الكويت

\* تأمين النفط \* الغاء معاهدة الحماية ١٨٩٩ م

الشيخ صباح السالم الصباح	الشيخ عبدالله السالم الصباح
* افتتاح جامعة الكويت	* رفع العلم الجديد
* تأمين النفط	* الغاء معاهدة الحماية ١٨٩٩ م
( ص ٥٤ )	( ص ٥٢ )

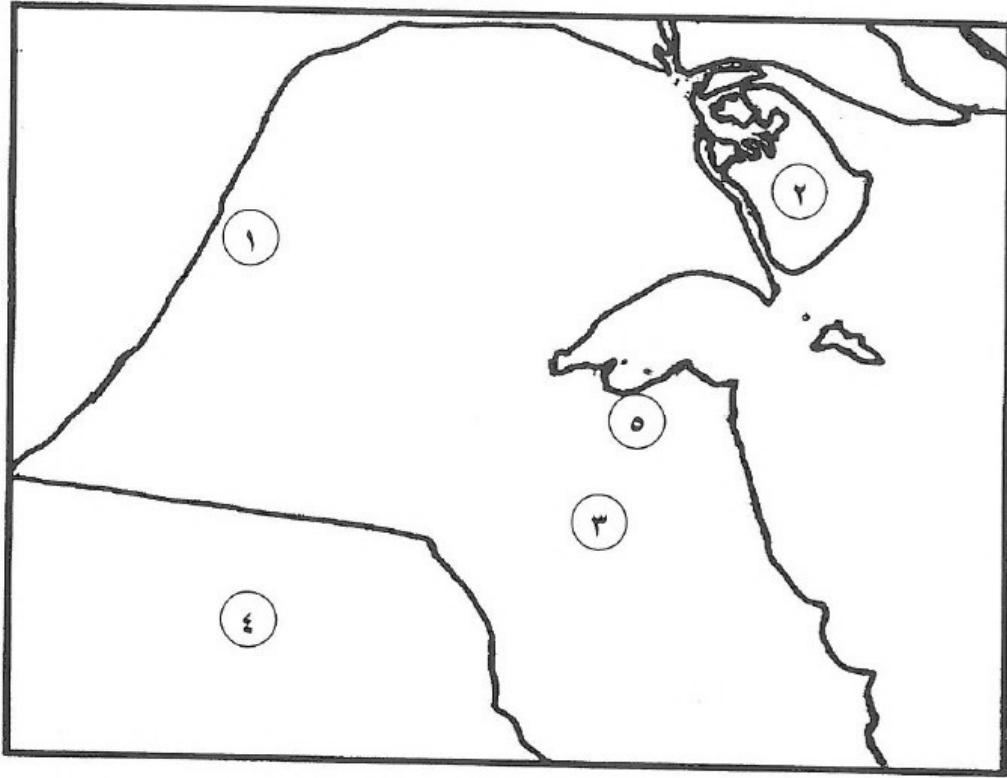
\* خمس درجات

د) أكمل العبارات التالية بما يناسبها فيما درست:

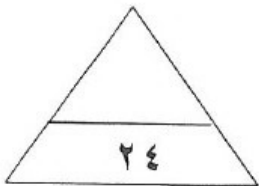
- ١) يبلغ عدد قارات الكرة الأرضية .....٧..... قارات
- ٢) الدولة التي لها منفذ بحري تسمى ....الدولة البحرية....
- ٣) أكبر المحيطات مساحة يسمى .....المحيط الهادي.....
- ٤) الحيوان الذي يطلق عليه سفينة الصحراء يسمى ... الجمل ...
- ٥) يستمر انخفاض درجة الحرارة في موسم الربيع لمدة ... ٤٠ ... يوم

\* خمس درجات

هـ) أمامك خريطة دولة الكويت نفذ المطلوب مما يليها :



- \* الدولة التي تحد دولة الكويت من جهة الجنوب يمثلها على الخريطة الرقم ..٤.. (ص ٢٦)
- \* أكبر الجزر الكويتية مساحة يمثلها على الخريطة الرقم ..٢.. (ص ٢٦)
- \* وادي الباطن يمثلها على الخريطة الرقم .. ١.. (ص ٢٦)
- \* محطة التجارب الزراعية يمثلها على الخريطة الرقم .. ٣.. (ص ٨٤)
- \* منطقة الشويخ الصناعية يمثلها على الخريطة الرقم ..٥.. (ص ٨١)





ثانيا : الأسئلة المقالية تتكون من ( أ ، ب ، ج ، د ):

\* ثلاث درجات

(أ) عرف كل مما يلي :

- (١) دولة مغلقة : هي الدولة التي يحيط بها اليابس من جميع الجهات (ص ٢٣)  
(٢) كثبان رملية : هي تلال من الرمال تتراكم في الصحاري بفعل الرياح (ص ٢٧)  
(٣) رعي جانر : هو الإفراط في الرعي (ص ٤٧)

\* درجتان لكل سؤال

(ب) اذكر اثنين لكل من :

( يكتفى بنقطتين )

(١) عناصر المناخ .

\* الحرارة \* الضغط الجوي \* الرطوبة \* الرياح \* الأمطار (ص ٣٢)

( يكتفى بنقطتين )

(٢) فوائد السياحة الخارجية .

\* تفرج الهموم والاستمتاع \* اكتساب المعيشة  
\* طلب العلم والمعرفة \* التعرف على ثقافات الشعوب (ص ٩٨)

( يكتفى بنقطتين )

(٣) أعمال اللجان الشعبية أثناء الاحتلال الغادر على دولة الكويت في الداخل .

\* إدارة الجمعيات التعاونية \* حراسة الأحياء السكنية  
\* القيام بأعمال النظافة وتوفير الخبز \* توصيل المساعدات المختلفة للأهالي (ص ٦١)

( يكتفى بنقطتين )

(٤) إنجازات الشيخ جابر الأحمد الصباح.

\* نادى بإنشاء مؤسسة التأمينات الاجتماعية \* إنشاء مجلس الخدمة المدنية  
\* إنشاء مؤسسة البترول الكويتية \* نادى بقيام مجلس التعاون الخليجي  
\* حصول المرأة على حقها السياسي \* دعا محكمة عدل إسلامية إلى إنشاء (ص ٥٦)

\* ثلاث درجات

(ج) علل لما يأتي ( اذكر السبب ) :

(ص ١٨)

(١) أهمية خطوط الطول .

\*تساعد في تحديد مواقع الدول على الخريطة

\*تحديد التوقيت الزمني لأي دولة في العالم

(٢) لم يكمل الشيخ سعد العبدالله الصباح مسيرته في الحكم .

(ص ٦٦)

\* بسبب ظروفه الصحية

\* درجتان

(د) فرق بين كل مما يلي :

(ص ٧٢)

زيادة غير طبيعية	زيادة طبيعية
* تكون بسبب الهجرة	* عدد المواليد – عدد الوفيات

انتهت الأسئلة،،،،،

