



أجب على جميع الأسئلة:

السؤال الأول : (موضوعي) ويتكون من (أ - ب)

(أ) ظلل الخيار الصحيح من بين الخيارات التي تلي كل عبارة : (اربع درجات لكل نقطة درجة)

١- تعرضت دولة الكويت للاحتلال العراقي في عام :ص ٥٨

١٩٩٠ م	١٩٩٣ م	١٩٩٦ م	١٩٩٩ م
--------	--------	--------	--------

٢- أول ميناء تجاري في دولة الكويت:ص ٨٨

الأحمدي	الشويخ	الزور	عبدالله
---------	--------	-------	---------

٣- الفاكهة التي نجحت دولة الكويت في زراعتها : ٨٤

الموز	الفراولة	العنب	البرتقال
-------	----------	-------	----------

٤- تعتبر ذاكرة الشعوب التي تسجل فيها الاحداث فنتذكرها ونعتبر منها: ص ٥٨

المتاحف	المدارس	المساجد	المصانع
---------	---------	---------	---------

(ب) صحح ما تحته خط في العبارات التالية : (اربع درجات لكل نقطة درجة)

١- بدأت القوات العراقية بالعدوان على دولة الكويت في صباح يوم الثلاثاء. ص ٥٨ (الخميس)

٢- ميناء تجاري في الكويت ويتميز بتصدير منتجات النفط الصناعية يسمى الشويخ. ص ٨٨ (الشعبية)

٣- البسكويت و المنظفات و الأثاث من أهم الصناعات في منطقة صناعية تسمى الأحمدي. ص ٨٢ (الشويخ)

٤- توظيف الفائض من الأموال الناتج عن زيادة دخل الدولة يسمى التجارة. ص ٨٠ (الاستثمار)

السؤال الثاني: (موضوعي) ويتكون من (أ - ب) :
(أ) ظلل السهم الدال على الإجابة الصحيحة : (٦ درجات لكل نقطة درجة)

١- أعلن قيام حكومة كويتية مؤقتة
أثناء الاحتلال العراقي في مدينة تسمى
ص ٦١

الرياض → الطائف

٢- يبلغ احتياطي النفط في دولة
الكويت بالنسبة للدول العربية
ص ٨٠

١٥% → ٥٠%

٣- بدأت حرب تحرير دولة الكويت
من الاحتلال العراقي بحرب
ص ٦٤

جوية → برية

٤- الزراعة التي تتم في بيئة من الرمل
أو الحصى ويضاف إليها محاليل غذائية
ص ٨٤

الزراعة المحمية → الزراعة بدون تربة

٥- الشركة المسؤولة عن اكتشاف
النفط و انتاجه داخل دولة الكويت
ص ٨٩

الدينار الكويتي → الكويت

٦- تشكل موردا هاما للدولة وتسمى
صناعة القرن الحادي والعشرين
ص ٩٦

التجارة → السياحة

(ب) اكتب المصطلح الدال على العبارات التالية : (درجتان لكل نقطة درجة)

- ١- (السياحة) انتقال الانسان من مكان لآخر لفترة معينة ولغرض معين مثل الاستمتاع و الراحة. ص ٩٦
- ٢- (العصيان المدني) الامتناع عن العمل وعن التعاون مع النظام المحتل بأي شكل من الأشكال. ص ٦٠

السؤال الثالث: (موضوعي) ويتكون من (أ - ب):

(أ) صنف الأهداف التالية حسب الهيئات في الجدول التالي: (اربع درجات لكل نقطة درجة) ص ٩٢

تشجيع العمالة الوطنية - بناء الشباب روحا وجسدا - تنظيم المهرجانات و المسابقات - تنوع الصناعات المحلية

الهيئة العامة للصناعة	الهيئة العامة للشباب و الرياضة
• تشجيع العمالة الوطنية	• بناء الشباب روحا وجسدا
• تنوع الصناعات المحلية	• تنظيم المهرجانات و المسابقات

(ب) ظلل ☺ اذا كانت العبارة صحيحة وظلل ☹ اذا كانت العبارة خاطئة :


(اربع درجات لكل نقطة درجة)

م	العبارة	عبارة صحيحة	عبارة خاطئة
١	المشاركة في مؤتمر جدة الشعبي من أعمال الكويتيون في الخارج أثناء الاحتلال العراقي.ص ٦١	☺	☹
٢	الحد من الآثار السلبية لاستخدام التكنولوجيا على البيئة من أهداف الهيئة العامة للبيئة.ص ٩٢	☺	☹
٣	زيارة المركز العلمي ومنتزه الخيران والموروث الشعبي تعتبر من السياحة الخارجية.ص ٩٦	☺	☹
٤	تعد حرب تحرير دولة الكويت أول حرب إلكترونية في العالم.ص ٦٥	☺	☹

السؤال الرابع: (مقالى) ويتكون من (أ - ب):

(أ) اكتب فى ما يلى :

(١) مصادر الدخل فى دولة الكويت حديثا . (٥ درجات لكل نقطة درجة) ص ٨٠



(٢) أعمال اللجان الشعبية الكويتية أثناء الاحتلال العراقى. (يكتفى بنقطتين) ص ٦١

- إدارة الجمعيات التعاونية / توصيل المساعدات المختلفة للأهالى.
- حراسة الأحياء السكنية / القيام بأعمال النظافة.

(ب) علل ما يلى : (ثلاث درجات لكل نقطة درجة)

(١) ضعف الزراعة فى دولة الكويت . (يكتفى بنقطتين) ص ٨٤


- فقر التربة
- قلة المياه / شدة الحرارة

(٢) اعتمد الكويتيون قديما على السمك كغذاء رئيسى. (يكتفى بنقطة) / ص ٨٥

- فقر البيئة الصحراوية / يمتاز بوفرتة و جودة أنواعه.

السؤال الخامس: (مقال) ويتكون من (أ - ب):

(أ) لاحظ الصورة التالية ثم أجب عن ما يلي : ص ٨٥ (٤ درجات لكل نقطة درجة)



١- أذكر مصدر الدخل التي تمثله الصورة التالية.

- الثروة الحيوانية.

٢- عدد فوائد المصدر السابق.

- اللحوم
- الألبان
- البيض

(ب) حدد على خريطة دولة الكويت الصماء باستخدام الرموز التالية ما يلي : (٤ درجات لكل نقطة درجة)



١. العراق ● ص ٦٥

٢. العبدلي الزراعية ▲ ص ٨٤

٣. الخليج العربي ■ ص ٦٥

٤. منطقة الشعيبة الصناعية ★ ص ٨١

انتهت الأسئلة

٢٠١٨ - ٢٠١٩ م
الزمن : ساعة وربع
عدد الأوراق : ٥

الإجابة النموذجية
الفترة الدراسية الثانية (المنهج كامل)
لمادة بلادي الكويت
الصف الخامس الابتدائي



وزارة التربية
الإدارة العامة لمنطقة الأحمدية التعليمية
التوجيه الفني للاجتماعيات

السؤال الأول : موضوعي و يتكون من (أ - ب - ج - د - هـ - و) : كل نقطة بدرجة واحدة

(أ) أكمل العبارات التالية بما يناسبها :

- (١) الدولة التي لها منفذ بحري تسمى (الدولة البحرية) ص ٢٣
- (٢) تعرف الأمطار الرعدية التي تسقط في مارس وأبريل ومايو بدولة الكويت باسم (السرايات) ص ٣٣
- (٣) افتتحت جامعة الكويت عام ١٩٦٦م في عهد الشيخ (صباح السالم الصباح) ص ٥٥
- (٤) الحيوان الذي يطلق عليه سفينة الصحراء يسمى (الجمل) ص ٤٤

(ب) ضع علامة (√) أمام العبارة الصحيحة وعلامة (x) أمام العبارة الخاطئة :

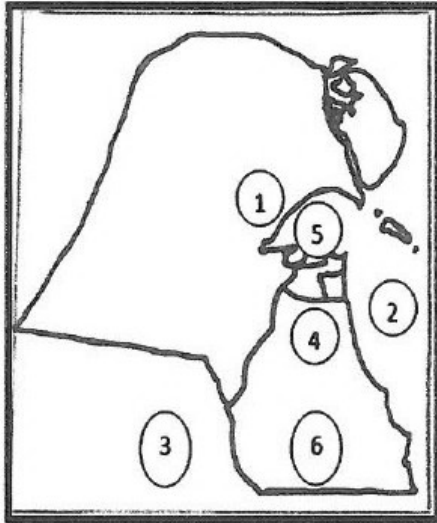
- (١) دولة الكويت تقع بين خطي طول ٤٦ - ٤٨ شرقاً. (√) ص ٢٠
- (٢) الشيخ جابر الأحمد الصباح لقب بأمير القلوب. (√) ص ٥٦
- (٣) ميناء الشعبية أول ميناء تجاري في عام ١٩٦٠م. (x) ص ٨٨



(ج) صنف المصطلحات العلمية الى مكانها المناسب في الجدول الذي يليها : كل نقطة بدرجة واحدة
(الموقع الفلكي - الكتبان الرملية - الاستثمار)

٢	المصطلح العلمي	العبرة
١	الكتبان الرملية	تلال من الرمال تتراكم في الصحاري بفعل الرياح. ص ٢٧
٢	الاستثمار	توظيف الفائض من الأموال الناتج عن زيادة دخل الدولة. ص ٨٠
٣	الموقع الفلكي	موقع القارة أو الدولة بالنسبة لخطوط الطول ودوائر العرض. ص ١٩

(د) لاحظ خريطة دولة الكويت ثم وأجب عن مدلولات الأرقام التالية:




- الرقم (١) يمثل تلال تسمى (جال الزور) ص ٢٦
- الرقم (٢) يمثل مسطح مائي يسمى (الخليج العربي) ص ٦٥
- الرقم (٣) يمثل دولة مجاورة تسمى (السعودية) ص ٦٥
- الرقم (٤) يمثل منطقة صناعية تسمى (صباحان) ص ٨١
- الرقم (٥) يمثل ميناء تجاري (الشويخ) ص ٨٨
- الرقم (٦) يمثل منطقة زراعية حديثة (الوفرة) ص ٢٦

تابع نموذج إجابة امتحان نهاية الفترة الدراسية الثانية (المنهج الكامل) لمادة بلاي الكويت للصف الخامس الابتدائي للعام ٢٠١٨ / ٢٠١٩ م
هـ - اكتب تعليقاَ مناسباً أسفل كل صورة:



٢. الدكتور صالح العجيري. ص ٣٦



١- جهاز قياس الضغط ص ٣٣



٤- شعار شركة نفط الكويت ص ٩١



٣- شعار شركة البترول العالمية ص ٩١

(و) صنف الإنجازات التي قام بها الشيخ عبد الله السالم داخليا وخارجيا كما في الجدول التالي: - ص ٥٢

-إعداد الدستور الكويتي والتصديق عليه.
- إلغاء معاهدة الحماية مع بريطانيا.

- رفع العلم الجديد لدولة الكويت.
- الانضمام لهيئة الأمم المتحدة ١٩٦٣ م

م	داخليا	م	خارجيا
١	رفع العلم الجديد لدولة الكويت.	١	إلغاء معاهدة الحماية مع بريطانيا.
٢	إعداد الدستور الكويتي والتصديق عليه.	٢	الانضمام لهيئة الأمم المتحدة ١٩٦٣ م

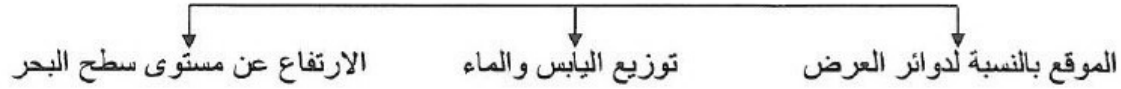
تابع نموذج اجابة امتحان نهاية الفترة الدراسية الثانية (المنهج الكامل) لمادة بلادي الكويت للصف الخامس الابتدائي للعام ٢٠١٨ / ٢٠١٩م

السؤال الثاني (مقالى) ويتكون من (أ - ب - ج) :

كل نقطة بدرجة واحدة

أ - أكمل المخطط السهمى التالى :

* العوامل المؤثرة في مناخ بلادي. ص ٣٤ درجتان يكتفى بنقطتين



ب - علل لما يلي:

١- للسفر فوائد عديدة . ص ٩٨

تفريخ هم - اكتساب معيشة - علم - آداب - صحبة ماجد

٢- يفوق عدد الذكور عدد الإناث في دولة الكويت. ص ٧٣

- معظم الأيدي العاملة الوافدة من الذكور.

لكل نقطة بدرجة

ج - أجب عن الأسئلة التالية :

١- الإنجازات الداخلية للشيخ صباح السالم الصباح. ص ٥٤ (يكتفى بنقطتين)

- افتتاح جامعة الكويت ١٩٦٦م - اعتداء النظام العراقي البائد على مركز الصامته الحدودي

- تأميم النفط ١٩٧٥م - إنشاء مؤسسة الكويت للتقدم العلمي ١٩٧٦م

- عقد اتفاقيات اقتصادية مع دول الخليج العربي . - اشترك الكويت في العديد من المنظمات والهيئات العالمية

٢- أعمال اللجان الشعبية أثناء الاحتلال الغاشم لدولة الكويت. ص ٦١ (يكتفى بنقطتين)

-إدارة الجمعيات التعاونية. -القيام بأعمال النظافة وتوفير الخبز.

-حراسة الأحياء السكنية. -توصيل المساعدات المختلفة للأهالي.

السؤال الثالث (مقال) ويتكون من (أ - ب - ج) كل نقطة بدرجة واحدة

(أ) - قارن بين خطوط الطول ودوائر العرض من حيث الجدول التالي: ص ١٨

أوجه المقارنة	خطوط الطول	دوائر العرض
اسم الخط	خط جرينتش	خط الاستواء

(ب) - عرف لما يلي:

١- الزراعة بدون تربة : الزراعة التي تتم في بيئة من الرمل أو الحصى أو نشارة الخشب مضافاً إليها المحاليل الغذائية.

ص ٨٤

٢- السبخات : هي أرض منخفضة قليلة المياه تنمو فيها النباتات الملحية. ص ٢٧

(ج) - أقرأ الفقرة التالية ثم أجب عما يلي :

اهتمت حكومة دولة الكويت بإصدار قوانين ومؤسسات وهيئات ذات طابع مستقل تهدف إلى العمل للصالح العام للدولة والمواطنين منها الهيئة العامة للصناعة و الهيئة العامة للبيئة والهيئة العام للشباب والرياضة للأهداف التالية تنويع الصناعات المحلية و حماية البيئة من التلوث و بناء الشباب الكويتي روحاً وجسداً و تشجيع العمالة الوطنية.

صنف الأهداف التالية حسب الهيئات في الجدول التالي. ص ٩٢

الهيئة العامة للصناعة	الهيئة العامة للبيئة	الهيئة العامة للشباب والرياضة
لتنويع الصناعات المحلية	حماية البيئة من التلوث	بناء الشباب الكويتي روحاً وجسداً
تشجيع العمالة الوطنية	-	-



العام الدراسي : ٢٠١٨ / ٢٠١٩م

الزمن : الإجابة بـ ١٥ دقيقة
عدد الأوراق : ٥
كثير ولا
للحمدي

نموذج إجابة امتحان نهاية
الفترة الدراسية الثانية (المتغيبون)
لمقرر بلادي الكويت
للسف الخامس الابتدائي

وزارة التربية
الإدارة العامة لمنطقة الأحمدية التعليمية
التوجيه الفني للاجتماعيات

أجب عن جميع الأسئلة:

السؤال الأول : (موضوعي) ويتكون من (أ - ب - ج):

(أ) ظلل السهم الدال على الإجابة الصحيحة : (٦ درجات لكل نقطة درجة)




جابر الأحمد الصباح

١- الشيخ الذي اختير من قبل الأمم
المتحدة (قائدا للعمل الإنساني).

ص ٦٨



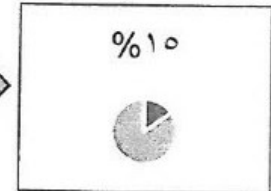
صباح الأحمد الصباح



٥٠ %

٢- يبلغ احتياطي النفط في دولة
الكويت بالنسبة للدول العربية.

ص ٨٠



١٠ %

الزيادة الغير طبيعية

٣- الزيادة السكانية التي تكون بسبب
الهجرة.

ص ٧٢

الزيادة الطبيعية

المدارس

٤- تعتبر ذاكرة الشعوب التي تسجل فيها
الأحداث فتذكرها ونعتبر منها.

ص ٥٨

المتاحف



سعد العبدالله الصباح

٥- الحاكم الذي لم يكمل مسيرته في
الحكم بسبب ظروفه الصحية.

ص ٦٦



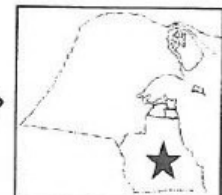
عبدالله السالم الصباح



ملفات الكويت
التعليمية

٦- الرمز ★ يمثل موقع محافظة
الأحمدية على خريطة دولة الكويت.

ص ٧٥



تابع السؤال الأول :

(ب) ظلل الخيار الصحيح من بين الخيارات التي تلي كل عبارة : (٦ درجات لكل نقطة درجة)

٢- الوزارة التي تولاها الشيخ صباح الأحمد الصباح لسنوات عديدة حتى تولى الحكم. ص ٦٨	
وزارة الخارجية	وزارة التربية
وزارة الدفاع	وزارة الداخلية

١- المحافظة الأكثر سكانا في دولة الكويت. ص ٧٤	
حولي	مبارك الكبير
الأحمدي	الفروانية

٤- يعتمد الدخل في دولة الكويت اعتمادا رئيسيا على. ص ٨٠	
الصناعة	النفط و الغاز الطبيعي
التجارة	السياحة

٣- الكثافة السكانية = ص ٧٤	
عدد السكان	عدد المواليد
مساحة الدولة	عدد السكان
مساحة الدولة	عدد الوفيات
عدد المواليد	مساحة الدولة

٦- تحررت دولة الكويت من الاحتلال العراقي في عام. ص ٦٤	
١٩٩١ م	١٩٩٢ م
١٩٩٣ م	١٩٩٤ م

٥- أول ميناء تجاري في دولة الكويت. ص ٨٨	
الشويخ	الأحمدي
الزور	عبدالله

(ج) اكتب المصطلح الدال على العبارات التالية : (درجتان لكل نقطة درجة)

١- (الزراعة المحمية) زراعة الخضراوات في غير مواسمها بحمايتها من تقلبات الطقس في بيوت بلاستيكية. ص ٨٤

٢- (العصيان المدني) الامتناع عن العمل وعن التعاون مع النظام المحتل بأي شكل من الأشكال. ص ٦٠

السؤال الثاني: (موضوعي) ويتكون من (أ - ب):

(أ) صحح ما تحته خط في العبارات التالية : (٦ درجات لكل نقطة درجة)

م	العبارة	التصويب
١	أول وزيرة كويتية للتخطيط و التنمية الإدارية تسمى الدكتورة <u>نورية الصباح</u> ص ٥٦	معصومة المبارك
٢	بدأت القوات العراقية بالعدوان على دولة الكويت في صباح يوم <u>الأحد</u> . ص ٥٨	الخميس
٣	المحافظة الأقل سكانا في دولة الكويت هي محافظة تسمى <u>حولي</u> . ص ٧٤	مبارك الكبير
٤	تشكل موردا هاما للدولة وتسمى صناعة القرن الحادي والعشرين هي <u>التجارة</u> ص ٩٦	السياحة
٥	بدأت حرب تحرير دولة الكويت من الاحتلال العراقي بحرب <u>برية</u> . ص ٦٤	جوية
٦	الفاكهة التي نجحت دولة الكويت في زراعتها تسمى <u>الموز</u> . ص ٨٤	الفراولة

(ب) ظلل ☺ اذا كانت العبارة صحيحة وظلل ☹ اذا كانت العبارة خاطئة :

(٤ درجات لكل نقطة درجة)

م	العبارة	عبارة صحيحة	عبارة خاطئة
١	من إنجازات الشيخ سعد العبدالله الصباح قبل ولاية العهد ادخال النظم الحديثة في الشرطة. ص ٦٦	☺	☹
٢	توظيف الفائض من الأموال الناتج عن زيادة الدخل يسمى الصناعة. ص ٨٠	☺	☹
٣	المركز العلمي والموروث الشعبي من الأماكن السياحية في دولة الكويت. ص ٩٦	☺	☹
٤	الميناء التجاري الذي يصدر منتجات النفط الصناعية يسمى الزور. ص ٨٨	☺	☹

السؤال الثالث: (مقال) ويتكون من (أ - ب - ج):




الشيخ صباح السالم الصباح

(أ) لاحظ الصورة التالية ثم أجب عما يليها: (درجتان لكل نقطة درجة)

- ١- اذكر لقب الشيخ صباح السالم الصباح ؟ ص ٤٥
- ... أبو الجميع
- ٢- ما أهم الأحداث والإنجازات في عهده؟ يكتفى بنقطة ص ٤٥
- افتتاح جامعة الكويت/ الاعتداء العراقي على مركز الصامته الحدودي
- تأميم النفط /إنشاء مؤسسة الكويت للتقدم العلمي

(ب) لاحظ الدائرة البيانية المقابلة ثم أجب عما يلي : (درجتان لكل نقطة درجة)



- ١- ايهما أعلى نسبة الذكور أم الإناث عند الكويتيين؟ ص ٧٣
- الإناث الكويتيات
- ٢- علل زيادة الذكور الغير كويتيين عن الإناث غير الكويتيات. ص ٧٣
- لأن معظم الأيدي العاملة الوافدة (غير الكويتية) من الذكور.

التوزيع النسبي للسكان حسب الجنسية والنوع في دولة الكويت

(ج) قارن بين كل من : لكل بند درجة = (٤ درجات لكل نقطة درجة)

أوجه المقارنة	السياحة الداخلية ص ٩٧	السياحة الخارجية ص ٩٨
فوائدها	❖ الترفيه و الاستمتاع بالأنشطة البحرية وتعلم تاريخ بلادي	❖ الاستمتاع بالجو الجميل والاطلاع على ثقافة الشعوب

أوجه المقارنة	الهيئة العامة للصناعة ص ٩٢	الهيئة العامة للبيئة ص ٩٢
الأهداف	❖ تطوير الصناعات المحلية / تشجيع العمالة الوطنية /تنويع الصناعات المحلية.	❖ حماية البيئة من التلوث/ الحد من الأثار السلبية من استخدام التكنولوجيا على البيئة/ المحافظة على البيئة الطبيعية. (يكتفى بنقطة)

السؤال الرابع: مقالتي ويتكون من (أ - ب):

(أ) عدد كل من : (٤ درجات لكل نقطة درجة)

١- معوقات الزراعة في دولة الكويت . يكتفي بنقطتين / ص ٨٤

- فقر التربة
- قلة المياه / شدة الحرارة

٢- جهود دولة الكويت في تنمية الثروة السمكية . يكتفي بنقطتين / ص ٨٥

- كونت اسطولا من السفن الحديثة المتخصصة في الصيد.
- قطع معهد الأبحاث العلمية شوطا كبيرا في استزراع بعض الأنواع الجيدة من الأسماك.

(ب) حدد على خريطة دولة الكويت الصماء باستخدام الرموز التالية ما يلي : (٤ درجات لكل نقطة درجة)



١. العراق ● ص ٦٥
٢. العبدلي الزراعية ▲ ص ٨٤
٣. الخليج العربي ■ ص ٦٥
٤. منطقة الشعبية الصناعية ★ ص ٨١

انتهت الاسئلة

(٥)