



• † ì Ã † Ü • — ó ... ‹ ¡ †
Ž ë æ Ô × ... é ¡ ó
a Û † ... Ê ´ Ø ×
ê ß † " × ... ê « ... ¥ φ ×

W j ° — , f

α ´ € f |

W , " v , f

t | € f |

™ » , f | ↵

t | € f |



مراجعة مادة الاجتماعيات للصف الخامس (الفترة الدراسية الثانية) الفصل الدراسي الثاني



وزارة التربية
الإدارة العامة لمنطقة الفروانية التعليمية
مدرسة زيد الحرب الابتدائية بنين

أولاً: أكمل الفراغات التالية بما يناسبها:

١. حدث الغزو العراقي الغاشم على دولة الكويت في يوم **الجميس** ٢٠/٨/١٩٩٠م
٢. تحررت دولة الكويت من الغزو العراقي في تاريخ ٢٦/٢/١٩٩١م.....
٣. أصدرت القوات العراقية عدة أوامر للكويتيين مثل تغيير **لوجات السيارات** و **إلغاء الجنسية**...
٤. المدينة السعودية التي قامت فيها الحكومة الكويتية المؤقتة أثناء الغزو العراقي هي **الطائف**.....
٥. بدأت حرب تحرير دولة الكويت بحرب **جوية**..... في فجر يوم الخميس الموافق .. ١٧/١/١٩٩١م.....
٦. تعتبر حرب تحرير دولة الكويت أول حرب **إلكترونية**..... في العالم.
٧. الدولة التي خرجت من أراضيها القوات العسكرية لتحرير دولة الكويت هي **السعودية**.....
٨. المصدر الرئيسي للدخل في دولة الكويت هو **النفط**..... و **الغاز الطبيعي**.....
٩. النسبة التي تمثل اعتماد دولة الكويت على النفط هي **٩٤%**.....
١٠. مؤسسة مستقلة تتولى إدارة وتشغيل وتطوير الموانئ التجارية تسمى **مؤسسة الموانئ التجارية**.....
١١. من الموانئ التجارية في دولة الكويت ميناء **الشيخ**..... وميناء **الدوحة**.....
١٢. من الموانئ النفطية في دولة الكويت **الأحمدي / عبدالله / الشعبية**.....
١٣. من فوائد السفر **الإستمتاع**..... و **الراحة**..... و **المعرفة**.....

ثانياً: اكتب المصطلح العلمي الدال عليه بين القوسين:

١. (.....) **المتاحف** (ذاكرة الشعوب التي تسجل فيها الأحداث فنتذكرها ونعتبر منها.
٢. (.....) **العصيان المدني** (الامتناع عن العمل مع النظام المحتل بأي شكل من الأشكال.
٣. (.....) **الإستثمار** (توظيف الفائض من الأموال الناتج عن زيادة دخل الدولة.
٤. (.....) **زراعة محمية** (زراعة الخضراوات في غير مواسمها بحمايتها من تقلبات الطقس في بيوت بلاستيكية.
٥. (.....) **زراعة بدون تربة** (زراعة تتم في بيئة مائية أو رمل أو نشارة خشب مضافاً إليها المحاليل الغذائية.
٦. (.....) **ميناء** (مكان يسمى الفرضة عند أهل الكويت قديماً.
٧. (.....) **السياحة** (انتقال الإنسان من مكان إلى آخر لفترة معينة ولغرض معين.

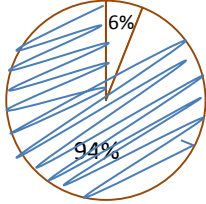
ثالثاً: اكتب أسماء المؤسسات التي تمثلها الشعارات التالية:



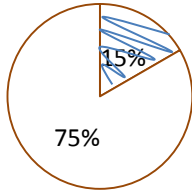
شركة نفط الكويت



مؤسسة البترول الكويتية

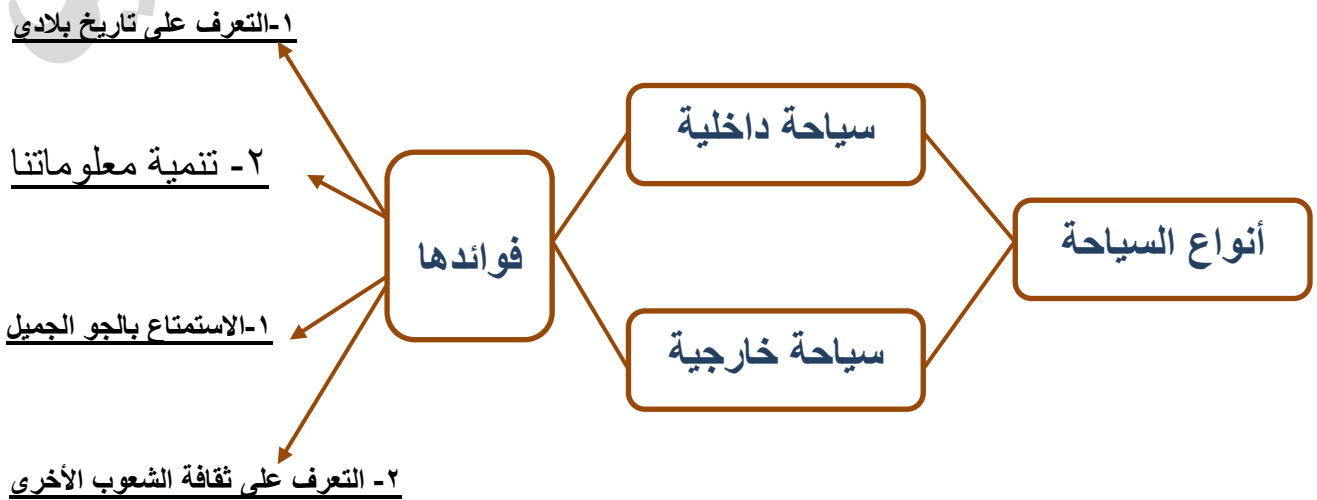


١. لون في الدائرة البيانية النسبة التي تمثل اعتماد دولة الكويت على النفط



٢. لون في الدائرة البيانية النسبة التي تمثل احتياطي النفط بدولة الكويت بالنسبة للدول العربية:

رابعاً: أكمل الخريطة الذهنية التالية بما هو مناسب:



خامساً: علل لما يأتي:

١. اهتمام دولة الكويت بتنويع مصادر الدخل.
لخطورة الاعتماد على مورد واحد وهو النفط
.....
٢. ضعفت حرفة الرعي السائدة في الكويت.
بسبب اكتشاف النفط
.....
٣. الظروف والعوامل الطبيعية عائقاً أمام الزراعة بدولة الكويت.
بسبب فقر التربة وقلة المياه وشدة الحرارة
.....
٤. يعتبر النقل البحري أقل كلفة من النقل الجوي.
لأنه يستغرق وقت أطول
.....

سادساً: أجب عن الأسئلة التالية:

١. ما هي أسباب الغزو العراقي الغاشم على دولة الكويت؟
أراد النظام العراقي أن يحو
الكويت من على خريطة العالم
.....
٢. ما هي أهم أعمال الكويتيون في الخارج أثناء الغزو العراقي الغاشم؟
إرسال وفود إلى دول العالم
.....
٣. ما هي معوقات الزراعة في دولة الكويت؟
١. فقر التربة ٢. قلة المياه ٣. شدة الحرارة
٤. كيف تغلبت بلادي الكويت على المعوقات الزراعية؟
١. إنشاء هيئات متخصصة للزراعة
٢. تقديم الإرشادات الزراعية
٣. الدعم المادي للمزارعين
التشجيع على استخدام الأساليب الحديثة في الزراعة
٥. أذكر أهمية الثروة الحيوانية كمورد اقتصادي
سد حاجة السكان من الغذاء من البيض واللحوم والألبان
.....
٦. أذكر أسماء مناطق تربية الثروة الحيوانية في دولة الكويت
١. الصليبية ٢. الشقاي ٣. الوفرة

٧. كيف شجعت دولة الكويت تربية الثروة الحيوانية؟
وفرت لها الرعاية البيطرية ٢. الدعم المادي ٣. توفير الأعلاف بأسعار رمزية
٨. عدّد جهود الحكومة الكويتية في تنمية الثروة السمكية بالبلاد.
١. كونت أسطولاً من السفن الحديثة المتخصصة في صيدها
٢. استزراع بعض الأنواع الجيدة من الأسماك
٩. عدّد طرق صيد الأسماك قديماً
١. الحظرة ٢. القرقور
١٠. عدد جهود دولة الكويت في تشجيع القطاع الصناعي
١. إقامة المناطق الصناعية
٢. تقديم القروض
٣. إقامة معاهد التدريب الصناعي
٤. إعفاء الآلات الصناعية من الرسوم الجمركية
١١. كيف تشجع السياحة في بلادنا الكويت؟
١. حسن استقبال ضيوفنا
٢. عمل عروض على تذاكر الطيران

سابعاً: صنف الأهداف التالية حسب الهيئات في الجدول التالي:

(المحافظة على البيئة - بناء الشباب الكويتي روحاً وجسداً - تشجيع العمالة الوطنية)

الهيئة العامة للشباب والرياضة	الهيئة العامة للبيئة	الهيئة العامة للصناعة
تشجيع العمالة الوطنية...	المحافظة على البيئة...	بناء الشباب الكويتي روحاً وجسداً

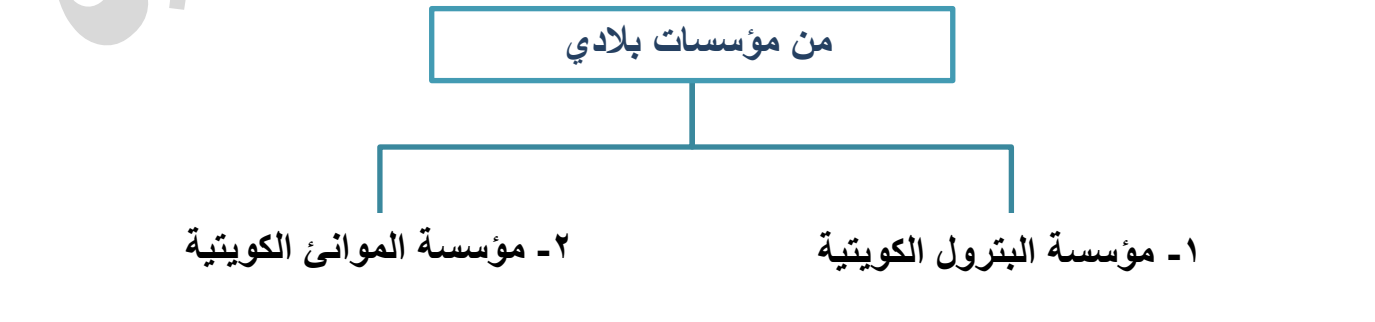
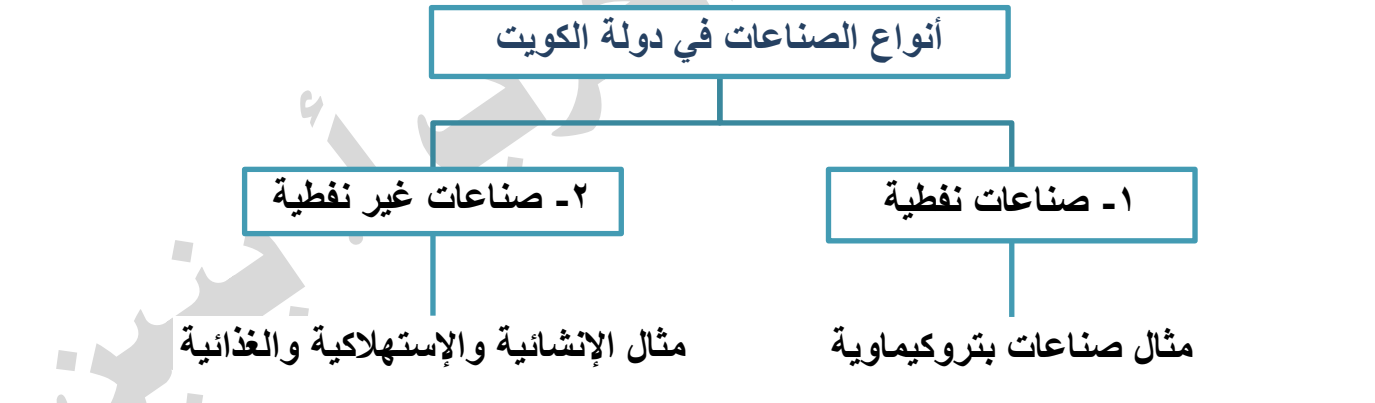
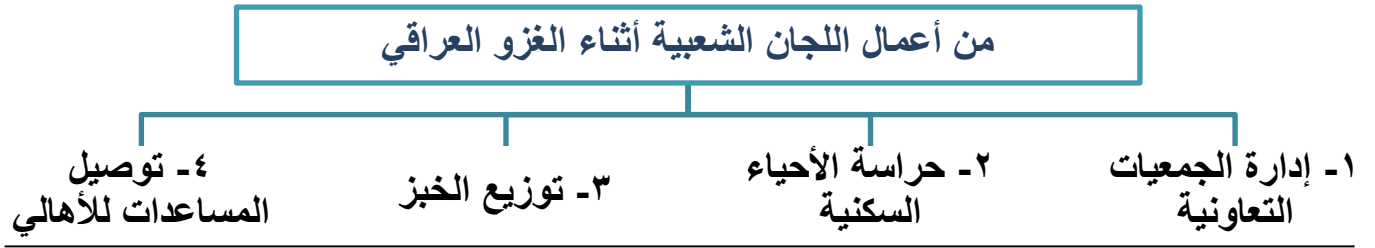
صنف الصناعات المحلية التالية في جدول المناطق الصناعية:

(الكاشي / تكرير النفط / الألومنيوم / المعكرونة / المرطبات / الملح / البسكويت / إسالة

الغاز / المنظفات / الأسمدة / الورق)

المنطقة الصناعية	منطقة الشيوخ الصناعية	منطقة الشعبية الصناعية	منطقة صباح الصناعية	الأحمدي الصناعية
أهم الصناعات الموجودة فيها	المعكرونة/ الملح/ البسكويت/ المنظفات	تكرير النفط/ الأسمدة/ إسالة الغاز	الكاشي/ الألمنيوم/ المرطبات/ الورق	الكاشي/ الألمنيوم

ثامناً: أكمل المخطط السهمي التالي بما هو مناسب:

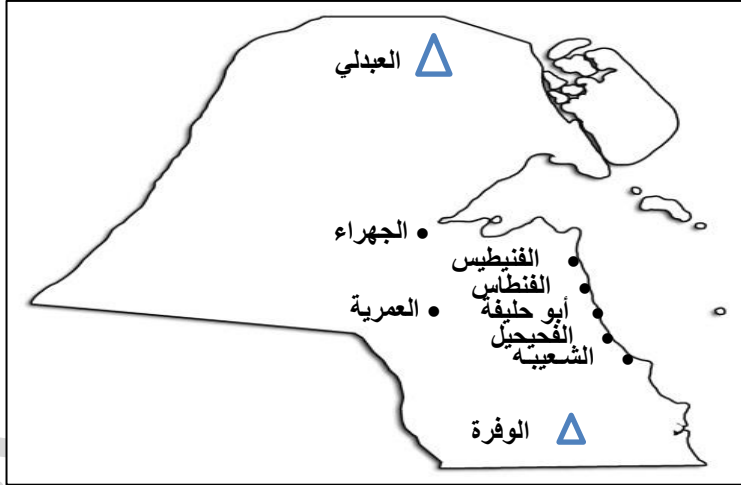


تاسعاً: حدد على خريطة دولة الكويت المناطق الصناعية التالية بوضع الرموز:



- △ منطقة الشويخ الصناعية
- منطقة صباحان الصناعية
- منطقة الأحمدى الصناعية
- ✚ منطقة الشعيبة الصناعية

حدد على خريطة دولة الكويت المناطق الزراعية القديمة والحديثة:



المناطق الزراعية القديمة

- الجهراء / • الفنتاس
- أبو حليفة / • الفحيحيل
- الشعيبه
- محطة التجارب الزراعية (العمرية)

المناطق الزراعية الحديثة

- △ الوفرة / △ العبدلي

حدد على خريطة دولة الكويت الموانئ التجارية التالية بوضع الرموز:



- △ ميناء الشويخ
- ميناء الدوحة