

ورقة مراجعة للصف الخامس
للوحدة الخامسة (حكام من بلادي)


السؤال الاول:

ضع علامة () امام الاجابة الصحيحة وعلامة () امام العبارة الخاطئة فيما ياتي:

- 1- تولى الشيخ احمد الجابر الحكم بعد وفاة عمه الشيخ سالم المبارك. ()
- 2- من اهم الاحداث التي حدثت في عهد الشيخ عبدالله السالم افتتاح المدرسة الاحمدية ()
- 3- جعل الشيخ صباح السالم الكويت دولة بدلا من امارة. ()
- 4- حصلت الكويت على استقلالها في عام 19 \ 6 \ 1961م ()
- 5- تم انشاء المجلس التاسيسي عام 1965م في عهد الشيخ عبدالله السالم. ()
- 6- لقب الشيخ صباح السالم بابو الاستقلال ()
- 7- رفع العلم الجديد لدولة الكويت في عهد الشيخ احمد الجابر ()
- 8- تم اكتشاف اول بئر نفطي في بحره عام 1938م ()

السؤال الثاني

اذكر صاحب كل صورة مما ياتي



.....
.....

.....
.....

السؤال الثالث:

اكمل الفراغات الاتية بما يناسبها:-

- 1-تم تصدير اول شحنة نفط عام
- 2-تم اكتشاف اول بئر نفطي في عام 1936م، واول بئر منتجة للنفط في منطقة عام 1938م.
- 3-منح امتياز التنقيب عن النفط للشركات الاجنبية عام في عهد الشيخ احمد الجابر.
- 4-تم قيام اول مجلس شورى في دولة الكويت عام
- 5-افتتحت المدرسة الاحمدية في عهد الشيخ احمد الجابر عام
- 6-نحتفل بالعيد الوطني لدولتنا الحبيبة من كل عام في
- 7-انضمت الكويت للجامعة العربية عام
- 8-تم انشاء المجلس التاسيسي عام لاعداد الدستور الكويتي والتصديق عليه.
- 9-تم افتتاح مجلس الامة عام في عهد الشيخ
- 10-لقب الشيخ بابو الاستقلال

السؤال الرابع

1-عرف عهد الشيخ عبدالله السالم بالعصر الذهبي لدواة الكويت؟

.....
.....

2-لماذا نحتفل بالعيد الوطني من كل عام في 25 فبراير؟

.....
.....

3-سبب تسمية المدرسة الاحمدية بهذا الاسم؟

السؤال الخامس

اذكر مفهوم كل من :

- 1-) (هي وثيقة مكتوبة تتكون من مجموعة من المواد التي تنظم العلاقة بين الحاكم والمحكوم.
- 2-) (اعطاء الدولة حق البحث والتنقيب عن النفط وبيعه لشركة اجنبية.
- 3-) (هي مسؤولية الدولة بصورة مباشرة عن ادارة شؤونها الداخلية والخارجية.

السؤال السادس

اذكر

1-اهم الانجازات التي حدثت في عهد الشيخ احمد الجابر

- 1.....
- 2.....

2-اهم الانجازات التي حدثت في عهد الشيخ عبدالله السالم الداخلية والخارجية.

- الداخلية:.....
-
- الخارجية:.....

مراجعة للوحدة الرابعة

النبات والحيوان

ضع علامة () امام الاجابة الصحيحة وعلامة () امام العبارة الخاطئة فيما ياتي:

- 1- اختلاف تنوع النباتات يرتبط باختلاف طبيعة التربة والبعد عن البحر. ()
- 2- عدم وجود تضاريس مختلفة كالمرتفعات العالية والوديان الواسعة يجعل الغطاء النباتي ضعيفا في الكويت. ()
- 3- نبات العرفج يعتبر نبات حولي . ()
- 4- من الأماكن الرعوية في دولة الكويت العبدلي والوفرة. ()
- 5- تعتبر النباتات الطبيعية مصدرا غذائيا لانواع عديدة من الحيوانات بدولة الكويت. ()
- 6- اكثر الطيور انتشارا في الكويت هو النورس. ()

اذكر مفهوم كل من :

- 1- () نباتات تتكاثر بعد سقوط المطر وتكمل دورة حياتها في فترة زمنية قصيرة
- 2- () نباتات ذات جذور عميقة تمتاز بصفات تعينها على الاستفادة من المياه ا لقليلة وتزدهر في فصل الربيع.
- 3- () الافراط في الرعي.
- 4- () امتداد تاثير الصحراء على المناطق الرعوية والزراعية.

1. اذكر أنواع الحياة الحيوانية في دولة الكويت؟

- 1-.....
- 2-.....
- 3-.....
- 4-.....

.....-5

2. علل كان للظروف المناخية القاسية اثر على نمو الغطاء النباتي في دولة الكويت؟

.....

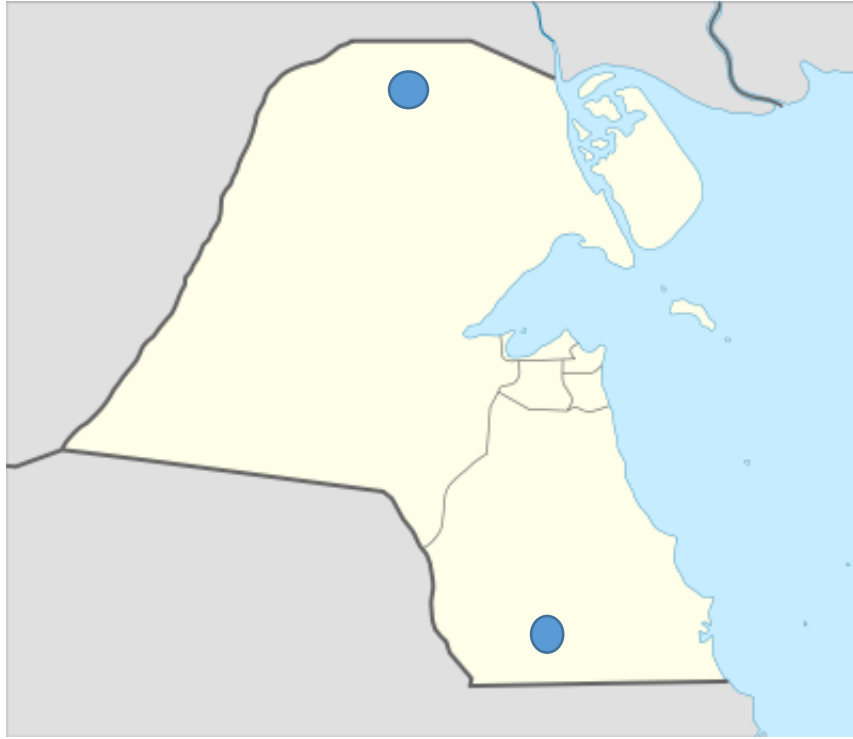
.....

.....

.....

.....

اذكر أسماء المناطق الرعوية على خريطة الكويت



مراجعة للوحدة الثالثة

المناخ

1- اكمل الفراغات الاتية بما يناسبها:-

- 1- يبدأ سقوط المطر في دولة الكويت في شهر
- 2- تعرف الامطار التي تسقط في شهر مارس وابريل ومايو باسم
- 3- قسمت المناطق المناخية في العالم الى..... و.....
- 4- تقع دولة الكويت بين دائرتي عرض..... و..... شمال خط الاستواء
- 5- تقع دولة الكويت ضمن المنطقة المناخية
- 6- البوارح هي رياح مغبرة تهب في فصل..... وتكون في موسم
- 7- يبدأ سقوط المطر في موسم
- 8- عندما يظهر نجم سهيل فان درجة الحرارة
- 9- عدد أيام موسم الربيع..... يوم
- 10 في موسم الجوزاء تكون الرياح..... وتسمى ب.....

1. علل تميز سكان اهل الجزيرة العربية بعلوم الفلك؟

.....

2. اذكر كيف استفاد الكويتيون من مواقع النجوم؟

.....

3. اذكر لماذا يختلف المناخ بين مناخ العالم؟

.....
.....

1. اذكر عناصر المناخ :

.....-1-2

.....-3-4

.....-5

اذكر مفهوم كل من :

(دراسة حالة الجو لفترة زمنية قصيرة.

(دراسة حالة الجو لفترة زمنية طويلة.

مراجعة لدرس الموقع الفلكي

اكمل الجدول التالي :

دوائر العرض	خطوط الطول	
		تعريفها
		عددها
		أهميتها

ارسم على خريطة العالم خط غرينتش وخط الاستواء



اذكر المفهوم التالي:

1-) (موقع القارة او الدولة بالنسبة لخطوط الطول ودوائر العرض.

مراجعة لدرس تضاريس بلاد

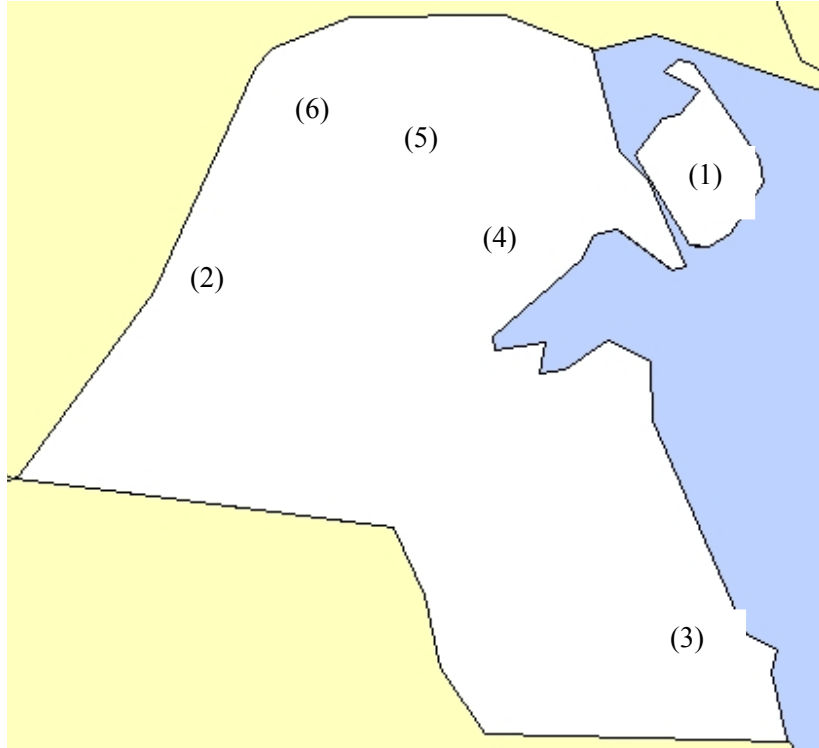
اكمل الفراغات التالية بما يناسبها:

- 1- ارض الكويت صحراء منبسطة تنحدر تدريجيا من
جهة الى حيث تقع سواحلها على الخليج العربي.
- 2- تتنوع المظاهر التضاريسية في دولة الكويت فمنها
و و و
- 3- يتوسط ساحل دولة الكويت خليج صغير يسمى
- 4- يبدأ جون الكويت من رأس الى رأس
- 5- اكبر الجزر الكويتية هي جزيرة يفصلها عن ارض الكويت قناة ضيقة
هي و خور
- 6- من اهم التلال الموجودة في دولة الكويت و و
- 7- من اهم المنخفضات في دولة الكويت و و
- 8- يوجد وادي جاف كبير في غرب الكويت يسمى ب
- 9- تتواجد الكثبان الرملية في شمال دولة الكويت مثل و
- 10- من اهم السبخات في دولة الكويت هي

اذكر مفهوم كل من :

- 1-) تلال من الرمال تتراكم في الصحاري بفعل الرياح.
- 2-) أراض منخفضة قليلة المياه تنمو فيها النباتات الملحية.

امامك خريطة الكويت اكتب ما هو مطلوب منك



- 1- اكبر جزيرة كويتية هي
- 2- وادي جاف هو
- 3- سبخات هو
- 4- تل
- 5- منخفض هو
- 6- كثبان رملية هي