

هنا جميع روابط وقنوات صفوف الكويت التعليمية

<https://t.me/joinchat/AAAAAE040LBCM5TO6wNB2w>

إليك التطبيق الرسمي لموقع المناهج الكويتية على متجر جوجل بلاي

[https://play.google.com/store/apps/details?](https://play.google.com/store/apps/details?id=com.almanahj.myapplication)

[id=com.almanahj.myapplication](https://play.google.com/store/apps/details?id=com.almanahj.myapplication)

:لتنضم الينا اضغط على اسم الصف المطلوب

[قناة المناهج الكويتية / قروب مدرسون في الكويت](#)

[الصف الأول](#)

[الصف الثاني](#)

[الصف الثالث](#)

[الصف الرابع](#)

[الصف الخامس](#)

[الصف السادس](#)

[الصف السابع](#)

[الصف الثامن](#)

[الصف التاسع](#)

[الصف العاشر](#)

[الصف الحادي عشر العلمي / الصف الحادي عشر الأدبي](#)

[الصف الثاني عشر العلمي / الصف الثاني عشر الأدبي](#)

السؤال الأول : املأ العبارات بكلمة مناسبة في الجمل التالية :-

1. بدأت القوات العراقية بالعدوان علي دولة الكويت في صباح يومالخميس / 2 / أغسطس 1990م
2. أصدرت القوات العراقية عدة أوامر للكويتيين مثل تغيير الجنسية.... وتغيير لوحات أرقام السيارات
3. عقد مؤتمر جدة الشعبي في الفترة من 13 – 15 / 10 / 1990م
4. الهجوم الجوي لتحرير دولة الكويت بدأ في تاريخ 17 يناير 1991م
5. الهجوم البري بدأ في يوم 24 فبراير 1991م
6. تم تحرير دولة الكويت بتاريخ 26 فبراير 1991م
7. أول حرب الكترونية في العالم حرب تحرير دولة..... الكويت
8. دولة خليجية ساعدت الكويت علي التحرير هي المملكة العربية السعودية
9. من الدول العربية المشاركة في تحرير دولة الكويت مصر...و...سوريا
10. مقر حكومة الكويت المؤقتة أثناء الاحتلال العراقي الغاشم في مدينة تسمى الطائف
11. استمر الغزو العراقي لدولة الكويت فترة 7..... اشهر
12. الشركة الكويتية التي تقوم بتزويد الطائرات بالوقود تسمى..... كافكو
13. المؤتمر الذي عقده الكويتيون أثناء الاحتلال العراقي يسمى مؤتمر جدة الشعبي
14. تم إنشاء ميناء الشويخ في عام 1960م

السؤال الثاني : اختر الإجابة الصحيحة من بين الأقواس :-

1. تحررت دولة الكويت من عدوان النظام العراقي بتاريخ (1991/1/26 – 1991/2/26 – 1990/2/26)
2. يبلغ احتياطي النفط لدولة الكويت بالنسبة للدول العربية (13% - 14% - 15%)
3. أول ميناء تجاري في دول الكويت تم إنشاؤه يسمى (الشويخ – الأحمدى – الشعبية)
4. من المناطق الزراعية في دولة الكويت قبل النفط (الفنتاس – العبدلي – الوفرة)
5. من أهم المناطق السياحية في دولة الكويت (الأهرامات – برج خليفة – منزهه الخيران)
6. الهيئة التي يشرف عليها وزير الشؤون الاجتماعية والعمل تسمى (الهيئة العامة للشباب والرياضة – الهيئة العامة للبيئة – الهيئة العامة للصناعة)
7. الشركة المسؤولة عن استكشاف النفط وإنتاجه داخل الكويت تسمى (نفط الكويت – ناقلات النفط – التنمية النفطية)
8. منطقة مختصة بصناعة البسكويت والمنظفات والأثاث تسمى (الشعبية – الشويخ – الأحمدى)

السؤال الثالث : عرف المفاهيم التالية :-

- **تأميم النفط :** تملك الدولة لشركات النفط العاملة في أراضيها .
- **المتاحف :** ذاكرة الشعوب التي تسجل الأحداث فننذكرها ونعتبر منها .
- **العصيان المدني :** الامتناع عن العمل والتعاون مع النظام المحتل بأي شكل من الأشكال .
- **الاستثمار:** هو توظيف الفائض من الأموال الناتج عن زيادة دخل الدولة .
- **الزراعة المحمية :** هي زراعة الخضروات في غير مواسمها بحمايتها من تقلبات الطقس .
- **الزراعة بدون تربة :** هي التي تتم في بيئة من الرمل أو الحصى أو نشارة الخشب مضاف إليها المحاليل الغذائية .
- **مؤسسة الموانئ النفطية :** هي مؤسسة مستقلة تتولى إدارة وتشغيل وتطوير الموانئ التجارية.
- **السياحة :** هي انتقال الإنسان من مكان إلى آخر لفترة معينة ولغرض معين .

السؤال الرابع : علل ما يلي (أذكر السبب)

- 1- ما هي معوقات الزراعة بدولة الكويت.
فقر التربة – قلة المياه – شدة الحرارة .
- 2- ضعف حرفة الرعي بدولة الكويت .
بسبب اكتشاف النفط .
- 3- اهتمت دولة الكويت بتنوع موارد الدخل .
لخطورة الاعتماد على مورد واحد وهو النفط ولتحقق دخلاً إضافياً لدولة الكويت .

السؤال الخامس :- أجب عن الأسئلة التالية :-

1. أذكر أهم أعمال اللجان الشعبية أثناء الاحتلال العراقي لدولة الكويت .
 - 1- إدارة الجمعيات التعاونية
 - 2- حراسة الأحياء السكنية
 - 3- القيام بأعمال النظافة وتوفير الخبز
 - 4- توصيل المساعدات المختلفة للأهالي

2- عدد جهود دولة الكويت في تنمية الثروة السمكية .

- 1- إنشاء أسطول من السفن الحديثة المتخصصة
- 2- استزراع بعض أنواع الأسماك الجيدة
- 3- معهد الكويت للأبحاث العلمية

3- اكتب أهداف الهيئة العامة للبيئة .

- 1- حماية البيئة من التلوث
- 2- المحافظة علي البيئة الطبيعية

4- اذكر بعض طرق الصيد قديماً .

- 1- الحظرة
- 2- القرقور






5- عدد جهود الدولة في تشجيع القطاع الصناعي.

- 1- تطوير الصناعة المحلية
- 2- تشجيع العمالة الوطنية
- 3- تنويع الصناعات المحلية

6- اذكر فوائد السياحة الداخلية والخارجية مما درست :-

نوع السياحة	فوائدها
السياحة الداخلية	أتعلم تاريخ بلادي – أنمي معلوماتي العلمية
السياحة الخارجية	الاستمتاع – التعرف على الثقافات الأخرى

السؤال السادس: صل من القائمة (أ) ما يناسبها من القائمة (ب):-

(أ) اسم الشركة	(ب) الشعار
• شركة البترول الوطنية	
• شركة نفط الكويت	
• شركة ناقلات النفط مؤسسة البترول الكويتية	
• شركة صناعة الكيماويات البترولية	
• مؤسسة البترول الكويتية	

السؤال السابع :- ضع علامة (√) إذا كانت العبارة صحيحة وعلامة (X) إذا كانت العبارة خاطئة

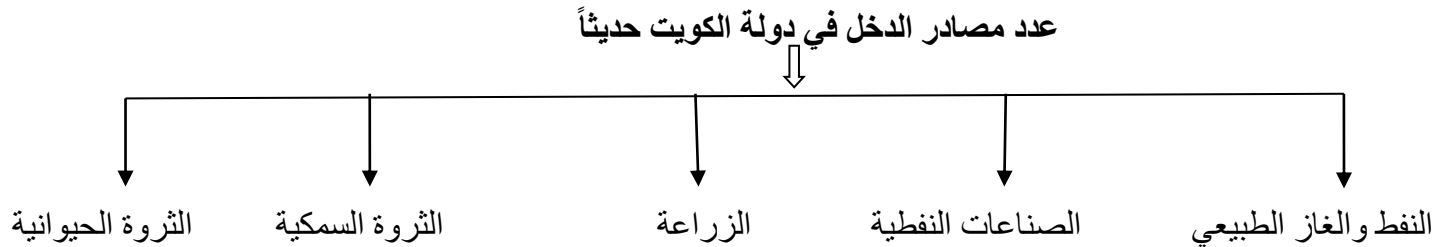
- 1- تحررت دولة الكويت في عام 1990م (X)
- 2- حدث الغزو العراقي لدولة الكويت في عهد الشيخ جابر الأحمد الصباح (√)
- 3- أول حرب الكترونية في العالم حرب تحرير الكويت (√)
- 4- شركة ناقلات النفط الكويتية هي المسؤولة عن استكشاف النفط وإنتاجه (X)
- 5- نتعلم تاريخ بلادنا من خلال زيارة المتاحف التاريخية (√)
- 6- تعتبر الصناعة في الوقت الحاضر أهم اهتمامات دول العالم (√)
- 7- منطقة الوفرة من المناطق الزراعية القديمة (X)
- 8- حرب تحرير الكويت تعتبر ثالث حرب الكترونية في العالم (X)
- 9- تعتبر السياحة مورد هاماً في الوقت الحاضر وتسمى صناعة القرن الحادي والعشرين (√)
- 10- لا توجد فوائد للسفر (X)
- 11- الظروف والعوامل الطبيعية تشكل عائقاً أمام الزراعة بدولة الكويت (√)

السؤال الثامن: صنف الأهداف التالية حسب الهيئات في الجدول التالي :-

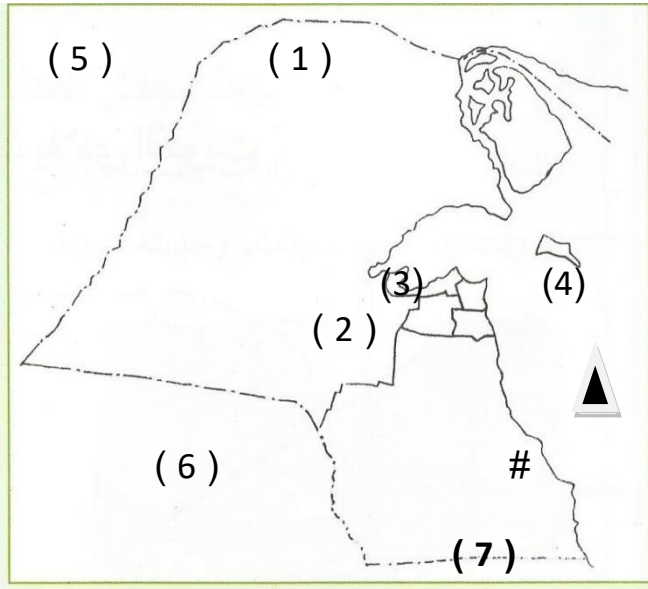
(بناء الشباب الكويتي – حماية البيئة من التلوث – تشجيع العمالة الوطنية – تنويع الصناعات المحلية – تنظيم المهرجانات والمسابقات – المحافظة علي البيئة الطبيعية)

الهيئة العامة للصناعة	الهيئة العامة للشباب والرياضة	الهيئة العامة للبيئة
تشجيع العمالة الوطنية	بناء الشباب الكويتي	حماية البيئة من التلوث
تنويع الصناعات المحلية	تنظيم المهرجانات والمسابقات	المحافظة علي البيئة الطبيعية

السؤال التاسع: أكمل المخطط السهمي التالي :-



السؤال العاشر : أمامك خريطة لدولة الكويت أجب حسب ما يطلب منك :-



- 1- محطة التجارب الزراعية يمثلها الرقم 2.....
- 2- منطقة زراعية حديثة في الشمال يمثلها الرقم 1....
- 3- منطقة الشويخ الصناعية يمثلها الرقم 3.....
- 4- دولة عربية احتلت دولة الكويت يمثلها الرقم 5.....
- 5- دولة خليجية انطلقت منها القوات البرية لتحرير دولة الكويت تحمل رقم 6.....
- 6- حدد منطقة الشعبية الصناعية بوضع الرمز (#)
- 7- منطقة زراعية قديمة يمثلها الرقم 4.....
- 8- منطقة زراعية حديثة في الجنوب يمثلها الرقم 7.....
- 9- حدد الخليج العربي بوضع (▲)

نحيطكم علماً بأن اختبار الصف الخامس سيكون بالمواضيع التالية :

م	نهاية الفصل	الموضوع	الصفحات
2	الثاني	- الاحتلال والصمود	63-58
		- التحرير وشمس الحرية	65-64
		- من موارد بلادي حديثاً (1) - إلى السياحة الداخلية والخارجية	99-80

تنبيه /نحيطكم علماً بأن المراجعة لاتغني عن الكتاب المدرسي

مع تمنيات قسم الاجتماعيات بالتفوق والنجاح,,,,,,;

مدير

رئيس القسم

إعداد

المدرسة

أ . حامد العازمي

د. عبدالرحمن العجمي

أ . نبوي عطية نبوي