


مذكرة مراجعة لمادة بلادي الكويت الصف الخامس الابتدائي الفصل الدراسي الثاني العام الدراسي ٢٠١٧ - ٢٠١٨



اعداد المعلمة : زينب بن نخي رئيسة الشعبة : ناهد الظفيري

عزيزي ولي الأمر ... عزيزتي المتعلمة ...

نحيطكم علما بأن هذه المذكرة للمراجعة فقط
و ليس الاعتماد عليها في دراسة الاختبار و الدراسة تكون من الكتاب
المدرسي (بلادي الكويت) مع أوراق العمل التي في الكتاب .

مع خالص الشكر،،،





وزارة التربية

الإدارة العامة لمنطقة حولي التعليمية

مدرسة السلام الابتدائية بنات



السلام بلا حدود

2020

السلام غير

ورقة عمل للصف الخامس الابتدائي

لمادة بلادي الكويت

درس : الشيخ صباح السالم الصباح (ابو الجميع)

الاسم :

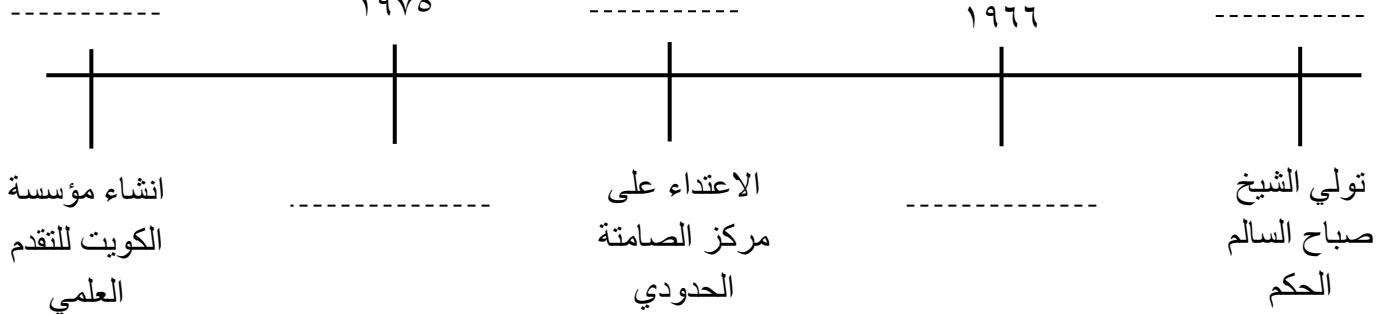
الصف : ١ / ٥

السؤال الأول: رتب الأحداث التاريخية التالية على الخط الزمني التالي :-

تأميم النفط الكويتي - ١٩٦٥ - افتتاح جامعة الكويت - ١٩٧٣ - ١٩٧٦

١٩٧٥

١٩٦٦



السؤال الثاني: ااختر الاجابة الصحيحة من بين البدائل التالية :-

١- لقب الشيخ صباح السالم بـ (أمير القلوب - أبو الاستقلال - أبو الجميع - أبو الدستور)

٢- الحاكم الثاني عشر لدولة الكويت يسمى الشيخ

(جابر الاحمد الصباح - صباح السالم الصباح - صباح الاحمد الصباح - سالم المبارك الصباح)

٣- اعتدى النظام العراقي البائد على مركز كويتي حدودي يسمى

(الصامتة - الخفجي - النويصيب - الروضتين)

٤- تولى الشيخ صباح السالم الحكم بعد وفاة أخيه الشيخ

(أحمد الجابر الصباح - عبدالله السالم الصباح - سعد العبدالله الصباح - صباح الاحمد الصباح)

السؤال الثالث: أجب على الاسئلة التالية :-

١- بم تميزت شخصية الشيخ صباح السالم الصباح ؟

٢- ما المقصود بتأميم النفط ؟

اعداد المعلمة : زينب بن نخي

رئيسة الشعبة : ناهد الظفري

ورقة عمل للصف الخامس الابتدائي

لمادة بلادي الكويت

درس : الشيخ جابر الاحمد الجابر الصباح

« أمير القلوب »

الاسم :

الصف : ١ / ٥



السؤال الاول : أجب عن الأسئلة التالية :-

١. ما اسم الشيخ في الصورة ؟
٢. بماذا لقبه الشعب الكويتي ؟
٣. ما هو ترتيبه بين حكام دولة الكويت ؟
٤. في أي عام أعطى المرأ الكويتية حقها السياسي ؟
٥. من هي معصومة المبارك ؟

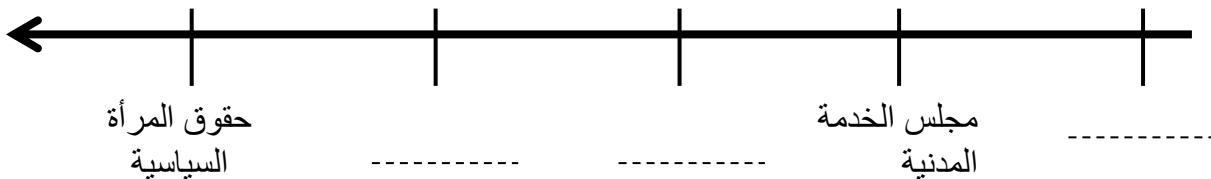
السؤال الثاني : رتب الاحداث التاريخية التالية على الخط الزمني :-

مؤسسة التأمينات الاجتماعية ١٩٧٨ مؤسسة البترول الكويتية

٢٠٠٥ مجلس التعاون الخليجي ١٩٨١

١٩٨٠

١٩٧٦





وزارة التربية

الإدارة العامة لمنطقة حولي التعليمية

مدرسة السلام الابتدائية بنات



السلام غير

2020

ورقة عمل للصف الخامس الابتدائي

لمادة بلادي الكويت

درس : الاحتلال و الصمود ح ١

الاسم :

الصف : ٥ / ١

السؤال الاول : اكمل الفراغات بكلمات مناسبة من بين القوسين :-

(الخميس - العراق - ٨ أغسطس - النفط - ٢ أغسطس)

١- الدولة التي اعتدت على دولة الكويت عام ١٩٩٠م هي

٢- كان سبب الغزو العراقي البائد للكويت هو مشاكل الحدود و

٣- تعرضت الكويت لغزو النظام العراقي البائد في يوم بتاريخ من عام ١٩٩٠م

السؤال الثاني : أجب على السؤال التالي :-

ماذا أراد النظام العراقي البائد أن يفعل باحتلال دولة الكويت ؟

.....

السؤال الثالث: اذكر ٣ طرق قام من خلالها النظام العراقي البائد بالاعتداء على الشعب الكويت

أثناء فترة الاحتلال :-

سرقة

.....

التدمير و
القتل و
الارهاب

تغيير
لوحات

.....

إلغاء

.....



وزارة التربية

الإدارة العامة لمنطقة حولي التعليمية

مدرسة السلام الابتدائية بنات



السلام غير

2020

ورقة عمل للصف الخامس الابتدائي
لمادة بلادي الكويت
درس : و أشرقت شمس الحرية

الاسم :

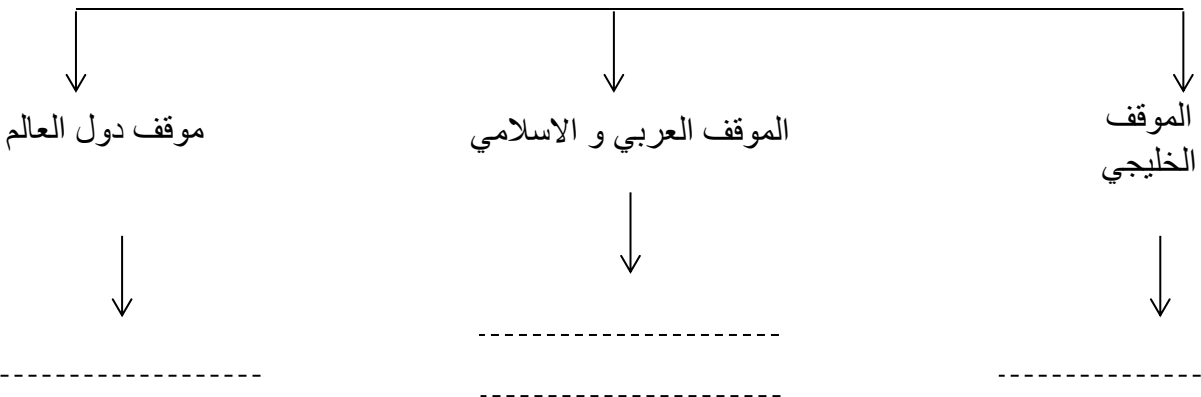
الصف : ٥ / ١

السؤال الأول : اختر الإجابة الصحيحة من بين القوسين لتكمل الفقرة بشكل صحيح :-

بدأت الحرب الجوية لتحرير دولة الكويت في تاريخ (١٧ يناير ١٩٩١ - ١٧ يناير ١٩٩٠) حيث قامت القوات (المتخاذلة - المتحالفة) بقصف أهداف عسكرية داخل العراق و الكويت بواسطة (الطائرات الحربية - الدبابات) ، و في ٢٤ فبراير ١٩٩١م بدأ الهجوم (البحري - البري) الكاسح ضد القوات العراقية و هكذا تحررت دولة الكويت في تاريخ (٢٥ فبراير ١٩٩١ - ٢٦ فبراير ١٩٩١) ، و تعتبر حرب تحرير الكويت أول حرب (إلكترونية - كهربائية) في العالم .

السؤال الثاني : أكمل المخطط السهمي التالي :-

الدول التي لها مواقف بارزة في تحرير دولة الكويت





وزارة التربية

الإدارة العامة لمنطقة حولي التعليمية

مدرسة السلام الابتدائية بنات



ورقة عمل للصف الخامس الابتدائي

لمادة بلادي الكويت

درس : الشيخ سعد العبدالله

الاسم :

الصف : ١ / ٥

السؤال الأول :

ضع علامة ✓ عند صورة الشيخ سعد العبدالله السالم الصباح ثم اكتب

ترتيبه بين حكام دولة الكويت :-



ترتيبه بين حكام الكويت



السؤال الثاني :

فرق بين أعمال الشيخ سعد العبدالله الصباح من

خلال الجدول التالي :

أثناء احتلال النظام العراقي البائد	أثناء ولاية العهد	قبل ولاية العهد
-١	-١	-١
-٢	-٢	-٢
-٣	-٣	-٣

- ارتفاع دخل الفرد الكويتي

- ادخال النظم الحديثة في الشرطة

- الاصرار على مغادرة الشيخ جابر الاحمد إلى

السعودية

- ادخال الحاسب الالي في أعمال وزارة الداخلية

- تطوير التعليم الفني و المهني

- الاحتفال باسبوع المرور الاول

- تأمين الاوضاع المعيشية للمواطنين في الداخل و

الخارج

- الجهود في انعقاد المؤتمر الشعبي في جدة

- الاهتمام بقضايا الامن و الشباب و الشؤون الاسلامية



وزارة التربية

الإدارة العامة لمنطقة حولي التعليمية

مدرسة السلام الابتدائية بنات



السلام غير

2020

ورقة عمل للصف الخامس الابتدائي
لمادة بلادي الكويت
درس : الشيخ صباح الاحمد الصباح

الاسم :

الصف : ١ / ٥

السؤال الأول : أجبني على الأسئلة التالية :-

١- ما اسم الحاكم في الصورة ؟

.....



٢- ما هو ترتيبه بين حكام دولة الكويت ؟

٣- ما هو لقبه ؟

السؤال الثاني : رتبى الكلمات التالية لتكونى جملة مفيدة :-

١- وزارة الخارجية - لسنوات عديدة - ارتبطت - الشيخ صباح

.....

٢- للموهبة و الابداع أنشئ - الموهوبين و المبدعين - مركز صباح الاحمد - لاكتشاف و رعاية المتميزين و .

.....

٣- مجلس الأمة و البلدي - مارست المرأة الكويتية - و الترشيح لعضوية - حق الانتخاب - في

عهد الشيخ صباح .

٤- اختير قائداً للعمل - سبتمبر عام ٢٠١٤م - الشيخ صباح الاحمد - الانساني في ٩

.....



وزارة التربية

الإدارة العامة لمنطقة حولي التعليمية

مدرسة السلام الابتدائية بنات



السلام بلا حدود

2020

السلام غير

ورقة عمل للصف الخامس الابتدائي

لمادة بلادي الكويت

درس : السكان في بلادي ١

الاسم :

الصف : ١ / ٥

السؤال الأول : اختر الاجابة الصحيحة من بين الأقواس :-

١. أي من الفئات التالية أكبر عدد سكان في دولة الكويت :

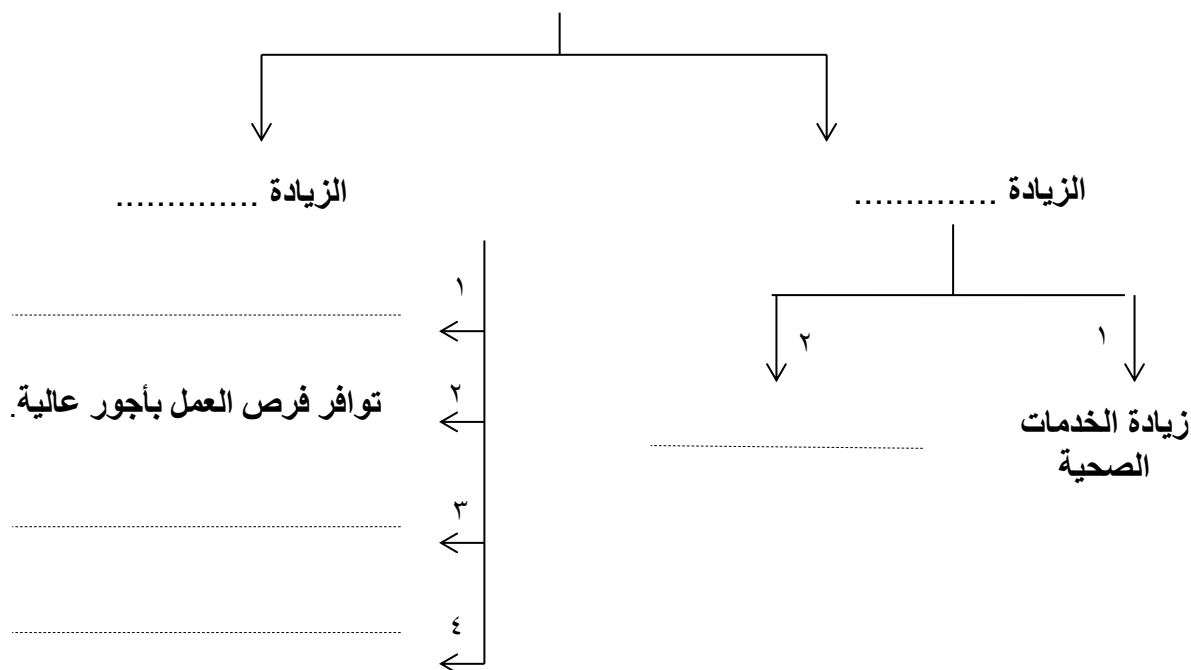
- الذكور الكويتي - الاناث الكويتيات - الذكور غير الكويتي - الاناث غير الكويتيات

السؤال الثاني : صل المجموعة (أ) بما يناسبها من المجموعة (ب) بوضع الرقم المناسب :-

(أ)	الرقم	(ب)
١ - الزيادة غير الطبيعية		عدد المواليد - عدد الوفيات
٢ - الزيادة الطبيعية		تكون بسبب الهجرة

السؤال الثالث : أكمل المخطط السهمي التالي :-

أسباب زيادة عدد السكان في دولة الكويت





ورقة عمل للصف الخامس الابتدائي
لمادة بلادي الكويت
درس : السكان في بلادي ٢

الاسم :

الصف : ١ / ٥

السؤال الأول : اختر الإجابة الصحيحة من بين الأقواس :-

١. أكثر سكان دولة الكويت يتواجدون في محافظة

(الاحمدي ، الجهراء ، الفروانية ، حولي)

٢. يكثر عدد السكان الكويتيين عن غير الكويتيين في محافظة ...

(مبارك الكبير ، الفروانية ، العاصمة ، حولي)

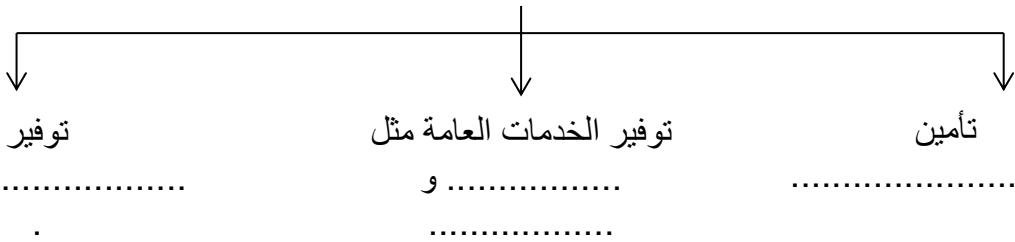
٣. يعتبر الشريط الساحلي جنوب جون الكويت من المناطق ذات كثافة سكانية

(معتدلة ، مرتفعة ، قليلة ، معدومة)

السؤال الثاني : عرف الكثافة السكانية :

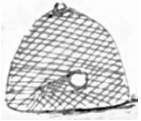
السؤال الثاني : أكمل المخطط السهمي التالي :

احتياجات السكان في كل دولة



السؤال الأول : أكمل العبارات التالية بما يناسبها لتصبح عبارات صحيحة :

- ١- المصدر الرئيسي للدخل في دولة الكويت هو
- ٢- كان يطلق الكويتيون قديماً على الميناء اسم
- ٣- أكبر ميناء تجاري تأسس بالكويت عام ١٩٦٠ يسمى ميناء
- ٤- من أهم المناطق لتربية الحيوانات بدولة الكويت الصليبية و الشقاي و
- ٥- أكثر المحافظات في عدد السكان محافظة تسمى
- ٦- الفرق بين عدد المواليد و عدد الوفيات يسمى
- ٧- توظيف الفائض من الأموال الناتج عن زيادة دخل الدولة
- ٨- نوع من الزراعة التي تتم في بيئة مائية أو بيئة من الرمال أو الحصى مضافاً إليها المحاليل الغذائية تسمى



- ٩- الصورة المقابلة تمثل احدى طرق و أدوات صيد الأسماك قديماً تسمى

السؤال الثاني : أكتب المفهوم الدالة عليه العبارات التالية :

- ١- زيادة عدد السكان المرتبطة بالهجرة
- ٢- انتقال الانسان من مكان إلى آخر لفترة معينة بغرض الاستمتاع و الراحة
- ٣- زراعة الخضراوات في في غير مواسمها في بيوت بلاستيكية لحمايتها من تقلبات الطقس

السؤال الثالث : ظلل المربع الصحيح أمام كل من العبارات التالية :

١- مجموع قيمة الصادرات النفطية الكويتية بالنسبة للقطاعات الأخرى : أكثر أقل

٢- منطقة الوفرة الزراعية بالنسبة لمنطقة الفنتاس الزراعية : أحدث أقدم

٣- جزيرة بوبيان بالنسبة لجزيرة فيلكا : أصغر أكبر

٤- نسبة احتياطي النفط لدولة الكويت بالنسبة للدول العربية يمثل ١٥% : خطأ صح

السؤال الرابع : ظلل الحرف الذي يمثل الإجابة الصحيحة للعبارات التالية :

المعكرونية
البسكويت
المنظفات
الأثاث

ب

الأسمدة
الكيميائية
تكرير النفط

أ

١- أهم الصناعات في منطقة الشويخ الصناعية :



ب

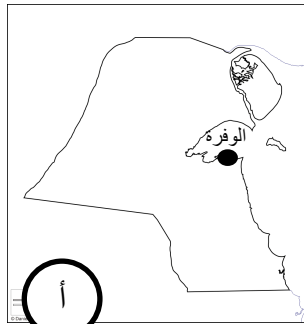


أ

٢- أحد الأماكن السياحية في دولة الكويت :



ب



أ

٣- مناطق زراعية قبل النفط :

عدد السكان

مساحة الدولة

٣

ب


عدد السكان × مساحة الدولة

أ

٥- الكثافة السكانية =

السؤال الخامس : اختر البديل المناسب للجمل التالية من بين البدائل التالية :

- ١- تقع محطة التجارب الزراعية في دولة الكويت في منطقة ... (الأحمدى - الصليبية - العمرية - العبدلى)
- ٢- أول ميناء تجارى افتتح في دولة الكويت ... (الأحمدى - الزور - الشعبية - الشويخ)
- ٣- من أهم الأماكن السياحية في دولة الكويت ... (منتزه الخيران - الأهرامات - دبي مول - برج ايفل)
- ٤- من المناطق الزراعية في دولة الكويت قبل النفط ... (العبدلى - الصليبية - الفنتاس - السالمية)
- ٦- الهيئة التي يشرف عليها وزير الشؤون الاجتماعية و العمل تسمى الهيئة الامة لـ ...
(الشباب و الرياضة - الصناعة - البيئة - النقل)
- ٧- الشركة المسؤولة عن استكشاف النفط و انتاجه داخل دولة الكويت تسمى ...
(نفط الكويت - صناعة الكيماويات البترولية - ناقلات نفط الكويت - التنمية النفطية)
- ٨- منطقة صناعية مختصة في صناعة البسكويت و المنظفات و الأثاث تسمى ...
(الشويخ - الشعبية - صباحان - الأحمدى)
- ٩- أقل المحافظات في عدد السكان بدولة الكويت محافظة تسمى ...
(الأحمدى - حولى - الفروانية - مبارك الكبير)



السؤال السادس : لاحظ الصور ثم

اذكر نوع الثروة التي تنتمي إليها

و فوائدها :-


السؤال السابع : صنف كل مما يلي في الجدول الذي أمامك :

١- (الشويخ - صبحان - الاحمدي - الشعبية)


منطقة صناعية	ميناء نفطي و منطقة صناعية	ميناء تجاري و منطقة تجارية

السؤال الثامن : أكمل المخططات السهمية التالية :

١- من مصادر الدخل في دولة الكويت



٣- أنواع الصناعات في دولة الكويت



السؤال التاسع : فيما يلي مجموعة من الأهداف اقرأها جيداً ثم :

- ظلل خانة الحرف (ص) إذا كان الهدف من اختصاص الهيئة العامة للصناعة .
- ظلل خانة الحرف (ش) إذا كان الهدف من اختصاص الهيئة العامة للشباب و الرياضة .
- ظلل خانة الحرف (ب) إذا كان الهدف من اختصاص الهيئة العامة للبيئة .

ش	ب	ص	أهم الأهداف
			تنويع الصناعات المحلية .
			تنظيم المهرجانات و المسابقات .
			بناء الشباب الكويتي روحاً و جسداً .
			حماية البيئة من التلوث . اعداد الشباب و تدريبهم للاسهام في مختلف الخدمات العامة .
			المحافظة على البيئة الطبيعية .
			تطوير الصناعات المحلية .
			تشجيع العمالة الوطنية .

السؤال العاشر : عرف المفاهيم التالية :

- ١- السياحة :
- ٢- الزراعة المحمية :
- ٣- الاستثمار :
- ٤- الكثافة السكانية :
- ٥- الزراعة بدون تربة :

السؤال الحادي عشر: لاحظ الجدول الذي أمامك جيداً ثم أجب عما يليه من الأسئلة:

١- المنطقة الصناعية الوحيدة المنتجة للصناعات الغذائية:

(الشويخ - الشعبية - صباحان - الأحمدى)

٢- المنطقة الصناعية التي تشترك مع منطقة صباحان

في إنتاج الألمنيوم اسمها

٣- منطقة الشعبية الصناعية هي المنطقة الوحيدة التي

خطأ

صح

تتميز بمنتجاتها النفطية:

٤- صنف ما يحتويه الجدول من الصناعات حسب الجدول التالي:

صناعات استهلاكية	صناعات غذائية	صناعات نفطية	صناعات انشائية

السؤال الثاني عشر: اقرأ الفقرة التالية جيداً ثم أجب عما يليها من الأسئلة:

كانت الظروف والعوامل الطبيعية عائقاً أمام الزراعة بدولة الكويت، وذلك بسبب فقر التربة وقلة المياه وشدة الحرارة وبالرغم من هذه الصعوبات إلا أن الدولة بذلت جهوداً كبيرة في تشجيع الزراعة في الوقت الحاضر، مثل إنشاء هيئات متخصصة في الزراعة (محطة التجارب الزراعية - ومعهد الكويت للأبحاث العلمية) كما ساهمت بتقديم الإرشادات الزراعية والدعم المادي للمزارعين والتشجيع على استخدام الأساليب الحديثة في الزراعة وتطوير مصادر المياه المستخدمة.

١- ضع عنوان مناسب للفقرة

٢- علل : قلة الانتاج الزراعي في دولة الكويت ؟ و

٣- دلل على صحة العبارة التي تحتها خط : أ -

ب -

ج -

السؤال الثالث عشر : أجب على الأسئلة التالية :

١- عدد جهود دولة الكويت في تنمية الثروة السمكية ؟

أ -
ب -

٢- عدد أسباب الزيادة غير الطبيعية في دولة الكويت ؟

أ -
ب -

٣- أكتب أهداف الهيئة العامة للبيئة ؟

أ -
ب -

٤- عدد بعض طرق صيد الأسماك بدولة الكويت ؟

أ -
ب -

٥- علل: يزداد عدد السكان بالزيادة الطبيعية في دولة الكويت ؟

.....

٦- عدد الحاجات الأساسية لسكان الدولة ؟

أ -
ب -

٧- تزايد عدد السكان غير الطبيعية في دولة الكويت ؟

أ -
ب -

٨- أذكر جهود الدولة في تشجيع القطاع الصناعي ؟

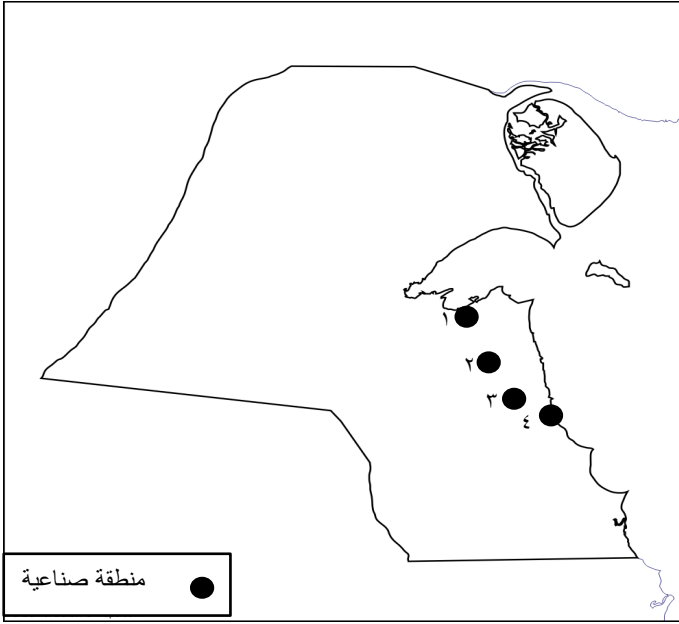
أ -
ب -

٩- علل : زيادة عدد الذكور غير الكويتيين عن الاناث غير الكويتيات في دولة الكويت ؟

.....

السؤال الرابع عشر : لاحظ خرائط دولة الكويت ثم أجب عن الأسئلة :-

١- رتب المناطق الصناعية التالية من جنوب دولة الكويت إلى شمالها بكتابة الرقم أمام المنطقة الصناعية :



الرقم	المنطقة الصناعية
	صباحان
	الأحمدي
	الشويخ
	الشعبية

٢- لاحظ خريطة محافظات دولة الكويت ثم أجب عما

يلي :

- يمثل الرقم (١) أكبر محافظات دولة الكويت هي

.....

- يمثل الرقم (٢) منطقة الوفرة الزراعية التي تقع في

محافظة تسمى

- يمثل الرقم (٣) منطقة صباحان الصناعية التي تقع

في محافظة تسمى

- يمثل الرقم (٤) جزيرة فيلكا منطقة زراعية قبل

النفط تقع ضمن محافظة تسمى

- يمثل الرمز # محافظة تسمى





٣- استعن بالخريطة التي أمامك للإجابة على
الاسئلة التالية :

- الرمز (**) يمثل منطقة صناعية للبلاط و
الورق و المرطبات تسمى
- الرمز (٨٨٨) يمثل منطقة زراعية حديثة هي
.....
- الرمز (#) يمثل ميناء نفطي يسمى
.....
- الرمز (@) يمثل منطقة بها محطة التجارب
الزراعية تسمى



٤- حدد على خريطة دولة الكويت المواقع التالية

بوضع الرقم على الخريطة :

- ١- جزيرة بوبيان .
- ٢- المملكة العربية السعودية .
- ٣- ميناء الشويخ التجاري .
- ٤- ارسم خط سير السفينة إلى داخل جون الكويت
- ٥- منطقة الوفرة الزراعية .

السؤال الخامس عشر : صل صورة الشعار إلى اسم المؤسسة الصحيحة :-

شركة صناعة الكيماويات البترولية



مؤسسة البترول الكويتية



شركة نفط الكويت



شركة ناقلات النفط الكويتية



دروس الاختبار :

- الاحتلال و الصمود ص ٥٨ – ٦٣
- التحرير و شمس الحرية ص ٦٤ – ٦٥
- من موارد بلادي حديثاً ١ ص ٨٠- ٨٣
- من موارد بلادي حديثاً ٢ ص ٨٤ – ٨٥
- من مؤسسات بلادي ص ٨٨ – ٩١
- من هيئات بلادي ص ٩٢ – ٩٣
- السياحة الداخلية و الخارجية ٩٦ - ٩٩