

كل ما يحتاجه الطالب في جميع الصفوف من أوراق عمل واختبارات ومذكرات، يجده هنا في الروابط التالية لأفضل مواقع تعليمي إماراتي 100 %

<u>تطبيق المناهج الإماراتية</u>	<u>الاجتماعيات</u>	<u>الرياضيات</u>
<u>الصفحة الرسمية على التلغرام</u>	<u>الاسلامية</u>	<u>العلوم</u>
<u>الصفحة الرسمية على الفيسبوك</u>	<u>الانجليزية</u>	
<u>التربية الاخلاقية لجميع الصفوف</u>	<u>اللغة العربية</u>	
<u>التربية الرياضية</u>		
مجموعات التلغرام.	مجموعات الفيسبوك	قنوات تلغرام
<u>الصف الأول</u>	<u>الصف الأول</u>	<u>الصف الأول</u>
<u>الصف الثاني</u>	<u>الصف الثاني</u>	<u>الصف الثاني</u>
<u>الصف الثالث</u>	<u>الصف الثالث</u>	<u>الصف الثالث</u>
<u>الصف الرابع</u>	<u>الصف الرابع</u>	<u>الصف الرابع</u>
<u>الصف الخامس</u>	<u>الصف الخامس</u>	<u>الصف الخامس</u>
<u>الصف السادس</u>	<u>الصف السادس</u>	<u>الصف السادس</u>
<u>الصف السابع</u>	<u>الصف السابع</u>	<u>الصف السابع</u>
<u>الصف الثامن</u>	<u>الصف الثامن</u>	<u>الصف الثامن</u>
<u>الصف التاسع عام</u>	<u>الصف التاسع عام</u>	<u>الصف التاسع عام</u>
<u>الصف التاسع متقدم</u>	<u>الصف التاسع متقدم</u>	<u>الصف التاسع متقدم</u>
<u>الصف العاشر عام</u>	<u>الصف العاشر عام</u>	<u>الصف العاشر عام</u>
<u>الصف العاشر متقدم</u>	<u>الصف العاشر متقدم</u>	<u>الصف العاشر متقدم</u>
<u>الحادي عشر عام</u>	<u>الحادي عشر عام</u>	<u>الحادي عشر عام</u>
<u>الحادي عشر متقدم</u>	<u>الحادي عشر متقدم</u>	<u>الحادي عشر متقدم</u>
<u>ثاني عشر عام</u>	<u>الثاني عشر عام</u>	<u>الثاني عشر عام</u>
<u>ثاني عشر متقدم</u>	<u>الثاني عشر متقدم</u>	<u>الثاني عشر متقدم</u>

الحث الكهرومغناطيسي

almanahj.com/ae

الصف الثاني عشر متقدم الفصل الثالث

2019-2018

للاسئلة و

الاستفسارات

واتس اب

0507871419

مدرس المادة :

ا. ايمن

الحث الكهرومغناطيسي

السؤال الاول

ضع علامة (✓) في المربع الواقع أمام العبارة الصحيحة وعلامة (x) أمام العبارة غير الصحيحة في كل مما يلي

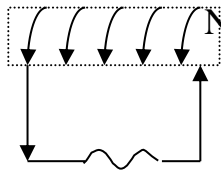
- 1- يكون معدل قطع الملف لخطوط التدفق المغناطيسي في المولد الكهربائي أكبر ما يمكن عندما يكون
 - مستوى الملف عمودياً على خطوط التدفق
 - مستوى الملف موازياً لخطوط التدفق
 - جميع ما سبق
- 2- تختلف قيمة القوة المحركة الحثية المتولدة في ملف لحظة إدخال أو إخراج مغناطيس منه نتيجة اختلاف
 - شدة المجال المغناطيسي المؤثر
 - سرعة الحركة النسبية
 - جميع ما سبق
- 3- سلك مستقيم موصل يتحرك عمودياً على مجال مغناطيسي منتظم بسرعة منتظمة مقدارها (2 m/s) فإذا زادت سرعة الموصل إلى (4 m/s) فإن القوة المحركة الكهربائية الحثية المتولدة تصبح
 - نصف ما كانت عليه
 - ربع ما كانت عليه
 - مثلي ما كانت عليه
 - أربعة أمثال ما كانت عليه

4- يمكن تحديد اتجاه التيار الحثي المتولد في ملف المولد باستخدام قاعدة

- لـنـز
- فلمنج لليد اليمنى
- فلمنج لليد اليسرى
- مقبض اليد اليمنى

alManahj.com/ae

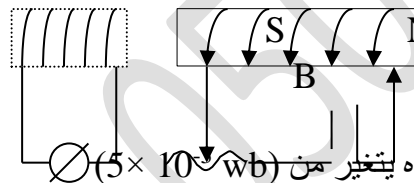
- 5- يتولد في الملف التيار الحثي الموضح بالشكل إذا كان المغناطيس
 - ثابتاً
 - متحركاً بعيداً عن الملف
 - يتحرك مع الملف وبالسرعـة نفسها
 - متحركاً نحو الملف



6- تتولد قوة محرركة كهربائية حثية في موصل إذا

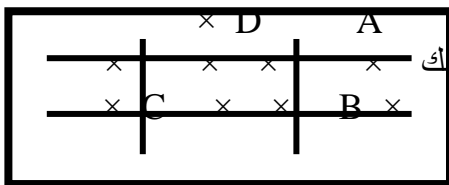
- وضع في مجال مغناطيسي
- تحرك عمودياً على مجال كهربائي
- تحرك في اتجاه المجال المغناطيسي
- تحرك عمودياً على مجال مغناطيسي

- 7- إذا تغيرت شدة التيار في الدائرة (A) فإن التيار الحثي في الملف B
 - لا يتأثر
 - يزداد
 - يقل
 - لا توجد إجابة صحيحة



8- ملف لولبي عدد لفاته (100) لفة فإذا كان التدفق المغناطيسي الذي يجتازه يتغير من (5×10^{-3} wb) إلى (2×10^{-3} wb) في زمن قدره (0.1 s) فإن قيمة القوة المحركة الحثية المتولدة في الملف بوحدة الفولت تساوي

- 3
- 3
- 5
- 2



9- في الشكل المقابل تكون القوة المحركة الحثية المتولدة في الحلق المعدنية المغلقة عندما يتحرك السلكان في اتجاه واحد إذا كان كل سلك يولد قوة محرركة مقدارها (0.3 V) تساوي بوحدة الفولت

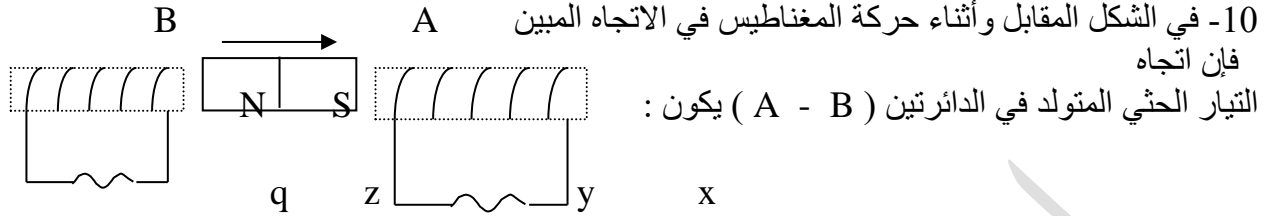
الحث الكهرومغناطيسي

1

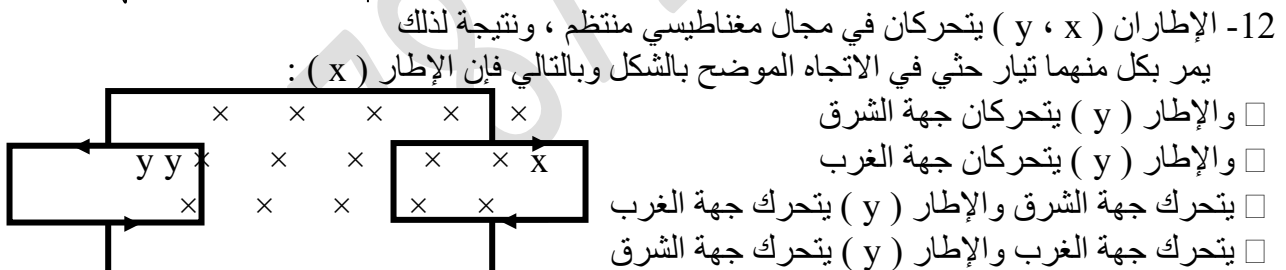
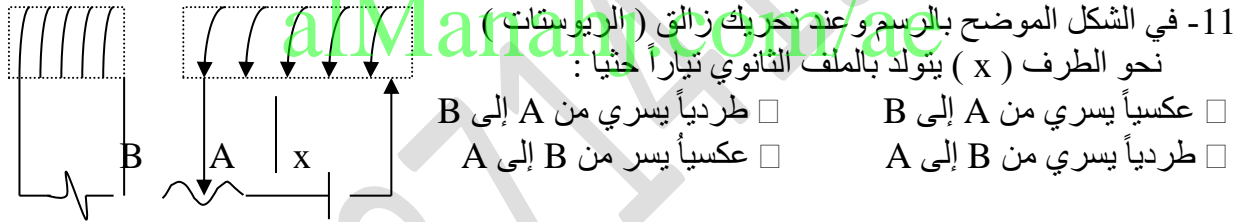
0.6

0

0.3



الدائرة (B)	الدائرة (A)
من z إلى q	من x إلى y <input type="checkbox"/>
من q إلى z	من y إلى x <input type="checkbox"/>
من z إلى q	من x إلى y <input type="checkbox"/>
من q إلى z	من y إلى x <input type="checkbox"/>



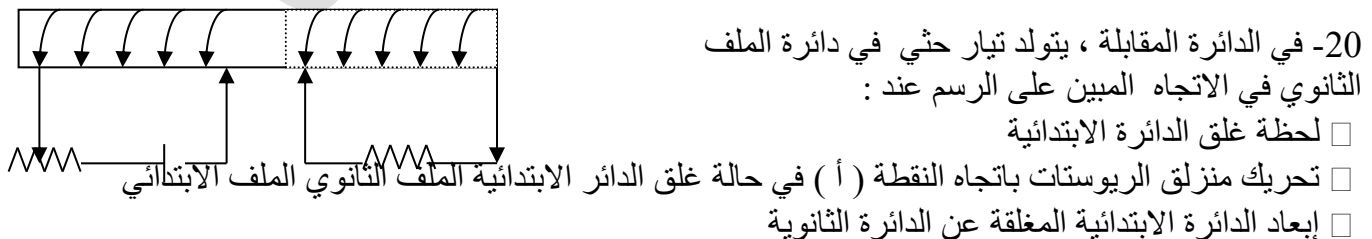
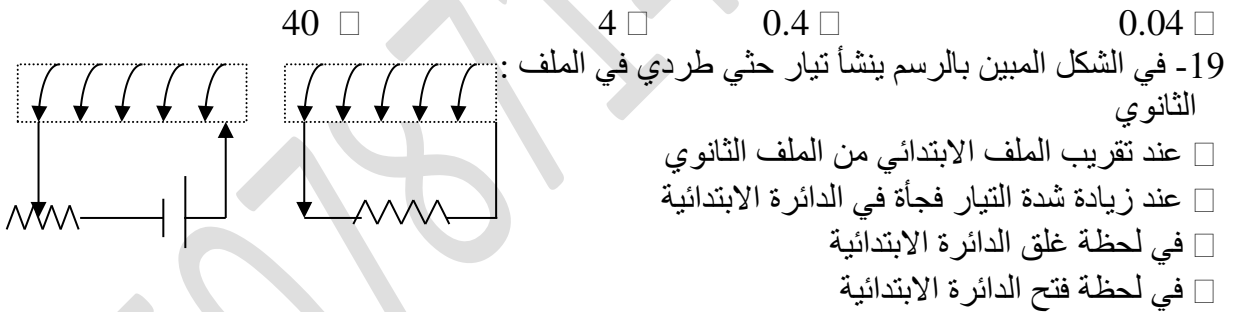
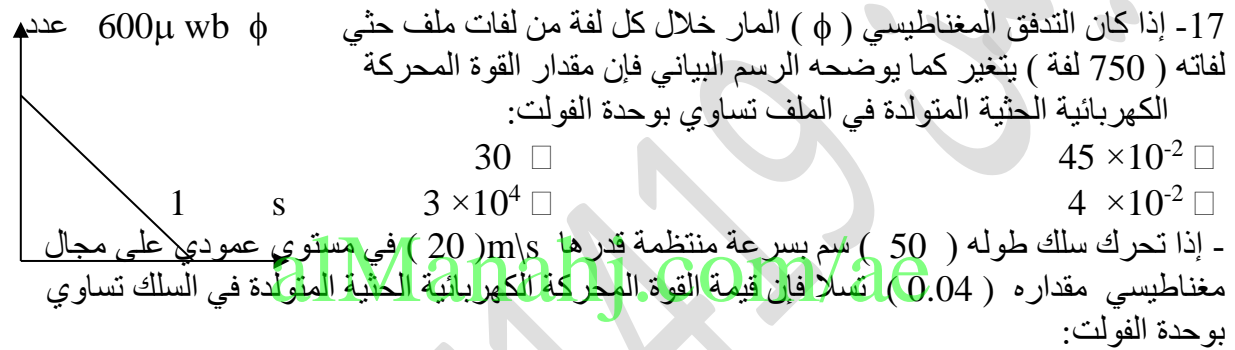
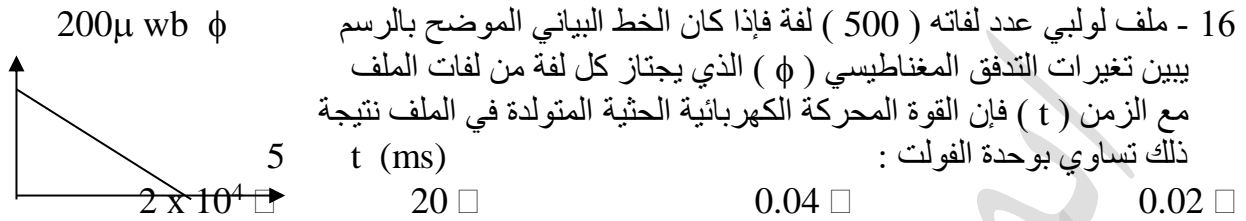
14- إحدى الحالات التالية ينشأ عنها مرور تيار حثي في الحلقة المعدنية الساكنة باتجاه حركة عقارب الساعة عند النظر إليها من أعلى وهي :



تص قاعدة (لنز) على أن كهربائي الحثي المتولد في بائية يعمل على توليد مغناطيسي غايته:

الحث الكهرومغناطيسي

- زيادة التدفق المؤثر في الدائرة
 زيادة التدفق المغناطيسي المؤثر في الدائرة
 تقليل التدفق المغناطيسي المؤثر في الدائرة
 تقليل التدفق المغناطيسي المؤثر في الدائرة



الحث الكهرومغناطيسي

- زيادة شدة التيار الكهربائي المار في الدائرة الابتدائية
21- عند قطع التيار المار بالملف الابتدائي وهو بداخل الملف الثانوي تولد
□ مجال مغناطيسي □ تيار حثي طردي □ تيار حثي عكسي □ مجال كهربائي
22- ينعدم معامل الحث الذاتي لملف عندما :

- يقل عدد لفاته □ يكون نواته من الهواء
□ يزداد طول محوره □ يلف لفاً مزدوجاً
23 -ملف لولبي يمر فيه تيار كهربائي فإذا زادت شدة التيار المار فيه إلى ثلاثة أمثال قيمتها فإن الطاقة
المغناطيسية المخزنة تصبح

- نصف ما كنت عليه □ أربعة أمثال ما كانت عليه
□ تسعة أمثال ما كانت عيه □ مثلي ما كانت عيه
24- ملف لولبي يمر به تيار كهربائي مستمر شدته (I) فيخترن في مجاله المغناطيسي طاقة (E) فإذا
أنقصت شدة التيار المار في نفس الملف إلى ($1/3 I$) فإن الطاقة المخزنة تصبح :

- $1/9 E$ □ $1/3 E$ □ $3 E$ □ $9 E$

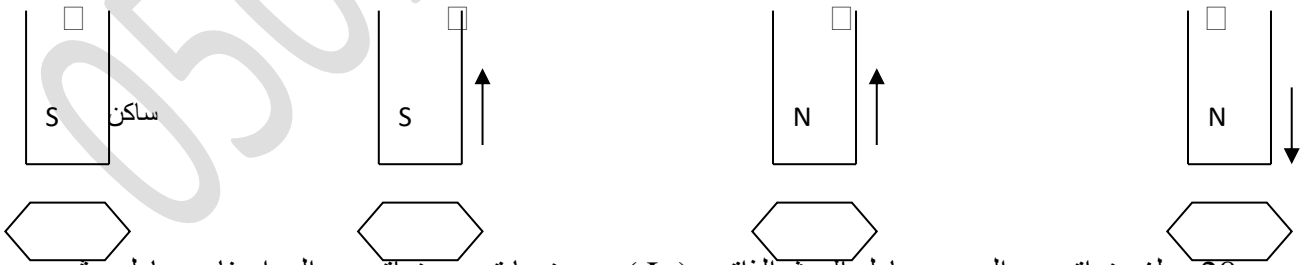
- إذا كانت شدة التيار المار في ملف لولبي (1 A) ، فعندما تصبح شدة التيار الكهربائي فيه ($A/2$) فإن
الطاقة المغناطيسية المخزنة بالملف :

- تزداد للمثلين □ تقل إلى النصف
□ تزداد إلى أربعة أمثال ما كانت عليه □ تقل إلى الربع

- 26- تتناسب الطاقة المغناطيسية المخزنة في ملف لولبي يمر به تيار مستمر تناسباً :

- طردياً مع معامل الحث الذاتي للملف □ طردياً مع مربع معامل الحث الذاتي للملف
□ طردياً مع شدة التيار المار بالملف □ عكسياً مع شدة التيار المار بالملف

- 27- إحدى الحالات التالية ينشأ عنها مرور تيار حثي في الحلقة المعدنية الساكنة باتجاه حركة عقارب الساعة
عند النظر إليها من أعلى وهي :



- 28- ملف نواته من الحديد معامل الحث الذاتي (L) ، وعندما تصبح نواته من الهواء فإن معامل حثه
الذاتي (L) :

- يصبح صفراً □ يقل □ يزداد □ لا يتغير

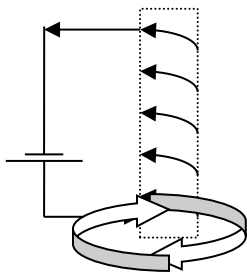
الحث الكهرومغناطيسي

29- ملف معامل الحث الذاتي (L) يمر به تيار شدته (I) ، يخترن في مجاله طاقة مغناطيسية (U) ، إذا زيدت شدة التيار المار به إلى (2I) فإن الطاقة المغناطيسية التي يخترنها تصبح :

- U ¼ U ½ U 2 U 4

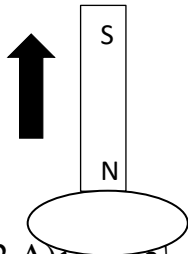
30- إذا مر تيار كهربائي مستمر شدته (4) أمبير في ملف لولبي معامل حثه الذاتي (0.2) هنري فإن أقصى طاقة مغناطيسية يخترنها الملف تساوي بوحدة الجول :

- 0.4 0.8 1.6 3.2



31- في الحلقة المعدنية الموضوعة أسفل الملف كما في الشكل ، يتكون تيار حثي باتجاه حركة عقارب الساعة عند النظر إليه من أعلى إذا كان الملف الحامل للتيار المستمر :

- ثابتاً والحلقة ثابتة متحركاً نحو الحلقة
 يتحرك مع الحلقة بنفس السرعة وفي نفس الاتجاه متحركاً بعيداً عن الحلقة



32- الشكل المقابل يمثل حلقة معدنية أفقية مقاومتها (0.1 Ω) وفوق مركزها تماماً قضيب مغناطيسي عمودي على مستواها فإذا حركنا القضيب بعيداً عن الحلقة لمدة (0.3 s) فتغير التدفق المغناطيسي الذي يجتازها من (10⁻² wb) إلى 0.4 × 10⁻² wb فإذا كنا ننظر إلى الحلقة من أعلى أثناء تحريك المغناطيس فإنه يتولد بها تيار كهربائي يكون اتجاهه :

- متفقاً مع حركة عقارب الساعة وشدته (0.2 A) معاكساً لحركة عقارب الساعة وشدته (0.2 A)
 متفقاً مع حركة عقارب الساعة وشدته (0.02 A) معاكساً لاتجاه حركة عقارب الساعة وشدته (0.1 A)

33- ملفان هوائيان لهما نفس الحجم ، وعدد اللفات لكل متر من الأول (n) ويمر به تيار شدته (I) فيخترن طاقة مغناطيسية (E) وعدد اللفات لكل متر من الملف الثاني (2n) ويمر به تيار شدته (2I) وبالتالي فإنه يخترن طاقة مغناطيسية مقدارها

- E 4E 8E 16E

34- ملف ابتدائي معامل حثه الذاتي (L₁) يساوي H (0.2) محاط تماماً بملف ثانوي معامل حثه الذاتي يساوي H (0.8) فعند مرور تيار كهربائي مستمر بالملف الابتدائي يكون معامل الحث المتبادل (M)

بين الملفين بوحدة الهنري مساوياً

- 4 0.4 0.01 0.16

الحث الكهرومغناطيسي

مسائل متنوعة

1- ملف حثي عدد لفاته (20) لفة ومعامل حثه الذاتي (0.5 H) يتصل طرفاه ببطارية . احسب :
أ- متوسط القوة المحركة الكهربائية الحثية المتولدة في الملف عندما تزداد شدة التيار المار بالملف من
الصفـر إلى (4A) خلال (0.25 s) .

ب- المعدل الزمني للتغير في التدفق المغناطيسي الذي يجتاز الملف خلال الزمن نفسه.

ج - الطاقة المغناطيسية المخزنة في المجال المغناطيسي للملف عندما تكون شدة التيار المار به = (4A)

alManahj.com/ae

2- ملف لولبي عدد لفاته (100) لفة ومعامل حثه الذاتي ($L = 0.2 \text{ H}$) تغيرت شدة التيار المار به
من (5A) إلى (3 A) خلال (0.01 S) احسب :
أ - متوسط القوة المحركة الكهربائية التأثيرية المتولدة بالملف خلال تلك الفترة.

ب - المعدل الزمني للتغير في التدفق المغناطيسي الذي يجتاز كل لفة من لفات الملف.

ج - أكبر قيمة للطاقة المغناطيسية المخزنة في الملف.

3- ملف لولبي عد لفاته (100) لفة ، معامل الحث الذاتي له يساوي (0.4 H) ، أمر به تيار كهربائي
شدته (2 A) فأحدث فيه تدفقاً مغناطيسياً قدره $(500 \mu \text{ wb})$ احسب :

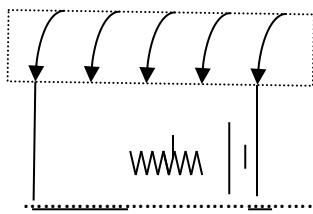
الحث الكهرومغناطيسي

أ- مقدار القوة المحركة الحثية المتوسطة المتولدة في الملف إذا عكس التيار في زمن قدره (2 ms).

ب- أكبر طاقة مغناطيسية مخزنة في الملف.

4- الملف الحث الموضح بالشكل معامل حثه الذاتي ($L = 0.5 \text{ H}$) ، عدد لفاته ($N = 20$ لفه) يتصل طرفاه بمصدر تيار مستمر جهده ($V = 8 \text{ V}$) ومقاومته ($R = 32 \Omega$) فإذا علمت أن :

0.2m



(μ نواة الملف = $2 \times 10^{-3} \text{ wb / A . m}$)

احسب : $A = 4 \times 10^{-4} \text{ m}^2$

أ- المجال المغناطيسي عند منتصف الملف.

ب- الطاقة المغناطيسية المخزنة في الملف.

alManahj.com/ae

5- ملف حثه نواته من الحديد ، عدد لفاته (100) لفه ، مساحة مقطعه ($5 \times 10^{-4} \text{ m}^2$) ، طوله (20 cm) ، اتصل طرفاه ببطارية قوتها المحركة الكهربائية (20 v) ومقاومتها الداخلية مهملة فإذا علمت أن :

مقاومة سلك الملف = (10Ω) وأن (μ نواة الملف = $2 \times 10^{-3} \text{ wb / A . m}$) احسب :
أ- معامل الحث الذاتي للملف.

ب- متوسط القوة المحركة الحثية المتولدة في الملف علماً بأن التيار يصل قيمته النهائية في زمن قدره (0.01 ثانية).

ج - أقصى قيمة للطاقة المغناطيسية التي يخزنها الملف.

الحث الكهرومغناطيسي

6- وضع ملف مستطيل داخل مجال مغناطيسي مقدارها (0.04) تسلا وكان اتجاه المجال عمودياً على مستوى اللفات ، فإذا كان عدد لفات الملف (200) لفة ومتوسط مساحة كل منهما (8 cm^2) فاحسب متوسط القوة المحركة الكهربائية الحثية المتولدة في الملف في الحالات التالية :
أ- إذا قلب الملف في 0.04 s .

ب- إذا تزايد المجال المغناطيسي إلى T 0.08 في 0.2 s .

ج- إذا تناقص المجال المغناطيسي إلى T 0.02 في 0.04 s .

د- إذا بعد الملف عن المجال في 0.1 s .

alManahj.com/ae

7 – ملف لولبي عدد لفاته (200) لفة يمر به تيار مستمر شدته A (2) فيتولد به مجال مغناطيسي تدفقه يساوي $w (2.5 \times 10^{-4})$ أحسب كل من
أ – فرق الجهد المستحث في الملف إذا إنعدمت شدة التيار المر فيه خلال s (0.2)

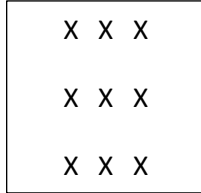
ب – معامل الحث الذاتي

للملف

ج – الطاقة المغناطيسية المخزنة في الملف عند مرور تيار شدته A (2)

الحث الكهرومغناطيسي

8- حلقة معدنية مساحتها 0.200 m^2 موضوعة في وضع مسطح على الأرض . يوجد مجال مغناطيسي منتظم يشير نحو الغرب كما هو موضح في الشكل . يبلغ المقدار الأولي لهذا المجال المغناطيسي 0.124 T ينخفض بثبات ليصل إلى 0.076 T خلال فترة تبلغ 0.578 s أوجد فرق الجهد المستحث في الحلقة خلال هذا الوقت .



يحمل ملف لولبي يتكون من 200 لفة وطوله 9.00 cm ونصف قطره 3.00 mm تيارا شدته 0.500 A يتدفق من اليمين لليسار , ثم يعكس التيار اتجاهه ليتدفق من اليسار إلى اليمين ما مقدار تغير الطاقة المخزنة في المجال المغناطيسي داخل الملف اللولبي ؟

alManahj.com/ae