

تم تحميل هذا الملف من موقع ملفات الكويت التعليمية



[com.kwedufiles.www//:https](https://www.kwedufiles.com)

*للحصول على أوراق عمل لجميع الصفوف وجميع المواد اضغط هنا

* للحصول على أوراق عمل لجميع مواد الصف السادس اضغط هنا

<https://kwedufiles.com/6>

* للحصول على جميع أوراق الصف السادس في مادة رياضيات ولجميع الفصول, اضغط هنا

<https://kwedufiles.com/6math>

* للحصول على أوراق عمل لجميع مواد الصف السادس في مادة رياضيات الخاصة بـ الفصل الأول اضغط هنا

<https://www.kwedufiles.com/6math1>

* لتحميل كتب جميع المواد في جميع الفصول للـ الصف السادس اضغط هنا

<https://www.kwedufiles.com/grade6>

* لتحميل جميع ملفات المدرس منطقة العاصمة التعليمية اضغط هنا

[bot_kwlinks/me.t//:https](https://t.me/bot_kwlinks)

للحصول على جميع روابط الصفوف على تلغرام وفيسبوك من قنوات وصفحات: اضغط هنا

الروابط التالية هي روابط الصف السادس على مواقع التواصل الاجتماعي

مجموعة الفيسبوك

صفحة الفيسبوك

مجموعة التلغرام

بوت التلغرام

قناة التلغرام

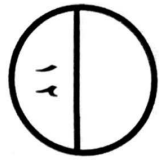
رياضيات على التلغرام

الزمن : ساعتان .
عدد الأوراق : ٢

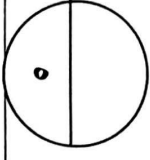
امتحان نهاية الفترة الدراسية الأولى
للسف السادس في مادة الرياضيات
للعام الدراسي ٢٠١٩ / ٢٠٢٠ م

وزارة التربية
الإدارة العامة لمنطقة العاصمة التعليمية
التوجيه الفني للرياضيات

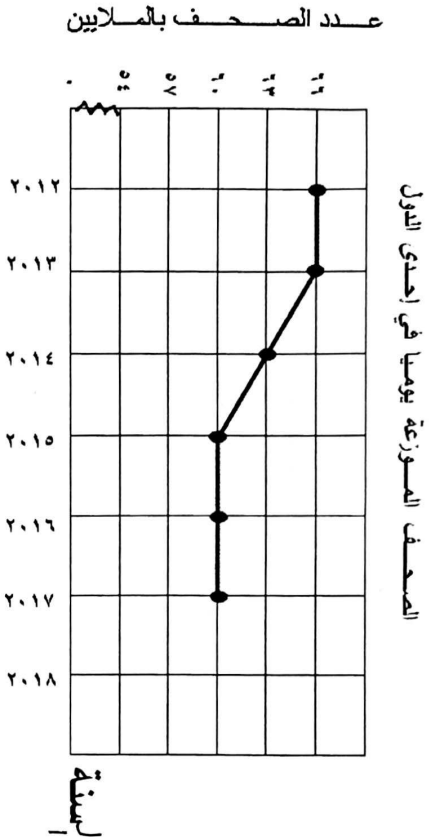
السؤال الأول : أجب عن الأسئلة التالية مبيناً خطوات الحل :



(أ) اوجد الناتج:
 $45 + 28,7 + 3,49$

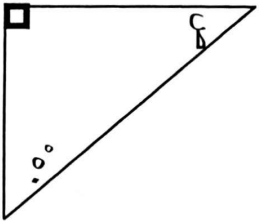


(ب) استخدم التمثيل البياني بالخطوط في الشكل التالي للإجابة عن ما يلي :

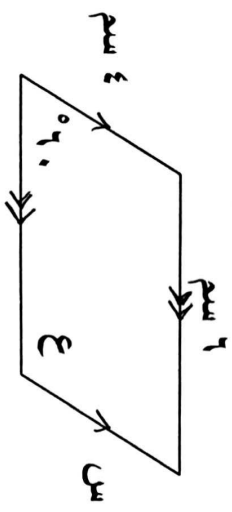


(١) كم عدد الصحف التي تم توزيعها في العام ٢٠١٤ ؟
(٢) بكم يزيد عدد الصحف التي وزعت في العام ٢٠١٣ عن عدد تلك التي وزعت في العام ٢٠١٥ ؟

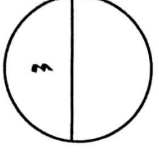
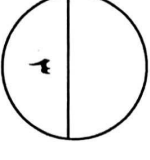
(ج) أوجد أطوال الأضلاع وقياسات الزوايا المجهولة:



..... = ص
.....



..... = س
..... = ع



السؤال الثاني : أجب عن الأسئلة التالية مبيّنًا خطوات الحل :

١٢

(١) حلل إلى العوامل الأولية باستخدام شجرة العوامل


$$= 48$$

(٢) أوجد المضاعف المشترك الأصغر للعددين ١٢ ، ٦

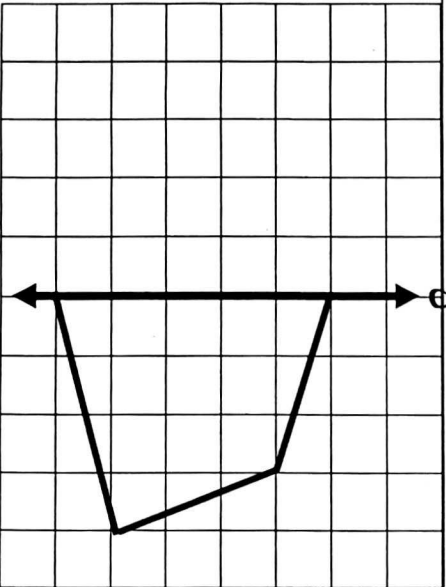
٥

(ب) أوجد ناتج القسمة:

$$١,٤٧ \div ٥,٠٧$$



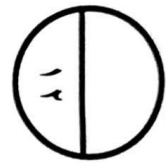
٤



(ج) من الشكل باعتبار ل خط تناظر ، ارسم النصف الاخر من الشكل

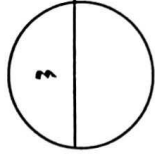
٢

السؤال الثالث : أجب عن الأسئلة التالية مبيناً خطوات الحل :



إذا كان لدي محمد ٥٩ دينار ، ذهب إلى متجر الألعاب وقد أعجبه لعبة اشتراها ب ٣٧,٧٥٠ دينار ، فكم يتبقى لديه؟

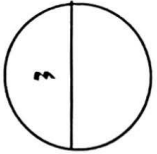
(أ)



رتب الأعداد التالية من الأصغر إلى الأكبر (تصاعدياً) :

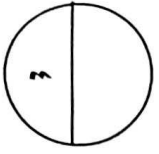
$$\frac{1}{5} , \frac{2}{7} , \frac{3}{5} , \frac{2}{3} , \frac{2}{4}$$

(ب)



اضرب $3,9 \times 165 =$


(ج)



السؤال الرابع : أجب عن الأسئلة التالية مبيناً خطوات الحل :

١٢

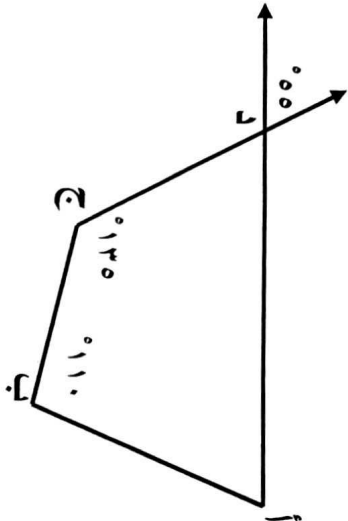
(أ) اوجد ناتج القسمة
 $744 \div 24 =$



٤

(ب) أ ب ج د شكل رباعي أوجد :

قياس (أ د ج) =
 السبب :
 قياس (د أ ب) =
 السبب :



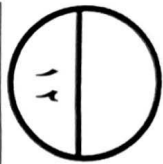
٤

(ج) أوجد المتوسط الحسابي و المدى و المنوال للبيانات التالية:

٥ ، ٨ ، ٩ ، ٧ ، ٦ ، ٢ ، ٥
 المتوسط الحسابي =
 المدى =
 المنوال =

٤

السؤال الخامس :



أولاً : في البنود (١ - ٤) عبارات ظل (أ) إذا كانت العبارة صحيحة ، (ب) إذا كانت العبارة خاطئة :

ب	أ		$9 = 2 + 10 + 4$	١
ب	أ		الوسيط للقيم ٣ ، ٢ ، ٧ ، ٨ هو ٤ .	٢
ب	أ		الكسر $\frac{12}{24}$ في أبسط صورة هو $\frac{2}{4}$.	٣
ب	أ		في الشكل المرسوم المثلث (س ص ع) حاد الزوايا .	٤

ثانياً : في البنود (٥ - ١٢) لكل بند أربعة اختيارات واحد منها فقط صحيح . ظل الرمز الدال على الإجابة الصحيحة :


٥	العدد ٧٥ مليوناً و ٤٢٠ ألفاً و ٢٩ بالشكل النظامي هو	أ	٧٥٤٢٠٠٢٩	ب	٧٥٠٤٢٠٢٩	ج	٧٥٤٢٢٩	د	٧٥٤٢٠٢٩٠
٦	إذا كانت ص = ٥ فان قيمة ٩ × ص هي	أ	٣	ب	٥	ج	١٤	د	٤٥
٧	العدد ٧٤,٥٣٢ مقرباً لإقرب جزء من مائة يساوي	أ	٧٤,٥٣	ب	٧٤,٥٤	ج	٧٤,٥٣٢	د	٧٤,٥
٨	الشكل الرباعي الذي لا يمثل متوازي أضلاع هو :	أ		ب		ج		د	

$\frac{2}{5}$ في صورة كسر عشري :

٩

- أ) ٠,٢ ب) ٠,٤ ج) ٠,٥ د) ٢,٥

بين التمثيل البياني عدد الاصوات التي حصل عليها الطلاب في الانتخابات ، العبارة الصحيحة فيما يلي هي:



أ) حصل علي على نصف ما حصل عليه محمد

١٠

ب) حصل علي على ضعف ما حصل عليه خالد

ج) حصل محمد على أكثر مما حصل عليه علي و خالد معا

د) مجموع ما حصل عليه الطلاب الثلاثة هو ٣٠ صوتا

$$= ٥^٢$$

$$٥+٥$$

د

$$٢ \times ٥$$

ج

$$٢ \times ٢ \times ٢ \times ٢ \times ٢$$

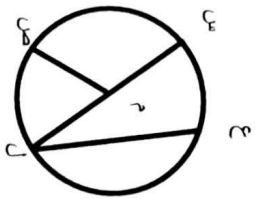
ب

$$٥ \times ٥$$

أ

١١

في الدائرة المرسومة $\overline{ع ل}$ يمثل :



وتر د

ج قوس

ب قطر

أ نصف قطر

١٢

٢

مع تمنياتنا لكم بالتوفيق و النجاح