

الدرس الاول هاليدات الالكيل وهاليدات الارييل

المجموعات الوظيفية:

تعرف الهيدروكربونات: هي مركبات عضوية ترتبط فيها ذرات الكربون مع ذرات كربون أخرى أو ذرات أخرى

تعريف المجموعة الوظيفية:

- هي ذرة أو مجموعة من الذرات تتفاعل دائما بالطريقة نفسها.
- تغير الخواص الفيزيائية والكيميائية للمركبات الهيدروكربونية عند إضافتها لها
- تكسب المادة خواص فريدة تميزها
- من خلال معرفة خواص المجموعة الوظيفية يمكنك توقع خواص المركبات العضوية التي تحتويها.
- ملاحظة الرابطان الثنائية والثلاثية بين ذرات الكربون تعدان مجموعتان وظيفيتان
- مجموعة الألكيل R-R : يمثل الرمزان سلسلة أو حلقة من الكربون مرتبطة مع المجموعة الوظيفية.
- الرائحة في الفواكه نتيجة وجود مركبات الاستر

الجدول 1 المركبات العضوية ومجموعاتها الوظيفية

المجموعة الوظيفية	الصيغة العامة	نوع المركب
هالوجين	$R-X$ (X = F, Cl, Br, I)	هالوكربون
هيدروكسيل	$R-OH$	كحول
إيثر	$R-O-R'$	إيثر
أمينو	$R-NH_2$	حمض أميني
كربونيل	$\begin{array}{c} O \\ \\ * - C - H \end{array}$	الدهيد
كربونيل	$\begin{array}{c} O \\ \\ R - C - R' \end{array}$	كيتون
كربوكسيل	$\begin{array}{c} O \\ \\ * - C - OH \end{array}$	حمض كربوكسيلي
إستر	$\begin{array}{c} O \\ \\ * - C - O - R \end{array}$	إستر
أميد	$\begin{array}{c} O \quad H \\ \quad \\ * - C - N - R \end{array}$	أميد

حيث * تمثل اما الكيل R او ذرة هيدروجين

مركبات عضوية تحوي على الهالوجينات:

أولا - هاليدات الألكيل:

الهالوجينات هي ابسط المجموعات الوظيفية المرتبطة

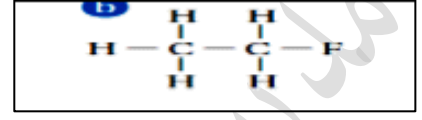
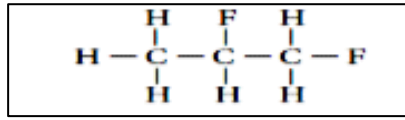
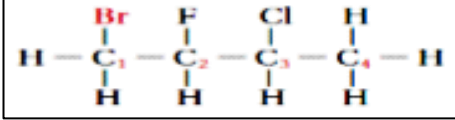
هالوكربون: عندما تحل ذرة هالوجين محل ذرة هيدروجين في الالكان

هاليدات الالكيل: هي مركبات عضوية تحوي على ذرة هالوجين مرتبطة برابطة تساهمية مع ذرة كربون أليفاتية



التسمية (IUPAC)

- 1- نحدد عدد ذرات الكربون في اطول سلسلة من ذرات الكربون لمعرفة السلسلة الرئيسية للألكان.
- 2- يدل المقطع الاول على اسم الهالوجين مع اضافة حرف (و) في نهاية الاسم مثل: الفلور يكون فلورو والكلور هو كلورو والبروم هو برومو واليود هو يودو.
- 3- في حالة وجود أكثر من ذرة هالوجين في الجزيء نفسه ترتب اسماء الذرات ابجديا حسب الاسماء الانجليزية
- 4- ترقم السلسلة بحيث تعطي اقل رقم لموقع الذرة المرتبطة بذرة الهالوجين حسب الترتيب الابجدي.



الصيغة الكيميائية	الاسم	الصيغة الكيميائية	الاسم
	1,1,1-ثلاثي برومو - 3,2-ثنائي يودو بنتان	$\text{CH}_3 - \text{CH}_2 - \text{CH}_2 - \text{I}$	
	2,1-ثنائي فلورو بروبان	$\text{CH}_3 - \underset{\text{Br}}{\text{CH}} - \text{CH}_3$	
	2,1,1-ثلاثي برومو هكسان	$\text{CH}_2 - \underset{\text{Cl}}{\text{CH}} - \underset{\text{Cl}}{\text{CH}} - \text{CH}_3$ Cl Cl F	

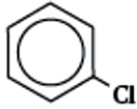
تحضيرها: تنتج عندما تحل ذرة هالوجين محل ذرة هيدروجين في المركب
امثلة - كلوروميثان CH_3Cl يتكون عندما تحل ذرة كلور محل ذرة الهيدروجين في الميثان
 كمثال (2,1,1 - ثلاثي فلوروايثان)

استعمالاتها

- 1- تستعمل في المبردات وأنظمة التكييف على شكل مركبات كلوروفلوروكربونات CFCs وهي تؤثر على الاوزون لذلك استبدلت بهيدرو فلورو كربون HFCs مثال الشائع عليها 2,1,1 - ثلاثي فلورو ايثان يسمى (R134a)
- 2- مركب كلورو ميثان يستعمل في صناعة المواد اللاصقة (السيكون) لتثبيت الأبواب.
- 3- كمذيبات ومواد تنظيف تستعمل مذيبات ومواد تنظيف لأنها تذيب الجزيئات غير القطبية مثل الدهون والزيوت
- 3- بوليمير هاليد الالكيل (البلاستيك)
 - بولي رباعي فلورو ايثين PTFE الذي يتم تصنيعه من غاز رابع فلورو ايثين $\text{F}_2\text{C} = \text{CF}_2$
 يوفر سطح غير لاصق (التيفال)
 البلاستيك هو بوليمير يمكن تسخينه وتشكيله عندما يكون مرن
 - بلاستيك الفينيل هو البولي كلوريد فينيل pvc يستعمل في صناعة الصفائح الرقيقة المرنة والصلبة ومجسمات الأشياء
- 4- الهالوثان هو نوع من الهيدروكربونات المهلجنة 2-برمو-2-كلورو-1,1,1-ثلاثي فلوروايثان استعماله: في عملية التخدير في خمسينيات القرن العشرين



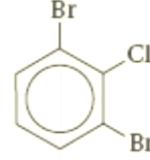
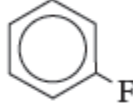
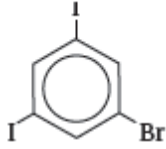
ثانيا هاليدات الارييل



كلورو بنزين

تعريف هاليدات الأريل: هي مركبات عضوية تتكون من هالوجين مرتبط مع حلقة البنزين أو مجموعة أروماتية أخرى أمثلة التسمية

ترقم حلقة البنزين في هاليدات الارييل لإعطاء اقل رقم لكل ذرة هالوجين . بحيث يكون اقل رقم للذرة التي تأتي اولاً أمثلة تطبيقية



مسائل تدريبية:

ارسم الصيغ البنائية لكل من هاليدات الألكيل والأريل التالية:

a. كلورو بنزين

b. 1-برومو-4-كلورو هكسان

c. 3-يودو-2,1-ثنائي فلورو هكسان حلقي

d. 3,1-ثنائي برومو بنزين

e. 2,2,1,1-رباعي فلورو إيثان

خواص هاليدات الاكيل:

درجة غليان وكثافة

- 1- درجة غليان وكثافة هاليدات الاكيل اعلى من درجة غليان وكثافة الالكان المقابل.
- 2- درجة غليان الكلورو ميثان CH_3Cl اعلى من درجة غليان الميثان CH_4
- 3- درجة الغليان والكثافة عند الانتقال تزداد عبر الهالوجينات من الفلور الى الكلور والبروم واليود. (اي من اعلى المجموعة الى اسفلها بزيادة حجم ذرة الهالوجين).
- 4- لأنه عند الانتقال من الفلور الى اليود يزداد عدد الالكترونات الخارجية البعيدة عن النواة التي تغير مكانها بسهولة فتكون هاليدات الاكيل اقرب بسبب تجاذبها تزداد طاقة فصلها عن بعض (درجة الغليان)

نشاط هاليدات الاكيل

هاليدات الاكيل أكثر نشاطا من الالكانات المقابلة لها بالكتلة لان ذرات الهالوجين التي ترتبط بذرات الكربون أكثر نشاطا من ذرات الهيدروجين المستبدلة.

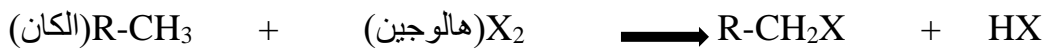
تفاعلات الاستبدال

النفط: المصدر الرئيسي لجميع المركبات العضوية الصناعية

تعريف تفاعلات الاستبدال هي احلال ذرة او مجموعة ذرية محل ذرة او مجموعة ذرية اخرى في المركب أمثلة 1-تفاعلات تكوين (تحضير) هاليدات الاكيل بطريقة الهلجنة:

تحضير هاليدات الاكيل

تعريف (الهلجنة) هي استبدال ذرة هيدروجين بذرة هالوجين. (فلور او بروم او كلور) في المركب القاعدة:



تفاعل الميثان مع البروم لإنتاج برومو ميثان.



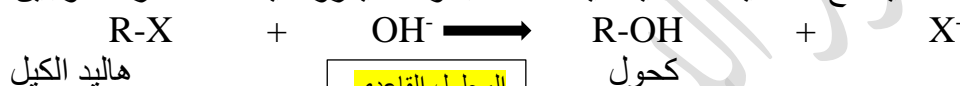
الجدول 3 تفاعلات الاستبدال

<p>مثال على تفاعل الاستبدال (الهلجنة)</p> $C_2H_6 + Cl_2 \rightarrow C_2H_5Cl + HCl$ <p>إيثان كلورو إيثان</p>	<p>المعادلة العامة لتفاعل الاستبدال</p> $R-CH_3 + X_2 \rightarrow R-CH_2X + HX$ <p>X، الفلور أو الكلور أو البروم</p>
<p>مثال على تفاعل هاليد ألكيل والكحول</p> $CH_3CH_2Cl + OH^- \rightarrow CH_3CH_2OH + Cl^-$ <p>كلورو إيثان إيثانول</p>	<p>المعادلة العامة لتفاعل هاليد الألكيل مع الكحول</p> $R-X + OH^- \rightarrow R-OH + X^-$ <p>هاليد ألكيل كحول</p>
<p>مثال على تفاعل هاليد ألكيل والأمونيا</p> $CH_3(CH_2)_6CH_2Br + NH_3 \rightarrow CH_3(CH_2)_6CH_2NH_2 + HBr$ <p>1-برومو أوكتان 1-أوكتان أمين</p>	<p>المعادلة العامة لتفاعل هاليد الألكيل مع الأمونيا</p> $R-X + NH_3 \rightarrow R-NH_2 + HX$ <p>هاليد ألكيل أمين</p>

ملاحظة: اليود لا يتفاعل جيدا مع الألكانات

1- تفاعلات تكوين الكحولات R-OH

تعريفها: هي تفاعل هاليد الألكيل مع المحاليل القاعدية حيث تحل مجموعة هيدروكسيل محل الذرة هالوجين لينتج الكحول



المحلول القاعدي

تفاعل برومو ميثان مع هيدروكسيد الصوديوم لإنتاج ميثانول.




المحلول القاعدي

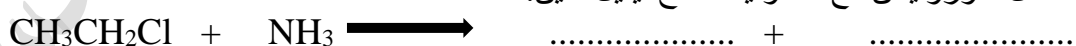
2- تفاعلات تكوين الأمينات (الألكيل أمين) R-NH₂

تعريفها: هي تفاعل هاليد الألكيل مع الأمونيا

حيث تحل مجموعة الأمين -NH₂ محل ذرة الهيدروجين لينتج الكيل الأمين (الأمينات)



تفاعل كلوروايثان مع الأمونيا لإنتاج إيثيل أمين.



b. مجموعة الفلور؛ هاليد الألكيل

c. مجموعة الأمينات؛ أمين

d. مجموعة الكربوكسيل؛ أحماض كربوكسيلية

7. درجة غليان I- كلورو بروبان أعلى من درجة غليان

البروبان. لأن جزيئات I- كلورو بروبان تشكل روابط

ثنائية القطب أكثر من جزيئات البروبان.

4. هاليد الألكيل هو أحد مشتقات المركبات الهيدروكربونية

حيث ترتبط ذرة الهالوجين بروابط تساهمية بذرات الكربون

الأليفاتية، أما هاليد الأريل فهو أحد مشتقات المركبات

التي يرتبط فيها الهالوجين بحلقة البنزين أو مركبات عطرية

أخرى برابطة تساهمية.

5. ارجع إلى دليل حلول المسائل.

6. المجموعة الوظيفية هي ذرة أو مجموعة من الذرات تتفاعل

بطرائق عدة.

a. مجموعة الهيدروكسيل؛ كحول



تدريبات محلولة وغير محلولة

- 1- ما المجموعة الوظيفية؟ هي ذرة أو مجموعة ذرات في المركب العضوي وغالبا ما تتفاعل بطريقة معينة.
- 2- صف وقارن بين - الصيغ البنائية لهاليدات الألكيل وهاليدات الأريل.
تحتوي هاليدات الألكيل على ذرة هالوجين مرتبطة بالسلسلة الكربونية الأليفاتية أو الحلقية في حين تحتوي هاليدات الأريل على ذرة هالوجين مرتبطة بشكل مباشر بذرة الكربون الموجودة في جزيء البنزين أو اي حلقة اروماتية
- 3- ما المادة الكيميائية التي ستستخدمها لتحويل غاز الميثان إلى بروموميثان؟ بروم
- 4- فسر لماذا تزداد درجة غليان هاليدات الألكيل كلما أتجهنا إلى الأسفل في مجموعة الهالوجينات في الجدول الدوري من الفلور حتى اليود
يعود سبب هذا النمط إلى ازدياد عدد إلكترونات الهالوجينات والتي تقع بعيدا عن النواة عند الانتقال من الفلور إلى اليود (العدد الذري). ويمكن تحريك هذه الإلكترونات بسهولة فتصبح ثنائية القطب بشكل مؤقت ونتيجة لذلك ستحتاج قوة كبيرة لفصلها ومن ثم تزداد درجة غليان هاليدات الألكيل بزيادة حجم ذرة الهالوجين.

- 5- هاليد الكيل اسمه: 1-برومو-4-كلورو هكسان
أرسم صيغته البنائية هل يحتوي المركب على أيزومرات ضوئية؟
إذا كان المركب يحتوي على أيزومرات ضوئية: حدد ذرة الكربون الفعالة ضوئياً (غير المتماثلة).

- 6- أرسم وسم جميع الصيغ البنائية الممكنة لهاليد الألكيل الذي له الصيغة الجزيئية $C_5H_{10}Br_2$ والذي لا يوجد فيه تفرعات

- 7- اي من الهالوجينات تم العثور عليها في الهرمونات التي تنتجها الغدة الدرقية للانسان الطبيعي؟. اليود
- 8- قوة الدفع الآمنة بيئة تحل المركبات الهدروفلور ألكانات محل مركبات الكلوروفلوروكربون في بخاخات معالجه الربو والامراض النفسية، وذلك بسبب ضرر مركبات الكلوروفلوروكربون لطبقة الأوزون
ارسم تركيبات الهدروفلوروالكانات المدرجة ادنا.
1،1،1،2،3،3،3-سباعي فلورو بروبان
1،1،1،2-رباعي فلورو إيثان.



الدرس الثاني: الكحولات و الايثرات والامينات

اولا الكحولات R-OH:

الأكسجين لديه ست إلكترونات تكافؤ

- لديها القدرة على تكوين رابطتين لتصل للثمانية
- ترتبط الأكسجين برابطة ثنائية مع ذرة الكربون C=O
- او ترتبط الأكسجين برابطة احادية مع الكربون ورابطة أخرى مع ذرة أخرى مثل الهيدروجين C-O-H

مجموعة الهيدروكسيل OH

هي مجموعة مكونة من الأكسجين والهيدروجين وترتبط برابطة تساهمية مع ذرة الكربون


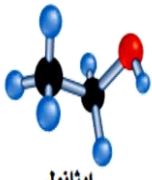
تعريف الكحولات: هي مركبات عضوية ناتجة عن حلول مجموعة الهيدروكسيل محل ذرة الهيدروجين الصيغة العامة R-OH حيث R: تمثل سلسلة أو حلقة الكربون المرتبطة مع المجموعة الوظيفية.

أبسط مثال على الكحولات هو

1-الميثانول CH₃OH

2-الايثانول (C₂H₅OH أو CH₃CH₂OH)

خواص الكحولات:

<p>الشكل 7-8 الزاوية بين رابطتي الأكسجين التساهمية لها القياس نفسه تقريباً في جزيئي الماء والإيثانول.</p>  <p>ماء</p>  <p>إيثانول</p>	<p>مجموعة الهيدروكسيل متوسطة القطبية كما في جزيء الماء لأن زاوية الرابطة التساهمية في الأكسجين في جزيء الإيثانول تساوي مقياس الزاوية نفسها في جزيء الماء.</p>	القطبية (علل)
	<p>مجموعة الهيدروكسيل قادرة على تكوين روابط هيدروجينية مع مجموعة هيدروكسيل في جزيئات كحول أخرى لان ذرة الهيدروجين فيها مرتبطة بذرات ذات سالبية عالية (الأكسجين)</p>	الرابطة الهيدروجينية (علل)
	<p>درجة غليان الكحولات اعلى من المركبات الهيدروكربونية المماثلة لها في الشكل والحجم والكتلة لأن الكحولات فيها روابط هيدروجينية درجة غليان الميثانول CH₃OH اعلى من الميثان CH₄.</p>	درجة الغليان (علل)
	<p>الذائبية في الماء يمتزج (يذوب) الكحول في الماء لأن الكحول والماء مركبات قطبية ولوجود الرابطة الهيدروجينية. بينهما.</p>	الذائبية (علل)
	<p>تستعمل طريقة التقطير ولكن يبقى 5% مزيج منهما</p>	فصل الكحول عن الماء

استعمالات الكحولات	يعد الكحول مذيباً جيداً للمواد العضوية القطبية بسبب قطبية مجموعة الهيدروكسيل
الايثانول CH ₃ CH ₂ OH	1- في المنتجات الطبية المطهرة المعقمة وفي تعقيم الجروح قبل إعطاء الحقن. ينتج من تخمر السكر الموجود في العنب وعجين الخبز ويضاف للبتروول لتحسينه
الميثانول CH ₃ OH	أبسط الكحولات وهو مذيب في بعض صناعات يستعمل في صناعة مذيلات الطلاء صناعة المستحضرات الطبية لتحضير مركبات عضوية أخرى أكثر تعقيداً يضاف للبتروول لتحسينه
مركب 2 - بيوتانول	يستعمل مذيب في بعض الاصبغ والورنيش
هكسانول حلقي	مركب سام يستعمل مذيباً لبعض المواد البلاستيكية ويدخل في صناعة المبيدات الحشرية
الجليسرول 1،2،3 - بروبانترينول	يستعمل مانع لتجمد الوقود في الطائرات

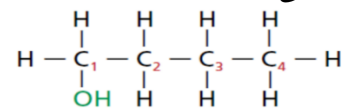
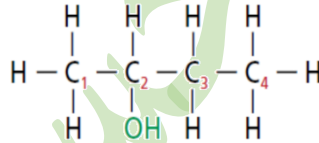
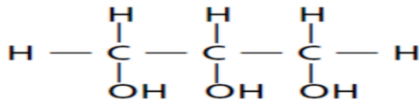


تسمية الكحولات نطبق قواعد التسمية العالمية IUPAC

- 1- نبحث عن أطول سلسلة من ذرات الكربون تحوي مجموعة الهيدروكسيل
اسم الكحولات يعتمد على اسم الألكانات المقابلة له CH_4 هو الميثان و CH_3OH
- 2- يجب الإشارة إلى موقع مجموعة الهيدروكسيل -OH برقم يضاف إلى الاسم في البداية
1- يكتب اسم الألكان ويضاف له المقطع (ول) إلى نهاية اسم الألكان ليمثل مجموعة الهيدروكسيل
2- في حالة وجود أكثر من مجموعة هيدروكسيل يضاف المقطع (ديول مجموعتين ... تريول.....تترول)
3- في الكحولات الحلقية الترقيم ليس ضروريا (في حال وجود مجموعة هيدروكسيل واحدة) إلا أنه يتم إضافة حلقي في نهاية الاسم.

الصيغة الكيميائية	الاسم	الصيغة الكيميائية	الاسم
	1- بنتانول	$CH_3 - CH_2 - CH_2 - OH$	
	2- بيوتانول	$CH_3 - \underset{\substack{ \\ OH}}{CH} - CH_3$	
	2,1- إيثانديول	$CH_3 - CH_2 - CH_2 - CH_2 - OH$	
	2,2- بيوتانديول	$CH_3 - CH_2 - \underset{\substack{ \\ CH_3}}{CH} - CH_2 - OH$	
	2,2- أوكتانديول	$CH_3 - CH_2 - \underset{\substack{ \\ OH}}{CH} - \underset{\substack{ \\ OH}}{CH} - CH_3$	

تطبيقات على تسمية الكحولات:

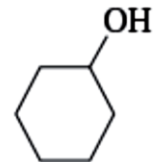


.....

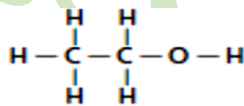
.....

.....

3,1- بنتانديول حلقي



.....



2- ما اسم المركب الظاهر في الشكل؟ وما نوع الروابط بين جزيئاته؟

3- ارسم الصيغة البنائية لكل مما يلي:

a- 2,1- بروبان ديول

b- 2-ميثيل 1-بيوتانول

c- بنتانول حلقي



ثانيا : الأثيرات

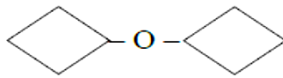
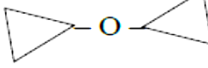
- تعريف الأثيرات: هي مركبات عضوية تحوي ذرة أكسجين مرتبطة مع ذرتين من الكربون
 - الصيغة العامة: $R-O-R'$ حيث R, R' تمثل سلسلة او حلقة مرتبطة مع المجموعات الوظيفية
 - معنى اثير (مركبات العضوية التي لها سلسلتان مرتبطة مع ذرة أو أكسجين واحدة)
 مثال ثنائي ميثيل اثير CH_3-O-CH_3

خواص الأثيرات:

- 1- الرابطة الهيدروجينية: لا يتكون بين جزيئاتها روابط هيدروجينية مع بعضها البعض وذلك لعدم وجود ذرة هيدروجين مرتبطة مع ذرة أو أكسجين في الأثير (علل)
- 2- درجة الغليان: الأثيرات عموما شديدة التطاير (درجة غليانها منخفضة) لأنه لا يوجد بين جزيئاتها روابط هيدروجينية بعكس الكحولات التي تشابهها بالحجم والكتلة (علل)
- 3- الذائبية في الماء الأثيرات قليلة الذوبان في الماء مقارنة بالكحولات لعدم لوجود روابط هيدروجينية بين جزيئاتها (علل)
 و ذرة الأكسجين في الأثيرات تعمل مستقبل لذرات الهيدروجين من جزيئات الماء لذلك تفسر الذائبية القليلة لها(علل)

تسمية الأثيرات في حال كان للاثيرات التي لها سلسلتان متطابقتان من الألكيل مع اكسجين تسميتها: نكتب كلمة ثنائي ثم اسم الألكيل ثم نضيف كلمة أثير
 تطبيقات : $CH_3CH_2CH_2-O-CH_2CH_2CH_3$ ثنائي بروبيل اثير
 مثال ثنائي ميثيل اثير CH_3-O-CH_3
 - الأثيرات غير المتماثلة:

الأثيرات التي لها سلسلتان مختلفان من الألكيل والأكسجين تسميتها: نكتب اسم الألكيل بالترتيب هجائيا ثم كلمة اثير

الصيغة الكيميائية	الاسم	الصيغة الكيميائية	
	ثنائي بيوتيل اثير	$CH_3 - CH_2 - O - CH_2 - CH_3$	
	بيوتيل ايثيل اثير	$CH_3 - O - CH_3$	
	ثنائي هكسيل حلقي اثير	$CH_3 - CH_2 - CH_2 - CH_2 - O - CH_3$	
	ثنائي بنتيل حلقي اثير	$CH_3 - CH_2 - O - CH_3$	
	ثنائي بروبيل اثير		
	ايبيل بروبيل اثير		

ثنائي ايثيل اثير $C_2H_5-O-C_2H_5$ أو $CH_3CH_2-O-CH_3CH_2$

مميزاته: مادة متطايرة وشديدة الاشتعال

استعمل مادة مخدرة في العمليات الجراحية منذ 1842 م حتى القرن العشرين

الترتيب حسب درجات الغليان

في حال تقاربت الكتل المولية الأقل: الكان ← اثير ← كحول احادي OH ← كحول ثنائي OH ... الاعلى

1- رتب تصاعديا المركبات التالية تبعا لدرجة الغليان :

ايبيل ميثيل اثير & الإيثانول & 2,1-ايبانديول & البيوتان & البروبان



ثالثا: الأمينات R-NH₂

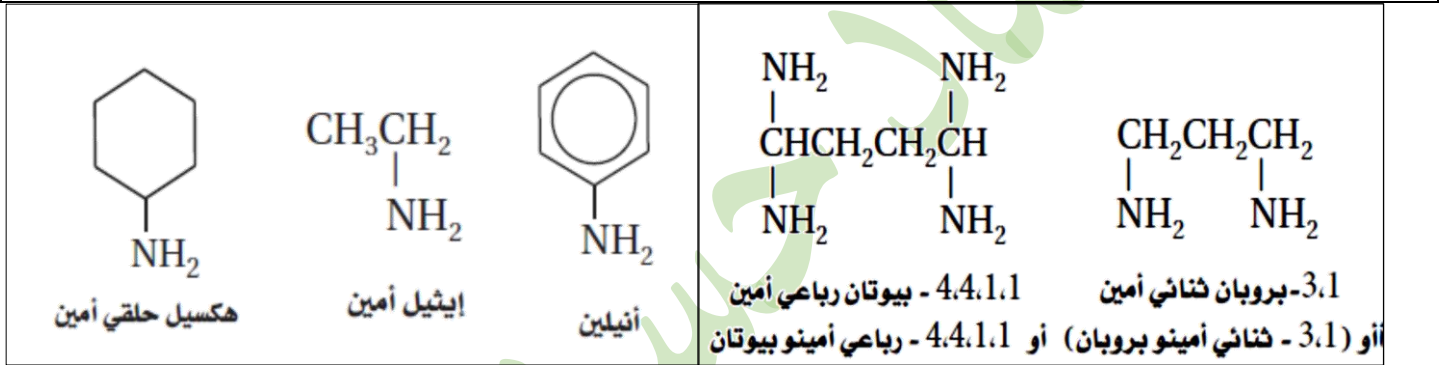
تعريفها: هي مركبات عضوية مشتقة من الأمونيا تحتوي على ذرات نتروجين في سلاسل اليقاتية او حلقات اروماتية حيث تمثل R سلسلة كربون او حلقة مرتبطة -الصيغة العامة (R-NH₂) او Ar-NH₂ (مركب اروماتي) انواعها

اولية: R-NH₂ يكون فيها ذرة هيدروجين في الأمونيا حل محلها مجموعة عضوية
ثانوية: R₂-NH يكون فيها ذرتي هيدروجين في الأمونيا حل محلها مجموعتان عضويتين
ثالثية: R₃-N يكون فيها ثلاث ذرات هيدروجين في الأمونيا حل محلها ثلاثة مجموعات عضوية

تسمية الأمينات

- 1- عند تسمية الأمينات يشار إلى مجموعة الأمين -NH₂ بالمقطع امينو في بداية الأسم او امين في نهاية الأسم
- 2- يشار في بعض الحالات إلى موقع الأمين برقم
- 3- في حالة وجود أكثر من مجموعة أمين نستعمل ثنائي أو ثلاثي أو. بداية الأسم ليبدل على عدد مجموعات الأمين
- 4- بعض الامينات تسمى بطريقة شائعة مثل الأنيلين اسم شائع مستمد من النباتات التي عرفت في تلك الفترة ارسم الصيغة البنائية لكل جزئي مما يأتي:
1,2 بروبان ثنائي أمين
1,3 بيوتان ثنائي أمين

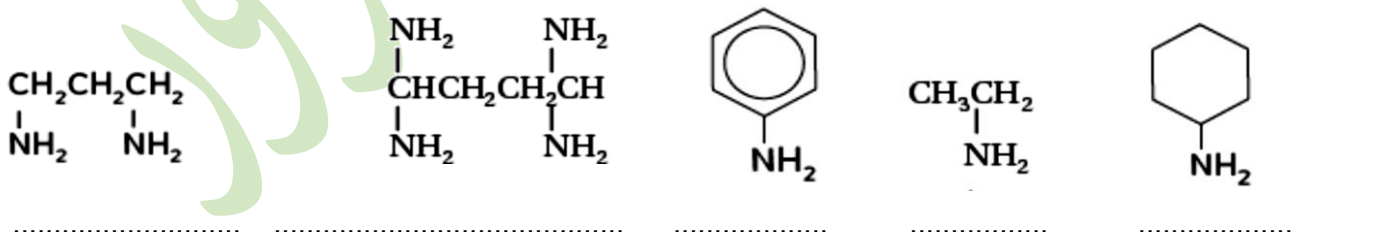
5- تسمية أخرى شائعة اسم الالكيلات المرتبطة ثم اسم امين مثال ايثيل امين



استعمالات الأمينات

- الأنيلين: يستعمل في انتاج الأصباغ ذات الظلال عميقة اللون
- هيكسيل حلقي أمين والإيثيل أمين: تستعمل في صناعة المبيدات الحشرية والبلاستيكية والأدوية ومطاط الاطارات
- رائحة الأمينات: تعد رائحة الأمينات المتطايرة غير مقبولة للإنسان والأمينات هي المسؤولة عن الكثير من الروائح المميزة للكائنات الميتة والكائنات المتحللة لذا تستعمل في تحديد مكان الرفات البشرية باستعمال كلاب بوليسية مدربة وتحقيقات الطب الجنائي (علل)

تطبيقات



1- أمينو بنتان

1- أمينو هبتان

2- أمينو بنتان

1- أمينو دكان

CH₃ (CH₂)₃CH₂NH₂ -a

CH₃ (CH₂)₅ CH₂NH₂ -b

CH₃(CH₂)₂CH(NH₂)CH₃ -c

CH₃ (CH₂)₈ CH₂NH₂ -d

-d 2- أمينو هكسان

CH₃(CH₂)₃CH(NH₂)CH₃



حل أسئلة الدرس

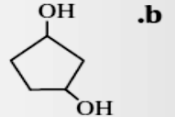
٩. الإجابات المحتملة: الأكسجين، النيتروجين، الفلور، الكلور، البروم، اليود، الكبريت، والفوسفور.

١٠. a. تمثل مجموعة NH_2 - مجموعة الأمين الوظيفية؛ أيزوبروبيل أمين، 2 - بروبييل أمين، أو 2 - أمينوبروبان.

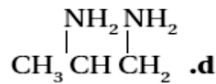
b. تمثل مجموعة OH - مجموعة الهيدروكسيل الوظيفية؛ هكسانول حلقي.

c. تمثل O - ذرة الأكسجين في سلسلة الكربون؛ ميثيل بروبييل إيثر.

١١. a. $\text{CH}_3\text{CH}_2\text{CH}_2\text{OH}$



c. $\text{CH}_3-\text{CH}_2-\text{CH}_2-\text{O}-\text{CH}_2-\text{CH}_2-\text{CH}_3$



١٢. الكحولات معتدلة القطبية: يمكن أن تكون روابط

هيدروجينية مع جزيئات أخرى؛ درجة غليانها أعلى من الألكانات التي لها نفس الشكل والحجم، مثل الإيثانول. الإيثرات: غير قادرة على تكوين روابط هيدروجينية؛ وهي مادة متطايرة ذات درجة غليان منخفضة؛ وأقل ذوباناً من الكحولات في الماء؛ ومن أمثلتها: ميثيل الإيثر. الأمينات: بعض الأمينات لها روائح كريهة منفرة للبشر، منها على سبيل المثال هكسيل أمين الحلقي.

١٣. الإيثانول أكثر ذوبانية من ميثيل الإيثر. لأن جزيئاته أكثر قطبية، فالكحولات على الأغلب أكثر ذوبانية في الماء من الإيثرات.

تدريبات محلولة وغير محلولة

1- التطبيقات العملية: سم كحول أو أمين أو إيثر واحد يتم استخدامه لكل من الأغراض الآتية:

a- مطهر إيثنول

b- مذيب للطلاء ميثانول

c- مضاد تجمد جلايكول الإيثيلين-الجليسيرول

d- مخدر ثنائي إيثيل إيثر

e- إنتاج الصبغات أنيلين

2- فسر لما ستكون قابلية ذوبان لجزيء الكحول في الماء دائما أكبر منها لجزيء الإيثر الذي يمتلك كتلة جزيئية

مماثلة لأن الروابط في الكحولات O-H أكثر قطبية من الروابط في الإيثرات O-C-O

3- لماذا يمتلك الإيثانول درجة غليان أعلى بكثير من الإيثيل أمين، على الرغم من أن كتلتيهما الجزيئية متساوية

تقريباً.

لأن روابط O-H أكثر قطبية من روابط N-H وتكون الروابط الهيدروجينية في الإيثانول أقوى من الروابط بين جزيئات الإيثيل أمين وينتج عن قوى التجاذب الأقوى درجات غليان أعلى.

4- سم إيثر واحدا يكون إيزومير بنائي لكل من الكحولات التالية

1- بيوتانول ثنائي إيثيل إيثر

2- هكسانول بروبييل إيثر

5- ارسم الصيغة البنائية لكل ما يلي

e- 2-أمينو هكسان

f- ثنائي أيزوبروبيل إيثر

g- بيوتيل بنتيل إيثر

h- بيوتيل حلقي ميثيل إيثر

i- 1,3-ثنائي أمينو بيوتان



الدرس الثالث: مركبات الكربونيل

مركبات عضوية تحتوي على مجموعة الكربونيل

مجموعة الكربونيل مجموعة ترتبط فيه ذرة أكسجين مع ذرة كربون برابطة ثنائية $C=O$ توجد في الألدهيدات والكيونات
أولا : الألدهيدات

الألدهيدات: هو مركب يتكون من سلسلة من ذرات الكربون، يوجد في نهايتها مجموعة الكربونيل التي تكون متصلة من طرف بذرة كربون

الصيغة العامة للألدهيدات ($*CHO$) أو $RCHO$
تشير النجمة *مجموعة الكيل أو ذرة هيدروجين

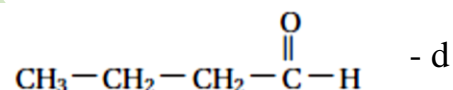
تسمية الألدهيدات النظامية

- 1- اسم الألدهيد يؤخذ من اسم الألكان المقابل
- 2- تسمى الألدهيدات بإضافة اللاحقة (ال) إلى نهاية اسم الألكان
- 3- لا نستعمل الترقيم عند تسمية الألدهيدات لأن مجموعة الكربونيل تقع دائما بالطرف
- 4- إلا في حالة التفرعات أو وجود مجموعات وظيفية تستعمل الترقيم

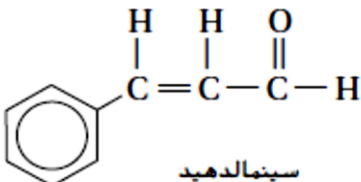
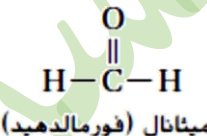
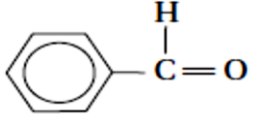
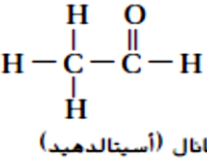
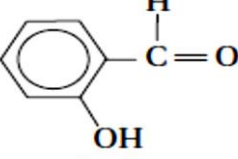
تطبيقات

b - بنتانال حلقي

a - 4- ميثيل بنتانال



تطبيقات على التسمية

 <p>سينماليدهيد</p>	 <p>ميثانال (فورمالدهيد)</p>	<p>$*CHO$ يمثل الرمز * مجموعة ألكيل أو ذرة هيدروجين</p>
 <p>بنزالدهيد</p>	 <p>إيثانال (أستالدهيد)</p>	 <p>ساليسالدهيد</p>

الأسماء الشائعة

- 1- الميثانال له اسم شائع هو.....
- 2- الإيثانال له اسم شائع هو.....

خواص الألدهيدات

- القطبية: لأنه يحتوي جزئ الألدهيد على مجموعة الكربونيل القطبية والنشطة
- الرابطة الهيدروجينية: لا تستطيع الألدهيدات تكوين روابط هيدروجينية بين جزيئاتها (علل) لأنها لا تحتوي على هيدروجين مرتبط مباشرة بالأكسجين
- درجة الغليان: درجة غليانها اقل من درجة غليان الكحولات التي لها عدد ذرات الكربون نفسه.
- الذائبية في الماء: الألدهيدات أكثر ذوبانية في الماء من الألكانات (علل) لأن جزيئات الماء لها القدرة على تكوين روابط هيدروجينية مع ذرات الاكسجين في الألدهيد.
- ذائبية الألدهيدات في الماء اقل من ذائبية الكحولات والأمينات.



الفورمالدهيد	1- قديما محلول الفورمالدهيد يستعمل في حفظ العينات الحيوية عدة سنوات 2- تستعمل كميات كبيرة من الفورمالدهيد للتفاعل مع اليوريا لصنع نوع من البلاستيك المقاوم المستعمل في صناعة الأزرار للسيارات والأجهزة الكهربائية 3- في صناعة الغراء للصق الخشب خطر قد يسبب السرطان
وبنزaldehid ساليسالدهيد	المسؤولان عن نكهة اللوز
السينامالدهيد	السينامالدهيد تعطي رائحة القرفة ومذاقها وهي نوع من التوابل التي تستخرج من لحاء شجرة استوائية.

ثانيا: الكيتونات

تتكون الكيتونات في حال ان مجموعة كربونيل مع الكربون في وسط السلسلة
تعريفها: هي مركبات عضوية ترتبط فيها ذرة كربون في مجموعة الكربونيل مع ذرتي كربون في السلسلة

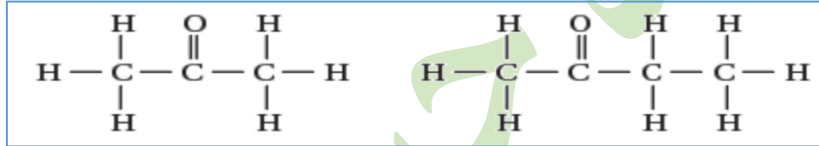
الصيغة العامة: $R-\overset{\text{O}}{\parallel}{C}-R'$ و R و R' تمثل سلاسل او حلقات كربون مرتبطة مع مجموعة كربونيل

ابسط مثال على الكيتونات هو: (الاستون) CH_3COCH_3

تسمية الكيتونات: 1- اضافة المقطع (ون) الى نهاية اسم الالكان

2- وضع رقم قبل الاسم ليبدل على موقع مجموعة الكربونيل

تطبيقات على التسمية



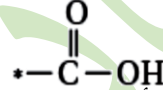
الأدهيدات والكيتونات		مركبات عضوية تحتوي على مجموعة كربونيل (- C -)	
الكيتونات	الأدهيدات	الاسم	التعريف
$R-\overset{\text{O}}{\parallel}{C}-R$	$R-\overset{\text{O}}{\parallel}{C}-H$		مركبات عضوية ترتبط فيها مجموعة الكربونيل في طرف سلسلة ذرات الكربون
مركبات عضوية ترتبط فيها مجموعة الكربونيل بذرات كربون تقع ضمن السلسلة	اسم الألكان (اطول سلسلة) + المقطع (ال)	رقم المجموعة + اسم الألكان (اطول سلسلة) + (ون)	التسمية
(CH_3COCH_3)	(CH_3CHO)		
$CH_3-\overset{\text{O}}{\parallel}{C}-CH_3$	$CH_3-\overset{\text{O}}{\parallel}{C}-H$		
$CH_3-\overset{\text{O}}{\parallel}{C}-CH_2-CH_3$	$H-\overset{\text{O}}{\parallel}{C}-CH_2-CH_3$		
		ميثانال	أمثلة
		أوكتانال	
		بيوتانال	
		2- هبتانول	
		3- برومو- 2- بنتانول	
		هكسانول حلقي	

خواص الكيتونات:

(علل) تشترك الكيتونات والالدهيدات في الكثير من الخواص الفيزيائية والكيميائية لتشابه تركيبهما ولهما نفس المجموعة الوظيفية
القطبية: الكيتونات قطبية واقل نشاطا من الالدهيدات لذلك تعتبر مذيبات جيدة للمركبات متوسطة القطبية كالشمع والورنيش والطلاء
الرابعة الهيدروجينية
لا تكون الكيتونات روابط هيدروجينية مع بعضها البعض لكن يمكن ان تكون روابط هيدروجينية مع جزيئات الماء
الذائبية في الماء
(علل) الكيتونات قابلة للذوبان في الماء الى حد ما
لأن جزيئات الماء لها القدرة على تكوين روابط هيدروجينية مع **الاكسجين** الموجودة في مجموعة الكيتون.
الاسيتون قابل للذوبان في الماء بشكل تام.

ثالثا: الاحماض الكربوكسيلية:

تعريفها هي مركبات عضوية تحتوي على مجموعة الكربوكسيل COOH -
مجموعة الكربوكسيل تتكون من مجموعة كربونيل مرتبطة مع مجموعة هيدروكسيل
الصيغة العامة للأحماض



(*) يمثل الرمز هيدروجين أو سلسلة أو حلقة الكربون المرتبطة بالمجموعة الوظيفية)

ابسط مثال على الاحماض الكربوكسيلية

- حمض الميثانويك (الفورميك) HCOOH

استعماله: تدافع الحشرات اللاسعة عن نفسها بإفراز مادة سامة تحتوي على حمض الفورميك.

- حمض الخل (الاسيتيك) الايثانويك CH_3COOH هو حمض يوجد في الخل

التسمية

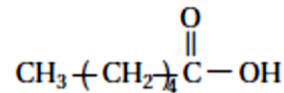
a- نبدأ الترقيم من ذرة كربون مجموعة الكربوكسيل

b- نضيف كلمة حمض في بداية الاسم

c- اضافة المقطع (ويك) الى نهاية اسم الالكان

تطبيقات: - حمض الميثانويك HCOOH

3-فلورو 2-ميثيل حمض البيوتانويك

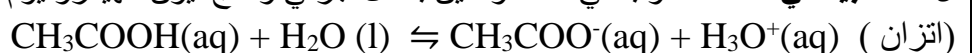


خواص الاحماض الكربوكسيلية:

1- **القطبية** الاحماض الكربوكسيلية مركبات قطبية نشطة

2- **الرابعة الهيدروجينية:** تكوين روابط هيدروجينية مع بعضها البعض و تكون روابط هيدروجينية مع جزيئات الماء

3- **الذائبية في الماء** تذوب في الماء وتتأين بشكل جزئي وتنتج ايون الهيدرونيوم ويكون ايون الحمض السالب



4- **علل تتأين الاحماض الكربوكسيلية في المحاليل المائية (علل)**

لان ذرتي الاكسجين ذات كهروسالبية عالية تجذب الالكترونات بعيدا عن الذرة الهيدروجين

فتنتقل ذرة الهيدروجين الى ذرة اخرى لذئها زوج من الالكترونات غير مرتبطة كذرة اكسجين في جزئ الماء



تكملة خواص الاحماض الكربوكسيلية

- 5- مذاقها حامض تحول تباع الشمس للأحمر
- 6- الأحماض ثنائية الحمض (الكربوكسيل) هي احماض كربوكسيلية تحوي مجموعتي **كربو كسيل** او اكثر مثل حمض الأوكساليك وحمض الأديبيك،
- 7- وقد تحوي الأحماض الأخرى على مجموعات وظيفية إضافية مثل مجموعة الهيدروكسيل، كما في حمض اللاكتيك الموجود في اللبن
- 8- صفات الاحماض في الفقرة 5-6 أكثر قابلية للذوبان في الماء (علل) أكثر حمضية من الاحماض التي تحتوي على مجموعة كربوكسيل واحدة فقط (علل)

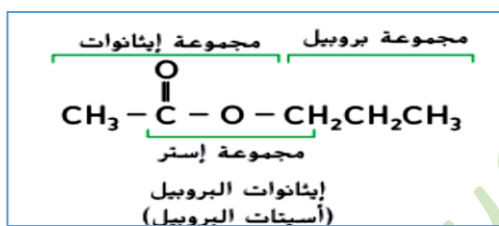
مركبات عضوية مشتقة من الأحماض الكربوكسيلية:

هي مركبات عضوية تتكون من حمض كربوكسيلي استبدلت فيه ذرة الهروجين أو مجموعة الهيدروكسيل بذرات أو مجموعات أخرى كالاسترات، الأميدات

رابعا : الاسترات

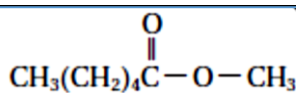
تعريف الاسترات : مركبات عضوية تحتوي مجموعة كربوكسيل استبدلت ذرة الهيدروجين الموجودة في الهيدروكسيل بمجموعة الكيل المجموعة الوظيفية : **COOR - استر**

الصيغة العامة $* - \overset{\text{O}}{\parallel} \text{C} - \text{O} - \text{R}$ حيث تمثل * جذر الكيلي أو هيدروجين و R جذر الكيلي



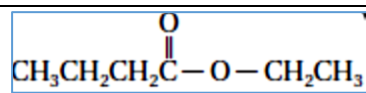
1- نكتب اسم الحمض الكربوكسيلي .

2- نستعمل المقطع وات بدل المقطع ويك متبوعا بالأكيل



ميثانوات الهكسيل

بروبانوات الميثيل



تطبيقات

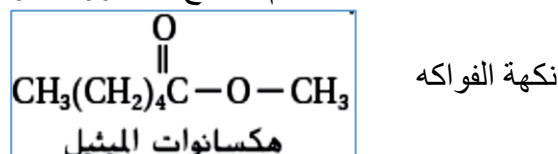
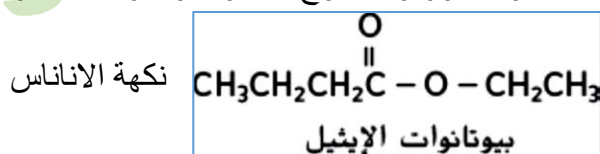
هكسانوات الايزوبروبيل

بنتانوات الايثيل

خواص الاسترات

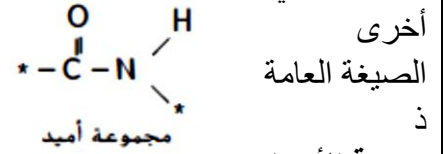
القطبية : الاسترات قطبية متطايرة.

ورائحتها عطرية : وتوجد في العطور والنكهات الطبيعية وفي الفواكه والأزهار ونكهة التفاح أو الموز النكهات مزيج من جزيئات عضوية مختلفة منها الاستر وقد يكون في هذه النكهات تركيب استر واحد استعمال الاسترات يتم تصنيع المشروبات والنكهات والعطور و الشموع العطرية والمواد المعطرة الأخرى.



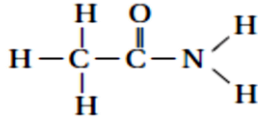
خامسا: الأميدات

الأميدات: هي مركبات عضوية تحتوي مجموعة كربوكسيلية استبدلت مجموعة OH بذرة نيتروجين مرتبطة مع ذرات



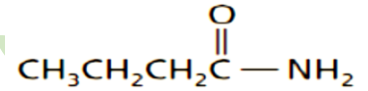
تسمية الأميدات:

التسمية الدولية نكتب اسم الالكان ثم اضافة المقطع أميد في نهاية الاسم.
تطبيقات على التسمية



بروبان أميد

هكسان أميد

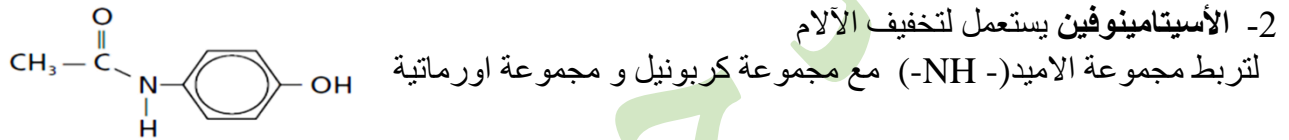


بيوتان أميد

بنتان أميد

أمثلة

1- توجد مجموعة الأميد بشكل متكرر في البروتينات الطبيعية وبعض المواد الصناعية.



3- (اليوريا) NH_2CONH_2

اليوريا هي آخر نواتج عملية هضم البروتينات في الثدييات توجد في الدم والصفراء والحليب عند الثدييات

a- كيف تتكون اليوريا

فعند تنكسر البروتينات تغادر مجموعات الأمين (-NH₂-) ثم تتحول الى الامونيا (NH₃) وهي سامة للجسم ويقوم الكبد بتحويلها الى مادة اليوريا غير السامة يتم التخلص منها بواسطة الكلى وتخرج مع البول

b- تستعمل في صناعة الأسمدة الزراعية (علل)

لأنها تحتوي على نسبة عالية من النيتروجين وسهولة تحولها الى امونيا في التربة.

c- يستعمل مصدر بروتيني للماشية والأغنام

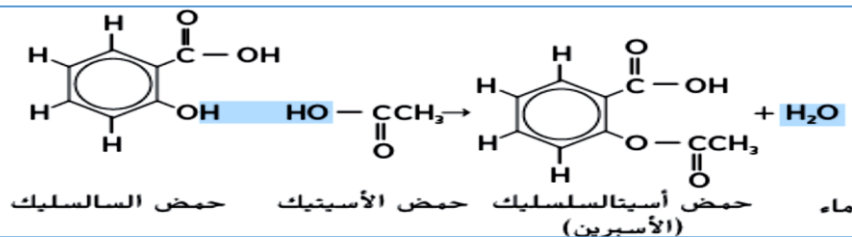
لأن الحيوانات تستعملها لانتاج البروتينات في أجسامها

تفاعلات التكثيف: هي ارتباط جزئيين عضويين صغيرين لمركبات عضوية لتكوين جزئ عضوي أكثر تعقيدا

يرافق فقدان جزئ ماء

- تعد تفاعلات التكثيف تفاعلات حذف

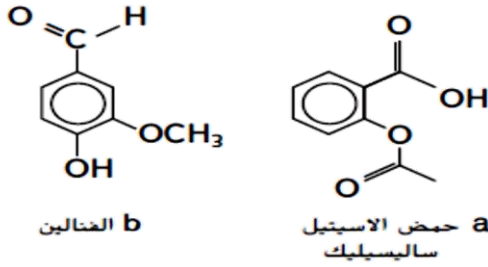
من أكثرها شيوعا تلك بين الحمض الكربوكسيلي مع مركبات أخرى (كحول)



تحضير الأسبرين



1- صنف نواتج تفاعل التكاثف بين الحمض الكربوكسيلي والكحول



2- اذكر الأسم والصيغة العامة لكل مجموعة من المجموعات الوظيفية المرتبطة بحلقات البنزين الموضحة في

1- ارسم الصيغة العامة لكل نوع من أنواع المركبات العضوية الآتية.

ألدهيد	الكيتون
حمض كربوكسيلي	إستر
أميد	ايثر

2- سمّ الأدهيد أو الكيتون أو الحمض الكربوكسيلي أو الإستر أو الأميد المستخدم لكل من الأغراض الآتية:

- a- الحفاظ على العينات البيولوجية فورمالدهيد
b- المذيبات في طلاء الأظافر أسيتون
c- حمض في الخل حمص الإيثانويك (الأسيتيك)
d- النكهات في الأطعمة والمشروبات بيوتانات الإيثيل، هكسانوات الميثيل

3- ما نوع التفاعل المستخدم لإنتاج الأسبيرين من حمض الساليسيليك وحمض الأسيتيك؟ تكاتف

4- ارسم الصيغة البنائية لكل من مركبات الكربونيل الآتية:

a- 2,2- ثنائي كلورو-3- بنتانول
b- 3-فلورو-2-ميثيل حمض البيوتانويك

4- ميثيل بنتانال

بنتانال حلقي

5- سمّ مركبات الكربونيل الآتية

- a- بيتانول حلقي
b- بيوتانال
c- هكسانو أميد
حمض الهكسانويك

6- صف خصائص الأحماض الكربوكسيلية

أحماض ضعيفة مذاقها حامض تتكون من جزيئات قطبية

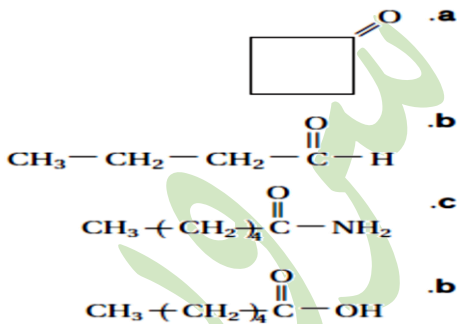
7- ارسم الصيغ البنائية للمركبات الآتية:

a بيوتانول

b بروبانال

c حمض الهكسانويك

d هيبتان اميد



١٤. a. إستر b. أميد c. كيتون d. الأدهيد

١٥. النواتج هي إستر وماء.

١٦. الأدهيد: $\text{C}_n\text{H}_{2n}\text{O}$; الكيتون $\text{C}_n\text{H}_{2n}\text{O}$; الحمض

الكربوكسيلي: $\text{C}_n\text{H}_{2n}\text{O}_2$.

١٧. تتأين مجموعة الكربوكسيل بسهولة وتمتص أيون H^+ . ومع

ذلك، فإن ذرة الهيدروجين المرتبطة بمجموعة الكربونيل في

الأدهيد لا تتأين بسهولة.

حل أسئلة الدرس

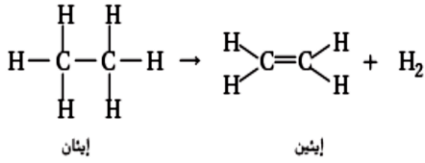


الدرس الرابع : تفاعلات أخرى للمركبات العضوية:

أولا - تفاعلات الحذف:

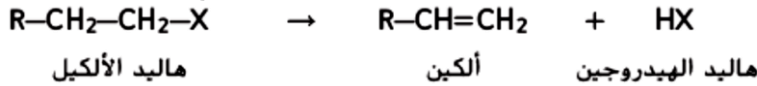
هي التفاعلات التي يتم فيها إزالة مجموعة من الذرات المرتبطة مع ذرتي كربون متجاورتين ويتم تكوين رابطة إضافية بينهما (الذرات المحذوفة جزيئات مستقرة مثل : H_2O - HCl - H_2)

- أنواع تفاعلات الحذف:



1- حذف الهيدروجين هي حذف ذرتي هيدروجين من الألكان لإنتاج الكين كما في تفاعل تحضير (تكوين) الإيثين من الإيثان بحذف ذرتي هيدروجين الإيثين هو غاز وهو المادة الأولية لصناعة بولي إيثيلين منخفض الكثافة (LDPE) المستعملة في صناعة أدوات وأرضيات ملاعب الأطفال يتميز بالمتانة

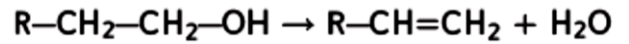
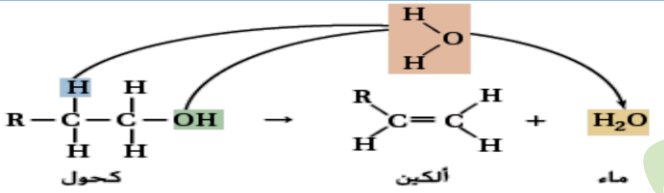
3- حذف هاليد الهيدروجين هي التفاعلات التي يصاحبها حذف هيدروجين من هاليد الألكيل لإنتاج الكين



4- حذف الماء هي التفاعلات التي يصاحبها حذف الماء من الكحول لإنتاج الكين

يتم فقد ذرة هيدروجين ومجموعة هيدروكسيل من ذرتي كربون متجاورتين في الكحول لتكوين الماء.

التفاعل العام



تدريبات: اكتب مثال على التفاعلات الحذف التالية

- هاليد الكيل الى الكين
 - الكحول الى الألكين
 - 2- بروبانول الى يعطي بروبين + ماء
- ماهي نواتج المتوقعة من عمليات الحذف:

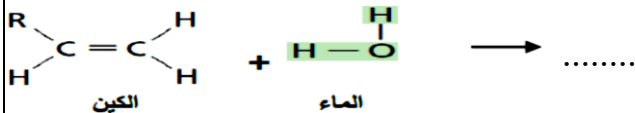
ثانيا - تفاعلات الإضافة:

تعريفها: تحدث عندما تتحد ذرات اخرى مع كل ذرة من الذرتين المكونتين للرابطة التساهمية الثنائية او الثلاثية سبب حدوثها: عند وجود تركيز عال من الالكترونات في الرابطة الثنائية او الرابطة الثلاثية لذلك تميل الجزيئات والايونات الأخرى الى جذب هذه الالكترونات لتكوين روابط أكثرها شيوعا اضافة : H_2O ، H_2 ، HX ، X_2 الى الكينات

انواع تفاعلات الإضافة:

A - اضافة الماء H_2O : هي التفاعلات التي يتم فيها اضافة ذرة الهيدروجين ومجموعة الهيدروكسيل من جزئ الماء الى الرابطة الثنائية او الثلاثية

مثل: تفاعل تحضير (تكوين) الكحول بإضافة جزئ الماء الى الكين

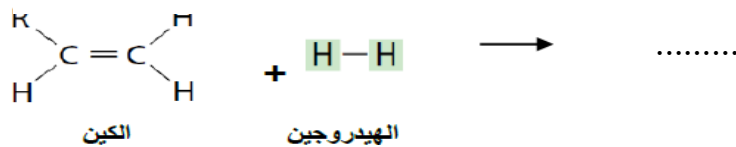
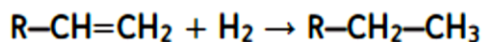


B- اضافة الهيدروجين (الهدرجة) H₂: هي التفاعلات التي يتم فيها اضافة هيدروجين الى ذرات الكربون التي تكون الرابطة الثنائية او الثلاثية

انواع الهدرجة : 1- هدرجة الالكينات الى الالكانات 2- هدرجة الالكينات الى الاكينات

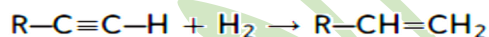
وعندما يضاف H₂ الى الرابطة الثنائية في الالكينات يتحول الاكين الى اكان

تفاعل هدرجة الألكينات:

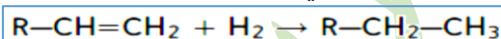


تفاعل هدرجة الألكينات: لإنتاج الألكينات أو الألكينات

وعند اضافة جزئ واحد من H₂ الى كل رابطة ثلاثية لتحويل الكاين الى أكين



وعند اضافة الجزئ الثاني من H₂ يستمر تفاعل الهدرجة ويتحول الكين الكان.



اهمية تفاعل الهدرجة: تحويل الدهون السائلة غير المشبعة (الزيوت النباتية مثل فول الصويا والذرة والفول السوداني)

الى دهون مشبعة وصلبة حيث تستعمل تصنيع السمن والزبد

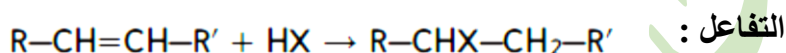
المحفزات استعمال المحفزات تستعمل المحفزات في عملية هدرجة الالكينات (علل)

لأن طاقة تنشيط التفاعل مرتفعة جدا في حال عدم وجود حفاز

من امثلة المحفزات: مسحوق البلاتين او البلاديوم

وظيفة المحفزات: توفر سطحا يعمل على امتصاص جزيئات المواد المتفاعلة ويهيئ الفرصة للإلكترونات للارتباط مع ذرات اخرى

C- اضافة هاليد الهيدروجين (HX) :



تعريفها : هي التفاعلات التي يتم فيها اضافة

هاليد الهيدروجين الى الكين لتكوين هاليد الألكيل.

D- اضافة الهالوجين X₂ :

تعريفها: هي التفاعلات التي يتم فيها اضافة هالوجين الى الكين لتكوين ثنائي هاليد الالكيل

مثال التفاعل:

تدريبات اعطي مثال على تفاعل الإضافة التالي وحدد نوع المادة المضافة

الكين الى كحول	ألكاين الى الكان
الكين الى الكان	الكين الى هاليد الكيل

اكمل التفاعلات وتوقع الناتج

الإيثين مع الماء :	1- بيوتين + هيدروجين :
الإيثين مع الهيدروجين	بيوتين حلقي + ماء :
الإيثين مع كلوريد الهيدروجين :	تفاعل 3 -هكسين و الكلور :
الإيثين مع الكلور :	الإيثين مع الفلور :

اهمية تفاعلات الاكسدة والاختزال:

- 1- تغير مجموعة وظيفية الى اخرى. 2- تحضير مجموعة هائلة و متنوعة من المنتجات
- 3- تعتمد انظمة الكائنات الحية على الطاقة الناتجة عن تفاعلات الاكسدة.
- 4- تفاعلات الاحتراق للمركبات العضوية (اكسدة واختزال)

تفاعلات الاحتراق:

آلية حدوثها: تحترق المركبات العضوية التي تحتوي على الكربون والهيدروجين في وجود كمية كافية من الاكسجين



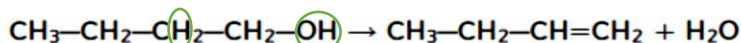
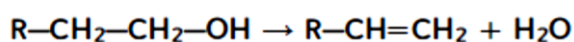
لإنتاج ثاني أكسيد الكربون والماء **نوع التفاعل:** طاردة للحرارة

اهميتها: تعتمد معظم بلدان العالم على احتراق المواد الهيدروكربونية كمصدر رئيس للطاقة

رابعا (توقع نتائج التفاعلات العضوية)

يمكن استعمال التفاعلات العامة التي تمثل تفاعلات المواد العضوية لتوقع نواتج التفاعلات العضوية

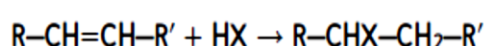
مثال: توقع نواتج تفاعل الحذف لتفاعل 1-بيوتانول



1-بيوتانول

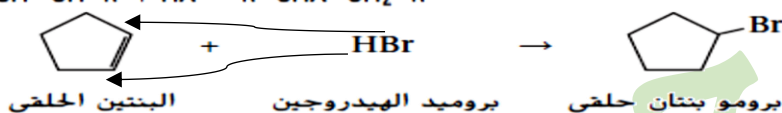
1-بيوتين

توقع نواتج التفاعل بين البنيتين الحلقي و بروميد الهيدروجين:



استعمل المعادلة العامة لتفاعلات الاضافة بين الألكينات وهاليد الهيدروجين

ارسم الصيغة البنائية للنتائج .



تفاعلات الحذف والاضافة	اضافة H ₂ للالكين ←
حذف HX من هاليد الالكيل ←	اضافة H ₂ O للالكين ←
حذف H ₂ من لالكان ←	اضافة HX للالكين ←
حذف H ₂ O من الكحول ←	اضافة X ₂ للالكين ←

تفاعلات الاكسدة	الاجراء المتبع
الكان اكسدة ← كحول	كسب O بين H, C
كحول اولي اكسدة ← الدهيد	حذف H ₂ من OH والكربون المرتبط بها
كحول ثانوي اكسدة ← كيتون	حذف H ₂ من OH والكربون المرتبط بها
الدهيد اكسدة ← حمض كربوكسيلي	كسب O بين مجموعة الكربونيل و H

تفاعلات التكثف

تحضير الاسبيرين

حمض كربوكسيلي مع كحول	استير + ماء
امين مع حمض كربوكسيلي	اميد

تفاعلات الاستبدال

الهجنة
انتاج الكحول
انتاج الامين

تطبيقات 1- حدد نوع التفاعل العضوي الذي يحقق أفضل ناتج لكل عملية تحويل مما يلي :

نوع التفاعل	التفاعل	نوع التفاعل	التفاعل تحويل
	كحول + كربوكسيلي ← استر		هاليد الكيل الى الكين
	الكين الى هاليد الكيل		الكين الى كحول
	كحول الى هاليد الكيل		الكين الى الكان
	أمين + حمض كربوكسيلي ← اميد		هاليد الكيل الى كحول

2- صنف كلا من التفاعلات العضوية الآتية الى: استبدال أو اضافة أو أكسدة و اختزال أو حذف أو تكاثف .

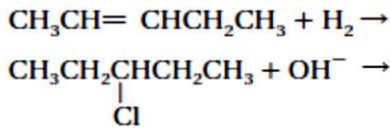
التفاعل	التصنيف	التفاعل	التصنيف
1- بيوتين + هيدروجين الى بيوتان		2- بروبان و فلور الى فلوروبروبان و فلوريد الهيدروجين	
3- بروبانول الى بروبين و ماء		4- بيوتين حلقي و ماء الى بيوتانول حلقي	

3- استعمل الصيغ البنائية لكتابة معادلات التفاعلات الآتية:

أ- تفاعل الاستبدال بين 1- كلوروبروبان و الماء لتكوين 2- بروبانول و كلوريد الهيدروجين

ب- تفاعل الاضافة بين 3- هكسين و الكلور لتكوين 4- ثنائي كلورو هكسان

أكمل كل معادلة مما يأتي عن طريق كتابة الصيغ البنائية للناتج الأكثر احتمالاً:



تدريبات محلولة وغير محلولة

1. ما المادة الأولية التي منها يمكن تحضير بعض المركبات العضوية؟ الوقود الحفوري مثل البترول
2. فسر أهمية تصنيف التفاعلات الكيميائية لما كانت التفاعلات الكيميائية كثيرة فأن تصنيفها يساعد الكيميائيين على زيادة فهمها وتذكرها وتوقع ناتج التفاعلات الجديدة
3. أكتب نوع التفاعل الكيميائي اللازم اجراء كل من التغيرات التالية :
 - a. ألكين الى الكان ج. اضافة
 - b. هاليدات الألكيل الى ألكين ج. الحذف
 - c. الكحول الى هاليدات الكيل ج. استبدال
 - d. الكحول الى هاليدات الكيل ج. استبدال
4. صنف كل من التفاعلات العضوية الآتية من حيث كونها استبدال أو اضافة أو أكسدة و اختزال أو تكثيف
 - a. 2- بيوتين + هيدروجين الى بيوتان ج. اضافة
 - b. بروبان + فلور الى 2 - فلور بروبان + فلوريد الهيدروجين ج. استبدال
 - c. بروبانول يعطي بروبين + ماء ج. حذف
 - d. بيوتين حلقي + ماء الى بيوتانول حلقي ج. اضافة
5. ما نوع التفاعل الذي يحول الكحول إلى كل من أنواع المركبات الآتية :
 - a. إستر ج. التكاثف b. ألكين ج. الحذف
 - c. هاليد الألكيل d. ألدهيد ج. اكسده
- 6- استخدم الصيغ البنائية من أجل كتابة معادلة تفاعل التكثيف بين الايثانول وحمض البروبانويك

7- سم نوع المركب العضوي الناتج عن كل من التفاعلات التالية:

1- الحذف من الكحول : ألكين	2- إضافة كلوريد الهيدروجين الى ألكين : هاليد الألكيل
3- إضافة الماء الى ألكين : كحول	4- استبدال مجموعة الهيدروكسيل بذره الهالوجين : كحول

8- ارسم وسم صيغ المركبات العضوية الناتجة عن التفاعل الآتي مع كل من المواد الآتية:



حل أسئلة الدرس 4

٢١. قد ينتج عن إضافة الماء إلى 1- بيوتين الناتج 1- بيوتانول و / أو 2- بيوتانول؛ لأن مجموعة الهيدروكسيل ربما ترتبط بذرة الكربون رقم 1 أو 2 من سلسلة الكربون المكونة من 4 ذرات. في حين ينتج عن إضافة الماء إلى 2- بيوتين، فقط 2- بيوتانول؛ لأن مجموعة الهيدروكسيل يجب أن تكون على ذرة الكربون رقم 2.

١٨. a. الإضافة b. الحذف
١٩. a. الحذف b. الإضافة c. التكاثف d. الإضافة
٢٠. a. $\text{CH}_3\text{CH}_2\text{CH}_2\text{CH}_2\text{CH}_3$ b. $\text{CH}_3\text{CH}_2\text{CH}(\text{OH})\text{CH}_2\text{CH}_3$

الدرس الخامس البوليمرات

تعريف البوليمير: هي جزيئات كبيرة تتكون من العديد من الوحدات البنائية المتكررة.

الكتلة المولية للبوليمرات

تتراوح بين أقل من 10000 (amu) و أكثر من 1000000 (amu)

سلسلة الطلاء غير اللاصق كتلته المولية تساوي 40000 (amu).

أنواع البوليمرات

1- بوليمرات طبيعية: مثل الصخر والخشب والمعادن والصوف والقطن.

2- بوليمرات معالجة كيميائياً: مثل المطاط والبلاستيك و السيليلويد

والسيليلويد الذي يحضر بمعالجة سليولوز القطن مع حمض النتريك

3- بوليمرات صناعية: مثلاً الباكلايت الذي يعتبر أول بوليمير صناعي تم تحضيره

مميزاته: يتميز بالصلابة والهشاشة

التفاعلات المستخدمة لصناعة البوليمرات

تفاعلات البلمرة: هي التفاعلات التي ترتبط فيها المونومرات معا

المونومر هو الجزيء الذي يصنع منه البوليمر

وحدة بناء البوليمر: مجموعة الذرات المتكررة الناتجة من ترابط المونومرات تتكون من اثنين من المونيمرات المختلفة

يستعمل حفاز ليتم التفاعل بسرعة معقولة

(علل) تصنيع البوليمرات عملية سهلة نسبياً

تحدث ترتبط المونومرات معا الواحد تلو الآخر في سلسلة من الخطوات السريعة

انواع تفاعلات البوليمرات:

1- **البلمرة بالإضافة:** هي التفاعل الذي تتكسر فيه الروابط غير المشبعة تماماً كما في تفاعلات الإضافة وجميع ذرات

المونومر تبقى تظهر في البوليمير دون حذف

تختلف تفاعلات البلمرة عن تفاعلات الإضافة في ان الجزيء المضاف في تفاعل لبلمرة هو المادة نفسها

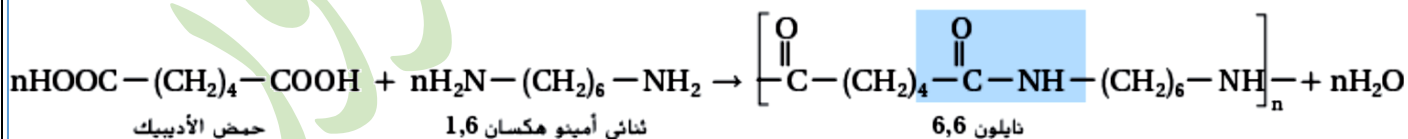
مثال : عند إضافة الايثين $CH_2=CH_2$ ينتج البولي ايثيلين انظر (الجدول اخر الملخص)

2- البلمرة بالتكثيف:

تعريفها : هي التفاعل الذي يحدث عندما تحتوي المونومرات على اكثر من مجموعة الوظيفية

على الأقل تتحد معا ويصاحب ذلك خسارة ناتج ثانوي غالباً ما يكون الماء

مثل : بوليمر النايلون 66



يتكون بتفاعل مونومر في نهايته مجموعتي كربوكسيل ومونومر اخر في نهايته مجموعتي امين

حيث ترتبط مع بعضها ليتكون مجموعة اميد وينتزع جزيء ماء

علل: النايلون أصبح مادة شعبية (علل) لأنه يمتاز قوته ويمكن سحبه على شكل الخيوط تشبه الحرير

اجب عما يلي

- 1 - يصنف نوع التفاعل في بوليمر ايثيلين
أ- الإضافة ب - التكتيف ج - الحذف
- 2 - يصنف نوع التفاعل في بوليمر النايلون
أ- الإضافة ب - التكتيف ج - الحذف

خواص البوليمرات:

- 1- سهولة تصنيعها
- 2- المواد الأولية المستعملة في تحضيرها غير مكلفة
- 3- يمكن سحب بعضها في صورة ألياف أنعم من الحرير
- 4- البعض منها أقوى كالفولاذ
- 5- غير قابلة للصدأ
- 6- تبقى مدة أطول من المواد الطبيعية مثل الخشب
- 7- غير قابل للتآكل ولا يحتاج الى إعادة طلاء
- 8- سهولة تشكيلها بأشكال مختلفة او سحبها على شكل ألياف رفيعة

تنقسم البوليمرات إلى فئتين مختلفتين على بناءً خصائص انصهارها. ،
البلاستيك الحراري : هو الذي يُمكن صهره وتشكيله عدة مرات إلى أشكال ثابتة عند التبريد
أمثلة على البولي إيثيلين والنايلون

البوليمرات المتصلبة بالحرارة هو الذي يُمكن تشكيله عند تحضيره أول مرة ولكن بعد التبريد لا يمكن إعادة صهره (علل)
لأنها تبدأ في تكوين شبكات من الروابط في العديد من الاتجاهات عند تصنيعها وحينما تبرد، تُصبح هذه البوليمرات جزيئاً
واحدًا كبيراً
ويُعدّ الباكلايت مثالا عليها وبدلاً من الانصهار، يتحلّل الباكلايت عند الإفراط في تسخينه.

تدوير البوليمرات

تشتق المواد الأولية المستعملة في تصنيع البوليمرات من الوقود وهو مهدد الانقراض
لذلك تدوير البوليمرات عملية أكثر أهمية (علل) التقليل من حجم استهلاك الوقود الأحفوري
صعوبة التدوير

إعادة تدوير البوليمرات عملية صعبة الى حد ما (علل)

نظراً إلى العدد التنوع من البوليمرات المختلفة الموجودة

لا بد من فرز المواد البلاستيكية وفقاً لمكونات و عملية فرز المواد البلاستيكية طويلة

الرموز الموحدة لصناعة البلاستيك

يفضل وضع رموز موحدة على المنتجات البلاستيكية (علل)

لكي يوفر طريقة سهلة لإعادة تدوير وفرز المواد



PETE

البولي إيثيلين
رباعي فتالات



HDPE

البولي إيثيلين
مرتفع الكثافة



V

الفيثيل



LDPE

البولي إيثيلين
منخفض الكثافة



PP

البولي بروبيلين



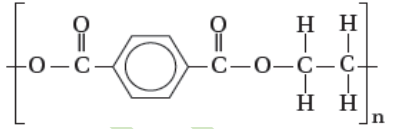
PS

بوليسترين



OTHER

المواد البلاستيكية
الأخرى

خيوط تشبه الحرير	1. النايلون (تكتف)
ألعاب الاطفال غير سام للأطفال -أوعية حفظ الأطعمة - تغليف اسلاك الكهرباء	2. البولي إيثيلين منخفض الكثافة (LDPE) (إضافة)
يتكون من جليكول الإيثيلين - عبوات المشروبات الغازية البلاستيكية، - اسلاك الإطارات، - - أشربة التسجيل، -الأدوات البديلة للأوعية الدموية -ألياف البوليستر لصناعة الملابس	3. بولي إيثيلين رباعي فتالات (PETE) (تكتيف) 
الأنايبب البلاستيكية -أوراق تغليف اللحم، مواد التتجيد،- الملابس المضادة للمطر، الألواح الجانبية المنازل، - خراطيم الماء	4. PVC (إضافة)  بولي كلوريد العنيدل
ومواد التتجيد- أقمشة الملابس - والسجاد	5. بولي اكريلونتريل (إضافة) 
تغليف الأطعمة - الأقمشة	6. بولي فينيلدين كلوريد (إضافة) 
عبوات المشروبات - الحبال،- الشبكات، -أدوات المطبخ	7. بولي بروبيلين (إضافة) 
(زجاج الأكريليك) للنوافذ- عدسات النظارات - التحف	8. ميثيل ميثاكريلات (إضافة) 
رغوة التغليف والعزل - وأصص النبات - وعبوات الأطعمة المخصصة للاستعمال مرة واحدة -وعمل النماذج (فلين)	9. بوليسترين (إضافة) 
وسائد الإسفنجية- الطلاء المضاد للماء، - الأحذية	10. بولي يورياثان (إضافة) 
أجهزة الوقود الكبيرة(علل) لأنه مقاوم للحرارة	11. البالكلايت
الأقراص المضغوطة	12. بولي كربونات (تكتيف)
مثل الصخر والخشب والمعادن والصوف والقطن.	13. بوليمرات طبيعية
مثل المطاط والبلاستيك السيليلويد	14. بوليمرات معالجة كيميائياً
يوفر سطح غير لاصق (التفلون اواني الطبخ)	15. بولي رباعي فلورو إيثيلين (PTFE)

نوع البلمرة	المونومر	الاسم	الصيغة
تكثيف	انظر ص 24	النايلون	$\left[\text{C}(=\text{O})-(\text{CH}_2)_4-\text{C}(=\text{O})-\text{NH}-(\text{CH}_2)_6-\text{NH} \right]_n$ <p style="text-align: center;">نايلون 6,6</p>
إضافة	حول الرابطة الأحادية بين ذرتي الكربون الى الرابطة الثنائية	بولي إثيلين	$\left(\begin{array}{cc} \text{H} & \text{H} \\ & \\ -\text{C} & - & \text{C}- \\ & \\ \text{H} & \text{H} \end{array} \right)_n$
تكثيف	انظر ص 24	بولي إيثيلين تيرفتالات	$\left[\text{O}-\text{C}(=\text{O})-\text{C}_6\text{H}_4-\text{C}(=\text{O})-\text{O}-\text{CH}_2-\text{CH}_2 \right]_n$
إضافة	حول الرابطة الأحادية بين ذرتي الكربون الى الرابطة الثنائية	بولي كلوريد الفينيل	$\left[\begin{array}{cc} \text{H} & \text{H} \\ & \\ -\text{C} & - & \text{C}- \\ & \\ \text{Cl} & \text{H} \end{array} \right]_n$ <p style="text-align: center;">بولي كلوريد الفينيل</p>
إضافة	حول الرابطة الأحادية بين ذرتي الكربون الى الرابطة الثنائية	بولي إكريلو نتريل	$\left[\text{CH}_2-\underset{\text{C}=\text{N}}{\text{CH}} \right]_n$
إضافة	حول الرابطة الأحادية بين ذرتي الكربون الى الرابطة الثنائية	بولي فينيلدين كلوريد	$\left[\text{CH}_2-\underset{\text{Cl}}{\text{C}} \right]_n$
إضافة	حول الرابطة الأحادية بين ذرتي الكربون الى الرابطة الثنائية	بولي بروبين	$\left[\text{CH}_2-\underset{\text{CH}_3}{\text{CH}} \right]_n$
إضافة	حول الرابطة الأحادية بين ذرتي الكربون الى الرابطة الثنائية	بولي ميثيل ميثاكريلات	$\left[\text{CH}_2-\underset{\text{CH}_3}{\overset{\text{O}}{\text{C}}}-\text{O}-\text{CH}_3 \right]_n$
إضافة	حول الرابطة الأحادية بين ذرتي الكربون الى الرابطة الثنائية	بوليسترين	$\left[\begin{array}{cc} \text{H} & \text{H} \\ & \\ -\text{C} & - & \text{C}- \\ & \\ \text{C}_6\text{H}_5 & \text{H} \end{array} \right]_n$
إضافة العملية معقدة الطالب غير مطالب بها	انظر ص 24	بولي يورايثان	$\left[\text{C}(=\text{O})-\text{NH}-\text{CH}_2-\text{CH}_2-\text{NH}-\text{C}(=\text{O})-\text{O}-\text{CH}_2-\text{CH}_2-\text{O} \right]_n$
تكثيف	انظر ص 24	بولي كربونات	$\left[\text{O}-\text{C}_6\text{H}_4-\text{C}(\text{CH}_3)_2-\text{C}_6\text{H}_4-\text{O}-\text{C}(=\text{O}) \right]_n$

تدريبات محلولة وغير محلولة

- 1- فسر الفرق بين البلمرة بالاضافة والبلمرة بالتكثيف في عملية البلمرة بالاضافة تبقى جميع ذرات المونمرات الداخلة في البوليمر الناتج . حين انه في عملية البلمرة بالتكثيف يشترك مونومران على الاقل لكل منهما مجموعتان وظيفيتان لتكوين البوليمر ويرافق ذلك فقدان جزيء صغير مثل الماء .
- 2- أي نوع من البوليمر أسهل في إعادة تدويره ، المتصلب الحراري أم البلاستيك الحراري ؟
- 3- ما المونمرات التي تتفاعل لتشكل كل من البوليمرات التالية :
أ . بولي إيثيلين

ب . بولي فينيل كلوريد (PVC)

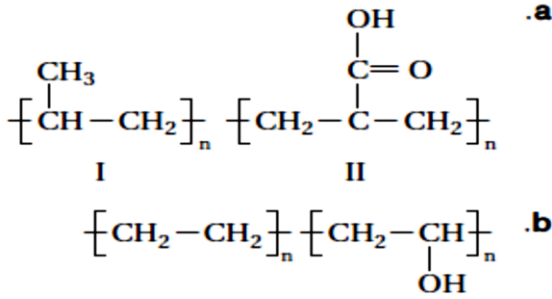
ج . بولي رباعي فلورو إيثيلين (PTFE)

4- سم البوليمرات المصنوعة من المونمرات الآتية:

الجواب بولي فينيلدين كلوريد $CCl_2=CH_2$

الجواب بولي فينيل كلوريد $H_2C=CHCl$

5- حدد البوليمر في كل من الأزواج الذي تتوقع انه يمتلك قابليه ذوبان اعلى في الماء.



6- ارسم الصيغ البنائية للبوليمرات ، ثم قرر ما اذا كانت تم تصنيع كل منها عن طريق البلمرة بالاضافة ام بالتكثيف .
النائلون : عملية بلمره بالتكثيف.

البولي اكريلونيتريل : عملية بلمره بالاضافة.

البولي يور إيثان : عملية بلمره الإضافة

البولي بروبيلين : عملية بلمره بالاضافة.

7- أذكر استخدامين لكل من البوليمرات الآتية:

البولي بروبيلين

البولي يور إيثان

بولي رباعي فلورو إيثيلين

بولي فينيل كلوريد

ارجع الجدول 14-3 للإجابة

٢٢. a. ارجع إلى دليل حلول المسائل.

b. ارجع إلى دليل حلول المسائل.

٢٣. إضافة ؛ لأنه تم الاحتفاظ بذرات المونومر جميعها في

البوليمر دون فقدان أي منها.

٢٤. لا تتعفن المواد الاصطناعية مثل المنتجات الطبيعية كالخشب

والقطن في كثير من الأحيان ولا تتآكل. وكذلك يسهل

إنتاج المواد الاصطناعية بالأشكال والحجوم المطلوبة، مثل

الأحجار الاصطناعية. كما أن المواد الاصطناعية عادة لا

تصدأ أو تتآكل مثل المعادن. أما العيوب فهي أن المنتجات

الهيكيلية الاصطناعية، مثل الخشب البلاستيكي ليست

صلبة، وتحتاج إلى المزيد من الدعم.

٢٥. يتصف البوليمر بملمس شمعي ، وقلة الذوبان في الماء،

ورداءة التوصيل الكهربائي ، بالإضافة إلى قلة النشاط

الكيميائي. ستكون من البلاستيك القابل للتشكل

(الثيرموبلاستيك). ويتكون من سلسلة طويلة من الألكان

مشابهة للبولي إيثيلين.