

في ضوء دراستك لمادة الأحياء أجب عن الأسئلة الآتية :  
 ١ - اختر أحد السؤالين (أ) أو (ب) ثم اكتب المصطلح العلمي الدال عليه :  
 (أ) عظمة تتحرك حركة نصف دائرية حول الزند الثابت.  
 (ب) مكان اتصال التفرعات النهائية لليفة عصبية بالصفائح النهائية الحركية  
 لليفة العصبية.

(أ) عظمة الكعبرة  
 (ب) الوصلة العصبية العصبية

٢ - اختر أحد السؤالين (أ) أو (ب) ثم اذكر ما المقصود به :  
 (أ) المتممات أو المكملات.  
 (ب) التحلل.

(أ) المتممات هي مجموعة متنوعة من البروتينات والإنزيمات تقوم بتدمير الميكروبات الموجودة بالدم بعد ارتباط الأجسام المضادة بها عن طريق تحليل الأنتيجينات الموجودة على سطحها وإذابة محتوياتها لتجعلها في متناول خلايا الدم البيضاء (البلعمية) كي تلتهمها وتقضى عليها

(ب) التحلل : اتحاد الأجسام المضادة مع الأنتيجينات يُنشئ بروتينات وإنزيمات خاصة (هي المتممات) فتقوم بتحليل أغلفة الأنتيجينات وإذابة محتوياتها فيسهل التخلص منها بواسطة الخلايا البلعمية

Mr.Moussa Alsayed

- ٣- اختر أحد السؤالين (أ) أو (ب) واكتب مكانه ووظيفته:
- (أ) نسيج الأندوسبيرم.
- (ب) قناة الاقتران في طحلب الاسبيروجيرا.

المكان	الوظيفة
(أ) نسيج الأندوسبيرم	يتغذى عليه الجنين في مراحل نموه الأولى
(ب) قناة الاقتران في طحلب الاسبيروجيرا	يتكور البروتوبلازم في خلايا أحد الخيطين ليهاجر عبرها إلى خلايا الخيط المقابل عبر قناة الاقتران مكوناً اللاقحة (٢ن)

## Mr.Moussa AlSayed

٤- اختر الإجابة الصحيحة فقط:

تتكون الأجسام القطبية أثناء تكوين البويضات في أنثى الإنسان في مرحلة....

- Ⓐ التضاعف.
- Ⓑ النضج.
- Ⓒ النمو.
- Ⓓ التشكل النهائي.

٥- علل لما يأتي:

تزداد أعداد الخلايا التائية المثبطة  $T_S$  بعد القضاء على الميكروبات.

لتفرز الليفوكينات التي تثبط أو تكبت الاستجابة المناعية أو تعطّلها وبذلك تتوقف الخلايا البلازمية عن إنتاج الأجسام المضادة وكذلك موت الكثير من الخلايا التائية المساعدة والسامة المنشطة

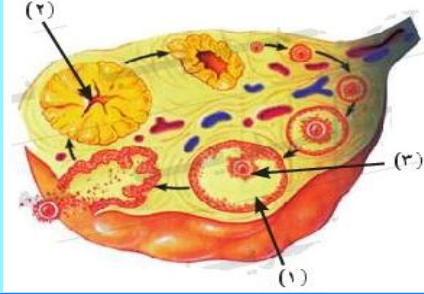
٦- ماذا يحدث عند:

اختفاء النوية من نواة خلايا حقيقيات النواة.

لن يتم بناء الريبوسومات وبالتالي عدم بناء البروتين وتتوقف الأنشطة والوظائف الحيوية وتموت هذه الخلايا

## Mr.Moussa AlSayed

٧- الشكل المجاور يوضح قطاع عرضي في مبيض أنثى الإنسان:



ادرسه ثم أجب عما يلي:

أولاً: ما أهمية التركيب رقم (١).

ثانياً: ماذا يحدث إذا صمّر التركيب رقم (٢)

قبل نهاية الشهر الثالث من الحمل.

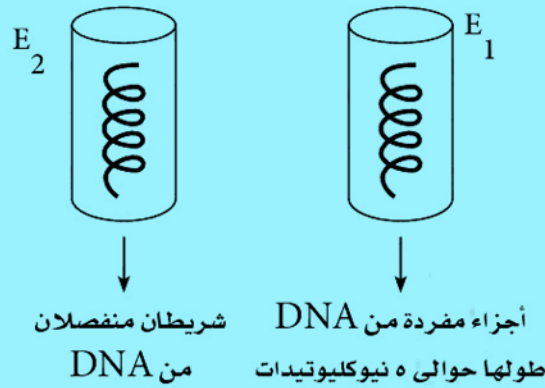
أولاً: التركيب (١) حويصلة جراف تفرز هرمون الاستروجين المسئول عن إنماء بطانة الرحم وإظهار الخصائص الجنسية الثانوية وتنظيم الطمث  
ثانياً: التركيب (٢) الجسم الأصفر ضموره قبل الشهر الرابع يسبب الإجهاض لغياب هرمون البروجسترون (وعدم تقدم نمو المشيمة التي تحل محله في إفراز البروجسترون)

٨- قارن بين:

هرموني LH، FSH من حيث تأثير كل منهما على ذكر الإنسان.

تأثير هرمون FSH في ذكر الإنسان	تأثير هرمون LH في ذكر الإنسان
تكوين الأنابيب المنوية والحيوانات المنوية في الخصية	تكوين الخلايا البينية في الخصية و إفرازاتها (هرمونات الذكورة)

٩- تم وضع جزئين من شرائط DNA متساوية الطول في أنبوبتين من أنابيب الاختبار وأضيف إلى كل منهما على حدة إنزيم مختلف  $E_1$ ،  $E_2$  كما هو موضح بالرسم.



- اذكر اسم الإنزيم المسئول  $E_1$ ،  $E_2$  في كل حالة مع التفسير.

الإنزيم  $E_1$  : هو إنزيم القصر لأنه حيث أنه يقطع DNA في مواقع محددة (مواقع التعرف) تاركاً نهايات مفردة الشريط

الإنزيم  $E_2$  : هو إنزيم اللولب حيث أنه يفصل شريطي DNA بكسر الروابط الهيدروجينية بين القواعد المتزاوجة في الشريطين

Mr.Moussa AlSayed

١٠- اختر أحد السؤالين (أ) أو (ب) ثم:

علل:

(أ) حدوث شد عضلي زائد عن الحد لشخص ما.

(ب) تعتبر الوحدة الحركية هي الوحدة الوظيفية للعضلة الهيكلية.

(أ) يحدث الشد العضلي بسبب تناقص جزيئات ATP في العضلة يسبب عدم انفصال الروابط المستعرضة عن خيوط الأكتين فتظل مرتبطة بها وتستمر العضلة في حالة انقباض مما يسبب الشد العضلي المؤلم

(ب) الوحدة الحركية هي الوحدة الوظيفية للعضلة الهيكلية لأن انقباض العضلات ما هو إلا محصلة لانقباض جميع الوحدات الحركية المكونة للعضلة

Mr.Moussa Alsayed

١١- اختر الإجابة الصحيحة فقط مما يأتي:

تقوم الخلايا التائية المساعدة المنشطة  $T_H$  بإفراز عدة أنواع من بروتينات تسمى .....

Ⓐ السيتوكينات.

Ⓑ الإنترليوكينات.

Ⓒ البيرفورين.

Ⓓ الليمفوكينات.

١٢ - فسر ما يأتي:

يصاب ذكر الإنسان بالعقم لو تعطل خروج الخصيتين من تجويف البطن.

لأن وجود الخصيتين خارج تجويف الجسم في الإنسان يهيء انخفاض درجة حرارتهما عن حرارة الجسم بما يناسب تكوين الحيوانات المنوية تعطل خروجهما يوقف إنتاج المنى فيهما مما يسبب العقم

١٣ - ماذا يحدث عند:

غياب مجموعة الألكيل الموجبة من الحمضين الأمينيين الأرجنين والليسين للبروتينات الهستونية.

لن ترتبط البروتينات الهستونية بقوة بجزيئات DNA ولن تتكون النيوكليوسومات التي تعمل على تقصير DNA عشر مرات وبالتالي لن تستوعبه النواة

## Mr.Moussa AlSayed

١٤ - اذكر المصطلح العلمي الدال على العبارة الآتية:

هرمون يحفز نضج الخلايا الليمفاوية الجذعية إلى الخلايا التائية T وتمايزها إلى أنواعها المختلفة.

**هرمون التيموسين**

١٥ - اذكر مثالين لكائنات حية تكون خلاياها الجسدية أحادية المجموعة الصبغية (ن).

الخلايا الجسدية لذكر نحل العسل (ن)  
الخلايا الجسدية لخيط طحلب الاسبيروجيرا (ن)  
الخلايا الجسدية للنبات المشيجي للفوجير (ن)

١٦- اختر أحد السؤالين (أ) أو (ب) ثم:

قارن بين:

أ- تكون الفللين وتكوين التيلوزات.


ب- التراكيب المناعية الخلوية والتربية النباتية.

تكوين التيلوزات	تكوين الفللين
عبارة عن نموات زائدة تنشأ نتيجة تمدد الخلايا البرانشيمية المجاورة لقصبية الخشب وتمتد داخل هذه القصبية من خلال النقر وتتكون التيلوزات نتيجة تعرض الجهاز الوعاني للقطع أو غزو الكائنات الممرضة حتى تعيق تحرك هذه الكائنات إلى الأجزاء الأخرى من النبات	يتكون الفللين لكي يعزل المناطق التي تعرضت للقطع أو التمزق نتيجة لـ: <ul style="list-style-type: none"> <li>☐ نمو النبات في السمك</li> <li>☐ جمع الثمار</li> <li>☐ سقوط الأوراق في الخريف</li> <li>☐ تعدى الإنسان أو الحيوان وهذا يمنع دخول الممرض للنبات</li> </ul>

التربية النباتية	التراكيب المناعية الخلوية
انتاج سلالات نباتية مقاومة للأمراض والحشرات من خلال التربية النباتية أو استخدام الهندسة الوراثية	تحدث بعض التغيرات الشكلية نتيجة للغزو مثال : <ul style="list-style-type: none"> <li>☐ انتفاخ الجدر الخلوية لخلايا كل من البشرة وتحت البشرة أثناء الاختراق المباشر للكائن الممرض مما يؤدي إلى تثبيط اختراقه لتلك الخلايا</li> <li>☐ إحاطة خيوط الغزل الفطري المهاجمة للنبات بغلاف عازل يمنع انتقال هذا الغزل من خلية لأخرى</li> </ul>

## Mr.Moussa AlSayed

١٧- وضح بالرسم فقط مع كتابة البيانات تركيب جزيء mRNA.



١٨- اذكر مكان ووظيفة الخلايا العصبية المفرزة.

المكان	الوظيفة
توجد في منطقة تحت المهاد بالمخ	تفرز هرمونات الجزء العصبي (الخلفي) للغدة النخامية وتصل هذه الهرمونات إلى الفص الخلفي

Mr.Moussa AlSayed

١٩- اختر أحد السؤالين (أ) أو (ب) ثم اكتب المصطلح العلمي الدال عليه:

(أ) هو كل الجينات وبالتالي كل DNA الموجود في الخلية.

(ب) تغير في التركيب الكيميائي للجين.

(أ) المحتوى الجيني

(ب) الطفرة الجينية

٢٠- اختر أحد السؤالين (أ) أو (ب) ثم وضع دوره:

(أ) المحاليق في البازلاء.

(ب) أيونات الكالسيوم في الانقباض العضلي.

(أ) المحاليق في البازلاء : تدور في الهواء حتى تلمس جسماً صلباً تلتف حوله وتوثق التصاقها به ثم يتموج ما بقي منها في حركة لولبية فينقص طولها فيقترب الساق من الدعامة فيستقيم رأسياً.

(ب) أيونات الكالسيوم في الانقباض العضلي :

١- خروج النواقل العصبية (الأسيتيل كولين ) من حويصات التشابك لتسبح حتى تصل إلى سطح

الليفة العضلية فتزيد من نفاذيته لأيونات الصوديوم مسببة انقباض العضلة

٢- تكوين الروابط المستعرضة التي تمتد من الميوسين للالتصاق بالأكتين فتعمل كخطاطيف تسحب

بمساعدة الطاقة المخزنة في ATP خيوط الأكتين نحو بعضها مسببة انقباض العضلة





٢٤- ما أهمية تهجين الحمض النووي DNA؟

- (أ) الكشف عن وجود جين معين داخل المحتوى الجيني وكميته ويتم ذلك كالتالي :
- ١- يحضر شريط مفرد لتتابع النيوكليوتيدات يتكامل مع أحد أشرطة الجين محل الدراسة وذلك باستخدام النظائر المشعة (حتى يسهل التعرف على هذا الشريط بعد ذلك )
  - ٢- يخلط هذا الشريط مع جينات المحتوى الجيني
  - ٣- ترفع درجة الحرارة إلى ١٠٠ م ثم يبرد الخليط بهدف الحصول على DNA هجين (أحد الشريطين طبيعي والشريط المتكامل معه صناعي مشع)
  - ٤- يستدل على وجود الجين وكميته بالسرعة التي تتكون بها اللوالب المزدوجة المشعة
- (ب) تحديد العلاقات التطورية بين الأنواع المختلفة :
- كلما تشابه تتابع نيوكليوتيدات DNA بين نوعين من الكائنات الحية وزادت درجة التهجين بينهما كلما كانت العلاقة التطورية أقرب بينهما

٢٥- التتابع التالي يوضح ترتيب القواعد النيتروجينية على أحد شريطي جزئي DNA.

3.....T A C G T G G A G T G A A T T..... 5

أولاً: اكتب تتابع النيوكليوتيدات على شريط mRNA المنسوخ من هذه القطعة.

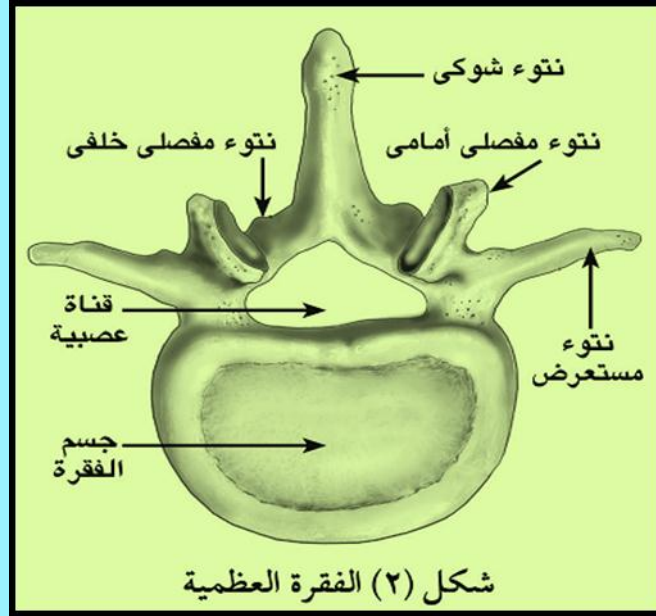
ثانياً: حدد عدد الأحماض الأمينية في سلسلة عديد الببتيد التي سيتم بناؤها.

أولاً : mRNA 5 ....AUG CAC CUC ACU UAA .....3

ثانياً : عدد الأحماض الأمينية ؛ لوجود كودون وقف هو UAA

Mr.Moussa AlSayed

٢٦- وضح بالرسم فقط مع كتابة البيانات تركيب فقرة عظمية قطنية في الإنسان.



٢٧- الشكل البياني المقابل يوضح تركيز الأجسام المضادة في سوائل الجسم.

ادرسه ثم أجب عما يلي:



أولاً: ما نوع الخلايا المسئولة عن الاستجابة المناعية الأولية؟ وما نوع الخلايا المسئولة عن الاستجابة المناعية الثانوية؟

ثانياً: ما الزمن الذي يستغرقه كل منهما؟

أولاً: الخلايا المسئولة عن الاستجابة المناعية الأولية هي الخلايا البائية B والتائية T أما الخلايا المسئولة عن الاستجابة المناعية الثانوية فإنها الخلايا البائية B الذاكرة والتائية T الذاكرة التي اختزنّت معلومات عن الأنتيجين خلال الاستجابة المناعية الأولية ثانياً: الاستجابة الأولية تستغرق ما بين ٥ - ١٠ أيام كي تصل إلى أقصى إنتاجها من الخلايا البائية والتائية أثناء هذا الوقت يمكن أن تصبح العدوى واسعة الانتشار و تظهر أعراض المرض أما الاستجابة المناعية الثانوية تكون سريعة جداً إلى الدرجة التي (غالباً) ما يتم فيها تدمير الكائن الممرض قبل أن تظهر أعراض المرض

٢٨- اختر أحد السؤالين (أ) أو (ب) ثم:

علل :

(أ) انقسام النواة المولدة في أنبوبة اللقاح ميتوزياً.

(ب) ثمرة التفاح ثمرة كاذبة.

(أ) تنقسم النواة المولدة ميتوزياً لتكوين نواتين ذكريتين (ن)

٣- تنتقل النواتان الذكريتان إلى البويضة ليحدث الإخصاب المزدوج :

أ- تندمج إحدى النواتين الذكريتين (ن) مع نواة البويضة (ن) لتكوين الزيجوت (٢ن) الذي ينقسم مكوناً

الجنين وتندمج النواة الذكرية الثانية (ن) مع النواة الناتجة من اندماج نواتا الكيس الجنيني (٢ن)

لتكوين نواة الاندوسبيرم (٣ن) التي تنقسم لتعطي نسيج الاندوسبيرم لتغذية الجنين في مراحل

نموه الأولى

(ب) ثمرة التفاح كاذبة لأنه يتشحم بالغذاء فيها جزء غير المبيض وهو التخت وهو الجزء الذي يؤكل

٢٩ - اختر الإجابة الصحيحة فقط مما يلي:

يرجع تمدد الأوعية الدموية عند حدوث جرح بالجسم إلى إفراز كميات من

مادة...

● الهستامين.

Ⓐ الكيموكينات.

Ⓑ البيرفورين.

Ⓒ السيتوكينات.

٣٠- ماذا يحدث عند:

غياب الروابط المستعرضة الممتدة من خيوط الميوسين من الليفة العضلية.

لن تنقبض الليفة العضلية لعدم سحب المجموعات المتجاورة من خيوط الأكتين في اتجاه بعضها

البعض حيث أن الروابط تعمل كخطاطيف تسحب (بمساعدة الطاقة المخزنة في جزيئات ATP)

المجموعات المتجاورة من خيوط الأكتين باتجاه بعضها البعض فتنبض الليفة العضلية

٣١- ما هي النتائج المترتبة على:

استهلاك نسيج الإندوسبرم أثناء نمو جنين البذرة.

يخزن النبات غذاء آخر للجنين في فلقتين وتتكون بذرة لإندوسبيرمية وتتصلب أغلفة البويضة لتكوين القصرة (غلاف البذرة) وتسمى بذرة أما جدار المبيض فيتحول إلى غلاف الثمرة

٣٢- اكتب المصطلح العلمي الدال على:

بروتين تنتجه خلايا الأنسجة المصابة بالفيروسات.

**الانترفيرون**

٣٣- ماذا يحدث إذا:

حدث خلل بين الهرمونات الجنسية التي تفرزها قشرة الغدة الكظرية والهرمونات الجنسية التي تفرزها المناسل.

ظهور عوارض الرجولة في النساء وعوارض الأنوثة في الرجال وتورمات في قشرة الغدة مسببة ضمور الغدد الجنسية في كلا الجنسين

**Mr.Moussa AlSayed**

٣٤- اختر أحد السؤالين (أ) أو (ب) ثم:

قارن بين كل من:

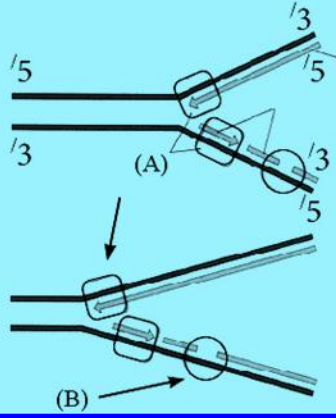
أ- الخلايا الليمفاوية البائية والخلايا القاتلة الطبيعية (NK) من حيث

الوظيفة.

ب- الإنتيجينات والمستقبلات المناعية من حيث المكان.

وظيفة الخلايا القاتلة الطبيعية (NK)	وظيفة الخلايا الليمفاوية البائية (B)
لها القدرة على مهاجمة خلايا الجسم المصابة بالفيروس والخلايا السرطانية وتقتضى عليها عن طريق إنزيمات تفرزها هذه الخلايا القاتلة	التعرف على أى ميكروب أو مواد غريبة عن الجسم (مثل البكتيريا أو الفيروس) فتلتصق بهذا الجسم الغريب وتنتج أجساماً مضادة له لتقوم بتدميره
المستقبلات المناعية	الأنتيجينات
مركبات توجد على سطح الخلايا المناعية كالبائية والتائية من خلالها تتعرف الخلايا البائية الأنتيجينات الموجودة على الأجسام والمكونات الغريبة عن الجسم	مركبات توجد على سطح البكتيريا التي تغزو الأنسجة وتسمى (مولدات الضد أو المستضدات) تتعرف الخلايا البائية على هذه الأجسام والمكونات الغريبة عن الجسم (الأنتيجينات) عن طريق ارتباط المركبات الموجودة على سطحها والتي يطلق عليها المستقبلات بتلك الأنتيجينات

Mr.Moussa AlSayed



٣٥- الشكل المقابل يمثل إحدى العمليات الحيوية الهامة للخلية .

أولاً: ما اسم هذه العملية. وما أهميتها؟

ثانياً: اكتب ما يدل عليه الرمز (A) ووظيفة الرمز (B).

أولاً : العملية هي تضاعف DNA

أهميتها : تحدث قبل أن تبدأ الخلية في الانقسام حتى تستقبل كل خلية جديدة نسخة طبق الأصل من المعلومات الوراثية الخاصة بالخلية الأم

ثانياً : الرمز (A) يعبر عن إنزيم البلمرة والرمز (B) يعبر عن إنزيم الربط ووظيفته :

١- له دور في تضاعف DNA بربط القطع الصغيرة في الشريط الجديد ٣ ← ٥

٢- يقوم بإصلاح تلف DNA بالتعرف المناطق في جزئ DNA واستبدالها بنيوكليوتيدات تتزوج مع تلك الموجودة على الشريط المقابل في الجزئ التالف

٣- له دور في استنساخ DNA بربط النهايات اللاصقة لكل من الجين والبلازميد

٣٦- ما مصير كل مما يأتي بعد حدوث عملية الإخصاب في النبات.

أولاً: جدار المبيض.

ثانياً: أغلفة البويضة.

أولاً : جدار المبيض بعد الإخصاب يصبح غلافاً للثمرة

ثانياً : أغلفة البويضة بعد الإخصاب تتصلب مكونة القصرة (غلاف البذرة)

لاحظ: في ذات الفقلة الواحدة مثل القمح تلتحم أغلفة المبيض مع أغلفة البويضة لتكوين ثمرة بها بذرة واحدة تسمى (حبة)

Mr.Moussa AlSayed

٣٧- اختر أحد السؤالين (أ) أو (ب) ثم اكتب المصطلح العلمي الدال لكل عبارة مما يلي:

(أ) غشاء يحيط بالجنين ويحتوي على سائل يحمي الجنين من الجفاف وتحمل الصدمات.

(ب) مرحلة تتحول فيها الطلائع المنوية إلى حيوانات منوية.

(أ) غشاء الرهل (الأميون)  
(ب) مرحلة التشكل النهائي

٣٨- كيف يمكن الحصول على شريط DNA مزدوج من mRNA.

- ١- يتم عزل mRNA من الخلايا التي يكون فيها الجين (المراد مضاعفته) نشطاً مثل : أ- خلايا البنكرياس التي تكون الأنسولين .  
ب- الخلايا المولدة لكرات الدم الحمراء التي تكون الهيموجلوبين .
- ٢- يتم استخدام mRNA كقالب لبناء شريط DNA الذي يتكامل معه وذلك باستخدام إنزيم النسخ العكسي .
- ٣- يتم بناء الشريط المتكامل مع شريط DNA المتكون باستخدام إنزيم البلمرة فنحصل على لولب مزدوج من DNA يمكن مضاعفته (استنساخه)

٣٩- ما النتائج المترتبة على:

انخفاض مستوى المتك عن مستوى الميسم في الزهرة.

تلجأ الزهرة للتلقيح الخلطي

Mr.Moussa AlSayed



٤٠- اختر الإجابة الصحيحة فقط مما يلي:

تتكون لاقحة بلازموديوم الملاريا في .....

- ١) دم المصاب.  
 ٢) تجويف معدة البعوضة.  
 ٣) الغدد اللعابية للبعوضة.  
 ٤) جدار معدة البعوضة.

٤١- ماذا يحدث إذا:

كان شريطا ال DNA غير متعاكسي الاتجاه.

لن تتكون الروابط الهيدروجينية بين القواعد النيتروجينية في الشريطين وبالتالي لن يتكون اللولب المزدوج

٤٢- ما الفرق بين التوالد البكري في كل من نحل العسل وحشرة المن.

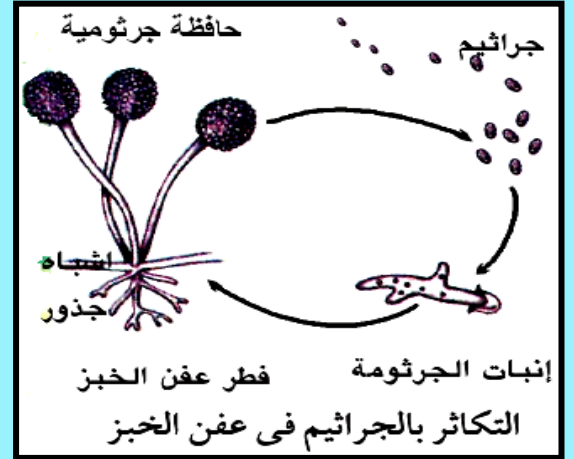
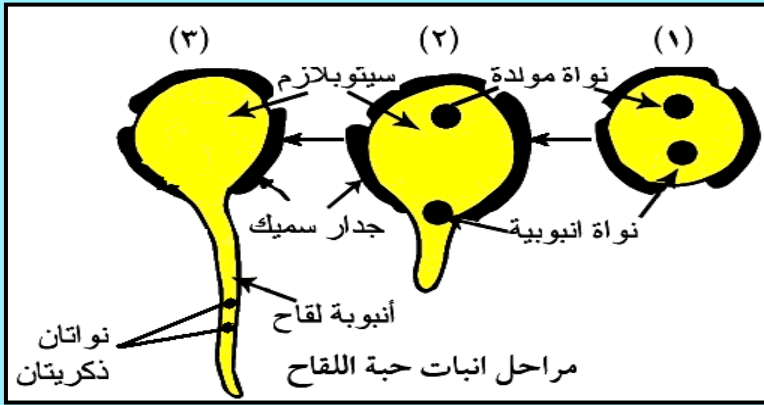
التوالد البكري في نحل العسل : تنتج الملكة بويضاتها بالانقسام الميوزي فتكون البويضات أحادية المجموعة الصبغية (ن) فينمو بعضها بدون إخصاب مكونة ذكور(ن)  
 التوالد البكري في حشرة المن : تنتج الحشرة بويضاتها بالانقسام الميوزي فتكون البويضات ثنائية المجموعة الصبغية (٢ن) تنمو إلى إناث(٢ن)

Mr.Moussa AlSayed

٤٣- اختر أحد السؤالين (أ) أو (ب) ثم وضع بالرسم فقط مع كتابة البيانات:

(أ) مراحل إنبات حبة اللقاح.

(ب) التكاثر بالجراثيم في عفن الخبز.



٤٤- افحص الشكل التالي الذي يمثل عظام الحوض في الإنسان.

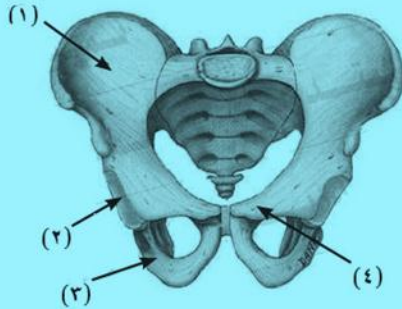
ادرسه ثم أجب عن:

أولاً: ما هي الأرقام التي تدل على تركيب

عظام الحوض وأسمائها.

ثانياً: ما اسم العظمة التي تتم فصل

مع رقم (٢)

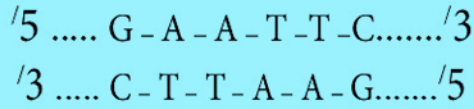


أولاً: عظام الحوض: الحرقفة رقم (١) - الورك رقم (٣) - العانة رقم (٤)  
ثانياً: العظمة التي تتم فصل مع رقم (٢) عظمة الفخذ حيث يستقر رأس عظم الفخذ في التجويف الحقي مكوناً مفصل الفخذ

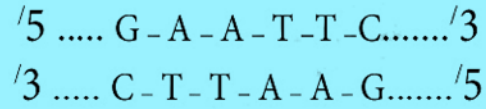
Mr.Moussa AlSayed

٤٥- إذا كان لديك قطعتان من جزيء DNA هما:

(ب)



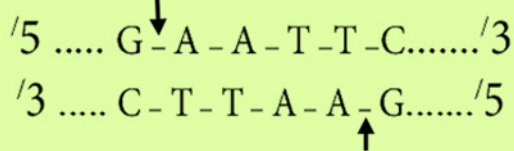
(i)



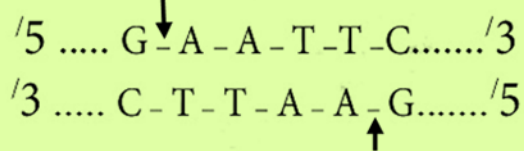
أولاً: وضح مواقع التعرف لإنزيم القطع على كل من الجزئين (أ) و(ب) باستخدام الأسهم.

ثانياً: وضح بالرسم فقط تأثير إنزيم القطع على الشرائط الناتجة؟

(ب)

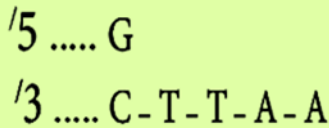


(i)

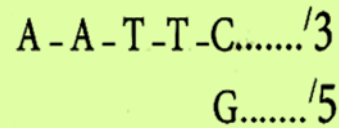


أولاً

(ب)



(i)



ثانياً

الأستاذ / موسى السيد خبير تدريس الأحياء والجيولوجيا  
ت / ٠١٠٩٩٣٧٨٢٠٦

أجب عن الأسئلة الآتية:

1. أختَر الإجابة عن أحد السؤالين ( أ ) أو ( ب )

أكتب المصطلح العلمي لإحدى العبارتين الآتيتين:

- (أ) تتابع للنوكليوتيدات علي DNA يرتبط به إنزيم بلمرة RNA عند نسخ جزيء m-RNA .  
 (ب) وسيلة عملية تستخدم لعزل قطع DNA (أو الجينات ) التي تم تكوينها عن طريق مضاعفة نسخة منها باستخدام البلازميدات.

(أ) المحفز (ب) الطرد المركزي المفرق

2. أختَر الإجابة عن أحد السؤالين ( أ ) أو ( ب )

علل لإحدى العبارتين:

- (أ) تقل قدرة التكيف مع البيئة للأفراد التي تتكاثر لاجنسياً .  
 (ب) يتواجد فطر عفن الخبز في مختلف البيئات.

(أ) لأن الفرد يتسلم مادته الوراثية من أب واحد فيصبح صورة طبق الأصل منه فتستمر صفات الأجيال الناتجة متشابهة فلا تستطيع التكيف مع تغير الظروف ما لم تكن أبواها قد تأقلمت على ذلك

(ب) لأن جراثيم الفطريات كعفن الخبز ماحاطة بجدار سميك يجعلها تتحمل الظروف القاسية كما أنها تتميز بسرعة التكاثر والانتشار لسافات بعيدة التغيير

3. أختَر الإجابة عن أحد السؤالين ( أ ) أو ( ب )

- (أ) اذكر دور الروابط المستعرضة في الليفة العضلية.  
 (ب) اذكر دور إنزيم الكولين أستيريز في الليفة العضلية.

(أ) الروابط المستعرضة تمتد من خيوط الميوسين وتتصل بخيوط الأكتين تعمل كخطاطيف تسحب (بمساعدة الطاقة المخزنة في جزيئات ATP) المجموعات المتجاورة من خيوط الأكتين باتجاه بعضها البعض فتقبض الليفة العضلية التغيير

(ب) إنزيم الكولين استريز متوافر في نقاط الاتصال العصبي العضلي يحطم مادة الأستيل كولين (يحوله إلى كولين وحمض خليك) فيبطل عمله وتعود نفاذية غشاء الليفة العضلية إلى وضعها الطبيعي في حالة الراحة (قبل استقبال السيال العصبي ) وتكون مستعدة لحفز عصبي جديد

4. ما النتائج المترتبة على خلو الزهرة من أوراق التويج ( البتلات ) في نبات ذو فلقنتين؟

لن يتم حماية الأجزاء الجنسية للزهرة فتتعرض للتلف ولن يتم جذب الحشرات لإتمام عملية التلقيح مما يؤثر في اتمام عملية التكاثر

Mr.Moussa AlSayed

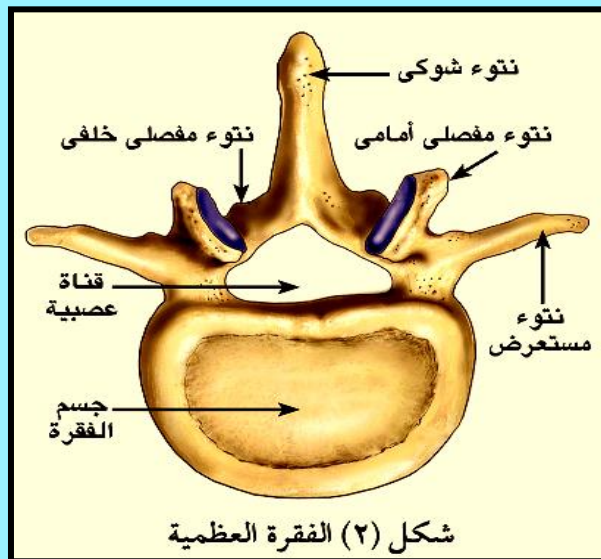
5. قارن وظيفة كل من جزيء m.RNA وجزيء t.RNA في عملية تخليق البروتين.

وظيفة جزيء m.RNA	وظيفة جزيء t.RNA
نقل الشفرة الوراثية من DNA داخل النواة إلى الريبوسومات في السيتوبلازم حيث يُترجمها إلى تتابع للأحماض الأمينية في سلسلة عديد الببتيد الذي يكون بروتيناً معيناً	نقل الأحماض الأمينية إلى الريبوسومات حيث يكون لكل حمض أميني نوع خاص من tRNA يقوم بنقله و الأحماض الأمينية التي لها أكثر من شفرة يكون لها أكثر من نوع من tRNA (لذا يكون عدد tRNA أكثر من عشرين)

6. أختَر الإجابة الصحيحة:  
تتعرّف الخلايا التائية المساعدة  $T_H$  على أنتجين من خلال ..... المرتبط معه على سطح الخلية البلعمية الكبيرة.

- أ خلايا الذاكرة  
ب بروتين التوافق النسيجي  
ج نواة الخلية  
د الجسم المضاد

7. وضح بالرسم مع كتابة البيانات تركيب الفقرة العظمية .



Mr.Moussa AlSayed

8. قارن بين : الخلايا القاتلة الطبيعية NK ، الخلايا الليمفاوية البائية B من حيث الوظيفة ونسبة كل منهما في الخلايا الليمفاوية .

الخلايا الليمفاوية البائية (B)	الخلايا القاتلة الطبيعية (NK)
تمثل من ١٠ - ١٥ ٪ من الخلايا الليمفاوية	تمثل من ٥ - ١٠ ٪ من الخلايا الليمفاوية
التعرف على أى ميكروب أو مواد غريبة عن الجسم (مثل البكتيريا أو الفيروس) فتلتصق بهذا الجسم الغريب وتنتج أجساماً مضادة له لتقوم بتدميره	لها القدرة على مهاجمة خلايا الجسم المصابة بالفيروس والخلايا السرطانية وتقضى عليها عن طريق إنزيمات تفرزها هذه الخلايا القاتلة

9. فسر العبارة التالية:-  
يختلف حدوث التوالد البكري في حشرة النحل عنه في حشرة المن .

التوالد البكري في نحل العسل : تنتج الملكة بويضاتها بالانقسام الميوزى فتكون البويضات أحادية المجموعة الصبغية (ن) فينمو بعضها بدون إخصاب مكونة ذكور(ن)  
التوالد البكري في حشرة المن : تنتج الحشرة بويضاتها بالانقسام الميوزى فتكون البويضات ثنائية المجموعة الصبغية (٢ن) تنمو إلى إناث(٢ن)

## Mr.Moussa AlSayed

10. أختر الإجابة عن ( أ ) أو ( ب ) :  
(أ) ما النتائج المترتبة على : زيادة إفراز هرمون النمو لزميل لك في نفس عمرك ؟  
(ب) ما النتائج المترتبة على : حدوث خلل في التوازن بين الهرمونات الجنسية المفترزة من قشرة الغدة الكظرية والمفترزة من المناسل؟

(أ) زيادة إفراز هرمون النمو في البالغين يسبب [الأكروميغالي] وهى تجديد نمو الأجزاء البعيدة في العظام الطويلة كالأيدي والأقدام والأصابع و تضخم عظام الوجه

(ب) ظهور عوارض الرجولة في النساء وعوارض الأنوثة في الرجال وتورمات في قشرة الغدة مسببة ضمور الغدد الجنسية في كلا الجنسين

أختر الإجابة الصحيحة:

في جزيء DNA ، ترتبط القواعد النيتروجينية بسكر الديوكسى ريبوز بروابط.....

أ هيدروجينية

ب تساهمية

ج أيونية

د قطبية

12. ماذا يحدث في حالة التناقص المستمر لجزيئات ATP في العضلة المجهدة.

تتوقف جزيئات ATP في العضلة بسبب عدم انفصال الروابط المستعرضة عن خيوط الأكتين فتظل مرتبطة بها وتستمر العضلة في حالة انقباض مما يسبب الشد العضلي المؤلم كما يمكن أن يتسبب الشد العضلي الزائد عن الحد في تمزق العضلات و حدوث نزيف دموي

13. فسر ما يلي : يتوقف المبيضين عن التبويض خلال فترة الحمل.

يتوقف المبيضين عن التبويض خلال فترة الحمل بسبب إفراز كل من الجسم الأصفر والمشيمة لهرمون البروجسترون الذي يمنع التبويض فتتوقف الدورة الشهرية لما بعد الولادة

14. وضح كيف ترتبط الأحماض الأمينية ببعضها أثناء عملية الترجمة لتكوين سلسلة عديد الببتيد ، ثم اذكر مكان حدوث ذلك .

ترتبط الأحماض الأمينية معاً بروابطة ببتيدية في تفاعل نازع للماء بواسطة إنزيم ينشط هذا التفاعل هذا الإنزيم عبارة عن جزء من تحت وحدة الريبوسوم الكبيرة ويتم ذلك في تحت وحدة الريبوسوم الكبرى

15. ما العوامل التي تؤدي إلى حدوث التلقيح الخلطي في النباتات الزهرية ؟

عوامل التلقيح الخلطي في النباتات الزهرية :

- ١- أن تكون الأزهار وحيدة الجنس.
- ٢- أو تكون الزهرة خنثى بشرط : أ) نضج أحد شقي الأعضاء الجنسية قبل الآخر .  
ب) انخفاض مستوى المتك عن مستوى المياسم.

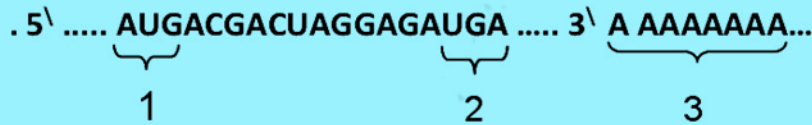
Mr.Moussa AlSayed

أختر الاجابة عن ( ا ) أو ( ب ) :  
 أذكر مكان إفراز ووظيفة أحد الهرمونين الآتيين:  
 (أ) هرمون الكوليسيستوكينين .  
 (ب) هرمون الريلاكسين.

الهرمون	مكان الافراز	الوظيفة
الكوليسيستوكينين	يفرز من الأمعاء الدقيقة	وينقل عبر الدم إلى البنكرياس ليحثانه على إفراز العصارة البنكرياسية
الريلاكسين	يفرزه من المشيمة والرحم	ويسبب ارتخاء الارتفاق العاني عند نهاية فترة الحمل لتسهيل عملية الولادة

## Mr.Moussa AlSayed

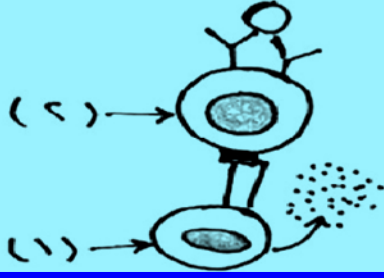
17. في إحدى التجارب الخاصة بفحص عملية بناء للبروتين في خلية حيوانية ، عند نسخ جزيء m.RNA من شريط DNA ، وجد أن هذا الجزيء يتكون من التتابع الآتي :



أولاً: أكتب البيانات رقم 1 و2.  
 ثانياً: ما وظيفة التتابع رقم 3؟  
 ثالثاً: كم عدد الأحماض الأمينية الناتجة عن ترجمة هذا الشريط؟

أولاً: رقم (١) يعبر عن كودون البدء  
 رقم (٢) يعبر عن كودون الوقف  
 ثانياً : التتابع رقم (٣) هو ذيل عديد الأدينين ويعمل هذا الذيل على حماية mRNA من التحلل بواسطة الإنزيمات الموجودة في السيتوبلازم  
 ثالثاً: عدد الأحماض الأمينية الناتجة من ترجمة هذا الشريط (٥) أحماض





18. ادرس الشكل المقابل ثم أجب :

أولاً: ما نوع المستقبل على سطح الخلية رقم (1)؟

ثانياً: ما اسم الخلية رقم (2)؟

ثالثاً: كيف تقوم الخلية رقم (1) بتنشيط الخلية رقم (2)؟

رابعاً: ماذا يحدث عندما تنشط الخلايا رقم (2)؟

أولاً : نوع المستقبل على سطح الخلية ( ١ ) هو  $CD_4$

ثانياً : اسم الخلية رقم ( ٢ ) : الخلية الليمفاوية البائية (B)

ثالثاً : تقوم الخلية التائية المساعدة النشطة بإطلاق انترليوكينات تقوم بتنشيط الخلايا البائية (B)

التي تحمل على سطحها الأنتيجينات المرتبطة مع بروتين التوافق النسيجي MHC

رابعاً : تبدأ الخلايا البائية B المنشطة عملها بالإنقسام والتضاعف وتتمايز في النهاية إلى خلايا

ليمفاوية بائية ذاكرة (تبقى خلايا الذاكرة لمدة طويلة ( ٢٠ - ٣٠ سنة ) في الدم لتتعرف على نوع

الأنتيجين السابق ) والعديد من الخلايا البائية البلازمية التي تنتج كميات كبيرة من الأجسام

المضادة التي تدور عبر الأوعية الليمفاوية ومجري الدم لتحارب العدوى

19. اختر الاجابة عن ( ا ) أو ( ب ) :

أكتب المصطلح العلمي الذي تعبر عنه أحد العبارتين الأتيتين:

(أ) تفاعل دفاعي غير تخصصي حول مكان الإصابة نتيجة تلف الأنسجة الناتج عن الإصابة أو العدوي.

(ب) عقد صغيرة من الخلايا الليمفاوية تتجمع على شكل لطع تنتشر في الغشاء المبطن للجزء السفلي من الامعاء الدقيقة.

(أ) الاستجابة بالالتهاب

(ب) بقع باير

20. اختر الاجابة عن ( ا ) أو ( ب ) :

(أ) عرف : الأجسام المضادة.

(ب) ما وظيفة المستقبلات النباتية؟

(أ) الأجسام المضادة هي جلوبولينات مناعية عبارة عن مواد بروتينية تأخذ شكل حرف Y تنتجها

الخلايا الليمفاوية البائية مُصممة لتضاد الأجسام الغريبة عن الجسم الموجودة في سوائل الجسم

كبلازما الدم والليمف حيث تقوم هذه الأجسام المضادة وجزئيات المتممات بالالتصاق بالبكتيريا

لتجعلها في متناول خلايا الدم البيضاء الأخرى كي تلتهمها وتقضي عليها

(ب) المستقبلات النباتية : توجد في النباتات السليمة والمصابة على حد سواء إلا أن تركيزها

يزيد في النباتات عقب الإصابة

وظيفتها : تدرک وجود الميكروبات وتنشط دفاعات النبات بتحفيز وسائل جهاز المناعة الموروثة

في النبات

21. أختار الاجابة عن ( ا ) أو ( ب ) :

علل لأحد العبارتين الآتيتين:

- (أ) عند وصول النواقل العصبية إلى سطح غشاء الليفة العضلية، يتلاشى فرق الجهد على غشاء الليفة العضلية .  
(ب) تلعب أيونات الكالسيوم دور مهم في الانقباض العضلي .

(أ) لزيادة نفاذية غشاء الخلية لأيونات الصوديوم فتدخل بسرعة داخل غشاء الليفة العضلية مسببة انقباض العضلة وعندئذ يوصف غشاء الليفة العضلية بحالة اللااستقطاب

(ب) أيونات الكالسيوم في الانقباض العضلي :

- ١- خروج النواقل العصبية (الأسيتيل كولين ) من حويصات التشابك لتسبح حتى تصل إلى سطح الليفة العضلية فتزيد من نفاذيتها لأيونات الصوديوم مسببة انقباض العضلة  
٢- تكوين الروابط المستعرضة التي تمتد من الميوسين للالتصّل بالأكتين فتعمل كخطاطيف تسحب بمساعدة الطاقة المخزنة في ATP خيوط الأكتين نحو بعضها مسببة انقباض العضلة

## Mr.Moussa AlSayed

أختار الإجابة الصحيحة:

22.

توجد جزيئات بروتين التوافق النسيجي MHC في الخلايا .....

أ) متعددة النواة ووحيدة النواة

ب) البلازمية و  $T_H$  المساعدة

ج) وحيدة النواة و  $T_H$  المساعدة

د) البلعمية والليمفاوية B

23. ماذا يحدث عند تلف قاعدتين متجاورتين من القواعد النيتروجينية على نفس الشريط لجزئ DNA ؟

تقوم إنزيمات الربط بالتعرف على المنطقة التالفة في جزئ DNA وإصلاحها حيث تستبدلها بنيوكلئوتيدات تتزاوج مع تلك الموجودة على الشريط المقابل في الجزئ التالف

24. ماذا يحدث عند غياب إنزيم النسخ العكسي من بعض الفيروسات ذات المحتوى الجيني RNA ؟

لا تستطيع تحويل محتواها الجيني من RNA إلى DNA وبالتالي لن يرتبط بـ DNA لخلية العائل ولا يمكن تضاعفه

25. اختر الاجابة عن ( ا ) أو ( ب ):

(أ) حدد مكان ووظيفة الميسم

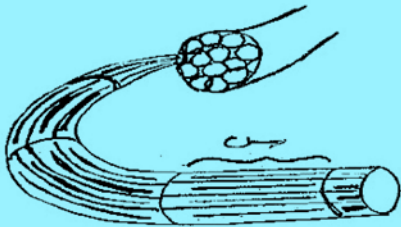
(ب) حدد مكان ووظيفة الأنثريديا .

المكان	الوظيفة
(أ) الميسم	قرص لزوج تلتصق عليه حبوب اللقاح
(ب) الأنثريديا	تنتج الأمشاج المذكرة وهي السابحات المهدبة التي تسبح فوق مياه التربة حتى تصل إلى الأرشجونيا الناضجة لإخصاب البويضة بداخلها مكونة اللاقحة (٢ن)

26. قارن بين الأنسولين والأدرينالين من حيث الوظيفة.

وظيفة الأنسولين	وظيفة الأدرينالين
يحافظ مع الجلوكاجون على مستوى ثابت من السكر في الدم (٨٠-١٢٠ ملليجرام/١٠٠ سم <sup>٣</sup> ) وظيفة الأنسولين خفض تركيز سكر الجلوكوز في الدم بطريقتين : ١- حث خلايا وأنسجة الجسم على أكسدة الجلوكوز حيث أنه ضروري لمرور السكريات الأحادية (عدا الفركتوز) من خلال غشاء الخلية إلى داخلها حتى يمكن استخدامه ٢- التحكم في علاقة الجليكوجين المخزن والجلوكوز المنفرد بالدم بتحويل الجلوكوز إلى جليكوجين أو دهون تخزن في الكبد والعضلات أو الأنسجة المختلفة	يهيئ الجسم في حالة الطوارئ (كالخوف والإثارة والقتال والهروب) بمساعدة عضلات الجسم للحصول على الطاقة اللازمة للانقباض وزيادة استهلاك الأكسجين عن طريق : ١- زيادة نسبة السكر في الدم بتحلل الجليكوجين المخزن في الكبد إلى جلوكوز ٢- زيادة قوة وسرعة انقباض القلب ورفع ضغط الدم

27. ادرس الشكل المقابل ، ثم وضح مكونات الجزء ( س ) المشار إليه بالشكل.



أ- الأقراص (المناطق) المضيق (I)	ب- الأقراص (المناطق) الداكنة (A)
يقطعها في منتصفها خط داكن (Z).	يوجد في منتصف كل منها منطقة شبه مضيق (H)
وتتكون من خيوط بروتينية رفيعة تسمى [أكتين]	وتتكون المناطق شبه المضيق من خيوط بروتينية سمكية تسمى [ميوسين]

28. أختَر الإجابة عن أحد السؤالين ( أ ) أو ( ب )

أكتب المصطلح العلمي .

(أ) نوع من الأنسجة الضامة تتكون من خلايا غضروفية توجد غالباً عند أطراف العظام وعند المفاصل .

(ب) حركة تحدث داخل كل خلية من خلايا الكائن الحي لإستمرار أنشطته الحيوية.

(أ) الغضاريف

(ب) الحركة الدائبة (كالحركة السيتوبلازمية)

29. أختَر الإجابة الصحيحة:

إذا كان عدد نيكليوتيدات البيورينات في جزيء DNA يساوى 180 نيوكليوتيدة ، فإن عدد لفات هذا الجزيء هو.....

أ 9 لفات

ب 18 لفة

ج 27 لفة

د 36 لفة

30. ما الأساس العلمي الذي تبني عليه زراعة الأنسجة؟

الأساس العلمي لزراعة الأنسجة : الخلية النباتية المحتوية على المعلومات الوراثية الكاملة يمكنها أن تصبح نباتاً كاملاً لو زرعت في وسط غذائي مناسب يحتوي على الهرمونات النباتية بنسب معينة

31. ماذا يحدث :

غياب إنزيمات اللولب من الخلايا الجسمية لطفل صغير.

يموت هذا الطفل لعدم تضاعف DNA اللازم لانقسام الخلايا ونمو الطفل وشفاء جروحة وتعويض التالف من الأنسجة

Mr.Moussa AlSayed

32. أختَر الإجابة الصحيحة:  
ينتج عن الإنقسام الميوزي الأول في الأنثيينات المنوية تكون .....

- أ) خلية منوية أولية وحيوان منوى  
ب) خلية منوية ثانوية وطلائح منوية  
ج) خلية منوية ثانوية وحيوان منوى  
د) خليتان منويتان ثانويتان

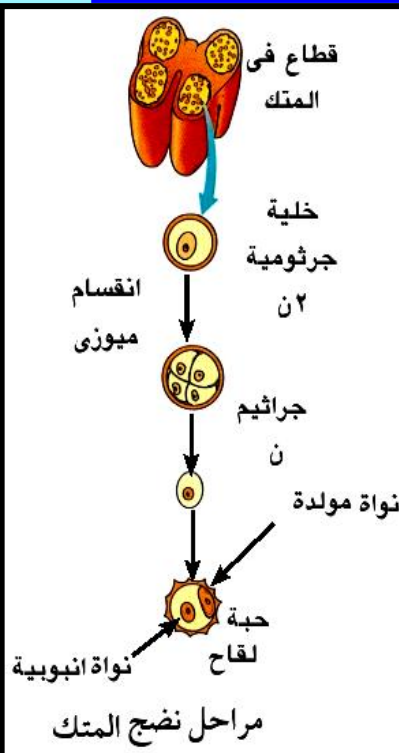
33. أذكر المصطلح العلمي : احدي غدد الجسم المفرزة لهرمون له دور مناعى .

### الغدة التيموسية

34. قارن بين الجسم القمي والجسم الأصفر من حيث الوظيفة .

وظيفة الجسم الأصفر	وظيفة الجسم القمي
<p>يفرز هرمون البروجسترون الذي</p> <p>١- يزيد سمك بطانة الرحم .</p> <p>٢- يزيد الإمداد الدموي بها.</p> <p>٣- يمنع التبويض فتتوقف الدورة الشهرية لما بعد الولادة</p> <p>٤- ينبه الغدد الثديية لنمو التدريجي أثناء الحمل</p>	<p>يفرز إنزيم الهيلويورنيز الذي</p> <p>يذيب جزء من غلاف البويضة</p> <p>لتسهيل اختراق الحيوان المنوي</p>

35. وضح بالرسم كامل البيانات مراحل تكوين حبة اللقاح في متك الزهرة.



Mr.Moussa AlSayed

36. أختَر الإجابة عن أحد السؤالين ( ١ ) أو ( ب ):

قارن بين أحد الزوجين مما يلي:

- (أ) الإنتروفيرونات و الليمفوكينات من حيث الخلايا المفرزة والوظيفة.  
(ب) التيلوزات و الصلاخ من حيث المكان والوظيفة .

الوظيفة	الخلايا المفرزة	
ترتبط بالخلايا الحية المجاورة للخلايا المصابة والتي لم تصب بالفيروس بعد وتحثها على إنتاج نوع من الإنزيمات يثبط نسخ الحمض النووي للفيروس وبهذا يمنع الفيروس من التكاثر والانتشار في الجسم	تنتجها خلايا الأنسجة المصابة بالفيروسات	الانتروفيرونات
تثبط أو تكبت الاستجابة المناعية أو تعطلها فتوقف الخلايا البلازمية عن إنتاج الأجسام المضادة وكذلك موت الكثير من الخلايا التائية المساعدة والسامة المنشطة	تفرزها الخلايا التائية المثبطة Ts	الليمفوكينات

الوظيفة	المكان	
نموات زائدة تنشأ نتيجة تمدد الخلايا البرانشيمية المجاورة لقصبية الخشب وتمتد داخل هذه القصبية من خلال النقر وتتكون التيلوزات نتيجة تعرض الجهاز الوعائي للقطع أو غزو الكائنات الممرضة حتى تعيق تحرك هذه الكائنات إلى الأجزاء الأخرى من النبات	قصبية الخشب	التيلوزات
وتعمل على قتل الميكروبات وبذلك تحمي الأذن	مادة تفرزها الأذن	الصلاخ

37. أختَر الإجابة عن أحد السؤالين ( ١ ) أو ( ب ):

- (أ) علل : يمكن التمييز بين النواتين الموجودتين داخل حبة اللقاح أثناء وجودها على الميسم.  
(ب) علل : تعتبر بذور نبات الفول لا إندوسبرمية.

(أ) لأن النواة الأنبوبية تكون أنبوية لقاح تخترق الميسم والقلم حتى تصل إلى النقر في المبيض ثم تتلاشى أما النواة المولدة تنقسم ميتوزياً لتكوين نواتين ذكريتين(ن) تنتقلان من حبة اللقاح(خلال أنبوية اللقاح)إلى البويضة لتندمج احدهما مع نواة البويضة (ن) لتكوين الزيجوت(٢ن)الذي ينقسم مكوناً الجنين وتندمج النواة الثانية (ن) مع نواتا الكيس الجنيني (٢ن) لتكوين نواة الاندوسبيرم(٣ن)

(ب) بذور نبات الفول لا اندوسبرمية لأن الجنين يتغذى على الاندوسبيرم أثناء تكوينه فيخزن النبات غذاء آخر للجنين في فلتين وتتصلب أغلفة البويضة لتكوين القصرة(غلاف البذرة) وتسمى بذرة أما جدار المبيض فيتحول إلى غلاف الثمرة

38. أختر الإجابة الصحيحة:  
عندما تنشط الخلايا  $T_H$  ، فإنها تفرز ..... لتنشيط الخلايا البلعمية والبائية والتائية السامة في المناعة الخلوية .

السيطوكينين

الهستامين

الليمفوكين

البيروفرين

39. ماذا يحدث عند عدم وجود مجموعة انزيمات معدلة في المحتوي الوراثي لإحدى سلالات البكتيريا التي تقوم بإنتاج إنزيمات القصر؟

تقوم إنزيمات القصر بقطع DNA البكتيري في مواقع التعرف الخاصة بها مما يؤدي إلى تلف DNA البكتيري وموت الخلية البكتيرية  
لأن الإنزيمات المعدلة تضيف مجموعة ميثيل  $CH_3$  إلى النيوكليوتيدات التي تتعرف عليها إنزيمات القصر في جزئ DNA البكتيري مما يجعل DNA البكتيري مقاوماً لفعل هذه الإنزيمات

## Mr.Moussa AlSayed

40. ما دور DNA المهجن في تحديد العلاقة التطورية بين الأنواع المختلفة؟

كلما تشابه تتابع نيوكليوتيدات DNA بين نوعين من الكائنات الحية وزادت درجة التهجين بينهما كلما كانت العلاقة التطورية أقرب بينهما

41. أذكر المصطلح العلمي الذي تعبر عنه العبارة الآتية:  
تركيب يوجد داخل مبيض الزهرة يحتوي علي البيضة وخلايا مساعدة وخلايا سمّية ونواتين قطبيتين.

الكيس الجنيني

42. علل لما يأتي : لا يصاب الإنسان بالحصبة إلا مرة واحدة في العمر .

لأنه قد اكتسب مناعة لهذا المرض بعد الإصابة الأولى حيث تتكون خلايا الذاكرة البانية و الثانية أثناء الاستجابة المناعية الأولى حيث تختزن معلومات عن الأنتيجينات التي حاربها الجهاز المناعي في الماضي و أثناء المجابهة الثانية مع نفس الكائن الممرض تستجيب خلايا الذاكرة لذلك الكائن الممرض فور دخوله إلى الجسم فتبدأ في الإنقسام سريعاً وينتج عن نشاطها السريع إنتاج العديد من الأجسام المضادة والعديد من الخلايا التائية النشطة خلال وقت قصير فيتم فيها تدمير الكائن الممرض قبل أن تظهر أعراض المرض

## Mr.Moussa AlSayed

43. أختر الإجابة عن أحد السؤالين ( أ ) أو ( ب ):

قارن بين أحد الزوجين مما يلي:

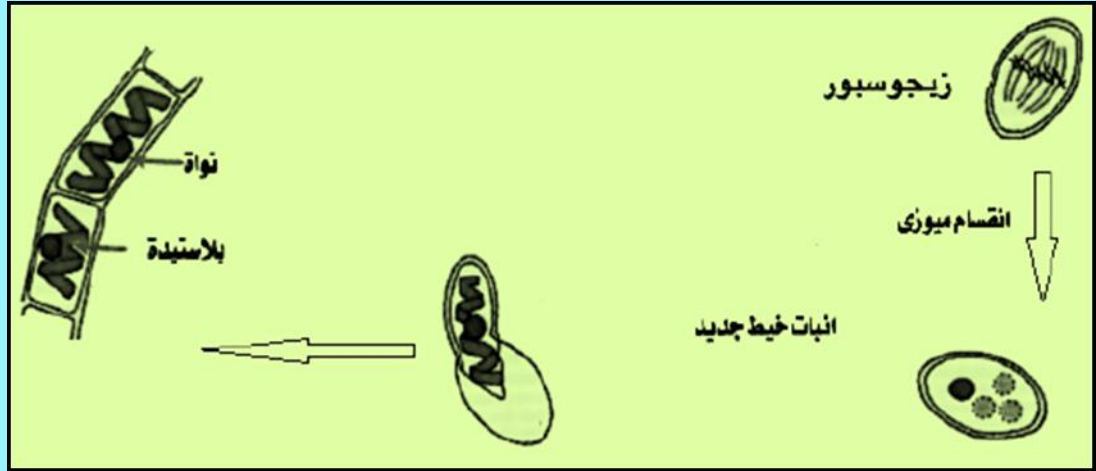
- (أ) DNA في أوليات النواة، DNA في حقيقيات النواة من حيث تضاعف كلاً منهما.  
(ب) البروتينات الهستونية والبروتينات غير الهستونية من حيث التعريف.

تضاعف DNA في أوليات النواة	تضاعف DNA في حقيقيات النواة
يوجد DNA في السيتوبلازم على شكل لولب مزدوج تلتحم نهايتاه ويتصل بالغشاء البلازمي عند نقطة واحدة يبدأ عندها نسخ جزئ DNA	ينتظم DNA في صورة صبغيات حيث يحتوي كل صبغي على جزئ واحد من DNA يمتد من أحد طرفي الصبغي إلى الطرف الآخر ويبدأ نسخ DNA عند أي نقطة على امتداد الجزئ

البروتينات الهستونية	البروتينات الغير هستونية
مجموعة محددة من البروتينات التركيبية الصغيرة (توجد بكميات ضخمة في كروماتين أي خلية) تحتوي على قدر كبير من الحمضين القاعديين أرجنين وليسين تحمل المجموعة الجانبية (R) لهذين الحمضين الأمينيين (عند الأس الهيدروجيني PH العادي للخلية) شحنات موجبة	مجموعة غير متجانسة من البروتينات التركيبية والتنظيمية التركيبية تلعب دوراً رئيسياً في التنظيم الفراغي. لجزئ DNA داخل النواة . والتنظيمية تحدد ما إذا كانت شفرة DNA . ستستخدم في بناء RNA والبروتينات والإنزيمات أم لا



44. وضح بالرسم والبيانات مراحل إنبات اللاقحة الجرثومية للإسبيروجيرا .



45. يمثل التتابع التالي جزء من أحد أشربة DNA



أولاً: أكتب التتابع المكمل للعينة الموضحة علي الشريط الأخر .

ثانياً: استخدم إنزيم القصر الذي يؤثر على موقع التعرف (GA) في معاملة العينة السابقة ، ثم وضح بالرسم تركيب العينة الناتجة بعد هذه المعاملة .

5... AATGCAGAATTCACA.. 3

3.. TTACGTCTTAAGTGT.. 5

5... AATGCAGAAATTCACA.. 3

3.. TTACGTCTTAAGTGT.. 5

5... AATGCAG

AATTCACA.. 3

3.. TTACGTCTTAA

GTGT.. 5

الأستاذ / موسى السيد خبير تدريس الأحياء والجيولوجيا

ت / ٠١٠٩٩٣٧٨٢٠٦

انتهت الأسئلة

في ضوء ما درست في مادة الأحياء أجب عن الأسئلة الآتية :

١- اختر أحد السؤالين (أ) أو (ب) ثم اكتب المصطلح العلمي الدال على:

(أ) جزء من الهيكل العظمي يربط الطرفين العلويين بالعمود الفقري.

(ب) منطقة شبه مضيئة تقع في منتصف القطعة الداكنة في القطعة العضلية.

**أ- الحزام الصدري.**

**ب- منطقة (H).**

٢- اختر أحد السؤالين (أ) أو (ب) ثم وضع ما المقصود بـ:

(أ) الكيموكينات.

(ب) الترسيب.

أ- الكيموكينات: هي عوامل جذب الخلايا المناعية البلعمية المتحركة مع الدم بأعداد كبيرة نحو موقع تواجد الميكروبات أو الأجسام الغريبة لتحد من تكاثر وانتشار الميكروب المسبب للمرض.

ب- الترسيب: يحدث ذلك في حالة الأنتيجينات الذائبة حيث يؤدي ارتباط الأجسام المضادة مع الأنتيجينات الذائبة إلى تكوين مركبات غير ذائبة من الأنتيجين والجسم المضاد وتكون هذه المركبات راسباً ويسهل على الخلايا البلعمية التهام هذا الراسب.

٣- اختر أحد السؤالين (أ) أو (ب) ثم اذكر المكان والوظيفة :

(أ) الحبل السري فى النبات.

(ب) الأرشيجونة.

أ- الحبل السرى فى النبات :

المكان	الوظيفة
بين البويضة وجدار المبيض.	يتسم من خلاله نقل المواد الغذائية من جدار المبيض إلى البويضة.

ب- الأرشيجونه :

المكان	الوظيفة
فى مقدمة الجزء السفلى للطور المشيجى فى دورة حياة السراخس (كزبرة البئر- الفوجير).	مناسل مؤنثة تقوم بتكوين البويضات.

٤- اختر الإجابة الصحيحة مما يلي :

مرحلتان من مراحل تكوين البويضة فى أنثى الإنسان تحدثان فى المراحل الجنينية....

أ) التضاعف والنضج.

ب) النمو والنضج.

ج) التضاعف والنمو.

د) النمو والتحول.

٥- علل لما يأتي:

تعتبر الخلايا البائية (B) عالية التخصص.

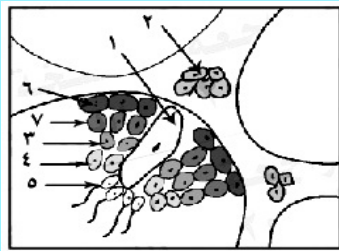
لأنها تستجيب لأنتيجين معين واحد فقط.  
كل مجموعة من الخلايا البائية تنتج نوعاً معيناً من الأجسام المضادة لنوع معين من الأنتيجين.

٦- ماذا يحدث في الحالة الآتية:

غياب إنزيم الربط من نواة الخلية الحية.

لن يتم تضاعف الـ DNA بصورة صحيحة.  
كما أنه لن يتم إصلاح الأجزاء التالفة من جزيء DNA.

٧- الشكل المقابل يوضح قطاعاً عرضياً في خصية ذكر الإنسان:



ادرسه ثم أجب عما يأتي:

أولاً: ماذا يحدث في حالة غياب الخلايا

رقم (١).

ثانياً: ما أهمية التركيب رقم (٢).

أ- لن يتم تغذية الحيوانات المنوية داخل الخصية.

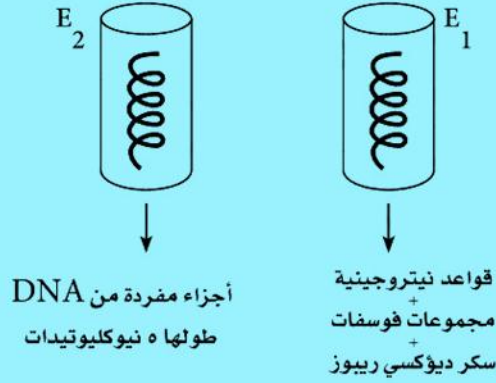
ب- تقوم بإفراز هرمونات الذكورة (التستوستيرون) المسئول عن ظهور الصفات الجنسية الثانوية.

٨- قارن بين كل من:

هرمون الأنسولين وهرمون الجلوكاجون من حيث الوظيفة.

هرمون الجلوكاجون	هرمون الأنسولين
يعمل عكس هرمون الأنسولين وذلك برفع تركيز الجلوكوز في الدم وذلك عن طريق تحويل الجليكوجين المخزن بالكبد فقط إلى جلوكوز.	يعمل على خفض تركيز سكر الجلوكوز في الدم وذلك عن طريق الحث على أكسدة الجلوكوز في خلايا وأنسجة الجسم المختلفة . - تنظيم العلاقة بين الجليكوجين المخزن والجلوكوز المنفرد بالدم.

٩- تم وضع جزئين من شرائط DNA متساويين في الطول في أنبوتين من أنابيب الاختبار وأضيف إلى كل منهما على حدة إنزيم مختلف وكانت النتائج كما هو موضح بالرسم.



اذكر اسم الإنزيم المسئول في كل حالة E<sub>1</sub>، E<sub>2</sub> مع التفسير .

E<sub>1</sub> إنزيم دي أوكسي ريبونيوكليز.

يقوم بتحليل DNA تحليلاً كاملاً

E<sub>2</sub> إنزيم القطع البكتيري (إنزيمات القصر البكتيرية) لأنها تتعرف على عدد من النيوكليوتيدات يتراوح من ٤ - ٧ تقطع عنده أو بالقرب منه.

١٠- اختر أحد السؤالين (أ) أو (ب) ثم:

علل :

(أ) تعتبر نظرية الخيوط المنزلفة من أكثر النظريات قبولاً لتفسير الانقباض العضلي.

(ب) جزيئات ATP تلعب دوراً مزدوجاً في الانقباض العضلي.

أ- تعتمد على التركيب المجهرى الدقيق لألياف العضلات إذ إن كل ليفة عضلية تتكون من مجموعة من اللييفات وكل ليفة تتكون من خيوط بروتينية رفيعة تسمى أكتين والثانية خيوط غليظة ميوسينية كما أن مقارنة العالم هكسيلي بين ليفة عضلية في حالة انقباض بأخرى في حالة الراحة أكدت صحة النظرية.

ب- عند وجود جزيئات ATP تعمل الروابط المستعرضة كخطاطيف تقوم بسحب خيوط الأكتين في اتجاه بعضها البعض (انقباض عضلى). (ص ٢٠)  
كما تستهلك العضلة جزء من الطاقة المخزنة في ATP في فصل الروابط المستعرضة عن خيوط الأكتين.

١١- اختر الإجابة الصحيحة فقط مما يلي:

توجد المستقبلات المناعية من النوع CD8 على سطح.....

① الخلايا التائية المساعدة (T<sub>H</sub>).

② الخلايا البائية (B).

③ الخلايا التائية السامة (T<sub>C</sub>).

④ الخلايا البلعمية الكبيرة.

١٢- فسر ما يأتي:

عدم حدوث التبويض في أنثى الإنسان خلال فترة الحمل.

وذلك لوجود هرمون البروجسترون الذي يفرزه الجسم الأصفر في المراحل الأولى من الحمل وتفرزه المشيمة في المراحل الأخيرة من الحمل.

١٣- ماذا يحدث عند:

غياب البروتينات التركيبية غير الهستونية من الصبغي (الكروموسوم)؟

لن يتم التنظيم الفراغى لجزيئات DNA داخل النواة.

١٤- اذكر المصطلح العلمي الدال على:

خلايا ليمفاوية تنشط الأنواع الأخرى من الخلايا الليمفاوية وتحفزها على الاستجابة المناعية.

الخلايا التائية المساعدة  $T_H$ .



١٥- اذكر مثالين لكائنات حية تكون خلاياها الجسدية أحادية المجموعة الصبغية (ن).

- ذكور نحل العسل.
- طحلب الأسبيروجيرا.
- الطور المشيجى فى السرخسيات.

١٦- اختر أحد السؤالين (أ) أو (ب) ثم:  
قارن بين :

- (أ) التيلوزات وترسيب الصمغ.
- (ب) الحساسية المفرطة وإنزيمات نزع السمية فى النبات.

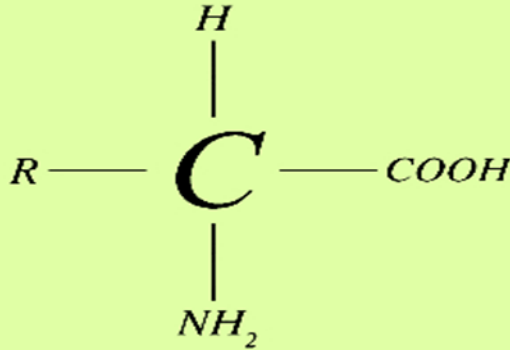
أ-

تيلوزات	ترسيب الصمغ
عبارة عن نموات زائدة تنشأ نتيجة تمدد الخلايا البارانشيمية المجاورة لقصببات الخشب وتمتد داخلها من خلال النقر وتقلل الجهاز الوعائى.	تفرز النباتات المصابة بالجروح أو القطوع لمادة الصمغ حول مواضع الإصابة حتى تمنع دخول الميكروبات داخل النبات.

ب-

إنزيمات نزع السمية	الحساسية المفرطة
تقوم هذه الإنزيمات بالتفاعل مع السموم التى تفرزها الكائنات الممرضة وتبطل سميتها.	يقتل النبات بعض أنسجته المصابة ويتخلص منها لمنع انتشار الكائن الممرض إلى باقى النبات.

١٧- وضع بالرسم فقط الوحدة البنائية لجزيء البروتين ثم اشرح تركيبها.



الوحدة البنائية هي الحمض الأميني.

تركيبها:

١- مجموعة كربوكسيلية (COOH) ومجموعة أمينية (NH<sub>2</sub>) يرتبطان بأول ذرة كربون.

كما توجد ذرة هيدروجين تعتبر المجموعة الثالثة التي ترتبط بنفس ذرة الكربون وتحتوى المجموعة الرابعة على الكيل (R) تختلف باختلاف الحمض الأميني.

١٨- اذكر مكان إفراز ووظيفة هرمون ACTH.

الوظيفة	مكان الإفراز
يحفز قشرة الغدة الكظرية على إفراز هرموناتها.	الجزء الغدى للغدة النخامية. (الجزء الأمامي والأوسط)

١٩- اختر أحد السؤالين (أ) أو (ب) ثم اكتب المصطلح العلمي الذي يعبر عنه :  
 أ- إنزيم توجد شفرته في الفيروسات التي يكون محتواها الجيني mRNA.  
 ب- جهاز يستخدم لمضاعفة قطع DNA ويعمل في درجة حرارة عالية.

أ- إنزيم النسخ العكسي.

ب- جهاز PCR.

٢٠- اختر أحد السؤالين (أ) أو (ب) ثم وضح دور:  
 (أ) الجذور الشادة في الأبال والكورمات.  
 (ب) المحاليق في النباتات المتسلقة.

أ- تحافظ على أن تظل السيقان الأرضية المخترنة دائماً على بعد ملائم من سطح التربة ويزيد من تدعيمها وتأمين أجزائها الهوائية ضد الرياح.

ب- يعمل على اقتراب سيقان النباتات المتسلقة إلى الدعامة أي يشدها فيستقيم الساق رأسياً فيقوى ويشتد.

٢١- اختر أحد السؤالين (أ) أو (ب) ثم:  
 علل:

(أ) قد ينتج الفرد من توالد بكري ومع ذلك يكون ثنائي المجموعة الصبغية (٢ن).  
 (ب) قد يتم قطع أحد أذرع نجم البحر ومع ذلك لا يتكون فرد جديد.

أ- إذا تكونت البويضة أساساً عن طريق انقسام ميتوزي فتنمو إلى أفراد ثنائية المجموعة الصبغية كما في حشرة المن.  
 أو إذا حدث تضاعف صبغى بواسطة تنشيط البويضة صناعياً.

ب- يحدث ذلك في حالة ما إذا كان الذراع المقطوع لا يحتوى على قطعة من قرصه الوسطى.

٢٢- وضح كيف يمكن الحصول على ثمار بدون بذور دون حدوث تلقيح أو إخصاب في الزهرة.

يحدث ذلك عن طريق إثمار عذرى صناعي، وذلك برش المياسم بخلاصة حبوب اللقاح (حبوب لقاح مطحونة في الأثير الكحولي) أو استخدام أندول أو نافثول حمض الخليك.

٢٣- اختر الإجابة الصحيحة فقط مما يأتي:

من الحواجز الطبيعية التي تمثل خط الدفاع الأول في الإنسان.....

١) الهيستامين.

٢) الصملاخ.

٣) الإنترليوكينات.

٤) البيرفورين.

٢٤- ما هو الأساس العلمي لتجهين الحمض النووي DNA .

- عند رفع درجة حرارة جزيئات DNA إلى ١٠٠م يتم كسر الروابط الهيدروجينية بين القواعد النيتروجينية في اللوالب المزدوجة من DNA وتتكون شرائط مفردة غير ثابتة وعند خفض درجة الحرارة فإن الأشرطة المفردة تميل إلى الوصول إلى حالة الثبات.

- وأي شريطين مفردين من DNA أو RNA يمكنهما تكوين شريط مزدوج إذا وجد بهما تتابعات ولو قصيرة من القواعد المتكاملة.

٢٥- التتابع التالي يوضح ترتيب القواعد النيتروجينية على أحد شريطي DNA

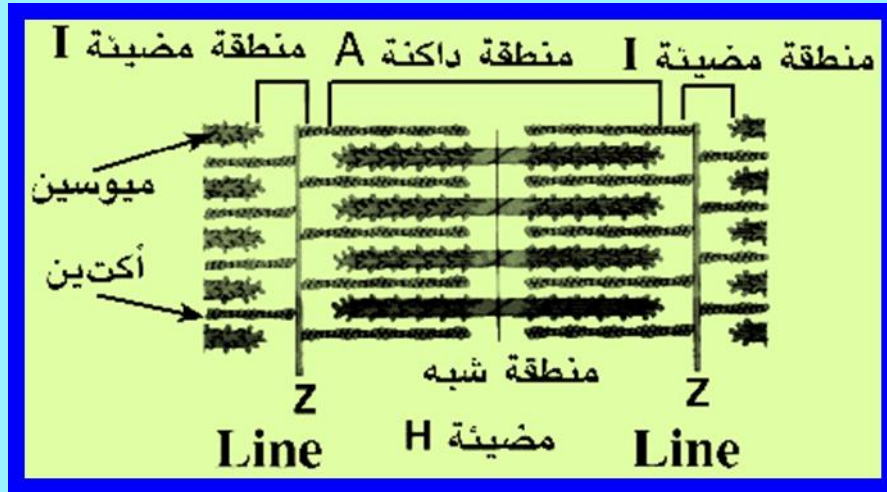
'3..... TAC GCC AACCCC ATAA CT..... '5

أولاً: اكتب تتابع النيوكليوتيدات في جزيء mRNA المنسوخ منه.  
ثانياً: ما عدد الأحماض الأمينية في سلسلة عديد الببتيد التي سيتم بناؤها من هذا الشريط.

'5 .. AUG CGG UUG GGG UAU UGA .. 3

عدد الأحماض الأمينية (٥)

٢٦- وضح بالرسم فقط مع كتابة البيانات تركيب القطعة العضلية.



٢٧- انظر إلى الشكل المقابل ثم أجب عما يلي:



أولاً: أيهما يحتاج لوقت أطول في

الاستجابة المناعية:

التعرض الأول أم التعرض الثاني.

ثانياً: فسر اختيارك.

**أولاً: التعرض الأول.**

ثانياً: لأن الخلايا البائية والتائية تستجيب لأنتيجينات ذلك الكائن الممرض، وتقوم بمهاجمته حتى تقضى عليه، وهذا يستغرق وقتاً أطول، فهذه الخلايا في حاجة إلى وقت كي تتضاعف وذلك ما بين خمسة إلى عشرة أيام كي تصل إلى أقصى إنتاجية من الخلايا الليمفاوية.

٢٨- اختر أحد السؤالين (أ) أو (ب) ثم:

علل:

(أ) تنقسم الخلية الجرثومية الأمية في متك الزهرة ميوزياً.

(ب) خلو ثمار الموز والأناناس من البذور.

أ- لتعطى أربع خلايا كل منها (ن) صبغى تسمى جراثيم صغيرة لتكون حبوب لقاح.

ب- لأنها ناتجة عن إثمار عذرى طبيعى.

٢٩- اختر الإجابة الصحيحة فقط مما يلي:

تزداد نفاذية الأوعية الدموية والشعيرات الدموية في منطقة الإصابة بسبب....

- (أ) الكيموكينات.  
 (ب) البيرفورين.  
 (ج) السيتوكينات.  
 (د) الهيستامين.

٣٠- ماذا يحدث عند:

وصول السيال العصبي الحركي إلى التشابك العصبي العضلي.

يؤدي إلى انقباض العضلة حيث إنه عند وصول السيال العصبي فتسبب أيونات الكالسيوم انفجار حويصلات التشابك وخروج الأستيل كولين.

٣١- ما هي النتائج المترتبة على:

عدم استهلاك جنين البذرة نسيج الأندوسبرم.

تتكون ثمرة بها بذرة واحدة وتعرف بالحبّة ويظل النسيج موجوداً مع الحبة كما في القمح والذرة.

٣٢- اكتب المصطلح العلمي الدال على العبارة التالية:

مادة بروتينية تفرزها الخلايا التائية المنشطة لتحفز الخلايا التائية

المساعدة  $T_H$  على الانقسام.

الإنترليوكينات.

٣٣- ماذا يحدث عند:

زيادة نسبة البوتاسيوم ونقص نسبة الصوديوم في الدم.

تقوم قشرة الغدة الكظرية بزيادة إفراز مجموعة الهرمونات المعدنية مثل الألدوستيرون الذي يساعد على حفظ توازن المعادن بالجسم.

٣٤- اختر أحد السؤالين (أ) أو (ب) ثم:

قارن بين:

(أ) الدور المناعي لنخاع العظام والدور المناعي للغدة التيموسية.

(ب) الأنتيجينات والمستقبلات المناعية من حيث المكان.

أ-


نخاع العظام	الغدة التيموسية
هو المسئول عن إنتاج خلايا الدم البيضاء والحمراء والصفائح الدموية. ويتم فيه نضج الخلايا البائية والخلايا القاتلة الطبيعية.	تقوم بإفراز هرمون التيموسين الذي يحفز نضج الخلايا الليمفاوية الجذعية إلى الخلايا التائية T وتمايزها إلى أنواعها المختلفة.

ب-

الأنتيجينات	المستقبلات المناعية
توجد على سطح الكائنات الممرضة مثل البكتيريا والفيروسات.	توجد على سطح الخلايا الليمفاوية بأنواعها والخلايا البلعمية الكبيرة لتتعرف على الأنتيجين.



٣٥- الشكل المقابل يوضح أحد أنواع RNA ادرسه ثم أجب عما يلي:



أولاً: اكتب ما يدل عليه الرقمان ١، ٢ .

ثانياً: اشرح دور هذا الجزيء في تخليق البروتين.

أولاً: (١) موقع الارتباط بالحمض الأميني.

(٢) مضاد الكودون.

ثانياً: نقل الأحماض الأمينية من سيتوبلازم الخلية إلى الريبوسوم أثناء تخليق البروتين.

٣٦- كيف يمكن تحديد جنس الأجنة في الماشية.

يتم ذلك عن طريق فصل الحيوانات المنوية ذات الصبغى (X) عن الحيوانات المنوية ذات الصبغى (Y) بوسائل معملية كالطرد المركزي أو بتعريضها لمجال كهربى محدود. وبذا يمكن إنتاج ذكور فقط أو إناث فقط.

٣٧- اختر أحد السؤالين (أ) أو (ب) ثم:

اكتب المصطلح العلمي الذي يعبر عنه:

(أ) مجموعة من الأزهار تتجمع على محور زهري واحد.

(ب) غشاء جنيني يحيط بالرحل.

**أ- النورة.**

**ب- غشاء السلى.**

٣٨- كيف يمكن الحصول على قطع من DNA لاستنساخها بطريقتين.

الطريقة الأولى: الحصول على المحتوى الجيني للخلية حيث يتم معاملة DNA بواسطة إنزيمات القصر.

الطريقة الثانية: باستخدام mRNA كقالب من الخلايا النشطة كخلايا البنكرياس والخلايا المولدة لهيموجلوبين كرات الدم الحمراء باستخدام إنزيم النسخ العكسي.

٣٩- ما النتائج المترتبة على:

نضج أحد شقي الأعضاء الجنسية قبل الآخر في الزهرة .

**يحدث تلقيح خاطئ.**

٤٠- اختر الإجابة الصحيحة مما يلي:

الطور المعدي لأنثى بعوضة الأنوفيليس في دورة حياة بلازموديوم الملاريا....

- ① الاسبوروزيتات.  
 ② الأطوار المشيجية.  
 ③ طور الأمشاج الجنسية.  
 ④ الطور الحركي.

٤١- ماذا يحدث:

عند تلف عدة أزواج متتالية متقابلة من القواعد النيتروجينية في جزيء DNA.

**يؤدي إلى حدوث طفرة جينية.**

٤٢- قارن بين:

دور الواقي الذكري والتعقيم الجراحي كوسيلتين من وسائل منع الحمل.

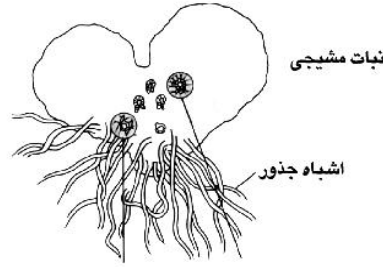
الواقي الذكري	يمنع دخول الحيوانات المنوية إلى المهبل.
التعقيم الجراحي	عن طريق ربط أو قطع قنوات فالوب في الأنثى أو الوعاءين الناقلين في الذكر.

٤٣- اختر أحد السؤالين (أ) أو (ب) ثم وضع برسم كامل البيانات فقط:

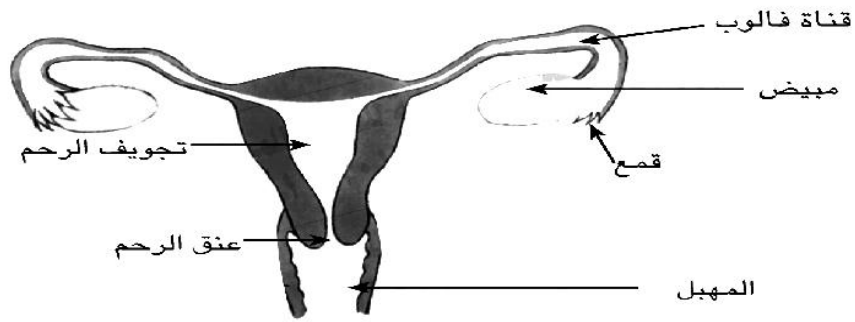
(أ) الطور المشيجي في دورة حياة كزبرة البئر.

(ب) الجهاز التناسلي في أنثى الإنسان (أمامي).

أ- الطور المشيجي-



ب- الجهاز التناسلي في أنثى الإنسان:



٤٤- ادرس الشكل المقابل ثم أجب عما يلي:

أولاً: اكتب ما يدل عليه رقم (٢) وما أهميته؟

ثانياً: ماذا يحدث عند بذل مجهود عنيف أو تقلص

مفاجئ للتركيب رقم (١)؟



أولاً: رقم (٢) وتر أخيل

أهميته: يصل العضلة التوأمية بعظم الكعب.

ثانياً: انعدام المرونة في العضلات. عدم القدرة على المشي. ثقل في حركة القدم وآلام حادة.

٤٥- إذا كان لديك قطعة من DNA عليها التتابع التالي:

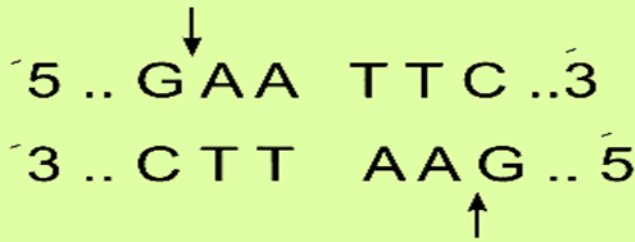
$5' \dots G - A - A - T - T - C \dots 3'$

$3' \dots C - T - T - A - A - G \dots 5'$

أولاً: ما تأثير إنزيمات القطع البكتيرية على اللولب المزدوج مع التوضيح باستخدام الأسهم؟

ثانياً: كم عدد إنزيمات القصر الموجودة في الكائنات الدقيقة؟

أولاً: يكون أطراف لاصقة (مائلة).



ثانياً: يوجد حوالي ما يزيد عن ٢٥٠ إنزيم من إنزيمات القصر.



وزارة التربية والتعليم

مديرية التربية والتعليم بمحافظة .....

## امتحان تجريبي شهادة إتمام الدراسة الثانوية العامة

نموذج ثانوية عامة

المادة : علم الأحياء

التاريخ : / / ٢٠١

زمن الإجابة : ثلاث ساعات

عدد أوراق الإجابة (١٣) ورقة  
بخلاف الغلاف  
وعلى الطالب مسؤولية المراجعة  
والتأكد من ذلك قبل تسليم الكراسة



مجموع الدرجات


توقيع		الدرجة	الأسئلة من ..... إلى .....
المراجع	المقدر		

رقم المراقبة

--

مجموع الدرجات بالحروف :

إمضاءات المراجعين :

عدد أوراق الإجابة (١٣) ورقة  
بخلاف الغلاف  
وعلى الطالب مسؤولية المراجعة  
والتأكد من ذلك قبل تسليم الكراسة

وزارة التربية والتعليم

امتحان تجريبي شهادة إتمام الدراسة الثانوية العامة

المادة : علم الأحياء

التاريخ : / / ٢٠١

زمن الإجابة : ثلاث ساعات

رقم المراقبة

--

نموذج ثانوية عامة

اسم الطالب (رباعياً) /

الدرسة :

رقم الجلوس :

الإدارة :

الحانطة :

-١

-٢

توقيع الملاحظين بصحة البيانات :  
ومطابقة عدد أوراق كراسة الإجابة  
عند استلامها من الطالب .

تعليمات هامة:

عزیزی لطالب:

1. اقرأ لسؤال بعناية، وفكر فيه جيداً قبل البدء في إجابته.
2. أجب عن جميع الأسئلة ولا تترك أى سؤال دون إجابة.
3. عند إجابتك للأسئلة للمقالية، أجب فيما لايزيد عن المساحة المحددة لكل سؤال.

مثال :

.....

.....

.....

4. عند إجابتك عن أسئلة الاختيار من متعدد إن وجدت:  
ظلل الدائرة ذات الرمز الدال على الإجابة الصحيحة تظليلاً كاملاً لكل سؤال .

مثال : الإجابة لصحيحة (ج) مثلاً

أ

ب

ج

د

- في حالة ما إذا أجببت إجابة خطأ، ثم قمت بالشطب وأجببت إجابة صحيحة تحسب الإجابة صحيحة.
- وفي حالة ما إذا أجببت إجابة صحيحة، ثم قمت بالشطب وأجببت إجابة خطأ تحسب الإجابة خطأ.
- في حالة التظليل علي أكثر من رمز، تعتبر الإجابة خطأ.

ملحوظة: لا تكرر الإجابة عن الأسئلة الموضوعية (الاختيار من متعدد) ،  
فلن تقدر إلا الإجابة الأولى فقط .

5. عدد أسئلة الكتيب ( 60 ) سؤالاً .
6. عدد صفحات الكتيب ( 26 ) صفحة خلاف لغلاف .
7. تأكد من ترقيم الأسئلة تصاعدياً، ومن عدد صفحات كتيبك، فهي مسئوليتك.
8. زمن الاختبار ( 3 ) ساعات .
9. لدرجة لكلية للاختبار ( 60 ) درجة .

أجب عن الأسئلة التالية

الأسئلة من (1 - 6) :

تخير الإجابة الصحيحة :

1.

يعود غشاء الليفة العضلية إلى وضع الإشتطاب بمساعدة.....

- (أ) الصوديوم  
 (ب) الكولين إستيريز  
 (ج) حمض اللاكتيك  
 (د) أسيتيل كولين

2.

عدد حبوب اللقاح الناتجة عن إنقسام ثلاث خلايا جنسية أمية في متك نبات زهرى هو..

- (أ) 6  
 (ب) 9  
 (ج) 12  
 (د) 15

3.

يربط وتر أخيل العضلة التوأمية بعظام.....

- (أ) القصبة  
 (ب) الشظية  
 (ج) الكعب  
 (د) السلاميات



.4

تنشأ أعراض القمأة والميكسوديميا نتيجة نقص هرمون .....

- أ الأدرينالين  
 ب الثيروكسين  
 ج البارثورمون  
 د البروجيسترون

.5

الخلايا التي تعمل كحلقة وصل بين المناعة الخلطية والمناعة الخلوية ...

- أ Tc  
 ب TH  
 ج Ts  
 د B

.6

يقع جين تكوين الانسولين وجين تكوين الهيموجلوبين على الكروموسوم .....

- أ 8  
 ب 9  
 ج 11  
 د الجنسى

-7

يقوم كل من إنزيم القصر والربط بدور مهم للحصول على بلازميد معاد الاتحاد.  
وضح هذا الدور ( بدون رسم ) من خلال التجربة التي قام بها أحد الباحثين.

تمكن الباحثون من لصق قطعة معينة من جزئ DNA بقطعة أخرى من جزئ آخر كالتالي :

- ١- إنزيمات القصر تعمل كوسيلة لقص DNA إلى قطع معلومة النيوكليوتيدات عند أطرافها.
- ٢- العديد منها يكون أطرافاً مانلة حيث تكون قطع اللولب المزدوج ذات طرفين مفردى الشريط يطلق عليها (الأطراف اللاصقة) .
- ٣- تتزوج قواعد الطرف اللاصق مع طرف آخر لاصق على DNA الأخر نتج عن معاملته بنفس إنزيم القصر.
- ٤- يتم ربط الطرفين اللاصقين إلى شريط واحد بواسطة إنزيم الربط

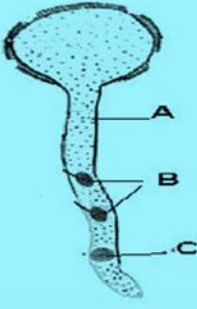
.8

ما هي البذرة الأندوسبرمية؟

بذرة يحتفظ فيها الجنين بالاندوسبيرم حيث يظل موجوداً خارجة ليشغل حيزاً من البذرة  
تلتحم أغلفة المبيض مع أغلفة البويضة لتكوين ثمرة بها بذرة واحدة تسمى (حبة)

9- مع اعطاء مثال.

في ذات الفلقة الواحدة مثل القمح والذرة



افحص الشكل المقابل ، ثم أجب عن الأسئلة :

10- ما اسم العملية التي يمثلها هذا الشكل ؟

عملية إنبات حبة اللقاح

11- ما العملية التي يبدأ فيها تكون الأنبوبة ؟

عملية الإخصاب الزهري : حيث أنه بسقوط حبة اللقاح على ميسم الزهرة تنبت حيث تكون النواة الأنبوبية أنبوبة لقاح تخترق الميسم والقلم حتى تصل إلى النقيير في المبيض

12- وماذا يحدث للنواة C ؟

تتلاشى النواة الأنبوبية C عندما تصل أنبوبة اللقاح إلى النقيير في المبيض

13- ما وظيفة النواتين B ؟

تنقسم النواة المولدة B ميتوزياً لتكوين نواتين ذكريتين (ن)  
 ٣- تنتقل النواتان الذكورية من حبة اللقاح (خلال أنبوبة اللقاح) إلى البويضة ليحدث الإخصاب المزدوج :  
 أ- اندماج إحدى النواتين الذكريتين (ن) مع نواة البويضة (ن) لتكوين الزيغوت (٢ن) الذي ينقسم مكوناً الجنين  
 ب- اندماج النواة الذكورية الثانية (ن) مع النواة الناتجة من اندماج نواتا الكيس الجنيني (٢ن) لتكوين نواة الاندوسبيرم (٣ن) فيما يعرف بالاندماج الثلاثي

الأسئلة من ( 14 - 19 ):

اكتب المصطلح العلمي الذي تدل عليه كل عبارة من العبارات التالية :

14 حلقات تتكون من إتفاف جزئى DNA حول الهستونات.

حلقات النيوكليوسومات

15 عظمة صغيرة مستديرة تقع أمام مفصل الركبة.

الرضفة

16 قدرة البويضة على النمو بدون إخصاب من المشيمح الذكرى فى الحيوان.

التوالد البكرى

17 نظامان يعمل بموجبهما الجهاز المناعى فى تنسيق وتنسيق.

المناعة الفطرية والمناعة

18 دعامة نباتية تعتمد على الظاهرة الأسموزية.

الدعامة الفسيولوجية

19 غاز سائل يستخدم فى حفظ حيوية الأنسجة النباتية لحين زراعتها.

التيروجين السائل (المسال)

الأسئلة من ( 20 - 23 ):

ضع خطا تحت الكلمة التى لاتنسجم مع باقى الكلمات:

20

أرشيونيا - أنثريا - بويضة - طور مشيجى - جراثيم - زيجوسبور

.....

21

التبرعم - الإقتران - التوالد البكرى - التجدد - الإنشطار الثنائى

.....

22

موقع الببتيدىل - موقع الاميونى - موت وحدة الريبوزوم الكبيرة - مضاد الكودون

.....

23

ليفة عضلية - جهاز عضلى - جهاز عصبى - منطقة تشبه مضيئة - منطقة مضيئة

.....

الأسئلة من ( 24 - 28 ):

اذكر مكان ووظيفة كل من :

24.

الخلايا الليمفاوية المثبطة.

الوظيفة	المكان
تنظم درجة المناعة للحد المطلوب وتثبط أو تكبح عمل الخلايا التائية (T) والبائية (B) بعد القضاء على الكائن الممرض	توجد في الدم (والأعضاء الليمفاوية)

25.

الروابط المستعرضة.

الوظيفة	المكان
تعمل كخطايف تسحب بمساعدة الطاقة المخزنة في ATP مجموعات الأكتين المتجاورة في اتجاه بعضها البعض فتسبب انقباض العضلة	تمتد من خيوط الميوسين وتتصل بخيوط الأكتين في الألياف العضلية الهيكلية والقلبية

26.

هرمون الأنسولين.

المكان	الوظيفة
تفرزه خلايا بيتا الموجودة في جزر لانجرهانز في البنكرياس في الدم	١- خفض تركيز سكر الجلوكوز في الدم بطريقتين - حث خلايا وأنسجة الجسم على أكسدة الجلوكوز حيث أنه ضروري لمرور السكريات الأحادية (عدا الفركتوز) من خلال غشاء الخلية إلى داخلها حتى يمكن استخدامه ٢- التحكم في علاقة الجليكوجين المخزن والجلوكوز المنفرد بالدم بتحويل الجلوكوز إلى جليكوجين أو دهون تخزن في الكبد والعضلات أو الأنسجة المختلفة

27.

الثقب الكبير.

المكان	الوظيفة
يوجد في قاع الجزء المخي للجمجمة	يتصل من خلاله المخ بالحبل الشوكي

28.

هرمون الجلوكاجون.

المكان	الوظيفة
تفرزه خلايا ألفا الموجودة في جزر لانجرهانز في البنكرياس في الدم	يرفع تركيز الجلوكوز في الدم بتحويل الجليكوجين المخزن في الكبد إلى جلوكوز

الأسئلة من ( 29 - 34 ):

علل لما يأتي :

29.

المفاصل الزلالية مرنة تتحمل الصدمات

لأنها تحتوى على سائل مصلي أو زلالي يسهل من انزلاق الغضاريف التي تكسو أطراف العظام  
كما يغطي سطح العظام المتلامسة في المفاصل بطبقة رقيقة من مادة غضروفية شفافة وملساء مما يسمح بحركة العظام بسهولة وبأقل احتكاك



30.

يستخرج m-RNA من خلايا البنكرياس وكريات الدم الحمراء.

لأن خلايا البنكرياس التي تكون الأنسولين و الخلايا المولدة لكرات الدم الحمراء التي تكون الهيموجلوبين تحتوى على كميات كبيرة من mRNA الذي يحمل الرسالة اللازمة لبناء هذه البروتينات

31.

قد يصعب تمييز الغدة جار الدرقية وقد تتم إزالتها أثناء العمليات الجراحية فى الرقبة.

لأنها تتكون من ٤ أجزاء منفصلة اثنتان على كل جانب من الغدة الدرقية كما أن الغدة الدرقية تقع فى الجزء الأمامي من الرقبة ملاصقة للقنطرة الهوائية لذلك قد تزال بالخطأ أثناء العمليات الجراحية بالرقبة

32.

تقوم بعض النباتات بقتل أنسجتها المصابة بالميكروبات

يقتل النبات بعض أنسجته ليمنع انتشار الكائن المرض منها إلى أنسجته السليمة وبالتالي يتخلص النبات من الكائن المرض بموت النسيج المصاب

33.

يمكن اعتبار الجسم الأصفر غدة صماء مؤقتة.

لأنه يفرز هرمون البروجسترون في الدم :

١- أثناء دورة الطمث في مرحلة التبويض حيث أنه إذا لم يتم إخصاب البويضة يضمحل الجسم الأصفر فيقل البروجسترون وتتهدم بطانة الرحم

٢- أثناء الحمل حتى نهاية الشهر الثالث وبدأ من الشهر الرابع يتقدم نمو المشيمة في الرحم لتحل محله في إفراز البروجسترون حيث يتحلل الجسم الأصفر

34.

أحد شريطي DNA يكون في وضع معاكس للشريط المقابل.

لأن أحد الشريطين اتجاهه (5' ← 3') بينما الشريط المقابل يكون اتجاهه (3' ← 5')  
بمعنى أن مجموعة الفوسفات الطرفية المتصلة بذرة الكربون رقم (5) في السكر الخماسي  
في شريطي DNA تكون عند الطرفين المتعاكسين لكي تتكون الروابط الهيدروجينية.  
بين زوجي القواعد النيتروجينية بشكل سليم .

الأسئلة من ( 35 - 36 ):

إذا كان تسلسل الشفرات الثلاثية على شريط DNA كالتالي :

3'...TACTTTAGAGCGTTTACT.....5'

35- اكتب تسلسل mRNA المصنوع من الشريط السابق ؟

5 ....AUG AAA UCU CGC AAA UGA .... 3

36- ما عدد أنواع جزيئات t-RNA التي تشارك في ترجمة هذه الاحماض الامينية ؟

أربعة (٤) أنواع من جزيئات tRNA

الأسئلة من ( 37 - 39 ):

قارن بين كل مما يأتي:

37

التبرعم فى الخميرة والتبرعم فى الإسفنج.

التبرعم فى الخميرة :

- ١- ينشأ البرعم كبروز جانبي على الخلية الأصلية .
- ٢- تنقسم النواة ميتوزياً إلى نواتين تبقى إحدهما في الخلية الأم وتهاجر الثانية نحو البرعم.
- ٣- ينمو البرعم تدريجياً وقد يبقى متصلاً بخلية الأم حتى يكتمل نموه فينفصل عنها .
- ٤- قد يستمر في اتصاله بها مكوناً مع غيره من البراعم النامية مستعمرات خلوية

التبرعم فى الاسفنج :

- ١- ينمو البرعم على شكل بروز صغير من أحد جوانب الجسم بفعل انقسام الخلايا البينية وتميزها إلى برعم.
- ٢- ينمو البرعم تدريجياً ليشبه الأم تماماً ثم ينفصل عن جسم الأم ليبدأ حياته مستقلاً.

38

المناعة المتخصصة والمناعة غير المتخصصة فى الإنسان.

المناعة غير المتخصصة (الطبيعية)

المناعة المنخفضة (المكتسبة)

<p>مجموعة الوسائل الدفاعية التى تحمى الجسم وتتميز باستجابة سريعة وفعالة لمقاومة ومحاربة وتفتيت أى ميكروب أو أى جسم غريب يحاول دخول الجسم وتمر بخطى دفاع :</p> <p>١-خط الدفاع الأول : مجموعة من الحواجز الميكانيكية أو الطبيعية بالجسم مثل الجلد والمخاط والدموع والعرق وحمض الهيدروكلوريك بالمعدة لمنع الكائنات الممرضة من دخول الجسم</p> <p>٢-خط الدفاع الثانى : نظام دفاعى داخلى وفيه يستخدم طرق وعمليات غير متخصصة متلاحقة تحيط بالميكروبات لمنع انتشار الميكروبات وتبدأ هذه العمليات بحدوث إتهاب شديد لا تكون خلايا ذاكرة</p>	<p>خط دفاع ثالث يلجأ إليه الجسم إذا ما أخفق خط الدفاع الثانى فى التخلص من الجسم الغريب</p> <p>يتمثل فى استجابة الخلايا الليمفاوية للتخلص من الجسم الغريب بسلسلة من الوسائل الدفاعية المتخصصة التى تقاوم ذلك الكائن المسبب للمرض . وتتم من خلال آليتين :</p> <p>١-المناعة الخلطية (المناعة بالأجسام المضادة)</p> <p>٢-المناعة الخلوية (المناعة بالخلايا الوسيطة)</p> <p>تكون خلايا ذاكرة</p>
-----------------------------------------------------------------------------------------------------------------------------------------------------------------------------------------------------------------------------------------------------------------------------------------------------------------------------------------------------------------------------------------------------------------------------------------------------------------------------------------------------------------------------------	---------------------------------------------------------------------------------------------------------------------------------------------------------------------------------------------------------------------------------------------------------------------------------------------------------------------------------------------------------------------------------------------

39

هرمونات القشرة وهرمونات النخاع التي تؤثر على أيض الكربوهيدرات.

هرمونات القشرة	هرمونات النخاع
الكورتيزون والكورتيكوستيرون يقومان بتنظيم أيض المواد النشوية بالجسم	الأدرينالين والنورأدرينالين يهيئان الجسم في حالة الطوارئ (كالخوف والإثارة والقتال والهروب) بمساعدة عضلات الجسم للحصول على الطاقة اللازمة للانقباض وزيادة استهلاك الأوكسجين عن طريق : ١- زيادة نسبة السكر في الدم بتحلل الجليكوجين المخزن في الكبد إلى جلوكوز

الأسئلة من ( 40 - 45 ) :

أعد كتابة العبارات التالية بصورة صحيحة بعد تغيير ما تحته خط:

40

أول تتابع على شريط DNA ويلي المحفز مباشرة هو CCA.

TAC

41

يبلغ مستوى سكر الدم في الشخص الطبيعي 50 - 60 ملليجرام / 100 سم<sup>2</sup>

..... ٨٠ - ١٢٠ ملليجرام / ١٠٠ سم<sup>٣</sup> .....

42

أكبر عدد من الفقرات العظمية يوجد في المنطقة العجزية.

..... المنطقة الظهرية .....

43

يحتوي غشاء المثلى على سائل يحمى الجنين من الجفاف والصدمات.

..... غشاء الرهل .....

44

الزهرة في نبات التوليب زهرة نموذجية.

..... البيتونيا أو الفول أو التفاح أو البصل .....

45

تكوين الفيتولات هي إحدى وسائل المناعة التركيبية في النبات.

..... المناعة البيوكيميائية .....

الأسئلة من ( 46 - 49 ):

أكتب العدد الدال على كل مما يأتي:

46

عدد عظام العمود الفقري.

٢٦

47

الغدة الكظرية.

٢ غدتان

48

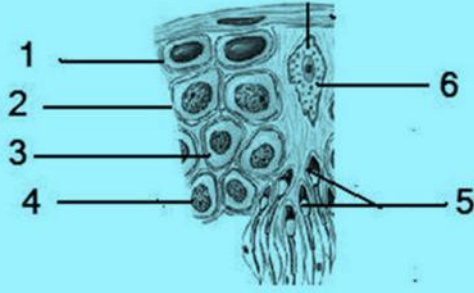
عدد السلوع العائمة.

زوجان ( ٤ سلوع )

49

عدد فصيص الغدة البرقية.

٢ (فصان )



من خلال الشكل المقابل أجب على ما يأتي:

الأسئلة من ( 50 - 54):

أذكر رقم واسم التراكيب الآتية:

50

خلايا تعمل على حماية وتغذية الحيوانات المنوية داخل الخصية.

رقم (٦) خلايا سرتولى

51

خلايا تنتج بالإقسام الميتوزي

رقم (١) أمهات المنى

52

خلايا تنتج بالإقسام الميوزي الأول.

رقم (٣) خلايا منوية ثانوية

53

خلايا تنتج دون إنقسام.

رقم (٢) الخلايا المنوية الأولية  
رقم (٥) الحيوانات المنوية



54

ما العدد الصبغى فى كل من التراكيب 1 و 4 ؟

العدد الصبغى لـ (١) هو (٢ن) = ٤٦ كروموسوم  
العدد الصبغى لـ (٤) هو (ن) = ٢٣ كروموسوم

الأسئلة من ( 55 – 58 )

ما النتائج المترتبة على كل ما يلى :

55

نقص إفراز هرمون الثيروكسين فى البالغين نقصا حادا .

يصاب الإنسان بحالة الميكسوديميا ومن أهم أعراضها :

- ١- جفاف الجلد وتساقط الشعر.
- ٢- نقص فى النشاط العقلي والجسمي.
- ٣- زيادة وزن الجسم (لدرجة السمنة المفرطة).
- ٤- هبوط التمثيل الغذائي (فلا يتحمل البرودة).
- ٥- تقل ضربات القلب ويتعب الشخص بسرعة

غياب الجذور الشادة من الأبصال .

لن تهبط البصلة أو الكورمة إلى المستوى الطبيعي الملائم وبالتالي لن يتم تدعيمها أو تأمين أجزائها الهوائية ضد الرياح

.....

.....

.....

.....

.....

.....

.....

نقص إفراز هرمون الغدد الجار درقية .

- ١- نقص نسبة الكالسيوم في الدم
- ٢- سرعة الانفعال والغضب لأقل سبب
- ٣- تشنجات عضلية

.....

.....

.....

.....

.....

.....

.....

.....

.....

حدوث تضاعف صبغي ثلاثي في البويضة المخصبة للانسان.

التضاعف الثلاثي في الإنسان مميت ويسبب إجهاض الأجنة

.....

.....

.....

.....

.....

.....

.....

.....

.....

.....

الأسئلة من (59 - 60)

كيف تعالج الحالات التالية ؟

59

تعرض عملية الولادة .

بالحرمون المنبه لعضلات الرحم (الأوكسيتوسين)  
الذي ينظم تقلصات الرحم ويزيدها بشدة أثناء الولادة لإخراج الجنين  
[لذلك يستخدمه الأطباء للإسراع فى عمليات الولادة]

.....

.....

.....

.....

60

التضخم الحوضي

- ١- استئصال جزء من الغدة الدرقية
- ٢- المركبات الطبية (العقاقير)

.....

.....

.....

.....

.....

انتهت الأسئلة

الأستاذ / موسى السيد خبير تدريس الأحياء والجيولوجيا  
ت / ٠١٠٩٩٣٧٨٢٠٦



أجب عن الأسئلة التالية

1. اختر الإجابة الصحيحة :

الهرمون الذي يزيد إفرازه عند بدء وصول الطعام إلى المعدة هو .....

Ⓐ الجاسترين

Ⓑ الكوليسستوكينين

Ⓒ السكرتين

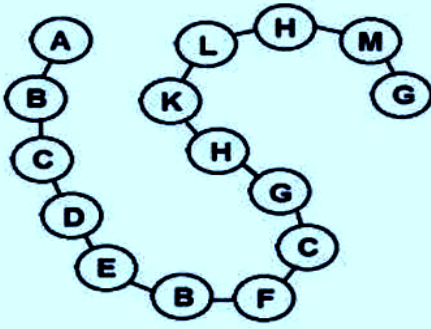
Ⓓ الأنسولين

2. علل : يختلف توقيت الانقسام الميوزي حسب صور التكاثر الجنسي

في التكاثر الجنسي بالاقتران : يحدث الانقسام الميوزي بعد تكوين اللاقحة عند تحسن الظروف المحيطة بها قبل عملية الانبات  
أما في التكاثر الجنسي بالأمشاج : يحدث الانقسام الميوزي في المناسل لإنتاج الأمشاج قبل اندماجها لتكوين اللاقحة التي تنقسم ميتوزياً وتنمو في جنين

3. اكتب المصطلح العلمي : هرمون يزيد تركيزه عند الأطفال المصابون بالسرطان

هرمون التيموسين



الأسئلة من ( 4 – 8 ) :  
أفحص الشكل المقابل الذي يوضح سلسلة عديد ببتيد ،  
ثم أجب :

4. احسب عدد أنواع الأحماض الأمينية التي تدخل في بناء هذه السلسلة

١١ نوعاً

5. احسب عدد كودونات m-RNA المسئولة عن تخليق هذه السلسلة

١٦ كودوناً

6. احسب عدد نيكليوتيدات m-RNA

٤٨ نيوكليوتيدة

7. ما اسم الحمض الأميني A

حمض الميثونين

8. ما عدد الروابط بين الاحماض الأمينية في هذه السلسلة ؟ وما نوعها ؟

١٤ رابطة – ببتيدية

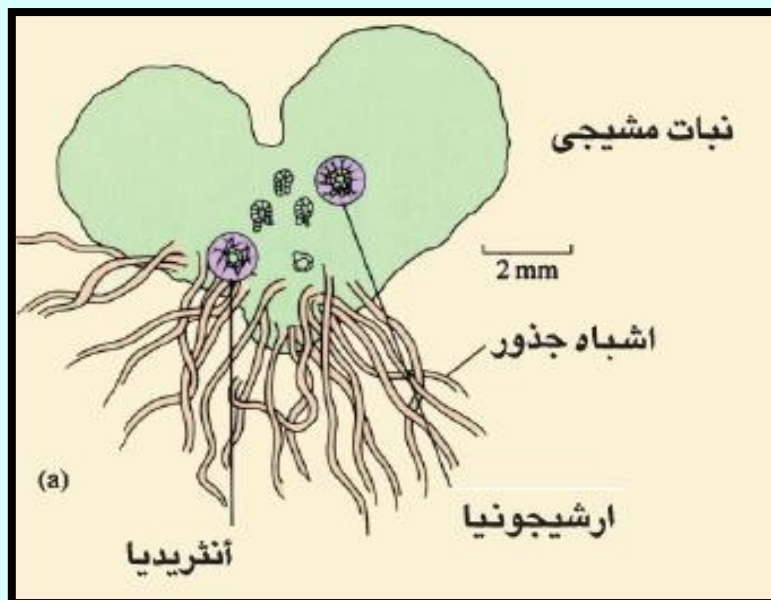
9

قارن من حيث التركيب :

الساق	الساعد
- الساق يوجد بالطرف السفلى ويتكون من عظمتين [ قسبة داخلية - شظية خارجية ]	- الساعد (يوجد بالطرف العلوي) ويتكون من الزند : بطرفه العلوي تجويف يستقر فيه النتوء الداخلي للمعد الكعبرة : أصغر حجماً وتتحرك حركة نصف دائرية

10

وضح بالرسم فقط مع كتابة البيانات : النبات المشيجي للفوجير





11. ماذا يحدث في حالة : غياب الليسوسومات من الخلايا البلعمية الكبيرة

لا تستطيع الخلية البلعمية الكبيرة تفكيك الأنتيجين إلى أجزاء صغيرة وبالتالي لا ترتبط مع بروتين التوافق النسيجي فلا تتعرف عليه الخلية الثانية المساعدة ولا يتم تنشيطها فتفشل آليات المناعة الخلوية والخلطية (المناعة المكتسبة)

12. اكتب المصطلح العلمى : جزيئات DNA الصغيرة الدائرية التي توجد في أوليات النواة

البلازميدات

13. ما المقصود بمصطلح: التيلوزات ؟

نموات زائدة تنشأ نتيجة تمدد الخلايا البرانشيمية المجاورة لقصبية الخشب وتمتد داخلها من خلال النقر وتتكون التيلوزات نتيجة تعرض الجهاز الوعائى للقطع أو غزو الكائنات الممرضة حتى تعيق تحرك هذه الكائنات إلى الأجزاء الأخرى من النبات

14. علل : تلعب الضلوع دورا في عمل ثلاث أجهزة مختلفة في الجسم

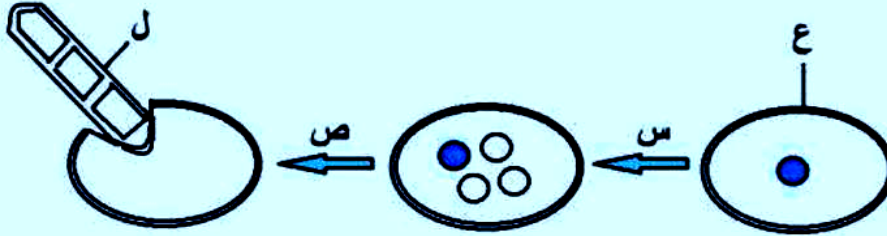
للضلوع دور في عمل  
١- الجهاز الهيكلى فهي تكون القفص الصدرى الذى يحمى القلب والرئتين  
٢- الجهاز التنفسى تتحرك الضلوع للأمام والجانبين لتزيد من اتساع التجويف الصدرى أثناء الشهيق وبالعكس أثناء الزفير  
٣- الجهازين المناعى والدورى فهي من العظام المسطحة التى تنتج خلايا الدم الحمراء والبيضاء (ومنها الحلايا الليمفاوية المكونات الرئيسية للجهاز الليمفاوى) وصفائح الدم

15. اختر الإجابة الصحيحة :

المنطقة التي تختفي عند انقباض الليفة العضلية هي .....

- A (أ)
- I (ب)
- H (ج)
- Z (د)

الشكل التالي يوضح بعض مراحل دورة حياة طحلب الأسبيروجيرا .. في ضوء ذلك أجب عن الأسئلة من 16 إلى 18 :



16. متى تحدث هذه المراحل أثناء دورة حياة الأسبيروجيرا ؟

عند تحسن الظروف المحيطة باللاقحة الجرثومية (الزيجوسبور)

17. ما نوع الانقسام الذي يحدث في (س) و (ص)

س ينقسم ميوزياً - ص ينقسم ميتوزياً

18. ما اسم الطور (ع) ؟ وكم عدد المجموعات الصبغية له ؟

الطور (ع) هو الزيجوسبور (اللاقحة الجرثومية)  
ثنائي المجموعة الصبغية (٢ن)

.19

اذكر مكان ووظيفة كل من : الثقب الكبير

المكان	الوظيفة
يوجد فى قاع الجزء المخي للجمجمة	يتصل من خلاله المخ بالحبل الشوكي

.20

قارن من حيث نوع السكر:

نيكليوتيدة RNA	نيكليوتيدة DNA
تتكون كل نيوكليوتيدة من : سكر خماسي وقاعدة نيتروجينية و مجموعة فوسفات ترتبط القاعدة النيتروجينية برابطة تساهمية بذرة الكربون رقم (١) للسكر الخماسي وترتبط مجموعة الفوسفات برابطة تساهمية بذرة الكربون رقم (٥) للسكر الخماسي	تتكون كل نيوكليوتيدة من : سكر خماسي وقاعدة نيتروجينية و مجموعة فوسفات ترتبط القاعدة النيتروجينية برابطة تساهمية بذرة الكربون رقم (١) للسكر الخماسي وترتبط مجموعة الفوسفات برابطة تساهمية بذرة الكربون رقم (٥) للسكر الخماسي
السكر الخماسي هو سكر الريبوز القواعد النيتروجينية هي : الأدينين والجوانين والسيتوزين واليوراسيل بدلاً من الثايمين [G=C A=U]	السكر الخماسي هو سكر الديوكسي ريبوز (الذي يحتوي على ذرة أكسجين أقل من سكر الريبوز) القواعد النيتروجينية هي : الأدينين والجوانين والسيتوزين والثايمين [ G=C A=T]

21.

ماذا يحدث في حالة : غياب النيوسيلة من بويضة زهرة نبات الفول

لن يتم نضج البويضة لأن النيوسيلة نسيج غذائي يحيط  
بالكيس الجنيني لتغذية البويضة أثناء عملية نضجها

Mr.Moussa AlSayed

22.

اختر الإجابة الصحيحة :

لا تستطيع الخلايا TH التعرف على الانتيجينات الا بعد ارتباطها ب

IgM (أ)

MHC (ب)

CD8 (ج)

كل ما سبق (د)

23.

علل : تناقص عدد الأجسام المضادة عند شفاء المريض

لأن الخلايا التائية المثبطة (Ts) بعد القضاء على الكائن الممرض ترتبط  
بمستقبلها المناعي (CD8) بالخلايا البائية البلازمية يحفزها ذلك على  
إفراز الليمفوكينات التي توقف الخلايا البائية البلازمية عن إنتاج الأجسام

24. اكتب المصطلح العلمي : قدرة البويضة على تكوين جنين بدون اخصاب

التوالد البكرى

25. ما المقصود: المفاصل الليفية

مفاصل تلتحم العظام عندها بواسطة أنسجة ليفية ولا تسمح بالحركة ومع تقدم العمر يتحول النسيج الليفى الى نسيج عظمي مثال:المفاصل تربط عظام الجمجمة ببعضها من خلال أطرافها المسننة

26. اختر الإجابة الصحيحة :

تتكون حبوب اللقاح في النباتات الزهرية عن طريق

- ١) الانقسام الميتوزى  
 ب) الانقسام الميوزى  
 ج) الانقسام الميتوزى يليه الانقسام الميوزى  
 د) الانقسام الميوزى يليه الانقسام الميتوزى

27. ماذا يحدث في حالة : تناقص المخزون المباشر للطاقة في العضلة التوأمية

تناقص جزيئات ATP فى العضلة التوأمية يجعلها غير قادرة على الانقباض والانبساط وقد تنعدم المرونة فيها إلى الحد الذى يتسبب فى تمزق وتر أخيل

28. ما المقصود: الطفرة الجينية

طفرة ناتجة عن تغير في تركيب الجين (تحديداً في ترتيب القواعد النيتروجينية في جزئ DNA مما يؤدي إلى تكوين بروتين مختلف يظهر صفة جديدة وقد تحول هذه الطفرة الجين الصورة السائدة إلى المتنحية أو العكس(في حالات نادرة)

29. اذكر مكان ووظيفة كل من : خلايا سرتولى

المكان	الوظيفة
داخل الأنابيبات المنوية فى الخصية	تفرز سائل لتغذية الحيوانات المنوية داخل الخصية ويعتقد أن لها وظيفة مناعية

30.

قارن من حيث الاستجابة المناعية:

الخلايا القاتلة الطبيعية NK	الخلايا البائية البلازمية B
لها القدرة على مهاجمة خلايا الجسم المصابة بالفيروس والخلايا السرطانية وتقضى عليها عن طريق إنزيمات تفرزها هذه الخلايا القاتلة كما أن لها دور فى المناعة الطبيعية حيث أنها مكون من مكونات خط الدفاع الثانى	تنتج كميات كبيرة من الأجسام المضادة التى تدور عبر الأوعية الليمفاوية ومجرى الدم لتحارب العدوى حيث ترتبط بالأنتيجينات الموجودة على سطح الكائنات الممرضة فيثير ذلك الخلايا البلعمية الكبيرة فتقوم بالتهام هذه الأنتيجينات وتستمر هذه العملية لعدة أيام أه أساسه

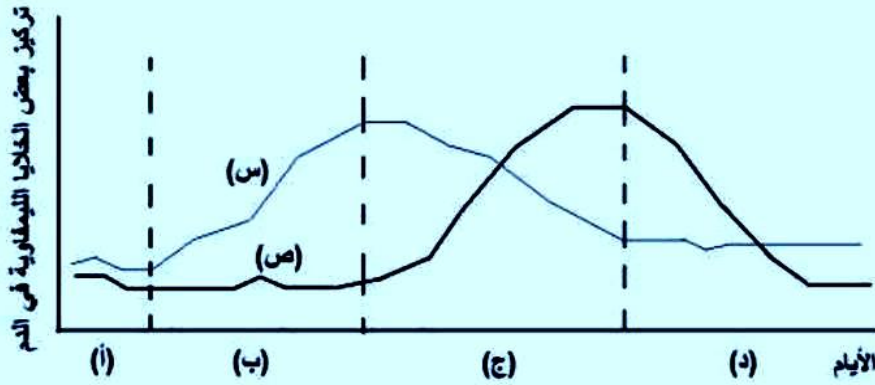
31

اكتب المصطلح العظمى :

هرمون غدى يفرز من الغدة النخامية لا يؤثر على غدد أخرى بالجسم

هرمون النمو (GH)

الأسئلة من ( 32 - 35 ) : افحص الشكل البياني المقابل الذي يوضح تركيز نوعين من الخلايا التائية في دم شخص .. ثم أجب عن الأسئلة من 45 الى 48 :



32

ما نوعي الخلايا (س) و (ص)

الخلايا س هي الخلايا التائية السامة ( TH )  
الخلايا ص هي الخلايا التائية المثبطة ( Ts )

33

بم تفسر تزايد عدد الخلايا (س) في المرحلة (ب)

تزداد الخلايا التائية المساعدة في المرحلة (ب) لإفراز الانترليوكينات التي تنشط بها الخلايا البائية لإنتاج الأجسام المضادة والخلايا التائية المساعدة الأخرى لإنتاج السيتوكينات فتتنشط آليتي المناعة الخلوية والخلطية في مواجهة الميكروب

34

بم تفسر تزايد الخلايا (ص) وتناقص الخلايا (س) في المرحلة (ج)

بعد أن يتم القضاء على الأنتيجينات الغريبة :

- ١- ترتبط الخلايا التائية المثبطة ( $T_S$ ) بواسطة المستقبل CD8 الموجود على سطحها مع الخلايا البائية البلازمية والخلايا التائية المساعدة والسامة
  - ٢- فيحفرها هذا الارتباط على إفراز بروتينات الليمفوكينات التي توقف الخلايا البلازمية عن إنتاج الأجسام المضادة
- ☐ وكذلك موت الكثير من الخلايا التائية المساعدة والسامة المُنشّطة

35

ما اسم المواد التي تفرزها الخلايا (س) والخلايا (ص)

- س الخلايا التائية المساعدة النشطة (TH) تفرز الانترليوكينات ومنها ما يفرز السيطوكينات
- ص الخلايا التائية المثبطة ( $T_S$ ) تفرز بروتينات الليمفوكينات التي تثبط أو تكبت الاستجابة المناعية أو تعطلها

36

اختر الإجابة الصحيحة :

الزيادة في عدد الخلايا وثبات عدد صبغياتها عند تكوين البويضات في انثى الانسان يكون في مرحلة .....

- ⬠ ا. التضاعف
- Ⓐ ب. النمو
- Ⓒ ج. النضج
- Ⓓ د. التشكل



37. ما المقصود: زراعة الأنوية

أزالت أنوية من خلايا أجنة (كالضفدعة) في مراحل نمو مختلفة و زرع هذه الأنوية في بويضات غير مخصبة سبق نزع أنويتها أو تحطيمها بالإشعاع فتنمو كل من هذه البويضات إلى أفراد ينتمون في صفاتهم للأنوية المزروعة

38. اكتب المصطلح العلمي :

اتصال التفرع النهائي لليف العصبي الحركي بالصفحة النهائية الحركية لليفه عضلية

الوصلة العصبية العضلية أو التشابك العصبي العضلي

39. وضح بالرسم فقط مع كتابة البيانات : الحمض النووي الرسول m-RNA



رسم تخطيطي لجزء mRNA يظهر به موقع الارتباط بالريبوسوم وذيل عديد الأدينين وكودون البدء

40

اذكر مكان ووظيفة كل من : الغدة التيموسية

المكان	الوظيفة
تقع على القصة الهوائية أعلى القلب وخلف عظمة القص	تفرز هرمون التيموسين الذى يحفز نضج الخلايا الليمفاوية الجذعية إلى الخلايا التائية (T) وتمايزها إلى أنواعها المختلفة داخل الغدة التيموسية

41

اختر الإجابة الصحيحة :

عينة DNA تحتوى على 4000 نيكلوتيدة منها 400 نيكلوتيدة جوانين فإن عدد نيكلوتيدات الأدينين يساوى .....

- أ 1400 نيكلوتيدة  
 ب 1600 نيكلوتيدة  
 ج 1800 نيكلوتيدة  
 د 2000 نيكلوتيدة

42

علل : الانسولين المخلق جينيا أفضل من المستخلص من بنكرياس الماشية

لأن الأنسولين البشري الذي تنتجه البكتيريا بتكنولوجيا DNA معاد الاتحاد أفضل لبعض المرضى الذين لا يتحملون الفروق الطفيفة بين الأنسولين البشري وأنسولين الأنواع الأخرى (كالماشية والخنازير)

.43

ماذا يحدث في حالة : معاملة الجينوم البشري بانزيمات القصر البكتيرية

يتم قص DND بواسطة إنزيمات القصر وبذلك يتم الحصول من المحتوى الجيني للإنسان على ملايين من قطع DNA يمكن بعد ذلك لصق هذه القطع ببلازميدات أوفاج لمضاعفتها داخل خلايا بكتيرية

.44

اكتب المصطلح العلمي :

الخلايا الأربع الناتجة من انقسام الخلايا الجرثومية الأمية ميوزيا أثناء تكوين حبوب اللقاح

الجراثيم الصغيرة

حدد نوع التكاثر اللاجنسي للكائنات الحية في الاسئلة من 45 الى 48 :

.45

البكتريا

الانشطار الثنائي

.46

البلائريا

التجدد

.47 الفوجير

التكاثر بالجراثيم

.48 فطر الخميرة

التبرعم

.49

قارن من حيث مكان الافراز :

هرمون الأستروجين	هرمون التستوستيرون
يفرز من حويصلة جراف فى المبيض	يفرز من الخلايا البينية فى الخصية

.50

اذكر مكان ووظيفة : الموقع CCA

المكان	الوظيفة
عند الطرف (3') من جزئ tRNA	يتحد فيه جزئ tRNA بالحمض الأميني الخاص به

الأستاذ / موسى السيد خبير تدريس الأحياء والجيولوجيا

ت / ٠١٠٩٩٣٧٨٢٠٦

مع أطيب التمنيات بالتوفيق،،،،



وزارة التربية والتعليم

مديرية التربية والتعليم بمحافظة .....

## نموذج استرشادى تدريبي لشهادة إتمام الدراسة ت . ع

نموذج ثانوية عامة

المادة : علم الأحياء

التاريخ : / / ٢٠١٧

زمن الإجابة : ثلاث ساعات

٣

عدد أوراق الإجابة (١٠) ورقات  
بخلاف الغلاف  
وعلى الطالب مسؤولية المراجعة  
والتأكد من ذلك قبل تسليم الكرسة

مجموع الدرجات


توقيع		الدرجة	الأسئلة من ..... إلى .....
المراجع	المقدر		

رقم المراقبة

مجموع الدرجات بالحروف :

إمضاءات المراجعين :

عدد أوراق الإجابة (١٠) ورقات  
بخلاف الغلاف  
وعلى الطالب مسؤولية المراجعة  
والتأكد من ذلك قبل تسليم الكرسة

٣

نموذج ثانوية عامة

وزارة التربية والتعليم

نموذج استرشادى تدريبي لشهادة إتمام الدراسة ت . ع

المادة : علم الأحياء

التاريخ : / / ٢٠١٧

زمن الإجابة : ثلاث ساعات

رقم المراقبة

اسم الطالب (رباعياً) /

المدرسة :

رقم الجلوس :

الإدارة :

الغانظة :

-١

-٢

توقيع الملاحظين بصحة البيانات :  
ومطابقة عدد أوراق كراسة الإجابة  
عند استلامها من الطالب .

أجب عن الأسئلة الآتية :

1.

اختر أحد السؤالين (أ) أو (ب) ، وأجب عليه :

- أ- علل : فى حشرة نحل العسل يختلف إنتاج الأمشاج فى الذكور عنه فى الإناث.  
ب- علل : لا يعتبر تنشيط بويضات نجم البحر والضفدعة توالد بكرى طبيعى.

أ- ذكور نحل العسل أحادية المجموعة الصبغية (ن) فتنج حيواناتها المنوية بالانقسام الميوزى بينما الملكات ثنائية المجموعة الصبغية (٢ن) فتنج بويضاتها بالانقسام الميوزى

ب- لأن بويضات نجم البحر والضفدعة لا تنمو تلقائياً بدون إخصاب كبويضات نحل العسل أو المن وإنما لا تنشط بويضاتها إلا بعد تعريضها لصدمة حرارية أو كهربية أو للإشعاع أو لبعض الأملاح أو الرج أو الوخز بالأبر فتضاعفت صبغياتها بدون إخصاب

2.

اختر أحد السؤالين (أ) أو (ب) ، واكتب المصطلح العلمى الذى يعبر عنه:

- أ- عملية إنتاج نبات كامل من خلايا نباتية دون حدوث تلقيح أو إخصاب..  
ب - نوع من التكاثر الجنسي يتم بواسطة الخلايا الجسدية..

ب- الاقتران

أ- زراعة الأنسجة

3.

اختر أحد السؤالين (أ) أو (ب) ، واذكر ماذا يحدث عند :

- أ - غياب بروتين التوافق النسيجي MHC من الخلايا البلعمية الكبيرة.  
ب - غياب خلايا الدم البيضاء القاعدية والصارية من مكان الإلتهاب.

أ- لن يتم عرض أنتيجين على سطح الخلية البلعمية الكبيرة فلا تتعرف عليه الخلية التائية المساعدة ولا يتم تنشيطها فتفشل آليات المناعة الخلوية والخلطية (المناعة

ب- ينتشر الميكروبات داخل الجسم لعدم إفراز حبيبات الهيستامين المولدة للإلتهاب فلا تتمدد جدران الأوعية الدموية ولن تزيد نفاذيتها لبلازما الدم بما بها من مواد كيميائية مذيبة وقاتلة للبكتيريا و لن تتيح لخلايا الدم البيضاء المتعادلة ووحيدة النواة وكذلك الخلايا البلعمية الكبيرة محاربة وقتل الأجسام الغريبة والميكروبات)

الأسئلة من (4 - 6):

إذا كان ترتيب القواعد النيتروجينية في جزء من شريط DNA هو:

3'--- ACG AGT CAG AGT CAG ATC ----5'

4. اكتب تتابع m-RNA المنسوخ من الشريط السابق

5 --- UGC UCA GUC UCA GUC UAG ----- 3

5. ما عدد جزيئات الحمض النووي الناقل t- RNA المستخدمة في عملية ترجمة m-RNA

المنسوخ من هذا الجزء من الجين ؟

٣ أنواع من tRNA

6. ما عدد الأحماض الأمينية الناتجة من عملية ترجمة m-RNA المنسوخ ؟

٥ أحماض أمينية

7. اذكر مكان ووظيفة: القناة العصبية

المكان : تحيط بها الحلقة العصبية(الشوكية) في الفقرة العظمية  
الوظيفة : يمتد خلالها الحبل الشوكي لحمايته





8. وضح بالرسم فقط مع كتابة البيانات: الحيوان المنوي للإنسان

9. قارن بين الرسغ والعرقوب من حيث العدد - التركيب.

الرسغ

العرقوب

**العرقوب: (٧) عظام غير منتظمة الشكل أكبرها الخلفية وتكون كعب القدم**

**الرسغ: (٨) عظام في صفيين يتصل طرفها العلوي بالطرف السفلي للكعبرة والطرف السفلي بعظام راحة اليد.**

10. اختر أحد السؤالين (أ) أو (ب) ، وأجب عليه :

أ- علل : في شريط ال DNA يكون أحدهما في وضع معاكس للآخر.

ب- علل : المسافة بين الشريطين متساوية على امتداد جزيء ال DNA

أ- لأن أحد الشريطين اتجاهه (5' ← 3') بينما الشريط المقابل يكون اتجاهه (3' ← 5') بمعنى أن مجموعة الفوسفات الطرفية المتصلة بذرة الكربون رقم (5) في السكر الخماسي في شريطي DNA تكون عند الطرفين المتعاكسين لكي تتكون الروابط الهيدروجينية بين زوجي القواعد النيتروجينية بشكل سليم

ب- لأن كل درج من درجات سلم DNA يتكون من ارتباط قاعدة ذات حلقة واحدة (البريميدينات) وأخرى ذات حلقتين (البورينات).

11. اكتب المصطلح العلمي الذي يعبر عن:

عقد صغيرة من الخلايا الليمفاوية تنتشر في الغشاء المخاطي المبطن للجزء الأسفل من الأمعاء الدقيقة.

بقع باير

12.

أذكر مما درست سبب ظهور بعض سمات الرجولة في بعض الإناث.

لأن قشرة الغدة الكظرية تفرز مجموعة من الهرمونات الجنسية التي لها نشاط مشابه للهرمونات الذكرية (التستوستيرون) والأنثوية (الإستروجين / البروجسترون) واختلال التوازن بين هذه الهرمونات والهرمونات الجنسية للمناسل يسبب ظهور عوارض الرجولة في النساء وعوارض الأنوثة في الرجال

13. اختر الإجابة الصحيحة :

إذا علمت أن دورة الطمث عند أنثى الإنسان البالغة بدأت يوم 20 من شهر سبتمبر ، فإنه من المحتمل أن تتحرر البويضة من المبيض يوم .....

أ) 25 سبتمبر

ب) 30 سبتمبر

ج) 4 أكتوبر

د) 10 أكتوبر

.14

أذكر أهمية التجويف الأرواح.

التجويف الأرواح يوجد عند الطرف الخارجي لعظمة لوح الكتف ويستقر فيه رأس عظمة العضد مكوناً المفصل الكتفى

Mr.Moussa AlSayed

.15

أكتب المصطلح العلمي:

تتابع من النيكليوتيدات على أحد شريطى ال DNA يرتبط به إنزيم بلمرة RNA

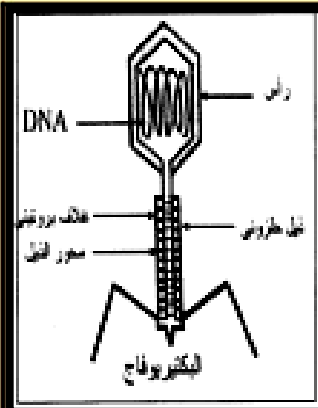
المحفز

.16

اختر أحد التركيبين (أ) أو (ب) ووضحه بالرسم فقط مع كتابة البيانات:

أ- تركيب جزيء الحمض النووى m-RNA

ب- تركيب البكتيريوفاج



موقع الارتباط بالريبوسوم

كودون البدء

كودون التوقف

m.RNA



AUG



UAG



AAAAAA



ذيل عديد الأدينين

رسم تخطيطى لجزيء mRNA يظهر به موقع الارتباط بالريبوسوم وذيل عديد الأدينين وكودون البدء

17

قارن بين التوائم المتماثلة والتوائم غير متماثلة

التوائم غير متماثلة	التوائم المتماثلة
تنشأ من تحرر بويضتين (من أحد المبيضين أو كليهما) وإخصاب كل منهما بحيوان منوي على حدة	تنشأ من إخصاب بويضة واحدة بحيوان منوي واحد ثم تفلجها إلى جزئين (جنينين)
لكل منهما كيس جنيني ومشيمة مستقلة	تجمعهما مشيمة واحدة
مختلفين وراثياً لايزيدان عن كونهما شقيقان لهما نفس العمر	متطابقان تماماً في جميع الصفات الوراثية
قد يتفان أو يختلفان في الجنس وفصيلة الدم	من جنس واحد ولهما نفس فصيلة الدم

18

ما المقصود بكل مما يأتي:

أ- بنوك الأمشاج.

ب- الاندماج الثلاثي.

أ- بنوك الأمشاج : بنوك للأمشاج الحيوانية المنتخبة (خاصة الماشية والخيول) توجد في بعض دول أوروبا وأمريكا للحفاظ عليها والإكثار منها وقت الحاجة يرغب بعض الناس في الاحتفاظ بأمشاجهم في تلك البنوك ضماناً لاستمرار أجيالهم حتى بعد وفاتهم

الاندماج الثلاثي : اندماج إحدى النواتين الذكريتين لحبة اللقاح (ن) مع النواة الناتجة من اندماج نواتا الكيس الجنيني (٢ن) لتكوين نواة الاندوسبيرم (٣ن)

19. اختر سؤال واحد فقط (أ) أو (ب) ، واجب عليه:

- أ- علل: يلعب هرمون التيموسين دورا هاما في عمل الجهاز المناعي.  
ب- علل: يحتوى الطحال على خلايا بلعمية كبيرة.

أ- لأن هرمون التيموسين Thymosin يحفز نضج الخلايا الليمفاوية الجذعية إلى الخلايا التائية (T) وتمايزها إلى أنواعها المختلفة داخل الغدة التيموسية

ب- تقوم الخلايا البلعمية الكبيرة بالتقاط كل ما هو غريب عن الجسم سواء كانت ميكروبات أو أجسام غريبة أو خلايا جسدية مسنة (هرمة) ككريات الدم الحمراء المسنة ويفتها إلى مكوناتها الأولية ليتخلص منها الجسم

20. اختر مصطلح واحد فقط (أ) أو (ب) ، ووضح المقصود به:

- أ- التجربة الحاسمة.  
ب- النيوكليوسوم.

أ- التجربة الحاسمة : اكتشاف إنزيم دآي أكسي ريبيونوكلييز الذي يحلل DNA تماما ولا يؤثر على البروتينات أو RNA وعندما عوملت المادة النشطة المسنولة عن التحول البكتيري بإنزيم دآي أكسي ريبيونوكلييز توقفت عملية التحول البكتيري نتيجة لغياب مادة DNA التي تحللت مما يؤكد أن DNA هو المادة الوراثية وليس البروتين

ب- النيوكليوسومات : حلقات في الصبغى تنتج من إتفاف اللولب المزدوج حول بروتينات هستونية تعمل على تقصير طول جزئ DNA عشر مرات

21. اختر أحد السؤالين (أ) أو (ب) ، واكتب المصطلح العلمي الذي يعبر عنه:

- أ- نوع من العضلات لا يحتوى خيوط أكتين او ميوسين ولا يتحكم الإنسان في عمله.  
ب- أصغر وحدة إنقباض في العضلة الهيكلية.

ب- القطعة العضلية (الساركومير)

أ- العضلات الملساء

22. اختر الاجابة الصحيحة :

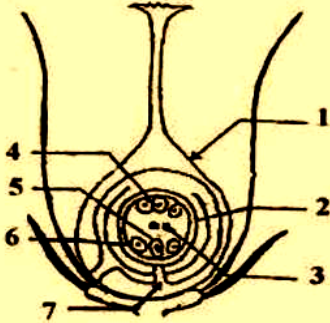
قطعة من جزيء DNA تحتوى على 8000 نيكليوتيدة منها 2000 نيكليوتيدة أدينين

فان عدد نيكليوتيدات السيتوزين يساوى .....

- ⬤ 2000 نيكليوتيدة .
- Ⓐ 2400 نيكليوتيدة .
- Ⓑ 2800 نيكليوتيدة .
- Ⓒ 3000 نيكليوتيدة .

الأسئلة (23 - 24):

باستخدام الرسم المقابل أجب عن الأسئلة:



23. اكتب رقم واسم الجزء الذي سيصبح بعد الاخصاب:

أ- غلاف الثمرة

رقم (١) جدار المبيض

ب- الجنين

رقم (٥) البيضة

24. اكتب رقم واسم الجزء الذي سيصبح بعد الاخصاب:

أ- الاتدوسبرم

رقم (٣) نواتا الكيس الجنينى

ب- الفتحة التى يدخل منها الماء للبذرة.

رقم (٧) ثقب النقىر

25

ماذا يحدث في الحالات الآتية؟

- أ- عدم وجود اللجنين في أوعية الخشب.  
ب- عند انفصال قطعة من الكروموسوم ثم دورانها حول نفسها 360 درجة ثم إعادة إلتحامها مرة أخرى.

أ- تفقد الأوعية الخشبية القوة والصلابة (الدعامة التركيبية) وتصبح ضعيفة ولينة يسهل على الكائنات الممرضة أختراقها وغزو أنسجة النبات المختلفة بسرعة أكبر

أ- لا يحدث شئ لعدم تغير ترتيب الجينات على الكروموسوم حيث أن القطعة عادت إلى نفس مكانها وب نفس ترتيب الجينات

26

قارن بين الخلايا البائية البلازمية B والخلايا البلعمية الدوارة من حيث الدور المناعي لكل منهما.

الخلايا البلعمية الدوارة	الخلايا البائية البلازمية B
<p>١- لها القدرة على التهام الأجسام الغريب ٢- كما أنها تحمل المعلومات التي تم جمعها عن الميكروبات والأجسام الغريبة لتقدمها للخلايا المناعية المتخصصة الموجودة في الغدد الليمفاوية المنتشرة في الجسم فتجهز لها ما يناسبها من وسائل دفاعية مثل الأجسام المضادة وتخصيص نوع الخلايا القاتلة الذي سيتعامل معها</p>	<p>تنتج كميات كبيرة من الأجسام المضادة التي تدور عبر الأوعية الليمفاوية ومجرى الدم لتحارب العدوى حيث ترتبط بالأنتيجينات الموجودة على سطح الكائنات الممرضة فيثير ذلك الخلايا البلعمية الكبيرة فتقوم بالتهام هذه الأنتيجينات وتستمر هذه العملية لعدة أيام أو أسابيع</p>

27

اكتب ما تعرفه عن الطفرة التلقائية وأهميتها.

- الطفرة التلقائية طفرة تحدث دون تدخل الإنسان وهي نادرة الحدوث (نسبتها ضئيلة جداً) سبب حدوثها : تأثيرات البيئة المحيطة بالكائن :
- ١- الأشعة الكونية
  - ٢- الأشعة فوق البنفسجية
  - ٣- المركبات الكيميائية
- أهميتها تلعب الطفرات التلقائية دوراً هاماً في عملية تطور الأحياء

28

اختر أحد السؤالين (أ) أو (ب)، واجب عليه:

- أ - علل: يعمل هرمون ADH على الحفاظ على نسبة الماء في الجسم .
- ب - علل: يفرز هرمون الأدرينالين في حالة الطوارئ.

أيحافظ هرمون ADH على نسبة الماء في الجسم لأنه يقلل كمية البول بإعادة امتصاص الماء في النفرون

ب- لأن هرمون الأدرينالين يهيئ الجسم في حالة الطوارئ (كالخوف والإثارة والقتال والهروب)

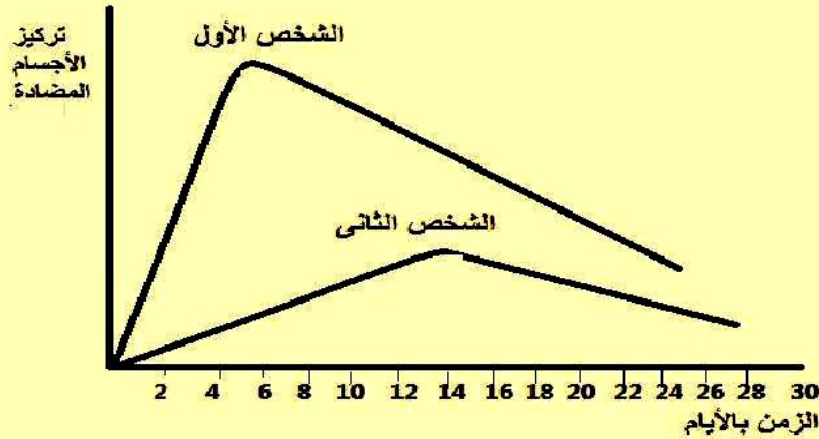
يساعدة عضلات الجسم للحصول على الطاقة اللازمة للانقباض وزيادة استهلاك الأكسجين عن طريق :

- ١- زيادة نسبة السكر في الدم بتحلل الجليكوجين المخزن في الكبد إلى جلوكوز
- ٢- زيادة قوة وسرعة انقباض القلب ورفع ضغط الدم



الأسئلة (29 - 32):

قام باحثان بدراسة الحالة المناعية لشخصين تعرضا للإصابة بمرض الملاريا . إدرس هذا المنحنى ثم أجب عن الأسئلة التالية:



29.

وضح مما درست كيف يمكن التعرف على الإصابة بمرض الملاريا.

يمكن التعرف على الإصابة بمرض الملاريا عن طريق تحليل عينة من دم الشخص والكشف عن الميروسومات والأطوار المشيجية بدمه ولا يمكن التعرف على الإصابة من خلال الأعراض وحدها حيث أنها تتشابه مع أعراض أمراض أخرى

30.

بين أي من هذين الشخصين تظهر عليه أعراض الإصابة بمرض الملاريا أولاً. ولماذا؟

الشخص الثاني : تظهر عليه الأعراض أولاً لنقص تركيز الأجسام المضادة في دمه حيث تحدث به استجابة مناعية أولية وهي بطيئة تستغرق من ٥ - ١٠ أيام لأنها تتم بالخلايا البائية والتائية التي في حاجة إلى وقت كي تتضاعف وتصل إلى أقصى إنتاجية لها من الخلايا البائية والتائية في ذلك الوقت تكون العدوى واسعة الانتشار فتظهر أعراض المرض

.31

كيف يتكاثر هذا الطفيل داخل جسم الإنسان؟

يتكاثر طفيل بلازموديوم الملاريا داخل جسم الإنسان لاجنسياً بالتقطع في خلايا الكبد وخلايا الدم الحمراء

.32

ما دور الخلايا البلعمية في مقاومة هذا المرض؟

تحمل المعلومات التي تم جمعها عن الميكروب لتقدمها للخلايا المناعية المتخصصة الموجودة في الغدد الليمفاوية المنتشرة في الجسم فتجهز لها ما يناسبه من وسائل دفاعية مثل الأجسام المضادة وتخصيص نوع الخلايا القاتلة الذي سيتعامل معها كما تقوم بالتهام أنتيجينات الميكروب بعد ارتباط الأجسام المضادة به وتخليص الجسم منه

.33

أذكر أهمية الأندروجينات.

الإندروجينات تفرزها الخلايا البينية في الخصية وتشمل التستوستيرون والاندروستيرون وهما مسئولان عن :  
أ- نمو البروستاتا والحوصلات المنوية  
ب- ظهور الصفات الجنسية الثانوية في الذكر

34

اختر احد السؤالين (أ) أو (ب) ، وأجب عنه:

- أ- أكتب ما تعرفه عن إستخدامات DNA المهجن.  
ب- أكتب ما تعرفه عن التطبيقات العملية لتكنولوجيا DNA معاد الإتحاد في مجال الزراعة

أ- أ) الكشف عن وجود جين معين داخل المحتوى الجيني وكميته ويتم ذلك كالتالي :

- ١- يحضر شريط مفرد لتتابع النيوكليوتيدات يتكامل مع أحد أشرطة الجين محل الدراسة وذلك باستخدام النظائر المشعة (حتى يسهل التعرف على هذا الشريط بعد ذلك) .
  - ٢- يخلط هذا الشريط مع جينات المحتوى الجيني
  - ٣- ترفع درجة الحرارة إلى ١٠٠ م ثم يبرد الخليط بهدف الحصول على DNA هجين (أحد الشريطين طبيعي والشريط المتكامل معه صناعي مشع) .
  - ٤- يستدل على وجود الجين وكميته بالسرعة التي تتكون بها اللوالب المزدوجة المشعة
- ب) تحديد العلاقات التطورية بين الأنواع المختلفة :  
كلما تشابه تتابع نيوكليوتيدات DNA بين نوعين من الكائنات الحية وزادت درجة التهجين بينهما كلما كانت العلاقة التطورية أقرب بينهما

ب- قد يتمكن الباحثون الزراعيون في القريب العاجل من :

- ١- إدخال جينات مقاومة للمبيدات العشبية وبعض الأمراض الهامة في نباتات المحاصيل.
- ٢- عزل ونقل الجينات الموجودة في النباتات البقولية والتي تمكنها من استضافة البكتيريا القادرة على تثبيت النيتروجين الجوي في جذورها إلى نباتات محاصيل أخرى حتى تستطيع استضافة هذه البكتيريا فيمكننا الاستغناء عن إضافة الأسمدة النيتروجينية عالية التكلفة والتي تسبب تلويث الماء في المناطق الزراعية

35

قارن بين الكيموكينات والانترليوكينات من حيث دورها المناعي.

الانترليوكينات	الكيموكينات
<ul style="list-style-type: none"> <li>☐ تعمل كأداة اتصال أو ربط بين الخلايا المختلفة للجهاز المناعي من جهة</li> <li>☐ ومن جهة أخرى بين الجهاز المناعي وخلايا الجسم الأخرى</li> <li>☐ بالإضافة إلى مساعدة الجهاز المناعي، في أداء وظيفته الدفاعية</li> </ul>	<ul style="list-style-type: none"> <li>عوامل جذب الخلايا المناعية</li> <li>البلعمية المتحركة مع الدم بأعداد كبيرة نحو موقع تواجد الميكروبات أو الأجسام الغريبة</li> <li>لتحد من تكاثر وانتشار المرض</li> </ul>

36. ما المقصود بالمناعة التركيبية الموجودة سلفاً في النبات.

مناعة تركيبية تتمثل في : ١- الأدمة الخارجية لسطح النبات تمثل حائط الصد الأول وقد:  
 (أ) تغطي بطبقة شمعية فلا يستقر عليها الماء وبالتالي لا تتوافر البيئة الصالحة لنمو  
 الفطريات وتكاثر البكتيريا  
 (ب) يكسوها الشعيرات أو الأشواك مما يحول دون تجمع الماء أو أكل بعض حيوانات  
 المراعى لها وبذلك تقل فرصة الإصابة بالأمراض  
 (٢) الجدار الخلوى : يمثل الواقى الخارجى للخلايا وخاصة طبقة البشرة الخارجية  
 ويتركب الجدار الخلوى أساساً من السليلوز وبعد تغلظه يدخل فى تركيبه اللجنين  
 مما يجعله صلباً يصعب على الكائنات الممرضة اختراقه

37. اختر أحد السؤالين (أ) أو (ب) ، واكتب المصطلح العلمى الذى يعبر عنه:

أ- نوع من الثمار يتشحم فيه أى جزء غير مبيضها بالغذاء.

ب - عملية تكوين ثمار بدون بذور.

ب- الاثمار العذرى

أ- الثمار الكاذبة(كالتفاح)

38. اختر الاجابة الصحيحة :

تتكون الخلايا السميتية في مبيض النباتات الزهرية عن طريق .....

١) الانقسام الميوزى فقط.

٢) الانقسام الميوزى فقط.

٣) الانقسام الميوزى يليه الانقسام الميوزى .

٤) الانقسام الميوزى يليه الانقسام الميوزى .

39. فسر هذه العبارة: يساعد كلا من الريبوسوم والبروتينات في تكوين بعضهما البعض.

لأنه يتم بناء البروتينات التي تدخل في تركيب الريبوسومات في السيتوبلازم (بواسطة الريبوسومات القديمة) ثم تنتقل عبر الغشاء النووي إلى النواة حيث يكون كل من rRNA والبروتين (عديد الببتيد) تحت وحدات الريبوسوم ثم تخرج تحت وحدات الريبوسوم إلى السيتوبلازم حتى تقوم الريبوسومات الجديدة بعملها في بناء البروتينات المختلفة

40. ما المقصود بمصطلح :- الأكروميغالي.

حالة مرضية ناتجة عن زيادة إفراز هرمون النمو في البالغين وفيها يتم تجديد نمو الأجزاء البعيدة في العظام الطويلة كالأيدي والأقدام والأصابع وتضخم عظام الوجه

41. اختر الإجابة الصحيحة :

المنطقة التي تختفي صورتها في حالة انقباض الليفة العضلية هي:

- أ) المنطقة التي تحتوى الأكتين فقط
- ب) المنطقة التي تحتوى الميوسين فقط
- ج) المنطقة التي تحتوى الأكتين والميوسين
- د) خطوط Z

42. اذكر أسماء الهرمونات المسئولة عن رفع تركيز الجلوكوز في الدم.

الجلوكاجون / الأدرينالين والنور أدرينالين  
(يحفز الكبد على تحويل الجليكوجين إلى جلوكوز)  
الثيروكسين: (يحفز امتصاص السكريات الأحادية في القناة الهضمية)





أجب عن الأسئلة الآتية :

اختر الاجابة عن أحد السؤالين ( أ ) أو ( ب ):

اختر الاجابة الصحيحة :

( أ ) المسافة بين كل خطى ( Z ) متتاليين فى الليفة العضلية تسمى .....

( أ ) الساركوبلازم

( ب ) القطعة العضلية

( ج ) الساركوليمما

( د ) المنطقة شبه المضيفة

( ب ) يعتبر حجم الفقرة رقم ( 20 ) بالنسبة لحجم الفقرة رقم ( 19 ) فى العمود الفقرى للإنسان .....

( أ ) أقل منها

( ب ) مساوية لها

( ج ) أكبر منها قليلا

( د ) أكبر منها كثيرا

2

اختر الاجابة عن أحد السؤالين ( أ ) أو ( ب ):

اكتب المصطلح العظمى الدال على :

( أ ) إحدى وسائل منع الحمل التى تمنع دخول الحيوانات المنوية الى مهبل الأنثى .

( ب ) نمو الأنسجة النباتية والحيوانية فى وسط غذائى شبه طبيعى وتتبع نموه وتميزه الى أن يصل إلى كائن كامل .

أ- الواقى الذكري

ب- زراعة الأنسجة



3

اختر الإجابة عن أحد السؤالين (أ) أو (ب) :

أذكر مكان ووظيفة :

( أ ) إنزيم الربط .

( ب ) إنزيمات القصر البكتيرية .

أ- إنزيم الربط : يوجد داخل النواة وظيفته:

١- له دور في تضاعف DNA حيث يقوم بربط قطع DNA الصغيرة للشريط الجديد (٣ ← ٥ )

٢- إصلاح تلف DNA حيث يقوم بالتعرف على المنطقة التالفة في جزئ DNA وإصلاحها حيث تستبدلها بنيوكليوتيدات تتزاوج مع تلك الموجودة على الشريط المقابل

٣- له دور في استنساخ DNA حيث يقوم بربط النهايات اللاتمامة التي تقوم إنزيمات الربط بالتعرف على المنطقة التالفة في جزئ DNA وإصلاحها حيث تستبدلها .

ب- إنزيمات القصر : منتشرة في الكائنات الدقيقة خاصة البكتيريا وظيفته:

١- تتعرف على مواقع معينة من جزئ DNA الفيروسي الغريب وتهضمه إلى قطع عديمة القيمة وبذلك تحمي هذه البكتيريا من الإصابة بالفيروسات

٢- لها دور في استنساخ DNA حيث تقوم بقص كل من الجين (المراد نسخه) والبلازميد بنفس إنزيم القصر لتكوين نهايات مفردة الشريط متكاملة القواعد ( أطراف لاصقة) .

قارن بين :

4

التجويف الحقي	التجويف الأرواح	وجه المقارنة
يوجد عند موضع اتصال الحرقفة بالورك	يوجد عند الطرف الخارجي لعظمة لوح الكتف	المكان
تستقر فيه رأس عظمة الفخذ ليكون مفصل الفخذ	يستقر فيه رأس عظمة العضد مكوناً المفصل الكتفي	الوظيفة

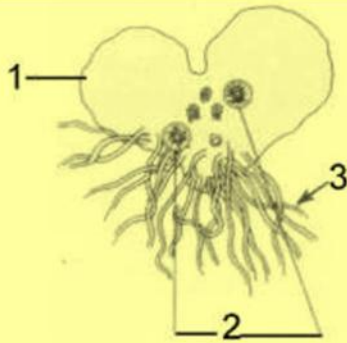
5. علل : يظل ضغط الدم ثابتاً داخل الأوعية الدموية .

بسبب انقباض العضلات الملساء (اللاإرادية) بجدران الأوعية الدموية وحتى يساعد في استمرار تحرك الدم في الأوعية الدموية

6. ماذا يحدث إذا: تعرفت الخلايا الليمفاوية البائية على الأنتيجين لأول مرة ؟

عندما تصادف الخلايا البائية الأنتيجينات لأول مرة بالإنقسام المتكرر لتكوين مجموعات من الخلايا كل مجموعة منها تتخصص لإنتاج نوع واحد من الأجسام المضادة تتخصص بدورها لتضاد نوع واحد من الأنتيجينات

7. ادرس الشكل الذي أمامك، ثم أجب:



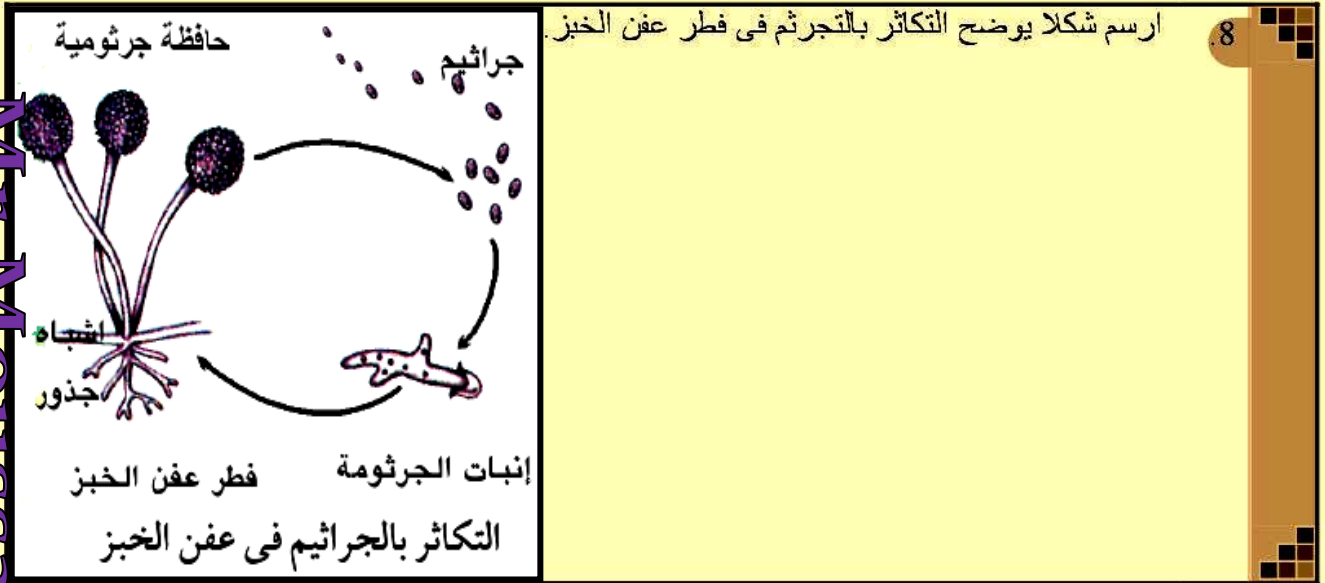
- أولاً: أذكر اسم البیان رقم ( 1 )  
 ثانياً: أذكر العدد الصبغى للبیان رقم ( 2 )  
 ثالثاً: ما أهمية البیان رقم ( 3 ) ؟  
 رابعاً: ما نوع التكاثر في هذه المرحلة ؟

أولاً : الطور المشيجي

ثانياً : احادی المجموعة الصبغية (ن)

ثالثاً : أشباه الجذور تخترق التربة لامتصاص الماء والأملاح لتغذية النبات المشيجي

رابعاً : يتكاثر الطور المشيجي جنسياً بالأمشاج(مذكرة سابحات مهدبة ومونثة بويضات



9 فسر كيف يمكن الحصول على إنتاج فرد جديد من بويضة أحادية المجموعة الصبغية دون إخصاب؟

بالتوالد البكرى الصناعى حيث يتم تنشيط بويضات بعض الحيوانات كالضفدة ونجم البحر بتعريضها لصدمة حرارية أو كهربية أو للإشعاع أو لبعض الأملاح أو الرج أو الوخر بالأبر فتضاعف صبغياتها بدون إخصاب ثم تنمو إلى فرد جديد

10 اختر الإجابة عن أحد السؤالين (أ) أو (ب):

ماذا يحدث :

(أ) إذا كان شريطى DNA متوازيين .

(ب) إذا أضيف إنزيم ديوكسى ريبونوكليز إلى عينة من DNA

أ- يكون عرض درجات السلم على امتداد الجزيء يكون متساوي (يكون شريطا DNA على نفس المسافة من بعضهما) لأن كل درج يتكون من قاعدة ذات حلقة واحدة (البريميدينات) وأخرى ذات حلقتين (البيورينات)

ب- إذا أضيف إنزيم ديوكسى ريبونوكليز إلى عينة من DNA يعمل على تحليل (تفكيك) جزيء DNA تماماً واستخدم ذلك فى تجارب التحول البكتيرى ليؤكد أن DNA هو المادة الوراثية فى البكتيريا

11. اختر الاجابة عن أحد السؤالين (أ) أو (ب):

- علل :**  
 أ- تعتبر الانترفيرونات مهمة في علاج الأمراض الفيروسية .  
 ب- يعتبر الكانافانين والسيفالوسبورين أحماض أمينية غير بروتينية

أ- لأن الانترفيرونات توقف تضاعف الفيروسات خاصة التي محتواها الجيني من RNA (كالأنفلونزا وشلل الأطفال) ترتبط الإنترفيرونات بالخلايا الحية المجاورة للخلايا المصابة والتي لم تصب بالفيروس بعد وتحثها على إنتاج نوع من الإنزيمات يثبط نسخ الحمض النووي للفيروس وبهذا يمنع الفيروس من التكاثر والانتشار في الجسم

ب- لأن هذه الأحماض لا تدخل في بناء البروتينات في النبات ولكنها تعمل كمواد واقية للنبات وتشمل مركبات كيميائية سامة للكائنات الممرضة

12. اختر الاجابة عن أحد السؤالين (أ) أو (ب):

**أنكر مكان ووظيفة:**

- ( أ ) نسيج النبوسيلة .  
 ( ب ) المهبل .

أ- النبوسيلة نسيج غذائي يحيط بالكيس الجنيني لتغذية البويضة أثناء عملية نضجها

ب- المهبل : قناة عضلية (طولها حوالي ٧سم) تبدأ من عنق الرحم وتنتهي بالفتحة التناسلية : أ- مبطن بغشاء يفرز سائل مخاطي لترطيب المهبل ب- به ثنيات تسمح بتمدده خاصة أثناء خروج الجنين

13. قارن بين :

هرمون البروجسترون	هرمون FSH	وجه المقارنة مكان الافراز
يفرز من الجسم الأصفر في المبيض والمشيمة في الرحم	يفرز من الجزء الغدي للغدة النخامية	
يعمل على انتظام دورة الحمل مثل: ١- تنظيم التغيرات الدموية الغشاء المبطن للرحم ليعيد لاستقبال وزرع البويضة ٢- تنظيم التغيرات التي تحدث في الغدد الثديية أثناء الحمل	في الأنثى يسبب نمو حويصلات المبيض وتحويلها إلى حويصلة جراف وفي الذكر تكوين الأنبيبات المنوية والحيوانات المنوية في الخصية	الوظيفة

14. أذكر المصطلح العلمي :

قاعدة نيتروجينية أحادية الحلقة ترتبط مع قاعدة نيتروجينية مكملتها لها برابطة هيدروجينية ثنائية ضعيفة

قاعدة الثايمين (T)

15. ماذا يحدث إذا تعرضت الأميبا لظروف بيئية غير مناسبة ؟

- ١- تفرز حول نفسها غلافاً كيتينياً للحماية
- ٢- تنقسم بداخله عدة مرات بالانشطار الثنائي المتكرر لتنتج العديد من الأميبات الصغيرة
- ٣- تتحرر الأميبات من الحوصلة فور تحسن الظروف المحيطة

16. ادرس الشكل الذي أمامك، ثم أجب:



أولاً: ما أهمية البيان رقم ( 1 ) ؟

ثانياً: ما أسم البيان رقم ( 2 ) ؟

ثالثاً: ما نوع المفصل الذي بالشكل ؟

رابعاً: ما اسم البيان الذي يربط عظمة الفخذ بالشظية ؟

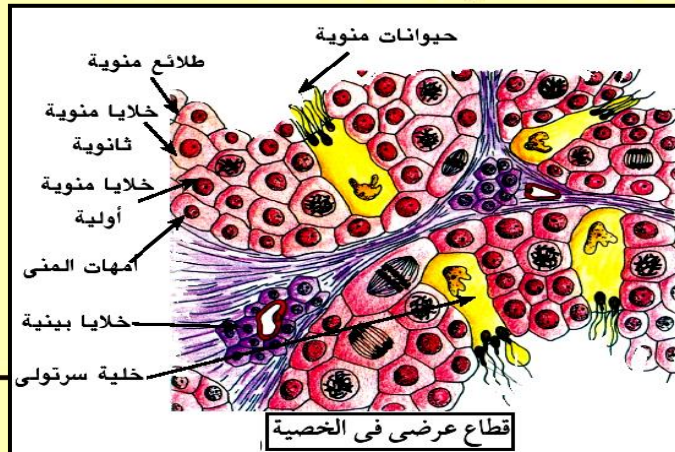
أولاً : أهمية الرباط الصليبي (الأمامي) يربط الفخذ بالقصبة كما يحدد حركة مفصل الركبة

ثانياً : الرباط الوسطى

ثالثاً : مفصل الركبة مفصل زلالي محدود الحركة

رابعاً : الرباط الجانبي

17. وضح بالرسم مع كتابة البيانات قطاع عرضي في خصية ذكر الإنسان



18

أذكر الدور الذي يقوم به هرمون الثيروكسين في الإنسان؟

- ويؤثر هرمون الثيروكسين في أجزاء عديدة من الجسم :
- أ- نمو وتطور القوى العقلية والبدنية
  - ب- يؤثر ويتحكم في معدل الأيض الأساسي
  - ج- يحفز امتصاص السكريات الأحادية من القناة الهضمية
  - د- يحافظ على سلامة الجلد والشعر

---



---

19

اختر الاجابة عن أحد السؤالين ( أ ) أو ( ب ):

اختر الاجابة الصحيحة :

( أ ) الجزئ الكيميائي الذي يقرأ لغة الأحماض الأمينية في سيتوبلازم الخلية هو .....

m RNA (١)

t RNA (٢) \*

r RNA (٣)

DNA (٤)

( ب ) يقع مضاد الكولون على جزئ .....

DNA (١)

m RNA (٢)

t RNA (٣) \*

r RNA (٤)

20. اختر الاجابة عن أحد السؤالين (أ) أو (ب):

قارن:  
(أ)

تضاعف DNA في أوليات النواة	تضاعف DNA في حقيقيات النواة
يوجد DNA في السيتوبلازم على شكل لولب مزدوج تلتحم نهاياته ويتصل بالغشاء البلازمي عند نقطة واحدة يبدأ عندها نسخ جزئ DNA	ينتظم DNA في صورة صبغيات حيث يحتوي كل صبغي على جزئ واحد من DNA يمتد من أحد طرفي الصبغي إلى الطرف الآخر ويبدأ نسخ DNA عند أي نقطة على امتداد الجزئ

(ب)

المحتوى الجيني لأوليات النواة	المحتوى الجيني لحقيقيات النواة
تمثل الجينات المسنولة عن بناء RNA والبروتينات معظم المحتوى الجيني	أقل من ٧٠٪ من الجينات المسنولة عن بناء RNA والبروتينات وباقي الجينات غير معلوم الوظيفة

21

ماذا يحدث إذا كانت كمية البروتين في الخلايا الجسدية متساوية بينما كمية DNA تختلف من نسيج لآخر؟

يصبح البروتين هو المادة الوراثية وليس DNA

---



---



---



---

22

علل : تستغرق الاستجابة المناعية الثانوية وقتاً أقصر مما تستغرقه المناعة الأولية .

لأنها تتم بواسطة الخلايا البائية والتائية الذاكرة التي تحتزن معلومات عن أنتيجينات التي حاربها الجهاز المناعي في الماضي لذلك فإنها تنشط فور دخول الكائن الممرض الجسم وتبدأ في الانقسام سريعاً وينتج عن نشاطها السريع إنتاج العديد من الأجسام المضادة والعديد من الخلايا التائية النشطة خلال وقت قصير فتقضي على الكائن الممرض غالباً قبل ظهور أعراض المرض

23. علل : يزداد إفراز هرمون الأدرينالين في حالات الطوارئ.

يهيئ الأدرينالين الجسم في حالة الطوارئ (كالخوف والإثارة والقتال والهروب) حيث يساعد عضلات الجسم للحصول على الطاقة اللازمة للانقباض وزيادة استهلاك الأوكسجين عن طريق :

- ١- زيادة نسبة السكر في الدم بتحلل الجليكوجين المخزن في الكبد إلى جلوكوز
- ٢- زيادة قوة وسرعة انقباض القلب ورفع ضغط الدم

24

ماذا يحدث إذا حدث تمزق لوتر أخيل ؟

أعراض تمزق وتر أخيل :  
عدم القدرة على المشي و ثقل في حركة القدم وآلام حادة



25 ادرس الشكل الذى أمامك، ثم أجب:



أولاً: اذكر اسم البيان رقم (A) ، (B).  
ثانياً: ما دور نوعى البروتين اللذين يوجدان فى البيان رقم (A) أثناء تخليق البروتين ؟  
ثالثاً: أين يتم تصنيع وانتاج هذا العضى (C) فى الخلية ؟

أولاً : (A) تحت وحد ريبوسم كبرى (B) تحت وحدة ريبوسوم صغرى

ثانياً : الإنزيم المنشط لتفاعل نقل الببتيد الذى يتم خلاله ربط الحمض الأميني بالحمض الأميني التالى له برابطة ببتيدية وبروتين عامل الإطلاق الذى يرتبط بكدون الوقف يجعل الريبوسوم يترك mRNA و تنفصل تحت وحدتا الريبوسوم عن بعضهما البعض

ثالثاً : يتم تصنيع الريبوسومات فى النوية

26 قارن

وجه المقارنة	الإثمار العفوي	التوالد البكري (العذري)
تعريفه	تكوين ثمرة بدون بذور حيث تتكون بدون عملية الإخصاب	قدرة البويضة على النمو لتكوين فرد جديد بدون إخصاب من المشيج الذكري
حدوثه	فى عالم النباتات فقط	فى عالم الحيوان فقط
نتيجته	انتاج ثمار عديمة البذور	انتاج أفراد خصبة من جنس واحد غالباً
التكاثر	لا يعتبر تكاثراً	نوع خاص من التكاثر اللاجنسي
طرق حدوثه صناعياً	- رش مياسم الأزهار بخلصة حبوب اللقاح - اندول أو نافثول حمض الخليك	تنشيط البويضة بتعرضها لصدمة حرارية أو كهربية أو للإشعاع أو بعض الأملاح أو الراج أو الوخذ بالأبر
أمثلة	طبيعياً: فى الموز والأناناس	طبيعياً: فى نحل العسل والمن صناعياً: فى نجم البحر والضفدعة

27 قارن:

انزيمات البلمرة RNA فى أوليات النواة	انزيمات البلمرة RNA فى حقيقيات النواة
<ul style="list-style-type: none"> <li>يوجد إنزيم بلمرة RNA واحد</li> <li>لنسخ الثلاثة أنواع من RNA</li> <li>يتم ترجمة mRNA إلى البروتين المقابل أثناء نسخه من DNA حيث ترتبط الريبوسومات ببداية mRNA وتبدأ فى ترجمته بينما يكون الطرف الآخر مازال فى مرحلة البناء من قالب DNA</li> </ul>	<ul style="list-style-type: none"> <li>يوجد إنزيم بلمرة RNA خاص</li> <li>لنسخ كل نوع من أنواع RNA</li> <li>لا يتم ترجمة mRNA إلى البروتين المقابل إلا بعد الانتهاء من نسخ mRNA بأكمله وخروجه من النواة إلى السيتوبلازم من خلال ثقب الغشاء النووي</li> </ul>

28 اختر الاجابة عن أحد السؤالين (أ) أو (ب):

قارن:  
(أ)

الدور المناعي للغدة التيموسية	الدور المناعي لنخاع العظام
تفرز هرمون التيموسين الذي يحفز نضج الخلايا الليمفاوية الجذعية إلى الخلايا التائية (T) وتمايزها إلى أنواعها المختلفة داخل الغدة التيموسية	مسئول عن إنتاج خلايا الدم الحمراء والبيضاء وصفائح الدم

(ب)

آلية التحلل للأجسام المضادة	آلية التعادل للأجسام المضادة
اتحاد الأجسام المضادة مع الأنتيجينات يُنشط بروتينات وإنزيمات خاصة (هي المتممات) فتقوم بتحليل أغلفة الأنتيجينات وإذابة محتوياتها فيسهل التخلص منها بواسطة الخلايا البلعمية	١- تقوم الأجسام المضادة بالارتباط بالأغلفة الخارجية للفيروسات وبذلك تمنعها من الالتصاق بأغشية الخلايا والانتشار أو النفاذ إلى داخلها وإن حدث واخترق الفيروس غشاء الخلية فإن الأجسام المضادة تبقى غلاف الفيروس مغلقاً فتمنع الحمض النووي من الخروج والتناسخ

29 اختر الاجابة عن أحد السؤالين (أ) أو (ب):

قارن:  
(أ)

نسخ mRNA في أوليات النواة	نسخ mRNA في حقيقيات النواة
نفس اجابة السؤال ٢٧	

(ب)

الطفرة الجينية	الطفرة الصبغية
طفرة تحدث نتيجة تغير في تركيب الجين (تحديداً في ترتيب القواعد النيتروجينية في جزئ DNA) مما يؤدي إلى تكوين بروتين مختلف يظهر صفة جديدة يصاحب هذا التغير في التركيب الكيميائي للجين تحوله من الصورة السائدة إلى المتنحية أو العكس (في حالات نادرة)	طفرة تحدث نتيجة تغيير في أعداد أو تركيب الصبغيات ١- التغيير في عدد الصبغيات بزيادة أو نقص صبغي أو أكثر في الأمشاج بعد الانقسام الميوزي ٢- التغيير في تركيب الصبغيات يحدث نتيجة تغيير ترتيب الجينات على نفس الصبغي

30. اختر الاجابة عن أحد السؤالين ( أ ) أو ( ب ) :

اكتب المصطلح العلمي :

( أ ) مجموعة من الألياف العضلية يمدها ليفة عصبية واحدة .

( ب ) أكثر النظريات العلمية قبولاً لتفسير الانقباض العضلى.

ب- فرضية الخيوط المنزلقة لهيكسلى

أ- الوحدة الحركية

31. ماذا يحدث فى كل من الحالات الآتية ؟

أولاً : عند وجود ATP فى الليفة العضلية .

ثانياً : عند نقص ATP فى الليفة العضلية .

أولاً : عند وجود ATP وجود فى الليفة العضلية يساعدها على الانقباض والانبساط :

⊗ تحتاج عمليتى اتصال الروابط المستعرضة بخيوط الأكتين أثناء الانقباض وانفصالها

عن خيوط الأكتين أثناء الانبساط إلى الطاقة المخزنة فى جزيئات ATP حيث :

⊗ تستهلك العضلة جزء من الطاقة المخزنة فى ATP فى فصل الروابط المستعرضة

عن خيوط الأكتين

ثانياً : عند نقص ATP فى الليفة العضلية ATP يسبب عد قدرتها على النقباض

والانبساط قد يؤدى نقص ATP إلى عدم انفصال الروابط المستعرضة عن

خيوط الأكتين فتظل العضلة فى حالة انقباض وغير قادرة على الانبساط

32.

ما أهمية الانقباض العضلى ؟

وظائف العضلات

١- الحركة بتغيير وضع العضو بالنسبة لبقية الجسم.

٢- الانتقال من مكان لآخر.

٣- استمرار تحرك الدم فى الأوعية الدموية والمحافظة على ضغط الدم

بواسطة انقباض العضلات الملساء (اللاإرادية) بجدران الأوعية الدموية.

٤- المحافظة على وضع الجسم عند الجلوس أو الوقوف بواسطة عضلات

الرقبة والجذع والأطراف السفلية

33

أذكر مكان ووظيفة الخلايا العصبية المفرزة ؟

الخلايا العصبية المفرزة خلايا عصبية موجودة في منطقة تحت  
المهاد بالمخ تفرز هرمونات الجزء العصبي (الخلافي) للغدة النخامية  
وتصل هذه الهرمونات إلى الفص الخلفي وهما هرمونان :

١-الهرمون المضاد لإدرار البول ADH

٢-الهرمون المنبه لعضلات الرحم OH

34. وضح برسم كامل البيانات الاقتران السلمى فى طحلب الاسبيروجيرا بدءا من الزيغوسبور



35. قارن من حيث الدور الى تقوم به فى منع الحمل:

التعقيم الجراحى	حبوب منع الحمل
<p>في المرأة ربط قناتي فالوب أو قطعها فيمنع إخصاب للبويضات التي ينتجها المبيض في الرجل ربط الوعاءين الناقلين أوقطعها يمنع خروج الحيوانات المنوية خلالها</p>	<p>تستخدم بدأ من انتهاء الطمث ولمدة ٣ أسابيع تحتوي على هرمونات صناعية تشبه الاستروجين والبروجسترون تمنع التبويض</p>

36. قارن:

الدور المناعي للانترليوكينات	الدور المناعي للكيموكينات
<ul style="list-style-type: none"> <li>☐ تعمل كأداة اتصال أو ربط بين الخلايا المختلفة للجهاز المناعي من جهة</li> <li>☐ ومن جهة أخرى بين الجهاز المناعي وخلايا الجسم الأخرى</li> <li>☐ بالإضافة إلى مساعدة الجهاز المناعي في أداء وظيفته الدفاعية</li> </ul>	<p>عوامل جذب الخلايا المناعية البلعمية المتحركة مع الدم بأعداد كبيرة نحو موقع تواجد الميكروبات أو الأجسام الغريبة لتحد من تكاثر وانتشار المرض</p>

37. اختر الاجابة عن أحد السؤالين (أ) أو (ب):

ماذا يحدث عند :

- أ) غياب الخلايا الليمفاوية TS .  
ب) غياب الخلايا الليمفاوية TH .

أ- لن تتوقف الخلايا البلازمية عن إنتاج الأجسام المضادة وتستمر الخلايا التائية المساعدة والسامة المنشطة في عملها بعد القضاء على الكائن الممرض مما يضر خلايا وأنسجة الجسم

ب- تفشل المناعة الخلوية والخلطية لعدم إفراز الانترليوكينات التي تنشط الخلايا البائية والتائية المساعدة للإنقسام لإنتاج الأجسام المضادة والسيتوكينات

38. اختر الاجابة عن أحد السؤالين (أ) أو (ب):

اختر الاجابة الصحيحة :

(أ) كل كروموسوم في حقيقيات النواة يحتوي على .....

أ) شريط مفرد من DNA

ب) جزئ واحد من DNA

ج) جزيئان من DNA

د) جزئ DNA وجزئ RNA

(ب) إذا كان عدد النيوكليوتيدات في أحد جزيئات DNA هو 270 نيوكليوتيدة فان عدد الأحماض الأمينية التي يكونها تكون .....

أ) 90

ب) 45

ج) 44

د) 135

39. اختر الاجابة عن أحد السؤالين (أ) أو (ب):  
ماذا يحدث عند:

- أ ) غياب الانزيمات المعدلة من سلالة معينة من بكتريا ايشيريشيا كولاى  
ب ) غياب ذيل عديد الأذنيه من mRNA

أ- لن تنتج هذه السلالات البكتيرية إنزيمات القصر وإن أنتجتها فسوف تقوم إنزيمات القصر بقطع DNA البكتيرى فى مواقع التعرف الخاص بها

ب- سوف يتحلل mRNA بواسطة الانزيمات الموجودة فى السيتوبلازم

40. علل :

يرجع الثبات الوراثى فى الكائنات الحية الى وجود جزيئات DNA كشرائط مزدوجة

لأن أي تلف في أحد شريطي اللولب المزدوج يتم إصلاحه باستخدام المعلومات الموجودة على الشريط المقابل

41. عرف المناعة .

مقدرة الجسم من خلال الجهاز المناعى على مقاومة مسببات المرض سواء كانت من خلال :- ١- منع دخول مسبب المرض جسم الكائن الحى  
٢- مهاجمة مسببات المرض والأجسام الغريبة والقضاء عليها عند دخولها جسم الكائن الحى

42. أذكر الدور المناعى لمادة الهستامين.

تتمدد الأوعية الدموية إلى أقصى مدى كما تزيد أيضاً من نفاذية جدران الأوعية الدموية الصغيرة والشعيرات الدموية للسوائل من الدورة الدموية وذلك يؤدي إلى :  
☐ تورم الأنسجة فى مكان الالتهاب  
☐ كما يسمح لنفاذ المواد الكيميائية المذيبة والقاتلة للبكتيريا بالتوجه إلى موقع الإصابة  
☐ و يتيح لخلايا الدم البيضاء المتعادلة ووحيدة النواة وكذلك الخلايا البلعمية الكبيرة محاربة وقتل

43. ما استخدامات المحتوى الجيني في الإنسان ؟

- ١- معرفة الجينات المسببة للأمراض الوراثية الشائعة والنادرة.
- ٢- معرفة الجينات المسببة لعجز الأعضاء عن أداء وظائف الجسم .
- ٣- الاستفادة منه مستقبلاً في صناعة العقاقير و الوصول إلى عقاقير بدون آثار جانبية.
- ٤- دراسة تطور الكائنات الحية من خلال مقارنة الجينوم البشري بغيره من جينات الكائنات الحية.
- ٥- تحسين النسل من خلال التعرف على الجينات المرضية في الجنين والعمل على تعديلها.
- ٦- تحديد كل خصائص وصفات أي إنسان من خلال شعرة أو حيوان منوى ورسم صورة له بكل ملامح وجهه لأن الجينوم البشري يفشي كل معلوماته الوراثية

44. ما الدور الذي يقوم به المحفز أثناء تخليق البروتين ؟

المحفز تتابع من النيوكليوتيدات على DNA يرتبط به إنزيم بلمرة RNA ليوجهه إلى شريط DNA الذي سوف ينسخ منه mRNA

45. علل : الخلايا الليمفاوية البائية عالية التخصص

لأن كل خلية بائية تستجيب لأنتيجين من نوع واحد فعندما تصادف الخلايا البائية الأنتيجات لأول مرة تقوم بالانقسام المتكرر لإنتاج مجموعات من الخلايا البائية تتخصص كل منها في إنتاج نوع معين من الأجسام المضادة يتخصص بدوره في الارتباط بنوع واحد من الأنتيجينات

مع أطيب التمنيات بالتوفيق،،،

الأستاذ / موسى السيد خبير تدريس الأحياء والجيولوجيا  
ت / ٠١٠٩٩٣٧٨٢٠٦

جمهورية مصر العربية

وزارة التربية والتعليم

إمتحان شهادة الثانوية العامة (إمتحان تجريبي (١) ٢٠١٦م) الأحياء الزمن : ثلاث ساعات

أجب عن اربعة أسئلة فقط مما يلي

السؤال الاول: (٥ درجات)

أ) اختر الإجابة الصحيحة مما يأتي (٨ درجات)

- ١- يطلق اسم هورمون الإسترايول على هورمون.....
- أ- FSH ب- LH ج- الريلاكسين د- الإستروجين
- ٢- مجموع الفقرات المتمفصلة في العمود الفقري للإنسان..... فقرة.
- أ- ٧ ب- ١٢ ج- ٢٤ د- ٣٣
- ٣- يزداد هورمون الباراثورمون مع هبوط نسبة..... في الدم.
- أ- الصوديوم ب- البوتاسيوم ج- الكالسيوم - د- الحديد
- ٤- تتكون جاميتات بلاموديوم الملاريا في.....
- معدة البعوضة ب- الغدة اللعابية للبعوضة ج- دم الشخص المصاب د- خلايا الكبد في الشخص المصاب

ب) ١. اشرح (بدون رسم) مراحل تكوين الحيوانات المنوية في جسم الإنسان؟ (٣ درجة)

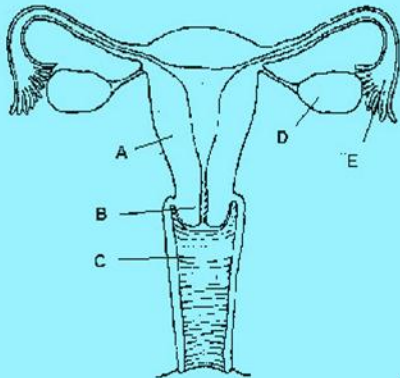
ج) ١. قارن باختصار بين كل مما يأتي : (٤ درجة)

- أ- هورمون الكالسيثونين وهورمون الباراثورمون ب - خيوط الأكتين وخيوط الميوسين

السؤال الثاني (٥ درجات)

أ) اكتب المفهوم العلمي لكل مما يأتي : (ست درجات)

١. نوع من التوائم يمكن ان يتم ولانته ملتصقين في مكان ما في الجسم.
٢. قدره البويضه على النمو بدون اخصاب من المشيج الذكرى في بعض التجارب على الحيوانات مثل الضفدعة.
٣. خلية داخل الخصية في ذكر الأنسان يعتقد أنها تساعد الحيوانات المنوية في مقاومة الميكروبات.



ب) افحص الشكل المقابل ثم أجب عن الأسئلة (٥ درجات)

- ١- ما اسم هذا الجهاز؟ وكيف يلام وظيفه الحمل؟ (درجتين).
- ٢- ما رقم واسم العضو الذي : (ثلاث درجات).  
أ- لو تلف يؤدي الى استحاله حدوث ولادة طبيعية.  
ب- يسمح بالتمدد أثناء الولادة.  
ج- يحدث به الاخصاب.

ج) ١. وضح بالرسم فقط كامل البيانات: تركيب العضلات الهيكلية؟ (٤ درجات)



**السؤال الثالث ( ١٥ درجة )****( أ ) علل لما يأتي : (ست درجات)**

١. التفاف المحلاق في نبات البسلة حول الدعامة.
٢. إصابة بعض الأفراد بالتضخم الجحوظي.
٣. حدوث إجهاد للعضلة الهيكلية.

**( ب ) ١. ما المقصود بكل مما يأتي : (أربع درجات )**

أ- زراعة الأنسجة      ب- الجذور الشادة

**( ج ) وضح بالرسم فقط كامل البيانات : الأطوار المختلفة لبلازموديوم الملاريا التي تشاهدها في عينه لدم المريض ( ٥ درجة )****السؤال الرابع ( ١٥ درجة )****( أ ) انقل العبارات الآتية في ورقه اجابتك مع تصويب ما تحته خط: ( ٨ درجة )**

١. العالم الذى اقترح نظرية الإنزلاق في العضلات الهيكلية هو العالم كلود برنارد
٢. عند زياده هرمون النمو عن نسبته الطبيعيه بعد البلوغ تنشأ حاله القزامه
٣. عندما يصعب تمييز المحيطين الخارجيين لزهرة يسمى المحيطان معا بالنوره
٤. يرمز إلى المناطق المضينة في اللييفة العضلية بالرمز A.

**( ب ) ١. ما المقصود بأطفال الأنابيب ؟ اكتب نبذه مختصره عن تلك (وضح إجابتك بالرسم) ؟ ( ٤ درجة ) .****( ج ) ١- لا تعتمد حركة الجسم على إنقباض وإنبساط العضلات فقط ، لكن لابد من تعاون أجهزة أخرى لتنسيق هذه الحركة. اشرح هذه العبارة؟ (ثلاث درجات).****السؤال الخامس : ( ١٥ درجة )****( أ ) ماذا يحدث في الحالات الآتية مع التفسير : (٦ درجة).**

١. تمزق وتر أخيل.
٢. توقف الحركة الدورانية لسيتوبلازم الخلية الحية.
٣. حدوث خلل في التوازن بين الهرمونات الجنسية التي تفرز من المناسل ، والهورمونات الجنسية التي تفرز من قشرة الغدة الكظرية.

**(ب) اختر من الجدول ( ب ) ما يناسب الجدول ( أ ) ثم انقل عبارته كامله : (٦درجة).**

( ب )	( أ )	
أ- فقرة رقم ٣٠	الفقرة التي تتصل بأول ضلع عائم	١
ب- فقرة رقم ٢٥	الفقرة التي توجد في منتصف المنطقة العنقية	٢
ج- فقرة رقم ٢٢	أول فقرة عريضة و مقلطحة	٣
د- فقرة رقم ١٨	الفقرة التي توجد في منتصف العمود الفقري	٤
هـ- فقرة رقم ١٧	أول فقرة صغيرة وملتحمة في منطقة الحوض	٥
و- فقرة رقم ٤	الفقرة التي تتوسط الفقرات القطنية	٦
ز- فقرة رقم ٢٧		

**( ج ) ١. ما المقصود بالقطعة العضليه ؟ هل حجمها يتغير عند الانقباض ؟ (٣درجة).**

إنتهت الأسئلة

جمهورية مصر العربية

وزارة التربية والتعليم

امتحان تجريبي لشهادة إتمام الدراسة الثانوية العامة لعام ٢٠١٦

الزمن : ثلاث ساعات

الأحياء

أجب عن أربعة أسئلة فقط مما يأتي :

السؤال الأول :

(١٥ درجة)

(٤ درجات)

أ- تخير الإجابة الصحيحة لكل مما يأتي ، ثم اكتبها فقط في كراسة الإجابة :

- ١- الهرمون الذي يزيد إفرازه عند بدء وصول الطعام الى المعدة هو .....  
(الجاسترين - الكوليستوكينين - السكرتين - جميع ماسبق)
- ٢- المنطقة التي تختفي عند انقباض الليفة العضلية هي ..... ( I - A - H - Z )
- ٣- يتأثر الكبد في الانسان بهرمون ..... ( الأنسولين - الأدرينالين - الجلوكاجون - كل ماسبق )
- ٤- عدد الأربطة التي تصل عظمة الفخذ بعظمة الشظية ..... ( ١ - ٢ - ٣ - ٤ )
- ٥- اذا كان عدد الصبغيات في نواة خلية نبات البسلة = ٧ أزواج من الصبغيات ، فإن عدد الصبغيات في النواة الأنوبية = ..... ( ٧ صبغيات - ٧ أزواج من الصبغيات - ٢١ صبغى - ١٤ زوج من الصبغيات )
- ٦- يحدث الانقسام الميوزي الثاني في ..... ( حويصلة جراف - بطانة الرحم - قناة فالوب - تجويف الرحم )
- ٧- اذا كان عدد الصبغيات في النواة المولدة = س فإن عدد الصبغيات في النواة الذكرية = .....  
( ١/٢ س - س - ٢ س - ٣ س )
- ٨- الهرمون الذي يزيد إفرازه في المرأة الحامل هو .....  
(الألدوستيرون - البروجسترون - الأستيروجين - البرولاكتين )

ب- اذكر مكان ووظيفة كل من :

- ١- جراثيم الفوجير
- ٢- السائل الرهلى

ج- من خلال الرسم المقابل وضح مايلي :

١- الشكل المقابل يمثل هيكل محوري أم هيكل طرفي أم كلاهما ؟ ولماذا؟

٢- اذكر الهرمونات التي تؤثر على هذا الشكل وما أهميتها ؟

٣- اذكر الرقم الدال على كل من :

- عظمة أمامية بطنية
- عظمة ظهرية
- عظمة خلفية بطنية

- موضع يستقر فيه النئوء الداخلى لعظمة الفخذ



(١٥ درجة)

(٤ درجات)

السؤال الثاني :

أ- اكتب المصطلح العلمي الذي تدل عليه كل عبارة من العبارات التالية :

- ١- الهرمون الذي يؤدي زيادة افرازه الى حدوث هشاشة عظام
- ٢- هرمون عصبي يفرز من الغدة النخامية ويؤثر على غدد أخرى بالجسم
- ٣- نسيج ضام يصل العضلة التوأمية بعظمة الكعب
- ٤- زائدة خلفية مائلة إلى أسفل تحملها الحلقة الشوكية بالفقرة العظمية

- ٥- المخزون الفعلى للطاقة في العضلات  
٦- خلايا تفرز سائل يعمل على تغذية الحيوانات المنوية داخل الخصية  
٧- لاقحة طحلب الأسبيروجيرا المحاطة بجدار سميك لحمايتها من الظروف غير الملائمة  
٨- الجزء المسئول عن تكوين الثمرة في التفاح

(٤ درجات)

**ب- علل لما يأتى :**

- ١- وجود انزيم كولين استيريز في نقاط الاتصال العصبي - العضلي  
٢- يختلف وظيفة النقيير في كل من البويضة والبنرة  
٣- يلجأ الاسبيروجيرا أحيانا الى الاقتران  
٤- تكون جسم قطبي في بداية مرحلة النضج أثناء مراحل تكوين البويضة

(٤ درجات)

**ج- ١- وضح بالرسم مع كتابة البيانات كاملة : مفصل الركبة - قطاع في مبيض زهرة ناضج**

(٣ درجات)

- ٢- ما صورة التكاثر اللاجنسى فى كل كائن من الكائنات الحية التالية:  
الأسفنج - البلاناريا - البكتيريا - الفوجير - المن - عيش الغراب

(١٥ درجة)

**السؤال الثالث :**

(٥ درجات)

**أ- ما مدى صحة هذه العبارات مع التفسير**

- ١- يلعب الأنسولين دورا في عملية التمثيل الغذائى (الأيض)  
٢- انبساط العضلة لا يحتاج الى طاقة  
٣- يمكن للهرمون الواحد أن يؤثر في أنسجة مختلفة  
٤- جميع المفاصل تحتوى على سائل زلالي  
٥- جميع الهرمونات تتكون من البروتينات

(٦ درجات)

**ب- ما الفرق بين كل من :**

- ١- النيوستيلا والاندوسبرم  
٢- الجسم القمي والجسم الأصفر

(٤ درجات)

**ج- فسر مايلي :**

- ١- ظهور عوارض الرجولة في النساء أحيانا  
٢- يختلف هدف التلقيح في النباتات الزهرية عن التلقيح في النباتات السرخسية  
٣- يؤدي نضج الثمار والبذور غالبا إلي تعطيل النمو الخضري للنبات وأحيانا موته  
٤- لايعتبر التجدد في بعض الكائنات تكاثرا

(١٥ درجة)

**السؤال الرابع :**

(٣ درجات)

**أ- تخير من عبارات العمود (ب) مايناسب عبارات العمود (أ)**

( أ ) الهرمون	( ب ) عمله
١- ADH	أ- يتحكم في عمليات الأيض الخاص بالبروتين
٢- ACTH	ب- يحفز تكوين الجسم الأصفر في الأنثى
٣- GH	ج- يسبب إنقباض الأوعية الدموية
٤- FSH	د- ينبه قشرة الغدة الكظرية لإفراز هرموناتها
٥- LH	هـ- ينبه الغدة الدرقية لإفراز هرموناتها
٦- TSH	و- ينبه الغدة التثدية لإفراز اللبن أثناء الرضاعة
	ز- يساعد في تكوين الحيوانات المنوية في الخصية

(٨ درجات)

ب- قارن بين كل من :

- ١- الفقرة رقم (٥) والفقرة رقم (٣٠)
- ٢- المفاصل الليفية والمفاصل الزلالية
- ٣- حويصلة جراف والحويصلة المنوية
- ٤- البروجسترون والتستوستيرون

(٤ درجات)

ج- ما النتائج المترتبة على كل مايلي :

- ١- وصول سيالات عصبية خاطئة من المخ إلى العضلة التوأمية
- ٢- نقص إفراز هرمون الثيروكسين في البالغين نقصا حادا
- ٣- وجود الخصيتان داخل الجسم في شخص بالغ
- ٤- وضع بويضة ضفدعة في محلول ملحي

(١٥ درجة)

السؤال الخامس :

(٤ درجات)

أ- صحح ما تحته خط في العبارات التالية :

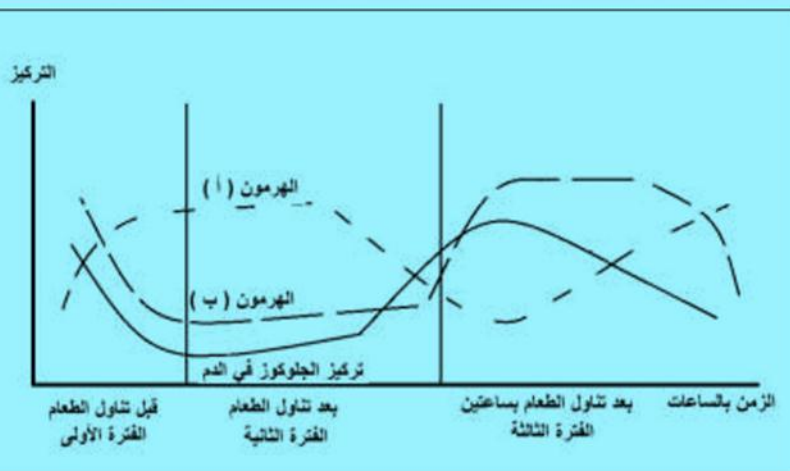
- ١- عدد عظام القفص الصدري والحزام الصدري ٣٣ عظمة
- ٢- نقص هرمون النمو قبل البلوغ يسبب حالة الميكسوديما
- ٣- أكبر عدد من الفقرات توجد في المنطقة العجزية
- ٤- عدد التجاويف في الهيكل الطرفي ٨ تجاويف
- ٥- الكائن الحي الذي يتكاثر جنسيا عندما تكون الظروف غير مناسبة الأميبيا
- ٦- الهرمون الذي يزيد افرازه عند اكتمال نضج البويضة هو الأستروجين
- ٧- تفرز حويصلة جراف أثناء نموها هرمون الكورتيزون الذي يعمل على إنماء بطانة الرحم
- ٨- تقع البويضة داخل الكيس الجنيني بين الخلايا السميتية

(٣ درجات)

ب- فسر أهمية كل ما يلي :

- ١- وجود الميتوكوندريا في الحيوانات المنوية
- ٢- بتلات الزهرة
- ٣- أشباه الجذور في النبات المشيجي للفوجير

ج- (١) - ادرس الشكل البياني الذي يوضح تركيز بعض الهرمونات في الدم ثم اجب عن الاسئلة التالية : (٥ درجات)



- ١- ما اسم الهرمون ( أ ) والهرمون ( ب )
- ٢- ما اسم الخلايا التي تفرز الهرمونين ؟
- ٣- لماذا يزداد الهرمون ( أ ) في الفترة الأولى والثانية
- ٤- لماذا يزداد الهرمون ( ب ) في الفترة الثالثة

(٢) اذكر ثلاث أمثلة لكائنات حية تكون أمشاجها بالانقسام الميوزي (٣ درجات)

( انتهت الأسئلة )

مع التمنيات بالنجاح والتفوق

## نموذج الإجابة

## اجابة السؤال الأول

أ- ١- الجاسترين ٢- H ٣- كل ماسبق ٤- ١ ٥- ٧ صبغيات ٦- قناة فالوب ٧- س ٨- البروجسترون

الوظيفة	المكان	
عندما تسقط في بيئة رطبة تنبت مكونة النبات المشيجي للفوجير	حواظ على السطح السفلى لاوراق النبات الجرثومي للفوجير	جراثيم الفوجير
حماية الجنين من الجفاف ومن الصدمات	يحيط بالجنين داخل الرحم	السائل الرهلي

## ج

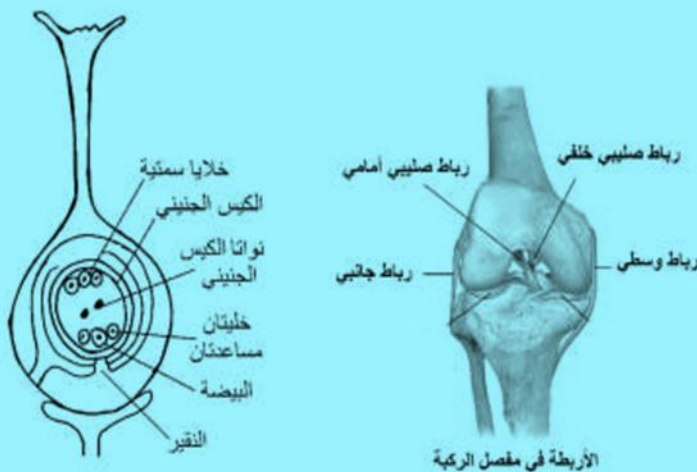
- محوري وطرفي - عظام الحوض تمثل الهيكل الطرفي والفقرات العجزية والعصعية تمثل جزء من الهيكل المحوري
- الكالسيونين - يقلل الكالسيوم في الدم بترسبه في العظام الباراثورمون - يزيد الكالسيوم في الدم بسحبه من العظام النمو GH - تمثيل غذائي للبروتينات في العظام ويسبب نموها الريلاكسين - ارتخاء الارتفاق العاني لاتساع الحوض وسهولة الولادة
- عظمة بطنية أمامية (٥) - عظمة ظهرية (١) - عظمة خلفية بطنية (٣) - موضع يستقر فيه النتوء الداخلي لعظمة الفخذ (٤)

## اجابة السؤال الثاني

- ١- الباراثورمون ٢- الهرمون المسبب لإنقباض عضلات الرحم ٣- وتر أخيل ٤- النتوء الشوكي ٥- الجليكوجين ٦- خلايا سرتولى ٧- اللاقحة الجرثومية (الزيجوسبور) ٨- التخت
- ١- يعمل على تحطيم الأستيل كولين إلى كولين وحمض خليك وبذلك يزول تأثير المنبه حتى يستطيع غشاء الليفة العضلية أن يستقبل مؤثر جديد
- ٢- النقيير في البويضه : يدخل من خلاله انبوبة اللقاح لإتمام عملية الاخصاب المزدوج وتكوين البذرة النقيير في البذرة : يدخل من خلاله الماء عند الانبات
- ٣- عندما تكون الظروف غير مناسبة
- ٤- لكي يخلص البويضة من نصف عدد الصبغيات

## ج ١

- ٢- الأسفنج (التجدد - التبرعم) - البلاناريا (التجدد) - البكتيريا (الانشطار الثنائي) - الفوجير (الجراثيم) - المن (التوالد البكرى الطبيعي) - عيش الغراب (الجراثيم)



## اجابة السؤال الثالث

(أ)

- ١- نعم - يحث الخلايا على اكسدة الجلوكوز حيث يزيد نفاذية مرور الجلوكوز عبر أغشية الخلايا  
٢- لا - يحتاج انبساط العضلات إلى طاقة لفصل الروابط المستعرضة عن خيوط الأكتين  
٣- نعم - مثل الهرمون ADH يؤثر على نفرونات الكلى ليققل من خروج البول ويؤثر على عضلات الأوعية الدموية بسبب انقباضها  
٤- لا - هناك مفاصل ليفية ومفاصل غضروفية  
٥- لا - توجد هرمونات تتكون من أحماض أمينية وأخرى تتكون من استرويدات (دهون)

(ب)

الاندوسبرم	النيوسيلة
غذاء يحيط بالجنين في البذور ذات الفلقة الواحدة	غذاء يحيط بالكيس الجنيني في بويضة النبات
يستهلكه الجنين عند الانبات	تستهلكه البويضة عند النضج

الجسم القمي	الجسم الاصفر
يوجد في مقدمة رؤوس الحيوانات المنوية	يوجد في مبيض انثى الانسان
يفرز انزيم الهيالوريناز الذي يعمل اذابة جزء من غلاف البويضة يدخل من خلاله الحيوان المنوي	يفرز هرمون البروجسترون الذي يعمل على انماء بطانة الرحم وتصبح غدية ويزيد من الامداد الدموي بها

(ج)

- ١- بسبب اختلال التوازن بين الهرمونات الجنسية في كل من قشرة الغدة الكظرية والخصية (المناسل المذكورة)  
٢- التلقيح في النباتات الزهرية يؤدي الى الاخصاب المزوج لتكوين البذرة وتنبيه المبيض لتكوين الثمرة  
التلقيح في النباتات السرخسية يؤدي الى الاخصاب وتكوين النبات الجرثومي  
٣- اسباب موت النباتات الحولية : استهلاك الغذاء المدخر لدى النبات في تكوين الثمار والبذور . - تثبيط الهرمونات المسؤولة عن النمو  
٤- لان التجدد يحدث أيضا بهدف تعويض أعضاء مفقودة مثل القشريات والتنام الجروح مثل الفقاريات العليا

## اجابة السؤال الرابع

(أ) ١ - ج ٢ - د ٣ - أ ٤ - ز ٥ - ب ٦ - هـ

(ب)

وجه المقارنة	الفقرة ٥	الفقرة ٣٠
النوع والمكان	عنقية	عصصية في نهاية العمود الفقاري
الحجم	متوسطة الحجم	أصغر الفقرات
التمفصل	متمفصلة	ملتحمة

وجه المقارنة	المفاصل الليفية	المفاصل الزلالية
المكان	بين عظام الجزء المخى من الجمجمة	معظم مفاصل الجسم مثل مفصل الكوع والركبة
الحركة	عديمة الحركة	محدودة الحركة مثل مفصل الركبة وواسعة الحركة مثل مفصل الفخذ
السائل الزلالي	لا يوجد	يوجد

حويصلة جراف	الحويصلة المنوية	
توجد في مبيض انثى الانسان	تفتح في الوعاء الناقل لذكر الانسان	المكان
تعمل على انضاج البويضة وافراز هرمون الاستيروجين	تفرز سائل قلوي يحتوي على سكر الفركتوز لتغذية الحيوانات المنوية	الوظيفة

التستوستيرون	البروجسترون
يفرز من الخلايا اليبينية في الخصية	يفرز من الجسم الاصفر بالمبيض ومن المشيمة في الرحم
يسبب ظهور الصفات الثانوية الذكرية	يعمل على انماء بطانة الرحم وتصبح غنية ويزيد من الامداد الدموي في بطانة الرحم ويمنع التبويض ويسنن نمو الغدد الثديية

(ج)

- ١- تسبب الشد العضلى وقد يؤدي الى تمزق العضلة التوأمية
- ٢- يسبب حالة الميكسوديميا : من أعراض الحالة : - جفاف الجلد - قلة الشعر - نقص النشاط العقلي والجسمي - زيادة وزن الجسم - هبوط مستوى التمثيل الغذائي - تقل ضربات القلب - التعب بسرعة
- ٣- يصاب بالعقم لأن تكوين الحيوانات المنوية تتطلب درجة حرارة اقل من ٣٧ م
- ٤- تتضاعف الصبغيات وتنقسم وتكون جنين بالتوالد البكرى الصناعى

اجابة السؤال الخامس

(أ) ١- ٤١ ٢- القزامة ٣- القطنية ٤- ٦ ٥- الاسبيروجيرا ٦- LH ٧- الاستيروجين ٨- الخليتين المساعدتين

(ب) ١- تكسب الحيوانات المنوية الطاقة اللازمة للحركة واتمام الاخصاب

٢- تحمى الاعضاء لجنسية للزهرة - جذب الحشرات لاتمام عملية التلقيح

٣- تمتص الماء والاملاح من التربة

(ج) ١- أ هرمون الجلاكاجون ب- الأنسولين

٢- الجلاكاجون من خلايا ألفا بجزر لانجرهانز (درجة) - الأنسولين من خلايا بيتا بجزر لانجرهانز

٣- يزداد الجلاكاجون بسبب انخفاض نسبة الجلوكوز في الدم حتى يعمل على زيادة نسبة من تحويل الجليكوجين الى

جلوكوز

٤- يزداد الأنسولين بسبب ارتفاع نسبة الجلوكوز في الدم حتى يعمل على خفض نسبته بحث الخلايا على استهلاكه بزيادة

نفاذية الخلايا لمروره داخل الخلايا وتحويل الزائد منه الى جليكوجين يخزن في الكبد

مع التمنيات بالتوفيق

جمهورية مصر العربية

وزارة التربية والتعليم

إمتحان شهادة الثانوية العامة (إمتحان تجريبى ٢٠١٦) الأحياء ٣

أجب عن اربعة أسئلة فقط مما يلي

السؤال الاول: (١٥ درجة)

أ) اختر الإجابة الصحيحة مما يأتي (٨ درجات)

- ١- الجزء الذى يؤكل فى ثمرة التفاح هو.....  
أ- المتك ب- المبيض ج- الكرايل د- التخت.
- ٢- يودتصلب أغلفة البويضة فى بذور النباتات ذات الفلقتين إلى تكوين.....  
أ- الثمرة ب- النقيير ج- القصرة د- الفلقتين
- ٣- إذا علمت أن دورة الطمث عند أنثى الإنسان البالغة بدأت يوم ٢٠ من شهر سبتمبر ، فإن من المحتمل أن تتحرر البويضة من المبيض يوم.....  
أ- ٢٥ سبتمبر ب- ٣٠ سبتمبر ج- ٤ أكتوبر د- ١٠ أكتوبر
- ٤- يتم إنتاج إناث نحل العسل من البويضات التى تقوم بإنتاجها.....  
أ- شغلة غير مخصبة ب- ملكة غير مخصبة ج- شغلة مخصبة د- ملكة مخصبة

ب) ١. اكتب موضع ووظيفه كل مما يأتي : (درجتان )

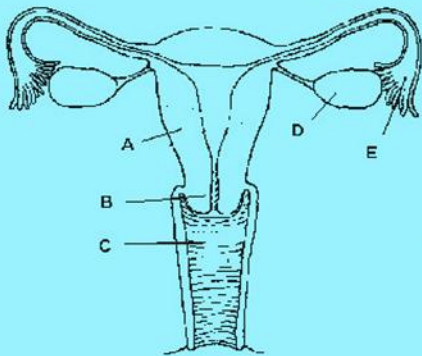
- أ- التجويف الأروح ب - غدة البروستاتا  
ج) كيف تمكن الطماء من التعرف على وظائف الغدد الصماء ؟ (٥ درجات)

السؤال الثانى (١٥ درجة)

أ) اكتب المفهوم العلمى لكل مما يأتي : (ست درجات)

١. موضع إتصال النهايات العصبية للليف عصبى حركى مع ليفة عضلية.
٢. عظمه صغيره مستديره تقع أمام مفصل الركبه.
٣. هورمون يلعب دورا مهما فى الحفاظ على توازن المعادن بالجسم مثل الصوديوم والبوتاسيوم.

ب) افحص الشكل المقابل ثم اجب عن الأسئلة ( اربع درجات ):



١. ما الهرمونات التى يقوم بإفرازها التركيب رقم (D) (درجة واحدة)

ج) ما المقصود بالدعامه التركيبية؟ وما أهميتها بالنسبة للنبات؟ (خمس درجات)

السؤال الثالث (١٥ درجة)

أ) علل لما يأتي : (ست درجات)

١. يختلف التجدد فى الهيدرا عن التجدد فى الإنسان.
٢. يتم إنتاج الحيوانات المنوية بكميات هائلة فى الإنسان الطبيعى.
٣. تعتبر المشيمة فى الحيوانات الثديية غدة لاقنوية.

ب) ١. ما المقصود بكل مما يأتي : (أربع درجات)



أ - دورة التزاوج في حياة الحيوانات الثديية.

ج) وضح كيف يمكن الحفاظ على الحيوانات النادرة أو المعرضة للإقراض وكذلك التحكم في نوع الجنين الناتج ( ٥ درجات).

### السؤال الرابع (١٥ درجة)

أ ) انقل العبارات الآتية في ورقة اجابتك مع تصويب ما تحته خط: ( ٨ درجات)

- ١ . يحدث إخصاب البويضة الناضجة في الرحم
- ٢ . عند التقاء عظمتى الحرقفه بالورك يوجد التجويف الأرواح لتتصل به رأس عظمه الفخذ
- ٣ . يتم تكوين العظام عند الجنين داخل الرحم في المرحلة الأولى من مراحل تكوين الجنين
- ٤ . العالم الذي اكتشف وجود الهرمونات النباتية هو العالم ستارلنج

ب ) ١- على الرغم من أن خلايا ألفا وخلايا بيتا توجد في جزر لانجرهانز بالبنكرياس ، إلا انهما يختلفان عن بعضهما البعض في التركيب و الوظيفة . وضح أوجه الاختلاف بينهما؟ ( ٤ درجات).

ج ) ١- عند فحص إحدى عضلات الجسم الهيكلية، وجد أنها تتركب من ٢٠ حزمة عضلية ، وكل حزمة عضلية تتكون من ٨٠ ليفة عضلية..... من نتائج الفحص السابقة إحسب ما يلي: (ثلاث درجات).

- أ- عدد الوحدات الحركية في هذه العضلة.
- ب- عدد الألياف العصبية الحركية التي تغذى هذه العضلة.
- ج- عدد الوصلات العصبية العضلية لهذه العضلة.

### السؤال الخامس : (١٥ درجة)

أ ) ماذا يحدث في الحالات الآتية مع التفسير : ( ٦ درجات).

- ١ . إنتقال الأطوار المشيجية مع دم الشخص المصاب إلى أنثى بعوضة الأنوفيليس.
- ٢ . رش مياسم أزهار بعض النباتات بخلاصة حبوب اللقاح.
- ٣ . تناول امرأة بلغة متزوجة لأقراص منع الحمل.

ب ) ١ . وضح بالرسم فقط كامل البيانات تركيب: الحيوان المنوى ؟ مبينا أهميه : الجسم القمى ؟ ( ٤ درجات).

ج ) أكتب ما تعرفه عن: ( ٥ درجات).

- أ- الإنماج الثلاثى فى النباتات الزهرية.
- ب- هورمونات القتاة الهضمية.

إنتهت الأسئلة

مع أجمل الأمنيات بالنجاح والتوفيق

امتحان تجريبي لمادة الأحياء نصف العام ٢٠١٦ م رقم ٥

زمن الاجابة ٣ ساعات

أجب عن اربعة أسئلة فقط مما يأتي

**السؤال الأول :**

**( أ ) اختر الإجابة الصحيحة لكل مما يأتي ثم اكتبها فقط في كراسة الإجابة:**

- ١- تبلغ مدة الحمل في الماشية حوالي.....
  - أ- ٥ شهور
  - ب- ٩ شهور
  - ج- ٦ شهور
  - د- ١١ شهر
- ٢- التركيب الذى يعتبر جهاز تنفسى للجنين داخل الرحم هو .....
  - أ- الرئتين
  - ب- غشاء الرهل
  - ج- غشاء السلى
  - د- المشيمة
- ٣- تتكون عظام الحوض من نصفين متماثلين يلتحمان من الناحية الباطنية في منطقة تسمى بـ .....

أ- الحرقفة

ب- الارتفاق العاني

ج- التجويف الحقى

د- الرضفة

٤- الغدد اللبنية بالتدى تنبؤ لافراز اللبن بواسطة .....

أ- المبيض

ب- الغدة الكظرية

ج- الغدة الجار درقية

د- الغدة النخامية

٥- تنشأ الحالة المعروفة بالقدماء نتيجة .....

أ- زيادة هرمون النمو فى الطفولة

ب- نقص هرمون النمو فى الطفولة

ج- نقص هرمون النمو أثناء البلوغ

د- نقص هرمون الثيروكسين فى الطفولة

٦- الهرمون الذى يساعد فى امتصاص الاملاح مثل الصوديوم فى الكليتين .....

أ- الباراثورمون

ب- الالدوسترون

ج- الاندروستيرون

د- المضاد لادرار البول

البول

٧- أعضاء التذكير فى النبات المشيجي لكزبرة البئر هي.....أ- المبيض

ب- الأنثريدات

ج- الأرشيجونات

د- المتك

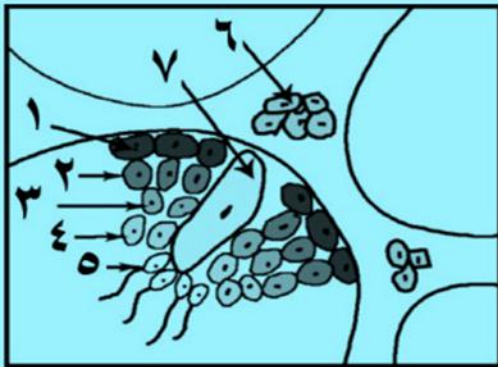
٨- كل مما يأتي من عظام الطرف العلوي عدا .....

أ- الشظية

ب- الكعبرة

ج- العضد

د- الرسغ



(ب)- ١- ادرس الشكل المقابل يوضح قطاع عرضي

فى الخصية ومراحل تكوين الحيوانات المنوية ثم

اجب عن الاسئلة الاتية:

ا- حدد الرقم الذى يمثل الخلية المنوية الأولية.

ب- كم عدد الكروموسومات الموجودة فى الخلية

رقم (٣)

ج- فسر تجمع الحيوانات النوية حول الخلية رقم

(٧)

**( ج ) قارن بين:**

١- تأثير FSH و LH فى الذكر والانثى

٢- رسغ اليد و رسغ القدم (من حيث عدد العظام ومكانها)

**السؤال الثاني:****(أ) أكتب المصطلح العلمي الذي يدل على كل عبارة مما يأتي**

- ١- غدة من جزئيين تقع أسفل البروستاتا وتساعد في إفراز سائل مغذى للحيوانات المنوية .
- ٢- عظمة مقوسة تنحني إلى أسفل وتتصل من الخلف بجسم الفقرة ونتوءها المستعرض .
- ٣- الطور المعدى للإنسان في بلازموديوم الملاريا .
- ٤- هرمون يؤثر على نمو وتطور القوى العقلية والبدنية .
- ٥- نسيج غذائي يحط بالكيس الجنيني داخل مبيض الزهرة .
- ٦- هرمون يزداد إفرازه عند زيادة نسبة الكالسيوم في الدم .
- ٧- قدرة البويضة على النمو لتكوين فرد جديد بدون إخصاب من المشيج الذكرى

**(ب) بما تفسر كل مما يأتي:**

- ١) تنقسم اللاقحة الجرثومية للإسبيروجيرا ميوزياً عند الإنبات ؟
  - ٢) الفرد الناتج عن التوالد البكري طبيعياً قد يكون (ن) أو (٢ن) ؟
  - ٣) يختلف مصدر تغذية الحيوانات المنوية داخل وخارج الخصية ؟
- (ج) وضح بالرسم فقط وعليه البيانات تركيب لبيفة عضلية .**

**السؤال الثالث****(أ) ١- تخير من العمود (ب) ما يناسب عبارات العمود (أ) ٦ درجات**

العمود (ب)	العمود (أ)
١- الاكروسموم	١- مشيج ذكرى ينتج من انقسام ميتوزى للمناسل
ب- الطور المشيجى	٢- مشيج أنثوى ينتج من انقسام ميتوزى للمناسل
ج- الطور الجرثومى	٣- مشيج أنثوى ينتج من انقسام ميوزى للمناسل
د- بويضة ملكه نحل العسل	٤- تركيب احادى المجموعة الصبغية فى السراخس
هـ- بويضة حشره المن	٥- تركيب ثنائى المجموعة الصبغية فى السراخس
و- حيوان منوى ذكر نحل العسل	

**(ب) علل لكل مما يأتي:**

- ١- إصابة بعض الأفراد بالتضخم الجحوظي .
  - ٢- وجود الأحزمة عند اتصال أطراف الحيوان بهيكلة المحوري.
- (ج) لهرمون الأنسولين دور هام في تنظيم نسبة الجلوكوز في الدم . اشرح ذلك.**

**السؤال الرابع****(أ) اكتب العبارات الآتية بعد تصويب ما تحته خط:**

- ١- يفرز هرمون الذكورة في الإنسان من انبسيبات داخل الخصية .
- ٢- عدد الفقرات الغير ملتحمة فى العمود الفقرى للإنسان ١١ فقرة.
- ٣- تتكون عظام الحوض من نصفين متماثلين يلتحمان من الناحية الباطنية في منطقة تسمى التجوييف الحقى .
- ٤- هرمون الثيروكسين له أثر مشجع في اندفاع ونزول الحليب من الغدد اللبنية استجابة لعملية الرضاعة .
- ٥- عدد الضلوع العائمة ثلاثة.
- ٦- نقص افراز هرمون الثيروكسين فى مرحلة الطفولة يؤدي الى طول الجسم وصغر حجم الرأس.

**(ب) اذكر مكان ووظيفة كل مما يأتي :**

- ١- النيوسيلا
- ٢- الضلوع
- ٣- الثقب الكبير

**(ج) وضح بالرسم كامل البيانات تركيب الفقرة.****السؤال الخامس (١٥ درجة)****(أ) ماذا يحدث في كل حالة من الحالات التالية ؟**

- ١- تناول الأم الحامل السجائر وشرب الكحوليات؟
- ٢- حدوث زيادة في إفراز هرمون النمو بعد البلوغ؟
- ٣- غياب الاهداب من بطانة قناة فالوب

**ب- ١- ماذا يقصد بكل مما يأتي:**

- أ- الوصلة العصبية العضلية
  - ب- الدعامة الفسيولوجية
  - ٢- يحاط الجنين داخل الرحم بنوعين من الاغشية، ما هما ؟ وما اهمية كل منهما؟
- (ج) وضح أهمية الأوكسينات النباتية.**