


البوكلت بالاجابة مع الشرح

المراجعة النهائية



الفيزياء

للتانوية العامة

وتحتوي على

- امتحانات بوكليت الوزارة
- امتحان الازهر ٢٠١٧ م
- امتحان السودان ٢٠١٧ م
- امتحانات دليل التقويم ٢٠١٧ م

اعداد / أحمد الصباغ

اخصائى تدريس الفيزياء والكيمياء

01093531294

01123236646

التيار الكهربى وقانون اوم وقانونا كيرشوف

س ١ اكتب المصطلح العلمى :-

فرق الجهد بين طرفي العمود عندما تكون الدائرة الخارجية مفتوحة
او الشغل الكلي المبذول لنقل شحنة مقدارها واحد كولوم داخل وخارج المصدر (خلال الدائرة كلها)
الحل القوة الدافعة الكهربائية

س ٢ ما النتائج المترتبة على كل مما يأتي :

أ- زياد طول موصل الى الضعف ونقص مساحة مقطعه الى النصف بالنسبة لمقاومته الكهربائية

الحل تزداد مقاومة الموصل الى 4 امثال مقاومته الاولى $R \propto \frac{L}{A}$

ب- زيادة طول موصل الى الضعف ونقص مساحة مقطعه الى النصف بالنسبة للتوصيلية الكهربائية
الحل تظل ثابتة لان التوصيلية الكهربائية تعتمد على نوع المادة ودرجة حرارتها

س ٣ علل لما يأتي

- زيادة فرق الجهد بين طرفي بطارية بزيادة المقاومة الكلية للدائرة

الحل لانه بزيادة المقاومة الكلية تقل شدة التيار فيقل الجهد المفقود Ir طبقا للعلاقة ثابت IR يقل - ثابت V_B ثابت $V_1 =$ يزداد ويزداد فرق الجهد بين طرفي العمود

س ٤ اذكر خاصيتين فقط من خصائص توصيل المقاومات على التوالي

الحل تزداد المقاومة الكلية حيث $R_{eq} = R_1 + R_2 + R_3$ ويقل التيار الصادر من البطارية
فرق الجهد الكلي = مجموع فروق الجهد بين طرفي كل مقاومة $V = V_1 + V_2 + V_3$

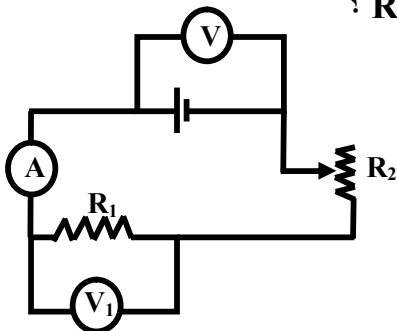
س ٥ اذكر عاملين فقط يمكنهما زيادة كل من :

شدة التيار الكهربى المار في دائرة مغلقة

الحل أ- زيادة القوة الدافعة الكهربائية للمصدر
ب- تقليل مقاومة الدائرة

س ٦ اختر الاجابة الصحيحة :

أ- ماذا يحدث لقراءة الاجهزة المبينة بالشكل عند زيادة قيمة المقاومة المتغيرة R_2 ؟



قراءة الاميتير (A)	قراءة الفولتميتر (V ₁)	قراءة الفولتميتر (V)	
١	تقل	تزداد	
٢	لا تتغير	لا تتغير	
٣	تقل	تقل	
٤	تقل	تزداد	

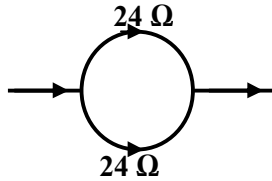
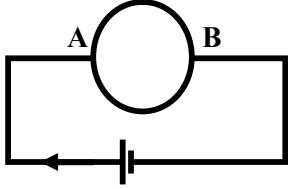
الحل الاختيار (١) لانه عند زيادة R_2 فإن R_{eq} تزداد حيث $R_{eq} = R_1 + R_2$ فيقل I ← تقل قراءة الاميتير
ويزداد V لان Ir يقل - $V = V_B$ يزداد ويقل V_1 لان IR_1 يقل $V_1 =$ يقل

لاحظ ان العامل المؤثر على قراءة الفولتميتر هو شدة التيار

ب- عند توصيل مقاومتين R , $4R$ على التوازي مع بطارية تكون القدرة المستنفذة في المقاومة R القدرة المستنفذة في المقاومة $4R$ (اربع امثال - ضعف - تساوي - ربع)

$$\begin{aligned} R_1 &= R & R_2 &= 4R \\ \frac{P_{W1}}{P_{W2}} &= \frac{R_2}{R_1} & \frac{P_{W1}}{P_{W2}} &= \frac{4R}{R} \\ P_{W1} &= 4P_{W2} \end{aligned}$$

الحل



ج- تم تشكيل سلك منتظم المقطع مقاومته 48Ω على هيئة حلقة مغلقة ثم وصلت بطارية بين طرفي قطرها كما بالشكل فإن المقاومة المكافئة بين النقطتين A , B (12Ω - 24Ω - 48Ω - 96Ω)

الحل مقاومة سلك الحلقة 48Ω ، التيار يقسم الحلقة الى قسمين متساويين في المقاومة كل قسم 24Ω وتكون المقاومتان توازي

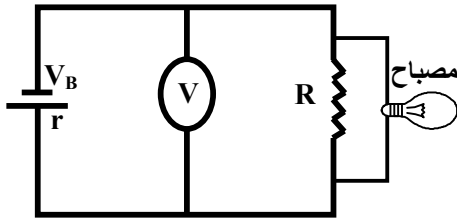
$$R_{eq} = 24/2 = 12\Omega$$

د- في الدائرة المقابلة

اذا احترقت فتيلة المصباح فإن قراءة الفولتميتر.....

(تزداد - تقل - تظل كما هي)

الحل تظل كما هي (لثبوت فرق الجهد للمصباح وهو القوة الدافعة الكهربائية للبطارية)



س٧ في الدائرة الموضحة بالشكل المقابل :-

أ - ايهما اكبر في القيم العددية V_1 , V_2

ب- ماذا يحدث لكل من قراءة الاميتر

والفولتميتر V_2 عند زيادة المقاومة S ؟ ولماذا ؟

الحل

V_1 اكبر من V_2

بزيادة S تقل قراءة الاميتر ويقل V_2

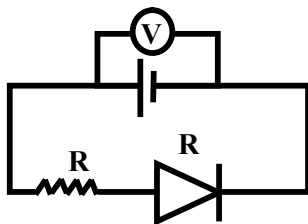
بزيادة S تزداد R_{eq} ويقل I

$$R_{eq} = R + S \text{ مقاومة خارجية}$$

$$\text{ثابت } Ir \text{ يقل } - V_B \text{ ثابت } = V_1 \text{ يزداد}$$

لاحظ ان

$$\text{ثابت } IR \text{ يقل } = V_2$$



س٨ ماذا يحدث لقراءة الفولتميتر عند :

أ- عكس قطبي البطارية

ب- استبدال الدايمود بسلك عديم المقاومة

الحل :-

أ- تزداد قراءة الفولتميتر

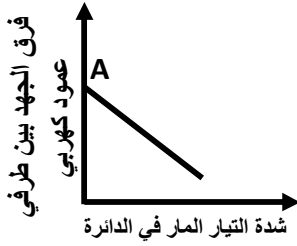
لانه قبل عكس قطبي البطارية $V = V_B - Ir$ بعد عكس قطبي البطارية $I = 0$ فيصبح $V = V_B$

ب- قراءة الفولتميتر تقل

لانه عند استبدال الدايمود بسلك عديم المقاومة فان R_{eq} تقل حيث يصبح $R_{eq} = R$ ويزداد I

$$\text{ثابت } Ir \text{ يزداد } - V_B \text{ ثابت } = V_1 \text{ يقل}$$

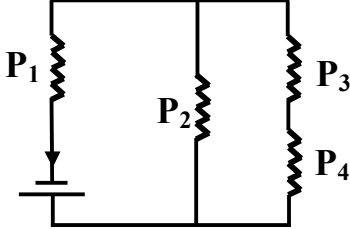
س٩ اوجد ما تدل عليه النقطة A



الحل تدل النقطة A على القوة الدافعة الكهربائية للعمود V_B

ملحوظة ميل الخط المستقيم = المقاومة الداخلية للعمود

س١٠ عدة مصابيح كهربية متماثلة متصلة بعمود كهربائي ومرقمة كما بالشكل



أ- رتب هذه المصابيح تنازلياً حسب شدة اضاءتها

ب- سجل ما يحدث لشدة اضاءة المصابيح المرقمة P_3 , P_1 في حالة

احتراق فتيلة المصباح P_2 :

ج- سجل ما يحدث لشدة اضاءة المصابيح المرقمة P_3 , P_1 في حالة

استبدال المصباح P_4 بمكثف :

الحل

أ- $P_1 > P_2 > P_3 = P_4$

لان التيار الكلي يمر بالمصباح P_1 ثم يتجزأ التيار . الفرع الذي به المصباح P_2 يأخذ التيار الاكبر

والفرع الذي به P_3 و P_4 يأخذ الجزء الاقل من التيار و $P_3 = P_4$ لان لهما نفس التيار ونفس المقاومة

ب- P_1 يقل و P_3 و P_4 يزداد

لانه عند احتراق P_2 فان المقاومة الكلية تزداد ويقل التيار الكلي الصادر من البطارية والذي يمر في P_1 فتقل اضاءة P_1 ولكن

اضاءة P_3 و P_4 تزداد لانه اصبح يمر بهما التيار الكلي الصادر من البطارية

ج- P_1 يقل تدريجياً حتى يثبت P_3 يقل تدريجياً حتى ينعدم

لانه عند استبدال P_4 بمكثف فان اضاءة P_3 تقل تدريجياً ثم تنعدم لان المكثف لا يسمح بمرور التيار المستمر فيعمل كمفتاح

OFF وتزداد المقاومة الكلية ويقل التيار الكلي والذي يمر في P_1 فتقل اضاءة P_1 وتزداد اضاءة P_2 لانه اصبح يمر به التيار

الكلي الصادر من البطارية

س١١ اكمل المقارنة

وجه المقارنة	توصيل عدد n من المصابيح المتماثلة معا على التوالي	توصيل عدد n من المصابيح المتماثلة معا على التوازي
شدة التيار المار في كل مصباح

الحل

توصيل المصابيح على التوالي	توصيل المصابيح على التوازي
يمر بكل منهما نفس شدة التيار الكلي المار في الدائرة (I)	يتجزأ بينهما التيار الكلي الناتج من المصدر بالتساوي (I/n)

س١٢ متى تكون قراءة فولتميتر بين قطبي عمود كهربائي قيمة عظمى

او متى يكون الفرق بين قراءة فولتميتر موضوع بين طرفي عمود والقوة الدافعة الكهربائية لنفس العمود = صفر

الحل

$$I = 0$$

عندما تكون الدائرة مفتوحة أي

المسائل

س١ سلكتان من النحاس A , B لهما نفس المقاومة فإذا كان طول السلك A اربعة امثال طول السلك B فكم تكون النسبة بين قطري السلك A و B على الترتيب

الحل

$$L_1 = 4L_2 \quad \frac{r_1}{r_2} = \dots$$

$$\frac{L_1}{L_2} = \frac{r_1^2}{r_2^2} \quad \frac{4L_2}{L_2} = \frac{r_1^2}{r_2^2}$$

$$\frac{r_1}{r_2} = \frac{2}{1}$$

$$R = \frac{\rho_e L}{A} \quad RA = \rho_e L \quad R\pi r^2 = \rho_e L$$

لاحظ ان :

النسبة بين قطري السلكين مثل النسبة بين نصفي قطري السلكين

س٢ : مقاومة من الكربون مساحة مقطعها 10 mm^2 وطولها 2 m احسب :

أ- قيمتها اذا علمت ان المقاومة النوعية للكربون $1.5 \times 10^{-5} \Omega \text{m}$

ب- شدة التيار المار بها عند توصيلها بطرفي بطارية قوتها الدافعة 15 V ومقاومتها الداخلية 2Ω

الحل

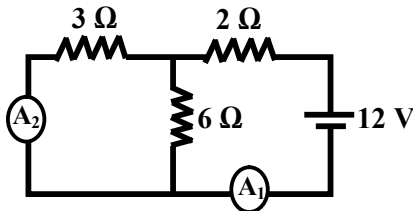
$$L = 2 \text{ m} \quad A = 10 \times 10^{-6} \text{ m}^2$$

$$\rho_e = 1.5 \times 10^{-5} \quad R = \frac{\rho_e L}{A} = \frac{1.5 \times 10^{-5} \times 2}{10 \times 10^{-6}} = 3 \Omega \quad \text{أ-}$$

$$I = \frac{V_B}{R_{eq} + r} = \frac{15}{3+2} = 3 \text{ A} \quad \text{ب-}$$

س٣ في الدائرة الموضحة ما قراءة الاميتر : A_1 و A_2

الحل



$$R_1 = \frac{3 \times 6}{3+6} = 2 \Omega \quad \text{توازي } 6, 3$$

$$R_{eq} = 2+2 = 4 \Omega \quad \text{توالي } 2, 2$$

$$I = \frac{V_B}{R_{eq} + r} = \frac{12}{4} = 3 \text{ A}$$

قراءة $A_1 = 3$ امبير ، قراءة A_2 هو التيار المار في المقاومة 3Ω

$$I_1 = \frac{2}{3} I = \frac{2}{3} \times 3 = 2 \text{ A} \quad \text{قراءة } A_2 = 2 \text{ امبير}$$

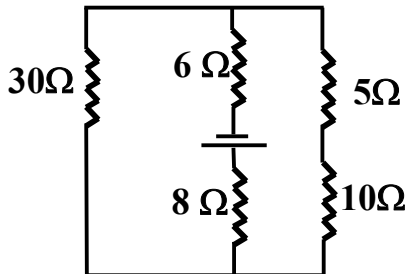
س٤ في الدائرة المقابلة

اذا علمت ان شدة التيار المار في المقاومة 30Ω او 1 امبير

والمقاومة الداخلية للبطارية 2Ω

أ- احسب المقاومة الكلية للدائرة

ب- احسب القوة الدافعة الكهربائية للبطارية



الحل

$$R_1 = 5+10 = 15 \Omega \quad \text{توالي } 10, 5$$

$$R_2 = \frac{15 \times 30}{15+30} = 10 \quad \text{توازي } 30, 15$$

$$R_{eq} = 8+6+10 = 24 \quad \text{توالي } 8, 6, 10$$

نحسب تيار المقاومتان $10, 5$

$$I_1 R_1 = I_2 R_2$$

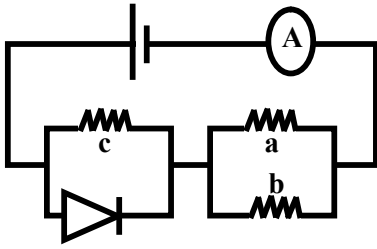
$$1 \times 30 = I_2 \times 15$$

$$I_2 = 2 \text{ A}$$

$$I = 1+2 = 3$$

$$I = \frac{V_B}{R_{eq} + r}$$

$$V_B = 78 \text{ V}$$



س ٥ تتكون الدائرة الكهربائية المبينة بالشكل من عمود كهربائي قوته الدافعة الكهربائية V_B ومقاومته الداخلية مهملة وثلاث مقاومات اومية متماثلة (a , b , c) ودايود مقاومته له نفس قيمة المقاومة الاومية لاي منها اوجد النسبة بين قراءة الاميتر قبل وبعد عكس قطبي العمود

الحل

قبل عكس قطبي الدايود يكون الدايود موصل اماميا فيسمح بمرور التيار ويصبح :

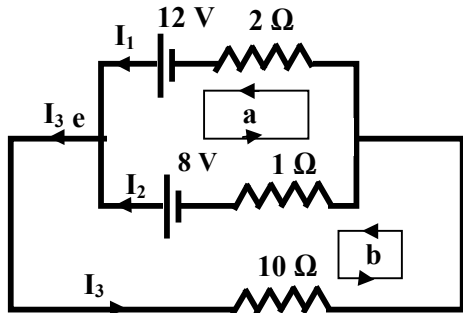
$$R = R_{eq} \quad I_1 = \frac{V_B}{R_{eq} + r} \quad I_1 = \frac{V_B}{R}$$

بعد عكس الدايود يكون موصل خلفيا فلا يسمح بمرور التيار خلاله فتصبح :

$$R = 1.5 \quad I_2 = \frac{V_B}{R_{eq} + r} \quad I_2 = \frac{V_B}{1.5R}$$

س ٦ في الدائرة الكهربائية

المبينة بالشكل استخدم قانونا كيرشوف لايجاد شدة التيار المار خلال المقاومة 10Ω



الحل

عند النقطة (e) بتطبيق قانون كيرشوف الاول : (1) $I_1 + I_2 = I_3$

$$\Sigma V_B = \Sigma IR \quad \text{(a) المسار}$$

$$12 - 8 = 2I_1 - I_2$$

$$4 = 2I_1 - I_2 \quad (2)$$

$$\Sigma V_B = \Sigma IR \quad \text{(b) المسار}$$

$$8 = I_2 - 10I_3 \quad (3)$$

بترتيب المعادلات

$$I_1 + I_2 - I_3 = 0$$

$$2I_1 - I_2 + 0 I_3$$

$$0 I_1 + I_2 - 10I_3 = 8$$

باستخدام الالة الحاسبة

$$I_1 = 13/8 \text{ A}$$

$$I_2 = -3/4 \text{ A}$$

$$I_3 = 7/8 \text{ A}$$

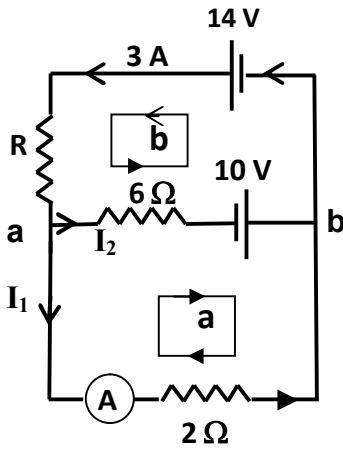
س٧ في الدائرة الموضحة بالشكل المقابل

وملتزماً بقيم التيار واتجاهه وباستخدام قوانين كيرشوف اوجد كل من :-

أ- قيمة المقاومة R

ب- قراءة الاميتر A

(علماً بأن المقاومة الداخلية المستخدمة مهملة)



الحل

عند النقطة (a)

$$3 = I_1 + I_2$$

$$\Sigma V_B = \Sigma IR \quad \text{(المسار 1)}$$

$$10 = 6I_2 - 2I_1$$

$$6 = 2I_1 + 2I_2$$

وبضرب المعادلة الاولى في (2)

$$16 = 8I_2 \quad I_2 = 2A$$

ويصبح $I_1 = 3 - 2 = 1A$ قراءة الاميتر = 1 امبير

$$\Sigma V_B = \Sigma IR \quad \text{(المسار 2)}$$

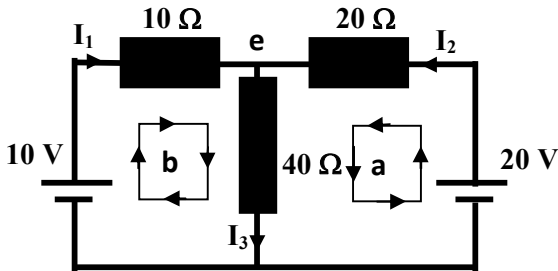
$$14 + 10 = 3R + 6 \times 2$$

$$24 = 3R + 12 \quad 12 = 3R \quad R = 4\Omega$$

س٨ في الدائرة المقابلة

أ- احسب شدة التيار الكهربائي المار في المقاومة 40Ω

ب- احسب القدرة المستنفذة في الدائرة الكهربائية



الحل

أ- عند النقطة e

$$I_1 + I_2 = I_3 \quad (1)$$

$$\Sigma V_B = \Sigma IR \quad (2)$$

من المسار (a)

$$20 = 20I_2 + 40I_3$$

$$\Sigma V_B = \Sigma IR \quad (3)$$

من المسار (b)

$$10 = 10I_1 + 40I_3$$

بترتيب المعادلات

$$I_1 + I_2 - I_3 = 0$$

$$0I_1 + 20I_2 + 40I_3 = 20$$

$$10I_1 + 0I_2 + 40I_3 = 10$$

باستخدام الالة الحاسبة :

$$I_1 = -\frac{1}{7}A, \quad I_2 = \frac{3}{7}A, \quad I_3 = \frac{2}{7}A$$

$$P_t = I_1^2 R_1 + I_2^2 R_2 + I_3^2 R_3$$

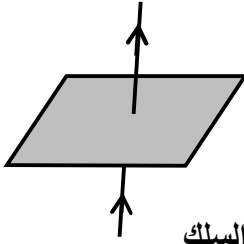
$$P_t = [(-\frac{1}{7})^2 \times 10 + (\frac{3}{7})^2 \times 20 + (\frac{2}{7})^2 \times 40]$$

$$P_t = 7.14 \text{ watt}$$

ب-

التأثير المغناطيسي واجزة القياس

س ١ : في التجربة الموضحة بالشكل تم نثر برادة حديد على لوح ورقي أفقي يخترقه



سلك مستقيم رأسيا ماذا يحدث لبرادة الحديد في الحالات الآتية :

أ- عند مرور تيار كهربائي في السلك وطرق اللوح برفق

ب- زيادة شدة التيار في السلك مع استمرار الطرق

الحل

أ- تصبح برادة الحديد على شكل دوائر صغيرة منتظمة مركزها السلك وتتزاخم كلما اقتربنا من السلك

ب- تتزاخم خطوط المجال المغناطيسي وتكون أكثر ازدحاما عن الحالة الأولى

س ٢ قارن بين خصائص خطوط المجال المغناطيسي عند مركز ملف دائري وعند محور ملف حلزوني

عند مركز ملف دائري ← خطوط قصيرة متوازية عمودية على الملف - تختلف كثافتها من نقطة لأخرى -

تفقد دائريتها كلما اقتربنا من المركز - تشبه خطوط الفيض لمغناطيس قصير على شكل قرص مصمت

عند محور ملف حلزوني ← خطوط طويلة متوازية تمثل مسارات مغلقة - تشبه خطوط المجال لمغناطيس على شكل قضيب

س ٣ اذكر استخداما لكل من:

أ - قاعدة اليد اليسرى لفلمنج

ب- قاعدة اليد اليمنى لامبير

الحل

أ- تحديد اتجاه القوة المؤثرة على سلك يمر به تيار كهربائي وموضوع عمودي على مجال مغناطيسي

ب- تحديد اتجاه المجال المغناطيسي الناشئ عن مرور تيار في سلك مستقيم أو تحديد قطبية الملف الحلزوني

س ٤ اذكر اسم القاعدة المستخدمة في تحديد الآتي :-

أ- القوة المغناطيسية بين سلكين مستقيمين متوازيين يمر بكل منهما تيار كهربائي

ب- عزم ثنائي القطب المغناطيسي لملف

ج- المجال المغناطيسي لملف دائري أو حلزوني

الحل

أ- فلمنج لليد اليسرى

ب- البريمة اليمنى

ج- البريمة اليمنى

س ٥ متى تكون القيم الآتية تساوي صفر

أ- عزم الازدواج المؤثر على ملف يمر به تيار كهربائي وموضوع في مجال مغناطيسي

ب- كثافة الفيض المغناطيسي عند منتصف المسافة بين سلكين متوازيين يحملان تيارين كهربائيين

ج - كثافة الفيض المغناطيسي عند محور ملف حلزوني

د- القوة المؤثرة على سلك يمر به تيار موضوع عمودي على مجال مغناطيسي

الحل

أ- عندما يكون مستوي الملف عمودي على خطوط المجال

ب- إذا كان التياران متساويان في الشدة وفي اتجاه واحد

ج- عندما يكون الملف ملفوفا لفا مزدوجا

د- عندما يكون السلك موازيا للمجال $\theta = 0$

س٦ اشرح لماذا لا يتأثر ملف مستطيل موضوع عموديا على اتجاه مجال مغناطيسي بعزم ازدواج عند امرار تيار كهربى خلاله بالرغم من تأثر اضلاعه بقوى مغناطيسية
الحل لان شرط الازدواج وجود قوتين متساويتين ومتوازيتين ومتضادتين وخط عملهما ليس واحد وفي هذه الحالة تكون القوتين متزننتين فلا يتولد ازدواج (طول ذراع العزم = صفر)

س٧- اكتب العلاقة الرياضية التي تستخدم لحساب كل من :

- أ- عزم ثنائي القطب المغناطيسي لملف يمر به تيار كهربى
ب- كثافة الفيض المغناطيسي عند مركز ملف دائري يمر به تيار كهربى
ج- شدة التيار المار في دائرة الاوميتير والتي تجعل مؤشر الجلفانومتر بداخله ينحرف الى نهاية تدريجه
د- قانون امبير الدائري
هـ - كثافة الفيض عند مركز لفة دائرية

الحل

$$I_g = \frac{V_B}{R_{eq}} \quad \text{ج-}$$

$$B = \frac{\mu I N}{2r} \quad \text{ب-}$$

$$|\vec{m}_d| = I A N \quad \text{أ-}$$

$$B = \frac{\mu I}{2r} \quad \text{هـ-}$$

$$B = \frac{\mu I}{2\pi d} \quad \text{د-}$$

س٨ قارن بين

- أ- تدريج الجلفانومتر الحساس وتدرج الاميتير من حيث موضع صفر التدرج
ب- اجهزة القياس التناظرية واهزة القياس الرقمية من حيث طريقة بيان القراءة

الحل

- أ - موضع الصفر في الجلفانومتر ← عند منتصف التدرج
موضع الصفر في الاميتير ← اقصى الجهة اليسري
ب- اجهزة القياس التناظرية ← مؤشر يتحرك على تدرج اجهزة القياس الرقمية ← ارقام تظهر على الشاشة

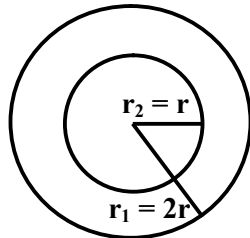
س٩- ما جهاز القياس الكهربى الذي مدي تدريجه يكون من صفر الى ما لا نهاية ؟

الحل

لاوميتير وذلك عندما تكون الدائرة مفتوحة المقاومة المقاسة (مقاومة الهواء)

س١٠- متى تكون كثافة الفيض المغناطيسى الناشئ عند المركز المشترك لحلقتين معدنيتين موضوعتين في مستوي واحد تساوي صفرا اذا كانا يحملان تيارين كهربيين وقطر احدهما يساوي نصف قطر الحلقة الاخرى

الحل



نجعل تيار الحلقة الخارجية ضعف تيار الحلقة الداخلية وعكسه في الاتجاه

$$\text{لاحظ ان} \quad B_1 \text{ داخلية} = B_2 \text{ خارجية} \quad I_1 \text{ داخلية} = I_2 \text{ خارجية}$$

$$\frac{\mu I_1 N_1}{2r_1} = \frac{\mu I_2 N_2}{2r_2} \quad \frac{I_1}{2r} = \frac{I_2}{r}$$

س١١- وضح كيف يمكنك تحويل جلفانومتر مقاومة ملفه R_g واقصى شدة تيار يتحملها ملفه I_g الى فولتميتر لقياس فرق جهد اقصاه $V_g < V$

الحل

نصل ملف الجلفانومتر بمقاومة كبيرة على التوالي تسمى مضاعف الجهد R_m

س ١٢ - ما الفكرة او الطريقة العلمية التي تمكن العلماء بها من؟
زيادة مدي قياس الجلفانومتر لشدة التيار

الحل

توصيل الجلفانومتر على التوازي مع مقاومة صغيرة جدا تسمى مجزئ التيار

س ١٣ - علل عدم انتظام تدريج الاوميتتر

الحل

لان شدة التيار في الاوميتتر تتناسب عكسيا مع المقاومة الكلية للدائرة وليس مع المقاومة الخارجية فقط (R_x)

س ١٤ - مامعنى قولنا ان

أ- قيمة مضاعف الجهد في فولتميتر = 1000Ω

ب- حساسية جلفانومتر $5^\circ/\mu A$

ج- حساسية الجلفانومتر لكل قسم 5 امبير / قسم

الحل

أ- اي ان المقاومة الكبيرة التي توصل على التوالي مع الجلفانومتر لتحويله الى فولتميتر = 1000Ω

ب- النسبة بين زاوية انحراف المؤشر الى شدة التيار المار بالجلفانومتر = $5^\circ/\mu A$

ج- النسبة بين اقصى تيار يمكن قياسه بواسطة الجلفانومتر الى عدد الاقسام 5 امبير / قسم

س ١٥ - اكتب المفهوم العلمي

أ- النسبة بين مقاومة الاميتر الى مقاومة الجلفانومتر قبل تعديله ليصبح اميتر

ب- يساوي عزم ثنائي القطب العمودي على ملف مكون من لفة واحدة ومساحة $1m^2 = 2$ نيوتن.م/تسلا

الحل

أ- حساسية الجلفانومتر ب- شدة التيار المار في الملف يساوي $2A$

س ١٦ - اختر الاجابة الصحيحة

أ- يتكون تدريج جلفانومتر حساس من عشرين قسما وينحرف مؤشره الى منتصف التدريج عند مرور تيارا كهربيا شدته 0.1 ميلي امبير في ملفه فإن حساسية الجهاز تساوي :

(20 ميكرو امبير/قسم - 10 ميكرو امبير/قسم - 5 ميكرو امبير/قسم - 2 ميكرو امبير/قسم)

الحل

اقصي شدة تيار = الحساسية لكل قسم \times عدد الاقسام

$$20 \times 10^{-3} = 0.1 \times 2 \times 10^{-3}$$

$$\text{الحساسية لكل قسم} = 10^{-5} \text{ امبير/قسم}$$

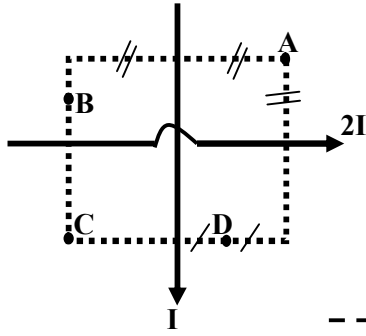
$$\text{الحساسية لكل قسم} = 10^6 \times 10^{-5} = 10 \text{ ميكرو امبير/قسم}$$

ب- اذا كانت حساسية الجلفانومتر 500 ميكرو امبير/قسم وكان التدريج مكون من عشرة اقسام فإن اقصى قراءة للجلفانومتر هي (50 ميكرو امبير - 5 مللي امبير - 20 مللي امبير)

الحل

اقصي شدة تيار = الحساسية لكل قسم \times عدد الاقسام

$$\text{اقصي شدة تيار} = 10 \times 500 = 5000 \text{ ميكرو امبير} = 5 \times 10^{-3} = 5 \text{ مللي امبير}$$



ج- يبين الشكل المقابل سلكين معزولين متعامدين يمر بهما تياران I , $2I$ كثافة الفيض المغناطيسي تنعدم عند النقطة

(A - B - C - D)

الحل

لان النقطة D بجوار السلك الاقل تيار

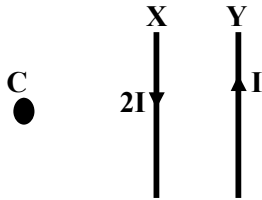
د- يمر تياران I , $2I$ في سلكين متوازيين كما بالشكل عند تحريك السلك Y مبتعدا عن السلك X فإن كثافة الفيض المغناطيسي

عند المنطقة C (تقل - لا تتغير - تزداد)

الحل

$$B_t = B_x - B_y$$

وعند تحريك السلك Y ناحية اليمين فيقل B_y ويزداد B_t طبقا للعلاقة السابقة



هـ - يمر تيار كهربى شدته I في كل من سلكين مستقيمين ومتوازيين فاذا زادت شدة التيار في كل منهما الى الضعف وقلت المسافة بينهما الى النصف فان القوة المتبادلة بينهما تزداد الى

(الضعف / اربع امثالها / ثمانية امثالها)

$$F \propto \frac{I_1 I_2}{d} \quad F \propto \frac{2 \times 2}{\frac{1}{2}} \quad f \propto 8 \text{ ثمانية امثالها}$$

الحل

و- تكون محصلة عزم الازدواج المؤثر على ملف الجلفانومتر عندما يستقر مؤشره امام قراءة معينة مساويا

$$(BIAN - BIAN^2 - \text{zero})$$

الحل

لانه عند الاتزان يكون عزم الازدواج الملفان الزنبركيان = عزم الازدواج ملف الجلفانومتر نتيجة مرور التيار الكهربى به

ل- النسبة بين مقاومة الاميتر ومقاومة مجزئ التيار داخلهالواحد الصحيح

(اكبر من / اقل من / يساوي)

الحل

$$R_{eq} = \frac{R_g R_s}{R_g + R_s}$$

$$R_g > R_s > R_{eq}$$

لاحظ ان

اقل من

ي- اذا كانت المقاومة الكلية لاميتر R فإن مقاومة مجزئ التيار داخله تكون

(اقل من R - اكبر من R - تساوي R)

ك- تتعين قيمة مجزئ التيار من العلاقة

$$\left(\frac{I_g R_g}{I_g - I} - \frac{I_g R_g}{I_g + I} - \frac{V_g}{I - I_g} \right)$$

$$V_g = I_g R_g \text{ حيث } \frac{V_g}{I - I_g}$$

الحل

ن- وصلت مقاومة 2000Ω مع طرفي اوميتير فانحرف مؤشره الى منتصف تدريج التيار. كم تكون قيمة المقاومة التي تتصل بطرفي الاوميتير فتجعل مرشره ينحرف الى ربع تدريج التيار؟
(4000Ω - 6000Ω - 8000Ω - 10000Ω)

الحل

لاحظ ان المؤشر اذا انحرف الى منتصف التدريج فإن المقاومة المقاسة حينئذ تساوي مقاومة الاوميتير أي ان :

$$I = \frac{1}{4} I_g \quad R_{eq} = 2000$$

$$\frac{I_g}{I} = \frac{R_{eq} + R_x}{R_{eq}} \quad \frac{I_g}{\frac{1}{4} I_g} = \frac{2000 + R_x}{2000}$$

$$4 = \frac{2000 + R_x}{2000} \quad R_x = 6000$$

س١٧- ضع كلمة اكبر من - اقل من - يساوي

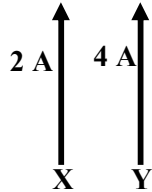
أ- مقاومة الجلفانومتر.....مقاومته بعد زيادة مداه وتقليل حساسيته كأميتر

الحل اكبر من لان مقاومة الجلفانومتر R_g ومقاومة الاميتر $\frac{R_g R_s}{R_g + R_s}$

ب- كثافة الفيض المغناطيسي عند مركز حلقة دائرية نصف قطرها r وتحمل تيار كهربى شدته I
..... كثافة الفيض عند نقطة على بعد r من سلك مستقيم يحمل تيار شدته $3I$

الحل اكبر من لان $B = \frac{\mu I N}{2r}$ حلقة $\leftarrow B = \frac{4\pi \times 10^{-7} \times I \times 1}{2r}$ حلقة $\leftarrow B = \frac{6.28 \times 10^{-7} I}{r}$

$B = \frac{\mu I}{2r}$ سلك $\leftarrow B = \frac{4\pi \times 10^{-7} \times 3I}{r}$ سلك $\leftarrow B = \frac{6 \times 10^{-7} I}{r}$

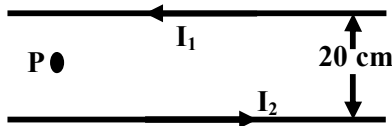


ج- القوة التي يؤثر بها السلك X على السلك Y
القوة التي يؤثر بها السلك Y على السلك X

الحل

تساوي لان القوي المتبادلة تعتمد على حاصل ضرب تيار السلكين وليس تيار سلك واحد فقط

المسائل



س١ سلكان مستقيمان ومتوازيان المسافة بينهما في الهواء 20cm يمر في السلك الاول تيار شدته I_1 وفي السلك الثاني تيار شدته $I_2 = 10\text{A}$ في الاتجاه الموضح بالشكل المقابل فإذا علمت ان كثافة الفيض الكلية عند النقطة P عند منتصف المسافة بين السلكين هي 6×10^{-5} تسلا احسب القوة المتبادلة بينهما اذا كان طول كل منهما 50cm (معامل النفاذية المغناطيسية للهواء

$$(4\pi \times 10^{-7} \text{Wb/A}\cdot\text{m})$$

الحل نحسب اولاً : I_2

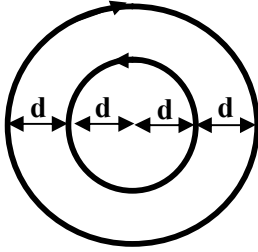
$$B_t = B_1 + B_2$$

$$6 \times 10^{-5} = \frac{\mu I_1}{2\pi d_1} + \frac{\mu I_2}{2\pi d_2}$$

$$6 \times 10^{-5} = \frac{4\pi \times 10^{-7} \times I_1}{2\pi \times 10 \times 10^{-2}} + \frac{4\pi \times 10^{-7} \times I_2}{2\pi \times 10 \times 10^{-2}}$$

$$I_1 = 20\text{A}$$

$$F = \frac{\mu I_1 I_2 L}{2\pi d} = \frac{4\pi \times 10^{-7} \times 20 \times 10 \times 50 \times 10^{-2}}{2\pi \times 20 \times 10^{-2}} = 10^{-4} \text{N}$$



س ٢ - حلقتان دائريتان من النحاس متحدتا المركز يمر بكل منهما نفس شدة التيار الكهربائي (I) كما بالشكل ما التغيير اللازم اجراءه لشدة التيار في الحلقة الداخلية لجعل المركز المشترك للحلقتين نقطة تعادل ؟
فسر اجابتك ؟

الحل $r_1 = d$ $N_1 = 1$ الملف الاصغر ، $r_2 = 2d$ $N_2 = 1$ الملف الاكبر
لجعل المركز المشترك نقطة تعادل يجب ان يكون :

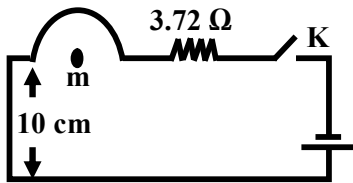
$$B_1 = B_2 \quad \frac{\mu I_1 N_1}{2r_1} = \frac{\mu I_2 N_2}{2r_2}$$

$$\frac{I_1}{r_1} = \frac{I_2}{r_2} \quad \frac{I_1}{d} = \frac{I_2}{2d}$$

$$I_1 = \frac{1}{2} I_2$$

نقل شدة تيار الحلقة الداخلية بحيث تساوي نصف تيار الحلقة الخارجية

س ٣ في الدائرة المقابلة



سلك على شكل نصف حلقة قطرها 3.14 cm متصلة على التوالي مع مقاومة قدرها 3.72 Ohms واسلاك توصيل مهمة المقاومة ومصدر قوته الدافعة الكهربائية 24 V ومقاومته الداخلية 2 Ohms عند غلق المفتاح K كانت كثافة الفيض الكلية عند المركز 2.4×10^{-5} تسلا (اعتبران : $\pi = 3.14$) احسب :

١- شدة التيار المار في الدائرة

٢- مقاومة سلك الحلقة

٣- المقاومة النوعية لمادة سلك الحلقة اذا كان نصف قطر السلك 0.1 cm

ج: (١)

$$B_{\text{ملف}} = \frac{\mu I N}{2r} = \frac{4\pi \times 10^{-7} I \times \frac{1}{2}}{2 \times 3.14 \times 10^{-2}} = 10^{-5} I$$

$$B_{\text{سلك}} = \frac{\mu I}{2\pi d} = \frac{4\pi \times 10^{-7} \times I}{2 \times \pi \times 0.1} = 2 \times 10^{-6} I$$

$$B_t = B_1 \text{ سلك} + B_2 \text{ ملف}$$

$$2.4 \times 10^{-5} = 10^{-5} I + 2 \times 10^{-6} I$$

$$2.4 \times 10^{-5} = I (10^{-5} + 2 \times 10^{-6})$$

$$I = 2 \text{ A}$$

$$I = \frac{V_B}{R_{\text{eq}} + r} \quad 2 = \frac{24}{R_{\text{eq}} + 2} \quad R_{\text{eq}} = 10 \text{ Ohms} \quad (٢)$$

$$R_{\text{حلقة}} = 10 - 3.72 = 6.28 \text{ Ohms} \quad \rho_e = \frac{RA}{L} = \frac{R \pi r_{\text{سلك}}^2}{N 2 \pi r_{\text{ملف}}^2} = \frac{6.28 \times \pi \times (0.1 \times 10^{-2})^2}{\frac{1}{2} \times 2 \times \pi \times 3.14 \times 10^{-2}} = 2 \times 10^{-4} \text{ Ohm.m} \quad (٣)$$

س ٤ ملف مستطيل مكون من لفة واحدة ابعادها 10 cm و 20 cm قابل للدوران حول محور موازي لطوله في مجال

مغناطيسي كثافة فيضه 0.4 T فاذا مر تيار شدته 2A احسب كل من :-

أ- عزم الازدواج المؤثر على الملف عندما يميل على مستواه بزاوية 60° على خطوط المجال المغناطيسي

ب- القوة المغناطيسية المؤثرة على احد الضلعين الموازيين لمحور الدوران في الحالة السابقة .

الحل

$$A = 10 \times 20 \times 10^{-4} = 0.02 \quad N = 1 \quad B = 0.4 \quad I = 2A$$

$$\tau = B I A N \sin \theta \quad (\text{حيث } \theta \text{ بين العمودي والملف والمجال})$$

$$\tau = 0.4 \times 2 \times 0.02 \times 1 \sin 30 = 0.008 \text{ N.m}$$

$$F = B I L \sin \theta = 0.4 \times 2 \times 20 \times 10^{-3} \sin 90 \quad F = 0.16 \text{ N} \quad \text{ب-}$$

س ٥ جلفانومتر حساس مقاومة ملفه R اوم واقصى تيار يتحملة ملفه 10 mA وصل مع ملف الجلفانومتر مجزئ تيار مقاومته 0.1 R اوم لتحويله الى اميتر احسب اقصى تيار يمكن ان يقيسها الاميتر .

الحل

$$R_g = R \quad I_g = 10 \times 10^{-3} = 0.01 \quad R_s = 0.1R$$

$$R_s = \frac{I_g R_g}{I - I_g} \quad 0.1 R = \frac{0.01 \times R}{I - 0.01}$$

$$0.1 = \frac{0.01}{I - 0.01} \quad 0.1 I - 0.001 = 0.01$$

$$0.1 I = 0.1 + 0.001 \quad 0.1 I = 0.11$$

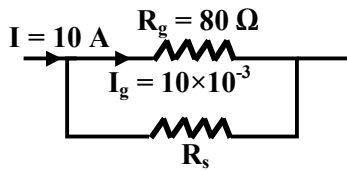
$$I = 0.11 \text{ A}$$

س ٦ جلفانومتر مقاومة ملفه 80Ω ينحرف مؤشره الى نهاية تدريجه بمرور تيار كهربى شدته 10 mA احسب :

أ- مقاومة المجزئ التي تجعله يقيس تيار شدته 10 A

ب- مقاومة المضاعف التي تجعله يقيس فرق جهد 10 V

الحل



$$R_s = \frac{I_g R_g}{I - I_g} \quad R_s = \frac{(10 \times 10^{-3}) \times 80}{10 - (10 \times 10^{-3})} = 0.08 \Omega \quad \text{أ-}$$

$$R_m = \frac{V - V_g}{I_g} = \frac{V - I_g R_g}{I_g} \quad R_m = \frac{10 - (10 \times 10^{-3} \times 80)}{(10 \times 10^{-3})} = 920 \text{ V} \quad \text{ب-}$$

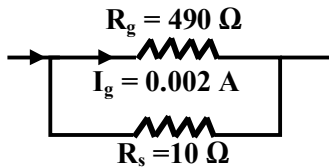
س ٧ جلفانومتر حساس مقاومة ملفه 490Ω يعطي مؤشره اقصى انحراف عندما يمر بملفه تيار شدته 0.002 A اتصل بملفه بمقاومه مجزئ لتيار قيمتها 10Ω لتحويله الى اميتر احسب:

١- مقاومة الاميتر ٢- اقصى قراءة للاميتر

٣- ما قيمة مضاعف الجهد المطلوب لتحويل هذا الاميتر الى فولتميتر يقيس حتى 20 V

الحل

$$R_{eq} = \frac{R_g R_s}{R_g + R_s} \quad R_{eq} = \frac{490 \times 10}{490 + 10} = 9.8 \Omega \quad \text{أ- مقاومة الاميتر}$$



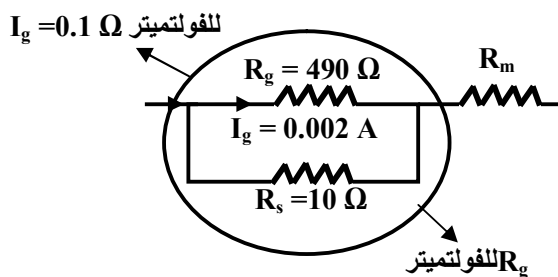
$$R_s = \frac{I_g R_g}{I - I_g} \quad 10 = \frac{0.002 \times 490}{I - 0.002} \quad I = 0.1 \text{ A} \quad \text{ب-}$$

ج- لتحويل الجهاز الاميتر الى فولتميتر

$$R_g = \frac{490 \times 10}{490 + 10} = 9.8 \quad I = 0.1 \text{ A}$$

$$R_m = \frac{V - V_g}{I_g} \quad R_m = \frac{V - I_g R_g}{I_g}$$

$$R_m = \frac{20 - 0.1 \times 9.8}{0.1} = 190.2 \Omega$$



س ٨ اوميتر مقاومته 3000Ω يشير مؤشره الى صفر التدرج عند مرور تيار I في دائرته اوجد شدة التيار الذي يمر في دائرته بدلالة I عند توصيل مقاومة خارجية قيمتها 12000Ω بين طرفي الجهاز

الحل

$$R_{eq} = 3000 \Omega \text{ مقاومة الاوميتر}$$

$$R_X = 12000 \text{ خارجية}$$

$$\frac{I_g}{I} = \frac{R_{eq} + R_X}{R_{eq}} \quad \frac{I_g}{I} = \frac{3000 + 12000}{3000} = 5 \quad \text{اقصي تيار "قراءة" } I = \frac{1}{5} I_g \text{ قراءة الجهاز}$$

لاحظ ان : I_g اقصي تيار يمر في الاوميتر عند عدم توصيل اي مقاومة خارجية ، I التيار المار عند توصيل مقاومة خارجية
لاحظ ان I_g اكبر من I في الاوميتر ، I_g اقل من I في الاميتر

س ٩

أ- اشرح كيف يمكن تحويل ميكرواميتر مقاومة ملفه 250Ω الى اوميتر بدون رسم
ب- الجدول التالي يوضح قراءة الميكرواميتر وقيمة المقاومة الخارجية المتصلة بدائرته R_X استنتج من الجدول قيمة المقاومة العيارية اللازمة لذلك
ج- اوجد قيمة كل من القوة الدافعة الكهربائية للعمود المستخدم مع اهمال مقاومته الداخلية وكذلك قيمة المقاومة الخارجية R_X التي تجعل مؤشره ينحرف الى $50 \mu A$ مستعينا بالجدول السابق

$R_X(\Omega)$	I (μA)
0	200
7500	100
∞	0

د- ما وظيفة المقاومة العيارية المستخدمة في الاوميتر

الحل

أ- يوصل الميكرواميتر على التوالي بمقاومة عيارية (R_C ثابتة) ومقاومة متغيرة (R_V ريوستات) وعمود كهربى

ب- من الجدول نلاحظ ان : $I_g = 200 \times 10^{-6}$ اقصى تيار

$$I = 100 \times 10^{-6} \text{ قراءة}$$

$$R_X = 7500$$

$$\frac{I_g}{I} = \frac{R_{eq} + R_X}{R_{eq}}$$

$$\frac{200 \times 10^{-6}}{100 \times 10^{-6}} = \frac{R_{eq} + 7500}{R_{eq}}$$

$$2R_{eq} = R_{eq} + 7500 \quad R_{eq} = 7500 \Omega$$

المقاومة العيارية = مقاومة الاوميتر - مقاومة الميكرواميتر

$$R_C = 7500 - 250 = 7250$$

ج- لحساب V_B

$$V_B = I_g R_{eq} = 200 \times 10^{-6} \times 7500 \quad V_B = 1.5 V$$

لحساب $R_X = \dots$

$$I = 50 \times 10^{-6}$$

$$\frac{I_g}{I} = \frac{R_{eq} + R_X}{R_{eq}}$$

$$\frac{200 \times 10^{-6}}{50 \times 10^{-6}} = \frac{7500 + R_X}{7500}$$

$$4 \times 7500 = 7500 + R_X \quad R_X = 22500 \Omega$$

د- وظيفة المقاومة العيارية : جعل المؤشر ينحرف الى نهاية تدرج الاميتر وبداية تدرج الاوميتر

الحث الكهرومغناطيسي

س ١ اذكر تطبيقا واحدا لـ :

- أ- الحث المتبادل بين ملفين
 الحل أ- الحث المتبادل ← المحول الكهربى
 ج- الحث الذاتى ← مصباح الفلورسنت
- ب- التيارات الدوامية
 ج- الحث الذاتى
 ب- التيارات الدوامية ← افران الحث

س ٢ ما الفكرة العلمية التى بنى عليها عمل :

- ١- المحرك الكهربى
 الحل
 ٢- المولد الكهربى

- أ- المحرك الكهربى ← عزم الازدواج المؤثر على ملف يمر به تيار وموضوع في مجال مغناطيسى
 ب- المولد ← الحث الكهرومغناطيسى

س ٣ ما الفكرة او الطريقة التى تمكن العلماء بها من

- أ- تقليل تيارات الحث في القلب المعدني للمحول الكهربى

الحل

تقسيم القلب المعدني الى شرائح معزولة

- ب- تقويم اتجاه التيار الناتج من الدينامو

الحل

استبدال الحلقتين بمقوم التيار حيث عندما يبدأ التيار في تغير اتجاهه كل نصف دورة فان نصفى الحلقة يتبادلان التلامس مع الفرشتين

س ٤ اذكر اسم القاعدة التى تحدد :-

- أ- المجال المغناطيسى داخل ملف حلزوني يحمل تيار كهربى لحظة قطع التيار عنه

الحل قاعدة لنز لان الفيض المتولد في هذه اللحظة ناتج عن انهيار التيار

- ب- اتجاه التيار المستحث في ملف

الحل قاعدة لنز

- ج- اتجاه التيار المستحث في سلك مستقيم

الحل قاعدة فلننج لليد اليمنى

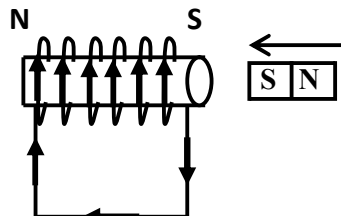
س ٥ ما معنى قولنا ان

- أ- ق.د. ك المستحثة في الملف عندما تتغير فيه شدة التيار بمعدل واحد امبير/ثانية = 0.2 V

الحل اي ان معامل الحث الذاتى للملف = 0.2 هنري

س ٦ - وضح بالرسم كامل البيانات احد حالات تجربة فاراداي في الحث الكهرومغناطيسى مسجلا على الرسم :

- أ- اتجاه الحركة النسبية بين المغناطيس والملف ب- اتجاه التيار المستحث في الملف ج- قطبية نهايتي الملف



الحل

س٧ متى تكون القيم الاتية مساوية للصفر

- أ- متوسط القوة الدافعة الكهربائية المتولدة في ملف الدينامو اثناء الدوران
ب- القوة الدافعة الكهربائية المستحثة في ملف لحظة غلق او فتح دائرته
ج- انعدام القدرة الكهربائية المستنفذة في الملف الابتدائي لمحول كهربائي مثالي رغم توصيله بمصدر متردد
د- التيار المار في الموتور (المحرك) اثناء الدوران

الحل

- أ- عندما يدور الملف دورة كاملة
ب- عندما يكون الملف ملفوفا لفا مزدوجا
ج- عند فتح دائرة الملف الثانوي
د- عندما يكون الملف عمودي على المجال حيث تلامس الفرشتان المادة العازلة والتي توجد بين نصفي الحلقة

س٨ اختر الإجابة الصحيحة

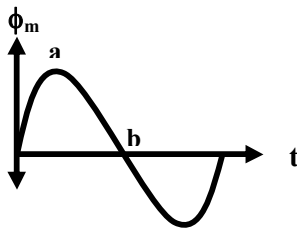
- أ- في لحظة تولد القو الدافعة الكهربائية العظمى في ملف الدينامو تكون الزاوية بين مستوي الملف واتجاه الفيض المغناطيسي

$$(90^{\circ} - 45^{\circ} - 0^{\circ})$$

الحل لاحظ ان الزاوية بين العمودي على الملف والمجال = 90°

- ب- في اللحظة التي يكون فيها ملف دينامو التيار المتردد موازيا لاتجاه الفيض المغناطيسي يكون الفيض المغناطيسي خلال الملف (ϕ) والقوة الدافعة المستحثة (E) في الملف :

(E)	(ϕ)	
صفر	قيمة عظمى	١
قيمة عظمى	صفر	٢
قيمة عظمى	قيمة عظمى	٣
صفر	صفر	٤



الحل

لاحظ ان :

عندما يكون الملف موازي للمجال يكون $\phi_m = \text{صفر}$

$$\text{عظمى} = \frac{\Delta \phi_m}{\Delta t} , \text{ emf} = \text{عظمى}$$

وضع الملف	emf	ϕ_m	
عمودي على المجال	صفر	صفر	a
موازي للمجال	عظمى	عظمى	b

س٩ اذكر احد العوامل التي يمكنها :-

أ- زيادة الحث الذاتي لملف

الحل أ- زيادة معامل نفاذية القلب - زيادة عدد اللفات - زيادة مساحة الملف - نقص طول الملف $L = \frac{\mu N^2 A}{L}$

ب- زيادة القوة الدافعة العظمى في ملف الدينامو

الحل - زيادة عدد اللفات - زيادة مساحة اللفة - زيادة كثافة الفيض - زيادة السرعة الزاوية $\text{emf}_{\text{max}} = NABw$

ج-زيادة معامل الحث المتبادل بين ملفين متجاورينالحل تقريب الملفين - وضع قلب حديديد- تقليل فقد الطاقة الكهربائية خلال المحول الكهربىالحل صناعة القلب الحديدي من الحديد المطاوع السيليكوني - جعل القلب على شكل شرائح بينهما مادة عازلة -

صناعة اسلاك الملفين من النحاس

هـ - زيادة قدرة المحرك الكهربىالحل استبدال الملف بعدة ملفات بين مستوياتها زوايا صغيرة متساوية ومتصلة بحلقة مشقوقة الى عدة شقوق بحيث يكون

عدد الشقوق ضعف عدد الملفات

و- نقل القدرة الكهربائية من اماكن انتاجها الى اماكن توزيعها باقل فقد ممكن فى الطاقة الكهربائيةالحل رفع الجهد قبل نقله - تقليل مقاومة الاسلاكس ١٠ علل لما يأتى:أ- توجد اسطوانة مشقوقة الى نصفين معزولين متصلة بطرفى المحرك الكهربىالحل حتى تغير اتجاه التيار كل نصف دورة فتغير القوة اتجاهها ويستمر الدورانب- يوجد ملف حث فى دائرة مصباح الفلورسنتالحل - حتى يخزن الطاقة الكهربائية على شكل طاقة مغناطيسية ثم يفرغها الى الغاز الخامل الذي يتأين ثم تصطدم الايونات مع

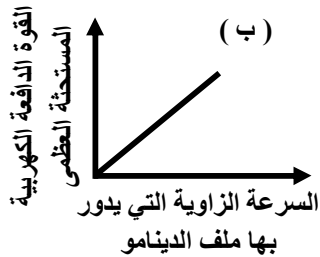
المادة الفلورسنية المبطنة للمصباح فتحدث وميضاً

ج- تتولد التيارات الدوامية فى القلب الحديدي للمحول الكهربىالحل لسهولة ترتيب جزئياته وذلك لتقليل الطاقة الكهربائية المفقودة على شكل طاقة ميكانيكية التي تستغل في ترتيب جزئيات

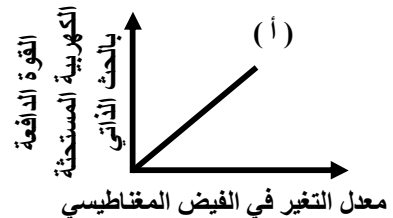
القلب الحديدي

د- استمرار دوران ملف الموتور الكهربى فى اتجاه واحدالحل نصفاً الحلقة تعمل على تغير اتجاه التيار كل نصف دورة فتغير القوة اتجاهها ويستمر عزم الازدواج ويعمل القصور

الذاتي على استمرار الدوران عند مرور الملف بالوضع العمودي

هـ - صناعة قلب المحول من الحديد المطاوع السيليكونيالحل بسبب الفيض المغناطيسي المتغير الذي يقطع ذرات القلب الحديديس ١١ اكمل الحث الذاتي لملف حلزوني الحث الذاتي له عندما نضغط على اتجاه محوره وتتقارب لفاتهالحل اقل من لان عند الضغط على الملف يقل طول الملف L ومعامل الحث يتناسب عكسياً مع طول الملف $L = \frac{\mu N^2 A}{L}$ س ١٢ اوجد ما يدل عليه الميل :-

$$\text{slope} = \frac{\text{emf}}{w} = NAB \quad \text{ب-}$$



$$\text{slope} = \frac{\text{emf}}{\frac{\Delta \Phi_m}{w}} = N \quad \text{أ- عدد اللغات}$$

س ١٣ - ما النتائج المترتبة على نقل الطاقة الكهربائية لمسافات كبيرة مباشرة دون استخدام محولات كهربية ؟الحل فقد طاقة كبيرة اثناء النقل فى الاسلاك على شكل طاقة حرارية

س ١٤ قارن بين

وجه المقارنة	الدينامو	الموتور
دور الاسطوانة المتصلة بالملف ومشوقة الى نصفين معزولين		

الحل - في الدينامو ← توحيد اتجاه التيار حيث عندما يبدأ التيار في تغير اتجاهه كل نصف دورة فإن نصف الحلقة يتبادلان التلامس مع الفرشتين
في الموتور ← تغير اتجاه التيار كل نصف دورة حتى تغير القوة اتجاهه ويستمر الدوران

س ١٥ اكتب المفهوم العلمي

١- النسبة بين الطاقة الكهربائية المكتسبة في الملف الثانوي في المحول الكهربائي الى الطاقة الكهربائية المعطاة للملف الابتدائي
الحل كفاءة المحول η

س ١٦ ما النتائج المترتبة على

أ- توصيل الملف الابتدائي لمحول كهربائي خافض الجهد مع مصباح (x) ومصدر تيار مستمر وتوصيل مصباح (y) بين طرفي ملفه الثانوي

الحل - يضى المصباح (x) ولا يضى المصباح (y) لعدم حدوث حث متبادل بين الملفين
ب- فتح دائرة مغناطيس كهربائي
الحل - تحدث شرارة عند موضع فتح الدائرة لتولد emf مستحثة بالحث الذاتي تستطيع ان تؤين جزيئات الهواء

س ١٧ ما المقصود بكل من :-

أ- المحول المثالي
الحل المحول الذي لا يفقد اي طاقة حيث يصبح فيه الطاقة الكهربائية المعطاه للملف الابتدائي تساوى الطاقة الكهربائية الناتجة في الملف الثانوي

ب- الهنري

الحل هو القوة الدافعة الكهربائية المستحثة المتولدة في الملف الثانوي عندما يتغير شدة التيار في الملف الابتدائي بمعدل 1 A/S او هو القوة الدافعة الكهربائية المستحثة المتولدة في الملف عندما يتغير شدة التيار فيه بمعدل 1 A/S

س ١٨ متى يحدث الاتي :-

أ- emf اللحظية في ملف الدينامو = emf الفعالة الناتجة من نفس الدينامو

الحل عندما يصنع مستوى الملف زاوية 45 درجة مع المجال المغناطيسي

ب- emf اللحظية في ملف الدينامو = emf العظمى

الحل عندما يكون مستوى الملف موازي للمجال المغناطيسي (الزاوية بين العمودي على الملف والمجال 90 درجة)

ج- emf اللحظية في ملف الدينامو = نصف emf العظمى

الحل عندما يكون الزاوية بين العمودي على الملف والمجال 30 درجة

او عندما يكون الزاوية بين الملف والمجال 60 درجة

س ١٩ أيهما اكبر قيمة؟ ولماذا؟

زمن نمو التيار في السلك المستقيم أم زمن نموه عند اعادة تشكيله على شكل ملف حلزوني واتصاله بنفس البطارية
الحل زمن نمو التيار في الملف اكبر لتولد emf مستحثة بالحث الذاتي بينما لا يتولد تيار مستحث في السلك المستقيم

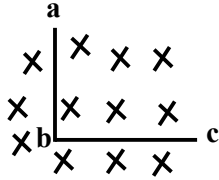
س ٢٠ اذكر خاصيتين فقط ٢- القلب الحديدي في المحول الكهربى يتكون من الحديد المطاوع السيليكونى - على شكل شرائح بينها مادة عازلة

س ٢١ اذكر وظيفة - الفرشتان في المحرك الكهربى

الحل

احد الفرشتان ينقل التيار من الدائرة الخارجية الى الملف والاخرى العكس

س ٢٢ في الشكل المقابل سلك على شكل زاوية قائمة



كيف يتحرك السلك حتى :-

أ- يتولد تيار مستحث في السلك ab فقط

ب- يتولد تيار مستحث في السلك bc فقط

ج- لا يتولد تيار مستحث في اي من السلكين

الحل

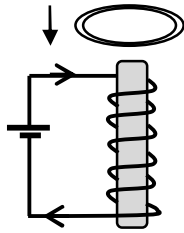
أ- اذا تحرك السلك ناحية اليمين او اليسار يتولد تيار مستحث في السلك ab (عمودي على المجال)

ولا يتولد في السلك bc (موازي للمجال)

ب- اذا تحرك السلك الى اعلى او اسفل يتولد تيار مستحث في السلك bc ولا يتولد في السلك ab

ج- اذا تحرك السلك الى خارج الصفحة او داخل الصفحة لا يتولد تيار مستحث (موازي للمجال)

س ٢٣ :- يبين الشكل حلقة معدنية تسقط سقوطا حرا باتجاه الملف الحلزوني



أ- حدد اتجاه التيار المستحث في الحلقة عند النظر الي وجهها العلوي

ب- ما القاعدة المستخدمة في تحديد اتجاه التيار المستحث

ج- اذكر طريقة لتغيير اتجاه التيار المستحث في الحلقة عند اسقاطها مرة اخرى

الحل

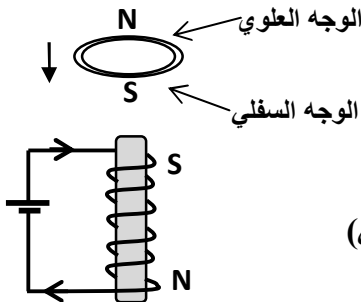
أ- عكس عقارب الساعة لتكون قطب شمالي في الوجه العلوي

لاحظ ان الوجه الذي يقترب من الملف يكون قطب جنوبي

لانه يقترب من القطب الجنوبي للملف الحلزوني

ب- قاعدة لنز

ج- عكس قطبي البطارية حيث تنعكس اقطاب الملف الحلزوني (المغناطيس الكهربى)



س ٢٤ في الدائرة الموضحة بالشكل المقابل :

الملف X متصل بدينامو تيار متردد والملف Y متصل بمصباح متوهج

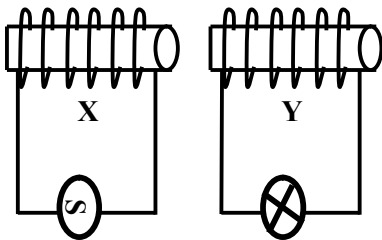
ماذا يحدث لاضاءة المصباح عند :

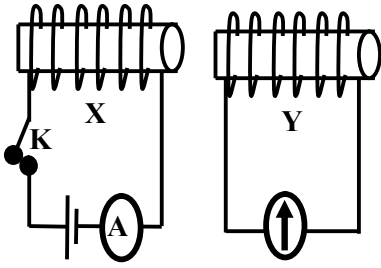
ا- زيادة تردد الدينامو ؟ ب- ادخال ساق من الحديد المطاوع في كل من الملفين ؟

الحل

أ- تزداد شدة الاضاءة لزيادة معدل التغير في الفيض والذي يخترق الملف الثانوي (الذي به المصباح)

ب- "نفس الاجابة" لزيادة معدل التغير في الفيض لزيادة معامل النفاذية المغناطيسية



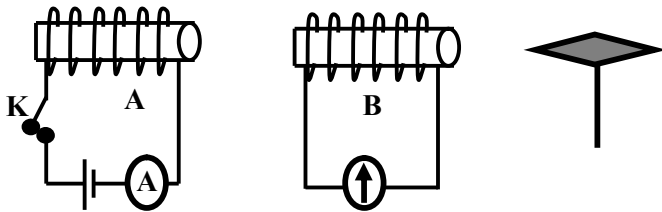


س ٢٥ - في الدائرة الموضحة بالشكل المقابل :

- الملف X متصل على التوالي بعمود كهربائي واميتير ومفتاح والملف Y متصل بجلفانومتر حساس وصفر تدريجه عند المنتصف
- أ- لماذا ينحرف مؤشر الجلفانومتر لحظة غلق المفتاح ؟
- ب- اذكر احد التعديلات التي يمكن ان تجربها على الملفين لزيادة مقدار انحراف مؤشر الجلفانومتر

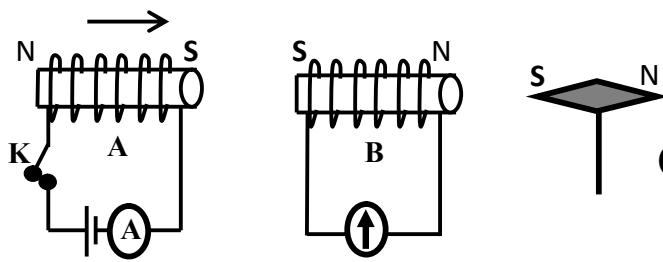
الحل

- أ- ينحرف مؤشر الجلفانومتر لحظيا ثم يعود الى الصفر لتولد emf مستحثة عكسية بالحث المتبادل
- ب- لزيادة مقدار الانحراف نضع قلب من الحديد داخل الملفين
- ملحوظة : لحظة الغلق ينحرف مؤشر الاميتير تدريجيا حتي يثبت عند قيمة معينة لتولد emf مستحثة عكسية بالحث الذاتي



س ٢٦ - في الشكل المقابل ما نوع القطب المغناطيسي للابرة المغناطيسية المقابل للملف B في الحالات الاتية لحظة قفل دائرة الملف A

خطوات الحل



- ١- لحظة غلق المفتاح يمر تيار كهربائي في الملف A فيتكون مغناطيس كهربائي تعين اقطابه بقاعدة امبير لليد اليمنى
- ٢- وحيث ان الفيض المغناطيسي يزداد لحظة الغلق فيعني ذلك ان المغناطيس الكهربائي كأنه يقترب من الملف B فيتكون في الملف B عند الطرف الايسر قطب جنوبي (قطب مشابه) وعند الطرف الايسر قطب N الذي يجذب نحوه القطب الجنوبي للابرة المغناطيسية

المسائل

- س ١ ملفان متجاوران A , B , عدد لفاتهما 400 , 1000 على الترتيب فإذا مر تيار شدته 5 A في الملف A نتج عنه فيض 8×10^{-4} web في الملف A وفيض 3×10^{-4} web في الملف B اوجد :
- أ- معامل الحث الذاتي للملف A
- ب- معامل الحث المتبادل بين الملفين
- ج- متوسط القوة الدافعة في الملف B عندما ينعدم التيار في الملف A خلال 0.1 ثانية

الحل

$$N_1 = 400$$

$$\Delta I_1 = 5 \quad \Delta \phi_{m1} = 8 \times 10^{-4}$$

$$N_2 = 1000$$

$$\Delta \phi_{m2} = 3 \times 10^{-4}$$

أ- معامل الحث الذاتي

$$emf_1 = -N_1 \frac{\Delta \phi_{m1}}{\Delta t} \quad emf_1 = -L \frac{\Delta I_1}{\Delta t}$$

$$N_1 \Delta \phi_{m1} = L \Delta I_1 \quad 400 \times 8 \times 10^{-4} = L \times 5 \quad L = 0.064 \text{ H}$$

ب- معامل الحث المتبادل

$$emf_2 = -N_2 \frac{\Delta \phi_{m2}}{\Delta t} \quad emf_2 = -M \frac{\Delta I_1}{\Delta t}$$

$$N_2 \Delta \phi_{m2} = M \Delta I_1 \quad 1000 \times 3 \times 10^{-4} = M \times 5 \quad M = 0.06 \text{ H}$$

ج-

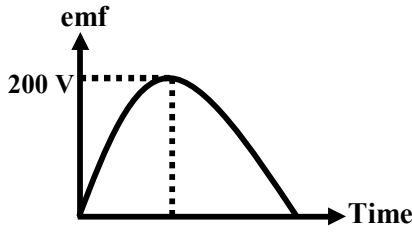
$$emf_2 = -M \frac{\Delta I_1}{\Delta t} \quad emf_2 = 0.06 \times \frac{5}{0.1} = 3 \text{ V}$$

س٢ سلك مستقيم طوله 0.2 m موضوع عموديا على اتجاه مجال مغناطيسي كثافة فيضه 0.2 T تحرك السلك بسرعة منتظمة 4 m/s فتولدت بين طرفيه قوة دافعة مستحثة 0.08 V احسب الزاوية بين اتجاه حركة السلك واتجاه المجال المغناطيسي

الحل

$$L = 0.2 \quad B = 0.2 \quad V = 4$$

$$emf = 0.08 \quad emf = -BLV\sin\theta \quad \sin\theta = \frac{emf}{BLV} = \frac{0.08}{0.2 \times 0.2 \times 4} \quad \theta = 30^\circ$$



س٣- يبين الشكل البياني

القوة الدافعة الكهربائية emf المتولدة في ملف الدينامو استخدم البيانات في الشكل لإيجاد متوسط القوة الدافعة الكهربائية خلال 1/4 دورة من دورات ملفه

الحل

$$emf_{\text{متوسط}} = \frac{-2emf_{\text{max}}}{\pi} = \frac{2 \times 100}{\pi} \quad \text{من الرسم } emf_{\text{max}} = 100$$

س٤ دينامو تيار متردد يتكون ملفه من 420 لفة مساحة مقطعه $3 \times 10^{-3} \text{ m}^2$ ومقاومة اجزائه 5Ω يدور في مجال مغناطيسي كثافة فيضه 0.5 تسلا فإذا بدأ الملف الدوران من الوضع العمودي على خطوط الفيض المغناطيسي ويصل الى النهاية العظمى للقوة الدافعة الكهربائية التأثيرية بعد 1/200 ثانية $(\pi = \frac{22}{7})$

أ- احسب متوسط القوة الدافعة الكهربائية خلال فترة 1/200 ثانية
ب- احسب القيمة الفعالة للتيار المتولد عند توصيل طرفي مقاومة اومية 245Ω بفرشتي الدينامو

الحل

$$emf_{\text{متوسط}} = -N \frac{\Delta\phi_m}{\Delta t} = -N \frac{\Delta B.A}{\Delta T} \quad \text{أ-}$$

$$emf = - \frac{420 \times 0.5 \times 3 \times 10^{-3}}{\frac{1}{200}} = 126 \text{ V}$$

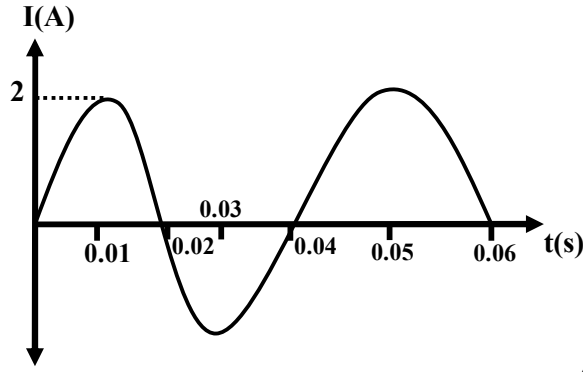
$$emf_{\text{max}} = NBA 2\pi f \quad \text{ب-}$$

$$emf_{\text{max}} = 420 \times 0.5 \times 3 \times 10^{-3} \times 2 \times \frac{22}{7} \times 50$$

$$emf_{\text{max}} = 198 \text{ V}$$

$$emf_{\text{eff}} = 0.707 (emf)_{\text{max}} = 0.707 \times 198 = 140 \text{ V}$$

$$I_{\text{eff}} = \frac{V_{\text{eff}}}{R} = \frac{140}{245+5} = 0.56 \text{ A}$$



س ٥ - الشكل المقابل :

يبين العلاقة بين شدة التيار (I) الناتج من دينامو بسيط
مقاومة ملفه 10Ω وزمن دوران ملفه (t) اوجد كل من :-

أ- القيمة الفعالة لشدة التيار

ب- القيمة الفعالة للقوة الدافعة الكهربائية

ج- السرعة الزاوية

د- كثافة الفيض المغناطيسي

إذا كانت عدد لفات الملف 100 لفة ومساحة مقطعها 20 cm^2

الحل

من الرسم: $I_{\max} = 2$ $R = 10$ $T = 0.04$ $f = \frac{1}{T} = \frac{1}{0.04} = 25 \text{ Hz}$

أ- $I_{\text{eff}} = I_{\max} \times 0.707 = 2 \times 0.707$ $I_{\text{eff}} = 1.414$

ب- $\text{emf}_{\text{eff}} = I_{\text{eff}} R = 1.414 \times 10 = 14.14$

ج- $\omega = 2\pi f = 2 \times \frac{22}{7} \times 25 = 157 \text{ Rad/s}$

د- $A = 25 \times 10^{-4}$ $N = 100$

$\text{emf}_{\max} = \text{emf}_{\text{eff}} \times 0.707 = 14.14 \times 0.707 = 20 \text{ V}$

$$B = \frac{\text{emf}_{\max}}{NA\omega} = \frac{20}{100 \times 20 \times 10^{-4} \times 157} = 0.64 \text{ T}$$

س ٦- محول كهربائي متصل بمصدر متردد 220 V يمر في ملفه الابتدائي تيار قيمته الفعالة 10 A إذا كانت القدرة الناتجة في الملف الثانوي 1980 W وفرق الجهد المستحث بين طرفيه 22 V اوجد :

١- كفاءة المحول

٢- مقاومة دائرة الملف الثانوي

الحل

$V_P = 220$ $I_P = 10$ $P_S = 1980$

$V_S = 22$ $\eta = \frac{P_S}{P_P} \times 100$ $\eta = \frac{P_S}{I_P V_P} \times 100$

$\eta = \frac{1980}{10 \times 220} \times 100 = 90\%$

$$P_S = \frac{V_S^2}{R}$$

$$R = \frac{V_S^2}{P_S}$$

$$R_S = \frac{22^2}{1980} = 0.24 \Omega$$

دوائر التيار المتردد

س ١ ما المقصود بكل من :-

أ- عرف المفاعلة السعوية

الحل الممانعة التي يلاقيها التيار المتردد اثناء مروره في مكثف بسبب سعته

ب- الذبذبات المضمحلة :

الحل هي ذبذبات تتولد في الدائرة المهتزة عند تبادل الطاقة حيث تقل سعة اهتزازها تدريجيا حتي تنعدم بسبب تناقص الشحنات الكهربائية بسبب مقاومة اسلاك الملف والدائرة

ج- سعة المكثف

النسبة الشحنة المتراكمة على احد لوحي المكثف وفرق الجهد بين لوحيه

د- الفاراد

هو سعة المكثف اذا شحم المكثف يشحنه مقدارها 1 C فيكون فرق الجهد بين لوحيه 1 V

س ٢ ماذا نعني بقولنا ان؟

تردد تيار متردد = 50 هرتز

الحل - أي أن عدد الذبذبات الكاملة التي يحدثها التيار المتردد في الثانية تساوي 50 ذبذبة

س ٣ متى تكون القيم الاتية تساوي صفر

زاوية الطور بين الجهد الكلي والتيار المتردد في دائرة LCR

الحل عندما تتساوي المفاعلة الحثية مع المفاعلة السعوية $X_L = X_C$ أو $V_L = V_C$

س ٤ يم تفسر؟

أ- استخدام الاميتر الحراري في قياس كلا من التيار المتردد والتيار المستمر

الحل لان الاميتر الحراري يعتمد علي التأثير الحراري للتيار الكهربائي والطاقة الحرارية المتولدة لا تتوقف على اتجاه التيار

ب- عدم مرور تيار كهربى خلال دائرة تحتوي على بطارية ومكثف

الحل لان المكثف لحظة غلق الدائرة يشحن لحظيا وتتراكم على لوحيه الشحنات الكهربائية حتي يصبح فرق الجهد بين طرفيه مساويا لفرق الجهد بين طرفي العمود

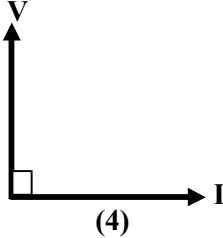
حل اخر: لان المفاعلة السعوية للمكثف تصبح ما لانهاية لان تردد التيار المستمر = صفر حيث $X_C = \frac{1}{2\pi fC}$

ج- عدم انتظام تدرج الاميتر الحراري

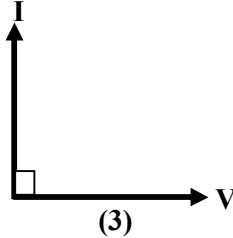
الحل لان الطاقة الحرارية المتولدة في السلك تتناسب طرديا مع مربع شدة التيار

س ٥ اختر الاجابه الصحيحة

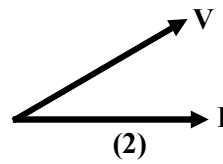
أ- اي الاشكال الاتية تمثل متجهي الجهد والتيار في دائرة تتكون من مكثف ومقاومة اومية ومصدر متردد ؟



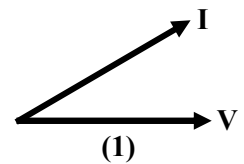
(4)



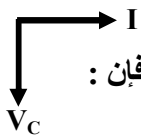
(3)



(2)



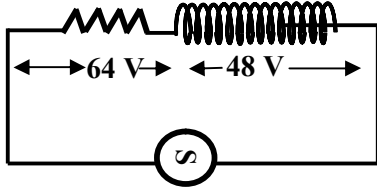
(1)

الحل لان الجهد يتأخر عن التيار حيث $\tan\theta = \frac{-X_C}{R}$ لاحظ ان الدائرة اذا احتوت على مكثف فقط فان :

ب- عندما تكون زاوية الطور بين الجهد الكلي والتيار في دائرة $LCR = zero$ تكون النسبة $\frac{X_L}{X_C} = \dots\dots\dots$

(zero - 1 - 2)

الحل عندما تكون الدائرة في حالة رنين يكون : $X_L = X_C$ فيصبح $\frac{X_L}{X_C} = 1$



ج-- في الدائرة المقابلة

يكون جهد المصدر مساويا

(112 V - 80 V - 16 V)

الحل

$$V = \sqrt{V_R^2 + V_L^2} \quad V = \sqrt{64^2 + 48^2} = 80 \text{ V}$$

لاحظ اننا نتعامل مع متجهات

د - تدل قراءة الاميتر الحراري على قيمة شدة التيار (العظمي - الفعالة - المتوسطة)

س٦- كيف تزيد من تردد دائرة التوليف الى الضعف من خلال تغيير حث الملف فقط ؟

الحل نقلل معامل الحث الى الربع $f \propto \frac{1}{\sqrt{L}}$

س٧ فارن بين

أ- توصيل المكثفات على التوالي وتوصيل المكثفات على التوازي من حيث المفاعلة الكلية

الحل مكثفات توالي : $X_C = X_{C1} + X_{C2} + X_{C3}$

مكثفات توازي : $\frac{1}{X_C} = \frac{1}{X_{C1}} + \frac{1}{X_{C2}} + \frac{1}{X_{C3}}$

ب- الدائرة المهتزة ودائرة الرنين في اجهزة الراديو من حيث الوظيفة

الحل الدائرة المهتزة

تبادل الطاقة المخزنة في الملف على هيئة مجال مغناطيسي وفي المكثف على هيئة مجال كهربى لاحداث اهتزازات كهربية سريعة جدا

دائرة الرنين في اجهزة الراديو :

١- اجهزة الاستقبال اللاسلكي لاختيار محطة الاذاعة المراد سماعها

ج- توصيل الملفات على التوالي وتوصيل ملفات الحث على التوازي من حيث حساب المفاعلة الكلية

الحل أ- ملفات توالي : $L = L_1 + L_2 + L_3$

ملفات توازي : $\frac{1}{L} = \frac{1}{L_1} + \frac{1}{L_2} + \frac{1}{L_3}$

د- الاميتر الحراري والاميتر ذو الملف المتحرك من حيث الفكرة العلمية التي بنى عليها عملهما

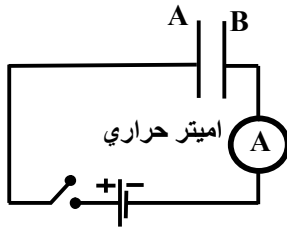
الحل - الاميتر الحراري ، التأثير الحراري للتيار الكهربى / الاميتر ذو الملف المتحرك ، التأثير المغناطيسي للتيار الكهربى

س٨ فارن بين

وجه المقارنة	الاميتر الحراري	الاميتر ذو الملف المتحرك
سبب حركة المؤشر على التدرج		

الحل

الاميتر الحراري	الاميتر ذو الملف المتحرك
التمدد في سلك البلاتين - ايريديوم والناتج عن التأثير الحراري للتيار الكهربى	عزم الازدواج المتولد في الملف نتيجة مرور التيار الكهربى



س ٩ - في الدائرة الكهربائية المقابلة عند غلق المفتاح K

ا- يرتفع تدريجياً جهد اللوح

ب- ينخفض تدريجياً جهد اللوح

ج- عندما يشحن المكثف تصبح قراءة الاميتر

د- عند استبدال البطارية بمصدر متردد

فإن فرق الجهد بين لوحي المكثف يتفق في الطور مع

الحل

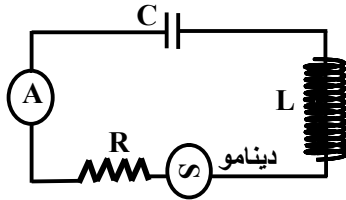
أ - لأنه متصل بالقطب الموجب

ب- لأنه متصل بالقطب السالب

ج- صفر لان المكثف يعمل كمفتاح off او X_C له ما لانهاية حيث تردد التيار المستمر = صفر

د- الشحنة على لوحي المكثف

حيث بزيادة فرق جهد المصدر تزداد الشحنة تدريجياً وعندما يقل فرق جهد المصدر تقل الشحنة على لوحي المكثف



س ١٠ - الدائرة المبينة بالشكل في حالة رنين وضح ما يحدث عند زيادة تردد

الدينامو لكل من :

أ- المقاومة الاومية R ب- قراءة الاميتر الحراري A

الحل

أ- المقاومة الاومية لا تتغير لان R لا تعتمد على f $R = \frac{\rho e L}{A}$

ب- عند زيادة التردد f فان المعاوقة تزداد ويقل شدة التيار حيث $Z = \sqrt{R^2 + (X_L - X_C)^2}$ و $I = \frac{V}{Z}$ مصدر متردد دينامو

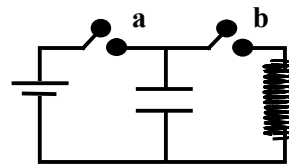
س ١١ - بين بالرسم طريقة توصيل الدائرة المهتزة باستخدام مصدر مستمر ثم وضح

أ- ما هي نظرية عمل الدائرة المهتزة

ب- لماذا يضمحل التيار في الدائرة المهتزة بعد خروج المصدر الكهربائي منها ؟

ج- ما نوع التيار المار في الدائرة المهتزة بعد خروج المصدر الكهربائي منها ؟

الحل



الدائرة المهتزة

أ- نظرية العمل : تبادل الطاقة المخزونة في المكثف على شكل مجال كهربائي مع الطاقة المخزونة في الملف على شكل مجال مغناطيسي

ب- يضمحل التيار : بعد خروج المصدر بسبب مقاومة اسلاك الملف واسلاك الدائرة حيث يستنفذ الطاقة الكهربائية على شكل طاقة حرارية

ج- يتكون تيار مستحث طردي بالحث الذاتي

ملاحظات : (١) اهمية الدائرة المهتزة : هو احداث اهتزازات كهربائية سريعة

(٢) اذا استبدل المصدر المستمر بأخر متردد لا تعمل الدائرة لان المكثف يشحن ثم يفرغ تلقائياً

(٣) لكي نجعل الدائرة تستمر في العمل نعمل على تعويض المكثف بشحنات كهربائية جديدة

المسائل

س ١ احسب قيمة معامل الحث الذاتي لملف يتكون من 400 لفة ومساحة مقطعه 25 cm^2 وطوله 10 cm
(علما بأن : معامل النفاذية المغناطيسية للوسط $4\pi \times 10^{-7} \text{ Wb/A.m}$)

الحل

$$N = 400 \quad A = 25 \times 10^{-4} \quad L = 10 \times 10^{-2} = 0.1$$

$$L = \frac{\mu N^2 A}{L} = \frac{4\pi \times 10^{-7} \times 400^2 \times 25 \times 10^{-4}}{0.1} = 5 \times 10^{-3} \text{ H}$$

س ٢ مصدر تيار متردد جهده 20 V وتردده $400/11$ يتصل بملف حث حثه الذاتي L ومقاومته الاومية 12Ω اذا مر بالملف تيار قيمته الفعالة 1 A احسب معامل حثه الذاتي

الحل

$$V = 20 \quad f = 400/11 \quad R = 12 \quad I = 1$$

$$Z = \frac{V}{I} = \frac{20}{1} = 20$$

$$Z = \sqrt{R^2 + X_L^2} \quad 20 = \sqrt{12^2 + X_L^2}$$

$$X_L = 16$$

$$L = \frac{X_L}{2\pi f} = \frac{16}{2 \times \frac{22}{7} \times \frac{400}{11}} = 0.07 \text{ H}$$

لاحظ ان الملف الذي له مقاومة اومية يعامل مثل الملف المتصل بمقاومة اومية

س ٣ - ملف دينامو تيار متردد تردد دورانه 50 Hz مهمل المقاومة الاومية ويتصل طرفيه بمكثف سعته $70 \mu\text{F}$ فمر في الدائرة تيارا قيمته الفعالة 7.07 A اوجد القيمة العظمي للقوة الدافعة المتولدة من الدينامو

الحل

$$f = 50 \quad c = 70 \times 10^{-6} \quad I_{\text{eff}} = 7.07 \text{ A}$$

$$X_C = \frac{1}{2\pi f c} = \frac{1}{2\pi \times 70 \times 10^{-6} \times 50} = 45.45\Omega$$

$$I_{\text{eff}} = I_{\text{max}} \times 7.07$$

$$7.07 = I_{\text{max}} \times 7.07 \quad I_{\text{max}} = \frac{7.07}{7.07} = 10 \text{ A}$$

$$V_{\text{max}} = I_{\text{max}} \times X_C = 10 \times 45.45 = 454.5 \text{ V}$$

لاحظ ان : اذا لم يذكر نوع التيار المار في دائرة التيار المتردد فيكون التيار الفعال I_{eff}

س ٤ مولد تيار متردد يعطي فرقاً في الجهد بين طرفيه 30 فولت وتردده 400 هرتز يتصل على التوالي مع ملف حثه الذاتي 0.06 هنري ومكثف سعته 5 ميكرو فاراد فإذا كانت المقاومة الاومية في الدائرة 90 اوم
أ- احسب معاوقة الدائرة
ب- احسب القدرة المستنفذه في الدائرة

الحل

$$V = 30 \quad f = 400 \quad L = 0.06 \quad R = 90 \quad C = 5 \times 10^{-6}$$

$$X_L = 2\pi fL = 2 \times \frac{22}{7} \times 400 \times 0.06 = 150.86 \Omega$$

$$X_C = \frac{1}{2\pi fC} = \frac{1}{2 \times \frac{22}{7} \times 400 \times 5 \times 10^{-6}} = 79.55 \Omega$$

$$Z = \sqrt{R^2 + (X_L - X_C)^2} = \sqrt{90^2 + (150.86 - 79.55)^2} = 114.83 \Omega$$

$$I = \frac{V}{Z} = \frac{30}{114.83} = 0.26 \text{ A}$$

$$P_W = I^2 R = 0.26^2 \times 90 = 6.08 \text{ W}$$

لاحظ ان : القدرة المستنفذة تكون في المقاومة الاومية فقط على شكل طاقة حرارية ، لا تستنفذ الطاقة الكهربائية في الملف او المكثف لان الملف يخزن الطاقة الكهربائية على شكل مجال مغناطيسي والمكثف يخزن الطاقة الكهربائية على شكل مجال كهربائي

س ٥ يتصل ملف حث عديم المقاومة على التوالي مع مصدر تيار متردد قوته الدافعة الكهربائية 260 V واميتر حراري فكانت قراءة الاميتر 2 A فإذا علمت ان النسبة بين فرق الجهد بين طرفي الاميتر وفرق الجهد بين طرفي الملف
 $\frac{5}{12}$ احسب مقاومة الاميتر الحراري

الحل

لاحظ ان : الاميتر الحراري له مقاومة اومية R اي ان الدائرة تحتوي على عنصرين ملف حث عديم المقاومة ومقاومة اومية (مقاومة الاميتر الحراري)

$$\frac{V_R}{V_L} = \frac{5}{12} \quad \frac{R}{X_L} = \frac{5}{12} \quad X_L = \frac{12R}{5} \quad Z = \frac{V}{I} = \frac{260}{2} = 130 \Omega$$

$$Z = \sqrt{R^2 + X_L^2} \quad 130 = \sqrt{R^2 + \left(\frac{12R}{5}\right)^2} \quad 130 = \sqrt{R^2 + \frac{144R^2}{25}} \quad 130 = \sqrt{R^2 + \left(1 + \frac{144}{25}\right)}$$

$$130 = \sqrt{R^2 + \frac{169}{25}} \quad 130 = R \times \frac{13}{5} \quad R = \frac{130 \times 5}{13} \quad R = 50 \Omega$$

س ٦ مصدر تيار متردد (350 Hz – 5 V) يتصل بملف حثه الذاتي 680 mH ومقاومة اومية 2.2 KΩ على التوالي
أ- اوجد معاوقة الدائرة للتيار

ب- عبر بالمتجهات في الشكل عن فرق الجهد بين طرفي المصدر وفرق الجهد عبر الملف بالنسبة لمتجه التيار في الدائرة

الحل

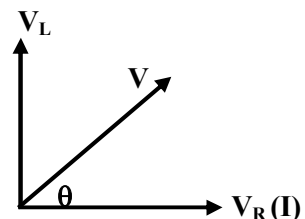
$$X_L = 2\pi fL$$

$$X_L = 2 \times \frac{22}{7} \times 350 \times 680 \times 10^{-3}$$

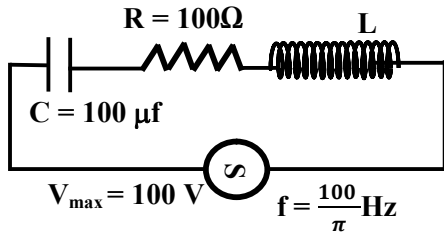
$$X_L = 1.5 \times 10^3 \Omega$$

$$Z = \sqrt{R^2 + X_L^2} = \sqrt{(2.2 \times 10^3)^2 + (1.5 \times 10^3)^2}$$

$$Z = 2660.1 \Omega$$



ب-



س٧ في الدائرة الكهربائية الموضحة بالشكل

عندما تكون شدة التيار المار فيها اكبر ما يمكن احسب كل من :

أ- الحث الذاتي للملف

ب- المعاوقة الكلية للدائرة

ج- شدة التيار المار في الدائرة

د- القدرة المستنفذة في الدائرة

الحل

أ- عندما يكون شدة التيار المار في الدائرة اكبر ما يمكن تكون الدائرة في حالة رنين ويكون :

$$f = \frac{1}{2\pi\sqrt{LC}} \quad \frac{100}{\pi} = \frac{1}{2\pi\sqrt{L \times 100 \times 10^{-6}}} \quad L = 0.25 \text{ H}$$

ب- لحساب المعاوقة (لاحظ ان الدائرة في حالة رنين) : $Z = R = 100 \Omega$

$$I_{\max} = \frac{V_{\max}}{Z} = \frac{100}{100} = 1 \text{ A} \quad \text{ج-}$$

لاحظ ان التيار المار في الدائرة هو التيار الفعال $I_{\text{eff}} = I_{\max} \times 0.707 = 1 \times 0.707 = 0.707 \text{ A}$

د- القدرة المستنفذة تكون في المقاومة الاومية فقط $P_w = (I_{\text{eff}})^2 R = (0.707)^2 \times 100 = 50 \text{ w}$

س٨ تتكون دائرة الرنين في جهاز استقبال من ملف حثه الذاتي 10 mH ومكثف متغير السعة ومقاومة مقدارها 50 Ω وعند استقبال امواج لاسلكية ترددها 980 KHz تولد عبر الدائرة فرق في الجهد يساوي 10^{-4} V اوجد :

أ- سعة المكثف اللازمة لحدوث الرنين ب- شدة التيار المار بالدائرة في هذه الحالة

الحل

$$R = 50 \quad L = 10 \times 10^{-3} = 0.01 \quad f = 980 \times 10^3 \quad V = 10^{-4} \quad \text{أ-}$$

$$f = \frac{1}{2\pi\sqrt{LC}}$$

$$980 \times 10^3 = \frac{1}{2\pi\sqrt{0.01 \times C}}$$

$$(980 \times 10^3)^2 = \frac{1}{4\pi^2 \times 0.01 \times C}$$

$$C = \frac{1}{4\pi^2 \times 0.01 \times (980 \times 10^3)^2}$$

$$C = 2.637 \times 10^{-12} \text{ F}$$

ب- حيث ان الدائرة في حالة رنين $Z = R = 50 \Omega$

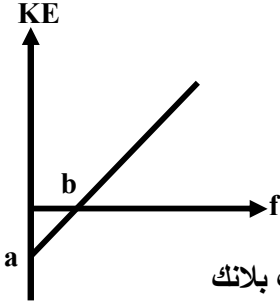
$$I = \frac{V}{Z} = \frac{10^{-4}}{50} = 2 \times 10^{-6} \text{ A}$$

ازدواجية الموجة والجسيم

س ١ - اختر الاجابة الصحيحة

أ- في ظاهرة كومبتون ما الكمية التي زادت لفوتون اشعة X بعد تصادمه مع الالكترن الحر ؟
(الطاقة - كمية الحركة - الطول الموجي - التردد)

الحل الطول الموجي لاحظ ان في تأثير كومبتون الطول الموجي يزداد بينما التردد والطاقة والكتلة وكمية التحرك تقل وسرعة الفوتون ثابتة



ب- في الشكل البياني المقابل تمثل KE طاقة الحركة العظمي للالكترن المنبعث في الظاهرة الكهروضوئية f تردد الضوء الساقط على الفلز النسبة بين قيمة a الى قيمة b تمثل :
(ثابت بلانك - التردد الحرج - دالة الشغل - طاقة الفوتون)

$$h = \frac{E_w}{\nu_c} = \frac{a}{b}$$

الحل b ← التردد الحرج ν_c a ← دالة الشغل E_w

ج- اول من افترض الفوتون هو العالم (بلانك - اينشتاين - كمبتون)

د- تحرير الالكترونات من سطح المعدن عند سقوط ضوء ضعيف الشدة عليه طبقا للتصور الكلاسيكي يتوقف على

أ- تردد الضوء الساقط بصرف النظر عن شدته

ب- شدة الضوء الساقط بصرف النظر عن تردده

ج- زمن تعرض السطح للضوء بصرف النظر عن تردده وشدته

س ٢ - اكتب التعبير الرياضي الذي يعبر عن :

أ- قانون فين ب- معادلة دي برولي ج- قانون بقاء الكتلة - الطاقة د- قانون اينشتاين للتأثير الكهروضوئي

$$\lambda = \frac{h}{p_L}$$

$$\frac{\lambda_{m1}}{\lambda_{m2}} = \frac{T_2}{T_1}$$

$$E = E_w + K.E$$

$$E = m.c^2$$

س ٣ - كيف فسر العالم البرت اينشتاين الظاهرة الكهروضوئية ؟

الحل

١- الضوء عبارة عن كمات صغيرة من الطاقة تسمى فوتونات

٢- لكل سطح دالة شغل وهي اقل طاقة تلزم لتحرير الالكترن من سطح المعدن دون اكسابه طاقة حركة

٣- اذا كانت طاقة الضوء الساقط اقل من E_w لا تتحرر الكترونات

٤- اذا كانت طاقة الضوء الساقط $E_w = E$ يتحرر الكترن ولا يتحرك $K.E = 0$

٥- اذا كانت طاقة الضوء الساقط اكبر من دالة الشغل تتحرر الكترونات وتتحرك بطاقة حركة $K.E = E - E_w$

٦- تتحرر الالكترونات من سطح المعدن يكون لحظيا

٧- يتوقف تحرر الالكترونات من سطح المعدن على تردد الضوء الساقط وليس على شدته

س ٤ - متى تكون الاتية = صفرا

ب- شدة اشعاع جسم متوهج

أ- كتلة الفوتون

ب- عند الاطوال الموجية الطويلة جدا

أ- عندما يكون ساكنا

الحل

س ٥- قارن بين

أ- الميكروسكوب الالكتروني والميكروسكوب الضوئي من حيث استخدام كل منهما

الحل أ- الميكروسكوب الالكتروني : رصد الاجسام الصغيرة التي لا يستطيع الضوء العادي ان يرصدها مثل الفيروسات حيث ابعادها اقل من λ للضوء المرئي

لاحظ ان ابعاد الفيروسات اقل من λ للضوء المرئي فلا يمكن رؤيتها بالميكروسكوب الضوئي ، ابعاد الفيروسات اكبر من λ المصاحب للالكترونات فيمكن رؤيتها بالميكروسكوب الالكتروني

ب- قارن بين انبوبة اشعة الكاثود والخلية الكهروضوئية . (من حيث نوع الطاقة المسببة لتحرر الالكترون من المهبط)

الحل (١) انبوبة اشعة الكاثود ← طاقة حرارية الخلية الكهروضوئية ← طاقة ضوئية

ج- قارن بين

وجه المقارنة	تأثير زيادة تردد الضوء	تأثير زيادة شدة الضوء
معدل انبعاث الالكترونات بتأثير الضوء الساقط على سطح معدن		

الحل تأثير زيادة تردد الضوء ← لا يتغير معدل انبعاث الالكترونات

تأثير زيادة شدة الضوء ← يزداد معدل انبعاث الالكترونات

د- قارن بين

وجه المقارنة	نظرية الكم	النظرية الموجية
كيفية التعبير عن شدة الاشعاع		

الحل

نظرية الكم	النظرية الموجية
الاشعاع هو فيض هائل من الفوتونات تزداد طاقتها بزيادة التردد فتقل شدة الاشعاع	الاشعاع موجات كهرومغناطيسية لذلك تزداد شدة الاشعاع كلما زاد التردد

س ٦- وضح الدور الذي ساهم به في نظرية ازدواجية الموجة والجسيم :

أ- كومتون ب- دي برولي

الحل أ- اثبت الخاصية الجسيمية للفوتون حيث اثبت ان له كتلة وكمية تحرك

ب- اثبت ان للالكترون طبيعة موجية حيث تصاحبه موجات اثناء حركته تعين طولها الموجي من العلاقة $\lambda = \frac{h}{P_L}$

س ٧- ما دور كل من :

أ- الشبكة في انبوبة اشعة الكاثود ب- بندقية الالكترونات في الميكروسكوب الالكتروني

أ- التحكم في شدة الالكترونات (عدد الالكترونات) المنبعثة من الكاثود

ب- انتاج الالكترونات ودفعها الى الشاشة

س ٨- ما النموذج الفيزيائي المتبع في دراسة :

أ- الخواص الموجية للضوء

الحل النموذج الماكروسكوبي (الموجي) (مثال لتلك الخواص - الانعكاس - الانكسار - الحيود - التداخل)

ب- الخواص الجسيمية للضوء

الحل النموذج الميكروسكوبي (الجسمي) مثال لتلك الخواص الظاهرة الكهروضوئية - اشعاع الجسم الاسود - تأثير كمتون

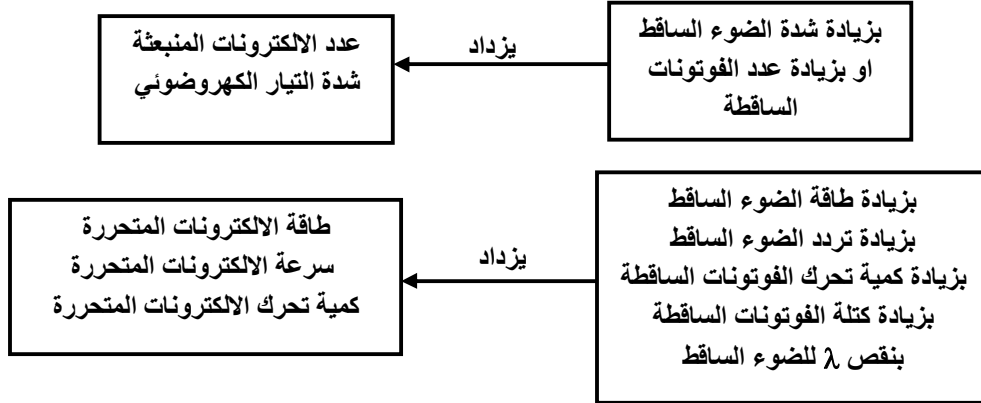
س ٩- وضح ماذا يحدث للالكترونات المنبعثة من المهبط في الخلية الكهروضوئية عند زيادة كل من :

أ- زيادة شدة الضوء الساقط
ب- زيادة تردد الضوء الساقط

الحل

أ- زيادة شدة الاضاءة (عدد الفوتونات الساقطة) يزداد عدد الالكترونات المتحررة
ب- زيادة تردد الضوء الساقط (طاقة الضوء الساقط) تزداد طاقة الالكترونات المنبعثة

لاحظ ان : اذا كان طاقة الضوء الساقط اكبر من E_w فإنه :



س ١٠ -- اكتب العلاقة الرياضية التي تستخدم في حساب طاقة حركة الالكترون

أ- المنبعث من سطح معدني عند سقوط الضوء عليه

ب- المنبعث من سطح معدني كما انبوية CRT

ج- المشتت نتيجة اصطدام فوتون له طاقة عالية

الحل

أ- $K.E = E - E_w$ ب- $K.E = e V$ ج- $K.E = E_{\text{ساقط}} - E_{\text{مشتت}}$

س ١١ - علل

أ- استخدام التصوير الحراري في البحث الجنائي

الحل لان الاثر الحراري لشخص ما يبقي فترة زمنية بعد انصرافه

ب- عدم قدرة الضوء المرئي على النفاذ خلال كثير من المواد

الحل لان الطول الموجي للضوء المرئي اكبر من المسافات البينية لذرات تلك المواد

س ١٢ - اذكر الفكرة العلمية التي يعتمد عليها

أ- عمل انبوية اشعة الكاثود

الحل التأثير الكهروحراري او الانبعاث الايوني الحراري

ب- مجال اكتشاف الادلة الجنائية

الحل الاستشعار عن بعد حيث يبقي الاثر الحراري لشخص فترة بعد انصرافه

س ١٣ - اذكر اثنين من الظواهر الفيزيائية التي عجزت عن تفسيرها فروض النظرية الكلاسيكية

الحل الظواهر التي عجزت النظرية الكلاسيكية عن تفسيرها : تأثير كمتون - اشعاع الجسم الاسود - التأثير الكهروضوئي

س ١٤ - كيف امكن :-

التعرف عن بعد على الموارد الطبيعية تحت سطح الارض

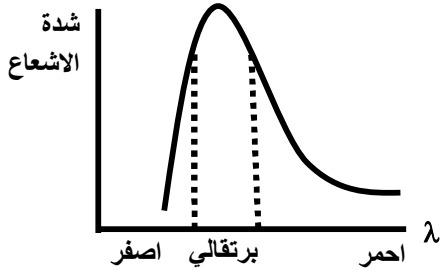
الحل - تصوير سطح الارض باستخدام مناطق الطيف المختلفة ومن بينها الاشعة تحت الحمراء المنبعثة من سطح الارض

س ١٥ - اذكر الظاهرة التي اثبتت ان الفوتونات لها كمية تحرك

الحل ظاهرة كومبتون

س ١٦ - الرسم البياني التالي يبين العلاقة بين شدة الاشعاع الصادر من قطعة حديد عند درجة معينة والطول الموجي

للأشعاع الصادر عنها



أ- يكون اللون الغالب على هذا الاشعاع

ب- اذا ارتفعت درجة الحرارة تدريجيا يتحول اللون الغالب الي اللون.....

ج- اذا انخفضت درجة الحرارة تدريجيا يتحول اللون الغالب الي اللون.....

د- طبقا للنظرية الكلاسيكية شدة الاشعاع تتناسب طرديا مع.....

الحل

أ- البرتقالي لان الطول الموجي المصاحب لاقصى شدة اشعاعية (قمة المنحنى) توجد في منطقة الضوء البرتقالي

ب- الاصفر لان $\lambda_m \propto \frac{1}{T}$

ج- الاحمر لان $\lambda_m \propto \frac{1}{T}$

د- التردد

س ١٧ - اذا تصادم فوتون من اشعة جاما مع الكترون حر ماذا يطرأ عليه من تغير في خصائصه

أ - الجسيمية

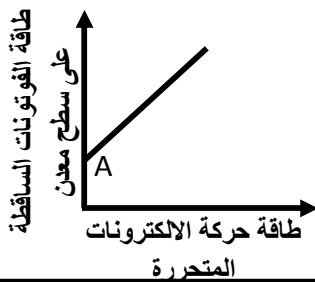
ب- الموجية

أ- الخصائص الجسيمية : كتلته تقل و كمية تحركه تقل

ب- الخصائص الموجية : λ تزداد ، ν يقل

س ١٨ - ماذا تدل علي النقطة A

الحل النقطة A تدل على دالة الشغل حيث $E = E_w + K.E$



س ١٩ - اكتب المصطلح

أ- كم من الطاقة مركز في حيز صغير جدا وله كتلة وكمية تحرك

الحل الفوتون

ب- طاقة الفوتونات الساقطة على مساحة ما في الثانية الواحدة

الحل القدرة الضوئية

المسائل

س ١ محطة اذاعة قدرتها 100 kw تثبت على موجة ترددها 92.4 MHz فإذا كان ثابت بلانك يساوي 6.625×10^{-34} J.s

احسب : أ- طاقة الفوتون الواحد المنبعث منها ب- عدد الفوتونات المنبعثة في الثانية

الحل

$$P_w = 100 \times 10^3 = 10^5 \quad \nu = 92.4 \times 10^3$$

$$E = h\nu = 6.625 \times 10^{-34} \times 92.4 \times 10^3 = 6.1215 \times 10^{-26} \text{ J} \quad \text{أ-}$$

ب- فوتون/ثانية $\phi_L = \frac{P_w}{h\nu} = \frac{100 \times 10^3}{6.1215 \times 10^{-26}} = 1.63 \times 10^{30}$

س ٢ سقط فوتون من اشعة جاما طاقته 6.62×10^5 eV على الكترولون حر فتشتت في اتجاه معين بطاقة 5×10^5 eV احسب : أ- الزيادة في طاقة حركة الالكترولون بوحدة الجول

ب- النقص في كتلة الفوتون ($C = 3 \times 10^8$, $h = 6.625 \times 10^{-34}$ J.s)

الحل

$$E_{\text{ساقط}} = 6.62 \times 10^5 \text{ eV} \quad E_{\text{مشتت}} = 5 \times 10^5 \text{ eV}$$

$$\Delta K.E = E_{\text{ساقط}} - E_{\text{مشتت}} = 6.62 \times 10^5 - 5 \times 10^5 = 1.62 \times 10^5 \text{ eV} \quad \text{أ-}$$

$$K.E = 1.62 \times 10^5 \times 1.6 \times 10^{-19} = 2.592 \times 10^{-14} \text{ J}$$

ب- $\Delta m = m_1 \text{ ساقط} - m_2 \quad \Delta m = \frac{E_1}{c^2} - \frac{E_2}{c^2} \quad \Delta m = \frac{6.62 \times 10^5 \times 1.6 \times 10^{-19}}{(3 \times 10^8)^2} - \frac{5 \times 10^5 \times 1.6 \times 10^{-19}}{(3 \times 10^8)^2}$

$$\Delta m = 2.88 \times 10^{-31} \text{ kg}$$

حل اخر لحساب النقص في الكتلة للفوتون الساقط $\Delta m = \frac{\Delta E}{c^2} = \frac{2.592 \times 10^{-14}}{(3 \times 10^8)^2} = 2.88 \times 10^{-31} \text{ kg}$

س ٣ اصطدم فوتون من اشعة اكس تردده 6×10^{14} Hz بالالكترولون حر فحدث تشتت لكل منهما واصبح تردد الفوتون المشتت 2×10^{14} Hz فاذا علمت ان كتلة الالكترولون 9.1×10^{-31} kg وثابت بلانك 6.625×10^{-34} j.s فاحسب مقدار التغير في كل من :-

أ- طاقة الفوتون اشعة X ب- سرعة الالكترولون بعد التصادم ج- الطول الموجي للالكترولون المشتت

الحل

$$\nu_{\text{ساقط}} = 6 \times 10^{14} \quad \nu_{\text{مشتت}} = 2 \times 10^{14}$$

$$\Delta E = E_1 - E_2 \quad \text{أ- التغير في طاقة الفوتون} \quad \Delta E = 2.65 \times 10^{-19} \text{ J}$$

$$\Delta E = h(\nu_1 - \nu_2) = 6.625 \times 10^{-34} (6 \times 10^{14} - 2 \times 10^{14})$$

ب- $K.E = \Delta E = 2.65 \times 10^{-19} \text{ J}$

$$K.E = \frac{1}{2} mV^2 \quad V = \sqrt{\frac{2K.E}{m}} = \sqrt{\frac{2 \times 2.65 \times 10^{-19}}{9.1 \times 10^{-31}}} = 763.16 \times 10^3 \text{ m/s}$$

ج- $\lambda = \frac{h}{mv} \quad \lambda = \frac{6.625 \times 10^{-34}}{9.1 \times 10^{-31} \times 763.16 \times 10^3} = 9.53 \times 10^{-10} \text{ m}$

الاطياف الذرية

س ١- اذكر وظيفة

أ- المطياف

الحل المطياف او الاسبكترومتر: قياس درجة حرارة النجوم وما بها من غازات - الحصول على طيف نقي

ب- المنشور الثلاثي في المطياف

الحل يعمل على تحليل الضوء الابيض الى الوان الطيف وهو في وضع النهاية الصغرى للانحراف وتقوم العدسة الشينية بتجميع كل لون في بؤرة خاصة به

ج- الفتيلة في انبوبة كولدج

الحل مصدر للالكترونات التي تصطدم بذرات الهدف

س ٢- اكتب المصطلح العلمي

أ- نوع اشعة X التي تخرج من ذرة الهدف في انبوبة كولدج نتيجة انتقال الكترون من مستوي اعلى الى مستوي قريب من النواة

ب- خاصية للاشعة السينية تحدث عند مرورها خلال المواد وتساعد في دراسة تركيبها البلوري

ج- مجموعة من طيف ذرة الهيدروجين تقع في المنطقة فوق البنفسجية

د- طيف الامتصاص الخطي في الشمس

الحل

د- خطوط فرنفور

ج- مجموعة ليمان

ب- الحيود

أ- الطيف الخطي

س ٣- علل لما يأتي

أ- وجود خطوط سوداء في الطيف الشمسي عند تحليله

الحل لان عنصرى الهيليوم والهيدروجين يمتصان الاطوال الموجية الخاصة بهما وتترك مكانها خطوط مظلمة تعرف بخطوط فرنفور

ب- وجود مجموعات طيف غير مرئي لغاز الهيدروجين

الحل لان متسلسلة بالمر فقط تقع في منطقة الضوء المنظور لكن باقي المتسلسلات تقع في منطقة الاشعة فوق بنفسجية او تحت الحمراء

ج- تستخدم اشعة X في دراسة التركيب البللورى للمواد

لانه تحيد عند مرورها في البلورات ثم تتداخل لتكون هدب مضيئة ومظلمة

س ٤- قارن بين - الطيف المستمر والطيف الخطي من حيث : التعريف مع ذكر مثال

الحل الطيف المستمر : طيف يتضمن توزيع مستمر للترددات او الاطوال الموجية او طيف يحتوي على كل الترددات الممكنة في

مدي مناسب مثال طيف الشمس - طيف الارض - الضوء المرئي - طيف اشعة اكس المستمر

الطيف الخطي : طيف يحتوي على اطوال موجية محددة او طيف يتضمن توزيع غير متصل للترددات او الاطوال الموجية

مثال مجموعات طيف ذرة الهيدروجين - خطوط فرنفور - اشعة اكس المميزة - اشعة الليزر

س ٥- اكتب العلاقة الرياضية التي تستخدم لحساب اقصر طول موجي لمدي الطيف المتصل للاشعة السينية الناتجة من

انبوبة كولدج

الحل لاحظ ان لحساب λ خطي $\Delta E = \frac{hc}{\lambda_{خطي}}$

$e.v = \frac{hc}{\lambda_{متصل}}$

س٦- اشرح كيف ينتج الطيف الخطي للاشعة السينية في ذرة الهدف

الحل عندما يصطدم احد الالكترونات المعجلة والصادرة من الفتيلة بالكترون قريب من نواة ذرة الهدف فإن الكترون الهدف يصعد الى مستوي طاقة اعلى او يترك ويحل محله الكترون اخر ويفقد الفرق في الطاقة على شكل طيف خطي مميز لذرة الهدف

س٧- اذكر عاملا يمكنه تقليل اقصر طول موجي للاشعة السينية الناتجة من انبوبة كولدج

الحل اقصر طول موجي ← طيف مستمر يمكن تقليله بزيادة فرق الجهد

س٨- ماذا يحدث عند :-

استخدام الموليبدنيوم (عدده الذري 42) كمادة للهدف في انبوبة كولدج بدلا من التنجستن (عدده الذري 74) بالنسبة للاطوال الموجية للاشعة السينية الناتجة ؟

الحل يقل الطول الموجي للطيف الخطي ويظل الطيف المستمر كما هو

س٩- كيف تستطيع زيادة :-

أ- شدة الاشعة السينية المتولدة في انبوبة كولدج

عن طريق زيادة شدة تيار الفتيلة فتزداد عدد الالكترونات المتحررة من الفتيلة والتي تصطم بعدد اكبر من ذرات الهدف

ب- قوة نفاذية الاشعة السينية المتولدة في انبوبة كولدج

عن طريق تقليل الطول الموجي عن طريق زيادة فرق الجهد بين الفتيلة والهدف - او زيادة العدد الذري لمادة الهدف

س١٠- ما الفكرة او الطريقة العلمية التي تمكن العلماء بها من

- التعرف على وجود الهيليوم والهيدروجين في الغلاف الغازي للشمس

الحل - عن طريق التحليل الطيفي لاشعاع الشمس والذي تظهر فيه خطوط طيف امتصاص تدل على وجود غازي الهيليوم والهيدروجين

س١١- كيف يمكن الحصول على طيف نقي من طيف احد العناصر الكيميائية

الحل باستخدام المطياف حيث يقوم المنشور وهو في وضع النهاية الصغرى للانحراف بتحليل الطيف حيث تقوم العدسة الشينية بتجميع كل لون في بؤرة يمكن رؤيتها بالعدسة العينية

س١٢- ما هي الظاهرة الضوئية التي يبني عليها عمل كل من دراسة التركيب البللوري باستخدام اشعة اكس

الحل ظاهرة الحيود

س١٣- اختر الاجابة الصحيحة

أ- يستخدم لتسخين فتيلة الكاثود في انبوبة اشعة الكاثود (تيار متردد فقط - تيار مستمر فقط - تيار متردد او مستمر)
الحل تيار متردد مستمر لان كل منهما له تأثير حراري يعمل على تسخين الفتيلة

ب- تقدر طاقة اي مستوي رتبته n في ذرة الهيدروجين بالمقدار.....

$$\left(-\frac{13}{n^2} \text{ eV} / -\frac{13}{n} \text{ eV} / -\frac{13}{n^2} \text{ J} \right)$$

ج- الخاصية المشتركة بين فوتونات الليزر وفوتونات اشعة (X) انها

(مترابطة - احادية الطول الموجي - لها نفس السرعة - لها نفس الطاقة)

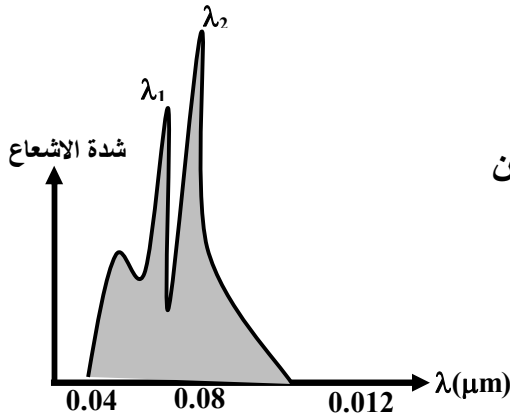
الحل لهما نفس السرعة لان كل منهما فوتونات

س ١٤ - اكمل

أ- الاطوال الموجية لطيف ذرة الهيدروجين الموجودة ضمن سلسلة ليمان الاطوال الموجية ضمن سلسلة بالمر
الحل اقل من لان سلسلة ليمان اكبر طاقة

ب- سرعة الفوتونات المنبعثة من ذرات الهيدروجين في مجموعة بالمر سرعة الفوتونات المنبعثة في مجموعة
باشن

الحل تساوي لان كل من السلسلتين عبارة عن فوتونات سرعتها تساوي سرعة الضوء



س ١٥ : الشكل المقابل :

يوضح الطيف المميز لاشعة اكس عند استخدام هدف
من مادة الموليبدينوم الناتجة عن هبوط الكترونات مادة الهدف
من المستويين $n = 2$ و $n = 3$ الى المستوي $n = 1$ اي من الخطين
 λ_1 او λ_2 يمثل الانتقال من

أ- $n = 2$ الى $n = 1$ ب- $n = 3$ الى $n = 1$ الحل : أ - λ_2 ب - λ_1

لان $\lambda \propto \frac{1}{\Delta E}$ حيث فرق الجهد بين المستويين $n = 3 \leftarrow n = 1$ اكبر

المسائل

س ١- احسب اكبر طول موجي في منطقة الضوء المرئي ينبعث من ذرة الهيدروجين

الحل عندما يعود الالكترون من المستوي الثالث الى المستوي الثاني

$$\Delta E = E_3 - E_2$$

$$\Delta E = \frac{-13.6}{3^2} - \left(\frac{-13.6}{2^2}\right)$$

$$\Delta E = \frac{17}{9} \text{ e.v}$$

$$\Delta E = \frac{hc}{\lambda}$$

$$\frac{17}{9} \times 1.6 \times 10^{-19} = \frac{6.625 \times 10^{-34} \times 3 \times 10^8}{\lambda}$$

$$\lambda = 6.58 \times 10^{-7} \text{ m}$$

س ٢ عند تحليل طيف ذرة الهيدروجين لوحظ وجود خط طيفي ازرق في مدي الطيف المرئي طوله الموجي 434.1 nm

أ- اكتب المعادلة الرياضية التي تستخدم لتحديد طاقة الغلاف في ذرة الهيدروجين ثم احسب طاقة المستوي الذي انتقل
اليه الالكترون ليشع هذا الخط الطيفي

ب- حدد مستوي الطاقة الذي انتقل منه الالكترون في ذرة الهيدروجين ليشع هذا الطول الموجي

أ- ينتقل الالكترون الى المستوي الثاني في مجموعة بالمر المرئية :

$$E_n = \frac{-13.6}{n^2}$$

$$E_2 = \frac{-13.6}{2^2} = -3.4 \text{ e.v}$$

ب- يعود الالكترون من المستوي n الى المستوي الثاني :

$$\Delta E = \frac{-13.6}{n^2} - (-3.4)$$

$$\frac{hc}{\lambda} = \left[\frac{-13.6}{n^2} - (-3.4) \right] \times 1.6 \times 10^{-19}$$

$$\frac{6.625 \times 10^{-34} \times 3 \times 10^8}{1.6 \times 10^{-19} \times 434.1 \times 10^{-9}} = \frac{-13.6}{n^2} + 3.4$$

$$2.8615 = \frac{-13.6}{n^2} + 3.4$$

$$\frac{13.6}{n^2} = 3.4 - 2.8615$$

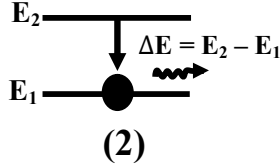
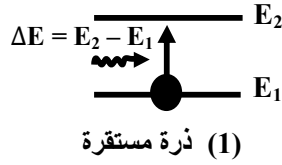
$$n = 5$$

الليزر

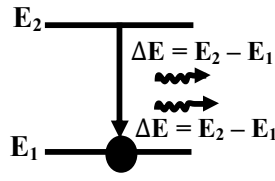
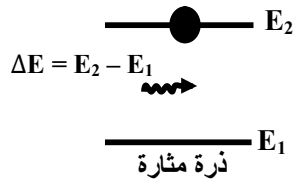
س ١ - قارن بالرسم فقط مع كتابة البيانات

الانبعاث المستحث والانبعاث التلقائي من حيث كيفية الحدوث

الحل الانبعاث التلقائي :

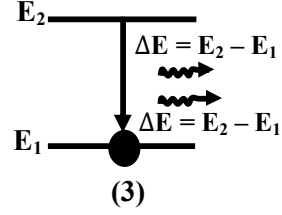
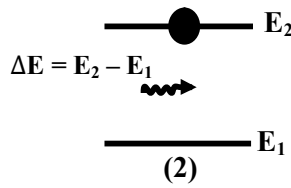
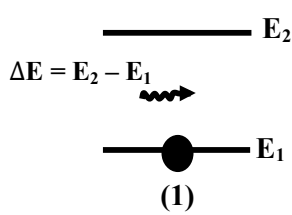


الانبعاث المستحث



س ٢ - اشرح الخطوات التي تمر بها ذرة في مستواها الارضي E_1 حتي تصل الى مرحلة الانبعاث المستحث مع التعبير عن كل خطوة بشكل تخطيطي كامل البيانات

الحل



- (١) سقوط فوتون طاقته $E_2 - E_1$ على ذرة مستقرة في المستوي E_1 فتمتص الذرة الفوتون وتصل الى المستوي E_2
- (٢) سقوط فوتون اخر طاقته $E_2 - E_1$ على الذرة المثارة في المستوي E_2 قبل انتهاء فترة العمر
- (٣) يعود الالكترون الى المستوي E_1 وينطلق فوتون مع الفوتون الساقط لهما نفس الطاقة والاتجاه

س ٣ - ما الدور الذي يقوم به :-

أ- التجويف الرنيني في جهاز الليزر ؟

الحل الوعاء الحاوي لعملية التكبير والتشيط حيث يعمل على انعكاس شعاع الفوتونات مرات متتالية وفي كل مرة يحدث انبعاثات مستحثة فيتضخم شعاع الفوتونات ويخرج من المرآة شبة المنفذة

ب- الاشعة المرجعية في التصوير المجسم

الحل تتداخل مع الاشعة المنعكسة من الجسم والتي لها نفس الطول الموجي فتتكون هدب تداخل والمعروفة باسم الهولوجرام

ج- الليزر في الطب

الحل لحام شبكية العين - علاج طول وقصر النظر

س ٤ - ما النتائج المترتبة على كل مما يأتي :

مرور فوتون طاقته E بذرة في مستوي معين طاقته اكبر بمقدار E عن المستوي الارضي

الحل يدفع هذا الفوتون الذرة الى ان تشع طاقة اثارها على شكل فوتون اخر له نفس تردد واتجاه وطور الفوتون الساقط

س ٥- علل :

أ- يستخدم الليزر في التصوير المجسم (ثلاثي الابعاد)الحل لان الليزر فوتوناته مترابطةب - لماذا تستخدم اشعة الليزر في عمليات الانفصال الشبكي ؟الحل لانها اشعة متناهية الدقة تنتج عنها طاقة حرارية تكفي للحام الجزء المقطوع في وقت قصيرج- اختيار غازي الهيليوم والنيون لانتاج الليزر

لتقارب طاقة المستويات شبه المستقرة لهما حتى عندما يصطدم الهيليوم بالنيون يصل النيون الى وضع الاسكان المعكوس

د- لا تخضع اشعة الليزر لقانون التريبع العكسي

لان فوتونات الليزر مترابطة تحتفظ بشدتها لمسافات طويلة

س ٦- اختر الاجابة الصحيحة

أ- يستخدم شعاع الليزر كمصدر للطاقة لاثارة ذرات المادة الفعالة في ليزر

(الغازات - البلورات الصلبة - الصبغات السائلة - اشباه الموصلات)

ب- الخاصية المشتركة بين فوتونات الليزر وفوتونات اشعة (X) انها

(مترابطة - احادية الطول الموجي - لها نفس السرعة - لها نفس الطاقةالحل لهما نفس السرعة لان كل منهما فوتونات

ج- يمكن لحزمة من الليزر الاحمر ان تصل لمسافة اكبر من تلك التي تصلها حزمة من الضوء الازرق العادي والتي لها

نفس الشدة لان :

١- طاقة شعاع الليزر الاحمر اكبر من طاقة شعاع الضوء الازرق العادي

٢- كتلة فوتون الليزر الاحمر اقل من كتلة شعاع الضوء الازرق العادي

٣- سرعة شعاع الليزر الاحمر اكبر من سرعة شعاع الضوء الازرق العادي

٤- زاوية تفرق شعاع الليزر الاحمر اقل من زاوية تفرق شعاع الضوء الازرق العادي

د- في ليزر الهليوم- نيون تكون طاقة فوتون الليزر المنبعث من ذرة النيون..... طاقة الفوتون الذي اثار ذرة النيون

عند اصطدامها بذرة هيليوم مثارة (اقل من - تساوي - اكبر من)

هـ - اذا سقط شعاع من ضوء الليزر على احد اوجه منشور ثلاثي فإنه يخرج

(على استقامته دون انفراج - منحرف عن مساره بزواية انفراج كبيرة - منحرف عن مساره دون انفراج)الحل منحرف عن مساره دون انفراج لاحظ انه لا يحدث انفراج لانه عبارة عن طول موجي واحد تقريبا

و- اختر في ليزر الهيليوم نيون تنبعث فوتونات الانبعاث المستحث من ذرات النيون نتيجة عودتها من المستوي شبه

المستقر الى المستوي ($E_0 / E_2 / \underline{E_1}$)

ل - قدرة اشعة الليزر للوصول الى مسافات بعيدة تشير الى كبر

(شدته - طوله الموجي - تردده - تفرقه)س ٧- هي الظاهرة الضوئية التي يبني عليها عمل كل من

التصوير الهالوجرافي باستخدام اشعة الليزر

الحل التداخل

س ٨- ما الفكرة او الطريقة العلمية التي تمكن العلماء بها من

تكوين صورة ثلاثية الابعاد من الصورة المشفرة على الهولوجرام
الحل امرار اشعة ليزر حيث فوتونات مترابطة لها نفس الطول الموجي للاشعة المرجعية المستخدمة في تكوين الهولوجرام والنظر خلالها بالعين المجردة

س ٩- اذكر مثالا لوسط فعال لانتاج الليزر يتم اثارته بالطاقة :

أ- الضوئية ب- الكهربائية

الحل ضوئية ← بالمصابيح الوهاجة كما في ليزر الياقوت
او ← باستخدام شعاع ليزر في الصبغات السائلة
الكهربية ← مثل التفريغ الكهربائي في ليزر الهيليوم نيون
← او الترددات الراديوية

س ١٠- قارن بين التصوير المستوى والتصوير المجسم . (من حيث نوع المعلومات المسجلة على الفيلم الحساس .

الحل
التصوير المستوي ← يسجل الاختلاف في الشدة الضوئية فقط ولا يسجل الاختلاف في طور الاشعة المنعكسة من الجسم
التصوير المجسم ← يسجل الاختلاف في الشدة الضوئية ولا يسجل ايضا الاختلاف في طور الاشعة المنعكسة من الجسم

س ١١- اكتب العلاقة الرياضية التي توضح - فرق الطور بين الاشعة المتوازية المترابطة التي تنعكس عن الجسم المراد تصويره بدلالة فرق المسار بينهما

الحل الاختلاف في الطور = فرق المسير $\times \frac{2\pi}{\lambda}$

س ١٢- اكتب المصطلح العلمي

أ- الحالة التي يكون فيها عدد ذرات الوسط الفعال في مستويات الاثارة العليا اكبر من عددها في مستوى الطاقة الادنى
ب- عملية اثاره الوسط الفعال باستخدام المصابيح الوهاجة

الحل
أ- الاسكان المعكوس ب- الضخ الضوئي

س ١٣- ما المقصود بقولنا ان : فوتونات الليزر مترابطة

الحل فوتونات الليزر تخرج من المصدر في نفس اللحظة وتحفظ بفرق طور ثابت اثناء الانتشار لمسافات طويلة

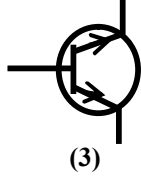
س ١٤- اذكر اهم تحولات الطاقة داخل انبوية الليزر

تستخدم الطاقة الكهربائية في اثاره ذرات الهيليوم الى المستوى E3
ثم تصطدم ذرات الهيليوم بذرات النيون فتعمل على اثارها ووصول ذرات النيون الى وضع الاسكان المعكوس
ثم يحدث انبعاث مستحث لذرات النيون المثارة وهي في المستوى E2
ثم يعمل التجويف الرنيني على تضخيم شعاع الفوتونات ليخرج من المرآة شبح المنفذة على شكل شعاع ليزر (طاقة ضوئية)
تنتج الطاقة الحرارية نتيجة الفوتونات العشوائية

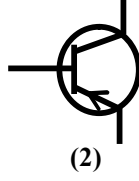
الالكترونيات الحديثة

س اختر الإجابة الصحيحة

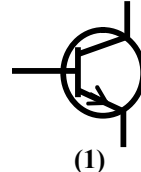
أ- يكون رمز الترانزستور من النوع PnP في الدوائر الكهربائية بهذا الشكل :



(3)



(2)



(1)

الحل الشكل الثاني لأن السهم يشير الى القاعدة

ب- تطعيم بلورة السيليكون بشوائب من الألومنيوم يؤدي الى زيادة في
(جهدها الموجب - جهدها السالب - الالكترونات الحرة - الفجوات الموجبة)

س- علل :

أ- يفضل الارسال الاذاعي الرقمي عن الارسال الاذاعي التناظري

الحل لانه في الارسال الاذاعي الرقمي يتم تحويل الاشارات الكهربائية الى شفرة غير متصلة من 0 , 1 فيتم التغلب على الضوضاء الكهربائية والناجمة عن الحركة العشوائية للالكترونات على عكس الارسال الاذاعي التناظري الذي يتأثر بالضوضاء الكهربائية
ب- سمك القاعدة في الترانزستور صغير

الحل - حتى يكون عدد الفجوات بها قليل وما يستهلك من تيار الباعث لملء فجوات القاعدة يكون قليل ويصبح تيار الباعث يساوي تقريبا تيار المجمع

ج- وجود عيوب في الصوت والصورة في الارسال التناظري

الحل بسبب الحركة العشوائية للالكترونات والتي تسبب تشويش

علل- نقاء الصورة عند استخدام اجهزة ارسال واستقبال رقمية

الحل - لانها لا تتأثر بالتشويش وذلك لان المعلومة لا تكمن في قيمة الاشارة لكن في الشفرة اذا كانت 1 أو 0

س وضح سبب :

أ- مرور تيار الانتشار في الوصلة الثنائية

انتقال الالكترونات الحرة من المنطقة الاعلى كثافة من البلورة n الى المنطقة الاقل كثافة الى البلورة p

ب- زيادة التوصيلية الكهربائية لبلورة السليكون النقية عند تطعيمها بذرات الالمونيوم

الحل أ- بسبب انتقال الالكترونات الحرة من المنطقة n الى p والفجوات من p الى n

ب- لان ذرات الالمونيوم تعمل على زيادة تركيز الفجوات الموجبة

ج- تفضل الالكترونات الرقمية على الالكترونات التناظرية

الحل لان الالكترونات الرقمية لا تتأثر بالتشويش حيث تحول الاشارات الكهربائية الى شفرة غير متصلة من 0 , 1 وهي بالتالي تتغلب على الضوضاء الكهربائية الناتجة عن الحركة العشوائية للالكترونات

س- ما النتائج المترتبة على توصيل الوصلة الثنائية بمصدر تيار متردد ذو جهد مناسب ؟

الحل تعمل على تقويم التيار حيث تسمح بمرور انصاف الذبذبات الموجبة عندما يكون التوصيل اماميا ولا تسمح بمرور انصاف الذبذبات السالبة عندما يكون التوصيل عكسيا

س ما الفكرة العلمية التي

أ- بني عليها عمل الوصلة الثنائية كمفتاح ؟

الحل تسمح بمرور التيار عندما يكون التوصيل امامي مفتاح on ولا تسمح بمرور التيار عندما يكون التوصيل عكسي مفتاح off

ب- تقويم التيار المتردد باستخدام بلورات اشباه الموصلات

الحل - باستخدام الوصلة الثنائية حيث تسمح بمرور التيار في اتجاه حيث يكون التوصيل امامي وتمنع مروره في الاتجاه المعاكس حيث يكون التوصيل عكسي

س - اكتب المعادلة الرياضية

أ- التي تستخدم في حساب تركيز الفجوات الموجبة في البلورة من النوع n

$$\text{الحل} \quad P = \frac{n_1^2}{N_D}$$

ب- قانون فعل الكتلة لبلورة سيليكون مطعمه بذرات من الفوسفور عند الاتزان الحراري

$$\text{الحل} \quad np = n_i^2 \rightarrow N_D p = n_i^2$$

س اكتب المصطلح العلمي

أ- عملية استبدال بعض ذرات السيليكون في بلورته بذرات عنصر اخر ثلاثي او خماسي التكافؤ

الحل التطعيم

ب- ذرة شائبة عند اضافتها لبلورة سيليكون تزيد من كثافة الالكترونات الحرة

الحل الشائبة المعطية

ج- حاصل ضرب تركيز الالكترونات × تركيز الفجوات يساوي مقدار ثابت

الحل قانون فعل الكتلة في اشباه الموصلات

د- نظام الكتروني يقوم بتحويل الاشارات الكهربائية المتصلة الى اشارات رقمية في اجهزة الارسال اللاسلكي

الحل المحول التناظري الرقمي

هـ - وحدات بناء الانظمة الالكترونية

الحل البنائت الالكترونية

س- اذكر استخداما لكل من :-

أ- الترانزستور

مفتاح on او off

ب- اشباه الموصلات الغير نقية

محسات للعوامل البيئية مثل الضغط والحرارة والاشعاع

ج- البوابات المنطقية

وسائل الاتصال الحديثة مثل دوائر الحاسب الالي

د- لمحول التناظري الرقمي في محطات الارسال التليفزيوني

تحويل الاشارات الكهربائية المتصلة الى اشارات رقمية

س اذكر عاملين فقط يمكنهما زيادة كل من :

التوصيلية الكهربائية لبلورة من السيليكون

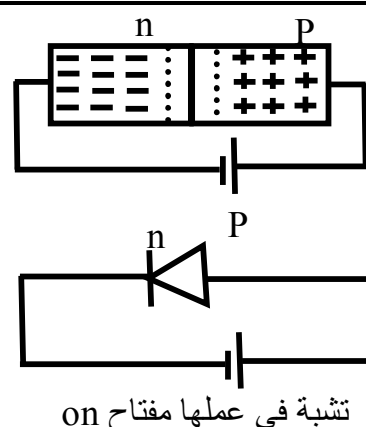
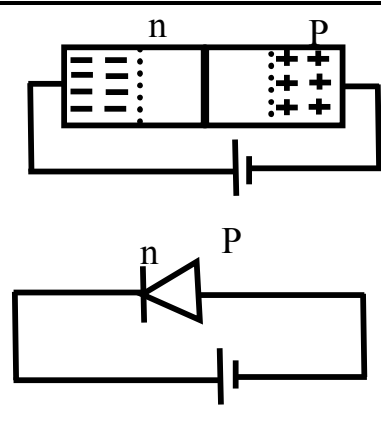
الحل أ- زيادة درجة الحرارة ب- اضافة شوائب (التطعيم)

س ما معنى قولنا ان - معامل التكبير لترانزستور = 99
الحل - أي ان النسبة بين تيار المجمع والى تيار القاعدة = 99

س متى تكون القيم الاتية تساوي صفر
 - فرق الجهد بين المجمع والباعث في ترانزستور npn والباعث مشترك التوصيل
الحل - عندما يكون جهد القاعدة سالب
 حيث يكون فرق الجهد للبطارية = فرق الجهد بين طرفي المقاومة R_C ($V_{CC} = I_C R_C$)

س قارن بين

أ- التوصيل الامامي والتوصيل العكسي في الوصلة الثنائية. (بالرسم مكتمل البيانات)

وجه المقارنة	التوصيل الامامي	التوصيل العكسي او الخلفي
المجال الداخلي	يكون في عكس اتجاه المجال الخارجي (مجال البطارية)	يكون في نفس اتجاه المجال الخارجي (مجال البطارية)
مقاومة الدايمود	تقل	تزداد
شدة التيار	كبير	صغير
طريقة التوصيل	 <p>تشبه في عملها مفتاح on</p>	 <p>تشبه في عملها مفتاح off</p>

س يوضح الشكل المقابل وصلة ثنائية موصلة عكسيا بطرفي بطارية في هذه الحالة
 مانوع ؟ أ- البلورة x ب- البلورة y

ج- الشحنات المتكونة في النقطة a د- الشحنات المتكونة في المنطقة b

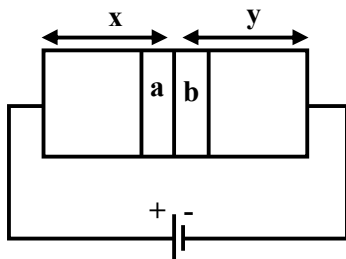
الحل

أ- n - type ← x

ب- p - type ← y

ج- منطقة a ← موجبة الشحنة

د- منطقة b ← سالبة الشحنة

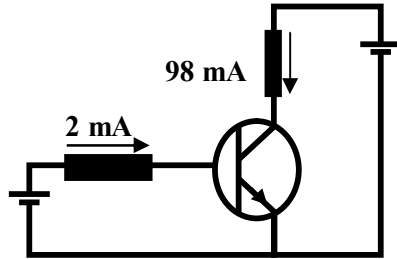
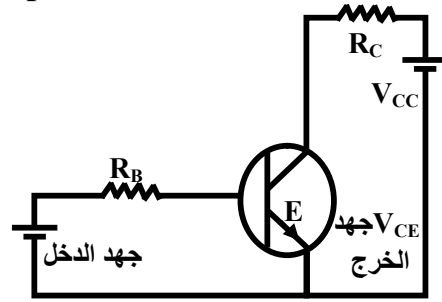


ب- بوابة OR و بوابة AND من حيث احتمالات انتاج خرج (1)

الحل بوابة OR ← تعطي خرج (1) اذا كان احد الدخلين (1) او كل منهما (1)

بواسطة AND ← تعطي خرج (1) اذا كان كل من الدخلين (1) فقط

س- ارسم شكلا مكتمل البيانات لدائرة الترانزستور npn يستخدم كمفتاح في حالة غلق (on)



س بيِّن الشكْل دائرة ترانزستور كمفتاح :

أ- هل الترانزستور الموضح بالشكل في حالة فتح (off) ام غلق (on) ؟

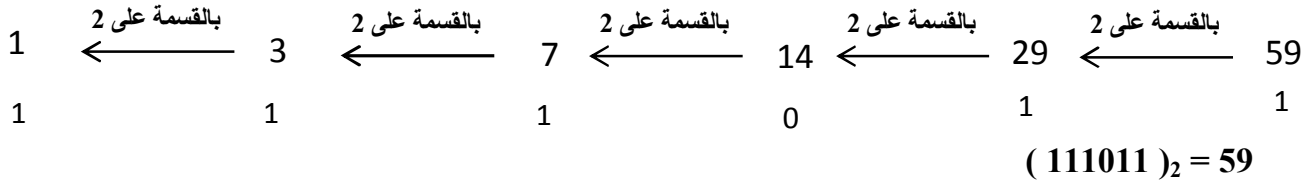
ب- من البيانات المعطاة اوجد قيمة الثابتين : α_e ، β_e

أ- مفتاح on لان القاعدة موصلة بالقطب الموجب $I_B = 2\text{mA}$ $I_C = 98\text{mA}$

$$\beta_e = \frac{I_C}{I_B} = \frac{98}{2} = 49$$

$$\alpha_e = \frac{\beta_e}{1 + \beta_e} = \frac{49}{49 + 1} = \frac{49}{50} = 0.98$$

س حول العدد الثنائي 59 الى رقم عشري ؟



س اوجد العدد العشري الذي يكافئ الرقم الثنائي $(111011)_2$

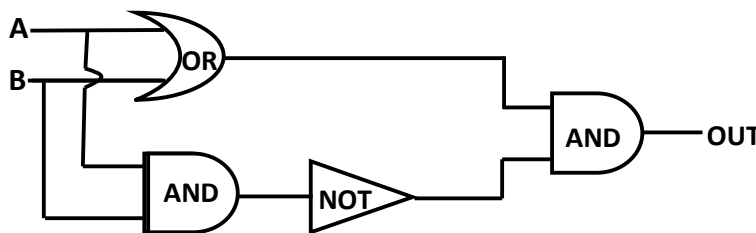
$$(2^5 \times 1) + (2^4 \times 1) + (2^3 \times 1) + (2^2 \times 0) + (2^1 \times 1) + (2^0 \times 1) = (111011)_2$$

$$59 = 32 + 16 + 8 + 0 + 2 + 1 =$$

س مستعينا بالدائرة الالكترونية الاتية الموضحة بالشكل :-

١- اكمل الجدول التحقق التالي

٢- حول الناتج بترتيب الخرج تنابعيا الى رقم عشري مع بيان طريقة الحل



A	B	OUT
0	0
1	0
0	1
1	1

الرسم البياني

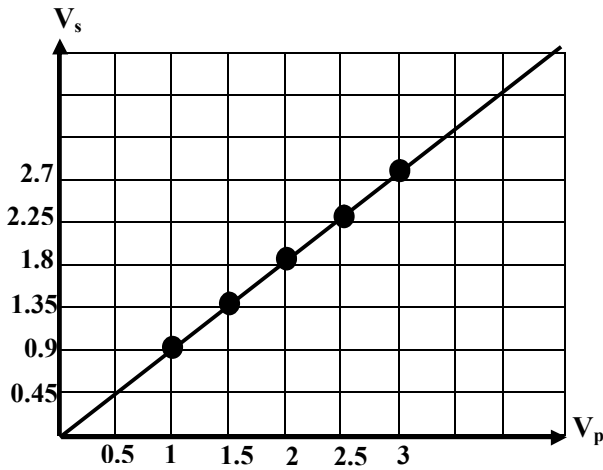
س١ يتصل الملف الابتدائي لمحول كهربى بمصدر تيار متغير الجهد وسجلت فيه الجهد الكهربى عبر كل لفه من لفات ملفه الابتدائي V_1 وايضا الجهد الكهربى عبر كل لفه من لفات الملف الثانوي V_2 في الجدول الاتى :-

3	2.5	2	1.5	1	الجهد الكهربى عبر كل لفه من لفات الملف الابتدائي (V_p) فولت
2.70	2.25	1.80	1.35	0.90	الجهد الكهربى عبر كل لفه من لفات الملف الثانوي (V_s) فولت

أ- ارسم خطا بيانيا يمثّل العلاقة بين الجهد الكهربى عبر كل لفه من لفات الملف الثانوي على المحور الراسى والجهد الكهربى عبر كل لفه من لفات الملف الابتدائي على المحور الافقى

ب- من الشكل البياني اوجد ميل الخط المستقيم وكفاءة المحول الكهربى

ج- في احد المحاولات وجد ان القدرة الكهربىة الناتجة من المحول الثانوي 360 W فكم تكون القدرة الكهربىة المستمدة من المصدر في هذه الحالة ؟



$$\text{slope} = \frac{\Delta V_s}{\Delta V_p} = \frac{1.35 - 0.9}{1.5 - 1} = 0.9$$

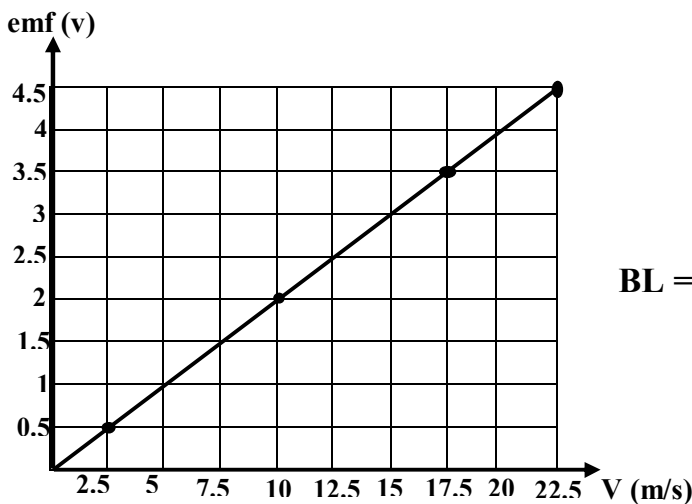
$$\eta = \text{slope} \times 100 = 0.9 \times 100 = 90 \%$$

$$\eta = \frac{P_s}{P_p} \quad \frac{90}{100} = \frac{360}{P_p} \quad P_p = 400 \text{ w}$$

س٢ سلك مستقيم طوله 50 cm يتحرك عموديا على مجال مغناطيسى منتظم والجدول يوضح العلاقة بين سرعة السلك V والقوة الدافعة المستحثّة المتولدة بين طرفيه

$V \text{ (m/s)}$	2.5	10	17.5	22.5
emf (V)	0.5	2	3.5	4.5

أ- ارسم العلاقة بيانيا بين (emf) على المحور الراسى و (V) على المحور الافقى في ورقة الرسم البياني
ب- من الرسم البياني اوجد قيمة كثافة الفيض المغناطيسى



$$\text{slope} = \frac{\Delta \text{emf}}{\Delta V} = BL$$

$$\text{slope} = \frac{2 - 0.5}{10 - 2.5} = \frac{1.5}{7.5} = 0.2$$

$$BL = 0.2$$

$$B \times 50 \times 10^{-2} = 0.2$$

$$B = \frac{0.2}{50 \times 10^{-2}}$$

$$B = 0.4 \text{ T}$$