



(٤) القارة التي تسجل أعلى معدل مواليد في العالم .....  
( أفريقيا - أوروبا - أمريكا الشمالية - آسيا )

(ب) بم تفسر ... ؟

- (١) اختلاف المناخ في إقليم البحر المتوسط والإقليم الصيني رغم وقوعهما على دائرة عرض واحدة.
- (٢) تعرض عدد كبير من الزنوج لهجرات إجبارية للأمريكتين.
- (٣) تركيز السكان في الساحل الشمالي الشرقي للولايات المتحدة الأمريكية.

### ثانياً التاريخ

(١) صوب الكلمات التي تحتها خط :

- (١) نجح العثمانيون في دخول دمشق عاصمة الصفويين.
- (٢) فر مراد بك إلى سيناء بعد هزيمته أمام الفرنسيين في إمبابة.
- (٣) صدرت صحيفة الأهرام في عهد محمد علي.
- (٤) تم إتمام الخط الحديدي بين القاهرة والإسكندرية في عهد الخديو توفيق.

(ب) ما النتائج التي ترتبت على ... ؟

- (١) سياسة العزلة التي فرضها العثمانيون على مصر.
- (٢) مفاوضات محمد علي مع القوى الأوروبية لإنهاء حرب اليونان.
- (٣) مقتل السير لي ستاك القائد العام للجيش المصري عام ١٩٢٤م.

(١) إلى من تنسب الأعمال الآتية ... ؟

- (١) تحالف مع الشيخ ظاهر العمر وأخضع الحجاز لنفوذه.
- (٢) جمع الصبية للعمل في مصانع الدولة بأجور رمزية.
- (٣) وجه عدة حملات حربية إلى الأقاليم الاستوائية في أفريقيا.
- (٤) أطلق الحرية للشعب المصري بالنضال المسلح ضد القوات البريطانية في القناة.

(ب) «تعرضت مصر للتدخل الأجنبي منذ عصر خلفاء محمد علي حتى قبل قيام ثورة

٢٣ يوليو ١٩٥٢م». في ضوء العبارة وضع :

- (١) مساوي المحاكم المختلطة في عهد الخديو إسماعيل.
- (٢) جهود محمد فريد في الاهتمام بالتعليم.

(ج) ماذا كان يحدث إذا ... ؟

- (١) لم يصدر السلطان العثماني منشوراً بإعلان عصيان عرابي خلال معركة التل الكبير.
- (٢) لم يرفض الشعب المصري التفاوض مع لجنة ملتر ديسمبر ١٩١٩م.



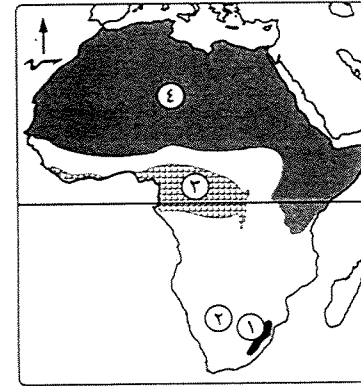
## امتحانات المحافظات



مديرية التربية والتعليم

### محافظة القاهرة

#### أجب عن الأسئلة الآتية: أولاً الجغرافيا



(١) أمامك خريطة لقارة أفريقيا.

اكتب ما تدل عليه الأرقام الآتية :

- (١) جبال ..... تقع أقصى جنوب شرق القارة.
- (٢) سهل صحراوي رملي .....
- (٣) إقليم مناخى .....
- (٤) سلالة بشرية .....

(ب) «تأثرت اقتصاديات الدول بتوزيع الكثافة السكانية».

في ضوء العبارة وضع ما يلي :

- (١) أسباب قلة سكان شمال أستراليا.
- (٢) المقصود بـ : الديموجرافيا.
- (٣) العلاقة بين : العادات والتقاليد، ومعدل التعليم بالنسبة للإناث.
- (٤) مقترحاتك لـ : تصحيح مصر دولة ذات دخل اقتصادى مرتفع.

(ج) اكتب كلمة (صواب) أمام العبارة الصحيحة، وكلمة (خطأ) أمام العبارة غير الصحيحة. مع التصويب :

- (١) تشغل هضبة الميزيتا معظم دولة إسبانيا. ( )
- (٢) توجد سهول نهري مري ودارلنج في قارة آسيا. ( )
- (٣) تعرف حشائش الإستبس في أمريكا الشمالية باسم حشائش الساقانا. ( )
- (٤) الدول التي تراعى بها مستويات الرعاية الصحية تقل بها معدلات المواليد. ( )
- (٥) تعتبر مصر من الدول ذات المستوى الاقتصادي أقل من المتوسط. ( )

(١) اختر الإجابة الصحيحة مما بين القوسين :

- (١) أهم الجزر التابعة لقارة آسيا .....
- (٢) تنتمي جزيرة مدغشقر لإقليم المناخ .....
- (٣) يعيش حيوان الرنة في إقليم مناخ .....
- (٤) البحر المتوسط - غرب أوروبا - التندرا - الصيني



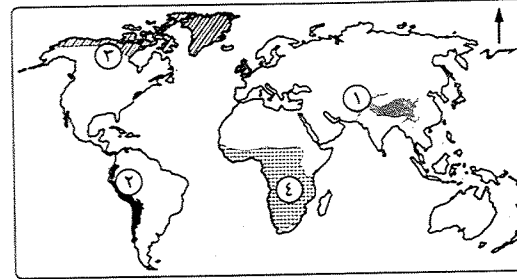
## أولاً الجغرافيا

## أجب عن الأسئلة الآتية:

١ (أ) أمامك خريطة للعالم.

وضح مدلول الأرقام الآتية :

- (١) هضبة .....
- (٢) جبال .....
- (٣) إقليم مناخى .....
- (٤) السلالة .....



(ب) ما المقصود بالمصطلحات الآتية ... ؟

(١) حوض النهر. (٢) الإقليم المناخى. (٣) السلالة البشرية. (٤) الهجرة غير الشرعية.

(ج) صوب ما تحته خط في العبارات الآتية :

- (١) تعد سهول كلنشو في ليبيا من السهول الفيضية.
- (٢) تعتبر الغابات الاستوائية حديقة حيوانات طبيعية.
- (٣) يتوفر بالمدن الكبرى فرص العمل والخدمات والمناطق الزراعية.
- (٤) تصل نسبة المتعلمين إلى أكثر من ٩٥ ٪ في الدول النامية.

٢ (أ) اختر الإجابة الصحيحة مما بين القوسين :

- (١) يصب نهرًا مرى ودارلنج في خليج .....
- (المكسيك - البنغال - عدن - الأسترالى الكبير)
- (٢) تنتمى أشجار الصفصاف والبلوط لإقليم المناخ .....
- (الموسمى - اللورانسى - الصينى - البحر المتوسط)
- (٣) أكبر دول قارة أمريكا الجنوبية سكاناً دولة .....
- ( فنزويلا - البرازيل - هندوراس - جويانا )
- (٤) الدول ذات الدخل الاقتصادى ..... يتركز معظم سكانها في الريف.
- ( المنخفض - المتوسط - أقل من المتوسط - المرتفع )

- (ب) بم تفسر ... ؟ (١) كثرة الموائى الطبيعية فى قارة أوروبا.
- (٢) تنوع الحياة النباتية فى إقليم المناخ الجبلى.
- (٣) العرب ليسوا من سلالة واحدة.
- (٤) تحرم المرأة من التعليم فى بعض دول العالم.
- (ج) ما العلاقة بين : معدل الوفيات، والكوارث الطبيعية ؟

## ثانياً التاريخ

- ٢ (أ) اكتب كلمة (صواب) أمام العبارة الصحيحة، وكلمة (خطأ) أمام العبارة غير الصحيحة :
- (١) تمكن السلطان العثماني سليم الأول من هزيمة الصفويين فى موقعة جالديران. ( )
- (٢) أيقظت الحملة الفرنسية الروح القومية لدى المصريين. ( )
- (٣) اهتم سعيد بحفر العديد من الترع مثل ترعة الإبراهيمية. ( )
- (٤) طالبت إنجلترا وفرنسا بإقالة وزارة البارودى فى المذكرة المشتركة الأولى. ( )
- (٥) انضمت مصر لعضوية عصبة الأمم عقب معاهدة ١٩٣٦م. ( )

(ب) ما النتائج التى ترتبت على ... ؟

- (١) عزل إسماعيل للوزراء الأجانب فى الوزارة المختلطة.
- (٢) إصدار السلطان العثماني منشوراً بعضيان عرابى.
- (٣) تصريح ٢٨ فبراير ١٩٢٢م.
- (ج) اكتب ما تشير إليه كل عبارة مما يأتى :
- (١) نظام أثقل الفلاح المصرى بالضرائب المفروضة على الأراضى الزراعية فى عصر الدولة العثمانية.
- (٢) خضوع مصر المطلق للاحتلال البريطانى.

٣ (أ) اكتب اسم الشخصية التى تتحدث عن نفسها :

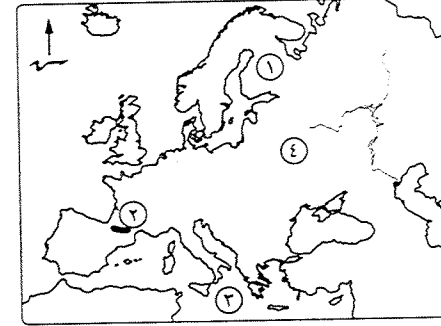
- (١) تم نفى إلى دمياط عام ١٨٠٩م وبذلك انفرد محمد على بحكم مصر.
- (٢) أنشأت المطبعة الأميرية وأصدرت صحيفة الوقائع المصرية.
- (٣) نددت بالاحتلال البريطانى مستغلاً حادثة دنشواى عام ١٩٠٦م.
- (٤) كُنت رئيساً للوزارة عام ١٩٥١م وألغيت معاهدة ١٩٣٦م.

(ب) رتب الأحداث التاريخية الآتية من القديم إلى الحديث :

- \* حملة فريزر.
- \* تأسيس مجلس شورى النواب.
- \* اكتشاف حجر رشيد.
- \* موقعة نقارين.

(ج) قارن بين : موقعة أبى قير البحرية، وموقعة أبى قير البرية، من حيث :

- \* الأطراف
- \* النتائج

أجب عن الأسئلة الآتية: **أولا الجغرافيا**

(١) أمامك خريطة لقارة أوروبا.

اكتب مدلول الأرقام الآتية :

- (١) دولة ..... (٢) جبال .....  
(٣) البحر ..... (٤) السهل .....

(ب) صوب ما تحته خط في العبارات الآتية :

(١) أكبر هضاب أمريكا الجنوبية  
وأكثرها ارتفاعاً هضبة جيانا.

(٢) تنتمي جماعة البانتو في سيبيريا للسلالة المغولية.

(٣) يحد أمريكا الشمالية من الجنوب الشرقي خليج هدسن والبحر الكاريبي.

(٤) يقل السكان في دول البرزخ مثل كندا وكوستاريكا.

(٥) يجري نهر السند في سهول شرق الصين.

(ج) ما المقصود بالمصطلحات الآتية ... ؟

- (١) الموقع الجغرافي. (٢) الهجرات غير الشرعية. (٣) الديموجرافيا.

(أ) اختر الإجابة الصحيحة مما بين القوسين :

(١) يتركز السكان في مناطق السهول الفيضية مثل سهول نهر ..... في فنزويلا.

( الأمازون - لابلاتا - ساو فرانسيسكو - الأورينوكو )

(٢) تمتد جبال ..... في أقصى الجنوب الشرقي لقارة أفريقيا.

( دراكنزبرج - أطلس - البحر الأحمر - كينيا )

(٣) من الدول ذات الرعاية الطبية المنخفضة .....

( الإمارات - مصر - نيبال - روسيا )

(٤) تتميز قارة آسيا بكثرة الجزر مثل .....

( جزيرتي نيوزيلندا - جزيرة مدغشقر - جزيرة تسمانيا - جزر الفلبين )

(ب) يم تفسر ... ؟

(١) ضيق السهول الساحلية شرق قارة أستراليا.

(٢) تتميز دول الخليج العربي بالدخل الاقتصادي المرتفع.

(٣) نشأة السلالات البشرية. (٤) تنوع الحياة النباتية في إقليم المناخ الجبلي.

(ج) قارن في جدول بين : شمال اليابان، والساحل الأوسط في شيلي، من حيث :

\* الخصائص المناخية. \* الخصائص النباتية.

**ثانيا التاريخ**

(أ) اكتب كلمة (صواب) أمام العبارة الصحيحة. وكلمة (خطأ) أمام العبارة غير الصحيحة :

- (١) نجح المماليك في دخول تبريز عاصمة الصفويين. ( )  
(٢) عقد ممثلو الدول العظمى مؤتمراً بالآستانة للنظر في المسألة المصرية. ( )  
(٣) أرسلت بريطانيا وإيطاليا المذكرة المشتركة الأولى لتقوية مركز الخديو توفيق. ( )  
(٤) اشترط لصحة امتياز قناة السويس أن يصدق عليه السلطان العثماني. ( )  
(٥) وجه سعيد باشا عدة حملات إلى الأقاليم الاستوائية في أفريقيا. ( )

(ب) ما النتائج التي تترتب على ... ؟

(١) حصار الأسطول البريطاني لشواطئ مصر الشمالية عام ١٧٩٨م.

(٢) حادثة دنشواي عام ١٩٠٦م. (٣) حروب محمد علي في اليونان.

(٤) صدور تصريح ٢٨ فبراير ١٩٢٢م.

(ج) مارايك في : تعدد الأحزاب السياسية منذ دستور ١٩٢٣م وحتى قيام ثورة يوليو ١٩٥٢م ؟

(أ) اكتب ما تشير إليه كل عبارة من العبارات الآتية :

(١) رفضتها الحكومة البريطانية وطلبت استسلام جنود الحملة الفرنسية كأسرى حرب.

(٢) أول مواجهة عسكرية بين المماليك والحملة الفرنسية في مصر.

(٣) كان بمثابة خزانة فرعية للخزانة المصرية.

(٤) بموجبها أصبح للفلاح الحق في توريث الأرض الزراعية.

(ب) دلت تاريخياً على صحة كل عبارة من العبارات الآتية :

(١) اتبع محمد علي سياسة تهدف إلى السيطرة على الإنتاج الصناعي.

(٢) اتسمت الحياة الفكرية والثقافية في مصر خلال فترة الحكم العثماني بالجمود والتخلف.

(٣) تدهور التعليم في مصر في ظل الاحتلال البريطاني.

(ج) «إن التاريخ المصري حافل بالكفاح والنضال من جانب المصريين ضد المستبدين والطغاة».

في ضوء العبارة وضح ما يلي :

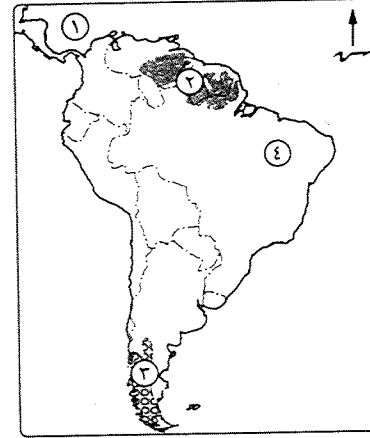
(١) أسباب الثورة العربية. (٢) مطالب الوفد المصري من السير ونجت ١٩١٨م.

(٣) المتغيرات الداخلية بعد معاهدة ١٩٣٦م.



## أولاً الجغرافيا

## أجب عن الأسئلة الآتية:



١ (أ) أمامك خريطة لقارة أمريكا الجنوبية،

اكتب ما تدل عليه الأرقام الموقعة عليها :

(١) البحر .....

(٢) هضبة .....

(٣) إقليم مناخى .....

(٤) أكبر دول القارة سكاناً .....

(ب) اكتب ما تشير إليه كل عبارة من العبارات الآتية

(١) \* بحر يفصل آسيا عن أفريقيا.

(٢) سلاسل جبلية تمتد من الغرب إلى الشرق

في وسط قارة أوروبا.

(٣) إقليم مناخى يسود سواحل دول المغرب العربي.

(٤) علم دراسة السكان من حيث نمو وتوزيع وتركيب السكان.

(ج) يم تفسر ... ؟

(١) قلة أهمية أنهار شمال آسيا شتاءً.

(٢) ضيق السهول الساحلية في شرق قارة أستراليا.

(٣) تنوع الحياة النباتية في إقليم المناخ الجبلى.

(٤) تقسيم السلالات البشرية أمر ظاهرى وليس جوهري.

٢ (أ) اختر الإجابة الصحيحة مما بين القوسين :

(١) من الجزر التابعة لقارة أستراليا ..... (مدغشقر - جرينلاند - نيوزيلندا - كوبا)

(٢) من الأنهار التي تقطع هضبة فرنسا الوسطى نهر .....

(الدانوب - دارلنج - الفولجا - السين)

(٣) تنتمي مجموعة ..... إلى السلالة الزنجية.

(التنجوس - البانتو - النوردية - الإسكيمو)

(٤) أعلى نسبة من السكان البالغين في دول .....

(غرب أوروبا - الخليج العربي - شرق آسيا - شمال أفريقيا)

(ب) وضح العلاقة بين : التضاريس، وتوزيع السكان في قارة أفريقيا.

(ج) إلى أى الفايات تنتمى الأشجار الآتية ... ؟ مع ذكر أهم الحيوانات التى تعيش فى كل منها :

(١) الماهوجنى والمطاط. (٢) الصنوبر والشربين.

(د) ما أوجه الاختلاف بين : قوة العمل فى كل من الدول المتقدمة، والدول النامية ؟

## ثانياً التاريخ

٣ (أ) اكتب كلمة (صواب) أو كلمة (خطأ) أمام العبارات الآتية :

(١) تحطم الأسطول المملوكى فى معركة ديو البحرية عام ١٥٠٩م. ( )

(٢) تخلص محمد على من المماليك بطردهم ونقيهم خارج البلاد. ( )

(٣) بدأت الأزمة المالية فى مصر فى عهد الخديو إسماعيل. ( )

(٤) شكل سعد زغلول أول وزارة برلمانية عام ١٩٢٤م. ( )

(ب) ما النتائج التى ترتبت على ... ؟ (١) هزيمة الجيوش المملوكية أمام العثمانيين.

(٢) عقد معاهدة ١٩٣٦م بين مصر وبريطانيا.

(ج) لمن تنسب الأعمال الآتية ... ؟

(١) نظم الاقتصاد المصرى فى الزراعة والصناعة والتجارة على أساس نظام الاحتكار.

(٢) أسس مجلس شورى النواب ووضع أول دستور فى مصر عام ١٨٧٨م.

(٣) استغل حادثة دنشواى للتنديد بالاحتلال البريطانى.

(٤) أرسلته الحكومة البريطانية لإقناع الشعب المصرى بقبول الحماية البريطانية.

٤ (أ) «يقاوم الشعب المصرى على مر تاريخه استبداد الطغاة والاحتلال».

فى ضوء العبارة السابقة وضح أسباب الثورات الآتية :

(١) ثورة القاهرة الأولى ضد الفرنسيين عام ١٧٩٨م.

(٢) ثورة الشعب المصرى فى مارس ١٨٠٤م.

(٣) الثورة الشعبية ضد الاحتلال البريطانى عام ١٩١٩م.

(ب) دلل تاريخياً على صحة كل عبارة من العبارات الآتية :

(١) فشل نابليون فى احتلال عكا.

(٢) أثرت الإصلاحات الاقتصادية فى عهد «محمد على» على بناء القوى الاجتماعية بمصر.

(٣) تجمعت عدة عوامل أدت إلى فشل الثورة العربية.

(ج) ما رأيك فى : شروط الامتياز الأول الذى أعطاه سعيد باشا لحفر القناة ؟



## أجب عن الأسئلة الآتية: أولاً الجغرافيا



١ (أ) اكتب في كراسة إجابتك مدلول الأرقام الموقعة على خريطة قارة أوروبا التي أمامك :

- (١) بحر ..... (٢) المحيط .....  
(٣) نهر ..... (٤) هضبة .....

(ب) ما المقصود بالمصطلحات الآتية ... ؟  
(١) الموقع الجغرافي.

(٢) الإقليم المناخي. (٣) قوة العمل.

(ج) «كان لاستقرار الإنسان في البيئات المختلفة وتأثيره وتأثره بها سبباً في نشأة السلالات المختلفة». في ضوء هذه العبارة أجب عما يأتي :

(١) قارن بين : السلالة الزنجية السوداء، والسلالة المغولية الصفراء، من حيث الصفات الجسمية.

(٢) دلل على صحة العبارة الآتية : يؤثر المناخ على توزيع سكان قارة أفريقيا.

(د) بم تفسر ... ؟ (١) ضيق السهول الساحلية في شرق قارة أستراليا.

(٢) تُعد حشائش السافانا حديقة حيوان طبيعية.

٢ (أ) صوب ما فوق الخط، ثم أعد كتابة العبارات صحيحة في كراسة إجابتك :

(١) يصب نهر السند في المحيط الهادي.

(٢) تنفض الأشجار أوراقها في الغابات الخروطية.

(٣) أكبر دولة في قارة أمريكا الجنوبية سكاناً دولة جويانا.

(٤) تسجل قارة آسيا أعلى معدل مواليد في العالم.

(ب) ما النتائج المترتبة على ... ؟

(١) اقتراب حافات الجبال والهضاب من سواحل قارة أفريقيا.

(٢) زيادة السكان في معظم قارة آسيا.

(٣) ارتفاع نسبة فئة صغار السن في الدول النامية.

(ج) اختر الإجابة الصحيحة مما بين القوسين :

(١) أصغر هضاب قارة أمريكا الجنوبية مساحة هضبة .....

( جيانا - ليرادور - البرازيل - بتاجونيا )

(٢) جميع الأقاليم المناخية الآتية تسقط عليها الأمطار طوال العام ما عدا الإقليم

المناخي ..... ( الاستوائي - الصيني - غرب أوروبا - التندرا )

(٣) سكان غرب ووسط أوروبا ضمن .....

( المجموعة النوردية الشمالية - المجموعة الألبية - البانتو - الإسكيمو )

## ثانياً التاريخ

٢ (١) اكتب كلمة (صواب) أمام العبارة الصحيحة، وكلمة (خطأ) أمام العبارة غير الصحيحة :

(١) تمكن السلطان سليم الأول من هزيمة المماليك في موقعة جالديران. ( )

(٢) قام المصريون بثورة عارمة بزعامة عمر مكرم ضد قوات فرنسا في حي بولاق. ( )

(٣) أنشأ الخديو إسماعيل دار الكتب والجمعية الجغرافية في مصر. ( )

(٤) أرسلت بريطانيا وفرنسا المذكرة المشتركة الأولى تطالبان بإقالة وزارة البارودي. ( )

(ب) ما النتائج التي ترتبت على ... ؟

(١) اتفاقية العريش عام ١٨٠٠م. (٢) ضم «محمد علي» السودان إلى مصر.

(٣) حادثة دنشواي عام ١٩٠٦م. (٤) إصدار بريطانيا تصريح ٢٨ فبراير ١٩٢٢م.

(ج) ماذا كان يحدث إذا ... ؟

(١) انتصرت فرنسا في معركة أبي قير البحرية.

(٢) لم يقاطع الشعب المصري لجنة ملنر.

٢ (١) اختر الإجابة الصحيحة مما بين القوسين :

(١) من الأعمال الكبرى التي قام بها علماء الحملة الفرنسية .....

( إنشاء المجمع العلمي - تأليف كتاب وصف مصر - اكتشاف حجر رشيد - جميع ما سبق )

(٢) عقد ..... أول قرض من البنوك البريطانية ثم لجأ إلى الاستدانة من المرابين.

( محمد علي باشا - عباس باشا - سعيد باشا - إسماعيل باشا )

(٣) صمد بقواته أمام القوات البريطانية إلى أن استشهد هو ومعظم رجاله .....

( أحمد عرابي - محمود سامي البارودي - مصطفى كامل - محمد عبيد )

(٤) قام بإلغاء معاهدة ١٩٣٦م .....

( عدلي يكن باشا - مصطفى النحاس باشا - سعد زغلول باشا - زيور باشا )

(ب) يم تفسر ... ؟

- (١) التدهور الزراعي لمصر في عصر الدولة العثمانية.  
 (٢) تخلص (محمد على) من المماليك.  
 (٣) فشل الثورة العربية.  
 (٤) إلغاء إسماعيل صدقي دستور ١٩٢٣م.

(ج) ما رأيك في : شروط امتياز حفر قناة السويس ؟

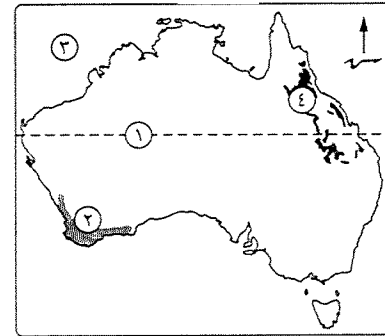


مديرية التربية والتعليم

محافظة المنوفية

٦

أجب عن الأسئلة الآتية: أولاً الجغرافيا



(١) أمامك خريطة لأستراليا، اكتب ما تدل

عليه الأرقام التالية :

- (١) مدار .....  
 (٢) إقليم مناخي .....  
 (٣) المحيط .....  
 (٤) جبال .....

(ب) ما المقصود بالمصطلحات الآتية ... ؟

- (١) الدولة الجزرية.  
 (٢) السلالة البشرية.

(ج) ما النتائج المترتبة على ... ؟

- (١) اقتراب جبال الإنديز من ساحل المحيط الهادى.  
 (٢) زيادة عدد السكان فى معظم دول قارة آسيا.

(د) ماذا يحدث إذا : انخفضت نسبة فئة صغار السن فى الدول النامية ؟

(١) اختر الإجابة الصحيحة مما بين القوسين :

- (١) يقع البحر الكاريبى شمال قارة .....  
 (أستراليا - أمريكا الشمالية - أمريكا الجنوبية - أوروبا)  
 (٢) يتمثل إقليم المناخ الاستوائى فى قارة أفريقيا فى حوض .....  
 (الأمازون - الكونغو - النيل - لابلاتا)  
 (٣) من الدول ذات الرعاية الطبية المرتفعة ..... (إثيوبيا - روسيا - فرنسا - مصر)  
 (٤) يصب نهر الدانوب فى البحر ..... (البلى - المتوسط - الشمال - الأسود)

(ب) يم تفسر ... ؟

- (١) انتقال عدد كبير من زنوج أفريقيا إلى الأمريكتين.  
 (٢) نمو الغابات الموسمية فى شبه جزيرة الهند الصينية جنوب الصين.  
 (٣) العرب ليسوا من سلالة واحدة.  
 (٤) تركيز السكان فى شمال شرق الولايات المتحدة الأمريكية.

(ج) فى أى القارات توجد كل ظاهرة مما يأتى ... ؟

- (١) سهول نهر نلسن. (٢) صحراء كهارى.

التاريخ

(١) اكتب كلمة (صواب) أمام العبارة الصحيحة، وكلمة (خطأ) أمام العبارة غير الصحيحة، مع التصويب :

- (١) دخل العثمانيون القاهرة بعد معركة مرج دابق. ( )  
 (٢) كان الأزهر الشريف مركزاً لثورة القاهرة الأولى ضد الفرنسيين. ( )  
 (٣) شُكلت وزارة عبد الخالق ثروت لجنة من ثلاثين عضواً لإعداد دستور ١٩٢٣م. ( )  
 (٤) بعد الاحتلال البريطانى أصبحت السلطة الفعلية فى مصر للخديو. ( )

(ب) ما النتائج التى ترتبت على ... ؟

- (١) موقعة أبى قير البحرية. (٢) معاهدة ١٩٣٦م.

(ج) «مرت مصر منذ عام ١٩١٤م حتى قيام ثورة ٢٣ يوليو ١٩٥٢م بمراحل من الصدام بين

الحركة الوطنية وسلطات الاحتلال البريطانى». فى ضوء العبارة أجب عما يأتى :

(١) ما عوامل قيام ثورة ١٩١٩م ؟

(٢) دلل تاريخياً على صحة العبارة الآتية :

مؤتمر الصلح فى باريس أصاب أعضاء الوفد المصرى بإحباط كبير.

(١) لمن تنسب الأعمال الآتية ... ؟

- (١) أتم الخط الحديدى بين القاهرة والإسكندرية.  
 (٢) ناظر الجهادية الذى اضطهد الضباط المصريين ومنع ترقيتهم.  
 (٣) أنشأ المحاكم المختلطة عام ١٨٧٥م.  
 (٤) تحالف مع الشيخ ظاهر العمر حاكم جنوب الشام.

(ب) يم تفسر ... ؟ (١) تعرض دولة المماليك لأزمات سياسية.

(٢) كان كبير من أنصار الجلاء عن مصر.

(٣) حدوث جدل بين وزارة شريف ومجلس النواب عام ١٨٨١م.

(٤) استقالة اللورد كرومر من منصبه.

(ج) ماذا كان يحدث إذا : لم يقم محمد على بضم السودان ؟



(ج) ما المقصود بكل من ... ؟ (١) سلالة بشرية. (٢) التركيب العمري للسكان.

### التاريخ

٢ (١) إلى من تنسب الأعمال الآتية ... ؟

- (١) قسم مصر إلى سبع مديريات وأنشأ مجلس المشورة.
  - (٢) صمد بقواته أمام القوات البريطانية حتى استشهد في معركة التل الكبير ١٨٨٢م.
  - (٣) شكل الوزارة عام ١٩٣٠م وقام بإلغاء دستور ١٩٢٣م.
  - (٤) حاكم الإسكندرية الذي قاوم الحملة الفرنسية وأعدم رمياً بالرصاص.
- (ب) اكتب المصطلح الذي تدل عليه كل عبارة مما يأتي :
- (١) أمر سلطاني من قبل سلطان الدولة العثمانية واجب التنفيذ.
  - (٢) كان بمثابة خزانة فرعية للخزانة المصرية وأنشأه الخديو إسماعيل مايو ١٨٧٦م للإشراف على تسديد الديون.

(ج) اكتب نتيجتين لكل مما يأتي :

- (١) ثورة القاهرة الأولى أكتوبر ١٧٩٨م. (٢) ضم محمد على السودان.
- (٣) إلغاء مصطفى النحاس معاهدة ١٩٣٦م.
- (٤) سياسة محمد على الاقتصادية على البناء الاجتماعي في مصر.

٣ (١) صوب ما تحته خط في العبارات الآتية، ثم أعد كتابتها صحيحة في كراسة الإجابة :

- (١) أصبحت مصر ولاية عثمانية بعد انتصار (سليم الأول) على (طومان باي) في موقعة مرج دابق ١٥١٦م.
- (٢) تولى كبير قيادة الحملة الفرنسية وكان يريد البقاء في مصر فعمل خطة إصلاحية في مجالات مختلفة.
- (٣) أجرت وزارة محمود سامي البارودي الانتخابات لاختيار أعضاء مجلس النواب وافتتح في ديسمبر ١٨٨١م.
- (٤) دعا أحمد عرابي إلى إنشاء نقابات للعمال وجعل التعليم إلزامياً وبالمجان في المرحلة الابتدائية.

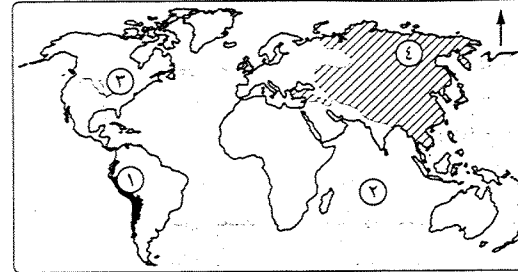
(ب) اختر الإجابة الصحيحة مما بين القوسين :

- (١) قام بإعادة ديوان المدارس وأنشأ دار الرصد بالعباسية .....
- (الخدوي إسماعيل - سعيد باشا - عباس باشا الأول - الخديو توفيق)
- (٢) تم إلغاء الامتيازات الأجنبية في مؤتمر ..... ١٩٣٧م.
- (لندن - الأستانة - مونترو - الصلح)



### الجغرافيا

أجب عن الأسئلة الآتية:



(١) أمامك خريطة للعالم. وضح

مدنول الأرقام المدونة عليها :

- (١) جبال .....
- (٢) المحيط .....
- (٣) نهر .....
- (٤) سلالة بشرية .....

(ب) اكتب كلمة (صواب) أو كلمة (خطأ) أمام ما يناسب العبارات الآتية. مع تصويب الخطأ :

- (١) تزداد نسبة العاملين في الصناعة والخدمات في الدول المتقدمة الغنية. ( )
- (٢) تزداد عدد الجزر بقارة أفريقيا. ( )
- (٣) تمتد جبال الألب الدينارية في شبه الجزيرة العربية. ( )
- (٤) تعرف حشائش الإستبس في أمريكا الجنوبية باسم حشائش البراري. ( )
- (٥) تختلف الخصائص الاقتصادية لسكان العالم وفقاً لتنوع الأنشطة ودخل السكان. ( )

(ج) قارن بين : قارة آسيا، وقارة أفريقيا، من حيث :

\* هضبتين في كل قارة. \* المناطق التي يوجد بها الإقليم الاستوائي في كل قارة.

٤ (١) اختر الإجابة الصحيحة مما بين القوسين :

- (١) يفصل البحر ..... بين أفريقيا وأوروبا. (الأحمر - قزوين - المتوسط - الأسود)
- (٢) أعلى قارات العالم في معدل المواليد قارة .....
- (أوروبا - أفريقيا - أمريكا الجنوبية - آسيا)
- (٣) من الدول ذات الرعاية الطبية المرتفعة ..... (النيجر - روسيا - مصر - إثيوبيا)
- (٤) من الأقاليم التي تتميز بسقوط الأمطار طوال العام الإقليم .....
- (الموسمي - المداري - الصيني - البحر المتوسط)

(ب) يفسر ... ؟

- (١) تعرض عدد كبير من الزوجات للإجبارية إلى الأمريكتين.
- (٢) ندرة وجود السلالات النقية في العالم في الوقت الحاضر.
- (٣) يتركز السكان في السهول الساحلية. (٤) يقل عدد السكان في شمال قارة أوروبا.

(٢) أعيدت وزارة الخارجية المصرية بناءً على .....

(تصريح ٢٨ فبراير ١٩٢٢م - معاهدة ١٩٣٦م - دستور ١٩٢٣م - اتفاقية الحكم الثنائي)

(ج) دلت تاريخياً على صحة كل عبارة مما يأتي (يكتفى بعنصرين لكل عبارة) :

(١) كان لمصطفى كامل دوراً واضحاً ومؤثراً في مواجهة الاحتلال البريطاني خارجياً.

(٢) كان لأبناء الصعيد دوراً وطنياً في مقاومة الحملة الفرنسية.

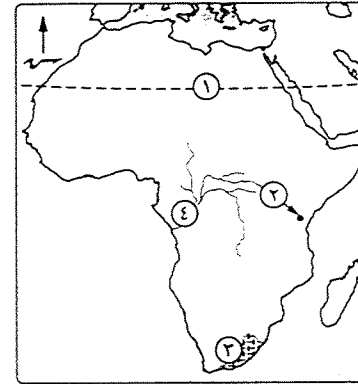
(د) ما رأيك في : إصدار السلطان العثماني منشوراً بعضيان عرابي ؟



مديرية التربية والتعليم

محافظة الدقهلية

أجب عن الأسئلة الآتية: **أولاً الجغرافيا**



(١) أمامك خريطة لقارة أفريقيا،

اكتب مدلولات الأرقام الأربعة الآتية :

(١) دائرة عرض ..... (٢) جبل .....

(٣) إقليم مناخي ..... (٤) نهر .....

(ب) ما المقصود بكل من المصطلحات التالية ... ؟

(١) الدول الجزرية.

(٢) الإقليم المناخي.

(٣) الهجرات غير الشرعية.

(٤) الديموجرافيا.

(ج) «توزيع السكان في العالم نتاج عوامل طبيعية وأخرى بشرية عملت مجتمعة».

في ضوء العبارة وضع العلاقة بين كل مما يأتي :

(١) الهجرة الإجبارية، وانتشار السلالة الزنجية خارج أفريقيا.

(٢) التضاريس، وتوزيع السكان في قارة أستراليا.

(أ) صنف الظواهر التضاريسية التالية حسب نوع كل منها. وهي أي الدول تقع كل منها ؟

(١) المسيسيبي. (٢) طوروس. (٣) الدكن. (٤) كلنشو.

(ب) صوب ما تحته خط في العبارات الآتية :

(١) ينتشر الإسكيمو في صحارى التندرا الباردة شمال سيبيريا.

(٢) إقليم المناخ الاستوائي يتميز بصيف حار ممطر وشتاء جاف.

(٣) جماعة التنجوس تنتمي للسلالة القوقازية.

(٤) تنمو أشجار الصنوبر في إقليم الغابات الاستوائية.



(ج) ماذا يحدث إذا ... ؟ (١) لم تسقط الأمطار على إقليم البحر المتوسط.

(٢) انخفضت الزيادة السكانية في مصر.

**ثانياً التاريخ**

(٢) اكتب كلمة (صواب) أمام العبارة الصحيحة، وكلمة (خطأ) أمام العبارة غير الصحيحة. مع التصويب :

(١) تنافست إنجلترا وفرنسا على المستعمرات خلال القرنين السابع والثامن الميلاديين. ( )

(٢) نصت اللائحة الأساسية (الدستور) عام ١٨٨٢م على حق النواب في مناقشة

الميزانية وإقرارها. ( )

(٣) وجه الخديو إسماعيل حملات حربية إلى الأقاليم الاستوائية لجلب الرقيق. ( )

(٤) أيقظت الحملة الفرنسية عام ١٧٩٨م الروح القومية عند المصريين. ( )

(ب) ما النتائج التي تترتبت على ... ؟

(١) انتقادات الحركة الوطنية للوزارة المختلطة في عهد إسماعيل.

(٢) فرمان السلطان العثماني عام ١٨٠٥م بعزل خورشيد وتولية محمد علي.

(ج) إلى من تنسب الأعمال الآتية ... ؟

(١) أخضع الحجاز لنفوذه وتحالف مع الشيخ ظاهر العمر.

(٢) أنشأ الدواوين لتدريب العلماء والأعيان المصريين على نظام مجالس الشورى.

(٣) أرسلته إنجلترا لإقناع الشعب المصري بقبول الحماية البريطانية على مصر.

(٤) عقد أول قرض مع البنوك البريطانية عام ١٨٦٢م.

(٤) رتب الأحداث التاريخية التالية من القديم إلى الحديث :

\* انتهاء الحرب العالمية الأولى. \* احتلال القوات البريطانية مدينة القاهرة.

\* إنشاء الجامعة المصرية. \* إلغاء الامتيازات الأجنبية.

(ب) «أثبت الجندي المصري على مر التاريخ كفاءة من حيث التدريب والقتال مما يعكس

بالإيجاب على الناحية الاقتصادية». في ضوء العبارة أجب عما يأتي :

(١) اذكر خطوات (محمد علي) لإنشاء قوة عسكرية.

(٢) قارن بين : حادثة قصر النيل يناير ١٨٨١م، وحادثة ٤ فبراير ١٩٤٢م،

من حيث ظروف كل منها.

(٣) بم تفسر : تغيير السياسة الاقتصادية في مصر بعد الاحتلال البريطاني ؟

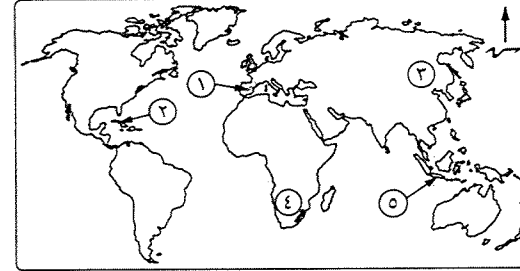
(ج) «اتجه كل من السلطان العثماني (سليم الأول) و (محمد علي) باشا في فتوحاتهم إلى

الشام». فما النتائج التي حققها كل منهما في الشام ؟



أجب عن الأسئلة الآتية : **أولاً الجغرافيا**

(١) لاحظ خريطة العالم التي أمامك، وأجب عن الأسئلة الآتية :



- (١) الرقم (٣) على الخريطة يمثل سهل .....
- (٢) هضبة الميزيتا تحمل على الخريطة الرقم .....
- (٣) جبال دراكنزبرج تحمل على الخريطة الرقم .....
- (٤) أكثر جزر العالم ازدحاماً بالسكان يمثلها الرقم .....

(ب) ما النتائج المترتبة على ... ؟

(١) كثرة التعاريج في سواحل قارة أوروبا. (٢) زيادة السكان في معظم دول آسيا.

(ج) اختر الإجابة الصحيحة مما بين القوسين :

- (١) يقع بحر آرأفورا شمال قارة ..... ( آسيا - أفريقيا - أوروبا - أستراليا )
- (٢) الجبال التي تمتد في شبه جزيرة البلقان تسمى .....
- (٣) ينتمي معظم سكان دول شمال أوروبا إلى المجموعة .....
- (٤) يتساوى عدد المواليد مع عدد الوفيات في قارة .....
- ( آسيا - أفريقيا - أوروبا - أستراليا )

(١) صوب ما تحته خط في العبارات الآتية :

- (١) يصب نهر الدانوب في بحر قزوين.
- (٢) تعرف السافانا في أمريكا الشمالية بحشائش البراري.
- (٣) تنمو الغابات النفضية داخل إقليم مناخ اللورانسى.
- (٤) يتركز السكان في سهول نهري دجلة والفرات في أستراليا.

(ب) قارن بين :

- (١) إقليم المناخ المدارى الحار، وإقليم مناخ التندرا، من حيث :  
\* الموقع. \* الخصائص المناخية.



- (٢) قارة أمريكا الشمالية، وأمريكا الجنوبية، من حيث المناطق التي يقل بها عدد السكان.
- (٣) التركيب العمرى، وقوة العمل.

## ثانياً التاريخ

(٢) حدد أى العبارات التالية (صواب) وأيها (خطأ)، مع تصويب الخطأ منها :

- (١) اتسمت الحياة الفكرية والثقافية بمصر خلال الحكم العثماني بالتقدم والتطور.
- (٢) زاد نفوذ علماء الأزهر والقيادات الشعبية بمصر نتيجة لسياسة محمد على الاقتصادية.
- (٣) ساهم إصدار اللائحة السعيدية فى إصلاح حالة الفلاح بالحق فى توريث الأرض.
- (٤) استمر موقف الخديو عباس حلمى الثانى فى مؤازرة الحركة الوطنية أثناء قيادة محمد فريد لها.

(ب) يم تفسر ... ؟

- (١) اصطحاب نابليون بوناپرت لمجموعة من العلماء أثناء قدومه بالحملة الفرنسية لمصر.
- (٢) قيام ثورة ١٩١٩م ضد سلطات الاحتلال البريطانى.

(ج) ماذا كان يحدث إذا ... ؟

- (١) نجحت حملة فريزر عام ١٨٠٧م فى تحقيق أهدافها.
- (٢) تمكن الزعيم أحمد عرابى من إعاقة الملاحة فى قناة السويس عام ١٨٨٢م.

(٤) ما المقصود بالعبارات التالية ... ؟

- (١) دولة قامت فى مصر والشام والحجاز وانتهت على يد الدولة العثمانية فى يناير ١٥١٧م.
- (٢) معركة وقعت فى أغسطس ١٧٩٨م أغرق فيها الأسطول الإنجليزى أسطول الحملة الفرنسية.
- (٣) محاكم أقامها الخديو إسماعيل عام ١٨٧٥م للفصل فى القضايا المدنية والمنازعات العقارية بين المصريين والأجانب.

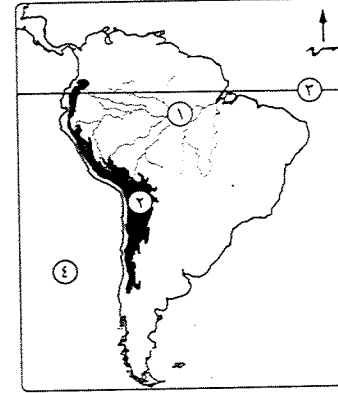
(ب) «على الرغم مما مر بمصر من مؤامرات على مدار تاريخها، فالشعب المصرى شغوف ببلاده

ثابت فى مصريته مدافع عن هويته الوطنية ضد كل المؤامرات». فى ضوء العبارة وضح :

- (١) مظاهر النهضة العلمية فى مصر خلال عهد الخديو إسماعيل.
- (٢) موقف الدول الأوروبية من محاولة محمد على الاستقلال عن الدولة العثمانية.
- (٣) سياسة الخديو توفيق التى أدت إلى زيادة التدخل الأجنبى فى شئون مصر.
- (٤) العلاقة بين : إلغاء مصطفى النحاس لمعاهدة ١٩٣٦م، وحصار بريطانيا لمبنى

محافظة الإسماعيلية فى ٢٥ يناير ١٩٥٢م.

## أجب عن الأسئلة الآتية: أولاً الجغرافيا



(أ) أمامك خريطة لقارة أمريكا الجنوبية، انقلها لكراسة الإجابة واكتب ما تدل عليه الأرقام الآتية :

(١) نهر ..... (٢) جبال .....

(٣) دائرة عرض ..... (٤) المحيط .....

(ب) يم تقصر ... ؟

(١) تتميز السهول الساحلية بقارة أفريقيا بشكل عام بالضيق.

(٢) يقل عدد السكان في فنلندا والنرويج.

(٣) ارتفاع معدلات المواليد في قارة أفريقيا.

(٤) ارتفاع نسبة المتعلمين في مصر إلى نسبة ٦٥ ٪

(ج) ما النتائج المترتبة على ... ؟

(١) اقتراب جبال الحاجز الكبير من ساحل المحيط الهادى بقارة أستراليا.

(٢) زيادة السكان في معظم دول آسيا.

(أ) اختر الإجابة الصحيحة مما بين القوسين :

(١) من الدول ذات الدخل الاقتصادى المرتفع .....

( الكونغو - هايتى - دول الخليج العربى - البرازيل )

(٢) قارة يوجد بها أكبر بحر مغلق فى العالم .....

( أوروبا - آسيا - أفريقيا - أستراليا )

(٣) تقع هضبة ..... فى الشمال الشرقى من قارة أمريكا الشمالية.

( كلورادو - المكسيك - لبرادور - الميزيتا )

(٤) يفصل أستراليا عن جزر إندونيسيا بحر .....

( تيمور - أرافورا - تسمانيا - المرجان )

(ب) قارن بين : إقليم المناخ المدارى الحار، وإقليم مناخ البحر المتوسط، من حيث :

\* الخصائص المناخية. \* الخصائص النباتية.

(ج) فى أى القارات تقع كل ظاهرة من الظواهر الطبيعية الآتية ... ؟

(١) سهل كلنشو. (٢) هضبة التبت. (٣) نهر الدانوب. (٤) جبال الألباش.

## ثانياً التاريخ

(أ) اختر الإجابة الصحيحة مما بين القوسين :

(١) فى العصر العثمانى كان يتم تكليف الفلاحين بزراعة الأرض فيما عرف

بحق ..... ( الالتزام - الانتفاع - الاحتكار - التوريث )

(٢) تحطم الأسطول المصرى فى معركة ..... فى بلاد اليونان عام ١٨٢٧م.

( ديو البحرية - أبوقير البحرية - نقارين - مرج دابق )

(٣) زعيم وطنى قاد الحركة الوطنية فى أواخر القرن ال ١٩م .....

( شريف باشا - مصطفى كامل - محمد فريد - سعد زغلول )

(٤) عُرضت قضية استقلال مصر عام ١٩٤٧م على .....

( مؤتمر الصلح - عصبة الأمم - مجلس الأمن - الجمعية العامة )

(ب) يم تقصر ... ؟

(١) حمل نظام الحكم العثمانى فى مصر عوامل ضعفه.

(٢) \* ازدهار الزراعة فى مصر أثناء عهد محمد على.

(٣) فرض الاحتلال البريطانى على مصر سياسة اقتصادية تخدم مصالحه.

(٤) قيام ثورة ١٩١٩م.

(ج) قارن بين : الحياة النيابية فى عهد إسماعيل، والحياة النيابية فى ظل الاحتلال البريطانى.

(أ) اكتب كلمة (صواب) أمام العبارة الصحيحة، وكلمة (خطأ) أمام العبارة غير الصحيحة، مع التصويب :

(١) أيقظت الحملة الفرنسية الروح القومية عند المصريين. ( )

(٢) نجح السلطان العثمانى فى عزل محمد على عام ١٨٠٦م. ( )

(٣) اهتم سعيد باشا بالجيش والبحرية. ( )

(٤) نُفى سعد زغلول فى المرة الثانية إلى جزيرة مالطة. ( )

(ب) ما النتائج التى ترقبت على ... ؟

(١) هزيمة الجيوش المملوكية أمام العثمانيين فى الريدانية.

(٢) تصريح ٢٨ فبراير ١٩٢٢م.

(ج) إلى من تشير كل عبارة من العبارات الآتية ... ؟

(١) حاكم جنوب الشام الذى تحالف مع على بك الكبير.

(٢) اهتم بإصلاح حال الفلاحين وأعطاهم حق توريث الأرض.

(٣) ضابط مصرى استبسل فى مقاومة الإنجليز واستشهد فى معركة التل الكبير.

(٤) الوزير البريطانى الذى رأس لجنة لإقناع المصريين بقبول الحماية بعد ثورة ١٩١٩م.



## ثانياً التاريخ

٣ (أ) اختر الإجابة الصحيحة مما بين القوسين :

- (١) فشلت حركة علي بك الكبير وعادت مصر ولاية عثمانية تحت حكم .....
- ( مراد بك - إبراهيم بك - محمد بك أبو الذهب - محمد بك الألفي )
- (٢) أثرت سياسة محمد على الاقتصادية على تشكيل وبناء القوى الاجتماعية فى مصر فتضاءل نفوذ .....
- ( عمال الصناعة - طبقة الأعيان - العناصر التركية - علماء الأزهر )
- (٣) فتح باب الترقى أمام الضباط المصريين .....
- ( عباس باشا - سعيد باشا - الخديو إسماعيل - الخديو توفيق )
- (٤) أُعتقل زعماء الثورة العربية والضباط والأعيان الذين أيدوها ما عدا خطيب الثورة .....
- ( محمد عبيد - محمود سامى البارودى - عبدالله النديم - محمد عبده )

(ب) يم تضرر ... ؟

- (١) كان كبير من أنصار جلاء الحملة الفرنسية عن مصر.
- (٢) توجيه الخديو إسماعيل لعدة حملات حربية إلى الأقاليم الاستوائية فى أفريقيا.

(ج) ما رأيك فى الآتى ... ؟

- (١) كانت الحملة الفرنسية سبباً فى احتلال إنجلترا لمصر.
- (٢) حيادية الممرات المائية أمام الملاحة الدولية.

٤ (أ) صوب ما تحته خط فى العبارات الآتية :

- (١) تم تحطيم الأسطول المملوكى عام ١٥٠٩م فى معركة جالديران.
- (٢) اجتمع زعماء الشعب بدار المحكمة فى ١٣ مايو ١٨٠٥م وقرروا عزل الوالى العثمانى سليم الأول.
- (٣) من نتائج ضم السودان فى عهد محمد على إنشاء العاصمة أم درمان.
- (٤) طالب الزعيم مصطفى كامل أن يكون التعليم إلزامياً وبالجان فى المرحلة الابتدائية.
- (ب) «مرت مصر منذ عام ١٩١٤م وحتى قيام ثورة ١٩٥٢م بمراحل من الصدام بين الحركة الوطنية وسلطات الاحتلال البريطانى». فى ضوء هذه العبارة وضح :
- (١) مطالب الوفد المصرى عقب انتهاء الحرب العالمية الأولى من المندوب السامى السير ونجت.
- (٢) لماذا لم يؤد عرض قضية مصر على مؤتمر الصلح إلى نتائج لصالح مصر.
- (٣) المزايا التى تضمنها تصريح ٢٨ فبراير ١٩٢٢م رغم وجود التحفظات الأربعة.

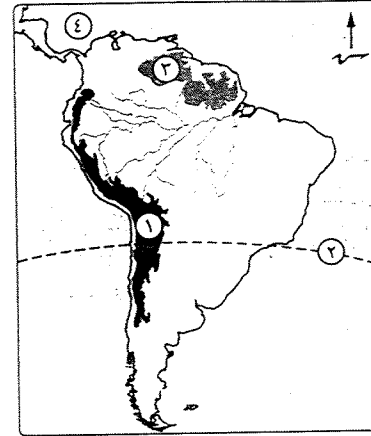


مديرية التربية والتعليم

محافظة بورسعيد

١١

أجب عن الأسئلة الآتية: **أول الجغرافيا**



١ (أ) أمامك خريطة لقارة أمريكا الجنوبية،

اكتب ما تدل عليه الأرقام الآتية :

- (١) جبال ..... (٢) دائرة عرض .....
- (٣) هضبة ..... (٤) البحر .....

(ب) اكتب ما تشير إليه كل عبارة مما يأتى :

- (١) موقع المكان سواء كان قارة أو دولة أو غيرها بالنسبة للأماكن الأخرى من بحار ومحيطات ودول مجاورة.
- (٢) الدول التى تتكون من جزيرة أو أكثر أو قد تكون جزء من جزيرة.

(٣) دراسة عدد ونسبة كل مجموعة من سكان المنطقة وفقاً لفئات عمرية محددة.

(ج) قارن بين : إقليم المناخ الاستوائى، وإقليم المناخ المعتدل البارد (اللورانسى)، من حيث :  
\* الخصائص المناخية. \* القارات التى يوجد بها.

٢ (أ) اكتب كلمة (صواب) أمام العبارة الصحيحة، وكلمة (خطأ) أمام العبارة غير الصحيحة، مع التصويب :

- (١) توجد فى شرق قارة أمريكا الشمالية سلاسل جبال روكى. ( )
- (٢) تعتبر حشائش الإستبس حديقة حيوان طبيعية. ( )
- (٣) تُعد جزيرة جاوة بقارة آسيا أكثر مناطق العالم ازدحاماً بالسكان. ( )
- (٤) تتميز قارة أفريقيا بمعدل مواليد مرتفع. ( )

(ب) دتل على صحة العبارة الآتية :

لا يوجد فى العالم الآن ما يعرف بالسلالة النقية إلا فى المجتمعات البدائية.

(ج) يم تفسر : ارتفاع نسبة المتعلمين فى مصر إلى ٦٥ ٪ ؟

(د) فى أى قارة من قارات العالم يوجد كل نهر مما يأتى ... ؟ وأين يصب ؟

(١) الفرات. (٢) الدانوب.

(ج) أعط مثلاً لكل من :

- (١) المعارك التي انتصر فيها العثمانيون على المماليك في القرن السادس عشر الميلادي.
- (٢) اهتمام محمد علي بالنقل والمواصلات.
- (٣) مظاهر ازدياد التدخل الأجنبي في شؤون مصر المالية في عهد الخديو إسماعيل.

## محافظة دمياط

مديرية التربية والتعليم



### أجب عن الأسئلة الآتية:

(١) اكتب في كراسة الإجابة مدلول الأرقام الموقعة

- على خريطة الأمريكتين التي أمامك :
- (١) البحر .....
  - (٢) هضبة .....
  - (٣) إقليم مناخي .....
  - (٤) غابات .....

(ب) يم تضرر ... ؟

- (١) \* تُعرف هضبة التبت بسقف العالم.
- (٢) تنوع الحياة النباتية في إقليم المناخ الجبلي.
- (٣) ارتفاع معدل الزيادة الطبيعية للسكان في قارة أفريقيا.

(ج) اكتب في كراسة الإجابة ما تشير إليه كل عبارة من العبارات الآتية :

- (١) مضيق يفصل بين قارتي آسيا وأفريقيا.
- (٢) سهول صحراوية رملية تمتد ما بين مصر وليبيا.
- (٣) بحر مغلق يصب فيه نهر الفولجا.
- (٤) عصر في أواخره انتشر الإنسان في قارات العالم.

(د) «شهد رئيس الجمهورية يوم السبت الموافق ٣٠ سبتمبر ٢٠١٧ الاحتفالية بإعلان نتائج

تعداد سكان مصر». في ضوء هذه العبارة أجب عما يأتي :

- (١) \* ما المقصود ب : ديموجرافيا ؟ (٢) في أي المناطق يتركز سكان مصر ؟ ولماذا ؟
- (٣) ما الخصائص الاقتصادية لسكان مصر ؟ وما أثرها على مستوى الدخل ؟

(١) أكمل المقارنة الآتية، ثم انقل الجدول كاملاً في كراسة الإجابة :

المنطقة	القارة	الإقليم المناخي	الجماعة السكانية	السلالة البشرية
حوض الكونغو	أفريقيا	..... (١) .....	الأقزام قصار القامة	..... (٢) .....
سهول سيبيريا	..... (٢) .....	التندرا	..... (٤) .....	الصفراء (المغولية)

(ب) ما النتائج المترتبة على ... ؟

- (١) اقتراب حافات الجبال والهضاب من سواحل قارة أفريقيا.
- (٢) تشابه إقليم المناخ المداري الحار وإقليم المناخ الموسمي.
- (٣) ارتفاع فئة صغار السن في الدول النامية.

(ج) صوب ما فوق الخط. ثم أعد كتابة العبارات صحيحة في كراسة الإجابة :

- (١) تتمثل قارات العالم القديم في آسيا وأفريقيا وأمريكا الجنوبية.
- (٢) يصب نهر مري ودارلنج في الخليج العربي.
- (٣) يتعرض إقليم المناخ الصيني لعواصف الهريكين.
- (٤) ينتمي نصف سكان العالم للسلالة الصفراء.

(د) أمامك رسم بياني يمثل أعداد سكان قارات العالم طبقاً لتقديرات عام ٢٠١٤ م



استعن به للإجابة عما يأتي :

- (١) ما أكبر قارات العالم سكاناً، وما المشكلات المترتبة على ذلك ؟
- (٢) ما القارة غير المأهولة بالسكان، وما أسباب ذلك ؟
- (٣) ما ترتيب قارة أمريكا الجنوبية، وما أكبر دولها سكاناً ؟

### التاريخ

(١) اختر الإجابة الصحيحة مما بين القوسين، وأكمل بها العبارات الآتية ثم انقلها في كراسة إجابتك :

- (١) اتجه السلطان سليم الأول في غزواته مع بداية القرن السادس عشر نحو ..... ( الشمال - الجنوب - الشرق - الغرب )
- (٢) حرم محمد علي المماليك من تولى المناصب الرفيعة في الدولة مثل منصب ..... ( الوالي - شيخ البلد - نقيب الأشراف - قائد الحامية )
- (٣) أغلقت معظم المدارس والمصانع وعطلت أعمال الترسانة البحرية التي أنشأها محمد علي في عهد .....

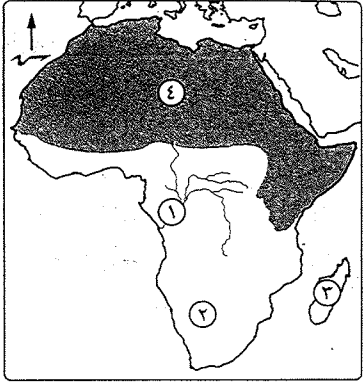
( توفيق - الخديو إسماعيل - عباس حلمي الثاني - عباس الأول )

(٤) حصل حزب ..... على الأغلبية في الانتخابات العامة التي أجريت وفقاً

لدستور عام ١٩٢٣ م. ( الوفد - الأحرار - الوطني - الأمة )



## أجب عن الأسئلة الآتية: أولاً الجغرافيا



١ (أ) أمامك خريطة لقارة أفريقيا.

اكتب مدلول الأرقام التالية :

(١) نهر ..... (٢) صحراء .....

(٣) جزيرة ..... (٤) سلالة بشرية .....

(ب) صوب ما تحته خط في العبارات الآتية :

(١) تعرضت السلالة المغولية للهجرات

الإجبارية إلى الأمريكتين في الماضي.

(٢) يتمثل إقليم المناخ الاستوائي في أفريقيا

في حوض الأمازون.

(٣) تمتد جبال طوروس في العراق وإيران.

(٤) تعتبر آسيا أعلى قارة في نصيب الفرد من الدخل القومي.

(ج) «تنوع الأقاليم المناخية في العالم كما يختلف المناخ في داخل القارة الواحدة من

منطقة لأخرى». في ضوء هذه العبارة اذكر :

(١) أوجه التشابه المناخي والنباتي بين الإقليم المداري، والإقليم الموسمي.

(٢) أوجه الاختلاف المناخي والنباتي بين الإقليم الاستوائي، وإقليم التندرا.

٢ (أ) اختر الإجابة الصحيحة مما بين القوسين :

(١) من أهم الجزر الأسترالية جزيرة ..... (تسمانيا - قبرص - كريت - سومطرة)

(٢) أطول أنهار أوروبا ويصب في بحر قزوين .....

(الراين - الفولجا - الدانوب - السين)

(٣) توجد هضبة التبت في قارة ..... (أفريقيا - أوروبا - آسيا - أمريكا الشمالية)

(٤) دول الخليج العربي ذات دخل اقتصادي .....

(منخفض - أقل من المتوسط - متوسط - مرتفع)

(٥) من الدول ذات الرعاية الطبية المرتفعة ..... (مصر - روسيا - إثيوبيا - نيبال)

(ب) اكتب اسم الظاهرة الجغرافية المختلفة في كل مجموعة مما يأتي :

(١) الحاجز الكبير - النيل - الألب - دراكنزبرج.

(٢) الإسكيمو - الهنود الحمر - الإستبس - التنجوس.

(٣) الهيمالايا - جيانا - بتاجونيا - الدكن.

(ب) بم تفسر ... ؟

(١) اصطحاب نابليون مجموعة من العلماء في حملته على مصر.

(٢) يعتبر عهد سعيد باشا بداية التدخل الأجنبي في شئون مصر.

(٣) استقالة وزارة شريف باشا عام ١٨٨٢م.

(ج) لمن تنسب الأعمال الآتية ... ؟

(١) تزعم ثورة القاهرة الثانية ضد الحملة الفرنسية في عام ١٨٠٠م.

(٢) وجه عدة حملات حربية إلى الأقاليم الاستوائية في أفريقيا لمنع تجارة الرقيق.

(٣) دعا إلى رفض اتفاقية الحكم الثنائي في السودان عام ١٨٩٩م.

(٤) تولى رئاسة الحكومة المصرية بعد حادث ٤ فبراير ١٩٤٢م.

(د) ما رأيك في المواقف الآتية مدتللاً عليه ... ؟

(١) إرسال أمهر الصناع المصريين إلى الأستانة أثناء الحكم العثماني.

(٢) حفل افتتاح قناة السويس عام ١٨٦٩م.

(٣) إصدار السلطان العثماني إعلاناً بعضيان عرابي.

٣ (أ) اكتب كلمة (صواب) أمام العبارة الصحيحة. وكلمة (خطأ) أمام العبارة غير

الصحيحة بعد نقلها في كراسة الإجابة :

(١) تجنب السلطان سليم الأول الصدام مع الدول الأوروبية. ( )

(٢) انتهت معركة نقارين عام ١٨٢٧م بانتصار الجيش والأسطول المصري. ( )

(٣) من مظاهر النهضة الثقافية في عهد إسماعيل إنشاء الجمعية الجغرافية. ( )

(٤) وضع الخديو توفيق نفسه تحت حماية إنجلترا وفرنسا بإسناد الوزارة

إلى رياض باشا. ( )

(ب) ما النتائج التي ترتبت على ... ؟

(١) الحملة الإنجليزية على مصر عام ١٨٠٧م. (٢) إنشاء المحاكم المختلطة.

(٣) إلغاء دستور ١٩٢٣م وصدر دستور ١٩٣٠م.

(ج) رتب الأحداث التاريخية الآتية من القديم إلى الحديث :

\* معركة كفر الدوار. \* إلغاء الحماية البريطانية على مصر.

\* عزل الخديو إسماعيل. \* حملة نابليون على الشام.

(د) «أدرك محمد علي أن نهضة مصر لن تتحقق إلا من خلال بناء دولة قوية».

في ضوء هذه العبارة أجب عما يأتي :

(١) ما مظاهر اهتمام محمد علي بالزراعة ؟ (٢) ما نتائج ضم محمد علي للسودان ؟

(٣) ما وجه الشبه بين : تولية الشعب لمحمد علي، وثورة الشعب المصري عام ١٩١٩م ؟

(ج) ماذا يحدث إذا ... ؟

(١) لم يزداد سكان مصر خلال العشر سنوات القادمة.

(٢) اهتمت أفريقيا بتعليم الإناث.

## ثانياً التاريخ

(١) أكمل العبارات التالية بالكلمات المناسبة :

(١) انتهت دولة المماليك في مصر بعد معركة الريدانية ١٥١٧م وأصبحت ولاية .....

(٢) ارتكب نابليون بوناپرت جريمة بشعة في الشام سميت بمذبحة .....

(٣) تحطم الأسطول المصرى على يد الأوروبين عام ١٨٢٧م فى معركة .....

(٤) يعتبر عام ١٨٦٦م بداية تاريخ المؤسسات النيابية الحديثة فى مصر بتأسيس .....

(ب) رتب الأحداث التاريخية الآتية من القديم إلى الحديث :

\* حادثة دنشواى. \* موقعة أبى قير البحرية.

\* لجنة ملنر. \* تعيين محمد على والياً على مصر.

(ج) ما النتائج التى ترتبت على : معاهدة ١٩٣٦م بالنسبة لمصر ؟

(د) ما رأيك فى ... ؟

(١) دور الجيش المصرى فى عهد محمد على.

(٢) دستور ١٩ أبريل ١٩٢٣م.

(١) اكتب اسم الشخصية التى تتحدث عن نفسها :

(١) نقيب الأشراف وتزعمت ثورة القاهرة الثانية فى مارس ١٨٠٠م.

(٢) توليت رئاسة وزارة الثورة فبراير ١٨٨٢م وكان فيها عرابى وزير الجهادية والبحرية.

(٣) زادت الأزمة المالية فى عهدى وأقامت العديد من حفلات افتتاح القناة فى نوفمبر ١٨٦٩م.

(٤) أعلنت المبادئ الأربعة عشر ومنها حق الشعوب فى تقرير مصيرها.

(ب) يم تفسر ... ؟

(١) منح الدولة العثمانية الامتيازات الأجنبية.

(٢) قيام ثورة ١٩١٩م.

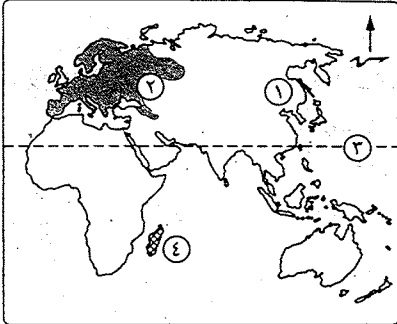
(ج) «يعتبر مصطفى كامل باعث الحركة الوطنية فى مصر». فى ضوء هذه العبارة :

اذكر أهم تحركات مصطفى كامل الداخلية والخارجية.

## ١٤ محافظة بنى سويف

مديرية التربية والتعليم

## أجب عن الأسئلة الآتية: أولاً الجغرافيا



(١) أمامك خريطة للجزء الشرقى من العالم، اكتب

فى كراسة إجابتك مدلول الأرقام الموضحة عليها :

(١) سهل .....

(٢) السلالة .....

(٣) دائرة عرض .....

(٤) إقليم مناخى .....

(ب) ما المقصود بكل من ... ؟

(١) الهجرات غير الشرعية.

(٢) التركيب العمرى.

(ج) فى أى القارات توجد الأنهار الآتية ... ؟ وأين تصب ؟

(١) نهر دجلة والفرات. (٢) الفولجا. (٣) بارانا.

(د) دتل جغرافياً على صحة كل عبارة من العبارات الآتية :

(١) توجد سلاسل نقية فى المجتمعات البدائية فى أفريقيا.

(٢) أهمية السهل الأوروبى العظيم.

(٣) يطلق على سلاسل جبال الألب بقارة أوروبا مسميات مختلفة من دولة لأخرى.

(١) «تؤثر الأنشطة الاقتصادية التى يمارسها السكان فى توزيعهم من منطقة لأخرى».

فى ضوء هذه العبارة أجب عما يأتى :

(١) أين يتركز السكان فى قارة أستراليا ؟

(٢) ما أهم الصفات الجسمانية التى تتميز بها السلالة الزنجية ؟

(ب) اكتب كلمة (صواب) أمام العبارة الصحيحة، وكلمة (خطأ) أمام العبارة غير الصحيحة،

مع التصويب :

(١) تزدهم منطقة البحيرات العظمى فى الولايات المتحدة الأمريكية بالسكان. ( )

(٢) تعتبر سهول حوض نهر النيل أوسع سهول فيضية فى العالم. ( )

(٣) يحد قارة أمريكا الجنوبية من الشمال المحيط الهادى. ( )

(٤) الأردن من الدول ذات الرعاية الطبية الفائقة. ( )

(ج) قارن بين : إقليم البحر المتوسط، والإقليم الصيني، من حيث :  
\* الخصائص المناخية. \* الخصائص النباتية.

(د) ما النتائج المترتبة على : ارتفاع نسبة فئة صغار السن فى الدول النامية ؟  
(هـ) إلى أى مستويات الدخل تنتمى ... ؟ (١) دول الخليج العربى. (٢) دولة الكونغو.

## التاريخ

(١) اختر الإجابة الصحيحة مما بين القوسين :

(١) جعل مدة الخدمة العسكرية سنة واحدة إجبارية للجميع .....

(محمد على - عباس الأول - سعيد باشا - الخديو توفيق)

(٢) اتبع أهالى ..... حرب المناوشات والمعارك المتفرقة والتي أنهكت قوة الفرنسيين.

(الإسكندرية - الدلتا - القاهرة - الصعيد)

(٣) صمد بقواته أمام القوات البريطانية إلى أن استشهد هو ومعظم رجاله فى معركة

التل الكبير .....

(سليمان الحلبي - محمد عبيد - البارودى - أحمد باشا الجزائر)

(٤) نجح فى التصدى لمحاولة مد امتياز قناة السويس أربعين عاماً أخرى .....

(محمد فريد - مصطفى كامل - سعد زغلول - مصطفى النحاس)

(ب) ما النتائج التى ترتبت على ... ؟

(١) جمود وتخلف الحياة الفكرية والثقافية فى مصر خلال الحكم العثمانى.

(٢) سياسة محمد على الاقتصادية فى تشكيل وبناء القوى الاجتماعية فى مصر.

(ج) ما المقصود بـ : لجنة ملنز ؟

(د) ما العلاقة بين : الحملة الفرنسية، وتاريخ مصر القديم ؟

(١) لمن تنسب الأعمال التالية ... ؟

(١) ارتكب جريمة بشعة سميت باسم مذبحه يافا البشرية عام ١٧٩٩م.

(٢) أعاد افتتاح ديوان المدارس وتوسع فى إنشاء المدارس المختلفة.

(٣) أنشأ المطبعة الأميرية فى بولاق.

(٤) أعلن إلغاء معاهدة ١٩٣٦م فى أكتوبر ١٩٥١م.

(ب) بيم تقصر ... ؟

(١) توتر العلاقات بين محمد على والسلطان العثمانى.

(٢) الخلافات بين حكومة مصر وإنجلترا عقب اندلاع الحرب العالمية الثانية سبتمبر ١٩٣٩م.



(ج) قارن بين : المذكرة المشتركة الأولى يناير ١٨٨٢م ، والمذكرة المشتركة الثانية مايو ١٨٨٢م، من حيث مطالب بريطانيا وفرنسا.

(د) فى رأيك : ما عيوب دستور ١٩٢٣م ؟

(هـ) ماذا كان يحدث إذا :

انتهى الصدام بين الدولتين الصفوية والعثمانية بهزيمة السلطان سليم الأول ؟

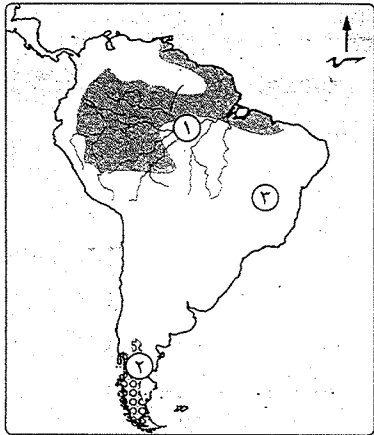


مديرية التربية والتعليم

## محافظة المنيا

١٥

### أجب عن الأسئلة الآتية: أولاً الجغرافيا



(١) أمامك خريطة لقارة من قارات العالم :

(١) أجب عما يأتى :

(١) ما اسم القارة ؟

(٢) إلى أى من قارات العالم تنتمى ؟

(٢) اكتب مدلول الأرقام التى على الخريطة :

(١) نهر .....

(٢) إقليم مناخى .....

(٣) سلاله .....

(ب) اكتب المصطلح الجغرافى الدال عليه كل عبارة مما يأتى :

(١) \* علم دراسة السكان من حيث النمو والتوزيع والتركيب السكانى.

(٢) عدد الأفراد الذين فى سن العمل والقادرين على العمل والذين يعملون فعلاً.

(ج) فى أى قارة من قارات العالم توجد الأتهار الآتية ... ؟ وأين تصب ؟

(١) نهر السند. (٢) نهر الراين. (٣) نهر مري ودارلنج.

(١) اختر الإجابة الصحيحة مما بين القوسين :

(١) أكبر بحر مغلق فى العالم .....

( البحر الميت - بحر آرأفورا - بحر قزوين - البحر المتوسط )

(٢) توجد أعلى قمة جبلية فى العالم وهى قمة إفرست فى قارة .....

( أوروبا - آسيا - أفريقيا - أمريكا الجنوبية )



- (٣) ماذا كان يحدث : إذا لم يتم تحطيم الأسطول الفرنسي في موقعة أبي قير البحرية ١٧٩٨م ؟  
 (٤) لماذا لم ترضخ بريطانيا بسهولة بعد تولية محمد على الحكم ؟  
 (ب) اكتب كلمة (صواب) أمام العبارة الصحيحة، وكلمة (خطأ) أمام العبارة غير الصحيحة :  
 (١) حمل نظام الحكم العثماني في ثنياه عوامل قوته. ( )  
 (٢) شهدت مصر حالة من الاستقرار السياسي عقب خروج الحملة الفرنسية. ( )  
 (٣) أثرت سياسة محمد على الاقتصادية في تشكيل البناء الاجتماعي. ( )  
 (ج) ما النتائج التي ترقبت على ... ؟  
 (١) العزلة التي فرضها العثمانيون على مصر من الناحية الفكرية والثقافية.  
 (٢) حروب (محمد على) في بلاد اليونان من ١٨٢١م حتى ١٨٢٨م.  
 (٣) قيام الحركة الوطنية في مصر بتوجيه الانتقادات للوزارة المختلة.

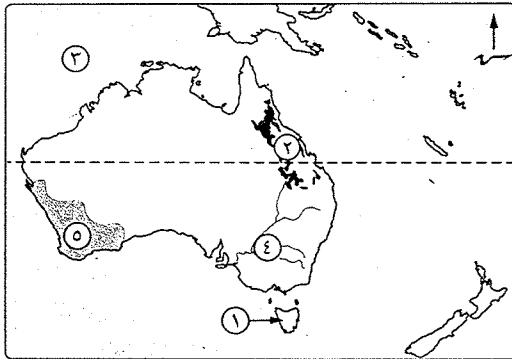


مديرية التربية والتعليم

محافظة أسيوط

١٦

## أجب عن الأسئلة الآتية: أولاً الجغرافيا



- (١) أمامك خريطة نقارة أستراليا،  
 اكتب مدلول الأرقام الموضحة عليها:  
 (١) جزيرة .....  
 (٢) جبال .....  
 (٣) المحيط .....  
 (٤) نهرا .....  
 (٥) سلالة بشرية .....  
 (ب) اذكر سبباً واحداً لكل مما يأتي :

- (١) كثرة الموانئ الطبيعية على سواحل قارة أوروبا.  
 (٢) تنوع الحياة النباتية في إقليم المناخ الجبلي.  
 (٣) لا يتكون شعب الولايات المتحدة الأمريكية من سلالة بشرية واحدة.  
 (٤) قلة عدد السكان في المناطق الاستوائية بقارة أفريقيا.  
 (٥) ارتفاع نسبة الأمية في الإناث في الدول النامية.

- (٣) البرازيل دولة ذات دخل اقتصادي .....  
 (أقل من المتوسط - متوسط - متوسط - فوق المتوسط - مرتفع)  
 (٤) السلالة البشرية ذات البشرة الداكنة والأنف العريض والشعر الأجدع والشفاه الغليظة هي ..... (المغولية - القوقازية - البحر المتوسط - الزوج)  
 (ب) بم تفسر ... ؟  
 (١) تدرج حشائش الساقانا في الطول. (٢) ارتفاع معدل المواليد في قارة أفريقيا.  
 (٣) تركيز السكان في البحيرات العظمى.  
 (٤) قلة السكان في الجزء الشمالي من القارة الأوقيانوسية.  
 (ج) ما المشكلات المترتبة على : زيادة السكان في معظم دول آسيا ؟

## التاريخ

- (١) أكمل العبارات الآتية بكلمات مناسبة مما بين القوسين :  
 (رياض - الصعيد - مصطفى كامل - إسماعيل - الشرقية)  
 (١) فر مراد بك بعد هزيمته في معركة إمبابية إلى .....  
 (٢) طالب أحمد عرابي من الخديو توفيق في مظاهرة عابدين إسقاط حكومة ..... باشا.  
 (٣) دعا ..... إلى رفض اتفاقية الحكم الثنائي الخاصة بالسودان عام ١٨٩٩م.  
 (٤) أنشئت دار الأوبرا المصرية في عهد .....  
 (ب) صوب ما تحته خط في العبارات الآتية :  
 (١) بادر السلطان العثماني سليم الأول بالاستيلاء على إمارة عكا المملوكية فحدثت معركة مرج دابق ١٥١٦م.  
 (٢) قام الاحتلال البريطاني بإلغاء مجلس شورى القوانين المنتخب ١٨٨١م وإنشاء مجالس صورية لا سلطة لها.  
 (٣) وزارة عدلي يكن شكلت لجنة من ثلاثين عضواً لإعداد الدستور الذي عرف بدستور ١٩٢٣م.  
 (ج) ما المقصود بالمصطلحات الآتية ... ؟  
 (١) الاحتلال. (٢) الاتفاق الودي. (٣) الحماية البريطانية.

## (١) «علمنا التاريخ أن الاستعمار دائماً لا يقيم وزناً إلا لمصالحه أولاً».

- في ضوء العبارة وضع :  
 (١) السياسة الزراعية التي اتبعها (محمد على) والتي تهدف إلى توفير أكبر قدر من الدخل في الإنتاج الزراعي.  
 (٢) لم يكن حكام مصر من أسرة (محمد على) على شاكلته من حيث القوى والوعي.



(أ) اكتب كلمة (صواب) أمام العبارة الصحيحة. وكلمة (خطأ) أمام العبارة غير الصحيحة :

- (١) تُعد هضبة المكسيك من أعلى هضاب العالم وتعرف بسقف العالم. ( )  
 (٢) يتميز إقليم المناخ الاستوائي بغزارة أمطاره صيفاً بينما يسوده الجفاف شتاءً. ( )  
 (٣) تُعد البرازيل أكبر دول قارة أمريكا الجنوبية سكاناً. ( )  
 (٤) التركيب العمرى هو نتاج الفرق بين معدلات المواليد والوفيات. ( )  
 (٥) تعتبر دول الخليج العربى من الدول ذات الدخل الاقتصادى المرتفع. ( )

(ب) ما المقصود بالمصطلح الآتى : الهجرات غير الشرعية ؟

(ج) اذكر نتيجة واحدة مترتبة على : ارتفاع نسبة صغار السن فى الدول النامية.

(د) قارن بين : إقليم المناخ المدارى الحار (السودانى)، وإقليم مناخ غرب أوروبا، من حيث الخصائص المناخية.

(هـ) فى أى قارة من القارات توجد كل ظاهرة تضاريسية مما يأتى ... ؟

(١) جبال الإنديز. (٢) صحراء كلهارى.

### ثانياً التاريخ

(أ) اختر الإجابة الصحيحة مما بين القوسين :

- (١) تمكن السلطان سليم الأول من هزيمة الصفويين فى موقعة ..... عام ١٥١٤م.  
 ( الريدانية - مرج دابق - جالديران - ديو البحرية )  
 (٢) تزعم ثورة القاهرة الثانية عام ١٨٠٠م ضد الفرنسيين الزعيم السيد .....  
 ( محمد كريم - محمد بك الألفى - عمر مكرم - مراد بك )  
 (٣) نظم محمد على الاقتصاد المصرى على أساس نظام .....  
 ( الالتزام - الاحتكار - الإقطاع - حرية التجارة )  
 (٤) تم إلغاء الامتيازات الأجنبية وفقاً لمؤتمر ..... عام ١٩٣٧م.  
 ( مونترى - الصلح - برلين - سان ريمو )

(ب) ائلى من تنسب الأعمال الآتية ... ؟

- (١) قائد المماليك فى حريهم ضد الدولة العثمانية فى معركة مرج دابق عام ١٥١٦م.  
 (٢) أنشأ دار الكتب ودار الرصد بالعباسية والجمعية الجغرافية عام ١٨٧٥م.  
 (٣) أعلن إلغاء معاهدة ١٩٣٦م وأطلق الحرية للشعب للنضال المسلح.  
 (٤) أعدم بالرصاص فى سبتمبر ١٧٩٨م لتصديه للحملة الفرنسية فى الإسكندرية.

(ج) اذكر نتيجة واحدة ترتبت على :

- (١) ضم محمد على السودان إلى مصر.  
 (٢) موقعة أبى قير البحرية فى أغسطس ١٧٩٨م.

(١) صوب ما تحته خط فى كل عبارة من العبارات الآتية :

(١) أراد محمد على التخلص من الزعامة الشعبية للانفراد بالحكم فدير لهم مذبحة القلعة عام ١٨١١م.

(٢) عُقد أول قرض لمصر مع أحد البنوك البريطانية عام ١٨٦٢م فى عهد إبراهيم باشا.

(٣) أنشأ محمد على المطبعة الأميرية فى مدينة الإسكندرية لطبع الكتب اللازمة للمدارس.

(٤) أعلن الرئيس الأمريكى بوش المبادئ الأربعة عشر ومنها حق الشعوب فى تقرير مصيرها.

(٥) أسس الزعيم مصطفى كامل جريدة الأهرام عام ١٩٠٠م.

(ب) «مر تاريخ مصر الحديث بالكثير من الأحداث التاريخية والتي أثرت على مصر

والمصريين فى كافة الجوانب». فى ضوء العبارة أجب عن الأسئلة الآتية :

(١) انكر سيبيا واحداً ل : توقف حركة النهضة التى بدأها «محمد على» فى عهد عباس الأول.

(٢) ماذا كان يحدث إذا : لم تتحول تجارة الشرق إلى طريق رأس الرجاء الصالح ؟

(٣) ما أهم المطالب التى تقدم بها أحمد عرابى للخديو توفيق فى مظاهرة عابدين

٩ سبتمبر ١٨٨١م ؟

(٤) ما رأيك فى : موقف السلطان العثمانى من أحمد عرابى ؟



مديرة التربية والتعليم

محافظة سوهاج

١٧

أجب عن الأسئلة الآتية: أولاً الجغرافيا

(١) أمامك خريطة لقارة أمريكا الشمالية،

وضح مدلول الأرقام الموقعة عليها :

- (١) المحيط ..... (٢) مدار .....  
 (٣) مدينة ..... (٤) جبال .....

(ب) عرف ما يأتى :

(١) \* السلالة البشرية.

(٢) الإقليم المناخى.

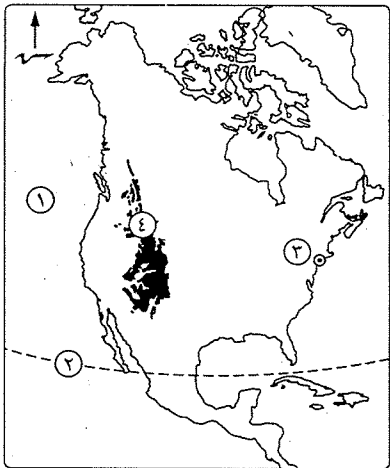
(ج) ائلى أى من الأقسام التضاريسية تنتمى

كل ظاهرة جغرافية مما يأتى ... ؟

وفى أى الدول تقع ؟

(١) طوروس. (٢) بحر الرمال العظيم.

(د) وضح العلاقة بين : الإقليم المدارى، والإقليم الموسمى.



٢ (أ) اختر الإجابة الصحيحة مما بين القوسين :

- (١) من الدول ذات الدخل الاقتصادي المرتفع .....
- (٢) تنمو أشجار الماهوجنى والمطاط فى إقليم المناخ .....
- (٣) ينتمى العرب إلى .....
- (٤) السلالة القوقازية - السلالة المغولية - السلالة الزنجية - سلالة الإسكيمو
- (٤) أوسع سهول فيضية فى العالم سهول حوض نهر .....
- ( النيل - الفولجا - الأمازون - الجانج )

(ب) ما النتائج المترتبة على ... ؟

- (١) زيادة السكان فى معظم دول قارة آسيا .
- (٢) ارتفاع نسبة فئة صغار السن فى مصر .

(ج) انقل الجدول التالى إلى كراسة إجابتك، ثم أكمل الفراغات الآتية :

وجه المقارنة	غرب القارات		شرق القارات	
	الإقليم المناخى	موسم سقوط المطر	الإقليم المناخى	موسم سقوط المطر
بين دائرتى عرض $30^{\circ}$ : $45^{\circ}$ شمال وجنوب دائرة الاستواء	البحر المتوسط	..... (١) .....	..... (٢) .....	الأمطار طول العام مع زيادتها صيفاً
بين دائرتى عرض $45^{\circ}$ : $60^{\circ}$ شمال وجنوب دائرة الاستواء	..... (٣) .....	أمطار دائمة طول العام خاصة فى فصلى الشتاء والخريف	..... (٤) .....	الأمطار طول العام خاصة صيفاً

### ثانياً التاريخ

٢ (أ) لمن تنسب الأعمال فى كل عبارة من العبارات الآتية ... ؟

- (١) هزم الصفويين فى موقعة جالديران ١٥١٤م .
- (٢) طالب أن يكون التعليم إلزامياً فى المرحلة الابتدائية وبالجمان .
- (٣) سافر إلى فرنسا سرّاً أثناء معركة أبى قير البرية يوليو ١٧٩٩م .
- (٤) وزير خارجية بريطانيا الذى تفاوض مع عدلى يكن عام ١٩٢١م .

(ب) يم تفسر ... ؟

- (١) الخلاف بين حكومة مصر والإنجليز بعد اندلاع الحرب العالمية الثانية ١٩٣٩م .
- (٢) تدهور التجارة الخارجية زمن الحكم العثمانى لمصر .

(ج) ما النتائج التى ترتبت على ... ؟

- (١) دستور ١٩ أبريل ١٩٢٣م . (٢) ضم محمد على للسودان (١٨٢٠ - ١٨٢٢م) .

٤ (أ) أعد كتابة العبارات الآتية، بعد تصويب ما تحته خط :

- (١) وضع إسماعيل أول دستور لمصر عام ١٨٧٨م عُرف باللائحة الوطنية .
- (٢) قاد الزعيم أحمد عرابى الحركة الوطنية أواخر القرن التاسع عشر .
- (٣) تحالف على بك الكبير مع محمد بك أبو الذهب حاكم جنوب الشام ضد السلطان العثمانى .
- (٤) تحطم الأسطول المصرى فى موقعة ديو البحرية عام ١٨٢٧م .
- (ب) أعط مفهوماً تاريخياً لكل مصطلح مما يأتى :
- (١) نظام الاحتكار . (٢) الامتيازات الأجنبية .
- (ج) قارن بين : ثورة القاهرة الأولى أكتوبر ١٧٩٨م، ومظاهرة ٩ سبتمبر ١٨٨١م، من حيث :
- \* مركز اندلاع كل ثورة . \* النتائج المترتبة على كل منهما .
- (د) ما رأيك فى : نظام الالتزام الذى طبقته الدولة العثمانية على المصريين فى منتصف القرن السابع عشر ؟

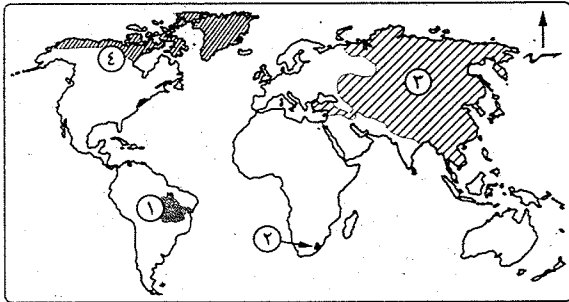


مديرية التربية والتعليم

محافظة قنا

### أجب عن الأسئلة الآتية:

#### أول الجغرافيا



٢ (أ) أمامك خريطة للعالم، اكتب

مدلول الأرقام الموقعة عليها :

- (١) هضبة .....
- (٢) جبال .....
- (٣) السلالة .....
- (٤) إقليم مناخى .....

(ب) يم تفسر ... ؟

(١) ارتفاع نسبة المتعلمين فى مصر .

(٢) تركيز سكان الولايات المتحدة الأمريكية فى الساحل الشمالى الشرقى .

(٣) ضيق السهول الساحلية لقارة أفريقيا بصفة عامة .

(ج) فى أى قارة من القارات توجد الظواهر الجغرافية الآتية ... ؟

- (١) بحر قزوين . (٢) جزيرة تسمانيا . (٣) سهول نهر لابلاتا .

(أ) قارن بين كل مما يأتي :

- (١) السلالة الزنوجية، والسلالة القوقازية، من حيث المميزات الجسمانية لكل منهما.  
(٢) إقليم المناخ المدارى الحار، وإقليم مناخ البحر المتوسط، من حيث الخصائص المناخية.

(ب) اختر الإجابة الصحيحة مما بين القوسين :

- (١) يتساوى عدد المواليد مع عدد الوفيات فى قارة .....  
(أستراليا - آسيا - أوروبا - أفريقيا)  
(٢) من الدول ذات المستوى الاقتصادى الأقل من المتوسط دولة .....

- (تركيا - المكسيك - جنوب أفريقيا - البرازيل)  
(٣) يتركز سكان أستراليا على السواحل ..... حيث المدن الكبرى مثل سيدنى.  
(الشرقية - الغربية - الشمالية - الجنوبية)

(ج) صحح ما تحته خط فى العبارات الآتية :

- (١) يوجد نهر الجانج فى دولة الصين.  
(٢) تنمو الغابات النفضية فى إقليم المناخ الموسمى.  
(٣) يحد قارة أمريكا الشمالية من جهة الغرب المحيط الأطلنطى.

## التاريخ

(أ) «لقد كافح المصريون من أجل الاستقلال والتخلص من الاحتلال البريطانى».

فى ضوء العبارة وضح :

- (١) الكفاح الوطنى للزعيم مصطفى كامل فى داخل مصر.  
(٢) موقف محمد فريد من مشروع مد امتياز قناة السويس أربعين سنة أخرى.  
(٣) أسباب معارضة الشعب المصرى للدستور الجديد الذى وضعته وزارة إسماعيل صدقى.  
(٤) المطالب التى قدمها الوفد المصرى إلى السير ونجت عقب انتهاء الحرب العالمية الأولى.

(ب) اكتب كلمة (صواب) أمام العبارة الصحيحة، وكلمة (خطأ) أمام العبارة غير الصحيحة، مع التصويب :

- (١) ألقى عباس باشا الأول ديوان المدارس.  
(٢) تخلص محمد على من الزعامة الشعبية عندما نفى السيد محمد كريم إلى دمياط.  
(٣) بعد فشل حركة على بك الكبير عادت مصر ولاية عثمانية تحت حكم شيخ البلد محمد بك أبو الذهب.  
(٤) كانت الوزارة المختلطة فى عهد إسماعيل برئاسة رياض باشا.

(ج) أيد تاريخياً صحة كل عبارة مما يأتي :

- (١) أثرت سياسة محمد على الاقتصادية فى تشكيل وبناء القوى الاجتماعية فى مصر.  
(٢) لقد شهدت مصر فى عهد إسماعيل نهضة عمرانية كبرى.

(أ) أكمل ما يأتي بوضع كلمات مناسبة مكان النقط :

- (١) انتصر السلطان سليم الأول على ..... فى معركة جالديران.  
(٢) قدم ..... استقالته من رئاسة الوزارة بعد المذكرة المشتركة الأولى التى أرسلتها إنجلترا وفرنسا.  
(٣) أنشأ محمد على مدرسة عسكرية فى مدينة ..... لإعداد الضباط.  
(٤) أثناء معركة ..... ترك نابليون قيادة الحملة الفرنسية لنائبه كبير وسافر سراً إلى فرنسا.

(ب) ما المقصود بكل مما يأتي ... ؟ (١) الحماية البريطانية. (٢) فرمان.

(ج) رتب الأحداث الآتية من الأقدم إلى الأحدث :

- \* حملة فريرز على مصر. \* معركة مرج دابق.  
\* فشل الثورة العرابية. \* ثورة القاهرة الأولى ضد الفرنسيين.



مديرية التربية والتعليم

محافظة الأقصر

١٩

## أجب عن الأسئلة الآتية:

(أ) أمامك خريطة لقارة أفريقيا. اكتب فى كراسة الإجابة ما تشير إليه الأرقام الموقعة عليها :

- (١) مدار ..... (٢) إقليم مناخى .....  
(٣) المحيط ..... (٤) جيبال .....

(ب) بم تفسر ... ؟

- (١) انتشار الموانئ الساحلية فى قارة أوروبا.  
(٢) تركيز السكان فى الساحل الشمالى الشرقى من الولايات المتحدة الأمريكية.

(ج) قارن بين : إقليم مناخ البحر المتوسط، وإقليم المناخ الصينى، من حيث :

\* الخصائص المناخية. \* الخصائص النباتية.

(أ) اختر الإجابة الصحيحة من بين القوسين :

- (١) أوسع السهول الفيضية فى العالم تتمثل فى سهول حوض نهر .....  
(الأورينوكو - النيل - الأمازون - بارانا)  
(٢) تشغل هضبة ..... معظم دولة إسبانيا. (تبستى - كلورادو - الميزيتا - جيانا)

(٣) تنتمي أشجار جوز الهند إلى الغابات .....

(المدارية - المخروطية - الموسمية - النفضية)

(٤) تعتبر دولة ..... من الدول ذات الرعاية الطبية المرتفعة.

(النيجر - نيبال - مصر - روسيا)

(ب) ماذا يقصد بكل من ... ؟ (١) الدول الجزرية. (٢) الزيادة الطبيعية.

(ج) «تختلف الخصائص الاقتصادية لسكان العالم وفقاً لتنوع النشاط الاقتصادي».

في ضوء هذه العبارة أجب عما يلي :

(١) إلى أى مستويات الدخل ينتمى كل من ... ؟

(١) دول الخليج العربى. (٢) دولة الكونغو.

(٢) وضع العلاقة بين : توزيع السكان، وارتفاع السطح بالدول المدارية.

### ثانياً التاريخ

(١) صوب ما تحته خط فى العبارات الآتية، وأعد كتابة العبارات صحيحة فى كراسة إجابتك :

(١) توقفت حركة النهضة التى بدأها محمد على فى عهد محمد سعيد.

(٢) قام مصطفى كامل بتشكيل أول وزارة برلمانية فى مصر عام ١٩٢٤م.

(٣) تم وضع أول دستور فى مصر عام ١٨٧٨م فى عهد الخديو توفيق.

(٤) يمثل عهد إسماعيل بدايات التدخل الأجنبى والأزمة المالية.

(ب) دائل تاريخياً على صحة كل عبارة مما يأتى :

(١) أخفقت القوات الفرنسية فى إخضاع أهالى الصعيد.

(٢) اتبع الاحتلال البريطانى سياسة اقتصادية تخدم المصالح البريطانية.

(ج) بم تفسر ... ؟ (١) اتجاه سليم الأول نحو الشرق بدلاً من الاتجاه إلى أوروبا.

(٢) حملات إسماعيل الحربية إلى الأقاليم الاستوائية فى أفريقيا.

(١) اكتب ما تشير إليه كل عبارة من العبارات الآتية :

(١) خضوع مصر المطلق للاحتلال البريطانى.

(٢) اتفاق يقضى بانفراد إنجلترا بحكم مصر وانفراد فرنسا بحكم مراكش.

(٣) باعث الحركة الوطنية فى مصر فى أواخر القرن التاسع عشر الميلادى.

(٤) أمر سلطانى من السلطان العثمانى واجب التنفيذ.

(ب) ما النتائج التى ترتبت على ... ؟

(١) رفض مصر طلب بريطانيا إعلان الحرب على دول المحور أثناء الحرب العالمية الثانية.

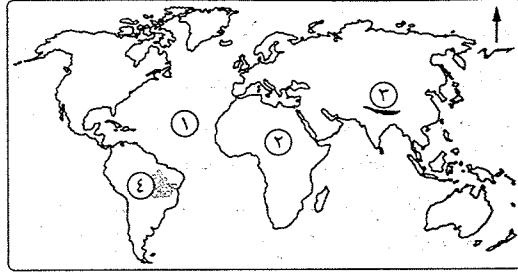
(٢) مذبحه يافا البشرية.

(ج) وضع العلاقة بين كل من : (١) إدارة شركة قناة السويس، والثورة العربية.

(٢) الوزارة المختلطة، والخديو إسماعيل.



### أجب عن الأسئلة الآتية: أولاً الجغرافيا



(١) أمامك خريطة للعالم. وضع

مدلول الأرقام الآتية :

(١) المحيط .....

(٢) قارة .....

(٣) سلاسل جبال .....

(٤) أكبر هضاب أمريكا

الجنوبية .....

(ب) وضع المقصود بالمفاهيم الآتية :

(١) الدولة الجزرية. (٢) السلالة البشرية. (٣) قوة العمل.

(ج) ما النتائج المترتبة على ... ؟

(١) ارتفاع الحرارة وسقوط الأمطار طوال العام فى المنطقة الاستوائية.

(٢) زيادة السكان فى معظم دول آسيا.

(١) اختر الإجابة الصحيحة مما بين القوسين :

(١) من الجزر التابعة لقارة أستراليا ..... (مدغشقر - تسمانيا - جاوة - اليابان)

(٢) من أمثلة السهول الصحراوية الرملية فى أفريقيا .....

(بحر الرمال العظيم - سهول لابلاتا - المسيسيبي - وادى النيل)

(٣) قارة أنتاركتيكا تنتمى للإقليم المناخى .....

(الموسمى - البحر المتوسط - التندرا - الجبلى)

(٤) كل القبائل الآتية تنتمى للسلالة المغولية عدا .....

(الإسكيمو - التنجوس - الهنود الحمر - الأقزام)

(ب) بم تفسر ... ؟

(١) أهمية إقليم مناخ البحر المتوسط نباتياً.

(٢) ارتفاع معدل المواليد فى قارة أفريقيا.

(٣) تركيز السكان فى سواحل شرق أستراليا.

(ج) وضع : جهود الدولة فى زيادة نسبة المتعلمين فى مصر.

## التاريخ

٢ (١) أعد كتابة العبارات الآتية، بعد تصويب ما تحته خط :

- (١) تحطم الأسطول المملوكى عام ١٥٠٩م فى معركة بريم البحرية.  
 (٢) تفاوض كبير مع الحكومة البريطانية فيما يسمى باتفاقية العريش عام ١٨٠٠م.  
 (٣) فى شهر مارس عام ١٨١١م تخلص «محمد على» من الزعامة الشعبية.  
 (٤) من نصوص مؤتمر الأستانة اعتراف بريطانيا بمصر دولة مستقلة ذات سيادة.  
 (ب) دلل تاريخياً على صحة كل عبارة من العبارات الآتية :  
 (١) أدركت الدول الأوروبية ما يمثله «محمد على» من خطر على التوازن الدولى بسبب انتصاراته وازدياد نفوذه.  
 (٢) حاول الخديو إسماعيل اتخاذ إجراءات للحد من مساوئ المحاكم القنصلية.  
 (٣) أبرزت مظاهرة ٩ سبتمبر ١٨٨١م مؤازرة الشعب المصرى لعرايى وزملائه لتقديم مطالب الأمة.

(ج) ماذا تقول لكل من ... ؟ (١) نابليون بوناپرت بعد ارتكابه لمذبحة يافا البشرية.  
 (٢) الشعب المصرى عندما رفض التفاوض مع لجنة ملنر.

٣ (١) اكتب كلمة (صواب) أو كلمة (خطأ) أمام العبارة بعد نقلها فى كراسة الإجابة :

- (١) كانت موقعة شبراخيت فى شهر يوليو ١٧٩٨م. ( )  
 (٢) أثرت سياسة «محمد على» الاقتصادية فى تشكيل وبناء القوى الاجتماعية فى مصر. ( )  
 (٣) شرع الخديو توفيق فى إنشاء أول خط حديدى بين القاهرة والإسكندرية. ( )  
 (٤) أنشأ محمد فريد الجامعة المصرية عام ١٩٠٨م. ( )

(ب) «أيقظت الحملة الفرنسية الروح القومية لدى المصريين حيث تمسك المصريون بحقهم فى الحرية واختيار حاكمهم ومواصلة الكفاح من أجل الاستقلال وإقامة حكومة دستورية». فى ضوء العبارة وضع :

- (١) أحداث ثورة القاهرة الأولى فى أكتوبر ١٧٩٨م. (يكتفى باثنين)  
 (٢) النتائج التى ترتبت على :

(١) موقعة نقارين عام ١٨٢٧م.

(٢) اغتيال القائد العام للجيش المصرى والحاكم العام للسودان السير لى ستاك.

(ج) رتب الأحداث التاريخية الآتية من الأقدم إلى الأحدث :

- \* مؤتمر مونترو وإلغاء الامتيازات الأجنبية. \* موقعة جالديران.  
 \* إلغاء نظام الالتزام. \* تأسيس مجلس شورى النواب.

## ٤١ محافظة الوادى الجديد

مديرية التربية والتعليم

إيمان - عمل - تنمية

## أولاً - الجغرافيا

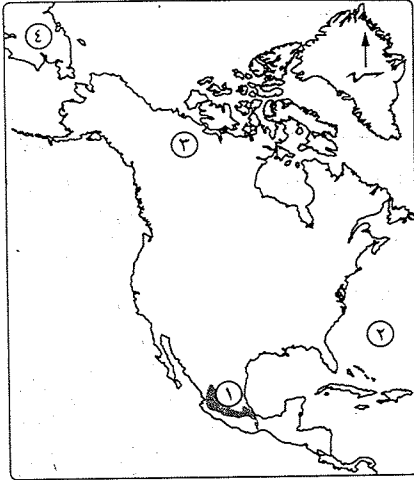
١ (١) أمامك خريطة لقارة أمريكا الشمالية.

اكتب مدلول الأرقام التى عليها :

- (١) هضبة .....  
 (٢) المحيط .....  
 (٣) قبائل .....  
 من أقسام السلالة المغولية.  
 (٤) قارة .....

(ب) «يختلف المناخ داخل القارة الواحدة من منطقة إلى أخرى وفقاً لعدة عوامل مثل الموقع الفلكى والجغرافى والتضاريس».

فى ضوء العبارة قارن بين :



إقليم البحر المتوسط	إقليم المناخ المعتدل شرق القارات «الصينى»
توزيعه فى قارة أوروبا	.....
موسم سقوط الأمطار	.....
أهم الأشجار	.....

(ج) اكتب المصطلح الدال على كل عبارة مما يأتى :

- (١) مجموعة بشرية تتشابه فى صفاتها الجسمية الخارجية.  
 (٢) علم دراسة السكان ويدرس نمو وتوزيع وتركيب السكان.  
 (٣) ناتج الفرق بين معدلات المواليد والوفيات.

٢ (١) اكتب كلمة (صواب) أمام العبارة الصحيحة، وكلمة (خطأ) أمام العبارة غير الصحيحة، مع التصويب :

- (١) تضاريس أستراليا تشبه تضاريس أفريقيا. ( )  
 (٢) تنتمى جماعة التنجوس فى سيبيريا إلى السلالة الزنجية. ( )  
 (٣) تعتمد الدول ذات الدخل الاقتصادى المرتفع على الزراعة. ( )  
 (٤) قارة أفريقيا تقل بها الجزر وأهمها جزيرة مدغشقر وجزر القمر. ( )

(ب) بم تضرر ... ؟

- (١) ضيق السهول الساحلية الغربية لأمريكا الجنوبية.
- (٢) يقل عدد سكان أستراليا في الداخل والغرب.
- (٣) تتميز حشائش الساقانا بالترج في أطوالها.
- (٤) تفقد أنهار أوب وينسى ولينا أهميتها في فصل الشتاء.

### ثانياً التاريخ

(١) أكمل ما يأتي بكلمة مناسبة :

- (١) شكل ..... أول وزارة برلمانية في يناير ١٩٢٤م وعرفت بوزارة الشعب.
- (٢) تم في عهد الخديو ..... تعيين مراقبين أجنيين على المالية المصرية أحدهما بريطاني للإيرادات والثاني فرنسي للمصروفات.
- (٣) بهزيمة الماليك في موقعة ..... عام ١٥١٧م صارت مصر ولاية عثمانية.
- (٤) في أكتوبر ١٩٥١م أعلن ..... رئيس الوزارة وقتئذ إلغاء معاهدة ١٩٣٦م.

(ب) ما النتائج التي ترقبت على ... ؟

- (١) ثورة القاهرة الأولى ضد الاحتلال الفرنسي.
- (٢) اهتمام مصطفى كامل بالتعليم.
- (٣) معاهدة لندن الدولية ١٨٤٠م.

(ج) لمن تنسب الأعمال الآتية ... ؟

- (١) ألغى دستور ١٩٢٣م ووضع دستور ١٩٣٠م.
- (٢) هزم الصفويين في موقعة جالديران ١٥١٤م ودخل عاصمتهم تبريز.
- (٣) دعا إلى إنشاء مدارس الشعب الليلية لتعليم العمال والفقراء مجاناً.

(١) اختر الإجابة الصحيحة مما بين القوسين :

- (١) فشلت حركة على بك الكبير وعادت مصر ولاية عثمانية تحت حكم .....  
( محمد بك أبو الذهب - محمد بك الألفي - الشيخ ظاهر العمر - محمد كريم )
- (٢) تم نفي زعماء الثورة العراقية إلى جزيرة سيلان في .....  
( الصين - اليابان - الهند - أستراليا )
- (٣) وجهت الحملة الفرنسية أنظار الدول الأوروبية إلى أهمية .....  
( الآثار المصرية - خيرات وادي النيل - المستعمرات البريطانية في الهند - موقع مصر الجغرافي والاستراتيجي )
- (٤) وزع محمد على في المجال الزراعي مساحات من الأراضي على الفلاحين وألغى نظام .....  
( الاحتكار - الالتزام - الانتفاع - الإقطاع )



(ب) «تعددت المحاولات الاستعمارية للسيطرة على مصر ونهب خيراتها عبر تاريخها

الحديث وجميعها باءت بالفشل». في سرء هذء العبارة وضء :

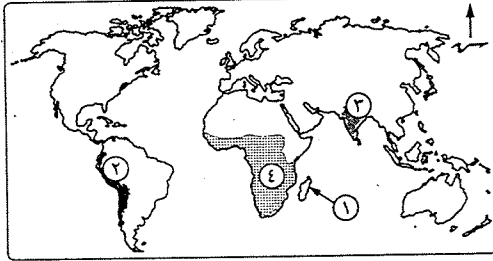
- (١) المقصود بـ : فرمان . (٢) شروط الامتياز الأول لحفر قناة السويس ١٨٥٤م.
- (٣) أسباب الحملة الفرنسية على مصر ١٧٩٨م.
- (٤) نتائج إغراق الأسطول الإنجليزي للأسطول الفرنسي في خليج أبي قير (أغسطس ١٧٩٨م) على كل من مصر وفرنسا.
- (٥) رأيك في : المحاكم المختلطة ١٨٧٥م.



مديرية التربية والتعليم

## محافظة جنوب سيناء

### أجب عن الأسئلة الآتية : أولاً الجغرافيا



(١) أمامك خريطة لقارات العالم. اكتب

مدلول الأرقام المدونة عليها :

- (١) جزيرة .....
- (٢) جبال .....
- (٣) هضبة .....
- (٤) السلالة .....

(ب) ما المقصود بكل من ... ؟

- (١) موقع جغرافي . (٢) إقليم مناخي . (٣) ديموجرافيا .

(ج) بم تضرر ... ؟ (١) ضيق السهول الساحلية في غرب أمريكا الجنوبية.

- (٢) تنوع الحياة النباتية في إقليم المناخ الجبلي.
- (٣) يقل عدد السكان في شمال وغرب أستراليا.

(١) اكتب كلمة (صواب) أو كلمة (خطأ) أمام العبارات الآتية، مع تصويب الخطأ :

- (١) يعتبر نهر الفولجا أطول أنهار أوروبا ويصب في بحر قزوين. ( )
- (٢) تنمو أشجار الزان في إقليم غابات البحر المتوسط. ( )
- (٣) تمثل السلالة المغولية الأغلبية العربية من السكان. ( )
- (٤) يتركز سكان آسيا في السهول الفيضية. ( )
- (٥) الدول ذات الدخل الاقتصادي المرتفع تعتمد على النشاط الزراعي. ( )

(ب) ما النتائج المترتبة على ... ؟

(١) تتميز سواحل أوروبا بكثرة تعاريجها.

(٢) زيادة عدد السكان في معظم قارة آسيا.

(ج) وضح العلاقة بين : انتشار الغابات الاستوائية، وتوزيع السكان في أفريقيا.

(د) ما رأيك في : جهود مصر في مجال محو الأمية ؟

**ثانياً التاريخ**

(١) اختر الإجابة الصحيحة مما بين القوسين :

(١) انتهت دولة المماليك في مصر بعد موقعة .....

( جالديران - ديو البحرية - الريدانية - مرج دابق )

(٢) تطلع للانفراد بالحكم وأصبح الحاكم الفعلي لمصر عام ١٧٦٨م .....

( على بك الكبير - محمد علي - عمر مكرم - محمد كريم )

(٣) منح ..... الامتياز الأول لديليسبس لحفر قناة السويس.

( إسماعيل - سعيد - توفيق - عباس )

(٤) رئيس الوزراء الذي ألغى دستور ١٩٢٣م ووضع دستور ١٩٣٠م .....

( سعد زغلول - مصطفى النحاس - عدلي يكن - إسماعيل صدقي )

(ب) ما النتائج التي ترقبت على ... ؟

(١) جروب محمد علي في اليونان. (٢) اغتيال السير لي ستاك.

(ج) ماذا كان يحدث إذا ... ؟

(١) انتصر الأسطول الفرنسي في موقعة أبي قير البحرية.

(٢) رفض الخديو توفيق مطالب الجيش والأمة في ٩ سبتمبر ١٨٨١م.

(١) من تنسب الأعمال الآتية ... ؟

(١) أعلن نفسه الحامي الوحيد للحرمين الشريفين ولجميع رعاياه في العالم الإسلامي.

(٢) وجه حملات حربية للأقاليم الاستوائية في أفريقيا لمنع تجارة الرقيق.

(٣) دعا إلى إنشاء مدارس الشعب الليلية لتعليم العمال والفقراء مجاناً.

(ب) «سيزكر التاريخ بكل فخر كفاح الشعب المصري عبر العصور لتحقيق الاستقلال

الاقتصادي والسياسي». في ضوء العبارة السابقة أجب عن الأسئلة الآتية :

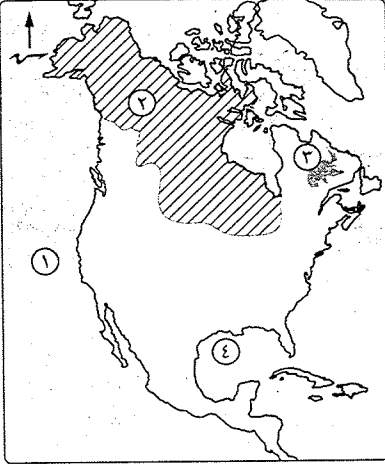
(١) قارن بين : الحملة الفرنسية على مصر، وحملة فريزر، من حيث الأسباب.

(٢) ما المقصود بـ : نظام الاحتكار ؟ (٣) ما أسباب فشل الثورة العربية ؟

(ج) وضح العلاقة بين : الحملة الفرنسية، والروح القومية للمصريين.

**٢٣ محافظة شمال سيناء**

مديرية التربية والتعليم

**أجب عن الأسئلة الآتية : أولاً الجغرافيا**

(١) أمامك خريطة لقارة أمريكا الشمالية.

اكتب مدلولات الأرقام الموقعة عليها :

(١) المحيط ..... (٢) سلالة بشرية .....

(٣) هضبة ..... (٤) خليج .....

(ب) صوب ما فوق الخط في العبارات الآتية :

(١) تشمل قارات العالم القديم آسيا

وأفريقيا وأستراليا.

(٢) تنتفض الغابات المخروطية أوراقها

في فصل الشتاء.

(٣) يوجد في آسيا أكبر دولتين في العالم

من حيث السكان هما البرازيل والهند.

(٤) ينتمي الأقزام والبوشمن إلى السلالة القوقازية.

(ج) ماذا يحدث إذا : انخفضت معدلات المواليد في أفريقيا ؟

(١) أكمل العبارات الآتية بكلمات مناسبة :

(١) يفصل قارة أستراليا عن جزر إندونيسيا بحر .....

(٢) أطول أنهار قارة أوروبا نهر ..... ويصب في بحر قزوين.

(٣) يقل عدد السكان في قارة أفريقيا في المناطق ..... ذات الغابات الكثيفة.

(٤) توجد في قارة ..... أوسع سهول فيضية في العالم.

(ب) يم تفسر ... ؟

(١) ارتفاع الكثافة السكانية في منطقة البحيرات العظمى الأمريكية.

(٢) ضيق السهول الساحلية في شرق قارة أستراليا.

(٣) تركّز معظم سكان العالم في المدن الكبرى.

(ج) اذكر موسم سقوط المصفر في الأقاليم المناخية الآتية :

(١) الإقليم الاستوائي. (٢) إقليم البحر المتوسط.

(٣) الإقليم المعتدل البارد شرق القارات (اللورانسى).

### التاريخ

١ (أ) اختر الإجابة الصحيحة مما بين القوسين :

(١) قاوم أهالي الإسكندرية الحملة الفرنسية بزعامة .....

( عمر مكرم - أحمد عرابي - محمد كريم - مراد بك )

(٢) انتهت حرب اليونان بضم جزيرة .....

( مالطة - قبرص - رودس - كريت )

(٣) من الشخصيات التي أوفدها محمد على إلى أوروبا .....

( محمد عبده - رفاعة الطهطاوى - جمال الدين الأفغانى - عبدالله النديم )

(٤) كانت بعثة كليف أول بعثة أوروبية أرسلتها .....

( فرنسا - بريطانيا - إيطاليا - ألمانيا )

(ب) ما النتائج التي تترتبت على ... ؟

(١) معركة أبى قير البحرية. (٢) ضم محمد على للسودان.

(ج) رتب الأحداث التاريخية الآتية من الأقدم إلى الأحدث :

\* معركة التل الكبير. \* عقد اتفاقية العريش. \* مذبح القلعة. \* معركة ديو البحرية.

٢ (أ) من هو ... ؟

(١) \* سلطان المماليك الذى قتل فى معركة مرج دابق.

(٢) تحالف مع الشيخ ظاهر العمر وأخضع الحجاز لنفوذه.

(٣) شكل أول حكومة برلمانية فى مصر عام ١٩٢٤م.

(٤) استغل حادثة دنشواى للتنديد بالاحتلال البريطانى.

(ب) «يمثل عهد إسماعيل فترة من أزهى الفترات وأكثرها تقدماً وعمراً فى تاريخ مصر الحديث، كما تمثل حقبة من أخطر ما تعرضت له البلاد من تدخل أجنبي».

فى ضوء هذه العبارة وضح ما يأتى :

(١) مظاهر النهضة العلمية فى عهد إسماعيل.

(٢) عوامل الأزمة المالية فى عهد إسماعيل.

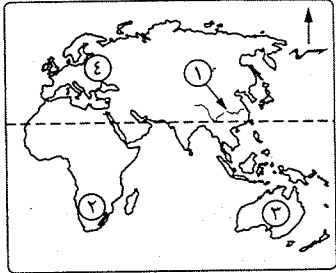
(ج) ما رأيك فى : شروط عقد الامتياز الثانى لقناة السويس ؟



مديرية التربية والتعليم

## ٤٤ محافظة البحر الأحمر

### أجب عن الأسئلة الآتية: أولاً الجغرافيا



١ (أ) أمامك خريطة لبعض قارات العالم.

وضح ما تشير إليه الأرقام الآتية :

(١) نهر ..... (٢) جبال .....

(٣) قارة ..... (٤) السهل .....

(ب) وضح أوجه الشبه بين :

المناخ المدارى الحار، والمناخ الموسمى، من حيث :

\* الخصائص المناخية. \* الخصائص النباتية.

(ج) ما المقصود ب... ؟ (١) معدل الزيادة الطبيعية. (٢) قوة العمل.

٢ (أ) اكتب كلمة (صواب) أمام العبارة الصحيحة، وكلمة (خطأ) أمام العبارة غير الصحيحة :

(١) توجد فى قارة أستراليا سهول متسعة تجرى بها أودية نهريّة أهمها نهري

مرى ودارلنج. ( )

(٢) يقل السكان فى المناطق الصحراوية مثل الصحراء الكبرى فى قارة آسيا. ( )

(٣) يوجد بقارة آسيا أكبر بحر مغلق فى العالم. ( )

(٤) من أقسام السلالة الزنجية «الزنج السودانيون». ( )

(ب) بم تفسر ... ؟

(١) ارتفاع معدلات المواليد فى قارة أفريقيا.

(٢) تعرف هضبة التبت بسقف العالم.

(٣) قلة عدد السكان فى شمال آسيا وشمال قارة أستراليا.

### ثانياً التاريخ

٢ (أ) اختر الإجابة الصحيحة مما بين القوسين :

(١) أصدر ..... اللائحة السعيدية والتي بموجبها أصبح للفلاح الحق فى توريث الأرض

الزراعية. ( إبراهيم باشا - عباس الأول - محمد سعيد باشا - الخديو إسماعيل )



(٢) وجهت الحملة الفرنسية أنظار الدول الأوروبية وخاصة إنجلترا إلى أهمية .....  
( الآثار المصرية - موقع مصر الجغرافي - خيرات وادي النيل -  
المستعمرات البريطانية في الهند )

(٣) أعلن رئيس الوزارة ..... إلغاء معاهدة ١٩٣٦م.

( البارودي - مصطفى كامل - عدلى يكن - مصطفى النحاس )

(٤) سعت بريطانيا إلى تولية ..... حكم مصر.

( محمد على - محمد بك الألفى - على بك الكبير - خورشيد باشا )

(٥) أسس ..... جريدة اللواء عام ١٩٠٠م.

( مصطفى كامل - أحمد عرابى - سعد زغلول - محمد فريد )

(ب) ما النتائج التى ترتبت على ... ؟

(١) حروب «محمد على» فى اليونان.

(٢) ثورة القاهرة الأولى ضد الاحتلال الفرنسى.

(٣) إقصاء الخديو «إسماعيل» الوزيرين الأجبيين عن الوزارة وإصدار مرسوم بتسوية الديوان.

(ج) ماذا كان يحدث إذا ... ؟

(١) عطل «أحمد عرابى» الملاحة فى قناة السويس.

(٢) لم يكتشف طريق رأس الرجاء الصالح.

(أ) لمن تنسب الأعمال الآتية ... ؟

(١) شكل أول وزارة برلمانية عرفت بوزارة الشعب.

(٢) تحالف مع الشيخ ظاهر العمر حاكم جنوب الشام وأخضع الحجاز لنفوذه.

(٣) تولى أمر الحملة الفرنسية فى مصر وكان ينوى الإقامة فى مصر.

(ب) أيد صحة كل عبارة مما يأتى :

(١) حمل نظام الحكم العثمانى فى ثنياه عوامل ضعفه.

(٢) حققت معاهدة ١٩٣٦م بعض المكاسب لمصر.

(ج) «أدرك محمد على أن نهضة مصر لن تتحقق إلا من خلال بناء دولة قوية تأخذ بأساليب

المدنية الحديثة». فى ضوء العبارة وضع :

(١) أساليب «محمد على» فى التخلص من المماليك.

(٢) سياسة «محمد على» الزراعية لتوفير أكبر قدر من الدخل فى الإنتاج الزراعى.

(٣) مظاهر التعليم والنهضة العلمية فى عهد الخديو «إسماعيل».



مديرية التربة والتعلين

محافظة مطروح

٢٥

أجب عن الأسئلة الآتية: **أولاً الجغرافيا**

(أ) أمامك خريطة لقارة أوروبا.

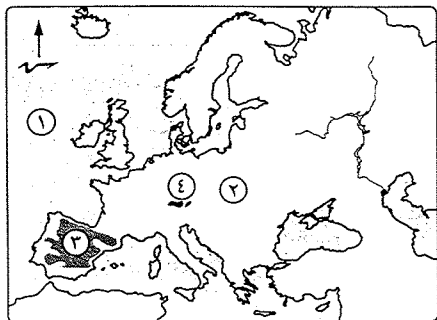
اكتب ما تشير إليه الأرقام :

(١) المحيط .....

(٢) السهل .....

(٣) هضبة .....

(٤) جبال .....



(ب) اختر الإجابة الصحيحة مما بين القوسين :

(١) يُعد ..... أكبر البحار المغلقة فى العالم.

( البحر المتوسط - بحر قزوين - البحر الأحمر - البحر الأسود )

(٢) يصب نهر السند فى المحيط ..... ( الهادى - الأطلنطى - الهندى - القطبى )

(٣) إقليم مناخى يظهر فى جميع القارات إقليم .....

( البحر المتوسط - غرب أوروبا - التندرا - الجبلى )

(٤) تُعد مصر من الدول ذات الرعاية الطبية .....

( الفائقة - المتوسطة - المنخفضة - المرتفعة )

(ج) بم تفسر ... ؟

(١) تعتبر حشائش الساقانا حديقة حيوان طبيعية.

(٢) يتركز سكان الولايات المتحدة الأمريكية على الساحل الشمالى الشرقى.

(أ) صوب ما تحته خط فى العبارات التالية :

(١) أكبر الهضاب وأكثرها ارتفاعاً بأمريكا الجنوبية هضبة جيانا.

(٢) يتركز سكان أستراليا فى الأراضى الزراعية وفى سهول نهري اليانجتسى والجانج.

(٣) يوجد أكبر دولتين فى العالم من حيث عدد السكان بقارة أمريكا الشمالية.

(٤) وصلت الزيادة الطبيعية إلى الصفر بقارة أفريقيا.

(ب) أعط مصطلحاً جغرافياً لكل عبارة من العبارات التالية :

(١) علم دراسة السكان ويدرس نمو وتوزيع وتركيب السكان.

- (٢) منطقة محددة على سطح الأرض لها خصائص مناخية تميزها عن غيرها.  
 (٣) مجموعة بشرية تتشابه في صفاتها الجسمية الخارجية.  
 (٤) عدد الأفراد في سن العمل والذين يعملون فعلياً أو يبحثون عن عمل.  
 (ج) قارن بين : إقليم المناخ المدارى الحار، وإقليم مناخ التندرا، من حيث الخصائص المناخية.

### التاريخ

- (٢) (أ) اكتب كلمة (صواب) أمام العبارة الصحيحة. وكلمة (خطأ) أمام العبارة غير الصحيحة. مع تصويب الخطأ :
- (١) أبحرت الحملة الفرنسية على مصر من ميناء مارسيليا سراً. ( )  
 (٢) أثرت سياسة محمد على الاقتصادية في تشكيل وبناء القوى الاجتماعية في مصر. ( )  
 (٣) عقد ممثلو الدول العظمى مؤتمر الأستانة للنظر في المسألة المصرية. ( )  
 (٤) تولى محمد فريد رئاسة الحزب الوطنى بعد وفاة مصطفى النحاس. ( )  
 (٥) أرسلت الحكومة البريطانية لجنة ملنر لإقناع الشعب المصرى برفض الحماية. ( )
- (ب) اذكر سبباً واحداً لكل من :
- (١) إرسال إنجلترا أسطولاً حربياً إلى أبى قير (فبراير ١٨٠١م).  
 (٢) رغبة بريطانيا فى تولية محمد بك الألفى ولاية مصر.  
 (٣) استقالة وزارة شريف باشا ١٨٨٢م.  
 (ج) ما رأيك فى : قيام محمد على بمذبحة القلعة عام ١٨١١م ؟

- (٢) (أ) أكمل كل عبارة من العبارات الآتية بكلمة مناسبة :
- (١) تحطم الأسطول المملوكى عام ١٥٠٩م فى معركة .....  
 (٢) أدت حروب اليونان إلى ضم محمد على لجزيرة .....  
 (٣) تم إعادة فتح ديوان المدارس فى عهد الخديو .....  
 (٤) قامت بريطانيا بعد احتلالها لمصر بإنشاء مجلس شورى .....  
 (٥) تم تأليف لجنة لوضع دستور ١٩٢٣م فى عهد وزارة .....
- (ب) ما النتائج التى تترتبت على ... ؟
- (١) تدهور الحياة الفكرية والثقافية بمصر أثناء الحكم العثمانى.  
 (٢) الحملة الفرنسية على الشام ١٧٩٩م.  
 (٣) معاهدة ١٩٣٦م بين مصر وبريطانيا.
- (ج) ماذا كان يحدث إذا : رفض الخديو إسماعيل مطالب لجنة التحقيق العليا الأوروبية ١٨٧٨م ؟