

تم تحميل هذا الملف من موقع المناهج الإماراتية



almanahj.com

موقع
المناهج الإماراتية

*للحصول على أوراق عمل لجميع الصفوف وجميع المواد اضغط هنا

<https://almanahj.com/ae>

* للحصول على أوراق عمل لجميع مواد الصف الأول اضغط هنا [1/ae/com.almanahj//:https](https://almanahj.com/ae/1)

* للحصول على جميع أوراق الصف الأول في مادة علوم ولجميع الفصول, اضغط هنا [1science/ae/com.almanahj//:https](https://almanahj.com/ae/1science)

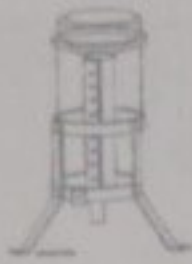
* للحصول على أوراق عمل لجميع مواد الصف الأول في مادة علوم الخاصة بـ الفصل الثاني اضغط هنا

<https://almanahj.com/ae/1science2>

* لتحميل كتب جميع المواد في جميع الفصول للـ الصف الأول اضغط هنا [grade1/ae/com.almanahj//:https](https://almanahj.com/ae/grade1)

للتحدث إلى بوت المناهج على تلغرام: اضغط هنا [bot_almanahj/me.t//:https](https://t.me/bot_almanahj)


4. مقياس الرياح التي تحدد سرعتها :



ج -



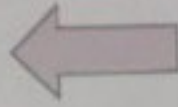

ب -



ا -

السؤال الثاني : اقرأ السؤال وأجب بفهم والبراهن : (4 درجات)

1. ارسم الأسنان المناسبة لتكيف الزرافة مع موطنها البيئي في المستطيل الذي أمامك:



2. أ - ميز جزء السمكة الذي يساعدها بتلوينه :

ب - تعيش هذه السمكة في أكبر موطن بيئي هو
(البحيرة - المحيط)

3. من الذي يساعد الأزهار لإنتاج أزهار جديدة ؟

أ- العنكبوت

ب- النحلة

ج- فأر الحقل

Back

1113 of 1113

السؤال الثالث : حوِّط الصورة الغير منسجمة مع البقية : (2 درجات)



السؤال الرابع : اختر من المجموعة (1) ما يناسبها من المجموعة (2) بكتابة الحرف : (6 درجات)

المجموعة (2)	
	---
	---
	---
	---

المجموعة (1)	
موطن ببني	أ
حيوان يعيش في البحيرة	ب
تكيف حيوان في بيئته الحارة	ت

انتهت الأسئلة .. بالتوفيق والنجاح

أسئلة الامتحان المكتوب		الأول	درجة الامتحان		
العام الدراسي	2020-2019	الفصل الدراسي	الثاني	المادة الدراسية	العلوم
زمن الامتحان	45 دقيقة	عدد الصفحات	3	السيف الدراسي	الأول
التميز	العام	اسم الطالب			
على الطالب التأكد من عدد صفحات الأسئلة الإجابة على الورقة نفسها.					
رقم السؤال	درجة السؤال	الدرجة المتوقعة للطالب			
السؤال الأول	8 درجات				
السؤال الثاني	4 درجات				
السؤال الثالث	درجتان				
السؤال الرابع	6 درجات				

السؤال الأول : ضع دائرة حول رمز الإجابة الصحيحة في فيما يأتي : (8 درجات)

1 . الموطن البيئي الذي يعيش فيه الجمل :



ج -



ب -



أ -

2. الموطن البيئي المائي (البحيرة) :



ج -



ب -



أ -

3. تسمى الحيوانات التي نفقت أو ماتت جميعها بحيوانات :

ج - نائمة

ب - منقرضة

أ - مريضة