

تطلب من مكتبة النجاح  
ت: 07-2332322  
لا يوجد لنا فروع اخرى

1 ( أيهما أقصر ؟



.....

2 ( أيهما أطول



3 ( رتب الأجسام تبعاً للطول . اكتب 1 للجسم القصير و 2 للأقصر و 3 للأقصر  
على الإطلاق




.....

.....

.....

4 ( رتب الأجسام تبعاً للطول . اكتب 1 للجسم الطويل و 2 للجسم الأطول و 3 للأطوا  
على الإطلاق



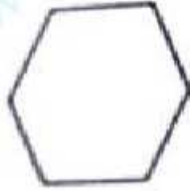
.....

.....

.....

تطلب من مكتبة النجاح  
ت: 07-2332322  
لا يوجد لنا فروع اخرى

1) تغطي ملهى الشكل الهندسي ب 6 أشكال هندسية متشابهة . فما الشكل الذي استخدمتها ؟




.....  
.....

2) وضع امجد مثلثين معاً لتكوين شكل جديد . فما عدد أضلاع الشكل الجديد ؟

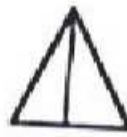


اسم الشكل الجديد .....

3) اكتب عدد الأجزاء المتساوية



أجزاء متساوية .....



متساويان .....



أجزاء متساوية .....

4) شارك 3 أصدقاء في فطيرة بيتزا . فما عدد الأجزاء المتساوية ؟

5) طوت ليلي ورقة مستطيلة إلى نصفين ثم طوتها مرة أخرى إلى نصفين ما عدد الأجزاء المتساوية الناتجة بعد فتح الورقة ؟

3 ( 2 )

2 ( 1 )

6 ( 4 )

4 ( 3 )


تطلب من مكتبة النجاح  
ت: 07-2332322  
لا يوجد لنا فروع اخرى

1) اكتب عدد الأجزاء المتساوية



أجزاء متساوية .....



2) ارسم خطوطاً مستقيمة لعرض الأجزاء المتساوية . اكتب عدد الأنصاف



3) ارسم خطوطاً مستقيمة لعرض 4 أجزاء متساوية . اكتب عدد الأرباع



4) لون نصفاً واكتب عدد الأجزاء المظلمة  
من ..... أجزاء



5) لون ربعاً واكتب عدد الأجزاء المظلمة  
من ..... أجزاء



تطلب من مكتبة النجاح  
ت: 07-2332322  
لا يوجد لنا فروع اخرى

1) ارسم دائرة حول الأشكال المستخدمة لتكون كل شكل مركب

تطلب من مكتبة المناهج  
ت: 07-2332322  
لا يوجد لنا فروج الحزب



2) ما عدد الأوجه في المكعب والاسطوانة إجمالاً؟

2 (4)

4 (3)

6 (2)


8 (1)

3) يسمي الشكل المجاور



تطلب من مكتبة المناهج  
ت: 07-2332322  
لا يوجد لنا فروج الحزب

تطلب من مكتبة النجاح  
ت: 07-2332322  
لا يوجد لنا فروع اخرى



1) اكتب عدد الأضلاع والرؤوس

أضلاع .....

رؤوس .....

أضلاع .....

رؤوس .....

2) أنا شكل ثنائي الأبعاد . لدي 4 رؤوس وكل أضلاعي لها نفس الطول . فأي شكل أنا ؟

1) مربع ( 2) مستطيل ( 3) مثلث ( 4) شبه منحرف

3) اكتب عدد الأضلاع والرؤوس

أضلاع .....

رؤوس .....




أضلاع .....

رؤوس .....

4) أنا شكل ثنائي الأبعاد لدي أقل من 4 أضلاع . وكل أضلاعي مستقيمة . فأي شكل أنا ؟

تطلب من مكتبة النجاح  
ت: 07-2332322  
لا يوجد لنا فروع اخرى

4. جمعت هدى الشكلين التاليين . فما الشكل المركب الجديد الذي كونته ؟



( 2 ) مستطيل

( مربع

( 4 ) شبه منحرف

( مثلث



المطلوبة لتكوين



( ما عدد

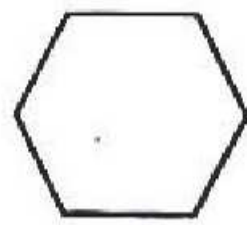


المطلوبة لتكوين



( ما عدد

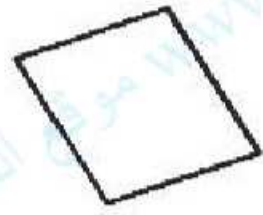
5. قطع الشكل السداسي إلى شبه منحرف و 3 مثلثات



تطلب من مكتبة النجاح  
ت: 07-2332322  
لا يوجد لنا فروع اخرى

6. جمع بدر شكلين معاً فكون الشكل المجاور

ما الشكلان اللذان جمعتهما بدر ؟



( 2 ) مربعان

( 1 ) مثلثان

( 4 ) شبه منحرفين

( 3 ) دائرتان

1) صل كل شكل باسمه


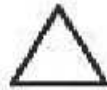
دائرة

شبه منحرف

مثلث

مربع

مستطيل

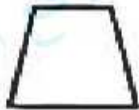


2) عدد اضلاع الدائرة ..... وعدد رؤوس الدائرة .....

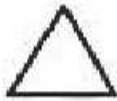
3) شكل ثنائي الأبعاد لا اضلاع له ولا رؤوس . اكتب اسم الشكل وارسمه

.....  
.....




4) حوط الأشكال التي لها 4 اضلاع



5) حوط الأشكال التي لها 3 رؤوس




6) حوط الأشكال التي ليس لديها أي اضلاع




تطلب من مكتبة النجاح  
ت: 07-2332322  
لا يوجد لنا فروع اخرى

1) اذكر الوقت الموضح . اكتب الوقت على ساعة رقمية



.....



.....



.....

2) تبدأ فرقة الانشاد الساعة 3 و 40 دقيقة وتستمر ساعة واحدة . ففي أي وقت يتوقفون عن الانشاد ؟

3) بدأ راشد كتابة واجباته الساعة 6 . وانتهى بعد 35 دقيقة . اكتب وقت الانتهاء من كتابة الواجبات ؟

تطلب من مكتبة النجاح  
ت: 07-2332322  
لا يوجد لنا فروع اخرى

6 : 35 ( 2

7 : 35 ( 1

7 : 30 ( 4

6 : 30 ( 3

4) أي ساعة تظهر 12 و 20 دقيقة ؟

12 : 00 ( 4

12 : 02 ( 3


12 : 20 ( 2

12 : 30 ( 1



تطلب من مكتبة النجاح  
ت: 07-2332322  
لا يوجد لنا فروع اخرى

( انكر الوقت الموضح . اكتب الوقت




.....

..... ونصف

..... ونصف

2 ( ذهب جاسم إلى مركز التسوق الساعة 10 . وصل إلى المركز بعد 30 دقيقة  
اي وقت وصل جاسم مركز التسوق . ارسم العقارب



.....  
.....

3 ( تذهب منى إلى التمرين الساعة 4 والنصف . إذا استمر التمرين ساعة واحدة  
فمتى تنهي منى التمرين ؟

( 2 5 : 00

( 1 الساعة 4 والنصف

( 4 الساعة 6

( 3 5 : 30

4 ( يركب ماجد الحافلة الساعة 7 . ويصل المدرسة بعد نصف ساعة . متى  
مجد إلى المدرسة ؟

( 1 الساعة 7

( 2 8 : 00

( 3 7 : 30

( 4 الساعة 6 ونصف

تطلب من مكتبة النجاح  
ت: 07-2332322  
لا يوجد لنا فروع اخرى

1 ( أكمل كلاً من العبارات التالية : وحدة - قياس

1 ( يمكنك ..... الأجسام باستخدام العملات المعدنية أو المكعبات

2 ( كل مكعب يشير إلى ..... واحدة

2 ( كم مكعباً يبلغ طول الجزرة . خمن ثم قس



خمن : حوالي ..... مكعباً

القياس : حوالي ..... مكعباً

3 ( ثمرة بطيخ تنمو بمقدار 1 مكعب كل يوم وفي يوم الاثنين كان طولها 6 مكعبات .

فكم يبلغ طول الثمرة يوم الاربعاء من المكعبات ؟

1 ( 6 مكعبات

2 ( 7 مكعبات

3 ( 8 مكعبات

4 ( 9 مكعبات

4 ( قطفت هند ثمرة فاصولياء طولها 5 مكعبات وقطفت لميس ثمرة فاصولياء طولها

مكعبان . فكم يزيد طول الثمرة التي قطفتها هند ؟

1 ( 7 مكعبات

2 ( 10 مكعبات

3 ( 3 مكعبات

4 ( 9 مكعبات وأكثر من 7 مكعبات . فما طول الوعاء

مكعبات .....

تطلب من مكتبة النجاح  
ت: 07-2332322  
لا يوجد لنا فروع انة

1) تعرف على كل شكل . اكتب عدد الأوجه والرؤوس

اسم الشكل .....

عدد الوجوه ..... , عدد الرؤوس .....



اسم الشكل .....

عدد الوجوه ..... , عدد الرؤوس .....



2) شكل وجه المكعب هو

- (1) مستطيل (2) دائرة (3) مثلث (4) مربع

3) تعرف على كل شكل و اكتب عدد الأوجه والرؤوس

اسم الشكل .....

..... وجوه , ..... رؤوس



تطلب من مكتبة النجاح  
ت: 07-2332322  
لا يوجد لنا فروع اخرى

اسم الشكل .....

..... وجوه , ..... رؤوس



4) شكل وجه المخروط والاسطوانة هو .....

5) لعبة فيها وجهان على شكل دوائر وليس لها رؤوس . فما شكل اللعبة

- (1) مكعب (2) اسطوانة (3) مخروط (4) منشور مستطيل

6) أي شكل ثلاثي الأبعاد له وجه واحد ؟ .....

تطلب من مكتبة النجاح  
ت: 07-2332322  
لا يوجد لنا فروع اخرى

1) حوط الشكل الذي لا ينتمي للمجموعة

(1) مخروط (2) كرة (3) مكعب (4) اسطوانة

2) شكل ثلاثي الأبعاد له 2 أوجه و 0 رؤوس . فما هو هذا الشكل ؟

(1) مكعب (2) منشور مستطيل (3) كرة (4) اسطوانة

3) عدد المربعات في المكعب هو

(1) 2 (2) 4 (3) 6 (4) 8

4) ما الشكل الناقص في كل نمط مما يلي



مكعب

منشور مستطيل

مخروط



مكعب

مخروط

تطلب من مكتبة النجاح  
ت: 07-2332322  
لا يوجد لنا فروع اخرى

5) لذي وجه واحد ولذي رأس واحد . فمن أنا ؟


(1) اسطوانة (2) مخروط (3) مكعب (4) كرة

6) شكل له 6 أوجه مستطيلة و له 8 رؤوس . فما اسم الشكل

(1) مكعب (2) اسطوانة (3) مخروط (4) منشور مستطيل

تطلب من مكتبة  
ت: 2332322  
لا يوجد لنا فرع

( انكر الوقت الموضح . واكتب الوقت على الساعة الرقمية





( 2 ) ذهب معاذ لتناول الطعام في المقصف الساعة 11:00 . وظل هناك لمدة ساعة واحدة . ففي أي ساعة غادر المقصف



.....  
.....

( 3 ) ضع دائرة حول الساعة الرقمية . اكتب الوقت



الساعة .....

تطلب من مكتبة  
ت: 23322  
لا يوجد لنا فرع


( 4 ) تستخدم ..... الأعداد لعرض الوقت

تطلب من مكتبة النجاح  
ت: 07-2332322  
لا يوجد لنا فروع اخرى


( اكتب الوقت الموضح



الساعة : .....




الساعة : .....



الساعة : .....

( تصل بديرة إلى منزلها الساعة 3 وتصل حصة إلى منزلها بعد ساعة واحدة . في  
ساعة تصل حصة إلى منزلها ؟ ارسم العقارب



.....  
.....

( يبدأ حسن تمرين الرياضة الساعة 7 ويستمر لمدة ساعة . ففي أي وقت ينتهي ؟

( الساعة 7 (2 الساعة 6

( الساعة 8 (4 الساعة 9


( أكمل العبارات : عقرب الدقائق - عقرب الساعات

( في الساعة التناظرية ..... هو الأقصر

( ..... هو الأطول

( ارسم عقارب الساعة لتكون الوقت

الساعة 6



الساعة 10




تطلب من مكتبة التجاح  
ت: 07-2332322  
لا يوجد لنا فروع اخرى

(1) استخدم  للقياس




حوالي ..... 


**UHU**

حوالي ..... 

(2) استخدم العملات المعدنية للقياس



حوالي ..... عملات معدنية



حوالي ..... عملات معدنية

تطلب من مكتبة التجاح  
ت: 07-2332322  
لا يوجد لنا فروع اخرى

1 ( يجمع فصل الصف الاول 11 علة . ويجمع فصل الصف الثاني 5 علب . كم يزيد عدد العلب التي يجمعها فصل الصف الأول ؟

الفهم : ضع خطأ تحت ما تعرفه . وارسم دائرة حول ما تحتاج إلى ايجاده

التخطيط : كيف ستحل المسألة ؟ .....

الحل :

2 ( لدينا 4 أطباق . في كل طبق تفاحتين . كم تفاحة لدينا إجمالاً ؟

( 2 ) 8 تفاحات

( 1 ) 6 تفاحات

( 4 ) 10 تفاحات

( 3 ) تفاحتين

3 ( لدينا 3 شجرات نخل و 5 شجرات برتقال و شجرتين موز . كم شجرة لدينا إجمالاً

( 2 ) 6 شجرات

( 1 ) 8 شجرات

( 4 ) 12 شجرة

( 3 ) 10 شجرات

4 ( أكلت هند 12 تمر . وأكلت موزة 4 تمرات . كم يزيد عدد التمرات التي أكلتها

هند عن موزة ؟

( 1 ) 8 تمرات

( 2 ) 16 تمر

( 3 ) 48 تمر

( 4 ) 3 تمرات





1 ( اكمل جدول العلامات والتمثيل البياني المصور  
الطقس المفضل

الطقس	العدد بالرموز	الإجمالي
شمس	//	
ممطر	/ IIII	
غانم	IIII	

2 ( استخدم جدول العلامات السابق لرسم تمثيل بياني مصور  
الطقس المفضل

الطقس	العدد بالرموز	الإجمالي
شمس		
ممطر		
غانم		

3 ( اكمل كلاً من العبارات التالية : البيانات - تمثيل بياني مصور

1 ( يعرض التمثيل البياني المعلومات او .....

2 ( ..... يستخدم الصور في عرض البيانات

4 ( كم صوتاً يمثل كل تمثيل بياني مصور ؟

2 ( 2

1 ( 1

4 ( 4

3 ( 3

1 ( استخدم التمثول البياني في الإجابة عن الأسئلة

الفاكهة المفضلة

فراولة	●	●	●	●	●	●	●
برتقال			●	●	●	●	●
تفاح						●	●

1 ( كم شخصاً اختار الفراولة ؟  
.....

2 ( هل من اختاروا البرتقال أكثر أم

من اختاروا التفاح ؟  
.....

3 ( هل من اختاروا التفاح أقل أم من

اختاروا الفراولة ؟  
.....

4 ( كم يريد عدد من اختاروا الفراولة عن من

اختاروا البرتقال ؟  
.....

5 ( كم ينقص عدد من اختاروا التفاح عن من

اختاروا البرتقال ؟  
.....

6 ( كم شخصاً شارك في استطلاع الرأي ؟  
.....  
.....

2 ( ارسم خطوطاً لتوصيل الكلمات بما يطابقها

تجميع البيانات بطرح سؤال موحد

البيانات

أعداد أو صور تجمع لعرض المعلومات

استطلاع رأي

جدول يعرض علامة لكل صوت في استطلاع الرأي

جدول العلامات

( اكتب الإجمالي . واستخدم التمثيل البياني في الإجابة عن الأسئلة

ما لونك المفضل

اللون	العدد بالرموز	الإجمالي
الأحمر	IIII IIII	
الأزرق	IIII	
الأرجواني	IIII	

( كم شخصاً اختار الأحمر ؟ .....

( كم شخصاً اختار الأرجواني ؟ .....

( هل من اختاروا الأرجواني أكثر أم أقل من

نقاروا الأزرق ؟ .....

( كم يزيد عدد من يحبون الأحمر عن من

حبون الأزرق ؟ .....

( كم ينقص عدد من يحبون الأزرق عن من

حبون الأرجواني ؟ .....

( كم شخصاً إجمالاً شاركوا في استطلاع الرأي ؟ .....

( 2 ) أكمل كلاً من العبارات التالية : جدول العلامات - استطلاع الرأي

( 1 ) يمكنك تجميع البيانات بعمل .....

( 2 ) يعرض البيانات باستخدام علامات الإحصاء

( 3 ) تمثل العلامة الإحصائية IIII // استطلاع رأي

( 1 ) 5 اشخاص


( 2 ) 6 اشخاص

( 3 ) 7 اشخاص

( 4 ) 8 اشخاص

( 4 ) العلامة الإحصائية ل 4 اشخاص هي .....

1) استخدم التمثيل البياني التالي في الإجابة عن الأسئلة التالية  
اليوم المفضل في الأسبوع



- 1) كم شخصاً اختار يوم الأحد ؟ .....
- 2) كم شخصاً اختار الجمعة والسبت ؟ .....
- 3) أي يوم ينقص عن يوم الاثنين بصوت واحد ؟ .....
- 4) أي يوم يزيد عن يوم الأحد بصوتين ؟ .....
- 5) بكم صوتاً يزيد السبت عن يوم الجمعة ؟ .....
- 6) أي الايام الأكثر تفضيلاً ؟ .....
- 7) أي الايام الأقل تفضيلاً ؟ .....
- 8) كم شخصاً شارك في استطلاع الرأي ؟ .....

2) أكمل الجدول التالي

المادة المفضلة

الإجمالي	العدد بالرموز	المادة
	I IIII	الرياضيات
4		العلوم
	III	الكتابة

- 1 ( قارن بين الأجسام . ارسم دائرة حول الإجابة الصحيحة )  
2 ( قلم التلوين أطول من مشبك الورق . المقص أطول من قلم التلوين )

تطلب من مكتبة النجاح  
ت: 07-2332322  
لا يوجد لنا فروع أخرى



هل مشبك الورق أطول من المقص أم أقصر منه ؟

أطول من أقصر من

- 2 ( המחاة أقصر من عبوة الصمغ . وعبوة الصمغ أقصر من قلم الرصاص )

هل قلم الرصاص أطول من המחاة أم أقصر منها ؟

أطول من أقصر من



- 3 ( الطاولة أطول من الكتاب . الكتاب أطول من המחاة . هل המחاة أطول من الطاولة أم أقصر منها ؟  
أطول من أقصر من

تطلب من مكتبة النجاح  
ت: 07-2332322  
لا يوجد لنا فروع أخرى