

اختبار تدريبي لمادة الدراسات الإجتماعية والتربية الوطنية للصف الأول / للفصل الدراسي الثالث/ العام 2017 – 2018

الاسم: .....

الصف: الأول /

السؤال الأول: ضع علامة ( ✓ ) أمام العبارة الصحيحة أو ( x ) أمام العبارة الخاطئة :

(1) لا أخرج من المنزل بدون إذن والدي.

(2) ألتزم الهدوء في المكتبة.


(3) لا أتغيب عن المدرسة ، وأحرص على متابعة دروسي .

(4) أحافظ على جمال بلادي فلا أكتب على الجدران.

(5) لا تستطيع الكائنات الحية العيش بدون ماء وهواء نظيف

السؤال الثاني: أرتب الصور التالية من (1 إلى 4) , لأتعرف على القاعدة الذهبية لركوب الحافلة المدرسية :

أصعد إلى الحافلة  
بنظام من المكان  
الآمن.



أبتعد مقدار ( 10 )  
خطوات بعد النزول  
من الحافلة.

أنزل بنظام من  
الحافلة.



أجلس داخل الحافلة  
بهدوء ونظام.

السؤال الثالث : حددي نوع التلوث بكتابة الرقم تحت الصورة المناسبة .

1. التلوث المائي 2. التلوث الهوائي 3. تلوث التربة



.....

.....

.....

السؤال الرابع : أكتب رقم الصورة , أمام ما يناسبها من العبارات :

الزراعة



1

تنظيف الشاطئ



2

توفير المرافق العامة



3

استخدام الأماكن المخصصة للمشاة



4

السؤال الخامس: ضع علامة ( ✓ ) أمام العبارة الصحيحة أو ( x ) أمام العبارة الخاطئة

- 1: تنقسم النفايات إلى نفايات ورقية وبلاستيكية وزجاجية. ( )
- 2) تصنع النقود من الخشب. ( )
- 3) المتحف هو الذي تحفظ فيه الآثار القديمة. ( )
- 4) ترتبط دولة الإمارات بعلاقات صداقة مع الدول المجاورة. ( )

السؤال السادس: أصنف الحاجات الموجودة إلى حاجات أساسية وغير أساسية  
بكتابة الرقم في الجدول :



4



3




2



1

حاجات أساسية	حاجات غير أساسية
.....	.....

السؤال السابع : اربط الصور بكتابه الارقام 1,2,3,4 في الدائرة متبعتة خطوات الحصول على حاجاتنا.



السؤال الثامن : أكتب رقم الصورة , أمام ما يناسبها من العبارات :

مائة درهم




1

من الاشياء التي لايمكن ان اعيش من دونها



2

عشره دراهم



3

أحب أن أعمل مستقبلاً رائد فضاء



4

السؤال التاسع : أصل الصورة من المجموعة (أ) بالعبارة المناسبة من مجموعة (ب) :

المجموعة (ب)

المجموعة (أ)

مُتَحَفُ دَارِ  
الِاتِحَادِ



1

جَبَلُ جَيْسِ



2

عَالَمُ فَرَارِي



3

بِرْجُ خَلِيفَةَ



4

[www.almanahj.com](http://www.almanahj.com)

السؤال العاشر: أكتب العبارة المناسبة أسفل الصورة :

3. مَرَكزُ تَسَوِّقٍ



2. الأَمَاكِنُ التَّرْفِيَّةُ



1. المَدَارِسُ



.....


.....

.....

[www.almanahj.com](http://www.almanahj.com)

السؤال الحادي عشر:

1) أضع دائرة حول الإمارة التي يقع فيها متحف الاتحاد .



2. أضع مربع على الخليج الذي تطل عليه دولة الإمارات .

